



# CONCURSO PÚBLICO

MUNICÍPIO DE ITABAIANA

ESTADO DE SERGIPE

EDITAL DE CONCURSO PÚBLICO Nº. 001/2010

## INSTRUÇÕES

01 - Material a ser utilizado: caneta esferográfica azul ou preta. Os objetos restantes devem ser colocados em local indicado pelo fiscal da sala, inclusive aparelho celular desligado e devidamente identificado com etiqueta.

02 - Não é permitido consulta, utilização de livros, códigos, dicionários, apontamentos, apostilas, calculadoras e etc. Não é permitido ao candidato ingressar na sala de provas sem a respectiva identificação e o devido recolhimento de telefone celular, bip e outros aparelhos eletrônicos.

03 - Durante a prova, o candidato não deve levantar-se, comunicar-se com outros candidatos e nem fumar.

04 - A duração da prova é de 03 (três) horas, já incluindo o tempo destinado à entrega do Caderno de Provas e à identificação – que será feita no decorrer da prova – e ao preenchimento da Folha de Respostas (Gabarito).

05 - Somente em caso de urgência pedir ao fiscal para ir ao sanitário, devendo no percurso permanecer absolutamente calado, podendo antes e depois da entrada sofrer revista através de detector de metais. Ao sair da sala no término da prova, o candidato não poderá utilizar o sanitário. Caso ocorra uma emergência, o fiscal deverá ser comunicado.

06 - O Caderno de Provas consta de 25 (vinte e cinco) questões de múltipla escolha para os cargos de nível elementar, fundamental e médio e 40 (quarenta) questões para os cargos de nível técnico, médio magistério e superior. Leia-o atentamente.

**07 - As questões das provas objetivas são do tipo múltipla escolha, com 05 (cinco) opções (A a E) e uma única resposta correta.**

08 - Ao terminar a conferência do Caderno de Provas, caso o mesmo esteja incompleto ou tenha qualquer imperfeição, o candidato deverá solicitar ao fiscal de sala que o substitua, não cabendo reclamações posteriores neste sentido.

09 - Os fiscais não estão autorizados a emitir opinião e prestar esclarecimentos sobre o conteúdo das provas. Cabe única e exclusivamente ao candidato interpretar e decidir.

10 - O candidato poderá retirar-se do local de realização das provas levando o Caderno de Provas, no decurso dos últimos 30 (trinta) minutos anteriores ao horário previsto para o seu término. O candidato poderá retirar-se do local de provas somente a partir dos 90 (noventa) minutos, após o início de sua realização, contudo não poderá levar consigo o Caderno de Provas.

11 - Os 3 (três) últimos candidatos de cada sala somente poderão sair juntos. Caso o candidato insista em sair do local de aplicação da prova, deverá assinar um termo desistindo do Concurso Público e, caso se negue, deverá ser lavrado o Termo de Ocorrência, testemunhado pelos 2 (dois) outros candidatos, pelo fiscal da sala e pelo coordenador da unidade escolar.

## RESULTADOS E RECURSOS

- Os gabaritos oficiais preliminares das provas objetivas serão divulgados na Internet, no site [www.consulplan.net](http://www.consulplan.net), às 16h00min do dia subsequente ao da realização da prova escrita.

- Os recursos deverão ser apresentados, conforme determinado no item 8 do Edital de Concurso Público nº. 001/2010, sendo observados os seguintes aspectos:

a) O candidato que desejar interpor recursos contra os gabaritos oficiais preliminares das provas objetivas disporá de 48 (quarenta e oito) horas ininterruptas, iniciando-se às 16h00min do dia 19 de julho de 2010, encerrando-se às 16h00min do dia 21 de julho de 2010, a partir da divulgação, em requerimento próprio disponibilizado no link correlato ao Concurso Público no site [www.consulplan.net](http://www.consulplan.net).

b) A interposição de recursos poderá ser feita somente via Internet, através do Sistema Eletrônico de Interposição de Recursos, com acesso pelo candidato ao fornecer os dados referentes à sua inscrição, apenas no prazo recursal, à Consulplan, conforme disposições contidas no site [www.consulplan.net](http://www.consulplan.net), no link correspondente ao Concurso Público.

[atendimento@consulplan.com](mailto:atendimento@consulplan.com) / [www.consulplan.net](http://www.consulplan.net)

**Saiu da garagem, pagou**

*A Holanda vai cobrar tarifa por quilômetro rodado de todos os carros do país.*

*A intenção é diminuir os enormes congestionamentos de trânsito.*

Holanda, um dos países com maior densidade populacional da Europa, é também um dos que mais sofrem com congestionamentos de trânsito. Nos horários de pico, em Amsterdã e arredores, as lentidões chegam a se estender por 1000 quilômetros. Na tentativa de diminuir essa tortura diária infligida aos cidadãos, o ministério dos transportes holandês anunciou que, a partir de 2012, passará a cobrar uma taxa por quilômetro rodado de todos os carros que circulam no país. A tarifa básica será de 3 centavos de euro por quilômetro, com previsão de reajuste gradual até chegar a 6,7 centavos em 2017. Os valores serão maiores nas vias mais movimentadas e nos horários com volume de trânsito maior. Carros híbridos e muito econômicos terão descontos. Como compensação pela nova taxa, os impostos sobre veículos serão reduzidos. Até a cobrança entrar em vigor, todos os motoristas holandeses terão de equipar seus carros com aparelhos de GPS, que enviarão as informações sobre sua movimentação a uma central responsável pela cobrança. A falta do GPS acarretará multa.

Com a medida, o governo holandês espera reduzir pela metade os congestionamentos de trânsito até 2020. Outra consequência será a diminuição das emissões de gases do efeito estufa. Esse benefício é especialmente bem-visto num país com boa parte de seu território abaixo do nível do mar. Caso se concretize a previsão de elevação dos oceanos devido ao derretimento das geleiras do Ártico, a Holanda seria uma das primeiras vítimas da inundação das zonas costeiras.

*(Nathalia Butti/Veja - Edição 2146 / 6 de janeiro de 2010 / com adaptações)*

**01) Acerca das ideias do texto analise:**

**I.** Infere-se do texto que o ministério dos transportes da Holanda, na tentativa de reduzir problemas de trânsito, anunciou medidas contrárias à opinião pública daquele país.

**II.** De acordo com o texto, as emissões de gases do efeito estufa têm ligação direta com o grande volume de carros em circulação.

**III.** Depreende-se do texto que, em um período de oito anos, a partir da aplicação da medida anunciada pelo governo holandês, os congestionamentos de trânsito estarão no início do processo de redução.

**Está(ão) correta(s) apenas a(s) afirmativa(s):**

A) I                      B) I, III                      C) II, III                      D) II                      E) I, II

**02) Acerca do trecho “... tortura diária infligida aos cidadãos,...”, mantém-se a coesão textual e o sentido original com a seguinte reescrita:**

- A) Tortura diária infligida pelos cidadãos.
- B) Cidadania que inflige uma tortura diária.
- C) Tortura diária mantida pelos cidadãos.
- D) Imposição dos cidadãos diariamente.
- E) Tortura que inflige-se diariamente aos cidadãos.

**03) O segundo parágrafo do texto é iniciado por uma expressão que:**

- A) Retoma o assunto explicitado anteriormente.
- B) Contradiz o assunto relatado anteriormente.
- C) Estabelece uma relação afetiva com o tema exposto no primeiro parágrafo.
- D) Expõe argumentos contrários aos fatos apresentados no primeiro parágrafo.
- E) Indica que o tema exposto no primeiro parágrafo será substituído por um novo tópico.

**04) No segundo parágrafo, a expressão “espera reduzir” indica que, com a medida anunciada quanto ao grande congestionamento de trânsito na Holanda, o governo:**

- A) Está certo de que o reduzirá drasticamente.
- B) Mostra-se pessimista diante da situação atual, já que não fala em extinção do congestionamento, mas apenas em redução.
- C) Possui uma expectativa de considerável redução.
- D) Espera que haja uma grande melhora neste congestionamento.
- E) Mostra-se otimista diante da situação atual, não considerando a realidade atual.

**05) Tendo em vista que cada texto é produzido em situações e contextos diferentes e que cada um deles cumpre uma finalidade específica, o texto “Saiu da garagem, pagou” tem por objetivo:**

- A) Relatar experiências vividas.
- B) Narrar uma história fictícia.
- C) Argumentar para persuadir o interlocutor sobre um ponto de vista.
- D) Relatar experiências vividas para persuadir o interlocutor.
- E) Informar o interlocutor sobre fatos da realidade.



06) Na tira a seguir, a expressão “devido a” pode ser substituída sem prejuízo do sentido original por:



(Laerte – <http://p.php.uol.com.br/laerte/index.php>)

- A) Com o propósito de.  
 B) Em virtude de.  
 C) Para.  
 D) Ignorado por.  
 E) Embora haja.
- 07) O site do Detran/SE - Departamento Estadual de Trânsito de Sergipe, com acesso em 02 de maio de 2010, demonstra em sua página a seguinte enquete:


Para você, qual é a maior causa de acidentes de trânsito em Sergipe?

- ( ) Despreparo dos condutores.  
 ( ) Imprudência.  
 ( ) Estradas mal conservadas.  
 ( ) Falta de manutenção nos veículos.  
 ( ) Ausência de policiamento.  
 ( ) Não sei.

([www.detran.se.gov.br](http://www.detran.se.gov.br))

Considerando-se a construção da pergunta a partir da qual serão colhidas informações a respeito do trânsito em Sergipe subentende-se que:

- A) Pretende-se, através de uma pesquisa, traduzida em depoimento, averiguar a possível maior causa de acidentes do trânsito em Sergipe para a opinião pública.  
 B) Ao fim da enquete, será possível estabelecer um banco de dados objetivos e estatísticos a respeito da maior causa de acidentes de trânsito em Sergipe.  
 C) O despreparo dos condutores está em primeiro lugar até o momento na pesquisa como a maior causa de acidentes de trânsito em Sergipe.  
 D) A opção “Não sei.” deverá ser assinalada por aqueles que não possuem CNH (Carteira Nacional de Habilitação).  
 E) A opção “Ausência de policiamento.” não é coerente com o assunto principal da pesquisa: acidentes de trânsito.
- 08) O humor da tira se constrói a partir do uso da polissemia das palavras. Considerando a parte verbal e visual da tira infere-se que:



(Laerte – <http://p.php.uol.com.br/laerte/index.php>)

- A) As placas de trânsito do 1º e 2º quadrinhos não possuem uma coerência com a mensagem do quadrinho final.  
 B) A atitude do motorista demonstra que ele possui o conhecimento do significado assumido, no último quadrinho, pela palavra “reduza” desde o 1º quadrinho.  
 C) A palavra “reduza” assume um novo sentido no último quadrinho que muda a perspectiva do motorista.  
 D) Apenas a placa do 1º quadrinho possui uma coerência com a placa do quadrinho final.  
 E) O motorista demonstra ser imprudente não seguindo corretamente o indicado pela sinalização.

TEXTO II:



(pensecomigo.com. / Banner Paz no Trânsito – Trocas / Prefeitura de Brusque – SC)

09) Considerando slogan e imagem anteriores, depreende-se que tal campanha comunitária tem por finalidade:

- A) Esclarecer, orientar e persuadir a população em geral, habilitada à direção, sobre a segurança no trânsito.
- B) Esclarecer sobre as leis de trânsito já existentes e seu devido cumprimento.
- C) Reduzir os congestionamentos de trânsito, principalmente nas grandes cidades.
- D) Orientar a população em geral, acerca do uso exclusivo de peças originais nos veículos.
- E) Alertar a população sobre os perigos do trânsito nas grandes cidades.

10) O slogan “Para o corpo humano não existem peças originais” associado à parte visual do banner, indica:

- A) A consequência do uso de peças não originais nos automóveis.
- B) A evolução da tecnologia no tratamento de pessoas com necessidades especiais.
- C) Uma oposição entre o slogan e a parte visual do banner.
- D) Uma comparação entre o corpo humano e o automóvel.
- E) A imprudência de grande parte dos motoristas atualmente.

TEXTO III:

**Drogas x Dirigir**

Na campanha contra o uso de bebidas alcoólicas e outras drogas, todos devem participar, a sociedade em geral como também comerciantes e fabricantes.

As estatísticas revelam que a maioria dos acidentes ocorrem porque o condutor está alcoolizado, com taxa de álcool acima do limite permitido por lei, mas o mais grave é que muitos menores alcoolizados estão provocando esses acidentes.

A lei é clara: a venda de bebidas alcoólicas para menores pode resultar em prisão para quem comercializar o produto. Quanto ao menor dirigir sem habilitação, a penalidade recai sobre os pais. A situação também é grave no que se refere ao uso de outras drogas, por exemplo:

- Maconha – reduz a capacidade de dirigir por até oito horas após seu consumo.
- Cocaína – aumenta a sensibilidade à estimulação externa, distorcendo o conceito da realidade, e leva o organismo à exaustão.
- Anfetaminas (conhecidas pelos motoristas como rebite) – apesar dos graves riscos causados ao organismo, alguns motoristas de caminhão se utilizam desse tipo de droga para inibir o sono e manter seu estado de alerta para dirigir por longos percursos.

As vítimas da cocaína e da maconha no trânsito são em geral pessoas de 20 a 39 anos, e o pior é que os adolescentes de 13 a 17 anos constituem o segundo grupo de maior consumo dessas drogas, sem citar as anfetaminas e o crack. As reações provocadas no organismo pelo álcool e outras drogas são, de fato, uma ameaça do motorista.

(<http://www.detran.sp.gov.br/> com adaptações)

11) O formato do título do texto indica que:

- A) O principal assunto a ser tratado será o problema das drogas.
- B) O principal assunto a ser tratado será o ato de dirigir.
- C) As drogas e o ato de dirigir são dois itens que estão num embate.
- D) Serão abordados dois assuntos distintos: drogas e dirigir.
- E) As drogas apresentam-se como uma questão bem mais difícil que a direção imprudente.

12) A respeito do trecho: “... todos devem participar, a sociedade em geral como também comerciantes e fabricantes.” depreende-se que:

- A) A palavra “todos” foi especificada por “sociedade em geral como também comerciantes e fabricantes.”
- B) Comerciantes e fabricantes são dois grupos que não fazem parte da sociedade em geral.
- C) A participação de todos na referida campanha é necessária, porém, a dos fabricantes tem uma importância maior.
- D) A participação de todos na referida campanha é necessária, porém, a dos comerciantes tem uma importância maior.
- E) A expressão “devem participar” demonstra que a solicitação da participação na referida campanha será atendida por todos.

13) Ao dizer que “As estatísticas revelam...” é atribuído ao texto um aspecto:

- A) Subjetivo, por tratar-se de um assunto tão polêmico.
- B) Formal e objetivo, já que tal afirmação é apoiada no saber notório num certo domínio do conhecimento.
- C) Informal, fazendo o uso linguístico distanciado da modalidade culta e formal da língua.
- D) Contraditório, já que os dados apresentados pelas estatísticas não refletem a opinião do enunciador no restante do texto.
- E) Fictício, usado para persuadir o interlocutor.

14) No texto, a apresentação da maconha, cocaína e anfetaminas é feita da seguinte forma:

- A) São apresentados os seus conceitos, ou seja, a explicação do que de fato é cada uma dessas drogas.
- B) Há um exagero proposital quanto aos efeitos de cada uma das drogas apresentadas, já que se trata de um texto informativo da campanha comunitária.
- C) A maconha é apresentada em primeiro lugar, já que a consequência do seu uso é a pior quanto à direção no trânsito.
- D) Em relação às demais drogas apresentadas, as anfetaminas são apresentadas como um tipo de menor risco para o motorista.
- E) São apresentados os efeitos que tais drogas causam com aspectos relacionados à direção.

15) A expressão “de fato” no período final do texto denota:

- A) Na realidade.
- B) Por consequência.
- C) Intencionalmente.
- D) Aleatoriamente.
- E) Temporariamente.

### CAPACIDADE DE PERCEPÇÃO E RACIOCÍNIO LÓGICO

16) Num ônibus existiam 36 passageiros. Em uma determinada parada desembarcaram um terço dos passageiros e, em seguida, embarcaram um número correspondente a dois terços do total que continuou no interior do ônibus. Quantas pessoas passaram a existir no interior do ônibus a partir de então?

- A) 38
- B) 42
- C) 34
- D) 36
- E) 40

17) Sejam duas circunferências  $C_1$  e  $C_2$ . Se o raio de  $C_1$  tem o dobro da medida do diâmetro de  $C_2$ , quantas vezes o diâmetro de  $C_1$  é maior que o raio de  $C_2$ ?

- A) 2
- B) 4
- C) 6
- D) 8
- E) 12

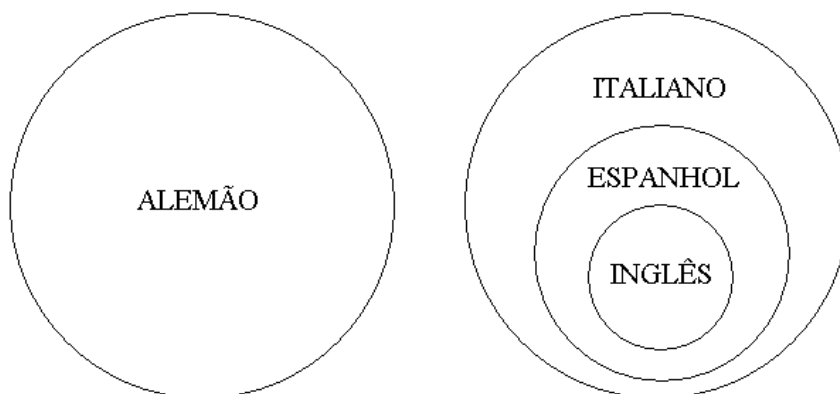
18) O produto de 14 por  $x$  é um número dez vezes maior que a soma de 14 e  $x$ . Qual é a diferença entre  $x$  e 14?

- A) 18
- B) 21
- C) 24
- D) 23
- E) 25

19) Qual das proposições abaixo é verdadeira?

- A) O ar é necessário à vida e a água do mar é doce.
- B) O avião é um meio de transporte ou o aço é mole.
- C) 6 é ímpar ou  $2 + 3 \neq 5$ .
- D) O Brasil é um país e Sergipe é uma cidade.
- E) O papagaio fala e o porco voa.

20) Numa determinada escola de idiomas, todos os alunos estudam alemão ou italiano. Sabe-se que aqueles que estudam inglês estudam espanhol e os que estudam alemão não estudam nem inglês nem espanhol, conforme indicado no diagrama a seguir.




Pode-se concluir que:

- A) Todos os alunos que estudam espanhol estudam inglês.
- B) Todos os alunos que estudam italiano estudam inglês.
- C) Alguns alunos que estudam espanhol não estudam italiano.
- D) Alguns alunos que estudam italiano não estudam inglês.
- E) Alguns alunos que estudam alemão estudam italiano.

21) Sejam  $A$ ,  $B$  e  $C$  três algarismos distintos de forma que  $45A \times CB7 = 120951$ . Assim, pode-se afirmar que:

- A)  $C < A < B$
- B)  $B < A$
- C)  $C > A$
- D)  $C < B < A$
- E)  $A < C < B$



- 22) Numa gaveta há  $x$  pastas, todas com a mesma quantidade de envelopes. Se o número  $n$  de envelopes contido em cada pasta é igual ao triplo do número de pastas da gaveta, sabe-se que o número total de envelopes contidos nesta gaveta é:
- A)  $\frac{n^2}{3}$                       B)  $3n$                       C)  $3nx$                       D)  $3x^2$                       E)  $\frac{x^2}{3}$
- 23) Mauro, Amaro e César compraram aparelhos distintos cada um, sendo um notebook, uma câmera digital e uma filmadora. Sabe-se que cada um efetuou a compra de forma diferente: um aparelho foi comprado na loja, outro pela Internet e o outro pelo telefone. Sabe-se ainda que Amaro efetuou sua compra pelo telefone, César não comprou a câmera digital, Mauro comprou o notebook, e a filmadora não foi comprada na loja. Assim, pode-se concluir que:
- A) Amaro não comprou a câmera digital.                      D) Mauro não efetuou sua compra na loja.  
B) César efetuou sua compra pela Internet.                      E) Amaro comprou a filmadora.  
C) A câmera digital não foi comprada pelo telefone.
- 24) Qual das figuras geométricas citadas é não-plana?
- A) Triângulo.                      B) Paralelogramo.                      C) Circunferência.                      D) Paralelepípedo.                      E) Círculo.
- 25) Adriano, Bruno, Carlos e Diego são irmãos. Sabe-se que Diego é 2 anos mais novo que Carlos, Adriano é 1 ano mais velho que Diego e Bruno nasceu 2 anos antes de Carlos. Qual das sequências apresentadas indica a ordem de nascimento desses irmãos?
- A) Bruno, Carlos, Adriano, Diego.                      D) Diego, Adriano, Carlos, Bruno.  
B) Adriano, Carlos, Diego, Bruno.                      E) Bruno, Adriano, Diego, Carlos.  
C) Carlos, Bruno, Diego, Adriano.
- 26) Qual é a área da região em negrito na figura apresentada se os perímetros dos quadrados maior e menor são, respectivamente iguais a 18m e 14m?
- A)  $6m^2$                       B)  $8m^2$                       C)  $10m^2$                       D)  $9m^2$                       E)  $7m^2$
- 
- 27) Duas garrafas A e B contêm uma certa quantidade de água. Sabe-se que a garrafa A tem 350ml a mais que a garrafa B. Se 200ml da garrafa A forem transferidos para a garrafa B, então a garrafa A passará a ter:
- A) 50ml a menos que a garrafa B.                      D) 150ml a menos que a garrafa B.  
B) 150ml a mais que a garrafa B.                      E) 250ml a mais que a garrafa B.  
C) 50ml a mais que a garrafa B.
- 28) Numa viagem de carro, estão 5 pessoas: 2 nos bancos da frente e 3 nos bancos de trás. Sabe-se que Carlos está sentado à esquerda de Paula, César está sentado à direita de André, Júlio e Carlos não sabem dirigir e Paula está sentada ao lado da janela. Sendo assim, pode-se afirmar que:
- A) César é o motorista.                      D) Paula é a motorista.  
B) Júlio está sentado à direita de Paula.                      E) César não está na parte de trás do carro.  
C) Carlos não está sentado ao lado de Júlio.
- 29) De um grupo de 50 pessoas, 27 tomam refrigerante, 15 tomam refrigerante e suco natural e 4 não tomam nem refrigerante nem suco natural. Quantas pessoas deste grupo tomam somente suco natural?
- A) 17                      B) 20                      C) 18                      D) 23                      E) 19
- 30) Qual das expressões numéricas a seguir apresenta resultado correto?
- A)  $30 - 10 \times 2 + 4 \times 6 = 84$                       D)  $30 - 10 \times 2 + 4 \times 6 = 64$   
B)  $30 - 10 \times 2 + 4 \times 6 = 264$                       E)  $30 - 10 \times 2 + 4 \times 6 = 720$   
C)  $30 - 10 \times 2 + 4 \times 6 = 34$

**CONHECIMENTO TÉCNICO ESPECÍFICO PERTINENTE AO EXERCÍCIO DO CARGO**

- 31) As doenças de registro obrigatório, que são selecionadas através de determinados critérios como magnitude e potencial de disseminação e que requerem pronta intervenção são denominadas:
- A) Epidemia.                      D) Doenças de alta prevalência.  
B) Doenças de notificação compulsória.                      E) Surto.  
C) Pandemia.
- 32) De acordo com o Capítulo V do Código de Ética dos Profissionais de Enfermagem, que trata das infrações e penalidades, marque a afirmativa INCORRETA:
- A) Considera-se infração disciplinar a inobservância das normas dos Conselhos Federal e Regional de Enfermagem.  
B) Responde pela infração quem a cometer ou concorrer para a sua prática, ou dela obtiver benefício, quando cometida por outrem.



- C) A infração é apurada em processo instaurado e conduzido nos termos do Código de Processo Ético das Autarquias Profissionais de Enfermagem.
- D) A censura consiste na admoestação ao infrator, de forma reservada, que será registrada no prontuário do mesmo, na presença de duas testemunhas.
- E) A suspensão consiste na proibição do exercício profissional da enfermagem por um período não superior a vinte e nove dias e será divulgada nas publicações oficiais dos Conselhos Federal e Regional de Enfermagem, jornais de grande circulação e comunicada aos órgãos empregadores.

**33) São competências do Agente Técnico de Enfermagem no exercício de sua profissão, EXCETO:**

- A) Deve assistir o enfermeiro no planejamento, programação, orientação e supervisão das atividades de assistência de enfermagem.
- B) Deve assistir o enfermeiro na prestação de cuidados diretos de enfermagem a pacientes em estado grave, assumindo apenas os procedimentos do seu nível de competência.
- C) Deve identificar as distócias obstétricas e tomar providências até a chegada do médico.
- D) Deve integrar-se à equipe de saúde na prevenção e controle das doenças transmissíveis, em geral em programas de vigilância epidemiológica.
- E) Deve assistir o enfermeiro na prevenção e controle sistemático de danos físicos que possam ser causados a pacientes durante a assistência de saúde.

**34) O Agente Técnico de Enfermagem como integrante das equipes de Saúde da Família pode executar todas as atribuições abaixo, EXCETO:**

- A) Pode realizar busca ativa e notificação de doenças e agravos de notificação compulsória e de outros agravos e situações de importância local.
- B) Deve participar das atividades de assistência básica, realizando procedimentos regulamentados no exercício de sua profissão na Equipe de Saúde da Família e, quando indicado ou necessário, no domicílio e/ou nos demais espaços comunitários (escolas, associações etc.).
- C) Pode participar do gerenciamento dos insumos necessários para o adequado funcionamento da Unidade de Saúde da Família.
- D) Deve realizar ações de educação em saúde, sempre na presença do enfermeiro, a grupos específicos e a famílias em situação de risco, conforme planejamento da equipe.
- E) Garantir a qualidade do registro das atividades nos sistemas nacionais de informação na Atenção Básica.

**35) Para prevenir as infecções e reduzir o tempo demandado para a cicatrização das feridas, principalmente das crônicas, elas precisam ser submetidas ao procedimento de curativo. Analise as seguintes afirmativas sobre o curativo das feridas crônicas e assinale a afirmativa INCORRETA:**

- A) A técnica de limpeza das feridas deve respeitar a viabilidade do tecido de granulação, preservar o potencial de recuperação da ferida e minimizar a ocorrência de traumas.
- B) O controle da patologia de base favorece o processo de cicatrização da ferida.
- C) Nas feridas de membros inferiores com perfusão duvidosa ou ausente, com escara seca e estável é indicado realizar o debridamento.
- D) A infecção de feridas crônicas pode desencadear alguns quadros, como a ocorrência de sepse após o debridamento de úlceras de pressão.
- E) No tratamento das úlceras venosas, a forma mais adequada de controle clínico da hipertensão venosa dos membros inferiores é através da compressão do membro.

**36) Considerando o preparo e administração de medicamentos, analise as afirmativas e marque a INCORRETA:**

- A) Prescrito 15.000 UI de heparina a ser diluída em 100ml de SF 0,9% por via endovenosa em bomba de infusão. A farmácia disponibilizou frascos de 5ml com a concentração de 5.000 UI/ml. Para administrar a dose correta, foram aspirados três frascos de heparina.
- B) Um SF a 0,9% de 500ml prescrito para correr em três horas deve ser administrado a 56 gotas por minuto para atender à prescrição corretamente.
- C) Foi prescrita a penicilina cristalina de 300.000 UI por via EV. A farmácia disponibilizou frascos de 5.000.000 UI. Para administrar a dose correta, considerando 2ml de pó mais 8 ml de solvente, deverão ser aspirados 0,6 ml.
- D) Foi prescrita furosemida de 40mg para ser diluída em 200ml de SF 9% e correr a 20 gotas/minuto. Para adequar a prescrição ao uso da bomba de infusão, a solução foi colocada para correr a 60ml/hora.
- E) Foi prescrita 500mg de uma substância para ser administrada por via intramuscular. Se cada frasco desta substância possui 01 grama para ser diluída em 4ml de diluente, a dose a ser administrada é de 2 ml.

**37) Assinale a primeira etapa da reanimação cardiopulmonar:**

- A) Abertura das vias aéreas.
- B) Compressões torácicas.
- C) Aplicação de ventilação.
- D) Circulação.
- E) Desfibrilação.



**38) “O indicador químico é um dispositivo para monitoramento do processo de esterilização projetado para responder com uma característica física ou química, a mudança de uma ou mais condições físicas dentro da câmara de esterilização.” Sobre o teste de Bowie-Dick, marque a alternativa correta:**

- A) Avalia a eficiência da bomba de vácuo, a presença de vazamento de ar ou de gases do vapor.
- B) Avalia se a temperatura apropriada foi atingida no centro de grandes pacotes.
- C) Serve para diferenciar os artigos que foram processados dos que não foram.
- D) Indica se os parâmetros tempo, temperatura e vapor estão adequados.
- E) São ampolas, contendo esporos e meio de cultura separados entre si. Após a esterilização, a ampola com o meio de cultura é quebrada e este entra em contato com os esporos, sendo a ampola incubada em seguida.

**39) A Lei Orgânica do município de Itabaiana em seu artigo 72, assim estabelece:**

**I.** “é garantido ao servidor público civil o direito à livre associação sindical.”

**II.** “o direito de greve será exercido nos termos e nos limites definidos em lei complementar federal.”

**Analisar as duas citações legais e marcar a alternativa correta:**

- A) As duas citações estão incompletas.
- B) A citação I é correta e a II, incorreta.
- C) A citação II é correta e a I, incorreta.
- D) As duas citações estão corretas.
- E) A citação I é correta e a II, incompleta.

**40) A acumulação remunerada de cargos, quando há compatibilidade de horário, conforme a Lei Orgânica Municipal de Itabaiana, é permitida:**

- A) No caso de dois cargos de professor.
- B) No caso de dois cargos de assistente administrativo.
- C) Quando os dois cargos forem de dedicação exclusiva.
- D) Quando um ocorrer na área financeira e outro científico.
- E) Por afastamento legal em férias.

