



**PREFEITURA MUNICIPAL DE SAPEAÇU**  
**CONCURSO PÚBLICO Nº 001/2022**

## **ENGENHEIRO CIVIL**

### **ORIENTAÇÕES: LEIA COM ATENÇÃO!**

1. O candidato deverá esperar a autorização do Fiscal de Sala para iniciar a Prova Objetiva.
2. Antes de iniciar a prova, o candidato deverá assinar o Cartão de Resposta.
3. O candidato que deixar de assinar o Cartão de Resposta ou preenche-lo a lápis, estará automaticamente **ELIMINADO** do Concurso Público.
4. O candidato deverá assinar no Cartão de Resposta o seu nome no local indicado, sob pena de eliminação no Concurso Público.
5. O candidato deverá fazer a conferência do Caderno de Questões, buscando verificar se esta possui a quantidade de questões previstas no Edital de Abertura de Inscrições.
6. Caso a prova esteja com alguma falha relacionada a impressão, o candidato deverá solicitar uma nova prova para o Fiscal de Sala.
7. Não é permitida a comunicação entre os candidatos.
8. É proibida também a utilização de qualquer tipo de equipamentos eletrônicos, conforme Edital de Abertura de Inscrições e Edital de Convocação para a Prova Objetiva.
9. Não haverá, por qualquer motivo, prorrogação do tempo previsto para a aplicação das provas em virtude do afastamento de candidato da sala de provas.
10. No dia de realização das provas, não serão fornecidas, por qualquer membro da equipe de aplicação das provas e/ou pelas autoridades presentes, informações referentes ao conteúdo das provas. Não dobre, amasse ou escreva em seu Cartão Resposta, apenas confira seus dados, leia as instruções com atenção para seu preenchimento e assine no local indicado, pois em hipótese alguma ele será substituído.
11. Entre as alternativas (a, b, c, d, e), marque apenas uma com caneta esferográfica azul ou preta, preenchendo toda área de opção, sem ultrapassar os seus limites. Não use borracha.
12. Caso sejam anuladas questões pela Coordenação de Concursos da BRB ASSESSORIA E CONCURSOS, estas somarão em favor de todos os candidatos.
13. Serão de inteira responsabilidade do candidato os prejuízos advindos do preenchimento indevido da folha de respostas. Serão consideradas marcações indevidas as que estiverem em desacordo com a folha de respostas tais como: marcação de dois ou mais campos referentes a um mesmo item, ausência de marcação nos campos referentes a um mesmo item, marcação rasurada ou emendada e/ou campo de marcação não preenchido integralmente.
14. A prova terá a duração de 3:00 hrs (três horas), podendo o candidato deixar o local de prova após 1:00 hr (uma hora) sem o Caderno de Questões. Para levar consigo o caderno de questões, o candidato deverá sair do local de prova após 2:00 hr (duas horas) do início da prova.
15. O candidato que deixar o local de prova antes de decorrido 1:00 hr (uma hora) do seu início, será **ELIMINADO** do CONCURSO PÚBLICO.
16. O gabarito desta prova estará disponível na página oficial do Concurso Público da Prefeitura Municipal de Sapeaçu, no site do BRB ASSESSORIA E CONCURSOS, dentro do prazo previsto no cronograma de atividades.
17. O candidato poderá interpor recurso contra as questões desta Prova dentro do prazo previsto no cronograma de atividades.
18. Toda e qualquer anormalidade acontecida durante a realização das provas, o candidato deverá solicitar ao fiscal de sala que faça a observação na respectiva ata.

**BOA SORTE!**

**LÍNGUA PORTUGUESA**  
**QUESTÕES DE 01 A 10**

**TEXTO PARA AS QUESTÕES 01 E 02**

Leio a reclamação de um repórter irritado que precisava falar com um delegado e lhe disseram que o homem havia ido tomar um cafezinho. Ele esperou longamente, e chegou à conclusão de que o funcionário passou o dia inteiro tomando café.

Tinha razão o rapaz de ficar zangado. Mas com um pouco de imaginação e bom humor podemos pensar que uma das delícias do gênio carioca é exatamente esta frase:

— Ele foi tomar café.

A vida é triste e complicada. Diariamente é preciso falar com um número excessivo de pessoas. O remédio é ir tomar um “cafezinho”. Para quem espera nervosamente, esse “cafezinho” é qualquer coisa infinita e torturante.

Depois de esperar duas ou três horas dá vontade de dizer:

— Bem cavaleiro, eu me retiro. Naturalmente o Sr. Bonifácio morreu afogado no cafezinho.

Ah, sim, mergulhemos de corpo e alma no cafezinho. Sim, deixemos em todos os lugares este recado simples e vago:

— Ele saiu para tomar um café e disse que volta já.

Quando a Bem-amada vier com seus olhos tristes e perguntar:

— Ele está?

Alguém dará o nosso recado sem endereço.

Quando vier o amigo e quando vier o credor, e quando vier o parente, e quando vier a tristeza, e quando a morte vier, o recado será o mesmo:

— Ele disse que ia tomar um cafezinho...

Podemos, ainda, deixar o chapéu. Devemos até comprar um chapéu especialmente para deixá-lo. Assim dirão:

— Ele foi tomar um café. Com certeza volta logo. O chapéu dele está aí...

Ah! fuja assim, sem drama, sem tristeza, fuja assim. A vida é complicada demais. Gastamos muito pensamento, muito sentimento, muita palavra. O melhor é não estar.

Quando vier a grande hora de nosso destino nós teremos saído há uns cinco minutos para tomar um café. Vamos, vamos tomar um cafezinho.

(Por Rubem Braga)

**01. Com base na leitura do texto, assinale a alternativa correta:**

- a) O autor, amante do café, faz uma homenagem a esse líquido, sendo esse o propósito do texto.
- b) O delegado descrito no texto faleceu.
- c) O texto indica para o leitor a melhor maneira de se safar de situações constrangedoras.
- d) O autor sugere ao leitor a compra de um chapéu para sempre marcar presença nos lugares onde não se quer estar de corpo presente.
- e) O texto faz referência a correria e ocupações da vida moderna, aconselhando ao leitor a levá-la de uma forma mais leve.

**02. O texto em destaque é um exemplo de:**

- a) Dissertação.
- b) Crônica.
- c) Texto documental.
- d) Poesia.
- e) Cordel.

**TEXTO PARA AS QUESTÕES DE 03 A 05**

Numa manhã tão serena  
como entre tanto arrebol  
pode caber tanto sol  
em esfera tão pequena?  
quem aos pasmos me condena  
da dúvida há de tirar-me,  
e há de mais declarar-me,  
como pode ser ao certo  
estar eu hoje tão perto  
de três sóis, e não queimar-me.

(Gregório de Matos)

**03. No fragmento poético de Gregório de Matos, a palavra “pasmos” pode ser substituída sem perder o sentido por:**

- a) Assombro.
- b) Felicidade.
- c) Negligência.
- d) Coerência.
- e) Significado.

**04. Analisando o fragmento, assinale a alternativa correta:**

- a) O poema fala sobre as contelações e uma descoberta de um novo sistema solar.
- b) O fragmento faz referência a canção de Cássia Eller chamada de “Segundo sol”.
- c) A vida campesina e a paisagem bucólica são o tema do fragmento.
- d) O eu lírico encontra-se apaixonado, sendo o fragmento uma declaração para a pessoa amada.
- e) O eu poético busca palavras rebuscadas para mostrar vocabulário e impressionar o leitor.

**05. “Numa manhã tão serena como entre tanto arrebol...” A palavra destacada faz referência:**

- a) As cores do céu.
- b) Ao calor do sol.
- c) A esfera pequena.
- d) As dúvidas.
- e) Aos três sóis.

**06. A frase “Se chover hoje, não haverá mais o passeio que estava programado” é classificada como:**

- a) Oração subordinada adverbial.
- b) Oração subordinada adjetiva.
- c) Oração subordinada substantiva.
- d) Oração coordenada alternativa.
- e) Oração coordenada conclusiva.

**07. Analise as alternativas a seguir e assinale a única incorreta:**

- a) Oração subordinada substantiva subjetiva - Exerce a função de sujeito.
- b) Oração subordinada substantiva predicativa - Exerce a função de predicativo do sujeito.
- c) Oração subordinada substantiva completiva nominal - Exerce a função de complemento nominal.
- d) Oração subordinada substantiva objetiva direta - Exerce a função de objeto direto.
- e) Oração subordinada substantiva verbal - Exerce a função de verbo transitivo direto.

**08. Assinale a alternativa que apresenta uma oração coordenada assindética:**

- a) São adolescentes, logo irão namorar.
- b) Cheguei atrasada, portanto terei que aguardar que me chamem novamente.
- c) Trabalha, mas nunca guarda dinheiro
- d) Não faz nem deixa ninguém fazer.
- e) Pegou a chave, abriu a porta, suspirou fundo.

**09. Assinale a única alternativa que apresenta erro no que diz respeito à acentuação gráfica:**

- a) Ambár.
- b) Câncer.
- c) Metonímia.
- d) Clavícula.
- e) Trôpego.

**10. Analise as alternativas a seguir e assinale a única correta com relação ao uso ou não uso da crase:**

- a) Era uma pintura à Pablo Picasso.
- b) Vou à casa no próximo fim de semana.
- c) Ao chegar à terra, o marinheiro foi até o local marcado.
- d) Assisti a peça.
- e) Dedicamo-nos as tarefas.

**CONHECIMENTOS GERAIS E LEGISLAÇÃO MUNICIPAL  
QUESTÕES DE 11 A 15**

**11. A agricultura na Bahia vem se fortalecendo nos últimos anos, e isso gera inúmeras oportunidades de trabalho. Segundo último censo da área, são cerca de 2,1 milhões de pessoas ocupadas com atividades agropecuárias no estado — isto é, cerca de 1 em cada 7 habitantes do estado trabalha no setor. Além disto, a Bahia ocupa a 8º posição no ranking da VBP (Valor Bruto da Produção), com cerca de 55,16 bilhões de reais. Com base em seus conhecimentos sobre a agricultura e economia da Bahia, assinale a alternativa correta:**

- a) Um destaque importante no trabalho voltado para todos os produtores é a forma como o governo estadual passou a lidar com questões históricas. Entre as iniciativas, destaca-se o projeto “Bahia Mais Forte, Terra Legal” que busca a regularização de terras, permitindo que a agricultura familiar cresça e gere empregos com mais segurança e estabilidade.
- b) As projeções para o futuro da agricultura na Bahia não são positivas, haja vista que o setor não é considerado essencial.
- c) Não há uma grande preocupação com desenvolvimento tecnológico e com a sustentabilidade no estado e, por conta disso, os efeitos causados já podem ser vistos, principalmente, na estagnação do crescimento do VBP.
- d) A agropecuária da Bahia, apesar de ser a principal fonte de economia do estado, não tem forte presença da agricultura familiar, tendo em vista as poucas políticas públicas criadas pelo governo estadual.
- e) A principal característica da agricultura na Bahia é a pouca diversidade, ou seja, aplicação dos recursos em determinados alimentos e/ou animais, o que torna a produção eficaz e explica os números tão elevados obtidos pelo estado nos últimos anos.

**12. Apesar da Independência do Brasil em 7 de setembro de 1822 ter sido declarada por Dom Pedro I, a Bahia ainda não era independente. Existiram diversos conflitos entre exércitos favoráveis ao domínio português e apoiadores do imperador Dom Pedro I na região. A esperança do fim da colonização fazia parte de quem lutava pela separação, mas houve resistência política de quem reafirmava a autoridade de Portugal. Com a luta dos defensores da independência,**

**as tropas apoiadoras de Portugal foram derrotadas finalmente em:**

- a) 02 de julho de 1823.
- b) 02 de julho de 1824.
- c) 02 de julho de 1825.
- d) 02 de julho de 1826.
- e) 02 de julho de 1827.

**13. O Poder Legislativo é exercido pela Assembleia Legislativa da Bahia, constituída pelos representantes do povo eleitos em votação direta para o mandato de quatro anos e pelos tribunais de contas. Cabe à ALBA, com a sanção do governador do estado, dispor sobre todas as matérias de competência do estado e especificamente sobre:**

- I. Tributos, arrecadação e distribuição de rendas
- II. Planos e programas estaduais, regionais e setoriais de desenvolvimento
- III. Criação, transformação, extinção de cargos, empregos e funções públicas na administração direta, autárquica e fundacional e fixação da remuneração, observados os parâmetros estabelecidos na lei de diretrizes orçamentárias.

**Assinale a alternativa correta:**

- a) Somente o I cabe a ALBA.
- b) Somente o II cabe a ALBA.
- c) Somente o III cabe a ALBA.
- d) Somente I não cabe a ALBA.
- e) I, II e III cabem a ALBA.

**14. Bahia é um Estado brasileiro localizado na região nordeste do país. O Estado encontra-se no sul da região nordeste e no interior do território existem diferentes tipos de relevos, climas, vegetações e hidrografia. Sobre a hidrografia da Bahia, são rios que correm pelo território, exceto:**

- a) Rio São Francisco.
- b) Rio Carinhanha.
- c) Rio Camaquã.
- d) Rio Inhambupe
- e) Rio Itaguari

**15. Compete ao Município de Sapeaçu, conforme Lei Orgânica Municipal:**

- I. Criar, organizar e suprimir distritos, observada legislação federal.
- II. Instituir a guarda municipal destinada a proteção de seus bens, serviços e instalações, conforme dispuser a lei.
- III. Promover adequado ordenamento territorial, mediante planejamento e controle de uso, do parcelamento e da ocupação do solo urbano.

**Julgue os itens em verdadeiro ou falso e assinale a alternativa correta:**

- a) V – V – V.
- b) F – V – V.
- c) F – F – V.
- d) F – F – F.
- e) V – V – F.

**CONHECIMENTOS EM INFORMÁTICA  
QUESTÕES DE 16 A 20**

**16. Com base em seus conhecimentos sobre o Microsoft Excel, analise a planilha a seguir:**

	A	B	C
1	10	=A1/2	=(5*3)+5
2	08	=C1*2	4
3	22	=A1*C1	6

**Assinale a alternativa correta:**

- a) O resultado da equação presente na cédula B1 é o resultado da equação presente na cédula C1.
- b) Para realizar a soma das cédulas A1, A2 e A3, poderá ser usada a equação =SOMA(A1:A3).
- c) O resultado da equação presente na cédula B2 é o mesmo encontrado na cédula A3.
- d) A equação realizada na cédula B2 é uma divisão.
- e) O resultado da equação presente na cédula C3 é um número menor que 12.

**17. Protocolo da Camada de Aplicação, ele é o principal protocolo de envio de correio eletrônico (e-mail) através da rede:**

- a) SMTP.
- b) TCP.
- c) POP3.
- d) DHCP.
- e) IMAP.

**18. Intranet e extranet são:**

- a) Servidores que armazenam arquivos baixados.
- b) Tipos de redes de computadores.
- c) Malware.
- d) Sistemas operacionais utilizados pela Microsoft.
- e) Aplicativos para configurações e utilização de internet residencial.

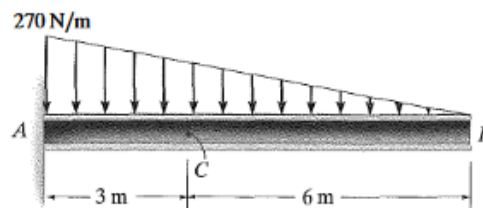
**19. Com base em seus conhecimentos sobre Malware, assinale a alternativa correta:**

- a) Ransomware é uma forma de malware que bloqueia seu dispositivo e/ou que criptografa seus arquivos, depois força você a pagar um resgate para recuperá-los. Ransomware foi chamado de a arma favorita dos criminosos cibernéticos pois exige um pagamento rápido e lucrativo em uma criptomoeda difícil de ser rastreada.
- b) Rootkit é um malware que registra todo pressionamento de tecla do usuário, geralmente armazenando as informações obtidas e enviando-as ao invasor, o qual está procurando por informações sensíveis como nomes de usuário, senhas ou detalhes de cartões de crédito.
- c) Um keylogger é uma forma de malware que oferece ao invasor privilégios de administrador no sistema infectado. Geralmente, ele também é projetado para ficar escondido do usuário, do software no sistema e do próprio sistema operacional.
- d) Worms é um software indesejado projetado para jogar anúncios em sua tela, na maioria das vezes dentro de um navegador da Web. Normalmente, ele usa um método furtivo para disfarçar-se como legítimo ou se sobrepõe em outro programa para ludibriá-lo a instalá-lo em seu PC, tablet ou dispositivo móvel.
- e) Adware é um tipo de malware semelhante aos vírus, que se multiplicam a fim de se espalharem para outros computadores através de uma rede, geralmente causando danos e destruindo dados e arquivos.

**20. São aplicativos de correio eletrônico, exceto:**

- a) G-mail.
- b) Microsoft Outlook.
- c) Mozilla Thunderbird.
- d) Yahoo Mail.
- e) Opera.

**21. De acordo com a viga da figura abaixo, assinale a alternativa que corresponde ao valor correto do momento no ponto C.**



- a) -580 N.m
- b) -670 N.m
- c) -790 N.m
- d) -860 N.m
- e) -1080 N.m

**22. Em relação ao dimensionamento e detalhamento de pilares em concreto armado, analise as afirmativas a seguir e assinale (V) para verdadeira e (F) para falsa.**

- I. O comprimento de flambagem de pilar de canto bi-rotulado é duas vezes maior que o comprimento de flambagem do pilar central bi-rotulado.
- II. O cálculo de flexão composto oblíqua é somente realizado em pilar que apresenta excentricidades de 2ª ordem.
- III. No dimensionamento do pilar de borda a excentricidade inicial, que existe, tem influência direta para o cálculo da armadura em ambos os eixos do pilar.
- IV. Assim como existe número mínimo de barras por tipo de seção transversal, existe o número máximo de barras que se pode colocar, sendo essa quantidade igual a área do concreto dividido pela área de aço.
- V. O índice de esbeltez de um pilar de seção quadrada tem sempre valores iguais para ambos os eixos.

**Assinale a alternativa correta:**

- a) F – F – V – F – F.
- b) V – F – V – V – V.
- c) V – F – V – V – F.
- d) F – V – F – V – V.
- e) V – V – F – F – F.

**23. Para a remoção de 80m<sup>2</sup> de manta asfáltica os índices de produtividade de um pedreiro e um servente são, respectivamente, 0.1h/m<sup>2</sup> e 0.26h/m<sup>2</sup>. Assinale a alternativa correta que corresponde a duração em horas para a remoção da manta asfáltica com uma equipe de 2 pedreiros e 6 serventes.**

- a) 30h
- b) 35h
- c) 40h
- d) 45h
- e) 50h

**24. O cronograma é, por excelência, o instrumento do planejamento no dia a dia da obra que serve para que o gerente e sua equipe tomem algumas providências, assinale a alternativa em que não se encontra no campo de providências do cronograma.**

- a) Pautar Reuniões.
- b) Monitorar atrasos ou adiantamentos das atividades.
- c) Recrutar operários.
- d) Montagem do diagrama de rede.
- e) Fazer pedidos de compras.

**25. O sistema de abastecimento de água representa o conjunto de obras, equipamentos e serviços destinados ao abastecimento de água potável de uma comunidade. Esse sistema é composto por várias etapas até que chegue aos consumidores. Em relação a essas etapas, assinale a alternativa correta.**

- a) A captação da água bruta acontece somente em mananciais superficiais (barragens, lagos, rios, etc).
- b) A adução é o bombeamento da água captada até as ETAs (Estação de Tratamento de Água) para que possa ter o tratamento adequado.
- c) Após o processo de captação e adução a água captada é tornada potável.
- d) A água depois de tratada é finalmente bombeada e distribuída para uso da população.
- e) Antes de passar pelos processos químicos e físicos de tratamento, a água captada também passa por um reator anaeróbio.

**26. A Lei nº 8.666/1993 possui alguns princípios, dentre eles a isonomia, onde a administração pública deve tratar os licitantes de maneira isonômica, sem privilégios e discriminações, porém existem algumas exceções em que o tratamento diferenciado é permitido. Analise as afirmativas a seguir e assinale (V) para verdadeira e (F) para falsa.**

- I. Empresas que produzem seus produtos no Brasil é o primeiro critério de desempate.
- II. Bens produzidos ou prestados por empresas brasileiras é o terceiro critérios de desempate.
- III. Investimento de pesquisas e desenvolvimento tecnológico é o quarto critério de desempate.
- IV. Empresas que possuem uma contratação mínima de deficientes e reabilitados possuem vantagens na licitação.
- V. Sorteio é o último critério de desempate.

**Assinale a alternativa correta:**

- a) F – V – V – F – F.
- b) V – F – V – V – V.
- c) V – F – F – V – V.
- d) V – V – F – V – V.
- e) F – F – F – V – V.

**27. Em um projeto de terraplanagem o volume de material no corte era de 6800m<sup>3</sup>, o volume solto transportado era de 9200m<sup>3</sup> e o volume de compactação do aterro foi de 5760m<sup>3</sup>, o empolamento considerado nos custos foi de:**

- a) 23%
- b) 28%
- c) 32%
- d) 35%
- e) 42%

**28. A NBR 14.653 fixa diretrizes para avaliação de bens quanto a:**

- a) Classificação de sua natureza.
- b) Instituição apenas de terminologias e símbolos.
- c) Descrição de atividades complexas.
- d) Requisitos básicos apenas de pareceres técnicos.
- e) Especificação das avaliações sem uma metodologia aplicada.

**29. De acordo com a Lei nº 8666/1993 existem 5 modalidades de licitação. Analise as seguintes afirmações e assinale a alternativa que corresponde corretamente as afirmações.**

- I. É utilizada principalmente para valores mais altos.

II. Qualquer interessado que atenda os pré-requisitos pode participar.

III. Administrações públicas utilizam para compras e vendas de imóveis.

IV. Utilizada para licitações internacionais.

**Assinale a alternativa correta:**

- a) Concorrência.
- b) Tomada de preços.
- c) Convite.
- d) Concurso.
- e) Leilão.

**30. Uma administração pública está abrindo licitações para uma obra de engenharia que consiste na pavimentação de ruas, o valor da obra é de R\$800.000,00. Assinale a alternativa que possui a(s) modalidade(s) adequada(s) para essa licitação.**

- a) Convite.
- b) Convite e tomada de preços.
- c) Concurso e convite.
- d) Tomada de preços e Concorrência.
- e) Concorrência.

**31. Com base na Lei nº 10.520/2002, analise as seguintes afirmativas:**

- I. O pregão não pode licitar obras e serviços de engenharia
- II. É usado para serviços e bens comuns
- III. Tem valor máximo para ser empregado
- IV. O pregão possui três espécies, eletrônico, presencial e híbrido.

**Está correto o que se afirma em:**

- a) I.
- b) II.
- c) I e II.
- d) II e III.
- e) III e IV.


**32. A construção de qualquer obra depende muito de um bom levantamento, pois este influenciará nas medidas de planejamento e execução a serem tomadas pelo responsável técnico. Para se obter um levantamento topográfico satisfatório, algumas regras devem ser seguidas. Com base nessas informações, analise as seguintes afirmativas:**

- I. A topometria consiste na medição de distância e ângulos para reproduzir as características do terreno o mais fielmente possível.
- II. A planimetria mede os ângulos e distâncias no plano vertical.
- III. A topologia é responsável pela interpretação de dados para que seja feito o desenho topográfico.
- IV. A taqueometria permite a representação das diferenças de níveis no plano horizontal.

**Está correto o que se afirma em:**

- a) I e II.
- b) II e III.
- c) I, II e IV.
- d) I, III e IV.
- e) II, III e IV.

**33. Em um projeto de instalações elétricas, a representação da figura abaixo corresponde ao condutor:**

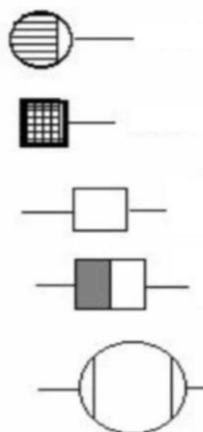


- a) Eletroduto.
- b) Retorno.
- c) Fase.
- d) Terra.
- e) Neutro.

**34. Com base na NBR 5626, assinale a alternativa incorreta:**

- a) Em casos de abastecimento indireto é necessário realizar o dimensionamento de um reservatório interno.
- b) O alimentador predial pode vir da concessionária (cidades) ou algum outro corpo d'água.
- c) O ladrão serve para ajudar no recalque da água para o reservatório.
- d) A conexão cruzada é a união entre água potável e águas desconhecidas.
- e) O diâmetro deve atender ao limite de velocidade da água.

**35. Com base na leitura e interpretação de projetos sanitários, analise a figura abaixo e assinale a alternativa com as nomenclaturas na ordem correta.**



**Assinale a alternativa correta:**

- a) Caixa sifonada, ralo, caixa de inspeção, caixa de gordura e fossa.
- b) Ralo, caixa sifonada, fossa, caixa de inspeção e caixa de gordura.
- c) Caixa de gordura, Ralo, Caixa sifonada, Caixa de inspeção e fossa.
- d) Fossa, caixa sifonada, ralo, caixa de gordura e caixa de inspeção.
- e) Caixa de inspeção, ralo, caixa de gordura, caixa sifonada e fossa.

**36. De acordo com o Título I da Constituição Brasileira, a República Federativa do Brasil é formada pela união indissolúvel dos Estados e Municípios e do Distrito Federal, constituindo-se em estado democrático de direito, possuindo assim alguns fundamentos, assinale a alternativa que NÃO corresponde a tais fundamentos:**

- a) Dignidade da pessoa humana.
- b) Soberania.
- c) Os valores sociais do trabalho e da livre iniciativa.

- d) A cidadania.
- e) O singularismo político.

**37. Com base nos termos do Título II artigo 5º da Constituição Federal, os brasileiros possuem direitos e garantias individuais assegurados, analise as seguintes afirmativas.**

- I. É livre o exercício de qualquer trabalho, ofício ou profissão, atendendo ou não as qualificações profissionais que a lei estabelecer.
  - II. São invioláveis a intimidade, a vida privada, a honra e a imagem das pessoas, assegurado o direito a indenização pelo dano material ou moral decorrente de sua violação.
  - III. É livre a locomoção no território nacional em tempo de paz, podendo qualquer pessoa, nos termos da lei, nele entrar, permanecer ou dele sair com seus bens.
  - IV. É livre a manifestação do pensamento, mesmo sob anonimato.
- Está correto o que se afirma em:
- a) I.
  - b) I e II.
  - c) II e III.
  - d) II e IV.
  - e) III e IV.

**38. De acordo com o artigo 30 do Título III da Constituição Federal, compete aos Municípios:**

- a) Suplementar a legislação federal e estadual no que couber.
- b) Criar e organizar, observada a legislação estadual.
- c) Manter com cooperação técnica e financeira programas de educação infantil.
- d) Prestar serviços de atendimento a saúde da população apenas para o Estado.
- e) promover a proteção do patrimônio histórico-cultural local e de países vizinhos.

**39. A administração pública direta e indireta de qualquer dos Poderes da União, dos Estados, do Distrito Federal e dos Municípios obedecerá aos princípios de legalidade, impessoalidade, moralidade, publicidade e eficiência e, também, ao seguinte:**

- a) O prazo de validade do concurso público será de até quatro anos, prorrogável uma vez, por igual período.
- b) Os cargos, empregos e funções públicas são acessíveis apenas aos brasileiros que preencham os requisitos estabelecidos em lei.
- c) O direito de greve será exercido nos termos e nos limites definidos em lei específica.
- d) Os vencimentos dos cargos do Poder Legislativo e do Poder Judiciário poderão ser superiores aos pagos pelo Poder Executivo.
- e) A investidura em cargo ou emprego público não depende de aprovação prévia em concurso público de provas ou de provas e títulos, de acordo com a natureza e a complexidade do cargo ou emprego, na forma prevista em lei, ressalvadas as nomeações para cargo em comissão declarado em lei de livre nomeação e exoneração.

**40. Para o servidor público da administração direta, autárquica e fundacional, no exercício de mandato eletivo, são aplicadas disposições, julgue os itens em Verdadeiro (V) e Falso (F) e em seguida assinale a alternativa correta.**

- I. Tratando-se de mandato eletivo federal, estadual ou distrital, ficará afastado de seu cargo, emprego ou função.
- II. Investido no mandato de Prefeito, será afastado do cargo, emprego ou função, sendo-lhe facultado optar pela sua remuneração.

III. Em qualquer caso que exija o afastamento para o exercício de mandato eletivo, seu tempo de serviço não será contado para todos os efeitos legais.

IV. Na hipótese de ser segurado de regime próprio de previdência social, não permanecerá filiado a esse regime.

**Assinale a alternativa correta:**

- a) V – F – V – F.
  - b) V – V – F – F.
  - c) F – V – F – F.
  - d) F – F – V – V.
  - e) V – F – F – V.
-

