



MINISTÉRIO PÚBLICO DO ESTADO DE RORAIMA

CONCURSO PÚBLICO

Nível Fundamental

Aplicação: 15/6/2008

CARGO **12:**
MOTORISTA

MANHÃ

Caderno O

LEIA COM ATENÇÃO AS INSTRUÇÕES ABAIXO.

- 1 Ao receber este caderno, confira atentamente se o tipo do caderno — Caderno O — coincide com o que está registrado em sua folha de respostas e no rodapé de cada página numerada deste caderno. Em seguida, verifique se ele contém CEM itens, correspondentes às provas objetivas, corretamente ordenados de 1 a 100.
- 2 Quando autorizado pelo chefe de sala, no momento da identificação, escreva, no espaço apropriado da folha de respostas, com a sua caligrafia usual, a seguinte frase:

Ninguém morre tão pobre quanto nasceu.

- 3 Caso o caderno esteja incompleto, tenha qualquer defeito ou apresente discordância quanto ao tipo, conforme o item 1, solicite ao fiscal de sala mais próximo que tome as providências cabíveis, pois não serão aceitas reclamações posteriores.
- 4 Não utilize lápis, lapiseira (grafite), borracha e(ou) qualquer material de consulta que não seja fornecido pelo CESPE/UnB.
- 5 Não se comunique com outros candidatos nem se levante sem autorização do chefe de sala.
- 6 Recomenda-se não marcar ao acaso: a cada item cuja resposta marcada diverja do gabarito oficial definitivo será atribuída pontuação negativa, conforme consta em edital.
- 7 A duração das provas é de **três horas e trinta minutos**, já incluído o tempo destinado à identificação — que será feita no decorrer das provas — e ao preenchimento da folha de respostas.
- 8 Você deverá permanecer obrigatoriamente em sala por, no mínimo, uma hora após o início das provas e poderá levar o este caderno de provas somente no decurso dos últimos **quinze minutos** anteriores ao horário determinado para o término das provas.
- 9 Ao terminar as provas, chame o fiscal de sala mais próximo, devolva-lhe a sua folha de respostas e deixe o local de provas.
- 10 A desobediência a qualquer uma das determinações constantes no presente caderno ou na folha de respostas poderá implicar a anulação das suas provas.

AGENDA (datas prováveis)

- I 17/6/2008, após as 19 h (horário de Brasília) – Gabaritos oficiais preliminares das provas objetivas: Internet — www.cespe.unb.br.
- II 18 e 19/6/2008 – Recursos (provas objetivas): exclusivamente no Sistema Eletrônico de Interposição de Recurso, Internet, mediante instruções e formulários que estarão disponíveis nesse sistema.
- III 11/7/2008 – Resultados finais das provas objetivas e convocação para a prova prática de direção: Diário do Poder Judiciário do Estado de Roraima e Internet.

OBSERVAÇÕES

- Não serão objeto de conhecimento recursos em desacordo com o item 12 do Edital n.º 1 – MPE/RR – ADMINISTRATIVO, de 25/3/2008.
- Informações adicionais: telefone 0(XX) 61 3448-0100; Internet — www.cespe.unb.br.
- É permitida a reprodução deste material apenas para fins didáticos, desde que citada a fonte.

- De acordo com o comando a que cada um dos itens de **1 a 100** se refira, marque, na **folha de respostas**, para cada item: o campo designado com o código **C**, caso julgue o item **CERTO**; ou o campo designado com o código **E**, caso julgue o item **ERRADO**. A ausência de marcação ou a marcação de ambos os campos não serão apenadas, ou seja, não receberão pontuação negativa. Para as devidas marcações, use a **folha de respostas**, único documento válido para a correção das suas provas.
- Nos itens que avaliam **Noções de Informática**, a menos que seja explicitamente informado o contrário, considere que todos os programas mencionados estão em configuração-padrão, em português, que o *mouse* está configurado para pessoas destros e que expressões como clicar, clique simples e clique duplo referem-se a cliques com o botão esquerdo do *mouse*. Considere também que não há restrições de proteção, de funcionamento e de uso em relação aos programas, arquivos, diretórios, recursos e equipamentos mencionados.

CONHECIMENTOS BÁSICOS

1 É no Parque Nacional do Monte Roraima que está o ponto mais setentrional do país, a Serra do Caburá, próximo à tríplice fronteira Brasil–Venezuela–Guiana.

4 O parque ostenta formações geológicas de rara beleza, envolvidas por florestas, e acolhe nascentes de rios importantes da região, como o Cotingo, que exibe várias quedas d’água ao longo de seu curso. Nas rochas do parque, é possível ver também registros de povos pré-históricos que habitaram a região. O monte Roraima é um dos pontos mais

7 elevados do país, com 2.875 metros de altitude. Próximos ao

10 parque estão também o município de Uiramutã e a Serra do Sol, outro ponto culminante, com 2.400 metros de altitude.

Internet: <www.rr.gov.br/turismo>.

Em relação ao texto acima, julgue os seguintes itens.

- 1 De acordo com as informações do texto, o Brasil tem fronteiras com a Venezuela e a Guiana.
- 2 A palavra “ostenta” (ℓ.4) pode, sem prejuízo para a informação do período, ser substituída por **apresenta**.
- 3 A expressão “registros” (ℓ.8) tem o mesmo sentido de **inscrições** ou **desenhos**.
- 4 A palavra “Próximos” (ℓ.10) está no plural porque concorda com “2.400 metros de altitude” (ℓ.12).
- 5 O trecho “outro ponto culminante” (ℓ.12) se refere a “município de Uiramutã” (ℓ.11).

1 Concebido com a finalidade de fomentar diretrizes para o ecoturismo na Amazônia, o Programa para o Desenvolvimento do Ecoturismo na Amazônia Legal

4 (PROECOTUR) atua no sentido de maximizar os benefícios econômicos, sociais e ambientais dessa atividade. Gerar alternativas para as atividades degradadoras do meio ambiente, criar empregos, renda e oportunidades de negócios de natureza sustentável são objetivos do programa.

A meta do programa é viabilizar o desenvolvimento

10 do ecoturismo na região amazônica brasileira, estabelecendo a base de investimentos públicos necessários para a atração de investidores privados. O propósito é estabelecer uma

13 estrutura adequada e implementar as condições necessárias, incluindo-se os investimentos requeridos, que possibilitarão aos nove estados da Amazônia brasileira (Acre, Amapá,

16 Amazonas, Maranhão, Mato Grosso, Pará, Rondônia, Roraima e Tocantins) se prepararem para administrar suas áreas selecionadas para o ecoturismo de forma responsável

19 e adequada, com planejamento, assistência técnica e capacitação.

Internet: <www.mma.gov.br> (com adaptações).

Em relação ao texto acima, julgue os itens de **6 a 10**.

- 6 Depreende-se das informações do texto que o PROECOTUR vai procurar substituir as atividades que degradam o ambiente por outras que o conservem.
- 7 As palavras “Amazônia” e “negócios” recebem acento gráfico com base em regras diferentes.
- 8 A vírgula logo após a palavra “empregos” (ℓ.7) isola a oração de natureza explicativa que vem a seguir.
- 9 Na linha 10, a palavra “amazônica” é um adjetivo.
- 10 Em “se prepararem” (ℓ.17), o “se” indica sujeito indeterminado.

Sérgio tomou R\$ 15.000,00 emprestados em uma instituição financeira. Considerando 1,36 e 1,20 como valores aproximados para $1,026^{12}$ e $\sqrt{1,44}$, respectivamente, julgue os itens a seguir, a respeito desse empréstimo.

- 11 Se a instituição financeira cobra juros compostos à taxa de 2,6% ao mês e se Sérgio não fizer nenhuma amortização desse empréstimo, então, ao final de 12 meses, o valor de seu débito será inferior a R\$ 20.000,00.
- 12 Se Sérgio não fizer nenhuma amortização do empréstimo e se ao final de um ano o valor de seu débito for de R\$ 21.600,00, então a taxa de juros compostos, semestral, cobrada pela instituição financeira será superior a 18%.

RASCUNHO

Para seus profissionais de nível superior, uma empresa paga salários mensais de R\$ 3.800,00; para os de nível médio, o salário mensal pago pela empresa é de R\$ 1.800,00. A empresa possui 30 profissionais desses dois níveis e a despesa mensal com os salários desses profissionais é uma quantia que está entre R\$ 63.000,00 e R\$ 65.000,00. Com base nessas informações, julgue os itens seguintes.

- 13** O número de profissionais de nível superior dessa empresa é um número primo.
- 14** Com os salários dos profissionais de nível médio, a despesa mensal dessa empresa é inferior a R\$ 40.000,00.

Um terreno retangular foi comprado por R\$ 70.000,00, equivalente a R\$ 70,00 para cada metro quadrado. O comprador mandou cercar o terreno e pagou R\$ 2.800,00, o que correspondeu a R\$ 20,00 para cada metro linear da cerca. Com base nessas informações, julgue os itens subseqüentes.

- 15** A medida das diagonais desse terreno é superior a 60 m.
- 16** Para cercar os dois lados maiores do terreno, o comprador gastou menos de R\$ 2.200,00.

O Brasil depende do transporte rodoviário, mas conserva mal as suas estradas; 67% das cargas são transportadas em estradas, mas 75% dos 1,75 milhões de quilômetros de estradas não estão nem pavimentadas.

Época. Edição n.º 431, 21/8/2006 (com adaptações).

Com relação às informações do texto acima, julgue os itens a seguir.



- 17** Considere que a carga transportada em estradas corresponda a 60.300.000 toneladas. Nessa situação, o total da carga que foi transportada por outros meios de transporte supera 30.000.000 de toneladas.
- 18** Caso o governo federal pretenda pavimentar $\frac{6}{25}$ dos quilômetros de estradas não pavimentadas, nesse caso, serão pavimentados menos de 320.000 quilômetros de estradas.

Considere que a carroceria de um caminhão de transporte de cargas tenha a forma de um paralelepípedo retângulo medindo $8\text{ m} \times 3\text{ m} \times 4\text{ m}$. Com base nessas informações, julgue os itens que se seguem.

- 19** O volume máximo de carga que esse caminhão pode transportar em sua carroceria é inferior a 100.000 litros.
- 20** As diagonais do retângulo que forma uma face da carroceria e mede $3\text{ m} \times 4\text{ m}$ são perpendiculares entre si.







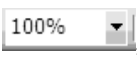
Considerando a figura acima, julgue os itens subseqüentes, acerca do Internet Explorer 6 e dos conceitos de Internet.

- 21 De acordo com os conceitos da Internet, www.mp.rr.gov.br é um endereço de correio eletrônico.
- 22 Para se visualizar o histórico de navegação é suficiente clicar a ferramenta .
- 23 Considerando que o segmento **Anexos LRF** seja um *link* de um documento com anexos, ao se clicar nele, será criado, no Outlook Express, um *e-mail* com os citados anexos, a ser encaminhado para o destinatário usuario.com.br.
- 24 É possível utilizar a ferramenta  para se localizar uma informação na Internet.



Considerando a figura acima, que mostra uma janela do Word 2003 contendo uma texto que é iniciado por um título e uma tabela, julgue os itens de 25 a 30.

- 25 A tabela representada na figura poderia ter sido feita no Excel e copiada para o Word.
- 26 Ao se clicar a ferramenta , o arquivo será salvo e será gerado um *backup*.

- 27 Para se retirar o sublinhado do título do texto, basta selecioná-lo e clicar o ícone .
- 28 Para se desfazer a última ação, é suficiente clicar a ferramenta .
- 29 Ao se clicar a ferramenta , será criado, automaticamente, um *backup*.
- 30 Para se compactar o tamanho do arquivo para 10% do tamanho padrão, é preciso clicar a ferramenta , selecionar 10% e salvar o arquivo.

As políticas públicas voltadas para a saúde do jovem brasileiro, segundo recente levantamento de instituto de pesquisa, ainda não fizeram frente, de modo efetivo, aos desafios fundamentais do setor. Entre os 15 e os 29 anos de idade, a violência continua sendo o principal problema, especialmente para os rapazes, que morrem significativamente mais do que as moças. Entre 2003 e 2005, morreram cerca de 60 mil jovens do sexo masculino, 78% devido a causas externas, majoritariamente homicídios e acidentes de trânsito. No mesmo período, morreram 15 mil jovens do sexo feminino, sendo 35% pelas mesmas causas externas.

Cerca de 11% das meninas de 15 a 19 anos de idade já tiveram filhos. A AIDS é outro problema entre os jovens. Até 2005, foram cerca de 112 mil casos notificados da doença entre jovens de 15 a 19 anos de idade. Também aumentou o número de mulheres contaminadas.

Jornal do Brasil, 21/5/2008, p. A3 (com adaptações).

Tendo o texto acima como referência inicial e considerando os diversos aspectos que envolvem o tema por ele focalizado, julgue os itens de 31 a 40.

- 31 O texto afirma que as políticas públicas de saúde dirigidas aos jovens estão colhendo resultados muito bons.
- 32 Nos dias atuais, a violência é problema grave que atinge os mais diversos setores da sociedade.
- 33 Embora elevada, a violência existente hoje no Brasil é urbana, não tendo chegado ao campo.
- 34 Um dos fatores responsáveis pela ampliação da violência é o denominado crime organizado.
- 35 Os traficantes de drogas ilícitas costumam agir com violência para atingir seus objetivos, o que aumenta a sensação de insegurança das pessoas.

- 36 Os acidentes de trânsito, nas cidades e nas estradas, respondem por boa parte das causas externas que levam à morte de brasileiros.
- 37 Segundo o texto, o número de mortes de jovens do sexo feminino é cerca de quatro vezes maior do que o de rapazes.
- 38 A AIDS é uma grave doença, em geral transmitida por relações sexuais, pelo sangue e pelo compartilhamento de seringas usadas para drogas injetáveis.
- 39 O texto informa que o número de jovens brasileiros assassinados é, felizmente, bastante reduzido.
- 40 Por causa do bem-sucedido programa de planejamento familiar, é pequeno o número de adolescentes brasileiras que se engravidam.

Julgue os itens a seguir, relativos à legislação que rege os servidores públicos do estado de Roraima.

- 41 Os cargos e funções públicas no estado de Roraima são acessíveis a todos os brasileiros e aos estrangeiros, na forma da lei, que preencham os requisitos estabelecidos na legislação pertinente.
- 42 Para investidura em cargo público é necessário que a pessoa tenha, no mínimo, dezesseis anos.
- 43 É dever do servidor público exercer com zelo e dedicação as atribuições legais e regulamentares inerentes ao cargo ou função.

Julgue os próximos itens, relativos à legislação que rege o Ministério Público do Estado de Roraima (MPE/RR).

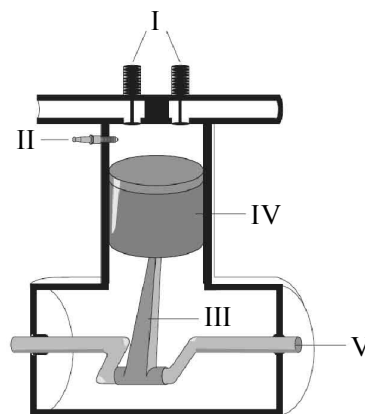
- 44 O MPE/RR é órgão do Poder Executivo.
- 45 O MPE/RR tem como atribuição, prevista expressamente em sua lei orgânica, a defesa das pessoas que não podem pagar advogado.
- 46 Os promotores de justiça são subordinados aos juízes.
- 47 Os promotores de justiça são proibidos de exercer a advocacia.

O Ministério Público de um estado da Federação ingressou com diversas ações de improbidade administrativa contra servidores do alto escalão do governo. Diante disso, o governador resolveu enviar um projeto de lei para a assembléia legislativa, o qual prevê a extinção de diversas promotorias, a demissão de promotores e a retirada da atribuição do Ministério Público de ajuizar ações de improbidade.

Com base na situação hipotética acima e na legislação pertinente, julgue os itens a seguir.

- 48 Considerando-se que o governador é o chefe do Ministério Público, ele tem competência para propor as referidas medidas.
- 49 Os promotores, após dois anos de efetivo exercício, são vitalícios e só podem perder o cargo por decisão judicial definitiva, nas hipóteses previstas em lei.
- 50 O Ministério Público é instituição permanente, essencial à função jurisdicional do Estado, e dispõe de autonomia funcional, administrativa e financeira, garantias e prerrogativas essas que impedem a adoção das medidas descritas na situação descrita.

CONHECIMENTOS ESPECÍFICOS



Na figura acima, é mostrada uma representação simplificada das principais partes de uma das unidades de um motor a combustão de quatro tempos que costuma equipar os veículos automotores. Com referência ao funcionamento desse tipo de motor, julgue os itens seguintes.

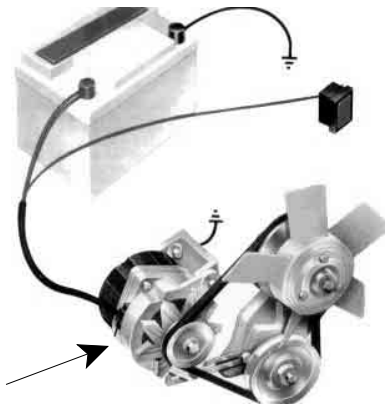
- 51 O combustível e o ar ingressam no motor através da peça II e, em contato com a faísca produzida na peça I, sofre combustão, produzindo, em seguida, um movimento circular da peça IV que é transmitido à peça III.
- 52 A força mecânica produzida pelo motor é transmitida às rodas do veículo a partir da peça de número V, que é conhecida como árvore, ou eixo, de manivelas ou, ainda, como virabrequim.
- 53 O motor de veículos a óleo diesel não tem a peça de número IV.
- 54 Quando a unidade mostrada estiver no chamado *ponto morto*, a peça IV estará na posição mais afastada possível da peça II.

Acerca do sistema de freios a disco de veículos automotores, julgue os itens que se seguem.

- 55 Nesse tipo de sistema de freios, a frenagem do veículo é obtida a partir do movimento das pinças de freio, que, ao serem pressionadas, juntam as pastilhas ao disco de freio e reduzem o movimento circular desse disco.
- 56 Ao se acionar o pedal de freio do veículo, o movimento é transmitido diretamente às rodas por intermédio das lonas de freio.
- 57 A sigla ABS identifica um mecanismo que, em condições normais de funcionamento, evita que o sistema de freios do veículo trave mesmo que seja acionado de forma brusca.

Em veículos automotores, a caixa de fusíveis

- 58 faz parte do sistema elétrico e evita que haja sobrecarga de corrente nos diversos circuitos elétricos do veículo.
- 59 regula a mistura ar/combustível no sistema de injeção eletrônica dos automóveis modernos, que não têm carburador.



Com relação à figura acima, que mostra alguns componentes do sistema elétrico de um veículo automotor, julgue o item abaixo.

60 Na figura em questão, a seta aponta para o motor de partida.

Texto para os itens de 61 a 80

Em um trecho de uma rodovia com duas faixas e duplo sentido de circulação (mão e contramão), sem sinalização regulamentadora da velocidade máxima permitida, mas com sinalização horizontal no leito da via, Lúcio conduzia um microônibus com vários passageiros. Na oportunidade, embora chovesse, Lúcio mantinha os limpadores de pára-brisa do microônibus desligados porque se sentia tão seguro que chegava a acreditar que não seria necessário ligar os limpadores, já que estava conseguindo enxergar tudo na via. Ao aproximar-se de um aclive que o impedia de visualizar plenamente o fluxo no sentido contrário, e apesar de a sinalização horizontal indicar proibição de ultrapassagem, Lúcio iniciou uma manobra de ultrapassagem de outro veículo. Entretanto, ele percebeu que não seria possível completar essa manobra, pois um veículo vinha no sentido oposto e havia risco iminente de choque frontal entre esse veículo e o microônibus, já que não havia tempo suficiente para desistir da manobra e reconduzir o microônibus para a faixa da direita. No último instante, Lúcio desviou bruscamente a direção do microônibus, fazendo-o trafegar no acostamento à esquerda da rodovia e, com isso, evitou a colisão frontal. Entretanto, devido a irregularidades na superfície do acostamento, o microônibus foi submetido a solavancos que causaram ferimentos a diversos de seus passageiros. Na oportunidade, Lúcio, cuja Carteira Nacional de Habilitação (CNH) era de categoria B, não fazia uso do cinto de segurança e, para tentar ultrapassar o outro veículo, excedeu o limite de velocidade permitido para o referido trecho. Embora estivesse apto a prestar primeiros socorros às vítimas, Lúcio fugiu do local tão logo conseguiu parar seu veículo.

Acerca da situação hipotética apresentada no texto acima e considerando aspectos de direção defensiva e da legislação de trânsito a ela associados, julgue os itens de **61 a 74**.

61 A sinalização horizontal existente no leito da via para indicar a proibição de ultrapassagem é pintada na cor amarela.

62 A sinalização horizontal existente no leito da via corresponde à seguinte placa de sinalização vertical:



63 De acordo com a terminologia adotada pelo Código de Trânsito Brasileiro, microônibus é o veículo automotor de transporte coletivo com capacidade para até vinte passageiros.

64 Na situação descrita, os solavancos causados ao microônibus decorreram de uma condição adversa da via.

65 Na situação descrita, a falta de visibilidade é considerada uma condição adversa do tempo (ou do clima).

66 De acordo com a legislação de trânsito, na situação descrita, Lúcio, deveria ter, no mínimo, CNH de categoria D para conduzir o microônibus.

67 De acordo com os conceitos de direção defensiva, é correto afirmar que Lúcio cometeu um ato de indiferença ao tentar realizar a ultrapassagem.

68 Por ter dirigido o microônibus com CNH de categoria inferior à requerida, Lúcio cometeu infração gravíssima, passível de punição com multa e de aplicação das medidas administrativas de retenção do veículo e suspensão do direito de dirigir.


69 É correto afirmar que, em algum momento, o microônibus trafegou em velocidade superior a 90 km por hora.

70 Ao dirigir sem usar o cinto de segurança, Lúcio cometeu infração que, embora seja considerada grave, no caso dele será considerada gravíssima, devido ao fato de ele estar conduzindo um veículo de transporte de passageiros.

71 Tendo em vista que Lúcio cometeu mais de uma infração, é correto afirmar que ele será autuado apenas pela infração de maior gravidade.

72 Se, em algum trecho da rodovia citada no texto, houvesse



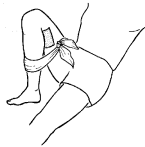
sinalização vertical com a placa , Lúcio deveria interpretá-la como um alerta a respeito da existência de uma condição adversa da via, pois essa é uma placa de sinalização de advertência que significa Pista irregular.

73 Embora não tenha cometido infração por dirigir sob chuva sem ligar os limpadores de pára-brisa do microônibus, Lúcio desobedeceu às recomendações de direção defensiva.

74 O simples fato de Lúcio ter fugido do local sem prestar socorro às vítimas, embora estivesse apto a fazê-lo, caracterizou o cometimento de um crime de trânsito, passível de punição com pena de detenção, de seis meses a um ano, ou multa.

Considere que, entre os passageiros que se acidentaram na situação descrita no texto, Júlia assustou-se com a possibilidade do acidente e desmaiou; Alexandre, que, no início dos solavancos, fazia algumas anotações, foi projetado para frente e feriu-se com uma caneta, que se encravou no seu abdome; Lílian teve um de seus olhos ferido por um líquido removedor (acetona) que ela então usava para remover esmalte de suas unhas; Cláudia sofreu uma fratura no braço esquerdo e Paulo foi vítima de fratura fechada (sem projeção de osso para o meio exterior) na perna direita. Em face dessas considerações e sabendo que a prestação de primeiros socorros às vítimas da ocorrência relatada no texto foi feita por alguns dos passageiros que não se feriram e que não eram especialistas em primeiros socorros, julgue os itens que se seguem.

- 75** Como primeira providência no atendimento às vítimas, o socorrista deveria ter oferecido a elas algum líquido para beber — água ou suco — e, assim, ajudá-las a se acalmarem.
- 76** Mesmo havendo risco de uma eventual contaminação, o socorrista não deveria desencravar a caneta do abdome de Alexandre.
- 77** No atendimento a Lílian, o socorrista deveria lavar bem o olho lesionado e enxugá-lo vigorosamente, para ter certeza da remoção de toda a acetona.
- 78** Para imobilizar o braço fraturado de Cláudia, seria correto o emprego de uma tábua.
- 79** Para a imobilização da perna de Paulo, o procedimento mostrado na figura abaixo, além de ser incorreto, poderia agravar a lesão.



- 80** Caso um dos passageiros sofresse uma convulsão epiléptica, o socorrista deveria procurar manter esse passageiro deitado e proteger-lhe a cabeça contra eventuais impactos, mas deveria evitar contato de suas mãos com a baba que escorresse da boca da vítima, para não haver risco de contágio.

Nos locais de trabalho, existem agentes que podem ser agressivos aos trabalhadores se não forem adequadamente identificados e se medidas de higiene e segurança não forem tomadas, tanto no âmbito pessoal quanto coletivo. Tendo como referência essas informações, julgue os itens seguintes.

- 81** O uso de uniforme de trabalho fornecido pela empresa é uma medida de higiene de ordem pessoal.
- 82** O ruído no ambiente de trabalho é um agente químico que pode causar danos ao sistema auditivo do trabalhador.
- 83** Os gases liberados pelo escapamento de um veículo são classificados como agente biológico.
- 84** As bactérias presentes em esgotos são classificadas como agentes físicos.

A respeito de prevenção e acidente do trabalho, julgue os itens a seguir.

- 85** Se um empregado for ao trabalho de ônibus e, no percurso entre o ponto de ônibus e a empresa, torcer o pé em um buraco na calçada, e isso acarretar seu afastamento do trabalho por 3 dias, esse acontecimento não se equiparará a acidente de trabalho.
- 86** Os acidentes do trabalho podem causar prejuízos financeiros e econômicos para a empresa.
- 87** Segurança do trabalho é um conjunto de medidas adotadas para se prevenir acidentes do trabalho.

Um motorista, após estacionar o veículo que dirigia e que estava carregado com material de escritório, percebeu fumaça e vapores saindo da frente desse veículo. Ao levantar o capô para verificar do que se tratava, óleo aquecido atingiu seu braço direito, provocando-lhe queimaduras de segundo grau. Em decorrência do susto causado pela queimadura, o motorista caiu e sofreu entorse no pé esquerdo. Uma equipe de socorro foi solicitada e, logo após prestar os primeiros socorros, levou-o ao serviço médico.

Tendo como referência a situação descrita acima, julgue os itens a seguir.

- 88** Quanto ao grau de lesão, as queimaduras classificam-se em primeiro, segundo e terceiro graus, sendo a queimadura de primeiro grau a mais grave das três.
- 89** São chamados de primeiros socorros os auxílios imediatos prestados à vítima antes do atendimento médico.
- 90** O entorse sofrido pelo motorista pode ter sido provocado por movimento brusco do seu membro inferior.

Com relação à cidadania, julgue os seguintes itens.

- 91** Respeitar as pessoas é uma atitude cidadã.
- 92** O termo cidadania engloba tanto direitos quanto deveres dos indivíduos.
- 93** O exercício da cidadania relaciona-se à busca individual por uma vida melhor, sem preocupação com a vida do outro, pois melhorar a vida da comunidade é dever exclusivo do governo.
- 94** Votar e ser votado são formas de se exercer a cidadania.
- 95** É desnecessário que o cidadão faça valer os seus direitos para que surja a cidadania.

Julgue os itens a seguir, acerca de relações humanas.

- 96** Para ser considerada uma relação humana, a interação entre duas pessoas deve ser harmoniosa.
- 97** Características individuais influenciam as relações humanas.
- 98** Buscar compreender a outra pessoa é saber se comunicar.
- 99** Nas discussões entre as pessoas, não se devem considerar os sentimentos envolvidos, de forma que os problemas sejam enfrentados de maneira objetiva e, com isso, solucionados de um modo eficaz.
- 100** A forma de se falar com o outro pode provocar dificuldades nos relacionamentos.



cespeUnB

Centro de Seleção e de Promoção de Eventos