

AUDITOR DE CONTROLE INTERNO – ENGENHARIA CIVIL **LEIA ATENTAMENTE AS INSTRUÇÕES ABAIXO:**

- É responsabilidade exclusiva do candidato a conferência de seus dados pessoais, impressos no Cartão de Respostas e no Caderno de Provas, em especial o nome, o número de inscrição, o número de seu documento de identidade, cargo pleiteado, assim como, a marcação e assinatura do seu Cartão de Respostas.
- Verifique se este caderno de prova contém **50** questões. Com cinco alternativas identificadas pelas letras **A, B, C, D e E** das quais apenas uma será a resposta correta.
- Preencha o Cartão de Respostas da prova objetiva utilizando caneta esferográfica azul ou preta, ocupando totalmente o campo de marcação, ao lado dos números, que corresponde à resposta correta. Conforme ilustração:

Atenção: Serão consideradas incorretas questões para as quais o candidato tenha preenchido no cartão resposta mais de uma opção, bem como questões em que o campo de marcação apresente rasuras, emendas ou que não esteja preenchido integralmente. Tenha muito cuidado para não danificar o código de barras utilizado na leitura óptica do Cartão de Respostas, por isso não **DOBRE, AMASSE ou MANCHE** o mesmo. O Cartão de Respostas será o único documento válido para a correção das provas objetivas, salvo à disposição do IDCAP.

- Os fiscais **NÃO** são autorizados a prestar informações de interpretação das questões. Sua função é apenas fiscalizar e orientar quanto ao funcionamento do certame.
- Ao concluir a prova, **entregue ao fiscal de sala o Cartão de Respostas da Prova Objetiva e Discursiva**, a não devolução implicará à eliminação sumária do candidato.
- **Assine a Lista De Presença, Cartão Resposta e transcreva a frase de segurança presente no Cartão Resposta da prova objetiva, sob pena de eliminação.**

 **NÃO SERÁ PERMITIDO:**

- Folhear o caderno de provas antes da autorização do fiscal. Caso aconteça, implicará na eliminação do candidato.
- Qualquer tipo de comunicação entre os candidatos durante a aplicação da prova.
- O uso de calculadoras, dicionários, telefones celulares, pen drive, fone de ouvido, relógio de qualquer espécie, recursos didáticos, aparelhos eletrônicos e bonés.
- A permanência de candidatos no local de realização das provas após o término e a entrega do Cartão de Respostas, devendo o candidato retirar-se imediatamente do local, não sendo possível nem mesmo a utilização dos banheiros e bebedouros.

 **TEMPO DE PROVA:**

- A prova objetiva e discursiva terá duração máxima de **4h e 30 min (quatro horas e trinta minutos)**, incluído o tempo para preenchimento do Cartão de Respostas.
- O candidato somente poderá retirar-se do local de prova **após 1 (uma) hora de seu início**.
- O candidato poderá **levar o caderno de provas 1 (uma) hora antes de seu término**. Antes desse horário, será permitido ao candidato levar apenas o **RECORTE DO RODAPÉ DA CAPA DA PROVA** (parte que contém espaço para preenchimento do gabarito).
- Os 3 (três) últimos candidatos somente poderão retirar-se da sala de prova simultaneamente e devem fazê-lo após a assinatura da ata de sala.

1	6	11	16	21	26	31	36	41	46
2	7	12	17	22	27	32	37	42	47
3	8	13	18	23	28	33	38	43	48
4	9	14	19	24	29	34	39	44	49
5	10	15	20	25	30	35	40	45	50

RASCUNHO

Língua Portuguesa

Questão 01

(Correta: A)

Leia atentamente as alternativas abaixo e assinale aquela que a supressão da vírgula não altera o sentido da oração:

- (A) Todas as manhãs, ele toma, tranquilamente, seu café.
- (B) Ele viu a mulher, com um telescópio.
- (C) Ajudei minha irmã, Ana.
- (D) Os alunos, que estudaram, passaram na prova.
- (E) Não, pode ir na casa deles.

Questão 02

(Correta: D)

Leia atentamente as alternativas abaixo e assinale aquela que não contenha erro de concordância verbal:

- (A) Bateu oito horas quando quando o técnico da internet chegou lá em casa.
- (B) Haviam alguns meninos pedindo dinheiro no sinal.
- (C) Fui eu que abriu o portão para o encanador entrar na obra.
- (D) Faz muitos anos que não vejo o meu irmão.
- (E) Haviam muitos candidatos ansiosos na porta da escola.

Questão 03

(Correta: A)

Leia atentamente as alternativas abaixo e assinale aquela que possua um erro de concordância:

- (A) Do mercado ao restaurante é duzentos metros.
- (B) A maioria dos entraves foram solucionados.
- (C) Deve haver boas razões para a sua ausência.
- (D) Boa parte dos cientistas acha inviável uma solução imediata.
- (E) Nem uma nem outra camisa é do meu agrado.

Questão 04

(Correta: C)

Leia as alternativas abaixo atentamente e assinale aquela com a regência correta:

- (A) O show fora assistido por toda a população local.
- (B) Eu juro que não lhe vi por estes dias.
- (C) O ideal a que visavam os romanos era a perfeição do corpo.
- (D) Sempre remunero pontualmente meus empregados.
- (E) Levei cinco anos para chegar a médico.

Questão 05

(Correta: D)

Leia com atenção as colunas abaixo:

Coluna 01

(___) Entregou todo o dinheiro que tinha aquela rapaz deitado no chão.

(___) João e Maria saíram a procura da casa de doces.

(___) A legislação trabalhista se aplica a pessoas que vivem qualquer relação de trabalho.

(___) As séries, as quais acompanho, costumam ter episódios de até trinta minutos.

Coluna 02

I. Com crase.

II. Sem crase.

Correlacione ambas as colunas de forma a indicar se o termo em destaque nas afirmativas na Coluna 01 devem ter o emprego de crase ou não:

(A) I > I > I > I.

(B) II > II > II > II.

(C) II > I > I > II.

(D) I > I > II > I.

(E) II > II > I > I.

Questão 06

(Correta: D)

Leia atentamente o período a seguir:

É possível que ainda ____ (I) vagas no curso de licenciatura, mas não ____ (II) muitas pessoas interessadas no curso.

Assinale a alternativa que preenche corretamente as lacuna:

(A) I - hajam, II - existe.

(B) I - haja, II - existe.

(C) I - hajam, II - existem.

(D) I - haja, II - existem.

(E) I - há, II - existe.

Questão 07

(Correta: A)

Analise a sentença a seguir:

Informamos ____ (I) Vossa Excelência que enviamos ____ (II) intimação ____ (III) Oficial de Justiça que está apta ____ (IV) atender o requerimento.

Assinale a alternativa que preencha corretamente as lacunas:

(A) a, a, à, a.

(B) à, a, à, à.

- (C) à, a, à, a.
- (D) à, à, a, à.
- (E) a, à, a, à.

Questão 08

(Correta: C)

Leia atentamente as alternativas abaixo e assinale aquela que possui erro de regência:

- (A) Nós informamos aos participantes sobre a mudança de horário.
- (B) Eu somente pude assistir ao filme ontem à noite.
- (C) Informo-lhe que vou viajar no próximo feriado.
- (D) Eles se referiram ao incidente com grande pesar.
- (E) Ela perdoou ao amigo pelo erro cometido.

Questão 09

(Correta: D)

Leia atentamente as alternativas abaixo e assinale aquela em que a vírgula é empregada para separar dois termos com a mesma função na frase:

- (A) Depois da mudança de Joaquim, aluguei o seu quarto.
- (B) Não obstante a crise econômica, a pandemia surgiu.
- (C) Juro que não cometi nenhum destes atos descritos, Excelência.
- (D) Mostrei para o inquilino os quartos, o banheiro e a cozinha.
- (E) Respeitável público, peço a atenção de todos.

Questão 10

(Correta: D)

Observe as alternativas e assinale a que não contiver erro em relação à crase:

- (A) Fui à Salvador provar um acarajé à moda da região.
- (B) Sem dúvida que, com os óculos escuros, ele enxergaria melhor, aquela hora do dia.
- (C) Àquela velocidade, os cavalos não poderiam parar; não obedeceram as instruções dos cavaleiros.
- (D) Dirigia-se com respeito aos idosos, carinho às crianças e, com cortesia, a várias pessoas conhecidas.
- (E) Escrevia a prova inteira à lápis para depois escrevê-la à caneta.

Informática Básica

Questão 11

(Correta: E)

Analise as alternativas a seguir e assinale aquela que não possui como principal funcionalidade a busca e indexação de informações na web:

- (A) Yahoo!.
- (B) Duck Duck Go.
- (C) Kompass.
- (D) Bing.
- (E) Google Meet.

Questão 12

(Correta: B)

No que se refere aos aplicativos Microsoft Office, analise as proposições abaixo:

I.O Microsoft Excel é uma ferramenta de planilha eletrônica voltada para a manipulação de dados numéricos, cálculos, gráficos e análises, sendo possível utilizá-lo como um processador ou editor de textos.

II.O Microsoft Word é um processador de texto utilizado para criar e editar documentos de texto, usualmente voltado para apresentações visuais.

III.O Microsoft PowerPoint é uma ferramenta usada para criar apresentações visuais, como slideshows, é também voltado para criação de tabelas e funções de cálculos matemáticos.

Após sua análise assinale a alternativa correta:

- (A) Apenas a proposição III está correta.
- (B) Apenas a proposição I está correta.
- (C) Apenas as proposições II e III estão corretas.
- (D) Apenas a proposição II está correta.
- (E) Apenas as proposições I e II estão corretas.

Questão 13

(Correta: B)

Com base no sistema operacional Windows, associe os termos apresentados na coluna 1 com seu conteúdo correspondente apresentado na Coluna 2:

Coluna 1:

1. Pasta ou Diretório.
2. Área de Trabalho ou Desktop.
3. Fazer Logoff.

Coluna 2:

A.Ambiente gráfico adequado ao usuário, onde ele possa abrir algumas janelas de programas e efetuar operações básicas sobre as janelas abertas e sobre o ambiente em si.

B.Estrutura utilizada para organizar arquivos em um computador ou um arquivo que contém referências a outros arquivos.

C.Todos os programas do usuário atual serão fechados, e só depois aparece a janela para escolha do usuário.

Em seguida assinale a alternativa que apresenta a associação correta:

- (A) 1A, 2C, 3B
- (B) 1B, 2A, 3C
- (C) 1B, 2C, 3A
- (D) 1C, 2B, 3A
- (E) 1C, 2A, 3B

Questão 14

(Correta: B)

Escolha a opção que NÃO se qualifica como uma biblioteca padrão do sistema operacional Windows:

- (A) Músicas.
- (B) OneDrive.
- (C) Vídeos.
- (D) Imagens.
- (E) Documentos.

Questão 15

(Correta: B)

Os equipamentos de rede são hardwares, dispositivos físicos necessários para a comunicação entre os computadores de uma organização. Após devidamente conectados, eles formam uma infraestrutura de rede, julgue as seguintes afirmações como verdadeiras (V) ou falsas (F):

(__)O roteador é um equipamento presente na maioria das residências que possuem conexão com a internet utilizados para expandir o alcance de um sinal de conexão sem fio.

(__)Os cabos são equipamentos básicos de uma rede.

(__)O switch armazena os registros dos dispositivos da rede e transfere pacotes de dados apenas para os que estiverem selecionados.

Em seguida assinale a alternativa cuja ordem de julgamento de cima para baixo esteja correta:

- (A) F – V – F.
- (B) F – V – V.
- (C) V – F – V.
- (D) F – F – F.
- (E) V – V – V.

Raciocínio lógico

Questão 16

(Correta: D)

Dadas as proposições:

P: Gustavo é advogado.

Q: Gustavo é rico.

Qual das opções dadas abaixo traz a negação de (P e Q)?

- (A) Gustavo é advogado ou não é rico.
- (B) Gustavo não é advogado e não é rico.
- (C) Gustavo é advogado e não é rico.
- (D) Gustavo não é advogado ou não é rico.
- (E) Gustavo não é advogado ou é rico.

Questão 17

(Correta: E)

Nadir fez uma brincadeira com seus sobrinhos colocando 5 papéis escritos bombom e 3 escritos bala, para que eles pudessem sortear e ganhar um pacotinho do doce que estava escrito. Se quando chegou a vez de Sávio já haviam saído 2 de bombom e 1 de bala, qual é a probabilidade de ele não ganhar bombons?

- (A) A probabilidade de ele não ganhar bombom é de 32%.
- (B) A probabilidade de ele não ganhar bombom é de 17%.
- (C) A probabilidade de ele não ganhar bombom é de 64%.
- (D) A probabilidade de ele não ganhar bombom é de 25%.
- (E) A probabilidade de ele não ganhar bombom é de 40%.

Questão 18

(Correta: D)

Qual das alternativas abaixo cita uma proposição composta?

- (A) Hugo não sabe o que quer, mas é feliz.
- (B) Aqueles alunos são dedicados.
- (C) Judite é uma mulher exemplar.
- (D) Carina é dedicada e assídua.
- (E) Todas as crianças gostam de sorvete.

Questão 19

(Correta: B)

Uma empresa de telemarketing constatou que 35 funcionários desenvolveram problemas de audição, 46 desenvolveram problemas nas cordas vocais, 17 desenvolveram problemas de audição e nas cordas

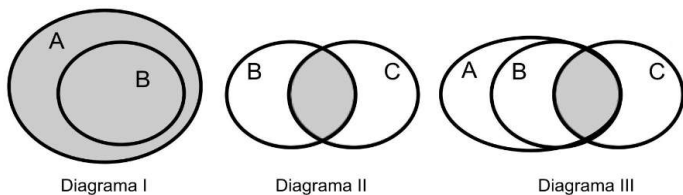
vocais e 26 não têm problema nenhum. Quantos funcionários tem essa empresa?

- (A) Essa empresa tem 134 funcionários.
- (B) Essa empresa tem 90 funcionários.
- (C) Essa empresa tem 97 funcionários.
- (D) Essa empresa tem 68 funcionários.
- (E) Essa empresa tem 112 funcionários.

Questão 20

(Correta: D)

Considere três conjuntos: A, B e C e os diagramas lógicos abaixo com suas representações.



- Diagrama I: $A \cup B$ (união de A e B)

- Diagrama II: $B \cap C$ (interseção de B e C)

Qual das alternativas abaixo representa o Diagrama III?

- (A) $B \cup (C \cap A)$
- (B) $B \cap (A \cup C)$
- (C) $A \cup B \cup C$
- (D) $A \cap (B \cap C)$
- (E) $A \cup (B \cap C)$

LEGISLAÇÃO E ÉTICA NA ADMINISTRAÇÃO PÚBLICA

Questão 21

(Correta: D)

Consoante o disposto na Lei Orgânica, analise as afirmativas abaixo, classificando-as como Verdadeiras (V) ou Falsas (F):

(__) Leis de iniciativa do Poder Executivo estabelecerão: I. O plano Plurianual; II. As diretrizes orçamentárias; e III. os orçamentos anuais.

(__) A lei que instituir o plano plurianual estabelecerá as diretrizes, objetivos e metas da administração municipal para as despesas de capital e outras delas decorrentes e para as relativas aos programas de duração continuada.

(__) A lei de diretrizes orçamentárias compreenderá as metas e prioridades da administração pública federal, estabelecerá as diretrizes de política fiscal e respectivas metas, em consonância com trajetória sustentável da dívida pública, orientará a elaboração da lei orçamentária anual, disporá sobre as alterações na legislação tributária e estabelecerá a política de aplicação das agências financeiras oficiais de fomento.

(__) A lei orçamentária anual compreenderá, dentre outros, o orçamento fiscal referente aos Poderes do Município, seus fundos, órgãos e entidades da administração direta e indireta, inclusive fundações instituídas e mantidas pelo Poder Público.

Assinale a alternativa que contém a sequência CORRETA, de cima para baixo:

- (A) F, F, F, F
- (B) F, V, V, F
- (C) F, V, F, F
- (D) V, V, V, V
- (E) V, F, F, V

Questão 22

(Correta: B)

Com base na Lei Municipal nº 2.898/2006, que dispõe sobre o Estatuto dos Servidores Públicos da Administração Direta, Autárquica e Fundacional do Município de Aracruz, relacione corretamente a Coluna 1 com a coluna 2:

Coluna 1

- (1) Promoção
- (2) Reversão
- (3) Recondução
- (4) Reintegração

Coluna 2

(__) É a re- investidura do servidor concursado no cargo anteriormente ocupado ou no cargo resultante de sua transformação, quando invalidada a sua demissão por

decisão administrativa ou judicial, com ressarcimento de todas as vantagens e reconhecimento dos direitos inerentes ao cargo.

() É a elevação do servidor à classe imediatamente superior àquela a que pertence, na mesma carreira, desde que comprovada, mediante avaliação prévia, sua capacidade para o exercício das atribuições da classe correspondente.

() É o retorno à atividade de servidor aposentado por invalidez quando declarados, por junta médica oficial, insubsistentes os motivos determinantes da aposentadoria.

() É o retorno do servidor estável ao cargo anteriormente ocupado.

Assinale a alternativa que contém a sequência CORRETA, de cima para baixo:

- (A) 3, 1, 4, 2
- (B) 4, 1, 2, 3
- (C) 2, 4, 3, 1
- (D) 4, 2, 1, 3
- (E) 1, 3, 4, 2

Questão 23

(Correta: B)

Tendo como base a Lei Orgânica, assinale a alternativa INCORRETA:

- (A) É vedado ao Município utilizar tributo com efeito de confisco.
- (B) É legal a cobrança de taxas nos casos de obtenção de certidão especificamente para fins de defesa de direitos e esclarecimentos de situações de interesse pessoal.
- (C) É vedado ao município cobrar tributos, em relação a fatos geradores ocorridos antes do início da vigência da lei que os houver instituído ou aumentado.
- (D) É vedado ao Município cobrar taxas nos casos de petição em defesa de direitos ou contra ilegalidade ou abuso de poder.
- (E) É vedado ao Município instituir impostos sobre patrimônio, renda ou serviços da União e do Estado.

Questão 24

(Correta: C)

Extinto o cargo ou declarada a sua desnecessidade, o servidor estável ficará _____, com remuneração _____.

Assinale a opção que completa CORRETA e RESPECTIVAMENTE as lacunas, de acordo com o art. 62 da Lei Municipal nº 2.898/2006:

- (A) Em licença para tratar de interesse particulares – integral.
- (B) Em licença remunerada – integral.

(C) Em disponibilidade – proporcional ao tempo de serviço.

(D) Transferido de cargo – proporcional ao novo enquadramento.

(E) Afastado cautelarmente – proporcional ao tempo de serviço.

Questão 25

(Correta: A)

Com base no Decreto nº 1.171/94, que aprova o Código de Ética Profissional do Servidor Público Civil do Poder Executivo Federal, analise as proposições abaixo:

I.A remuneração do servidor público é custeada pelos tributos pagos direta ou indiretamente por todos, até por ele próprio, e por isso se exige, como contrapartida, que a moralidade administrativa se integre no Direito, como elemento indissociável de sua aplicação e de sua finalidade, erigindo-se, como consequência, em fator de legalidade.

II.Toda ausência injustificada do servidor de seu local de trabalho é fator de desmoralização do serviço público, o que quase sempre conduz à desordem nas relações humanas.

III.A função pública deve ser tida como exercício profissional e, portanto, se integra na vida particular de cada servidor público. Assim, os fatos e atos verificados na conduta do dia-a-dia em sua vida privada poderão crescer ou diminuir o seu bom conceito na vida funcional.

IV.A dignidade, o decoro, o zelo, a eficácia e a consciência dos princípios morais são primados maiores que devem nortear o servidor público, seja no exercício do cargo ou função, ou fora dele, já que refletirá o exercício da vocação do próprio poder estatal. Seus atos, comportamentos e atitudes serão direcionados para a preservação da honra e da tradição dos serviços públicos.

Assinale a alternativa CORRETA:

- (A) As afirmativas I, II, III e IV estão corretas.
- (B) Somente as afirmativas II e IV estão corretas.
- (C) As afirmativas I, II, III e IV estão incorretas.
- (D) Somente a afirmativa IV está correta.
- (E) Somente as afirmativas I, III e IV estão corretas.

Questão 26

(Correta: B)

Acerca do conceito de democracia, analise as proposições abaixo:

I.A palavra democracia deriva de dois termos latinos: "demos" (povo) e "kratos" (poder), significando, em síntese, o poder do povo.

II.Em um Estado democrático, o poder deve emanar do povo. No Brasil, o princípio democrático está insculpido na Constituição Federal e é exercido pelo povo de forma

indireta, por meio de representantes eleitos, ou diretamente, nos casos de plebiscitos ou referendos, por exemplo.

III.A democracia é permeada por valores e princípios fundamentais, tais como: liberdades de expressão e opinião; liberdade de eleição e de voto; acesso à justiça; igualdade de condições e direitos, dentre outros.

Estão CORRETAS:

- (A) Apenas III.
- (B) Apenas II e III.
- (C) Apenas I.
- (D) Apenas I e II.
- (E) I, II e III.

Questão 27

(Correta: A)

São deveres fundamentais do servidor público, conforme previsto no Decreto nº 1.171/94:

- (A) Manter limpo e em perfeita ordem o local de trabalho, seguindo os métodos mais adequados à sua organização e distribuição.
- (B) Dificultar a fiscalização de todos atos ou serviços por quem de direito.
- (C) Retardar prestação de contas, usando de artifícios para procrastinar ou dificultar o exercício regular de direito por qualquer pessoa.
- (D) Exercer sua função, poder ou autoridade com finalidade estranha ao interesse público.
- (E) Omitir dos integrantes da sua classe sobre a existência deste Código de Ética, estimulando o seu integral cumprimento.

Questão 28

(Correta: D)

Ética pode ser definida como o conjunto de princípios que norteiam a conduta das pessoas na vida em sociedade. Assim, uma pessoa deve ter consciência do que é bom ou mau, honesto ou desonesto, desejável ou indesejável. Dentro da Administração Pública, a atuação dos servidores deve sempre levar em consideração o que é ético. Consideram-se condutas éticas dentro do serviço público, EXCETO:

- (A) Conservar a os equipamentos, cuja guarda lhe fora confiada.
- (B) Utilizar os materiais e recursos públicos de forma racional.
- (C) Preservar o sigilo de informações confidenciais a que tenha acesso em função do cargo.
- (D) Utilizar-se do cargo para obter vantagem pessoal.
- (E) Zelar pelo interesse público em todos os atos praticados.

Questão 29

(Correta: D)

Joaquina, servidora pública municipal, foi procurada por Maria, que precisava emitir alvará para funcionamento de um estabelecimento comercial. Ciente de que seu estabelecimento não preencheria as normas para a emissão do respectivo documento, Maria ofereceu dinheiro para que Joaquina fizesse vistas grossas às irregularidades e aprovasse a autorização.

Nesse caso hipotético, levando em consideração os preceitos da Ética no Serviço Público, qual atitude se espera de Joaquina:

- (A) Joaquina deverá aceitar o dinheiro, que será integralmente revertido para o órgão em que trabalha, devendo a autorização ser fornecida mediante a assinatura de termo de compromisso de regularização, juntamente com recibo de quitação.
- (B) Joaquina não poderá aceitar o dinheiro, mas poderá autorizar o funcionamento, ainda que as irregularidades não sejam sanadas.
- (C) Joaquina poderá aceitar o dinheiro oferecido, eis que se configura uma doação, mas não poderá autorizar o funcionamento do estabelecimento sem a correção das irregularidades.
- (D) Joaquina deverá recusar qualquer vantagem pecuniária, levando o caso ao conhecimento das autoridades competentes para responsabilização de Maria.
- (E) Joaquina poderá aceitar o dinheiro e deverá autorizar o funcionamento, já que pega pelo serviço, ainda que as irregularidades persistam.

Questão 30

(Correta: E)

Com relação aos afastamentos, de acordo com o que dispõe a Lei Municipal nº 2.898/2006, assinale a alternativa CORRETA:

"Art. 78 *Sem qualquer prejuízo, poderá o servidor ausentar-se do serviço:*"

- (A) Para amamentar seu filho menor de 12 (doze) meses.
- (B) por 5 (cinco) dias úteis, em razão do falecimento de avô, avó, padrasto, madrasta, genro e nora, sogro e sogra, contados da data do óbito.
- (C) por 1 (um) dia, em cada 3 (três) meses, para doação de sangue.
- (D) por 10 (dez) dias consecutivos, em razão de falecimento de cônjuge, convivente, pais, filhos, enteados, menor adotado, sob sua tutela ou guarda judicial e irmãos, contados da data do óbito.
- (E) Para tratar de assuntos de seu interesse pessoal, sendo abonadas até seis faltas, em cada ano civil, desde que o mesmo não tenha, no exercício anterior, nenhuma falta injustificada.

Conhecimentos Específicos

Questão 31

(Correta: A)

Com base no entendimento doutrinário e legal acerca da classificação dos bens públicos, identifique a alternativa que melhor define a natureza e característica de um determinado tipo de bem:

- (A) Os bens de uso comum, como praias e praças, estão à disposição de todos, podendo ser desfrutados de forma equitativa e geralmente gratuita, sem discriminação ou restrições indevidas.
- (B) Os bens de uso especial, tais como prédios públicos, podem ser utilizados para quitar dívidas judiciais e servir como garantia, mantendo tal status.
- (C) Os bens de uso comum são exclusivos de seu titular, podendo ser vendidos ou transferidos livremente, desde que mantenham essa classificação.
- (D) Bens pertencentes a empresas estatais que prestam serviços públicos não aderem ao regime jurídico que se aplica aos bens de uso especial.
- (E) Os bens dominicais, mesmo quando alienados a outro órgão público, estão sempre sujeitos a licitação, sem exceções para programas habitacionais ou regularizações fundiárias.

Questão 32

(Correta: E)

Acerca dos tipos de tributos, julgue as seguintes afirmações como verdadeiras (V) ou falsas (F).

() O Imposto sobre Produtos Industrializados (IPI) é um tributo estadual.

() O Imposto sobre a Propriedade Predial e Territorial Urbana (IPTU) é um tributo municipal.

() O Imposto sobre Circulação de Mercadorias e Serviços (ICMS) é um tributo direto.

Assinale a alternativa cuja ordem de julgamento de cima para baixo esteja correta:

- (A) F – V – V
- (B) V – F – F.
- (C) F – F – F.
- (D) V – F – V.
- (E) F – V – F.

Questão 33

(Correta: E)

No que tange a acessibilidade nas edificações as dimensões da área de manobra sem deslocamento quando executado uma manobra de 90° é de:

- (A) 250cm x 250cm.
- (B) 120cm x 150cm.
- (C) 90cm x 120cm.

(D) 150cm x 150cm.

(E) 120cm x 120cm.

Questão 34

(Correta: E)

Um pilar de concreto armado com seção transversal de 20x20cm sujeito a uma carga de compressão cálculo de 1000 kN deve possuir X cm² de área de aço, no mínimo. Sabendo que o pilar será armado com aço CA-50, então o valor de X é:

- (A) 0,40.
- (B) 1,60.
- (C) 1,25.
- (D) 4,00.
- (E) 3,45.

Questão 35

(Correta: C)

De acordo com o COSO II, com base na missão ou visão estabelecida por uma organização, a administração estabelece os planos principais, seleciona as estratégias e determina o alinhamento dos objetivos nos níveis da organização. Essa estrutura de gerenciamento de riscos é orientada a fim de alcançar os objetivos de uma organização que são classificados em quatro categorias:

- (A) Operações, Conformidade, Eficiência e Independência.
- (B) Estratégicos, Conformidade, Comunicação e Eficiência.
- (C) Estratégicos, Operações, Comunicação e Conformidade.
- (D) Estratégicos, Comunicação, Eficácia e Conformidade.
- (E) Operações, Comunicação, Independência e Eficácia.

Questão 36

(Correta: E)

Em uma construção térrea, na fase das fundações, o engenheiro orçamentista levantou a composição abaixo para execução de 1,00 m² de formas com tábuas para as fundações. O BDI praticado é de 30% e as leis sociais são de 100%, julgue as seguintes afirmações como verdadeiras (V) ou falsas (F).

Forma com tábuas de construção para fundação por m²:

*As informações são respectivamente: Unidade - Quantidade - Unitário

- Carpinteiro - h - 1,5 - 10
- Ajudante de carpinteiro - h - 1,5 - 8
- Sarrafo de tábua de 3A - 1"x 4" - m - 0,5 - 6
- Tábua de construção 3A - 1"x 12 - m² - 1 - 18
- Pregos (média das bitolas) - Kg - 0,15 - 20

- Desmoldante para formas - L - 0,4 - 5

(__)O custo total para execução de 30 m² de formas com tábuas é de R\$ 3120,00.

(__)Para executar deste serviço o custo da mão de obra corresponde a aproximadamente 50,90% do custo total.

(__)O custo unitário da mão de obra sem leis sociais para execução de 1 m² de formas é de R\$ 27,00.

Assinale a alternativa cuja ordem de julgamento de cima para baixo esteja correta:

- (A) V – F – F.
- (B) V – V – F.
- (C) F – V – F.
- (D) F – F – V.
- (E) V – F – V.

Questão 37

(Correta: C)

Um sistema de bombeamento com duas bombas idênticas de rendimento de 80% ligadas em paralelo recalcam, juntas, uma vazão de 12 litros por segundo a uma altura total de elevação de 40 m. A potência de cada bomba é de cerca de:

- (A) 1,5 kW.
- (B) 0,5 kW.
- (C) 3 kW.
- (D) 2 kW.
- (E) 1 kW.

Questão 38

(Correta: B)

O controle social na administração pública é uma prática importante para promover a transparência, a eficiência e a accountability (responsabilização) dos órgãos governamentais. Qual das seguintes alternativas descreve corretamente uma forma de exercício do controle social:

- (A) Apenas órgãos governamentais têm o poder de fiscalizar as ações da administração pública.
- (B) A sociedade civil organizada e os cidadãos podem participar de audiências públicas, conselhos, conferências e manifestações para influenciar a formulação e implementação de políticas públicas.
- (C) Os cidadãos têm o direito de participar ativamente das decisões governamentais por meio de eleições, mas não podem influenciar diretamente as políticas públicas.
- (D) O controle social envolve apenas a fiscalização das contas públicas por órgãos de auditoria interna do governo.

(E) O controle social é restrito a profissionais de auditoria e contabilidade, excluindo a participação dos cidadãos comuns.

Questão 39

(Correta: B)

Uma viga bi-apoiada de concreto armado de seção 20x40cm com 5 metros de vão está suportando seu peso próprio mais o carregamento distribuído de alvenaria. A alvenaria possui altura de 2,5 metros e 10 cm de espessura. Sabendo que o peso específico dessa viga é de 2,5g/cm³ e que o peso específico da alvenaria é de 1,6 g/cm³, então o esforço cortante máximo experimentada por esta viga é de:

- (A) 30 kN.
- (B) 15 kN.
- (C) 45 kN.
- (D) 20 kN.
- (E) 10 kN.

Questão 40

(Correta: A)

Uma auditoria de conformidade é um processo sistemático para obter e avaliar objetivamente evidência quanto se um determinado objeto está em conformidade com as normas aplicáveis identificadas como critérios. Os princípios gerais são fundamentais para a condução de uma auditoria de conformidade, nesse contexto, analise as proposições abaixo.

I. Julgamento, devido zelo e ceticismo profissionais: os auditores devem manter comportamento profissional apropriado, aplicando ceticismo profissional e julgamento profissional e exercendo o devido zelo ao longo de toda a auditoria.

II. Gestão de equipes de auditoria e habilidades: os auditores devem estabelecer uma comunicação eficaz durante todo o processo de auditoria.

III. Documentação: os auditores devem considerar a materialidade durante todo o processo de auditoria.

É CORRETO afirmar que:

- (A) Apenas a proposição I está correta.
- (B) Apenas as proposições I e II estão corretas.
- (C) Apenas a proposição III está correta.
- (D) Apenas a proposição II está correta.
- (E) Apenas as proposições II e III estão corretas.

Questão 41

(Correta: A)

Com relação aos Direitos e Garantias Fundamentais da Constituição da República Federativa do Brasil de 1988, julgue as seguintes afirmações como verdadeiras (V) ou falsas (F).

() É livre a expressão da atividade intelectual, artística, científica e de comunicação, independentemente de censura ou licença.

() Todos têm direito a receber dos órgãos públicos informações de seu interesse particular, ou de interesse coletivo ou geral, que serão prestadas no prazo da lei, sob pena de responsabilidade, inclusive aquelas cujo sigilo seja imprescindível à segurança da sociedade e do Estado.

() É plena a liberdade de associação para fins lícitos, permitida a de caráter paramilitar.

Assinale a alternativa cuja ordem de julgamento de cima para baixo esteja correta:

- (A) V – F – F.
- (B) F – V – V.
- (C) F – F – F.
- (D) V – V – V.
- (E) V – F – V.

Questão 42

(Questão anulada)

Considere o cronograma físico abaixo com os custos percentuais referente à uma construção térrea orçada em R\$ 500.000,00 e ainda em fase de construção. O percentual executado da obra, financeiramente, até o final do mês 6 foi de:

- (A) 54,5%.
- (B) 49,5%.
- (C) 72,5%.
- (D) 63,5%.
- (E) 35,2%

Questão 43

(Correta: A)

No que tange aos domínios de deformações de uma seção transversal dos elementos lineares de concreto armado sujeitos a solicitações normais, para o dimensionamento no estado limite último, julgue as seguintes afirmações como verdadeiras (V) ou falsas (F).

() O domínio 3 é caracterizado pela flexão simples (seção subarmada) ou composta com ruptura à compressão do concreto e com escoamento do aço ($\epsilon_s \geq \epsilon_{yd}$);

() O domínio 4 é caracterizado flexão simples (seção superarmada) ou composta com ruptura à compressão do concreto e aço tracionado sem escoamento ($\epsilon_s < \epsilon_{yd}$).

() O domínio 2 é caracterizado pelo início do escoamento do aço, sem ruptura à compressão do concreto ($\epsilon_s < \epsilon_{yd}$).

Assinale a alternativa cuja ordem de julgamento de cima para baixo esteja correta:

- (A) V – V – V.
- (B) V – F – V.
- (C) F – V – F.
- (D) F – F – V.
- (E) V – F – F.

Questão 44

(Correta: E)

Um eletroduto deve ser dimensionado a fim de permitir que após a montagem os condutores possam ser instalados e retirados com facilidade. Para garantir essa condição, um eletroduto que receberá três condutores que, juntos, ocupam uma área de 50 mm², deve possuir área de seção transversal, de no mínimo:

- (A) 200 mm².
- (B) 100 mm².
- (C) 75 mm².
- (D) 150 mm².
- (E) 125 mm².

Questão 45

(Correta: E)

Associe os termos apresentados na coluna 1 com seu conteúdo correspondente apresentado na Coluna 2.

Coluna 1:

1. Princípio da Anualidade.
2. Princípio da Universalidade.
3. Princípio da Não-Afetação.

Coluna 2:

A. O orçamento deve ter vigência limitada a um exercício financeiro que precisa coincidir com o ano civil.

B. Todas as receitas e todas as despesas devem constar da lei orçamentária, não podendo haver omissão.

C. Nenhuma parcela da receita poderá ser reservada ou comprometida para atender a certos ou determinados gastos.

Assinale a alternativa que apresenta a associação correta:

- (A) 1B, 2C, 3A
- (B) 1C, 2A, 3B.
- (C) 1C, 2B, 3A.
- (D) 1A, 2C, 3B.
- (E) 1A, 2B, 3C.

Questão 46

(Correta: A)

Associe os termos apresentados na coluna 1 com seu conteúdo correspondente apresentado na Coluna 2.

Coluna 1:

- 1.União.
- 2.Estados.
- 3.Municípios.

Coluna 2:

A.Organizar e prestar, diretamente ou sob regime de concessão ou permissão, os serviços públicos de interesse local, incluído o de transporte coletivo, que tem caráter essencial.

B.Decretar o estado de sítio, o estado de defesa e a intervenção federal.

C.Explorar diretamente, ou mediante concessão, os serviços locais de gás canalizado, na forma da lei, vedada a edição de medida provisória para a sua regulamentação.

Assinale a alternativa que apresenta a associação correta:

- (A) 1B, 2C, 3A.
- (B) 1C, 2A, 3B.
- (C) 1A, 2C, 3B.
- (D) 1C, 2B, 3A.
- (E) 1B, 2A, 3C.

Questão 47

(Correta: C)

A avaliação de políticas públicas tem por finalidade examinar as intervenções públicas, sob diversos aspectos, e pode ser realizada por meio de diferentes metodologias, nesse contexto, analise as proposições abaixo.

I.A avaliação de desempenho dos servidores públicos é um tipo de avaliação que busca mensurar o cumprimento de metas e objetivos individuais no trabalho público.

II.A avaliação de impacto é um tipo de avaliação que analisa os resultados e efeitos de políticas públicas, programas e projetos sobre a população e a sociedade.

III.A avaliação de personalidade é uma técnica utilizada na administração pública para avaliar a personalidade dos servidores e sua adequação ao cargo que ocupam.

É CORRETO afirmar que:


- (A) Apenas a proposição I está correta.
- (B) Apenas a proposição II está correta.
- (C) Apenas as proposições I e II estão corretas.
- (D) Apenas as proposições I e III estão corretas.
- (E) Apenas a proposição III está correta.

Questão 48

(Correta: E)

Considere a estrutura de uma viga de fundação (alavanca) que recebe carga de 2 pilares (P1 e P2), e transmitem às sapatas (S1 e S2). O pilar P1 descarrega

sobre a viga alavanca uma carga de 50 kN enquanto que P2 descarrega 20 kN. A carga de P1 é excêntrica e está afastada 20 cm do eixo do apoio da sapata P1. O valor aproximado das reações nas sapatas S1 e S2, respectivamente:



- (A) 55,45kN e 14,55kN.
- (B) 55,45kN e 25,55kN.
- (C) 52,63kN e 22,63kN.
- (D) 65,45kN e 35,55kN.
- (E) 52,63kN e 17,36kN.

Questão 49

(Correta: B)

Em linhas enterradas de instalações elétricas de baixa tensão, como medida de prevenção contra os efeitos de movimentação de terra, os cabos devem ser instalados em profundidades adequadas e devem possuir elemento de advertência (geralmente fita colorida) indicando à proximidade da rede elétrica, para que se evite que a mesma seja acidentalmente danificada durante escavações. Estes elementos de advertência devem estar situados, no mínimo, a X centímetros acima da linha. O valor de X é:

- (A) 25.
- (B) 10.
- (C) 30.
- (D) 20.
- (E) 15.

Questão 50

(Correta: C)

Os atos administrativos estão sujeitos ao regime de Direito Público, por serem praticados no exercício de atribuições públicas; são elas manifestações ou declarações lavradas sempre nesse âmbito. O desfazimento do ato administrativo poderá ser resultado do reconhecimento de sua legitimidade, de vícios na sua formação, ou poderá simplesmente advir da desnecessidade de sua existência, nesse contexto, analise as proposições abaixo.

I.A cassação é a retirada do ato administrativo por ter sobrevindo norma superior que torna incompatível a manutenção do ato. O ato estava de acordo com a lei, mas sobreveio uma nova e ele ficou incompatível.

II.A anulação é a retirada do ato administrativo em decorrência da invalidade (ilegalidade) e poderá ser feita

pela Administração Pública (princípio da autotutela) ou pelo Poder Judiciário. Os efeitos são "ex tunc" (retroagem à origem do ato).

III.Revogação é a retirada do ato administrativo eficaz por seu beneficiário não mais desejar a continuidade dos seus efeitos. Só se destina aos atos ampliativos (atos que trazem privilégios).

É CORRETO afirmar que:

- (A) Apenas a proposição III está correta.
- (B) Apenas as proposições I e III estão corretas.
- (C) Apenas a proposição II está correta.
- (D) Apenas a proposição I está correta.
- (E) Apenas as proposições II e III estão corretas.

REDAÇÃO

LEIA ATENTAMENTE AS INSTRUÇÕES ABAIXO:

Conforme estabelecido em Edital, a prova discursiva consistirá em uma redação e deverá ser elaborada em estrutura dissertativo-argumentativa, com, no mínimo, 15 (quinze) linhas e, no máximo, 25 (vinte e cinco) linhas, com base em tema formulado pela Banca Examinadora, conforme conteúdo programático comum para todos os cargos.

Conforme previsto no edital de abertura, será atribuída nota **ZERO** à redação que:

- a) Não observar as orientações presentes no caderno de questões;
- b) Com quantidade de linhas inferior ao mínimo solicitado;
- c) Contiver assinatura, rubrica e/ou qualquer palavra e/ou marca que identifique o candidato;
- d) Apresentar textos sob forma não articulada verbalmente (apenas com desenhos, números e palavras soltas ou em versos);
- e) Estiver em branco;
- f) Fugir, integralmente, à tipologia textual de texto solicitada e/ou ao tema proposto;
- g) Apresentar qualquer sinal que, de alguma forma, possibilite a identificação do candidato;
- h) For escrita a lápis, em parte ou em sua totalidade;
- i) Apresentar letra ilegível e/ou incompreensível;
- j) Apresentar texto escrito com expressões injuriantes, discriminatórias e/ou abusivas.

Observe, ainda:

1. O rascunho da redação deverá ser feito no espaço apropriado. Seu preenchimento é facultativo, sendo assim, **NÃO** será avaliado;
2. O candidato **NÃO** poderá efetuar consulta a quaisquer fontes ou meios de consulta;
3. A Prova de redação deverá ser redigida de forma clara e sem rasuras pelo próprio candidato, à mão, em letra legível, com caneta esferográfica de tinta azul ou preta de material transparente;
4. A redação **NÃO** deverá apresentar cópia de questões da prova ou dos textos motivadores;
5. Ao concluir a prova, entregue ao fiscal de sala o cartão de respostas;
6. A Folha de Respostas Definitivas conterà um cartão numerado e destacável. Este cartão numerado será destacado pelo fiscal, conforme demarcação, e entregue ao candidato.

PROPOSTA:

Para produzir a sua redação, leia atentamente os textos motivadores apresentados a seguir:

TEXTO 1**Redes sociais e saúde mental: como a internet pode ajudar a desenvolver depressão e ansiedade**

Quando você acessa alguma das suas redes sociais, tem a sensação de que todos estão muito mais felizes do que você? A impressão, muitas vezes, é a de que as fotos e os vídeos postados refletem uma vida perfeita, quase inatingível, na qual as pessoas ali estão sempre bem consigo mesmas e se sentindo realizadas com o que fazem.

O problema é quando esse tipo de imagem acaba servindo de gatilho para quem está do outro lado da tela do celular. Ou seja, apenas observando essas “vidas perfeitas”. A pressão para conquistar esse estilo de vida é grande. E a positividade que envolve as redes sociais pode se mostrar muito mais tóxica do que benéfica ou inspiradora.

Para a psicóloga Luisa Bauke, essas postagens nas redes sociais podem provocar sentimentos de inadequação em algumas pessoas. Elas podem pensar que não fazem parte do padrão ou que são incapazes de alcançar coisas boas na vida. “Por mais que saibamos que a vida mostrada nas redes sociais não retrata 100% da vida real, muita gente cai nessa armadilha. Isso acontece principalmente quando a autoestima está abalada”, explica a psicóloga.

Segundo Bauke, perceber que todos ao redor vivem uma felicidade plena pode impactar ainda mais na vulnerabilidade de um indivíduo. Ele pode se tornar cada vez mais infeliz, acreditando não saber o que fazer para que coisas boas também lhe aconteçam. “A sensação é a de que tudo dá certo para o mundo, menos para ele”, pontua.

É impossível se sentir feliz o tempo todo, assim como também é impossível experienciar apenas situações prazerosas ao longo da vida. Apesar disso, momentos ruins não são admirados ou valorizados nas redes sociais. É quase proibido falar sobre isso. “Vivemos uma época em que não é permitido não estar 100%”, comenta Bauke.

Para a psicóloga, existe uma tirania na internet impedindo que as pessoas se mostrem tais como são. Mesmo que a exposição pessoal on-line seja cada vez maior, ninguém quer ser considerado triste ou aquém dos padrões vigentes de felicidade. Se uma pessoa decide falar sobre seus problemas, pode ser julgada como alguém que almeja atenção ou que deseja apenas se fazer de vítima.

Esse tipo de postura pode acabar afetando sua capacidade de ser verdadeiramente feliz. “Quando nos obrigamos a seguir um padrão, aquilo que realmente sentimos e de que gostamos tem que ser armazenado em algum lugar. Passamos a usar uma máscara, que nem sempre reflete a nossa essência. Ter que fazer isso com frequência é desgastante e frustrante”, afirma a psicóloga. “As expectativas e os padrões sociais sempre existiram, mas com as redes sociais, tudo isso ficou muito mais visível e imediato”.

Retirado e adaptado de: INSTITUTO LONGEVIDADE. **Redes sociais e saúde mental: como a internet pode ajudar a desenvolver depressão e ansiedade.** Disponível em: <https://institutodelongevidade.org/longevidade-e-saude/saude-mental/redes-sociais-e-saude-mental> Acesso em: 23 ago., 2023.

TEXTO 2

Redes sociais e solidão

Quanto mais conexão, maior o isolamento




O PERFIL DOS ENTREVISTADOS:

1.787
AMERICANOS

19 a 32
ANOS DE IDADE

11
REDES



EPIDEMIA

O autor do estudo, Brian Primack, afirma que os níveis de problemas de saúde mental e isolamento social são epidêmicos entre jovens adultos

TEMPO DE USO DAS REDES

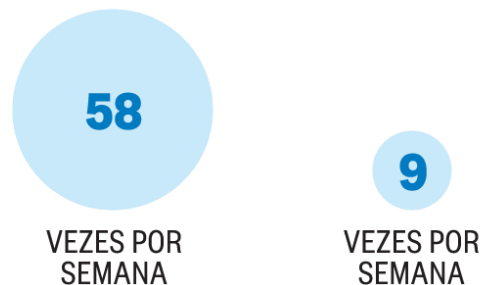


+ de 2 horas
POR DIA

→ **Duas vezes mais chances** de experimentarem isolamento social

Segundo a pesquisa, algumas características das redes sociais facilitam a sensação de exclusão

VISITAS A SITES DAS REDES



→ **Três vezes mais chances** de experimentarem isolamento social

A exposição a representações idealizadas da vida dos outros pode alimentar o sentimento de inveja

Fonte: Eurekalert.org

Disponível em: <https://oglobo.globo.com/economia/psicologos-alertam-que-uso-de-redes-sociais-pode-alimentar-solidao-21016908> Acesso em: 23 ago., 2023.

TEXTO 3

SAÚDE MENTAL...



Disponível em: <https://blogdoaftm.com.br/charge-saude-mental-2/> Acesso em: 23 ago., 2023.

A partir da leitura dos textos motivadores e com base nos conhecimentos construídos ao longo de sua formação, redija um texto dissertativo-argumentativo em modalidade escrita, empregando a norma culta da língua portuguesa, com extensão entre 15 e 25 linhas, sobre o tema “**Relações entre as redes sociais e a saúde da população brasileira**”. Elabore seu texto pautando-o em argumentos, redija-o de forma coesa e coerente com o tipo textual solicitado.

RASCUNHO

1	
2	
3	
4	
5	
6	
7	
8	
9	
10	
11	
12	
13	
14	
15	
16	
17	
18	
19	
20	
21	
22	
23	
24	
25	