

**ENGENHEIRO SANITARISTA** **LEIA ATENTAMENTE AS INSTRUÇÕES ABAIXO:**

- É responsabilidade exclusiva do candidato a conferência de seus dados pessoais, impressos no Cartão de Respostas e no Caderno de Provas, em especial o nome, o número de inscrição, o número de seu documento de identidade, cargo pleiteado, assim como, a marcação e assinatura do seu Cartão de Respostas.
- Verifique se este caderno de prova contém **50** questões. Com cinco alternativas identificadas pelas letras **A, B, C, D e E** das quais apenas uma será a resposta correta.
- Preencha o Cartão de Respostas da prova objetiva utilizando caneta esferográfica azul ou preta, ocupando totalmente o campo de marcação, ao lado dos números, que corresponde à resposta correta. Conforme ilustração:
- **Atenção:** Serão consideradas incorretas questões para as quais o candidato tenha preenchido no cartão resposta mais de uma opção, bem como questões em que o campo de marcação apresente rasuras, emendas ou que não esteja preenchido integralmente. Tenha muito cuidado para não danificar o código de barras utilizado na leitura óptica do Cartão de Respostas, por isso não **DOBRE, AMASSE ou MANCHE** o mesmo. O Cartão de Respostas será o único documento válido para a correção das provas objetivas, salvo à disposição do IDCAP.
- Os fiscais **NÃO** são autorizados a prestar informações de interpretação das questões. Sua função é apenas fiscalizar e orientar quanto ao funcionamento do certame.
- Ao concluir a prova, **entregue ao fiscal de sala o Cartão de Respostas da Prova Objetiva e Discursiva**, a não devolução implicará à eliminação sumária do candidato.
- **Assine a Lista De Presença, Cartão Resposta e transcreva a frase de segurança presente no Cartão Resposta da prova objetiva, sob pena de eliminação.**

 **NÃO SERÁ PERMITIDO:**

- Folhear o caderno de provas antes da autorização do fiscal. Caso aconteça, implicará na eliminação do candidato.
- Qualquer tipo de comunicação entre os candidatos durante a aplicação da prova.
- O uso de calculadoras, dicionários, telefones celulares, pen drive, fone de ouvido, relógio de qualquer espécie, recursos didáticos, aparelhos eletrônicos e bonés.
- A permanência de candidatos no local de realização das provas após o término e a entrega do Cartão de Respostas, devendo o candidato retirar-se imediatamente do local, não sendo possível nem mesmo a utilização dos banheiros e bebedouros.

 **TEMPO DE PROVA:**

- A prova objetiva e discursiva terá duração máxima de **4h e 30 min (quatro horas e trinta minutos)**, incluído o tempo para preenchimento do Cartão de Respostas.
- O candidato somente poderá retirar-se do local de prova **após 1 (uma) hora de seu início**.
- O candidato poderá **levar o caderno de provas 1 (uma) hora antes de seu término**. Antes desse horário, será permitido ao candidato levar apenas o **RECORTE DO RODAPÉ DA CAPA DA PROVA** (parte que contém espaço para preenchimento do gabarito).
- Os 3 (três) últimos candidatos somente poderão retirar-se da sala de prova simultaneamente e devem fazê-lo após a assinatura da ata de sala.

1	6	11	16	21	26	31	36	41	46
2	7	12	17	22	27	32	37	42	47
3	8	13	18	23	28	33	38	43	48
4	9	14	19	24	29	34	39	44	49
5	10	15	20	25	30	35	40	45	50

**RASCUNHO**

## Língua Portuguesa

### Questão 01

(Correta: E)

Leia atentamente o período a seguir:

É possível que ainda \_\_\_\_ (I) vagas no curso de licenciatura, mas não \_\_\_\_ (II) muitas pessoas interessadas no curso.

Assinale a alternativa que preenche corretamente as lacuna:

- (A) I - há, II - existe.
- (B) I - hajam, II - existem.
- (C) I - hajam, II - existe.
- (D) I - haja, II - existe.
- (E) I - haja, II - existem.

### Questão 02

(Correta: A)

Observe as alternativas e assinale a que não contiver erro em relação à crase:

- (A) Dirigia-se com respeito aos idosos, carinho às crianças e, com cortesia, a várias pessoas conhecidas.
- (B) Àquela velocidade, os cavalos não poderiam parar; não obedeceram as instruções dos cavaleiros.
- (C) Sem dúvida que, com os óculos escuros, ele enxergaria melhor, aquela hora do dia.
- (D) Fui à Salvador provar um acarajé à moda da região.
- (E) Escrevia a prova inteira à lápis para depois escrevê-la à caneta.

### Questão 03

(Correta: B)

Leia atentamente as alternativas abaixo e assinale aquela que possui erro de regência:

- (A) Ela perdoou ao amigo pelo erro cometido.
- (B) Informo-lhe que vou viajar no próximo feriado.
- (C) Eles se referiram ao incidente com grande pesar.
- (D) Nós informamos aos participantes sobre a mudança de horário.
- (E) Eu somente pude assistir ao filme ontem à noite.

### Questão 04

(Correta: A)

Leia as alternativas abaixo atentamente e assinale aquela com a regência correta:

- (A) O ideal a que visavam os romanos era a perfeição do corpo.
- (B) Levei cinco anos para chegar a médico.

- (C) O show fora assistido por toda a população local.
- (D) Sempre remunero pontualmente meus empregados.
- (E) Eu juro que não lhe vi por estes dias.

### Questão 05

(Correta: C)

Leia atentamente as alternativas abaixo e assinale aquela que a supressão da vírgula não altera o sentido da oração:

- (A) Não, pode ir na casa deles.
- (B) Ele viu a mulher, com um telescópio.
- (C) Todas as manhãs, ele toma, tranquilamente, seu café.
- (D) Ajudei minha irmã, Ana.
- (E) Os alunos, que estudaram, passaram na prova.

### Questão 06

(Correta: E)

Leia atentamente as alternativas abaixo e assinale aquela que possua um erro de concordância:

- (A) A maioria dos entraves foram solucionados.
- (B) Deve haver boas razões para a sua ausência.
- (C) Boa parte dos cientistas acha inviável uma solução imediata.
- (D) Nem uma nem outra camisa é do meu agrado.
- (E) Do mercado ao restaurante é duzentos metros.

### Questão 07

(Correta: D)

Leia com atenção as colunas abaixo:

Coluna 01

(\_) Entregou todo o dinheiro que tinha **aquele** rapaz deitado no chão.

(\_) João e Maria saíram **a** procura da casa de doces.

(\_) A legislação trabalhista se aplica **a** pessoas que vivem qualquer relação de trabalho.

(\_) As séries, **as** quais acompanho, costumam ter episódios de até trinta minutos.

Coluna 02

I. Com crase.

II. Sem crase.

Correlacione ambas as colunas de forma a indicar se o termo em destaque nas afirmativas na Coluna 01 devem ter o emprego de crase ou não:

- (A) II > I > I > II.
- (B) II > II > II > II.
- (C) II > II > I > I.
- (D) I > I > II > I.

(E) I > I > I > I.

### Questão 08

(Correta: D)

Analise a sentença a seguir:

Informamos \_\_\_\_ (I) Vossa Excelência que enviamos \_\_\_\_ (II) intimação \_\_\_\_ (III) Oficial de Justiça que está apta \_\_\_\_ (IV) atender o requerimento.

Assinale a alternativa que preencha corretamente as lacunas:

- (A) à, à, a, à.
- (B) a, à, a, à.
- (C) à, a, à, à.
- (D) a, a, à, a.
- (E) à, a, à, a.

### Questão 09

(Correta: E)

Leia atentamente as alternativas abaixo e assinale aquela que não contenha erro de concordância verbal:

- (A) Haviam alguns meninos pedindo dinheiro no sinal.
- (B) Haviam muitos candidatos ansiosos na porta da escola.
- (C) Bateu oito horas quando quando o técnico da internet chegou lá em casa.
- (D) Fui eu que abri o portão para o encanador entrar na obra.
- (E) Faz muitos anos que não vejo o meu irmão.

### Questão 10

(Correta: D)

Leia atentamente as alternativas abaixo e assinale aquela em que a vírgula é empregada para separar dois termos com a mesma função na frase:

- (A) Respeitável público, peço a atenção de todos.
- (B) Juro que não cometi nenhum destes atos descritos, Excelência.
- (C) Depois da mudança de Joaquim, aluguei o seu quarto.
- (D) Mostrei para o inquilino os quartos, o banheiro e a cozinha.
- (E) Não obstante a crise econômica, a pandemia surgiu.

## Informática Básica

### Questão 11

(Correta: C)

Os equipamentos de rede são hardwares, dispositivos físicos necessários para a comunicação entre os computadores de uma organização. Após devidamente conectados, eles formam uma infraestrutura de rede, julgue as seguintes afirmações como verdadeiras (V) ou falsas (F):

(\_\_ ) O roteador é um equipamento presente na maioria das residências que possuem conexão com a internet utilizados para expandir o alcance de um sinal de conexão sem fio.

(\_\_ ) Os cabos são equipamentos básicos de uma rede.

(\_\_ ) O switch armazena os registros dos dispositivos da rede e transfere pacotes de dados apenas para os que estiverem selecionados.

Em seguida assinale a alternativa cuja ordem de julgamento de cima para baixo esteja correta:

- (A) V – V – V.
- (B) F – F – F.
- (C) F – V – V.
- (D) F – V – F.
- (E) V – F – V.

### Questão 12

(Correta: A)

Analise as alternativas a seguir e assinale aquela que não possui como principal funcionalidade a busca e indexação de informações na web:

- (A) Google Meet.
- (B) Duck Duck Go.
- (C) Kompass.
- (D) Yahoo!.
- (E) Bing.

### Questão 13

(Correta: A)

No que se refere aos aplicativos Microsoft Office, analise as proposições abaixo:

I.O Microsoft Excel é uma ferramenta de planilha eletrônica voltada para a manipulação de dados numéricos, cálculos, gráficos e análises, sendo possível utilizá-lo como um processador ou editor de textos.

II.O Microsoft Word é um processador de texto utilizado para criar e editar documentos de texto, usualmente voltado para apresentações visuais.

III.O Microsoft PowerPoint é uma ferramenta usada para criar apresentações visuais, como slideshows, é também voltado para criação de tabelas e funções de cálculos

matemáticos.

Após sua análise assinale a alternativa correta:

- (A) Apenas a proposição I está correta.
- (B) Apenas as proposições II e III estão corretas.
- (C) Apenas a proposição III está correta.
- (D) Apenas as proposições I e II estão corretas.
- (E) Apenas a proposição II está correta.

### Questão 14

**(Correta: A)**

Escolha a opção que NÃO se qualifica como uma biblioteca padrão do sistema operacional Windows:

- (A) OneDrive.
- (B) Vídeos.
- (C) Músicas.
- (D) Imagens.
- (E) Documentos.

### Questão 15

**(Correta: A)**

Com base no sistema operacional Windows, associe os termos apresentados na coluna 1 com seu conteúdo correspondente apresentado na Coluna 2:

Coluna 1:

1. Pasta ou Diretório.
2. Área de Trabalho ou Desktop.
3. Fazer Logoff.

Coluna 2:

A. Ambiente gráfico adequado ao usuário, onde ele possa abrir algumas janelas de programas e efetuar operações básicas sobre as janelas abertas e sobre o ambiente em si.

B. Estrutura utilizada para organizar arquivos em um computador ou um arquivo que contém referências a outros arquivos.

C. Todos os programas do usuário atual serão fechados, e só depois aparece a janela para escolha do usuário.

Em seguida assinale a alternativa que apresenta a associação correta:

- (A) 1B, 2A, 3C
- (B) 1A, 2C, 3B
- (C) 1B, 2C, 3A
- (D) 1C, 2A, 3B
- (E) 1C, 2B, 3A

## Raciocínio lógico

### Questão 16

**(Correta: C)**

Dadas as proposições:

P: Gustavo é advogado.

Q: Gustavo é rico.

Qual das opções dadas abaixo traz a negação de (P e Q)?

- (A) Gustavo é advogado e não é rico.
- (B) Gustavo não é advogado e não é rico.
- (C) Gustavo não é advogado ou não é rico.
- (D) Gustavo não é advogado ou é rico.
- (E) Gustavo é advogado ou não é rico.

### Questão 17

**(Correta: A)**

Uma empresa de telemarketing constatou que 35 funcionários desenvolveram problemas de audição, 46 desenvolveram problemas nas cordas vocais, 17 desenvolveram problemas de audição e nas cordas vocais e 26 não têm problema nenhum. Quantos funcionários tem essa empresa?

- (A) Essa empresa tem 90 funcionários.
- (B) Essa empresa tem 97 funcionários.
- (C) Essa empresa tem 112 funcionários.
- (D) Essa empresa tem 134 funcionários.
- (E) Essa empresa tem 68 funcionários.

### Questão 18

**(Correta: E)**

Qual das alternativas abaixo cita uma proposição composta?

- (A) Judite é uma mulher exemplar.
- (B) Hugo não sabe o que quer, mas é feliz.
- (C) Aqueles alunos são dedicados.
- (D) Todas as crianças gostam de sorvete.
- (E) Carina é dedicada e assídua.

### Questão 19

**(Correta: A)**

Nadir fez uma brincadeira com seus sobrinhos colocando 5 papéis escritos bombom e 3 escritos bala, para que eles pudessem sortear e ganhar um pacotinho do doce que estava escrito. Se quando chegou a vez de Sávio já haviam saído 2 de bombom e 1 de bala, qual é a probabilidade de ele não ganhar bombom?

- (A) A probabilidade de ele não ganhar bombom é de 40%.

**Questão 21**

**(Correta: D)**

Com base na Lei Municipal nº 2.898/2006, que dispõe sobre o Estatuto dos Servidores Públicos da Administração Direta, Autárquica e Fundacional do Município de Aracruz, relacione corretamente a Coluna 1 com a coluna 2:

**Coluna 1**

- (1) Promoção
- (2) Reversão
- (3) Recondução
- (4) Reintegração

**Coluna 2**

(\_\_)**É a re- investidura do servidor concursado no cargo anteriormente ocupado ou no cargo resultante de sua transformação, quando invalidada a sua demissão por decisão administrativa ou judicial, com ressarcimento de todas as vantagens e reconhecimento dos direitos inerentes ao cargo.**

(\_\_)**É a elevação do servidor à classe imediatamente superior àquela a que pertence, na mesma carreira, desde que comprovada, mediante avaliação prévia, sua capacidade para o exercício das atribuições da classe correspondente.**

(\_\_)**É o retorno à atividade de servidor aposentado por invalidez quando declarados, por junta médica oficial, insubsistentes os motivos determinantes da aposentadoria.**

(\_\_)**É o retorno do servidor estável ao cargo anteriormente ocupado.**

Assinale a alternativa que contém a sequência CORRETA, de cima para baixo:

- (A) 4, 2, 1, 3
- (B) 1, 3, 4, 2
- (C) 2, 4, 3, 1
- (D) 4, 1, 2, 3
- (E) 3, 1, 4, 2

**Questão 22**

**(Correta: D)**

Com relação aos afastamentos, de acordo com o que dispõe a Lei Municipal nº 2.898/2006, assinale a alternativa CORRETA:

"Art. 78 *Sem qualquer prejuízo, poderá o servidor ausentar-se do serviço:*"

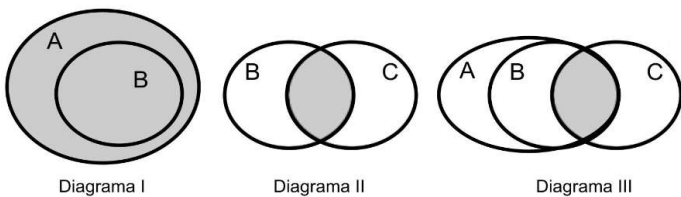
- (A) Para amamentar seu filho menor de 12 (doze) meses.

- (B) A probabilidade de ele não ganhar bombom é de 17%.
- (C) A probabilidade de ele não ganhar bombom é de 32%.
- (D) A probabilidade de ele não ganhar bombom é de 64%.
- (E) A probabilidade de ele não ganhar bombom é de 25%.

**Questão 20**

**(Correta: C)**

Considere três conjuntos: A, B e C e os diagramas lógicos abaixo com suas representações.



- Diagrama I:  $A \cup B$  (união de A e B)

- Diagrama II:  $B \cap C$  (interseção de B e C)

Qual das alternativas abaixo representa o Diagrama III?

- (A)  $A \cup B \cup C$
- (B)  $B \cup (C \cap A)$
- (C)  $A \cap (B \cap C)$
- (D)  $A \cup (B \cap C)$
- (E)  $B \cap (A \cup C)$



- (B) por 1 (um) dia, em cada 3 (três) meses, para doação de sangue.
- (C) por 10 (dez) dias consecutivos, em razão de falecimento de cônjuge, convivente, pais, filhos, enteados, menor adotado, sob sua tutela ou guarda judicial e irmãos, contados da data do óbito.
- (D) Para tratar de assuntos de seu interesse pessoal, sendo abonadas até seis faltas, em cada ano civil, desde que o mesmo não tenha, no exercício anterior, nenhuma falta injustificada.
- (E) por 5 (cinco) dias úteis, em razão do falecimento de avô, avó, padrasto, madrastra, genro e nora, sogro e sogra, contados da data do óbito.

### Questão 23

**(Correta: C)**

São deveres fundamentais do servidor público, conforme previsto no Decreto nº 1.171/94:

- (A) Omitir dos integrantes da sua classe sobre a existência deste Código de Ética, estimulando o seu integral cumprimento.
- (B) Exercer sua função, poder ou autoridade com finalidade estranha ao interesse público.
- (C) Manter limpo e em perfeita ordem o local de trabalho, seguindo os métodos mais adequados à sua organização e distribuição.
- (D) Retardar prestação de contas, usando de artifícios para procrastinar ou dificultar o exercício regular de direito por qualquer pessoa.
- (E) Dificultar a fiscalização de todos atos ou serviços por quem de direito.

### Questão 24

**(Correta: E)**

Extinto o cargo ou declarada a sua desnecessidade, o servidor estável ficará \_\_\_\_\_, com remuneração \_\_\_\_\_.

Assinale a opção que completa CORRETA e RESPECTIVAMENTE as lacunas, de acordo com o art. 62 da Lei Municipal nº 2.898/2006:

- (A) Transferido de cargo – proporcional ao novo enquadramento.
- (B) Afastado cautelarmente – proporcional ao tempo de serviço.
- (C) Em licença para tratar de interesse particulares – integral.
- (D) Em licença remunerada – integral.
- (E) Em disponibilidade – proporcional ao tempo de serviço.

### Questão 25

**(Correta: B)**

Com base no Decreto nº 1.171/94, que aprova o Código

de Ética Profissional do Servidor Público Civil do Poder Executivo Federal, analise as proposições abaixo:

I.A remuneração do servidor público é custeada pelos tributos pagos direta ou indiretamente por todos, até por ele próprio, e por isso se exige, como contrapartida, que a moralidade administrativa se integre no Direito, como elemento indissociável de sua aplicação e de sua finalidade, erigindo-se, como consequência, em fator de legalidade.

II.Toda ausência injustificada do servidor de seu local de trabalho é fator de desmoralização do serviço público, o que quase sempre conduz à desordem nas relações humanas.

III.A função pública deve ser tida como exercício profissional e, portanto, se integra na vida particular de cada servidor público. Assim, os fatos e atos verificados na conduta do dia-a-dia em sua vida privada poderão crescer ou diminuir o seu bom conceito na vida funcional.

IV.A dignidade, o decoro, o zelo, a eficácia e a consciência dos princípios morais são primados maiores que devem nortear o servidor público, seja no exercício do cargo ou função, ou fora dele, já que refletirá o exercício da vocação do próprio poder estatal. Seus atos, comportamentos e atitudes serão direcionados para a preservação da honra e da tradição dos serviços públicos.

Assinale a alternativa CORRETA:

- (A) As afirmativas I, II, III e IV estão incorretas.
- (B) As afirmativas I, II, III e IV estão corretas.
- (C) Somente as afirmativas I, III e IV estão corretas.
- (D) Somente a afirmativa IV está correta.
- (E) Somente as afirmativas II e IV estão corretas.

### Questão 26

**(Correta: E)**

Acerca do conceito de democracia, analise as proposições abaixo:

I.A palavra democracia deriva de dois termos latinos: "demos" (povo) e "kratos" (poder), significando, em síntese, o poder do povo.

II.Em um Estado democrático, o poder deve emanar do povo. No Brasil, o princípio democrático está insculpido na Constituição Federal e é exercido pelo povo de forma indireta, por meio de representantes eleitos, ou diretamente, nos casos de plebiscitos ou referendos, por exemplo.

III.A democracia é permeada por valores e princípios fundamentais, tais como: liberdades de expressão e opinião; liberdade de eleição e de voto; acesso à justiça; igualdade de condições e direitos, dentre outros.

Estão CORRETAS:

- (A) Apenas I e II.
- (B) Apenas III.

- (C) Apenas I.
- (D) I, II e III.
- (E) Apenas II e III.

### Questão 27

**(Correta: C)**

Tendo como base a Lei Orgânica, assinale a alternativa INCORRETA:

- (A) É vedado ao Município instituir impostos sobre patrimônio, renda ou serviços da União e do Estado.
- (B) É vedado ao município cobrar tributos, em relação a fatos geradores ocorridos antes do início da vigência da lei que os houver instituído ou aumentado.
- (C) É legal a cobrança de taxas nos casos de obtenção de certidão especificamente para fins de defesa de direitos e esclarecimentos de situações de interesse pessoal.
- (D) É vedado ao Município utilizar tributo com efeito de confisco.
- (E) É vedado ao Município cobrar taxas nos casos de petição em defesa de direitos ou contra ilegalidade ou abuso de poder.

### Questão 28

**(Correta: A)**

Consoante o disposto na Lei Orgânica, analise as afirmativas abaixo, classificando-as como Verdadeiras (V) ou Falsas (F):

( ) Leis de iniciativa do Poder Executivo estabelecerão: I. O plano Plurianual; II. As diretrizes orçamentárias; e III. os orçamentos anuais.

( ) A lei que instituir o plano plurianual estabelecerá as diretrizes, objetivos e metas da administração municipal para as despesas de capital e outras delas decorrentes e para as relativas aos programas de duração continuada.

( ) A lei de diretrizes orçamentárias compreenderá as metas e prioridades da administração pública federal, estabelecerá as diretrizes de política fiscal e respectivas metas, em consonância com trajetória sustentável da dívida pública, orientará a elaboração da lei orçamentária anual, disporá sobre as alterações na legislação tributária e estabelecerá a política de aplicação das agências financeiras oficiais de fomento.

( ) A lei orçamentária anual compreenderá, dentre outros, o orçamento fiscal referente aos Poderes do Município, seus fundos, órgãos e entidades da administração direta e indireta, inclusive fundações instituídas e mantidas pelo Poder Público.

Assinale a alternativa que contém a sequência CORRETA, de cima para baixo:

- (A) V, V, V, V
- (B) V, F, F, V
- (C) F, F, F, F

- (D) F, V, F, F
- (E) F, V, V, F

### Questão 29

**(Correta: A)**

Ética pode ser definida como o conjunto de princípios que norteiam a conduta das pessoas na vida em sociedade. Assim, uma pessoa deve ter consciência do que é bom ou mau, honesto ou desonesto, desejável ou indesejável. Dentro da Administração Pública, a atuação dos servidores deve sempre levar em consideração o que é ético. Consideram-se condutas éticas dentro do serviço público, EXCETO:

- (A) Utilizar-se do cargo para obter vantagem pessoal.
- (B) Conservar a os equipamentos, cuja guarda lhe fora confiada.
- (C) Zelar pelo interesse público em todos os atos praticados.
- (D) Utilizar os materiais e recursos públicos de forma racional.
- (E) Preservar o sigilo de informações confidenciais a que tenha acesso em função do cargo.

### Questão 30

**(Correta: B)**

Joaquina, servidora pública municipal, foi procurada por Maria, que precisava emitir alvará para funcionamento de um estabelecimento comercial. Ciente de que seu estabelecimento não preencheria as normas para a emissão do respectivo documento, Maria ofereceu dinheiro para que Joaquina fizesse vistas grossas às irregularidades e aprovasse a autorização.

Nesse caso hipotético, levando em consideração os preceitos da Ética no Serviço Público, qual atitude se espera de Joaquina:

- (A) Joaquina poderá aceitar o dinheiro e deverá autorizar o funcionamento, já que pega pelo serviço, ainda que as irregularidades persistam.
- (B) Joaquina deverá recusar qualquer vantagem pecuniária, levando o caso ao conhecimento das autoridades competentes para responsabilização de Maria.
- (C) Joaquina deverá aceitar o dinheiro, que será integralmente revertido para o órgão em que trabalha, devendo a autorização ser fornecida mediante a assinatura de termo de compromisso de regularização, juntamente com recibo de quitação.
- (D) Joaquina poderá aceitar o dinheiro oferecido, eis que se configura uma doação, mas não poderá autorizar o funcionamento do estabelecimento sem a correção das irregularidades.
- (E) Joaquina não poderá aceitar o dinheiro, mas poderá autorizar o funcionamento, ainda que as irregularidades não sejam sanadas.



## Conhecimentos Específicos

### Questão 31

(Correta: B)

O gerenciamento de áreas contaminadas (ACs) visa minimizar os riscos a que estão sujeitos a população e o meio ambiente, em virtude da existência das mesmas, por meio de um conjunto de medidas que assegurem o conhecimento das características dessas áreas e dos impactos por elas causados, proporcionando os instrumentos necessários à tomada de decisão quanto às formas de intervenção mais adequadas. Dessa forma, foram definidos dois processos que constituem a base do gerenciamento de ACs denominados: processo de identificação e processo de recuperação.

Fonte: CETESB, 2013.

Diante do exposto, faça a correlação entre coluna I (etapas dos processos) e coluna II (processos).

#### Coluna I

- I. Investigação confirmatória.
- II. Avaliação de risco.
- III. Avaliação preliminar.

#### Coluna II

- a. Processo de identificação de áreas contaminadas.
- b. Processo de recuperação de áreas contaminadas.

Marque a alternativa **CORRETA** que correlacione as colunas, I e II.

- (A) I.b, II.a, III.b.
- (B) I.a, II.b, III.a.
- (C) I.b, II.a, III.a.
- (D) I.a, II.a, III.b.
- (E) I.a, II.b, III.b.

### Questão 32

(Correta: A)

Há vários tipos de doenças que podem ser causadas pela água. São assim denominadas quando causadas por organismos ou outros contaminantes disseminados diretamente por meio da água. Em locais com saneamento básico deficiente (falta de água tratada e/ou de rede de esgoto ou de alternativas adequadas para a deposição dos dejetos humanos), as doenças podem ocorrer devido à contaminação da água por esses dejetos ou pelo contato com esgoto despejado nas ruas ou nos córregos e rios. A falta de água também pode causar doenças, pois, sua escassez impede uma higiene adequada. Incluem-se também na lista de doenças de transmissão hídrica, aquelas causadas por insetos que se desenvolvem na água.

Fonte: Secretaria de Estado da Saúde de São Paulo. Doenças Relacionadas à Água ou de Transmissão Hídrica ? Perguntas e Respostas e Dados Estatísticos – INFORME TÉCNICO.

Identifique dentre as doenças abaixo relacionadas, aquelas que são ocasionadas por ingestão de água contaminada:

- I. Cólera pela bactéria *Vibrio cholerae*.
- II. Leptospirose.
- III. Tracoma devido à *Chlamydia trachomatis*.
- IV. Esquistossomose.
- V. Febre tifoide pela bactéria *Salmonella typhi*.

Marque a alternativa **CORRETA** que contenha todas as doenças provocadas por ingestão de água contaminada.

- (A) I e V, apenas.
- (B) III, IV e V, apenas.
- (C) I, II, III, IV e V.
- (D) I, II e V, apenas.
- (E) II, III e IV, apenas.

### Questão 33

(Correta: A)

A Segurança do Trabalho é primordial em todas as profissões, entretanto, na área de saúde ela se relaciona às diretrizes básicas e as medidas de proteção à segurança e à saúde dos trabalhadores. Por isso, caso ocorra um acidente envolvendo risco biológico, sem afastamento do trabalhador, qual procedimento deverá ser adotado de acordo com a Segurança do Trabalho? Marque a alternativa **CORRETA**.

- (A) Realizar a Emissão da Comunicação de Acidente de Trabalho (CAT).
- (B) Só seria emitida a Comunicação de Acidente de Trabalho (CAT), se houvesse afastamento do trabalhador.
- (C) Somente é emitida a Comunicação de Acidente de Trabalho (CAT), quando ocorrem acidentes com produtos químicos.
- (D) Não é necessário nenhuma ação, haja vista, que somente são necessárias aberturas de processos burocráticos internos como a Comunicação de Acidente de Trabalho (CAT), quando são acidentes que levaram ao óbito.
- (E) Somente é emitida a Comunicação de Acidente de Trabalho (CAT), quando ocorrem acidentes com danos físicos ao trabalhador.

### Questão 34

(Correta: B)

O Poder Público, no exercício de sua competência de controle, expedirá as seguintes licenças: Licença Prévia, Licença de Instalação e Licença de Operação, qual(is) dessas licenças que solicitam as medidas de controle ambiental? Marque a alternativa **CORRETA**.

- (A) Licença de Operação, apenas.
- (B) Licença de Instalação e Licença de Operação.

- (C) Licença Prévia e Licença de Instalação.
- (D) Licença de Instalação, apenas.
- (E) Licença Prévia, Licença de Instalação e Licença de Operação.

### Questão 35

**(Correta: E)**

Conforme presente na ABNT NBR ISO 14044:2009 que rege a Gestão ambiental, Avaliação do ciclo de vida e Requisitos e orientações, a Avaliação do Ciclo de Vida (ACV) é uma técnica que tem como objetivo, compreender e lidar melhor com os impactos ambientais, para tanto o mesmo é composto por quatro fases, compreendidas abaixo. Marque a alternativa **INCORRETA**.

- (A) A fase de interpretação.
- (B) A fase de definição de objetivo e escopo.
- (C) A fase de análise de inventário.
- (D) A fase de avaliação de impactos.
- (E) A fase de propostas de melhorias e compensações ambientais.

### Questão 36

**(Correta: E)**

A Lei nº 12.651/2012 dispõe sobre a proteção da vegetação nativa de acordo com o Art. 25, o poder público municipal contará, para o estabelecimento de áreas verdes urbanas, com os seguintes instrumentos:

I.A transformação das Áreas de Preservação Permanente em áreas verdes nas expansões urbanas.

II.O exercício do direito de preempção para aquisição de remanescentes florestais relevantes, conforme legislação.

III.Aplicação em áreas verdes de recursos oriundos da compensação ambiental.

Marque a alternativa que contenha todos os itens **CORRETOS**.

- (A) I e III, apenas.
- (B) III, apenas.
- (C) I, II e III.
- (D) I e II, apenas.
- (E) II e III, apenas.

### Questão 37

**(Correta: B)**

A Lei nº 9.433/1997 que institui a Política Nacional de Recursos Hídricos, descreve em um dos seus fundamentos, que a gestão dos recursos hídricos deve sempre proporcionar o uso:

- (A) Excepcional das águas.
- (B) Múltiplo das águas.

- (C) Frequente das águas.
- (D) Restrito das águas.
- (E) Irrestrito das águas.

### Questão 38

**(Correta: C)**

De acordo com o Novo Código Florestal (Lei nº 12.651/2012), Art. 11-A, a Zona Costeira é patrimônio nacional, de acordo com a Constituição Federal de 1988, devendo sua ocupação e exploração dar-se de modo ecologicamente sustentável. Assim, são sujeitos à apresentação de Estudo Prévio de Impacto Ambiental (EPIA) e Relatório de Impacto Ambiental (RIMA) os novos empreendimentos, que atenderem as seguintes premissas, julgue-as:

I.Localizados em região com adensamento de empreendimentos de carcinicultura ou salinas cujo impacto afete áreas comuns.

II.Com área superior a 100 (cem) hectares, vedada a fragmentação do projeto para ocultar ou camuflar seu porte.

III.Com área de até 100 (cem) hectares, se potencialmente causadores de significativa degradação do meio ambiente.

Marque a alternativa que contenha todos os itens **CORRETOS**.

- (A) I e II, apenas.
- (B) II e III, apenas.
- (C) I, apenas.
- (D) III, apenas.
- (E) I, II e III.

### Questão 39

**(Correta: E)**

Conforme descrito na própria série de normas ISO 14000, estas correspondem a um Sistema de Gestão Ambiental (SGA) editado pela ISO (*International Organization for Standardization*). Esta série de normas apresenta diretrizes para Auditorias Ambientais, Avaliação do Desempenho Ambiental, Rotulagem Ambiental e Análise do Ciclo de Vida dos Produtos. Assim, especifica os requisitos relativos a um sistema de gestão ambiental, de modo a permitir que a organização formule políticas e objetivos que levem em conta os requisitos legais e as informações referentes aos impactos ambientais significativos. As Auditorias Ambientais são aquelas que asseguram credibilidade a todo processo de certificação ambiental, visando as auditorias de terceiras partes, nas quais se verificam os compromissos estabelecidos pela empresa em seu Sistema de Gestão Ambiental. Diante disso, qual a norma que faz referência às Auditorias Ambientais? Marque a alternativa **CORRETA**.

- (A) ISO 14020.

- (B) ISO 14004.
- (C) ISO 14014.
- (D) ISO 14001.
- (E) ISO 14010.

### Questão 40

(Correta: B)

O Sistema Nacional do Meio Ambiente (Sisnama) foi constituído pela Lei nº 6.938/1981 que dispõe sobre a Política Nacional do Meio Ambiente e que é composto por órgãos e entidades da União, dos Estados, do Distrito Federal, dos Territórios e dos Municípios, bem como as fundações instituídas pelo Poder Público. Sendo considerados os órgãos ou entidades estaduais responsáveis pela execução de programas, projetos e pelo controle e fiscalização de atividades capazes de provocar a degradação ambiental com a seguinte denominação:

Marque a alternativa **CORRETA**.

- (A) Órgãos Estruturais.
- (B) Órgãos Seccionais.
- (C) Órgãos Estaduais.
- (D) Órgãos Locais.
- (E) Órgãos Mediadores.

### Questão 41

(Correta: A)

A Lei nº 9.605/1998 dispõe sobre as sanções penais e administrativas derivadas de condutas e atividades lesivas ao meio ambiente. De acordo com o Art. 18, a multa será calculada segundo os critérios do Código Penal e caso ela se revele ineficaz, ainda que aplicada no valor máximo, poderá ser aumentada, tendo em vista o valor da vantagem econômica auferida. O valor da multa poderá ser aumentado em até quantas vezes? Marque a alternativa **CORRETA**.

- (A) Até três vezes.
- (B) Até quatro vezes.
- (C) Até duas vezes e meia.
- (D) Até duas vezes.
- (E) Até cinco vezes.

### Questão 42

(Correta: A)

Conforme Von Sperling (2005) esse tipo de tratamento tem a finalidade da remoção de nutrientes (nitrogênio e fósforo) para os esgotos sanitários ou de poluentes específicos (tóxicos ou não biodegradáveis) no caso dos esgotos industriais ou ainda, a remoção complementar de poluentes não suficientemente removidos no tratamento anterior.

Esse tipo de tratamento é conhecido por:

Marque a alternativa **CORRETA**.

- (A) Tratamento terciário.
- (B) Tratamento primário.
- (C) Tratamento quaternário.
- (D) Tratamento secundário.
- (E) Tratamento eficiente.

### Questão 43

(Correta: D)

A CONAMA nº 279/2001 estabelece os critérios para elaboração do Relatório Ambiental Simplificado (RAS) e Estudo Ambiental Simplificado (EAS) que surgiram a partir da demanda de procedimentos que fossem mais rápidos para o licenciamento de empreendimentos.

Sobre o RAS e EAS, marque a alternativa **CORRETA**.

- (A) Não conterão informações relativas ao diagnóstico ambiental da região de inserção do empreendimento, sua caracterização, a identificação dos impactos ambientais e das medidas de controle, de mitigação e de compensação, pois essas informações devem constar somente no Estudo de Impacto Ambiental (EIA).
- (B) Aplicam-se somente à impactos ambientais de médio e grande porte.
- (C) Devem conter: descrição do projeto e, diagnóstico ambiental, sendo que as medidas mitigadoras e compensatórias, devem estar presente na requisição da licença de operação.
- (D) Devem ser apresentados como subsídio para a concessão da licença prévia requerida.
- (E) Todos os estudos descritos poderão ser utilizados no Estudo Prévio de Impacto Ambiental, sem nenhum tipo de complementação, antes da avaliação do órgão ambiental.

### Questão 44

(Correta: C)

Segundo LAVRADOR FILHO (1987), o reúso de águas é o aproveitamento de águas previamente utilizadas, uma ou mais vezes, em alguma atividade humana, para suprir as necessidades de outros usos benéficos, inclusive o original. Pode ser direto ou indireto, bem como decorrer de ações planejadas ou não.

Tabela: Características do algodão irrigado com Esgoto Tratado e com Água, em Fortaleza, Ceará, 1995/ 1996.

CARACTERÍSTICAS	PARCELAS IRRIGADAS COM ESGOTO	PARCELAS IRRIGADAS COM ÁGUA
Produção (Kg/ha)	506	340
% Fibra	35,1	30,3
Produção fibras (Kg/ha)	177,61	103,02
Peso médio do capulho (g)	4,2	3,8
Peso 100 sementes (g)	8,4	7,7
Comprimento médio fibra (cm)	30,7	27,5

Fonte: MOTA, Francisco Suetônio Bastos; BEZERRA, Francisco Cesar; TOMÉ, Luciana Mota. Avaliação do desempenho de culturas

irrigadas com esgoto tratado. 1997.

De acordo com a tabela acima, é possível concluir que:

Marque a alternativa **CORRETA**.

- (A) Não é possível afirmar que houve uma superioridade, na maioria das características que foram avaliadas, do algodão irrigado com esgoto tratado em relação ao irrigado apenas com água.
- (B) Existe uma superioridade, em todas as características que foram avaliadas, do algodão irrigado apenas com água em relação ao irrigado com esgoto tratado.
- (C) Existe uma superioridade, em todas as características que foram avaliadas, do algodão irrigado em esgoto tratado em relação ao irrigado apenas com água.
- (D) Existe uma superioridade, na maioria das características que foram avaliadas, em relação ao algodão irrigado em esgoto tratado em relação ao irrigado apenas com água.
- (E) As características que foram avaliadas foram iguais tanto do algodão irrigado apenas com água quanto do irrigado com esgoto tratado.

### Questão 45

(Correta: B)

De acordo com a Lei nº12.305/2010 (Política Nacional de Resíduos Sólidos) estão sujeitos à elaboração de plano de gerenciamento de resíduos sólidos alguns geradores de resíduos sólidos, dentre os descritos abaixo, marque a alternativa **CORRETA** que se refira a um deles.

- (A) Resíduos agrossilvopastoris.
- (B) Resíduos de serviços de saúde.
- (C) Resíduos de serviços de transportes.
- (D) Resíduos de limpeza urbana.
- (E) Resíduos da construção civil.

### Questão 46

(Correta: C)

O nitrogênio é o elemento que constitui cerca de 78% do ar atmosférico. Contudo, mesmo sendo superabundante, a falta de nitrogênio é um fator limitante da produtividade na grande maioria dos ecossistemas terrestres e marinhos. O maior reservatório global de nitrogênio é a atmosfera, com  $3 \times 10^{21}$  g N ou três quadrilhões de toneladas. Este reservatório, no entanto, contém o nitrogênio em seu estado mais inerte, na forma de  $N_2$  que está indisponível para a esmagadora maioria dos organismos da biosfera.

Fonte: Aduan, R.E.; Vilela, M.F.; Reis Júnior, F.B. Os grandes ciclos biogeoquímicos do planeta. Planaltina, DF: Embrapa Cerrados, 2004.

Qual o motivo pelo qual esse nitrogênio possui essa indisponibilidade para os organismos? Marque a alternativa **CORRETA**.

- (A) O nitrogênio é um dos elementos mais reativos, reagindo violentamente com outros metais, atuando como um forte oxidante, portanto ficando indisponível.
- (B) Em função do tamanho molecular, pois ele é o elemento que apresenta o maior raio atômico da tabela periódica.
- (C) Por causa da grande força da tripla ligação covalente apolar existente na molécula do nitrogênio.
- (D) Ele é encontrado na natureza tanto na forma livre como combinado, entretanto nas duas formas o mesmo só é extraído comercialmente por meio de destilação do ar líquido.
- (E) É um elemento de baixa densidade e alta condutividade térmica, portanto sendo disponível apenas em condições controladas de temperatura ambiente.

### Questão 47

(Correta: B)

A construção civil promove um grande impacto ambiental por apresentar a utilização de processos conservadores, estudos descrevem como exemplos a prática de quebrar os blocos de concreto logo após ter erguido as paredes, para que sejam instaladas as tubulações elétricas e hidráulicas), além do consumo desordenado e inconsequente de materiais ocasionados pela falta de projetos, gerando uma compra excessiva de materiais ou até a compra de materiais incompatíveis ao uso, além de outros fatores que acabam gerando uma série de impactos ambientais.

Sobre os impactos ambientais gerados durante as obras da construção civil, julgue os itens como Verdadeiro (V) ou Falso (F):

I.( ) O consumo do cimento é proporcional à sua produção, sendo este um dos principais materiais de construção civil, durante a sua produção ocorrem impactos como a emissão de grandes quantidades de gás carbônico ( $CO_2$ ) na atmosfera.

II.( ) O setor da construção civil ocasiona impactos ambientais relevantes, que ocorrem desde o momento da extração de matérias primas para a execução da obra, durante a execução da mesma e persiste até a destinação final dos resíduos gerados, promovendo diversas alterações urbanísticas acompanhadas de áreas degradadas.

III.( ) As estratégias para se alcançar o desenvolvimento sustentável devem ser pautadas em fatores bidimensionais, promovendo um equilíbrio, apenas, entre as ações economicamente capazes e socialmente justas.

Fonte: Brasileiro; Matos, 2015 apud Silva, J.M.; Correia, L.S. Impactos Ambientais Ocasionalmente pela Construção Civil: uma Análise das Propostas de Sustentabilidade no Âmbito Construtivo. Congresso Técnico Científico da Engenharia e da Agronomia (CONTECC), 2021.

Marque a alternativa **CORRETA**.

- (A) I.V, II.F, III.F.



- (B) I.V, II.V, III.F.
- (C) I.F, II.V, III.F.
- (D) I.V, II.V, III.V.
- (E) I.F, II.F, III.V.

### Questão 48

**(Correta: D)**

O Capítulo VI da Constituição Federal (1988) aborda sobre a intervenção, portanto, qual das opções descritas apresenta uma ação em que a União não intervirá nos Estados nem no Distrito Federal? Marque a alternativa **CORRETA**.

- (A) Pôr termo a grave comprometimento da ordem pública.
- (B) Repelir invasão estrangeira ou de uma unidade da Federação em outra.
- (C) Manter a integridade nacional.
- (D) Organizar as finanças da unidade da Federação que não tem dívidas ativas com a União.
- (E) Garantir o livre exercício de qualquer dos Poderes nas unidades da Federação.

### Questão 49

**(Correta: E)**

A Política Nacional de Meio Ambiente estabelecida pela Lei nº 6.938/1981 define uma tabela de preços de serviços e produtos cobrados pelo Instituto Brasileiro do Meio Ambiente e dos Recursos Naturais Renováveis (IBAMA). Dessa forma, para ser realizada uma licença ou renovação para transporte nacional de fauna silvestre, partes, produtos e derivados para criadouros científicos ligados a instituições públicas de pesquisa, pesquisadores ligados a instituições públicas de pesquisa e zoológicos públicos, qual valor cobrado? Marque a alternativa **CORRETA**.

- (A) 21,00 reais.
- (B) 37,00 reais.
- (C) 26,00 reais.
- (D) 32,00 reais.
- (E) Isento.

### Questão 50

**(Correta: E)**

De acordo com a Lei nº 12.305/2010 tem-se estabelecida a Política Nacional de Resíduos Sólidos, onde um dos seus princípios figura sobre a eficiência que se relaciona aos itens abaixo, julgue-os como Verdadeiros (V) ou Falsos (F):

I.( ) Os serviços prestados devem trazer qualidade de vida às pessoas.

II.( ) Deve ser realizado mediante a compatibilização entre o fornecimento, a preços competitivos, de bens e serviços qualificados que satisfaçam as necessidades

humanas.

III.( ) Deve visar a redução do impacto ambiental e do consumo de recursos naturais a um nível acima da capacidade de sustentação estimada do planeta.

Marque a alternativa **CORRETA**.

- (A) I.F, II.V, III.F.
- (B) I.V, II.F, III.F.
- (C) I.V, II.V, III.V.
- (D) I.F, II.F, III.V.
- (E) I.V, II.V, III.F.

## REDAÇÃO

### LEIA ATENTAMENTE AS INSTRUÇÕES ABAIXO:

Conforme estabelecido em Edital, a prova discursiva consistirá em uma redação e deverá ser elaborada em estrutura dissertativo-argumentativa, com, no mínimo, 15 (quinze) linhas e, no máximo, 25 (vinte e cinco) linhas, com base em tema formulado pela Banca Examinadora, conforme conteúdo programático comum para todos os cargos.

Conforme previsto no edital de abertura, será atribuída nota **ZERO** à redação que:

- a) Não observar as orientações presentes no caderno de questões;
- b) Com quantidade de linhas inferior ao mínimo solicitado;
- c) Contiver assinatura, rubrica e/ou qualquer palavra e/ou marca que identifique o candidato;
- d) Apresentar textos sob forma não articulada verbalmente (apenas com desenhos, números e palavras soltas ou em versos);
- e) Estiver em branco;
- f) Fugir, integralmente, à tipologia textual de texto solicitada e/ou ao tema proposto;
- g) Apresentar qualquer sinal que, de alguma forma, possibilite a identificação do candidato;
- h) For escrita a lápis, em parte ou em sua totalidade;
- i) Apresentar letra ilegível e/ou incompreensível;
- j) Apresentar texto escrito com expressões injuriantes, discriminatórias e/ou abusivas.

#### **Observe, ainda:**

1. O rascunho da redação deverá ser feito no espaço apropriado. Seu preenchimento é facultativo, sendo assim, **NÃO** será avaliado;
2. O candidato **NÃO** poderá efetuar consulta a quaisquer fontes ou meios de consulta;
3. A Prova de redação deverá ser redigida de forma clara e sem rasuras pelo próprio candidato, à mão, em letra legível, com caneta esferográfica de tinta azul ou preta de material transparente;
4. A redação **NÃO** deverá apresentar cópia de questões da prova ou dos textos motivadores;
5. Ao concluir a prova, entregue ao fiscal de sala o cartão de respostas;
6. A Folha de Respostas Definitivas conterà um cartão numerado e destacável. Este cartão numerado será destacado pelo fiscal, conforme demarcação, e entregue ao candidato.



**PROPOSTA:**

Para produzir a sua redação, leia atentamente os textos motivadores apresentados a seguir:

**TEXTO 1****Redes sociais e saúde mental: como a internet pode ajudar a desenvolver depressão e ansiedade**

Quando você acessa alguma das suas redes sociais, tem a sensação de que todos estão muito mais felizes do que você? A impressão, muitas vezes, é a de que as fotos e os vídeos postados refletem uma vida perfeita, quase inatingível, na qual as pessoas ali estão sempre bem consigo mesmas e se sentindo realizadas com o que fazem.

O problema é quando esse tipo de imagem acaba servindo de gatilho para quem está do outro lado da tela do celular. Ou seja, apenas observando essas “vidas perfeitas”. A pressão para conquistar esse estilo de vida é grande. E a positividade que envolve as redes sociais pode se mostrar muito mais tóxica do que benéfica ou inspiradora.

Para a psicóloga Luisa Bauke, essas postagens nas redes sociais podem provocar sentimentos de inadequação em algumas pessoas. Elas podem pensar que não fazem parte do padrão ou que são incapazes de alcançar coisas boas na vida. “Por mais que saibamos que a vida mostrada nas redes sociais não retrata 100% da vida real, muita gente cai nessa armadilha. Isso acontece principalmente quando a autoestima está abalada”, explica a psicóloga.

Segundo Bauke, perceber que todos ao redor vivem uma felicidade plena pode impactar ainda mais na vulnerabilidade de um indivíduo. Ele pode se tornar cada vez mais infeliz, acreditando não saber o que fazer para que coisas boas também lhe aconteçam. “A sensação é a de que tudo dá certo para o mundo, menos para ele”, pontua.

É impossível se sentir feliz o tempo todo, assim como também é impossível experienciar apenas situações prazerosas ao longo da vida. Apesar disso, momentos ruins não são admirados ou valorizados nas redes sociais. É quase proibido falar sobre isso. “Vivemos uma época em que não é permitido não estar 100%”, comenta Bauke.

Para a psicóloga, existe uma tirania na internet impedindo que as pessoas se mostrem tais como são. Mesmo que a exposição pessoal on-line seja cada vez maior, ninguém quer ser considerado triste ou aquém dos padrões vigentes de felicidade. Se uma pessoa decide falar sobre seus problemas, pode ser julgada como alguém que almeja atenção ou que deseja apenas se fazer de vítima.

Esse tipo de postura pode acabar afetando sua capacidade de ser verdadeiramente feliz. “Quando nos obrigamos a seguir um padrão, aquilo que realmente sentimos e de que gostamos tem que ser armazenado em algum lugar. Passamos a usar uma máscara, que nem sempre reflete a nossa essência. Ter que fazer isso com frequência é desgastante e frustrante”, afirma a psicóloga. “As expectativas e os padrões sociais sempre existiram, mas com as redes sociais, tudo isso ficou muito mais visível e imediato”.

Retirado e adaptado de: INSTITUTO LONGEVIDADE. **Redes sociais e saúde mental: como a internet pode ajudar a desenvolver depressão e ansiedade.** Disponível em: <https://institutodelongevidade.org/longevidade-e-saude/saude-mental/redes-sociais-e-saude-mental> Acesso em: 23 ago., 2023.



TEXTO 2

## Redes sociais e solidão

Quanto mais conexão, maior o isolamento



### O PERFIL DOS ENTREVISTADOS:



### EPIDEMIA

O autor do estudo, Brian Primack, afirma que os níveis de problemas de saúde mental e isolamento social são epidêmicos entre jovens adultos

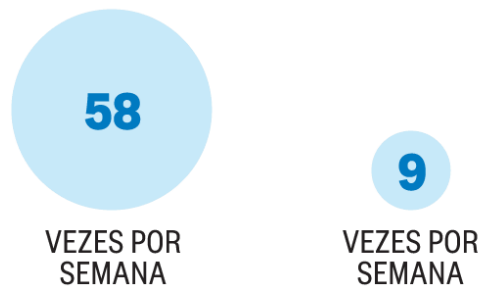
## TEMPO DE USO DAS REDES



→ **Dois vezes mais chances** de experimentarem isolamento social

Segundo a pesquisa, algumas características das redes sociais facilitam a sensação de exclusão

## VISITAS A SITES DAS REDES



→ **Três vezes mais chances** de experimentarem isolamento social

A exposição a representações idealizadas da vida dos outros pode alimentar o sentimento de inveja

Fonte: Eurekaalert.org

Disponível em: <https://oglobo.globo.com/economia/psicologos-alertam-que-uso-de-redes-sociais-pode-alimentar-solidao-21016908> Acesso em: 23 ago., 2023.

TEXTO 3

**SAÚDE MENTAL...**



Disponível em: <https://blogdoaftm.com.br/charge-saude-mental-2/> Acesso em: 23 ago., 2023.

A partir da leitura dos textos motivadores e com base nos conhecimentos construídos ao longo de sua formação, redija um texto dissertativo-argumentativo em modalidade escrita, empregando a norma culta da língua portuguesa, com extensão entre 15 e 25 linhas, sobre o tema “**Relações entre as redes sociais e a saúde da população brasileira**”. Elabore seu texto pautando-o em argumentos, redija-o de forma coesa e coerente com o tipo textual solicitado.

**RASCUNHO**

1	
2	
3	
4	
5	
6	
7	
8	
9	
10	
11	
12	
13	
14	
15	
16	
17	
18	
19	
20	
21	
22	
23	
24	
25	