

Auxiliar de Serviços Gerais Masculino

Antes de iniciar a prova, leia as instruções:

1. Para fazer a prova, você recebeu:

- este caderno de prova;
- um cartão de respostas.

2. Confira:

- **no cartão de respostas:** nome, número e cargo, emprego ou função da sua inscrição.
- **no caderno de prova:** cargo, emprego ou função da sua inscrição e quantidade de questões.

Este caderno contém: 30 questões

Duração da prova: 3 horas

- Incluído o tempo para o preenchimento do cartão de respostas.
- Levar caderno: após 60 minutos de prova.
- Por questões de segurança, o candidato que sair antes desse tempo devolverá ao fiscal da sala, além do cartão de respostas, o caderno de prova.

3. Verifique, no caderno de prova, se:

- faltam folhas e se a sequência e a quantidade de questões estão corretas.
- há imperfeições gráficas que possam causar dúvidas.

4. **Comunique imediatamente ao fiscal qualquer irregularidade! Não serão admitidas reclamações posteriores.**

5. A interpretação das questões é parte integrante da prova, não sendo permitidas perguntas relacionadas ao conteúdo aos fiscais.

6. Não é permitido qualquer tipo de consulta durante a realização da prova, tampouco empréstimo de materiais e comunicação entre os candidatos.

7. **O cartão de respostas é o único documento válido e utilizado para a correção da prova objetiva.** Preencha-o com cuidado, marcando apenas uma alternativa para cada questão.

8. Não rabisque, rasure, amasse ou dobre o cartão de respostas. É vedada a substituição do cartão de respostas decorrente de erro do candidato.

9. Ao concluir a prova, permaneça em seu lugar e comunique ao fiscal de sala, aguardando autorização para entregar o material.

10. Ao terminar a prova, entregue ao fiscal o cartão de respostas devidamente preenchido e assinado.

11. Os três últimos candidatos devem permanecer em sala a fim de acompanhar o fechamento do material.

Fraudar ou tentar fraudar concursos públicos é crime previsto no art. 311-A do Código Penal.

Nome do Candidato:

Nº de Inscrição:

LÍNGUA PORTUGUESA | 5 QUESTÕES

1) Qual alternativa que apresenta a quantidade de vogais e consoantes da palavra “desrespeitado”?

- a) 6 consoantes e 6 vogais.
- b) 5 consoantes e 6 vogais.
- c) 6 consoantes e 7 vogais.
- d) 7 consoantes e 6 vogais.

2) Qual das palavras abaixo é feminina?

- a) Noite.
- b) Poema.
- c) Dia.
- d) Sistema.

3) Assinalar a alternativa em que todas as palavras estão acentuadas CORRETAMENTE.

- a) Contém | pânico | relógio.
- b) Amargo | saúde | pólen.
- c) Água | poder | corréio.
- d) Fugir | ciência | cha.

4) Às vezes, o mesmo som pode ser representado por mais de uma letra do alfabeto, como é o caso de X e CH. Apesar do mesmo som, qual palavra está escrita INCORRETAMENTE?

- a) Brecha.
- b) Faixa.
- c) Boxexa.
- d) Fantoche.

5) Se mudarmos o “eu” na frase “Eu vou correr cedo” para “eles”, como seria a nova forma gramaticalmente CORRETA da frase?

- a) Eles vamos correr cedo.
- b) Eles vai correr cedo.
- c) Eles vou correr cedo.
- d) Eles vão correr cedo.

MATEMÁTICA | 5 QUESTÕES

6) Henrique comprou dois fardos de refrigerante, contendo 12 garrafinhas de 250mL em cada. Sendo assim, assinalar a alternativa que representa a quantidade total de refrigerante em litros.

- a) 6L
- b) 5,5L
- c) 4,5L
- d) 3L

7) Observar a sequência abaixo e assinalar a alternativa que corresponde ao seu 20º termo.

3, 4, 6, 9, 13, 18, 24...

- a) 184
- b) 193
- c) 204
- d) 247

8) Uma fábrica produz 480 unidades de certo produto por dia. Sendo assim, ao todo, quantas unidades são produzidas em 14 dias?

- a) 6.860
- b) 6.800
- c) 6.720
- d) 6.640

9) José Henrique carrega uma variedade de notas e moedas em sua carteira. Ele possui duas cédulas de R\$ 50,00, três de R\$ 20,00 e oito de R\$ 5,00, além de cinco moedas de R\$ 1,00 e três moedas de R\$ 0,05. No total, quanto dinheiro ele tem em sua carteira?

- a) R\$ 160,05
- b) R\$ 185,10
- c) R\$ 205,15
- d) R\$ 210,25

10) Observar a figura abaixo e assinalar a alternativa que corresponde à figura plana a qual ela se assemelha.



- a) Cilindro.
- b) Círculo.
- c) Hexágono.
- d) Quadrado.

CONHECIMENTOS GERAIS | 4 QUESTÕES

11) Segundo a Constituição Federal, constitui crime inafiançável e imprescritível:

- a) A ação de grupos armados civis contra a ordem constitucional e o Estado Democrático.
- b) O tráfico ilícito de entorpecentes e drogas afins.
- c) Os crimes hediondos, por eles respondendo os mandantes e os executores.
- d) A prática de tortura.

12) Os crimes mais comuns entre a população carcerária brasileira refletem uma combinação de fatores sociais, econômicos e legais. Entre os seguintes, os crimes que se constituem como os principais para o encarceramento são:

- a) Roubo e furto.
- b) Homicídios e feminicídios.
- c) Estupro e corrupção.
- d) Pedofilia e racismo.

13) O Dia da Terra é comemorado em 22 de abril para conscientizar a população sobre a importância da preservação ambiental. Nesse sentido, assinalar a alternativa que apresenta uma prática nociva ao meio ambiente.

- a) Reciclar o lixo.
- b) Preservar a vegetação nativa e os cursos d'água.
- c) Comprar animais silvestres sem o devido licenciamento ambiental.
- d) Economizar água e energia.

14) De acordo com a Lei Orgânica do Município, o poder legislativo é exercido pela:

- a) Prefeitura Municipal.
- b) Câmara Municipal.
- c) Secretaria de Administração Municipal.
- d) Procuradoria Municipal.

CONHECIMENTOS ESPECÍFICOS | 16 QUESTÕES

15) De acordo com a Lei Municipal nº 3/1993 – Regime Jurídico Único dos Servidores Públicos do Município, NÃO é considerado requisito básico para ingresso no serviço público:

- a) Gozo dos direitos políticos.
- b) Nacionalidade brasileira ou equiparada.
- c) Boa saúde física e mental.
- d) Ter sido demitido do serviço público municipal.

16) Com base na Lei Municipal nº 3/1993 – Regime Jurídico Único dos Servidores Públicos do Município, o servidor habilitado em concurso público e empossado em cargo de carreira adquirirá estabilidade no serviço ao completar:

- a) Três anos de efetivo exercício.
- b) Dois anos de efetivo exercício.
- c) Quatro anos de efetivo exercício.
- d) Cinco anos de efetivo exercício.

17) Um colega sofreu um corte superficial no antebraço. Nesse caso, qual das seguintes ações iniciais de primeiros socorros é a mais apropriada?

- a) Lavar o corte com água corrente e sabão neutro.
- b) Apertar bem o corte com o pano que estiver à disposição.
- c) Limpar bem a área afetada com água sanitária.
- d) Aplicar alguma pomada que conseguir encontrar no trabalho.

18) É o tipo de tinta mais utilizado para a pintura de meio fio, calçadas e postes, e apresenta entre as suas características principais a economia:

- a) Esmalte sintético.
- b) Látex.
- c) Tinta à base de epóxi.
- d) Tinta à base de cal.

19) Para realizar a pavimentação de vias, pode ser necessário efetuar a terraplenagem da área. Na terraplenagem, o movimento de terra pode ser:

- I. Manual: quando é executado pelo homem por meio de ferramentas (pá, enxada e carrinho de mão).
- II. Mecanizado: quando a escavação, o carregamento e o transporte são efetuados pela própria máquina.

Está CORRETO o que se afirma:

- a) Apenas no item I.
- b) Apenas no item II.
- c) Em ambos os itens.
- d) Em nenhum dos itens.

20) Na manutenção de redes elétricas prediais, a decapagem das extremidades dos condutores deve ser feita com ferramentas apropriadas e de um tamanho mínimo correspondente a 40 vezes a bitola do fio. Em um fio de 2,5mm de diâmetro, o tamanho mínimo decapado em cada ponta deve ser de:

- a) 2cm
- b) 5cm
- c) 10cm
- d) 25cm

21) Assinalar a alternativa que preenche a lacuna abaixo CORRETAMENTE.

O _____ é um material pulverulento, isto é, se apresenta em estado de pó fino, constituído de silicatos e aluminatos de cálcio. Esses componentes, ao serem misturados com a água, hidratam-se e produzem o endurecimento da massa, oferecendo elevada resistência mecânica.

- a) pó de brita
- b) cimento
- c) saibro
- d) concreto

22) É indicada para trabalhos que exijam apertar ou soltar porcas e parafusos com cabeça sextavada, e existem modelos de vários diâmetros:

- a) Chave Allen.
- b) Chave de boca.
- c) Chave Torx.
- d) Chave Phillips.

23) A impermeabilização de lajes é um procedimento essencial para proteger a estrutura de edificações contra infiltrações de água. Sobre a preparação da superfície para receber a impermeabilização, avaliar se as afirmativas são certas (C) ou erradas (E) e assinalar a sequência correspondente.

- () A laje deve ser limpa, removendo poeira, detritos, óleos, graxas e qualquer outro material que possa comprometer a aderência dos produtos impermeabilizantes.
- () Fissuras, buracos ou imperfeições na superfície devem ser reparados com argamassa adequada.

- a) C - C.
- b) E - E.
- c) C - E.
- d) E - C.

24) Na construção civil, na confecção de formas de madeira para concretagem, o profissional deve atentar-se a alguns cuidados técnicos, como:

- I. Verificar se a madeira está seca (não está verde).
- II. Verificar se a madeira está isenta de fungos, defeitos e corretamente serrada.
- III. Molhar a forma até a saturação da madeira antes do lançamento do concreto.

Está CORRETO o que se afirma:

- a) Apenas nos itens I e II.
- b) Apenas nos itens I e III.
- c) Apenas nos itens II e III.
- d) Em todos os itens.





25) No atendimento ao público, o cidadão que necessita ser atendido sente-se satisfeito com o atendimento quando o funcionário age de forma:

- a) Insegura.
- b) Hostil.
- c) Autoritária.
- d) Profissional.

26) Para evitar os acidentes de trabalho, é essencial o conhecimento sobre transporte e manuseio de cargas. O que torna o manuseio ou o transporte de cargas perigoso?

- a) A estabilidade da carga e seu fácil manuseio.
- b) Um ambiente de trabalho adequado, com equipamentos organizados.
- c) A falta de experiência, de formação ou de familiaridade com o transporte de cargas pesadas.
- d) Caminhos desobstruídos e superfícies estáveis.

27) Assinalar a alternativa que apresenta a imagem de uma ferramenta chamada “desempenadeira”.

- a) 
- b) 
- c) 
- d) 

28) Um trabalhador nota que o cabo de uma ferramenta elétrica está desgastado, expondo os fios. Qual a atitude correta que ele deve tomar?

- a) Continuar utilizando a ferramenta normalmente.
- b) Consertar a área danificada com fita crepe e continuar usando a ferramenta.
- c) Interromper o uso da ferramenta e providenciar seu conserto ou substituição, se necessário.
- d) Trocar a ferramenta com um colega para que ele use.

29) Logística reversa é um:

- a) Método de transporte de resíduos para aterros sanitários.
- b) Simples método de separação de resíduos segundo a sua composição.
- c) Sistema que previne a coleta seletiva.
- d) Sistema que envolve o retorno de produtos após o consumo para serem reutilizados ou reciclados.

30) O traço de concreto a seguir foi confeccionado para ser empregado em uma concretagem de laje.

1 : 1,5 : 3

É CORRETO afirmar que o número “1,5” representa o seguinte material:

- a) Cimento.
- b) Areia.
- c) Brita.
- d) Cal.