


## SERVENTE

### INSTRUÇÕES AO CANDIDATO

**Devido a declaração de pandemia da Organização Mundial de Saúde datada de 30 de janeiro de 2020, em decorrência da Infecção Humana provocada pelo novo coronavírus (COVID-19), serão adotadas medidas de proteção à infecção aos candidatos, fiscais de sala, corredor e organização, de acordo com a Portaria SES nº 714/2020 e as normas estabelecidas nas unidades de ensino que serão utilizadas para a aplicação da prova.**

**É obrigatório o uso de máscara em todos os ambientes do local da prova.**

- **Durante a realização da prova não será permitido ao candidato, sob pena de exclusão do Concurso Pública:**
  - a) Qualquer espécie de consulta bibliográfica, utilização de livros, manuais ou anotações;
  - b) Comunicação entre candidatos;**
  - c) Uso de máquina calculadora;
  - d) Uso de relógio de qualquer tipo;
  - e) Agendas eletrônicas, telefones celulares, smartphones, MP3, notebook, palmtop, tablet, BIP, walkman, gravador ou qualquer outro receptor ou transmissor;
  - f) Uso de óculos escuros, bonés, protetores auriculares e outros acessórios similares;
  - g) Perturbar de qualquer modo a execução dos trabalhos;
- Todas as respostas do Caderno de Prova deverão ser transportadas para o Cartão Resposta;
- Não serão computadas as questões não assinaladas ou que contenham mais de uma resposta, ementa ou rasura;
- O gabarito da letra escolhida deve ser pintado de forma a completar todo o círculo. Exemplo:  

- Para a realização da Prova Escrita, o candidato deverá utilizar caneta esferográfica de tinta azul ou preta;
- Após a realização da prova, o candidato deverá afastar-se do local;
- Ao terminar a prova, o candidato entregará ao fiscal o Caderno de Prova e o Cartão Resposta devidamente **preenchido e assinado**;

## CONCURSO PÚBLICO Nº 43/2021 – PREFEITURA MUNICIPAL DE IPUMIRIM – SC

- Os 03 últimos candidatos permanecerão até o último concluir, os quais assinarão a ata de encerramento, juntamente com os fiscais, efetuarão a conferência dos Cartões-Resposta, cujas irregularidades serão apontadas na referida ata, e assinarão o lacre dos envelopes em que forem guardados os Cartões-Resposta;
- A Prova escrita terá início às 08h00min com término às 11h00min. A duração mínima para realização da prova é de 30 (trinta) minutos, com tempo máximo de 03h00min (três) horas. A Prova será composta por questões de múltipla escolha, sendo cada questão composta de 05 alternativas (a, b, c, d, e), possuindo somente uma alternativa correta;
- O Caderno de Provas será composto:

CONTEÚDO	Nº DE QUESTÕES
Língua Portuguesa	05 (cinco)
Matemática e Raciocínio Lógico	05 (cinco)
Conhecimentos Gerais	05 (cinco)
Conhecimentos Específicos	15 (quinze)
<b>Total de Questões</b>	<b>30 (trinta)</b>

- Verifique se o Caderno de Provas está completo, sem falhas de impressão e se a quantidade de questões está correta;
- Você deverá transcrever as respostas das questões para o Cartão-Resposta, que será o **único documento válido para a correção das provas.**
- **O preenchimento do Cartão Resposta é de inteira responsabilidade do candidato e não será substituído em caso de erro do candidato.**

BOA PROVA!

## Língua Portuguesa

O texto seguinte servirá de base para responder às questões de 1 a 3.

### Apagão em escala planetária festejará o brilho das estrelas

Pouca gente ouviu falar de poluição luminosa, mas tal coisa existe e é um pesadelo na vida de astrônomo, pois \_\_\_\_\_ a beleza do céu estrelado. Não foram os astros que perderam o frescor, a \_\_\_\_\_ é que iluminou intensamente a Terra e ofuscou a noite. A poluição luminosa é causada pelo excesso de iluminação urbana. (...) Para chamar a atenção para o \_\_\_\_\_, astrônomos de diversos países começaram a organizar algo como o dia mundial do céu escuro. A ideia é que as luzes das cidades fossem apagadas por alguns instantes. (...)

(Revista O Globo, Rio de Janeiro.)

### Questão 01

As lacunas serão preenchidas, corretamente e pela ordem, por:

- (A) Roba, humanidade, poblema.
- (B) Rouba, humanidade, problema.
- (C) Rouba, humanidade, problema.
- (D) Rouba, humanidade, poblema.
- (E) Roba, humanidade, poblema.

### Questão 02

Leia as seguintes palavras:

**poluição, vida, frescor, noite, dia, instantes.**

A ordem alfabética CORRETA é:

- (A) Instantes, dia, frescor, poluição, noite, vida.
- (B) Dia, instantes, frescor, noite, vida, poluição.
- (C) Frescor, dia, instantes, vida, poluição, noite.
- (D) Dia, frescor, instantes, noite, poluição, vida.
- (E) Frescor, instantes, dia, poluição, vida, noite.

### Questão 03

De acordo com o texto, é INCORRETO afirmar que:

- (A) O objetivo do texto é informar a preocupação dos astrônomos.
- (B) Os astrônomos do mundo inteiro começaram a organizar o dia mundial do céu escuro.
- (C) O excesso de iluminação é uma preocupação para os astrônomos porque impede a completa observação das estrelas.

- (D) A razão principal da poluição luminosa urbana é a pouca iluminação das cidades e a economia de energia.
- (E) A causa da poluição luminosa é o excesso de iluminação urbana.

### Questão 04

Assinale a alternativa em que NÃO há erro ortográfico:

- (A) Tenho certesa de que é mentira.
- (B) Aprenderam o pixador do monumento mais importante da cidade.
- (C) Decidiram canalisar o rio que passava na rua central da cidade.
- (D) O banco fez a concessão de um empréstimo aos agricultores.
- (E) A excurção da qual participamos foi exelente.

### Questão 05

Leia o texto abaixo:

A Terra está sempre girando sobre si mesma como se fosse um pião. E ao girar, faz com que o Sol surja de um lado e desapareça de outro. Esse movimento é a rotação.

O plural de **pião** e de **rotação** é, respectivamente:

- (A) Piãos, rotações.
- (B) Piões, rotações.
- (C) Piões, rotações.
- (D) Pião, rotação.
- (E) Piãos, rotações.

## Matemática e Raciocínio Lógico

### Questão 06

Se em 2 dias de trabalho Fernanda consegue fazer 1.800 salgados, quantos ela conseguirá fazer em 6 dias?

- (A) Ela conseguirá fazer 15.000 salgados.
- (B) Ela conseguirá fazer 10.000 salgados.
- (C) Ela conseguirá fazer 20.000 salgados.
- (D) Ela conseguirá fazer 5.000 salgados.
- (E) Ela conseguirá fazer 5.400 salgados.

### Questão 07


A professora Ângela vai fazer um trabalho com seus 33 alunos e precisa formar 8 grupos com o maior número possível de componentes em cada um. Qual das alternativas abaixo indica a forma CORRETA de arrumar esses grupos?

- (A) 4 grupos com 4 alunos e 4 grupos com 5 alunos.
- (B) 6 grupos com 5 alunos e 1 grupo com 3 alunos.

- (C) 5 grupos com 5 alunos e 2 grupos com 4 alunos.
- (D) 7 grupos com 4 alunos e 1 grupo com 5 alunos.
- (E) 5 grupos com 6 alunos e 3 grupos com 1 alunos.

### Questão 08

Qual das alternativas informa a hora indicada no relógio abaixo?



- (A) 10h10min.
- (B) 10h20min.
- (C) 9h10min.
- (D) 8h18min.
- (E) 11h02min.

### Questão 09

Leila foi até uma loja e comprou 3 camisetas de R\$ 36,00 cada, 1 bermuda de R\$ 54,00. Se Leila dividiu sua compra em 2 vezes, qual foi o valor de cada parcela?

- (A) O valor de cada parcela foi de R\$ 78,00.
- (B) O valor de cada parcela foi de R\$ 81,00.
- (C) O valor de cada parcela foi de R\$ 64,00.
- (D) O valor de cada parcela foi de R\$ 74,00.
- (E) O valor de cada parcela foi de R\$ 92,00.

### Questão 10

Faça o reconhecimento das figuras geométricas abaixo e indique a alternativa que traz seus nomes, na ordem CORRETA.



- (A) Quadrado, bola e triângulo.
- (B) Losango, círculo e pirâmide.
- (C) Retângulo, círculo e triângulo.
- (D) Losango, bola e pirâmide.
- (E) Quadrado, bola e pirâmide.

## Conhecimentos Gerais

### Questão 11

Maior símbolo da resistência negra no Brasil, (...) era refúgio para os povos escravizados no século XVII. Localizado na Serra da Barriga, em União dos Palmares, Alagoas, o local que um dia esteve sob o comando do líder guerreiro Zumbi dos Palmares é hoje patrimônio internacional e destino turístico cada vez mais procurado.

De janeiro a outubro deste ano, 13 mil turistas de 16 países visitaram a Serra da Barriga, a maior parte dos Estados Unidos, Alemanha, França, Argentina e Colômbia. Número expressivo, considerando as restrições por causa da pandemia do coronavírus.

Com a retomada do turismo e as comemorações do Dia Nacional da Consciência Negra, celebrado neste sábado (20/11), a expectativa é de que dobre o número de visitantes.

Disponível em <https://g1.globo.com/>

Assinale a alternativa CORRETA contendo o nome do ponto turístico acima descrito, sendo um quilombo da era colonial brasileira e que foi o maior quilombo que existiu na América Latina.

- (A) Quilombo de Itabaiana.
- (B) Quilombo do Livramento.
- (C) Quilombo do morro do desterro.
- (D) Quilombo do rio Vermelho.
- (E) Quilombo dos Palmares.

### Questão 12



O símbolo oficial acima, do Município de Ipumirim/SC, é o(a):

- (A) Slogan.
- (B) Brasão.
- (C) Protótipo de imagem.
- (D) Bandeira.
- (E) Hino.

## Questão 13

O município de Ipumirim é localizado no(a):

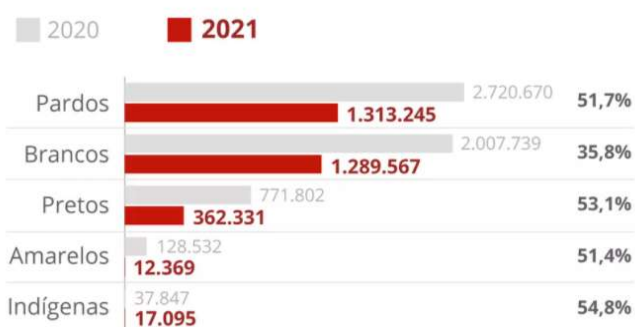
Disponível em <https://www.sc.gov.br/conhecasc/municipios-de-sc/ipumirim>

- (A) Planalto Sul de Santa Catarina.
- (B) Caminhos dos Príncipes.
- (C) Foz do Rio Itajaí.
- (D) Vale do Contestado.
- (E) Litoral Norte de Santa Catarina.

## Questão 14

### Queda de inscritos por raça

Queda de indígenas e pretos são as maiores



Fonte: Simesp/Inep



Infográfico elaborado em: 24/08/2021

No total, 3.109.762 pessoas se inscreveram para essa edição da prova, menor número registrado desde 2005. Houve ainda uma redução mais acentuada na participação de pretos, pardos e indígenas em comparação com a última edição da prova.

Entre as várias dificuldades enfrentadas pelos alunos na pandemia para se dedicarem aos estudos, o g1 ouviu relatos de estudantes que perderam os pais pela Covid, outros que não conseguiram se adaptar ao ensino à distância, outros, ainda, que tiveram que trabalhar para ajudar a família e muitos que não tiveram acesso a computador nem internet com qualidade.

Disponível em <https://g1.globo.com/educacao/>

Assinale a alternativa CORRETA contendo o nome da prova acima descrita, a qual tem o objetivo de avaliar o desempenho escolar dos estudantes ao término da educação básica.

- (A) Exame Nacional para Certificação de Competências de Jovens e Adultos (Encceja).
- (B) Exame Nacional de Desempenho dos Estudantes (Enade).
- (C) Programa Nacional de Avaliação da Educação Básica (PNAEB).

- (D) Exame Nacional do Ensino Médio (Enem).
- (E) Exame de Verificação de Aprendizagem (EVA).

## Questão 15

O aumento da temperatura média dos oceanos e da camada de ar próxima à superfície da Terra que pode ser consequência de causas naturais e atividades humanas. Isto se deve principalmente ao aumento das emissões de gases na atmosfera que causam o efeito estufa, principalmente o dióxido de carbono (CO<sub>2</sub>) é chamado de:

[https://www.wwf.org.br/natureza\\_brasileira/reducao\\_de\\_impactos2/clima/mudancas\\_climaticas2/](https://www.wwf.org.br/natureza_brasileira/reducao_de_impactos2/clima/mudancas_climaticas2/)

- (A) Temperatura elevada.
- (B) Resfriamento global.
- (C) Aquecimento global.
- (D) Maximização do clima.
- (E) Elevação humana climática.

## Conhecimentos Específicos


### Questão 16

No assentamento de blocos e tijolos, a mais utilizada para argamassas, é a areia:

- (A) Fina.
- (B) Grossa.
- (C) Média.
- (D) Lavada.
- (E) Usinada.

### Questão 17

A forma representada abaixo precisa ser preenchida com água. Quantos litros serão necessários, sabendo que as arestas do cubo medem 3 metros?



- (A) 9.000 litros.
- (B) 9 litros.
- (C) 2.700 litros.
- (D) 27 litros.
- (E) 27.000 litros.

## Questão 18

Um jardim bonito e saudável é sempre um cenário de encher os olhos. A ferramenta adequada para tirar ervas daninhas e outros vegetais que não são bem-vindos, pois retira somente o indesejado, e não interfere na raiz de sua planta é:

- (A) O ancinho.
- (B) A tesoura de poda.
- (C) O arrancador de inço.
- (D) O enxadão.
- (E) O rastelo.

## Questão 19

Assinale a alternativa abaixo que se refere a uma das plantas elaboradas por um arquiteto ou engenheiro, descrita abaixo:

É um desenho esquemático onde são dadas as informações sobre o terreno e a construção como um todo. É obtida através da vista superior do lote onde se situa a construção.

- (A) Planta de Situação.
- (B) Planta Baixa.
- (C) Planta de Localização.
- (D) Planta de Fachada.
- (E) Planta de Corte.

## Questão 20

O tijolo baiano ou tijolo de furo é o tipo mais comum no Brasil, devido ao seu preço reduzido e à facilidade de ser encontrado em lojas de materiais para construção. Esse tipo de tijolo que apresenta maior resistência é aquele que possui:

- (A) 08 furos.
- (B) 09 furos.
- (C) 03 furos.
- (D) 04 furos.
- (E) 06 furos.

## Questão 21

Para que uma bota de segurança fornecida pelo empregador esteja de acordo com as normas de segurança, ela deve possuir obrigatoriamente:

- (A) CQ - Certificado de Qualidade.
- (B) SS - Selo de Segurança.
- (C) AS - Selo de Autenticação.
- (D) CA - Certificado de Aprovação.
- (E) CI - Certificado de Inspeção.

## Questão 22

Entre as ferramentas indispensáveis para a construção civil, a desempenadeira é composta por uma base que pode ser de madeira, plástico ou metal, lisa ou dentada, e uma alça para apoio. Para aplicação de pisos e revestimentos deve-se utilizar a desempenadeira:

- (A) De espuma.
- (B) Lisa.
- (C) Borda redonda.
- (D) Face dentada.
- (E) Reta.

## Questão 23

Assinale a alternativa que completa a afirmação abaixo **corretamente**:

Qualquer queda de altura acima de \_\_\_\_\_ de uma superfície é considerada acidente em altura, o que significa que os profissionais dessa área devem seguir as recomendações da NR 35.

- (A) 1,5 metros
- (B) 1,8 metros
- (C) 1,2 metros
- (D) 2,0 metros
- (E) 2,5 metros

## Questão 24

A obediência às ordens do superior imediato dentro do serviço público é:

- (A) Esporádica.
- (B) Ilimitada.
- (C) Incondicional.
- (D) Facultativa.
- (E) Condicional.

## Questão 25

Com relação à limpeza de portas e janelas de alumínio, assinale a alternativa **INCORRETA**:

- (A) É necessário secar o produto com pano limpo, seco e macio.
- (B) Devem ser limpas com pano macio.
- (C) Deve-se dar preferência às esponjas de aço.
- (D) Devem ser limpas sempre fazendo o movimento de cima para baixo.
- (E) Devem ser limpas com água e sabão neutro.

## Questão 26

Quem trabalha com construção sabe que o traço é um cálculo muito importante na hora de misturar os materiais para produzir reboco, concreto ou chapisco. Para fazer

chapisco e garantir porosidade e melhor aderência do revestimento posterior, utilizamos:

- (A) 02 medidas de areia + 01 medida de cimento + 03 medidas de pedra + 01 medida de água.
- (B) 06 medidas de areia + 01 medida de cimento + 01 medida de água.
- (C) 03 medidas de areia + 02 medidas de cimento + 01 medida de água.
- (D) 07 medidas de areia + 01 medida de cimento + 01 medida de argamassa + 01 medida de água.
- (E) 03 medidas de areia + 01 medida de cimento + 01 medida de água.

### Questão 27

Para a limpeza de bueiros, "bocas de lobo", é necessário, dentre outras, as seguintes ferramentas:

- (A) Ancinho, pá de corte e carrinho de puxar.
- (B) Cavador, enxada e carrinho de mão.
- (C) Pá, enxadão e carrinho de carga tipo tubular.
- (D) Pá, enxada e carrinho de mão.
- (E) Picareta, cavador e carinho de carga tipo tubular.

### Questão 28

O mestre de obras, pedreiro ou um servente precisa utilizar os dados em escala no desenho e transportá-los para a obra. Num desenho de engenharia com escala 1:25, significa que:

- (A) 1 centímetro no desenho corresponde a 125 metros.
- (B) 1 centímetro no desenho corresponde a 2,5 metros.
- (C) 1 centímetro no desenho corresponde a 0,25 metros.
- (D) 1 centímetro no desenho corresponde a 1,25 metros.
- (E) 1 centímetro no desenho corresponde a 25 metros.

### Questão 29

Julgue se as afirmações abaixo são verdadeiras e em seguida assinale a alternativa CORRETA:

I. Seja um jardim de flores ou de vegetais, a melhor hora do dia para regar é sempre de manhã.

II. Uma excelente opção para a área externa são as vassouras de nylon, que, com cerdas mais longas e duras que as da piaçava, são ideais para varrer calçadas, cerâmicas e outros pisos rústicos.

III. A operação que consiste em transportar uma referência de nível marcada em uma determinada altura para outro local, estabelecendo assim um plano horizontal, é denominada alinhamento.

- (A) Somente as afirmações II e III são verdadeiras.
- (B) As afirmações I, II e III são verdadeiras.
- (C) As afirmações I, II e III não são verdadeiras.
- (D) Somente as afirmações I e III são verdadeiras.

- (E) Somente as afirmações I e II são verdadeiras.

### Questão 30

Assinale a alternativa INCORRETA no que diz respeito aos tipos de produtos de limpeza descritos abaixo:

- (A) O desengordurante deve ser utilizado direto na superfície e depois enxaguado com água.
- (B) O sabão em barra ou sabão de coco é um produto detergente e desengordurante e deve ser utilizado sempre com água para fazer a espuma e, em seguida, enxaguá-lo.
- (C) Não se deve utilizar o álcool na limpeza de áreas muito grandes.
- (D) O detergente é um produto com base neutra, o que ajuda em limpezas menos profundas.
- (E) Os multiusos são produtos com baixo teor alcalino que agem sobre óleos e gorduras. São ideais para a limpeza de superfícies de madeira ou materiais porosos.