


AUXILIAR DE EDUCAÇÃO BÁSICA

INSTRUÇÕES AO CANDIDATO

- **Durante a realização da prova não será permitido ao candidato, sob pena de exclusão do Concurso Público:**
 - a) Qualquer espécie de consulta bibliográfica, utilização de livros, manuais ou anotações;
 - b) Comunicação entre candidatos;**
 - c) Uso de máquina calculadora;
 - d) Uso de relógio de qualquer tipo;
 - e) Agendas eletrônicas, telefones celulares, smartphones, MP3, notebook, palmtop, tablet, BIP, walkman, gravador ou qualquer outro receptor ou transmissor;
 - f) Uso de óculos escuros, bonés, protetores auriculares e outros acessórios similares;
 - g) Perturbar de qualquer modo a execução dos trabalhos;

- Todas as respostas do Caderno de Prova deverão ser transportadas para o Cartão Resposta;
- Não serão computadas as questões não assinaladas ou que contenham mais de uma resposta, ementa ou rasura;
- O gabarito da letra escolhida deve ser pintado de forma a completar todo o círculo. Exemplo:



- Para a realização da Prova Escrita, o candidato deverá utilizar caneta esferográfica de tinta azul ou preta;
- Após a realização da prova, o candidato deverá afastar-se do local;
- Ao terminar a prova, o candidato entregará ao fiscal o Caderno de Prova e o Cartão Resposta devidamente **preenchido e assinado**;
- Os 03 últimos candidatos permanecerão até o último concluir, os quais assinarão a ata de encerramento, juntamente com os fiscais, efetuarão a conferência dos Cartões-Resposta, cujas irregularidades serão apontadas na referida ata, e assinarão o lacre dos envelopes em que forem guardados os Cartões-Resposta;
- A Prova escrita terá início às 08h30min com término às 11h00min. A duração mínima para realização da prova é de 01 (uma) hora, com tempo máximo de 02h30min (duas horas e trinta minutos). A Prova será composta por questões de múltipla escolha, sendo cada questão composta de 05 alternativas (a, b, c, d, e), possuindo somente uma alternativa correta;

- O Caderno de Provas será composto:

CONTEÚDO	Nº DE QUESTÕES
Língua Portuguesa	05 (cinco)
Matemática e Raciocínio Lógico	05 (cinco)
Conhecimento Gerais e atualidades	05 (cinco)
Conhecimentos Específicos	25 (vinte e cinco)
Total de Questões	40 (quarenta)

- Verifique se o Caderno de Provas está completo, sem falhas de impressão e se a quantidade de questões está correta;
- Você deverá transcrever as respostas das questões para o Cartão-Resposta, que será o **único documento válido para a correção das provas.**
- **O preenchimento do Cartão Resposta é de inteira responsabilidade do candidato e não será substituído em caso de erro do candidato.**

BOA PROVA!

Língua Portuguesa

O texto seguinte servirá de base para responder às questões de 1 a 5.

Existe quantidade segura de consumo de álcool?

Diferentemente do Canadá, o Brasil não tem um consenso determinado por uma entidade médica nacional, mas segue a recomendação da OMS (Organização Mundial da Saúde), que também afirma não existir um padrão de consumo de álcool que seja absolutamente seguro.

Atualmente, não existem definições oficiais para dose padrão e consumo moderado no Brasil.

O CISA (Centro de Informações sobre Saúde e Álcool) considera que uma dose padrão corresponde a 14g de etanol puro no contexto brasileiro. Isso corresponde a 350 ml de cerveja (5% de álcool), 150ml de vinho (12% de álcool) ou 45ml de destilado (como vodca, cachaça e tequila, com aproximadamente 40% de álcool).

Já a OMS define como dose padrão 10g de etanol puro, e recomenda que homens e mulheres não excedam duas doses por dia e que se abstenham de beber pelo menos dois dias por semana.

Pela diretriz canadense, a quantidade de uma dose para mulher e duas doses para homem como limite também é considerada uma quantidade baixa, mas por semana, e não por dia, como indica a OMS.

"Esta diretriz sobre o álcool é uma recomendação dura e forte - e é claro que não sou contra, são considerações feitas com base em estudos médicos. Mas deve-se também considerar o ponto de vista sociocultural - dependendo do país, é algo muito fácil de ser quebrado. Se um casal divide uma garrafa de vinho em um jantar comemorativo, já está fora do limite", avalia Arthur Guerra, psiquiatra e presidente do CISA.

"Esse consumo moderado, no entanto, leva em conta o organismo de uma pessoa completamente saudável - sem qualquer doença crônica, como diabetes e hipertensão, que atingem cerca de 9% e 26% dos brasileiros, respectivamente, ou mesmo indivíduos que têm histórico familiar de alcoolismo", aponta Álvaro Pulchinelli, toxicologista do Fleury Medicina e Saúde.

De acordo com o presidente do CISA, o mesmo vale para quem tem doenças psiquiátricas.

"Pacientes com doenças como depressão, ansiedade, esquizofrenia, não deveriam consumir álcool. E, se eventualmente, em uma celebração, a pessoa beber uma taça, isso significa que vai afetar o quadro psiquiátrico base? Não necessariamente. Mas o uso regular da bebida é totalmente contraindicado", afirma Guerra.

<https://www.bbc.com/portuguese/articles/c4nzekg26ddo>. Adaptado.

Questão 01

Uma recente mudança na recomendação de consumo

de álcool no Canadá chamou atenção pelo rigor - de acordo com o documento, a única quantidade segura de álcool é zero, nenhuma gota.

De acordo com o texto base:

- (A) Apesar de a Organização Mundial da Saúde e de o Centro de Informações sobre Saúde e Álcool estabelecerem valores, a verdade é que, no Brasil, doses como padrão oficial de consumo são inexistentes.
- (B) Para o psiquiatra Pulchinelli, tudo depende de dados como os índices de diabetes, cerca de 26%, e de hipertensão, cerca de 9%, no caso referente à população brasileira.
- (C) Enquanto o Canadá define duas doses por dia, variando entre homem e mulher, a Organização Mundial da Saúde estabelece uma quantidade baixa, sendo duas doses por semana.
- (D) o CISA prevê que, em qualquer situação, seja de pessoas saudáveis ou com problemas toxicológicos, beber não é seguro, principalmente em casos de doenças relacionadas ao vício, conforme as palavras de Pulchinelli.
- (E) Segundo Arthur Guerra, médico toxicologista, a questão depende das condições culturais e sociais de um determinado país, e mesmo assim, sendo fácil burlar tais recomendações.

Questão 02

E, se 'eventualmente', em uma celebração, a pessoa beber uma taça...

O vocábulo em destaque é um advérbio de:

- (A) Tempo.
- (B) Modo.
- (C) Circunstância.
- (D) Causalidade.
- (E) Dúvida.

Questão 03

Esta diretriz sobre o álcool é uma recomendação dura e forte.

Transpondo o verbo para o pretérito mais que perfeito do indicativo, tem-se:

- (A) Esta diretriz sobre o álcool fora uma recomendação dura e forte.
- (B) Esta diretriz sobre o álcool seria uma recomendação dura e forte.
- (C) Esta diretriz sobre o álcool era uma recomendação dura e forte.
- (D) Esta diretriz sobre o álcool fosse uma recomendação dura e forte.
- (E) Esta diretriz sobre o álcool foi uma recomendação dura e forte.

Questão 04

A quantidade de uma dose para mulher e duas doses para homem como limite também é considerada uma quantidade baixa.

Assinale a opção CORRETA.

- (A) O núcleo do sujeito é 'quantidade de uma dose'.
- (B) O sujeito da oração é simples.
- (C) O predicado é verbo-nominal.
- (D) Os sujeitos são 'uma dose' e 'duas doses'.
- (E) O sujeito da oração é composto.

Questão 05

Diferentemente do Canadá, o Brasil não tem um consenso de uma entidade médica; segue a recomendação da Organização Mundial da Saúde, que também afirma não existir um padrão de consumo de álcool que seja seguro.

Assinale a opção CORRETA quanto à acentuação gráfica.

- (A) 'Álcool' é acentuado por ser paroxítono terminado em L.
- (B) 'Saúde' e 'médica' são acentuados por serem proparoxítonas.
- (C) 'Médica' e 'álcool' são vocábulos acentuados pela mesma regra.
- (D) 'Não' é acentuado por ser um monossílabo tônico terminado em 'o'.
- (E) 'Organização' e 'padrão' são vocábulos acentuados por serem oxítonos terminados em 'o'.

Matemática e Raciocínio Lógico

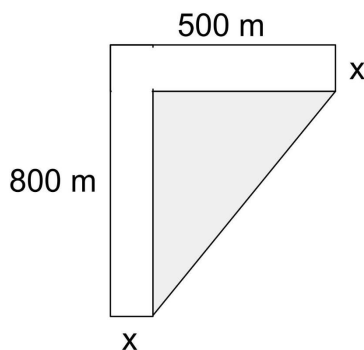
Questão 06

Um grupo de estudantes se organizou na montagem de 3 murais, mas descobriu que precisam montar 9. Se elas chamaram mais 8 amigas para o trabalho, quantas estudantes, ao todo, serão necessárias para montar os 9 murais?

- (A) Serão necessárias 7 estudantes.
- (B) Serão necessárias 12 estudantes.
- (C) Serão necessárias 13 estudantes.
- (D) Serão necessárias 5 estudantes.
- (E) Serão necessárias 15 estudantes.

Questão 07

Na interseção de duas ruas de largura $x = 60$ m, formou-se uma região triangular onde a comunidade decidiu fazer uma praça. Qual será a área da praça?



De acordo com as medidas dadas na imagem, qual será a área (A) da praça?

- (A) $A = 256.200 \text{ m}^2$
- (B) $A = 249.500 \text{ m}^2$
- (C) $A = 162.800 \text{ m}^2$
- (D) $A = 189.900 \text{ m}^2$
- (E) $A = 127.850 \text{ m}^2$

Questão 08

Gustavo fez uma aplicação de R\$ 5.000,00 a juros simples de 3% ao mês durante 2 anos e depois desse período ele aplicou o montante acumulado a juros simples de 12% ao trimestre, por 5 anos. Qual foi o valor total acumulado por Gustavo ao final das duas aplicações?

- (A) O total acumulado foi de R\$ 19.852,00.
- (B) O total acumulado foi de R\$ 24.320,00.
- (C) O total acumulado foi de R\$ 29.240,00.
- (D) O total acumulado foi de R\$ 32.650,00.
- (E) O total acumulado foi de R\$ 58.431,50.

Questão 09


Betina pretende usar as letras do seu nome para fazer uma senha de quatro dígitos. De quantas maneiras diferentes ela poderá fazer essa senha?

- (A) De 290 maneiras diferentes.
- (B) De 456 maneiras diferentes.
- (C) De 198 maneiras diferentes.
- (D) De 520 maneiras diferentes.
- (E) De 360 maneiras diferentes.

Questão 10

Uma empresa produziu cilindros de papelão 152 mm para uma prefeitura que os usará no armazenamento de papéis descartados e triturados, que serão

encaminhados para reciclagem.



Sendo a imagem acima a planificação do material usado para fazer os cilindros, qual será o volume (V) de papel triturado que cada um armazenará? (faça $\pi = 3,14$)

- (A) $V = 1,6872 \text{ m}^3$
- (B) $V = 2,051 \text{ m}^3$
- (C) $V = 1,418 \text{ m}^3$
- (D) $V = 0,5982 \text{ m}^3$
- (E) $V = 0,7536 \text{ m}^3$

Conhecimentos Gerais e Atualidades

Questão 11

"O hidrogênio, que é o elemento químico mais abundante na natureza, é considerado o combustível do futuro no Rio Grande do Sul e em várias partes do Brasil e do mundo. Os grandes acordos internacionais preveem que o hidrogênio verde (H_2V) se tornará um importante recurso energético até 2050".

Fonte: <https://estado.rs.gov.br/rs-aposta-no-hidrogenio>

-verde-como-combustivel-do-futuro

Dentro do tema ciências da natureza e suas tecnologias, o hidrogênio verde é uma grande aposta para o futuro dos combustíveis, a sua denominação "hidrogênio verde" é oriundo:

- (A) Do seu processo de geração, no qual a eletricidade usada na "quebra" da molécula de água (H_2O) é através de fontes de energia limpas e renováveis, como a eólica e a solar.
- (B) Pela coloração que apresenta após a quebra da molécula de água e a separação do H.
- (C) Do processo de combustão que possui alto índice de qualidade e performance nos motores de combustão.
- (D) Por ser um item gratuito e livre na natureza.
- (E) Por ser uma forma de combustível infinita e renovável.

Questão 12

O município de Alto do Bela Vista/SC foi elevado à categoria de município no ano de 1995, a Lei Estadual que determinou tal ação, foi assinada pelo governador do Estado de Santa Catarina da época, o que trata-se do senhor:

- (A) Pedro Ivo Campos.
- (B) Antônio Carlos Konder Reis.

- (C) Paulo Afonso Evangelista Vieira.
- (D) Manuel Soares de Coimbra.
- (E) Esperidião Amin.

Questão 13

"O temporal que devastou o Litoral Norte de São Paulo, causando mais de 50 mortes, acendeu um alerta para desastres no país."

Acesso: <https://g1.globo.com> (Adaptado)

De acordo com a notícia uma pesquisa feita pelo Serviço Geológico do Brasil aponta o estado que têm mais áreas de risco de deslizamentos, alagamentos e enxurradas no Brasil é:

- (A) O estado do Espírito Santo.
- (B) O estado de Santa Catarina.
- (C) O estado de Minas Gerais.
- (D) O estado de Goiás.
- (E) O estado do Rio de Janeiro.

Questão 14

Analise os excertos abaixo sobre a história do município de Alto Bela Vista/SC:

Excerto I: No ano de 2023, o município de Alto Bela Vista/SC, completará 29 anos de existência desde a sua emancipação.

Excerto II: Após a primeira picada de seu pioneiro, a povoação do restante do Município iniciou por volta de 1910 em Volta Grande.

Excerto III: Alto do Bela Vista/SC é conhecida como a capital Catarinense do Coalho.

Sobre os excertos acima, assinale a alternativa CORRETA:

- (A) Apenas os excertos I e III estão corretos.
- (B) Os excertos I, II e III estão corretos.
- (C) Apenas os excertos I e II estão corretos.
- (D) Apenas os excertos II e III estão corretos.
- (E) Os excertos I, II e III estão incorretos.

Questão 15

"O Projeto de Lei nº 2.703/2022 que visava adiar a taxa da energia gerada por painéis solares foi aprovado na Câmara dos Deputados no dia 6 de dezembro. O texto chegou a ser pautado no Senado Federal no dia 14 de dezembro, mas foi retirado de pauta e não foi votado antes do recesso parlamentar".

Acesso em: <https://correiodoestado.com.br/economia>

Com a aplicação dessa taxa as pessoas que desejarem instalar energia solar em suas casas economizarão menos, porém as pessoas que instalaram antes do vigor da Lei terão isenção da taxa até o ano de:

- (A) 2065.

- (B) 2055.
- (C) 2045.
- (D) 2075.
- (E) 2100.

Conhecimentos Específicos

Questão 16

No ambiente de trabalho o servidor público estabelece relações interpessoais com seus colegas, os superiores, as autoridades e a comunidade, devendo manter uma postura de socialização harmoniosa com todos. Sobre tais relações é possível afirmar que:

I.O servidor público deve estar sempre disposto a cooperar com sua equipe.

II.O tratamento dispensado às autoridades obedece a critérios éticos.

III.Não existem níveis de hierarquia a serem respeitados no serviço público.

IV.O atendimento ao público prestado pelo servidor é parte de suas obrigações com a sociedade.

V.No serviço público um profissional não deve se envolver nas atividades do outro, mesmo que em forma de colaboração, a fim de que não se configure desvio de função.

Analisando os itens dados podemos afirmar que neste contexto estão **CORRETOS**:

- (A) Os itens, I, II e IV.
- (B) Os itens, II, III e IV.
- (C) Os itens, II, IV e V.
- (D) Os itens, I, III e IV.
- (E) Os itens, I, III e V.

Questão 17

O Estatuto da Criança e do Adolescente (ECA) determina que criança e o adolescente têm direito à educação, visando:

- (A) A formação de indivíduos politicamente ativos, preparados para exercer funções de representação popular.
- (B) De forma imperativa, o preparo para o exercício da cidadania, em detrimento de qualquer forma de qualificação para o trabalho.
- (C) Seu desenvolvimento, voltado exclusivamente à sua qualificação para o trabalho.
- (D) Ao pleno desenvolvimento de sua pessoa, preparo para o exercício da cidadania e qualificação para o trabalho.
- (E) De forma imperativa, a qualificação para o trabalho, em detrimento de qualquer forma de preparo para o exercício da cidadania.

Questão 18

Os cuidados com a limpeza do ambiente das dependências da creche tem como principal objetivo a preservação da saúde das crianças, assim, um dos focos dessa prática no desenvolvimento da função do auxiliar de educação deve ser:

- (A) A lavagem das roupas das crianças.
- (B) A limpeza e higienização dos brinquedos.
- (C) A limpeza dos móveis e utensílios da escola.
- (D) A limpeza dos utensílios usados para a preparação dos alimentos.
- (E) A limpeza de todos os ambientes da instituição.

Questão 19

Ao tratar do dever do Estado com educação escolar pública, a Lei de Diretrizes e Bases da Educação Nacional (LDB) descreve algumas garantias que vão nortear a sua efetivação. Uma dessas garantias é a de:

- (A) Educação infantil gratuita às crianças de até 5 (cinco) anos de idade.
- (B) Educação infantil gratuita às crianças de até 6 (seis) anos de idade.
- (C) Ensino fundamental gratuito às crianças de até 17 (dezessete) anos de idade.
- (D) Educação infantil gratuita às crianças de até 4 (quatro) anos de idade.
- (E) Ensino fundamental gratuito às crianças de até 10 (dez) anos de idade.

Questão 20

Atividades como o banho estão incluídas na rotina de algumas creches e pré-escolas, contudo ele é recomendável, principalmente para crianças que:

- (A) Não tem acesso fácil a esse recurso em casa.
- (B) Costumam se sujar muito na hora das refeições.
- (C) Brincam muito porque se sujam com maior facilidade.
- (D) Usam fralda ou frequentam a instituição em período integral.
- (E) Estão acostumadas a tomar vários banhos por dia em casa.

Questão 21

O processo de aprendizagem das crianças na educação infantil, desenvolvido com base nos cinco campos de experiência, tem como eixos estruturantes:

- (A) As práticas e a avaliação.
- (B) Os projetos e pesquisas.
- (C) O ensino e a aprendizagem.
- (D) As interações e a brincadeira.
- (E) As habilidades e as competências.

Questão 22

Qual das alternativas abaixo cita um dos deveres do servidor público?

- (A) Ser leal à instituição a que serve.
- (B) Cumprir as ordens superiores, em qualquer circunstância.
- (C) Exerce as atribuições do cargo da forma que julgar conveniente.
- (D) Atender com indiferença.
- (E) Criar as normas regulamentares para o exercício de sua função.

Questão 23

O Estatuto da Criança e do Adolescente (ECA) define alguns aspectos compreendidos em seu direito à liberdade e entre os itens abaixo citamos alguns desses aspectos. Assinale (V) para os que são verdadeiros e (F) para os que são falsos:

() Ir, vir e estar nos logradouros públicos e espaços comunitários, ressalvadas as restrições legais.

() Executar trabalho remunerado a partir dos 10 (dez) anos de idade.

() Brincar, praticar esportes e divertir-se.

() Participar da vida política, na forma da lei.

() Optar por uma educação domiciliar.

A análise dos itens nos permite afirmar que a ordem **CORRETA** é:

- (A) F, V, V, V, F.
- (B) V, F, F, V, F.
- (C) V, F, V, V, F.
- (D) F, F, V, V, V.
- (E) V, V, V, F, F.

Questão 24

Mesmo que não faça parte diretamente das suas atribuições, todo funcionário deve zelar pela limpeza e organização das dependências da creche, buscando oferecer à criança um ambiente propício ao seu bem estar. Nesse sentido é correto dizer que:

- (A) É papel do Auxiliar de Educação ensinar boas práticas de limpeza do ambiente às crianças.
- (B) O Auxiliar de Educação tem como uma de suas funções a limpeza diária das dependências da creche.
- (C) O desenvolvimento das crianças nada tem a ver com aprendizagens sobre práticas corretas de limpeza e organização.
- (D) A manutenção da limpeza das dependências da creche é uma função específica dos profissionais do setor responsável.

- (E) O Auxiliar de Educação deve acompanhar a criança na limpeza dos ambientes da creche dos quais usufrui.

Questão 25

A Educação Infantil não tem caráter obrigatório e a sua implementação é de responsabilidade dos municípios, sendo oferecida:

- (A) Em creches para crianças de 3 a 5 anos.
- (B) Em creches para as crianças de 0 a 5 anos e em pré-escolas para as crianças de 6 e 10 anos.
- (C) Em pré-escolas para crianças de 0 a 3 anos.
- (D) Em pré-escolas para crianças de 0 a 10 anos.
- (E) Em creches para as crianças de 0 a 3 anos e em pré-escolas para as crianças de 4 e 5 anos.

Questão 26

O servidor público precisa ter consciência dos seus deveres e garantir que seu trabalho atenda de forma satisfatória os anseios da sociedade. Desta forma, **NÃO** é permitido a ele:

- (A) Receber vantagens pessoais em troca do seu trabalho.
- (B) Atender todas as pessoas com urbanidade.
- (C) Ser transparente em suas práticas profissionais.
- (D) Guardar sigilo das informações quando se fizer necessário.
- (E) Cumprir as ordens superiores.

Questão 27

Para exercer a função de Auxiliar de Educação é importante que o profissional se preocupe com uma formação básica, que pode ser feita por meio de curso livres com temáticas que otimize o exercício de sua função, como por exemplo:

- (A) Administração financeira.
- (B) Logística.
- (C) Gerência administrativa.
- (D) Gestão de conflitos interpessoais.
- (E) Design gráfico.

Questão 28

O bom relacionamento interpessoal no ambiente de trabalho é sempre um ponto fundamental na análise de desempenho de um profissional, pontuando positivamente aquele que zela por ele. Na relação que o auxiliar de educação estabelece com o professor e com a direção do estabelecimento, podemos citar como uma postura ideal:

- (A) Propor ao diretor que lhe atribua funções até então exercidas pelo professor.
- (B) Não fazer comentários pejorativos com a direção sobre os acontecimentos de sala de aula.

- (C) Informar a direção sobre tudo o que acontece em sala de aula.
- (D) Interferir nos diálogos estabelecidos entre diretor e professor, dando sua opinião, de forma proativa, mesmo que não seja solicitada.
- (E) Dar sugestão de alterações na metodologia de trabalho do professor ao diretor.

Questão 29

De acordo com as regras definidas pela Lei de Diretrizes e Bases da Educação Nacional (LDB), para a organização da educação infantil, o atendimento à criança deve ser de:

- (A) No mínimo, 5 (cinco) horas diárias para o turno parcial e de 8 (oito) horas para a jornada integral.
- (B) No mínimo, 5 (cinco) horas diárias para o turno parcial e de 7 (sete) horas para a jornada integral.
- (C) No mínimo, 4 (quatro) horas diárias para o turno parcial e de 6 (seis) horas para a jornada integral.
- (D) No mínimo, 4 (quatro) horas diárias para o turno parcial e de 7 (sete) horas para a jornada integral.
- (E) No mínimo, 4 (quatro) horas diárias para o turno parcial e de 8 (oito) horas para a jornada integral.

Questão 30

O processo educacional está fundamentado nos conceitos de eixos estruturantes e desenvolvimento de competências, onde são estabelecidos os Direitos de aprendizagem e desenvolvimento na Educação Infantil. Qual das alternativas abaixo cita esses direitos?

- (A) Divertir-se, brincar, participar, explorar, calar e conhecer-se.
- (B) Conviver, brincar, participar, explorar, expressar e conhecer-se.
- (C) Brincar, conviver, privar-se, explorar, expressar e conhecer-se.
- (D) Isolar-se, conhecer-se, explorar, conviver, expressar e brincar.
- (E) Conviver, expressar e brincar, movimentar, informar-se e conhecer-se.

Questão 31

Além das práticas pedagógicas, o auxiliar de educação básica também contribui com outras ações que são realizadas com as crianças, zelando por seu bem estar. Qual das alternativas abaixo cita uma dessas ações?

- (A) Orientá-los na escovação dos dentes.
- (B) Orientar os pais e responsáveis na educação das crianças no ambiente familiar.
- (C) Orientar os pais e responsáveis na escolha dos alimentos que devem ser consumidos em casa.
- (D) Providenciar um lanche para que eles possam comer quando chegarem em casa.

- (E) Escolher os brinquedos que usarão na área de recreação.

Questão 32

Ter a comunidade ativamente envolvida com a escola é de fundamental importância no desenvolvimento da aprendizagem de crianças e jovens, principalmente quando esse envolvimento se dá por meio da relação entre família e escola. Qual das alternativas abaixo cita um aspecto importante dessa relação?

- (A) A relação de concorrência entre família e escola é benéfica à formação dos estudantes.
- (B) Os limites que devem ser estabelecidos entre o papel da escola e da família no desenvolvimento da criança só pode ser feito se esses dois segmentos se conhecerem.
- (C) A escola precisa conhecer os anseios das famílias para o desenvolvimento de suas crianças, a fim de satisfazê-los da melhor maneira possível.
- (D) A família deve conhecer profundamente a escola e suas práticas, pois é ela que forma a personalidade das crianças.
- (E) Família e escola são os dois principais ambientes de desenvolvimento da criança, por isso precisam dialogar.

Questão 33

As atividades realizadas na sala de aula ou em outros ambientes da escola, com o intuito de promover o desenvolvimento pleno da criança são chamadas de atividades pedagógicas e fazem parte de um processo conhecido como:

- (A) Processo construtivista.
- (B) Processo de ensino e aprendizagem.
- (C) Processo de desenvolvimento global.
- (D) Processo de socialização.
- (E) Processo de ampliação do conhecimento.

Questão 34

Qual das alternativas abaixo justifica a necessidade de o Auxiliar de Educação ter conhecimento de noções de primeiros socorros?

- (A) Desperta o interesse das crianças pela área médica.
- (B) Traz mais tranquilidade e segurança para os pais por saberem que seus filhos terão melhor assistência.
- (C) Faz parte da formação acadêmica de qualquer profissional da educação.
- (D) Indica que a instituição desenvolve um trabalho de qualidade.
- (E) É importante para evitar que lesões ou outros problemas de saúde física das crianças possam se agravar.

Questão 35

O preparo dos alimentos das crianças na escola deve seguir normas como as que garantem o seu valor nutricional, pois para além da manutenção da saúde física, uma boa alimentação pode influenciar no processo de aprendizagem da criança, por exemplo:

- (A) Oferecendo a ela uma alimentação diferente da que lhe é dada em casa.
- (B) Dando-lhe a oportunidade de saborear alimentos mais agradáveis ao seu paladar.
- (C) Permitindo que a criança reponha as energias que gasta em suas atividades.
- (D) Garantindo o desenvolvimento de sua autoconfiança por meio da certeza de que sempre terá algo para comer.
- (E) Oferecendo nutrientes fundamentais para o desenvolvimento das habilidades cerebrais que otimizam o processo de aprendizagem.

Questão 36

O direito de contestar critérios avaliativos, garantido no Estatuto da Criança e do Adolescente (ECA), também permite:

- (A) Escolher outras formas de avaliação sugeridas pela instituição.
- (B) Definir o método avaliativo ao qual deseja ser submetido.
- (C) Eliminar as avaliações do seu processo de aprendizagem.
- (D) Não participar do processo avaliativo em questão.
- (E) Recorrer às instâncias escolares superiores.

Questão 37

O aprimoramento de habilidades que fundamentam as práticas pedagógicas destinam-se ao desenvolvimento pleno da criança, que se concentram em áreas específicas, cujas quatro principais são:

- (A) Emocional, social, financeiro e cultural.
- (B) Motora, cognitiva, social e emocional.
- (C) Intelectual, pessoal, social e econômica.
- (D) Cultural, econômica, social e motora.
- (E) Social, profissional, intelectual e emocional.

Questão 38

As atividades propostas no planejamento devem ser desenvolvidas com objetivos previamente estabelecidos, havendo na atuação do profissional que as executa a característica de fundamentar sua prática em um foco. Tal característica é conhecida hoje como:

- (A) Justificação
- (B) Protagonismo
- (C) Fundamentação

- (D) Autonomia
- (E) Intencionalidade

Questão 39

Segundo a Lei de Diretrizes e Bases da Educação Nacional (LDB), a educação infantil será oferecida:

- (A) Exclusivamente em entidades da iniciativa privada.
- (B) Em creches e pré-escolas.
- (C) Exclusivamente em escolas públicas.
- (D) Em entidades de acolhimento e educação não seriada.
- (E) Em escolas de ensino fundamental.

Questão 40

O Auxiliar de Educação de Educação Básica exerce sua função sob orientação do docente ou da equipe pedagógica, em práticas como por exemplo:

- (A) Brincadeiras, danças e atividades escolares sempre que necessário.
- (B) Atividades pedagógicas desenvolvidas em casa.
- (C) Mediação das relações entre família e escola.
- (D) Apoio socioeconômico.
- (E) Orientação psicopedagógica e social.