


## OPERADOR DE MOTONIVELADORA

### INSTRUÇÕES AO CANDIDATO

- **Durante a realização da prova não será permitido ao candidato, sob pena de exclusão do Concurso Público:**
  - a) Qualquer espécie de consulta bibliográfica, utilização de livros, manuais ou anotações;
  - b) Comunicação entre candidatos;**
  - c) Uso de máquina calculadora;
  - d) Uso de relógio de qualquer tipo;
  - e) Agendas eletrônicas, telefones celulares, smartphones, MP3, notebook, palmtop, tablet, BIP, walkman, gravador ou qualquer outro receptor ou transmissor;
  - f) Uso de óculos escuros, bonés, protetores auriculares e outros acessórios similares;
  - g) Perturbar de qualquer modo a execução dos trabalhos;

- Todas as respostas do Caderno de Prova deverão ser transportadas para o Cartão Resposta;
- Não serão computadas as questões não assinaladas ou que contenham mais de uma resposta, ementa ou rasura;
- O gabarito da letra escolhida deve ser pintado de forma a completar todo o círculo. Exemplo:



- Para a realização da Prova Escrita, o candidato deverá utilizar caneta esferográfica de tinta azul ou preta;
- Após a realização da prova, o candidato deverá afastar-se do local;
- Ao terminar a prova, o candidato entregará ao fiscal o Caderno de Prova e o Cartão Resposta devidamente **preenchido e assinado**;
- Os 03 últimos candidatos permanecerão até o último concluir, os quais assinarão a ata de encerramento, juntamente com os fiscais, efetuarão a conferência dos Cartões-Resposta, cujas irregularidades serão apontadas na referida ata, e assinarão o lacre dos envelopes em que forem guardados os Cartões-Resposta;
- A Prova escrita terá início às 13h30min com término às 16h00min. A duração mínima para realização da prova é de 01 (uma) hora, com tempo máximo de 02h30min (duas horas e trinta minutos). A Prova será composta por questões de múltipla escolha, sendo cada questão composta de 05 alternativas (a, b, c, d, e), possuindo somente uma alternativa correta;

- O Caderno de Provas será composto:

CONTEÚDO	Nº DE QUESTÕES
Língua Portuguesa	05 (cinco)
Matemática e Raciocínio Lógico	05 (cinco)
Conhecimento Gerais e atualidades	05 (cinco)
Conhecimentos Específicos	25 (vinte e cinco)
<b>Total de Questões</b>	<b>40 (quarenta)</b>

- Verifique se o Caderno de Provas está completo, sem falhas de impressão e se a quantidade de questões está correta;
- Você deverá transcrever as respostas das questões para o Cartão-Resposta, que será o **único documento válido para a correção das provas.**
- **O preenchimento do Cartão Resposta é de inteira responsabilidade do candidato e não será substituído em caso de erro do candidato.**

BOA PROVA!

## Língua Portuguesa

O texto seguinte servirá de base para responder às questões de 1 a 5.

### Amizade entre fazendeiro e capivara conquista as redes sociais

Com mais de cento e setenta mil seguidores no Instagram e quase um milhão em sua conta no TikTok, Agenor e Filó fazem um imenso sucesso e conseguem milhões de visualizações a cada vídeo postado.

Tudo começou quando Agenor, que adora todos os tipos de animais, recebeu de um primo a filhote de capivara, de apenas cinco meses, que havia sido resgatada.

O fazendeiro compartilha sua rotina e os cuidados com os animais nas redes sociais desde 2019, mas foram as publicações com a pequena Filó que ganharam os corações dos internautas.

As capivaras são conhecidas por serem extremamente amigáveis, não só com outros bichos, mas com humanos também.

Em suas postagens, Agenor reforça a necessidade da preservação do meio ambiente e sua importância para os animais: "Os animais são seres incríveis que podem despertar amor em qualquer pessoa, acredito que é dever e obrigação das pessoas cuidar deles. A natureza é tão perfeita."

Amizade entre fazendeiro e capivara conquista as redes sociais (msn.com). Adaptado.

### Questão 01

As capivaras são conhecidas por serem extremamente amigáveis, não só com outros bichos, mas com humanos também.

De acordo com a regra de acentuação gráfica, há:

- (A) Uma palavra acentuada por ser paroxítona terminada em ditongo.
- (B) Duas oxítonas acentuadas, uma terminada em 'o' e outra terminada em 'em'.
- (C) Uma palavra acentuada por ser proparoxítona.
- (D) Três palavras acentuadas por serem monossílabos tônicos terminados em 'o'.
- (E) Uma palavra que possui acento diferencial.

### Questão 02

Agenor Tupinambá tem uma capivara de estimação chamada Filó e a amizade dos dois tem conquistado fãs e mais fãs na internet.

Assinale a opção CORRETA de acordo com o texto base.

- (A) O fazendeiro Agenor faz muito sucesso nas redes sociais, sendo que ele possui muito mais seguidores no Tik Tok do que no Instagram.

- (B) O rapaz e sua capivara Jiló fazem muito sucesso nas redes sociais, especialmente no Instagram, com centenas de visualizações.
- (C) Agenor está nas redes sociais há mais de cinco anos, mas o sucesso mesmo aconteceu quando surgiu a capivara Filó.
- (D) Apesar de ser um animal arisco e intrépido, a capivara Filó tornou-se extremamente dócil com o engenheiro.
- (E) Por morar no interior da Amazônia, o amigo dos animais sempre expressa a preocupação de preservar a natureza em suas postagens.

### Questão 03

Tudo começou quando Agenor, que adora todos os tipos de animais, recebeu de um primo a filhote de capivara.

Assinale a opção CORRETA quanto à classificação dos substantivos.

- (A) Filhote = abstrato.
- (B) Todos = comum.
- (C) Agenor = próprio.
- (D) Animais = coletivo.
- (E) Tudo = próprio.

### Questão 04

O fazendeiro compartilha sua rotina e os cuidados com os animais nas redes sociais desde 2019, mas foram as publicações com a pequena Filó que ganharam os corações dos internautas.

Assinale a expressão que contenha, pelo menos, um adjetivo.

- (A) O fazendeiro compartilha sua rotina.
- (B) Sua rotina e os cuidados com os animais.
- (C) Os corações dos internautas.
- (D) Mas foram as publicações com.
- (E) Com os animais nas redes sociais.

### Questão 05

A natureza é tão perfeita.

Assinale a opção CORRETA quanto às classes de palavras.

- (A) perfeita = advérbio de afirmação.
- (B) a = artigo definido feminino.
- (C) natureza = substantivo abstrato.
- (D) é = verbo na primeira pessoa do singular.
- (E) tão = adjetivo simples.

## Matemática e Raciocínio Lógico

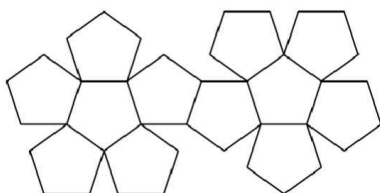
### Questão 06

O grupo de teatro "Titans das Artes" está organizando uma agenda para 7 municípios de um estado e sua equipe resolveu calcular o número de possibilidades diferentes para se determinar a ordem das apresentações. Qual é o resultado deste cálculo?

- (A) São 7200 possibilidades diferentes.
- (B) São 5500 possibilidades diferentes.
- (C) São 5040 possibilidades diferentes.
- (D) São 6520 possibilidades diferentes.
- (E) São 4600 possibilidades diferentes.

### Questão 07

Observe a imagem abaixo:



Ela se refere à planificação de um:

- (A) Pentaedro.
- (B) Dodecágono.
- (C) Pentadecágono.
- (D) Dodecaedro.
- (E) Pentágono.

### Questão 08

Há 5 anos Fernando recebeu o seu primeiro salário e aplicou a juros simples de 2% ao mês. Se passado esse período ele obteve um rendimento total de R\$1.800,00, qual foi o valor do seu primeiro salário?

- (A) Seu primeiro salário foi de R\$725,00.
- (B) Seu primeiro salário foi de R\$1.140,00.
- (C) Seu primeiro salário foi de R\$1.320,00.
- (D) Seu primeiro salário foi de R\$1.500,00.
- (E) Seu primeiro salário foi de R\$890,00.

### Questão 09

No mês de janeiro de 2023, Márcio precisou gastar um pouco de suas economias, pois ultrapassou 15% do valor de seu salário, por causa de despesas extras. Se Márcio gastou R\$480,00 a mais nesse mês, de quanto é o seu salário?

- (A) O seu salário é de R\$3.600,00.
- (B) O seu salário é de R\$3.200,00.
- (C) O seu salário é de R\$2.500,00.
- (D) O seu salário é de R\$5.340,00.

- (E) O seu salário é de R\$2.950,00.

### Questão 10

Se para fazer uma colcha de retalho quadrada, Helena usou 169 retalhos, também quadrados, e obteve uma área total de 15,21 m<sup>2</sup>, qual é a medida do lado de cada retalho?

- (A) O lado do retalho mede 15 cm.
- (B) O lado do retalho mede 30 cm.
- (C) O lado do retalho mede 35 cm.
- (D) O lado do retalho mede 20 cm.
- (E) O lado do retalho mede 45 cm.

## Conhecimentos Gerais e Atualidades

### Questão 11

De acordo com reportagem do site G1 uma ponte (sustentada por cabos), caiu na divisa entre Santa Catarina e o Rio Grande do Sul, sendo desmontada neste sábado (25). O incidente ocorreu na madrugada de segunda (20), quando um dos cabos de sustentação da estrutura cedeu.

Acesso em: <https://g1.globo.com/sc/santa-catarina/noticia/2023/02/25>

A ponte que cedeu era nomeada de:

- (A) Ponte Internacional da Amizade.
- (B) Ponte Ayrton Senna.
- (C) Ponte Pênsil.
- (D) Ponte Rio Negro.
- (E) Ponte Juscelino Kubitscheck.

### Questão 12

"Na noite do dia 20 de janeiro, quatro dias após uma equipe ser enviada para fazer um diagnóstico da saúde indígena, o Ministério da Saúde declarou emergência de saúde pública para enfrentar a desassistência".

Fonte: [www.g1.com.br](http://www.g1.com.br)

A crise humanitária enfrentada pela população indígena que ganhou repercussão e solidariedade por parte de todo brasileiro, está sendo enfrentada pelos povos:

- (A) Tupiniquins.
- (B) Xavantes.
- (C) Yanomamis.
- (D) Tupinambás.
- (E) Patachos.

### Questão 13

O ano de 2023 iniciou com uma empresa gigante do varejo brasileiro ocupando as principais páginas de notícias por anunciar um rombo em seu orçamento de mais de 40 bilhões. A empresa que já entrou em processo de recuperação judicial trata-se da:

- (A) Riachuelo.
- (B) Lojas Americanas.
- (C) Ponto Frio.
- (D) Casas Bahia.
- (E) Magazine Luiza.

### Questão 14

A primeira picada até onde hoje é Alto Bela Vista/SC, foi feita pelo pioneiro \_\_\_\_\_, no ano de \_\_\_\_\_.

Assinale a alternativa que completa **corretamente** os dados históricos sobre o município:

- (A) Sr Mario Becker, 1987
- (B) Sr Vicente Duarte, 1987
- (C) Sr Vicente Duarte, 1988
- (D) Sr Antonio Niemeyer, 1988
- (E) Sr Antonio Niemeyer, 1985

### Questão 15

O município de Alto Bela Vista/SC que hoje é habitado por cerca de 2 mil habitantes, possui a história do seu nome ligada a:

- (A) Dada a altitude para acessar a localidade.
- (B) Uma vista que encantava a todos que chegavam.
- (C) Um relevo encontrado no local na vinda dos primeiros colonizadores.
- (D) A localidade ser em meio a regiões montanhosas.
- (E) Um espécie de pássaro que habitava na região.

## Conhecimentos Específicos

### Questão 16

Sobre a sinalização do local do acidente, para evitar o agravamento da situação e de modo a dar segurança a quem presta o socorro, leia as afirmativas a seguir:

- I. Acione o pisca-alerta dos veículos próximos do local.
- II. Defina a melhor localização do triângulo.
- III. Se estiver envolvido no acidente, fugir do local e acionar as autoridades competentes.

Está (ão) CORRETO (S):

- (A) Os itens I e II.
- (B) Os itens I, II e III.
- (C) Os itens II e III.
- (D) Somente o item I.
- (E) Os itens I e III.

### Questão 17

São as principais funções de uma motoniveladora, EXCETO:

- (A) Fazer terraplanagem.

- (B) Realizar pavimentação.
- (C) Nivelar terreno.
- (D) Escavar grande quantidade de material.
- (E) Ajustar terrenos irregulares.

### Questão 18


Marque a alternativa CORRETA que a sinalização de advertência indica:



- (A) Escavação.
- (B) Obras.
- (C) Projeção de cascalhos.
- (D) Limpeza urbana.
- (E) Pneu furado.

### Questão 19

A sinalização de regulamentação a seguir indica que:



- (A) Uso obrigatório de corrente.
- (B) Uso facultativo de corrente.
- (C) Uso obrigatório de pneus maiores.
- (D) Uso obrigatório de tratores.
- (E) Uso específico para caminhões.

### Questão 20

Sobre os crimes de trânsito, conforme o Código de Trânsito Brasileiro, considere as seguintes afirmações:

I. Ao condutor de veículo, nos casos de acidentes de trânsito de que resulte vítima, não se imporá a prisão em flagrante, nem se exigirá fiança, se prestar pronto e integral socorro àquela.

II. Utilizar o veículo sem placas, com placas falsas ou

adulteradas são circunstâncias que sempre agravam as penalidades dos crimes de trânsito.

III.A suspensão ou a proibição de se obter a permissão ou a habilitação para dirigir veículo automotor pode ser imposta isolada ou cumulativamente com outras penalidades.

Está (ão) CORRETO (S):

- (A) Os itens I e III.
- (B) Os itens I e II.
- (C) Os itens II e III.
- (D) Os itens I, II e III.
- (E) Somente o item I.

### Questão 21

A sinalização horizontal simples e seccionada correspondente a imagem abaixo indica:



- (A) Delimita, através da linha contínua, a parte da pista destinada ao deslocamento dos veículos.
- (B) Não permite ultrapassagem e deslocamentos laterais.
- (C) Permite ultrapassagem e transposição de faixa de trânsito.
- (D) Proibido parar e estacionar.
- (E) Não permite ultrapassagem e transposição de faixa de trânsito.

### Questão 22

Condições adversas são todos aqueles fatores que podem prejudicar o seu real desempenho no ato de conduzir, tornando maior a possibilidade de um acidente de trânsito. São condições adversas da VIA:

Fonte: MANUAL DE DIREÇÃO DEFENSIVA.

Disponível em: <https://www.detran.pr.gov.br/arquivos/File/habilitacao/manualdehabilitacao/manualdehabparte6.pdf>

- (A) Espelho retrovisores deficientes.
- (B) Curvas, desvio e tipo de pavimentação.
- (C) Fadiga.
- (D) Defeito nos equipamentos obrigatórios.
- (E) Pneus gastos, freios desregulados.

### Questão 23

De acordo com o Código de Trânsito Brasileiro, sobre infrações de trânsito, deixar o condutor ou passageiro de usar o cinto de segurança, constitui:

- (A) Infração média, e multa.

- (B) Infração grave, e multa.
- (C) Infração gravíssima, e multa.
- (D) Infração leve, e multa.
- (E) Infração gravíssima, e multa (três vezes).

### Questão 24

Para um operador de motoniveladora, o conhecimento e interpretação correta do painel de instrumentos é de grande importância. Analise:



Assinale a alternativa CORRETA a respeito da imagem acima:

- (A) Alerta de segurança de restrição do filtro de óleo hidráulico.
- (B) Alerta de segurança do alternador.
- (C) Alerta de segurança de superaquecimento do óleo hidráulico.
- (D) Alerta de segurança do nível de combustível.
- (E) Alerta de segurança de restrição do filtro de combustível.

### Questão 25

Sobre estacionar a motoniveladora após o término do serviço, leia as afirmativas a seguir:

- I. Estacione a máquina em uma área nivelada.
- II. Baixe todo o equipamento ao solo.
- III. Acione o freio de estacionamento.
- IV. Mova a alavanca de câmbio para o ponto morto.

Está (ão) CORRETOS (S):

- (A) Os itens II e III.
- (B) Os itens I e II.
- (C) Os itens II, III e IV.
- (D) Os itens I, II, III e IV.
- (E) Os itens I, III e IV.

### Questão 26

Sobre a utilização da motoniveladora em operações em água e lama, leia as afirmativas a seguir:

- I. Podem ocorrer danos aos componentes da máquina se a profundidade de travessia for excedida. É recomendado ultrapassar a profundidade máxima de travessia (linha central dos eixos).
- II. Após trabalhar em água ou lama, lubrifique todos os pontos de lubrificação e graxa.

III.Quando for necessário operar a máquina na água ou conduzi-la através de água, o nível da água não deverá ser superior à linha central dos eixos.

Está (ão) CORRETO (S):

- (A) Somente o item III.
- (B) Os itens I, II e III.
- (C) Os itens II e III.
- (D) Somente o item I.
- (E) Os itens I e II.

### Questão 27

Sobre direção defensiva, leia as afirmativas a seguir:

I.O condutor defensivo é aquele que adota um procedimento repressivo no trânsito, sempre com cautela e civilidade. O condutor defensivo não dirige apenas, pois está sempre pensando em segurança, pensando em prevenir acidentes, independente dos fatores externo e das condições adversas que possam estar presentes.

II.O condutor defensivo é aquele que tem uma postura pacífica, consciência pessoal e de coletividade, tem humildade e autocrítica.

III.Dentro das diferentes técnicas de como conduzir defensivamente existem várias precauções que deve-se tomar ao iniciar uma jornada, mesmo sem ter conhecimentos especializados de mecânica, para evitar envolver-se em situações de risco, realizando um trajeto sem cometer infrações de trânsito, sem abusos com o veículo, sem atrasos de horário, sem faltar com a cortesia devida, ou seja, sem envolver-se em acidentes.

Está (ão) CORRETO (S):

- (A) Os itens I e II.
- (B) Os itens II e III.
- (C) Os itens I, II e III.
- (D) Nenhum item.
- (E) Os itens I e III.

### Questão 28

Sobre a utilização de luzes e faróis, leia as afirmativas abaixo:

I.Luz baixa - durante a noite e no interior de túneis sem iluminação pública durante o dia.

II.Luz alta - Sob chuva forte, neblina ou cerração ou à noite, quando o veículo estiver parado para embarque e desembarque, carga ou descarga.

III.Lanternas - Em imobilizações ou em situação de emergência.

Está (ão) CORRETO (S):

- (A) Somente o item II.
- (B) Somente o item I.
- (C) Os itens I, II e III.
- (D) Os itens II e III.

(E) Os itens I e II.

### Questão 29

Sobre direção defensiva, marque C, para as afirmativas certas, ou E, para as erradas, e, analise:

(\_\_)Distância de seguimento é aquela que você deve manter entre o seu veículo e o que vai à frente, de forma que você possa parar, mesmo numa emergência, sem colidir com a traseira da outro.

(\_\_)Distância de frenagem é aquela que seu veículo percorre, desde o momento que você vê a situação de perigo, até o momento em que pisa no freio. Ou seja, desde o momento em que o condutor tira o pé do acelerador até colocá-lo no freio.

(\_\_)Distância de reação é aquela que o veículo percorre depois de você pisar no freio, até o momento total da parada.

Após análise, assinale a alternativa que apresenta a sequência CORRETA:

- (A) E, E, C.
- (B) C, C, C.
- (C) E, C, C.
- (D) E, E, E.
- (E) C, E, E.

### Questão 30

Segundo o Código de Trânsito Brasileiro, o condutor que tenha o propósito de ultrapassar um veículo de transporte coletivo que esteja parado, efetuando embarque ou desembarque de passageiros, deverá:

- (A) Reduzir a velocidade, dirigindo com atenção redobrada ou parar o veículo com vistas à segurança dos pedestres.
- (B) Reduzir a velocidade, e realizar a ultrapassagem pelo lado direito da via.
- (C) Nas vias providas de acostamento, é permitido ao motorista que realizar a manobra por este local.
- (D) Continuar dirigindo normalmente, pois os pedestres sempre descem pelo lado direito da rodovia.
- (E) Acionar a buzina, indicando aos outros motoristas a manobra e realizá-la.

### Questão 31

Durante um serviço com uma máquina, apareceu o seguinte alerta em seu painel, indicando:



Marque a opção CORRETA.



- (A) Alerta de segurança de superaquecimento do motor.
- (B) Alerta de segurança de programação.
- (C) Alerta de segurança de partida do motor desativada.
- (D) Alerta de Segurança de advertência.
- (E) Alerta de segurança da pressão do óleo do motor.

### Questão 32

Observe a placa abaixo:



Após análise, marque a alternativa **CORRETA** que indica quanto a sua categoria:

- (A) Placas educativas.
- (B) Placas de atrativo turístico.
- (C) Placas de serviços auxiliares.
- (D) Placas de advertência.
- (E) Placas de regulamentação.

### Questão 33

Sobre evitar o desgaste físico relacionado à maneira de sentar e dirigir, assinale a alternativa INCORRETA.

DIREÇÃO DEFENSIVA: Direção Preventiva e Corretiva;

<https://www.detran.pr.gov.br/arquivos/File/habilitacao/>

[apostilas/direcaoedefensiva.pdf](#)

- (A) Apoie bem o corpo no assento e no encosto do banco, o mais próximo possível de um ângulo de 90 graus.
- (B) Segure o volante com as duas mãos, como os ponteiros do relógio na posição de 9 horas e 15 minutos. Assim você vê melhor o painel, acessa melhor os comandos do veículo e nos veículos com air-bag não impede seu funcionamento.
- (C) Ajuste o encosto de cabeça de acordo com a altura dos ocupantes do veículo, de preferência na altura dos olhos.
- (D) Utilize calçados que fiquem bem fixos a seus pés, de preferência para os chinelos devido ao maior conforto proporcionado.
- (E) Dirija com os braços e pernas ligeiramente dobrados, evitando tensões.

### Questão 34

Quando se trata de direção defensiva, os riscos e os perigos a que estamos sujeitos no trânsito, em decorrência do medo, insegurança e inabilidade, são considerados como sendo relacionado com:

- (A) Trânsito.
- (B) Ambiente.
- (C) Condutor.
- (D) Via.
- (E) Veículo.

### Questão 35

Sobre dar partida no motor em uma motoniveladora, leia as afirmativas a seguir:

I. Dê partida no motor fazendo ligação direta entre os terminais do motor de partida. A máquina dará partida engatada se os circuitos normais forem desviados.

II. Nunca ligue o motor estando fora do trator. Dê partida no motor somente estando no assento do operador com a transmissão em neutro.

III. Evite possíveis danos a máquina. Certifique-se de que todas as funções hidráulicas estejam fora da posição de flutuação antes de dar partida no motor.

Está (ão) CORRETO (S):

- (A) Os itens I e II.
- (B) Os itens I, II e III.
- (C) Os itens I e III.
- (D) Somente o item III.
- (E) Os itens II e III.

### Questão 36

Sobre a inspeção diária a motoniveladora antes da partida, leia as afirmativas a seguir:

I. Inspeccione a grade e a tela do radiador quanto a obstruções.

II. Limpe as proteções do motor em cada lado da máquina.

III. Inspeccione os pneus e as rodas quanto a cortes, bolhas, aros danificados ou parafusos de fixação ausentes. Preste atenção especial a qualquer conjunto de pneu e aro que ficou murcho ou com calibragem baixa.

Está (ão) CORRETO (S):

- (A) Os itens I e II.
- (B) Os itens II e III.
- (C) Os itens I, II e III.
- (D) Somente o item I.
- (E) Os itens I e III.

### Questão 37

Referente ao Código de Trânsito Brasileiro - CTB (Lei Federal nº 9.503/1997, transitar com o veículo em velocidade inferior à metade da velocidade máxima estabelecida para a via, retardando ou obstruindo o trânsito, a menos que as condições de tráfego e meteorológicas não o permitam, salvo se estiver na faixa



da direita, constitui:

- (A) Infração gravíssima, e multa.
- (B) Infração média, e multa.
- (C) Infração gravíssima, e multa (três vezes).
- (D) Infração leve, e multa.
- (E) Infração grave, e multa.

### Questão 38

Segundo o Código de Trânsito Brasileiro, quando o veículo estiver em movimento, deixar de conservá-lo nas faixas da direita, os veículos lentos e de maior porte, constitui:

- (A) Infração leve, e multa.
- (B) Infração média, e multa.
- (C) Infração gravíssima, e multa.
- (D) Infração grave, e multa.
- (E) Infração gravíssima, e multa (três vezes).

### Questão 39

Sobre os procedimentos básico de primeiros socorros, leia as afirmativas a seguir:

I.Desobstrução das vias aéreas: Se a vítima estiver impossibilitada de respirar, poderá morrer ou ter danos irreversíveis no cérebro.

II.Verificar a respiração: aproxime-se para escutar a boca e o nariz do acidentado, verificando também os movimentos característicos de tórax e abdômen. Se a vítima não estiver respirando devemos proceder imediatamente os procedimentos Parada cardiorrespiratória.

III.Verificar a circulação: a tomada de pulsação, fornece importantes informações sobre a vítima. Se o pulso está fraco e a pele pálida, por exemplo, com os lábios arroxeados, pode ser sinal de estado de choque, se não houver pulso, provavelmente uma parada cardiorrespiratória.

IV.Verificar o estado de consciência: O primeiro cuidado que se deve ter com uma pessoa inconsciente, é desconfiar de fratura na coluna vertebral.

Está (ão) CORRETO (S):

- (A) Os itens I, II e III.
- (B) Os itens I e II.
- (C) Os itens II, III, e IV.
- (D) Os itens III, e IV.
- (E) Os itens I, II, III e IV.

### Questão 40

De acordo com a Lei nº 9.503/1997 - Código de Trânsito Brasileiro, em seu artigo 29, quando veículos, transitando por fluxos que se cruzem, se aproximarem de local não sinalizado, terá preferência de passagem:

I.No caso de apenas um fluxo ser proveniente de

rodovia, aquele que estiver circulando por ela.

II.No caso de rotatória, aquele que estiver circulando por ela.

III.Nos demais casos, o que vier pela esquerda do condutor.

Está (ão) CORRETO (S):

- (A) Os itens II e III.
- (B) Os itens I, II e III.
- (C) Somente o item III.
- (D) Os itens I e III.
- (E) Os itens I e II.