



PREFEITURA MUNICIPAL DE UBAJARA – CE
CONCURSO PÚBLICO
EDITAL Nº 001/2024 DE 22 DE JULHO 2024

TÉCNICO EM ENFERMAGEM

NOME DO CANDIDATO: _____

RG: _____ ÓRGÃO EXPEDIDOR: _____

Nº DE INSCRIÇÃO

--	--	--	--	--	--	--	--

ASSINATURA: _____

LEIA COM ATENÇÃO E SIGA RIGOROSAMENTE ESTAS INSTRUÇÕES:

1. Este caderno contém 60 (sessenta) questões de múltipla escolha, numeradas de 1 (um) a 60 (sessenta).
2. Cada uma das questões apresenta um enunciado seguido de 5 (cinco) alternativas, das quais somente uma deve ser assinalada.
3. Examine se a prova está completa com a sequência numérica das questões, se há falhas ou imperfeições gráficas que causem dúvidas. Qualquer reclamação deverá ser feita durante os 20 minutos iniciais. Após esse tempo, qualquer reclamação será desconsiderada.
4. Depois de decorridas 2 (duas) horas do início da prova, será distribuído **a folha de respostas**, o qual será o único documento válido para a correção. Ao recebê-lo, verifique se seu nome e seu número de inscrição estão corretos. Reclame imediatamente se houver discrepância.
5. A folha de respostas não pode ser dobrada, amassada, rasurada ou manchada. Exceto sua assinatura e data de nascimento, nada deve ser escrito ou registrado fora dos locais destinados às respostas. Tenha muita atenção ao marcar sua folha de respostas, pois não haverá substituição por erro do candidato. Marque sua resposta pintando completamente o espaço correspondente à alternativa de sua opção.

Ex.: A ○ B ● C ○ D ○ E ○
6. A leitora de marcas não registrará as respostas em que houver falta de nitidez, uso de corretivo, marcação a lápis ou marcação de mais de uma letra. Não serão computadas questões não assinaladas.
7. Durante a prova, é proibido o intercâmbio e o empréstimo de material de qualquer natureza entre os candidatos. A tentativa de fraude, a indisciplina e o desrespeito às autoridades encarregadas dos trabalhos são faltas que implicarão a desclassificação do candidato.
8. Qualquer forma de comunicação entre candidatos implicará a eliminação de ambos do certame.
9. Não será permitido ao candidato, durante a realização das provas, portar armas, aparelhos eletrônicos de qualquer natureza, relógios, bolsas, livros, jornais e impressos em geral; bonés, chapéus, lenço de cabelo, bandanas etc.
10. É vedado o uso de telefone celular ou de qualquer outro meio de comunicação. O candidato que for flagrado portando aparelho celular ou qualquer outro meio de comunicação, durante o período de realização da prova, e/ou o aparelho celular tocar será sumariamente eliminado do certame.
11. Em caso de dúvida, durante a prova, levante o braço para solicitar atendimento da fiscalização. Jamais pergunte em voz alta.
12. Ao terminar a resolução da prova, entregue-a ao fiscal de sala juntamente com **a folha de respostas**. Não se esqueça de **assinar a folha de respostas e a folha de frequência**.
13. O candidato que permanecer na sala de provas, por mais de 3h30min, poderá levar consigo o caderno de provas, fornecido pela **ORGANIZADORA**.
14. As provas terão duração de 4 (quatro) horas com início às 08h e término às 12h. O candidato só poderá ausentar-se da sala depois de decorridas duas horas do início das provas.
15. Os **Gabaritos Preliminares das Provas Objetivas** serão divulgados 72 (setenta e duas) horas após a realização das mesmas.

RASCUNHO

CONHECIMENTOS GERAIS

Texto para as questões de 1 a 10.

Educação em saúde e sua importância

A garantia do bem-estar social é um dever dos governos; os cidadãos, por sua vez, têm de estar atentos às políticas e, também, assumir as suas responsabilidades

Correio Braziliense | 26/08/2024

A garantia do bem-estar social é um dever dos governos em todas as suas instâncias. Os cidadãos, por sua vez, têm de estar atentos às políticas voltadas para isso e, também, precisam assumir as suas responsabilidades. Na atualidade, a educação em saúde ganha importância. Os desafios que as mudanças climáticas e o modo de vida colocam nessa área exigem da humanidade uma ampla conscientização. O aumento da **INCIDÊNCIA** de algumas doenças, a maior circulação de vírus e o registro de enfermidades que já haviam sido controladas, como sarampo e poliomielite, são um sinal de alerta.

Entre profissionais e estudiosos, a educação comunitária e participativa na saúde conquista espaço nas discussões e reflexões. Muito além de traçar **DIRETRIZES** para o serviço público, esse conceito deve ser compreendido como um caminho de transformação da sociedade. Criar e aprimorar a consciência crítica das pessoas a respeito de seus problemas de saúde são ações necessárias por parte das instituições. Mas, com a disponibilidade de se conectar facilmente com as informações corretas e com a tecnologia mais acessível, cada um pode fazer a diferença no contexto coletivo.

No âmbito do Sistema Único de Saúde (SUS), o envolvimento individual é determinante para o sucesso. A concretização dos projetos nacionais, e as suas melhorias, fica mais efetiva quando o usuário toma parte do processo, dando sua contribuição para a busca de soluções. Um exemplo é o Programa Saúde da Família, iniciativa que rende benefícios diversos, **porém** só alcança todo o seu potencial com o envolvimento do cidadão aliado à atividade educativa.

O controle de endemias no país, com a dengue aparecendo em destaque no cenário, também depende das pessoas, já que o combate à transmissão passa pela eliminação do *Aedes aegypti*, [] se **PLORIFERA** em imóveis particulares e comerciais, além de locais [] o acúmulo de sujeira e de **INTULHOS** se estabelece em decorrência da atitude humana. Campanhas de vacinação, de aleitamento materno e de prevenção de doenças são outros modelos [] só alcançam seus objetivos com a associação entre gestores e moradores.

O desafio é grande, e a estratégia de elevar a qualidade de vida das populações, especialmente as mais vulneráveis, pede ações multidisciplinares que incluam a orientação dos agentes e o cumprimento das prescrições por parte dos assistidos. Por outro lado, as propostas de educação em saúde não podem ficar travadas nas **INTENÇÕES**, sem que haja a dedicação concreta dos governos para que sejam aplicadas. Muito menos podem se restringir à formação dos profissionais.

Educação em saúde abrange uma gama de ações: investimento, conscientização em níveis público e privado, palestras em escolas e outras instituições, orientações médicas, campanhas e disseminação de conhecimento. Tudo implementado em conjunto e com a adoção de hábitos saudáveis pela população. Apenas com um esforço de empoderamento das pessoas, fazendo com que participem ativamente de suas jornadas de saúde, os resultados ideais serão percebidos, e o Brasil vai conseguir elevar o bem-estar de seus cidadãos.

EDUCAÇÃO em saúde e sua importância. Correio Braziliense, 26 de agosto de 2024. Visão do Correio. Disponível em:

<https://www.correio braziliense.com.br/opinia o/2024/08/6927528-visao-do-correio-educacao-em-saude-e-sua-importancia.html>. Acesso em: 27 ago. 2024. Adaptado.

1. Como se classifica o predicado da oração que inicia o primeiro parágrafo do editorial apresentado?

- Predicado verbo-nominal.
- Predicado nominal.
- Predicado verbal.
- Não há predicado, por ser frase nominal.
- Não há predicado, por ser frase verbal.

2. De acordo com o texto,

- a população também tem responsabilidade na promoção da saúde no Brasil.
- o combate ao vetor da dengue deve partir unicamente dos governos estaduais.
- o treinamento dos profissionais é suficiente para melhorar a saúde do país.
- a promoção da saúde no Brasil deve prioritariamente ficar a cargo do SUS.
- as populações mais vulneráveis apresentam os melhores índices de saúde do Brasil.

3. Qual das alternativas a seguir apresenta as funções da linguagem apresentadas no editorial?

- Metalinguística e fática.
- Referencial e conativa.
- Emotiva e poética.
- Referencial e fática.
- Emotiva e conativa.

4. O conectivo em destaque no terceiro parágrafo do texto só pode ser substituído, sem que haja alteração na semântica original do enunciado, por

- portanto.
- enquanto.
- porquanto.
- contudo.
- ademais.

5. Analise o excerto a seguir.

“Mas, com a disponibilidade de se conectar facilmente com as informações corretas e com a tecnologia mais acessível, cada um pode fazer a diferença no contexto coletivo.” (2º parágrafo)

Qual é o sentido veiculado pelo trecho sublinhado no excerto, considerando-se o contexto do parágrafo em que ele ocorre?

- Consequência.
- Condição.
- Finalidade.
- Causa.
- Proporção.

6. No quarto parágrafo do editorial, foram inseridos espaços entre colchetes no lugar de pronomes e advérbios relativos acompanhados de suas respectivas regências. Analise o contexto sintático de cada um desses espaços e, em seguida, identifique a alternativa que apresenta as partículas relativas adequadas para seu preenchimento.

- que | onde | que
- quem | onde | de que
- que | aonde | que
- em que | onde | em que
- que | aonde | com que

7. Dentre as palavras escritas com letras maiúsculas no texto, quantas estão corretamente grafadas, segundo a ortografia oficial da Língua Portuguesa?

- Somente uma palavra.
- Todas as palavras.
- Três palavras.
- Quatro palavras.
- Dois palavras.

8. Analise o trecho a seguir.

“Educação em saúde abrange uma gama de ações: investimento, conscientização em níveis público e privado, palestras em escolas e outras instituições, orientações médicas, campanhas e disseminação de conhecimento.” (6º parágrafo)

Qual é a função das vírgulas utilizadas no trecho?

- Isolar vocativos.
- Isolar apostos explicativos.
- Separar termos de mesma função sintática enumerados.
- Separar orações coordenadas aditivas de sujeitos diferentes.
- Intercalar adjuntos adverbiais de grande extensão.

9. Dentre as características listadas a seguir, assinale a opção que se faz notável no gênero editorial.

- Presença de linguagem coloquial.
- Utilização de linguagem não verbal.
- Predominância da linguagem conotativa.
- Relaxamento com a formalidade da escrita.
- Predominância da linguagem denotativa.

10. Segundo o editorial, são processos que devem envolver tanto as instituições quanto a população, EXCETO

- aleitamento materno.
- limpeza de terrenos.
- vacinação.
- treinamento de profissionais.
- controle de endemias.

11. Observe os vocábulo dispostos no quadro a seguir.

a) raieiro	b) mbarcaçã o	c) nutilizar	d) emeadura	e) ucidez	f) rueldade
------------	------------------	--------------	-------------	-----------	-------------

Qual(is) desses vocábulo relacionados apresenta(m) o prefixo e o sufixo simultaneamente acoplados ao radical, formando palavra(s) derivada(s) por parassíntese?

- As palavras “praieiro” e “crueldade”.
- As palavras “inutilizar”, “semeadura” e “lucidez”.
- Somente a palavra “embarcação”.
- As palavras “inutilizar” e “crueldade”.
- Somente a palavra “inutilizar”.

12. Leia o excerto a seguir, observando as palavras grifadas.

História

Cientistas encontram ruínas de observatório astronômico egípcio de 2,6 mil anos

Monumento foi encontrado dentro de prédio abandonado no norte do Egito, e marca a relação dos egípcios com a tecnologia e a religiosidade

Por Bela Lobato | 26 ago 2024

(Disponível em: <https://super.abril.com.br/historia/cientistas-encontram-ruinas-de-observatorio-astronomico-egipcio-de-26-mil-anos/>. Acesso em: 28 ago. 2024.)

Qual dessas palavras em destaque é um adjetivo?

- “Cientistas”
- “ruínas”
- “egípcio”
- “prédio”
- “egípcios”

13. Leia a tirinha a seguir.



GOMES, Sarah. Bichinhos de jardim, 21 de agosto de 2024. Disponível em: <http://bichinhosdejardim.com/wp-content/uploads/2024/08/bdj-240814-web.png>. Acesso em: 28 ago. 2024.

Nessa tirinha, percebe-se que o(a)

- joaninha se sente feliz com seu rosto.
- caracol se importa com a felicidade da joaninha.
- joaninha enxerga melhor no escuro.
- caracol sente inveja da beleza da joaninha.
- caracol não sente empatia pela joaninha.

14. Leia o excerto a seguir.

“Personagens históricos muito antigos costumam ter suas biografias misturadas a episódios lendários. No caso de figuras religiosas, esta confusão entre verdade e mito é ainda mais intensa.

Isso torna muito difícil precisar o que é fato e o que é fantasia na vida de Sidarta Gautama, aquele que é considerado o primeiro Buda. A começar pela época em que viveu. Não há consenso, mas muitos acreditam que Gautama tenha nascido em 563 a.C. e morrido, aos 80 anos, em 483 a.C.

O budismo, religião baseada em seus ensinamentos, tem cerca de 500 milhões de seguidores em todo o mundo — no Brasil são 250 mil, segundo dados do Instituto Brasileiro de Geografia e Estatística (IBGE).

Gautama teria sido um príncipe de uma região indiana, hoje parte do sul do Nepal.”

VEIGA, Edison. Sidarta Gautama: o príncipe 'iluminado' que se tornou o primeiro Buda. BBC News Brasil, 28 de agosto de 2024. Disponível em: <https://www.bbc.com/portuguese/articles/c5y3lr2zn5o>. Acesso em: 28 ago. 2024.

Nesse excerto, infere-se que

- Sidarta Gautama foi contemporâneo de Cristo.
- o budismo é seguido pela maior parte da população do Nepal.
- há elementos ainda misteriosos na vida de Sidarta Gautama.
- existe somente um Buda na religião budista.
- é necessário ter um título de nobreza para ser um Buda.

15. Em qual das sentenças a seguir a regência do verbo sublinhado se apresenta em uma forma NÃO padrão?

- Os motoristas têm se esquecido de obedecer às leis de trânsito.
- Simpatizamos muito com o nosso novo gestor de pessoas.
- Flávio sempre estudou muito visando à Polícia Federal.
- Lembrei-me de que preciso pagar os cadernos ao Bino.
- Conseguimos chegar no final do jogo com muita dificuldade.

16. Considerando a norma padrão, em qual das frases a seguir há um desvio de concordância?

- Grande parte das pessoas não se vacinaram contra a gripe.
- Deu onze horas no relógio de ponto. Hora de almoçar!
- Viagens, carrões, joias, nada satisfazia o vazio que Luiz sentia.
- Já foi enviado o presente e o cartão de aniversário para Almir.
- Tanto Sabrina quanto Luciana fizeram o teste de aptidão física.

17. Analise a sentença a seguir. Em seguida, identifique a alternativa que apresenta uma afirmação INCORRETA sobre ela.

Pegadas idênticas de dinossauro são encontradas no Brasil e na África

Disponível em: <https://super.abril.com.br/ciencia/pegadas-identicas-de-dinossauro-sao-encontradas-no-brasil-e-na-africa/>. Acesso em: 31 ago. 2024.

- O verbo dessa sentença apresenta-se na voz passiva.
- Há adjuntos adverbiais de lugar nessa sentença.
- O sujeito dessa sentença é simples.
- O agente da passiva se faz explícito nessa sentença.
- O verbo dessa sentença é significativo.

18. Elizabeth tinha R\$ 312,00, gastou a quarta parte na compra de uma blusa, a sexta parte na compra de um par de brincos e o restante comprou uma calça jeans. Pagou pela calça jeans

- R\$ 130,00.
- R\$ 152,00.
- R\$ 170,00.
- R\$ 182,00.
- R\$ 192,00.

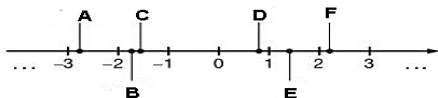
19. Rafael tem R\$ 150,00 a mais que Gabriel, e Miguel tem R\$ 200,00 a mais que Rafael. Os três juntos possuem R\$ 2.750,00. Então Rafael tem

- R\$ 750,00.
- R\$ 900,00.
- R\$ 950,00.
- R\$ 1.100,00.
- R\$ 1.150,00.

20. Em uma pesquisa realizada com os 40 alunos da turma A do 1º ano do E.M., constatou-se que 20% dos alunos gostam de Matemática e Física; 30% dos alunos gostam somente de Física; 15% dos alunos não opinaram e 4 alunos não gostam nem de Matemática nem de Física. Então o número de alunos que gostam somente de Matemática é

- 24.
- 18.
- 8.
- 20.
- 10.

21. Na reta real, os números: $-\sqrt{3}$, $\sqrt{0,64}$ e $\frac{11}{5}$ estão representados, respectivamente, pelos pontos:

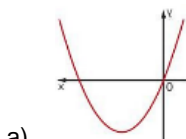


- A, D e F.
- B, E e F.
- B, D e F.
- C, D e F.
- C, D e E.

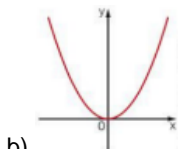
22. Uma empresa montadora de móveis tem seu custo diário c , em reais, determinado pela função $c(m) = -3m^2 + 72m + 450$, em que c depende do número m de móveis montados no dia. Sabendo que a capacidade máxima de montagem dessa empresa é de 16 móveis por dia. Qual dos conjuntos a seguir pode representar o domínio dessa função c ?

- \mathbb{N} .
- \mathbb{Z} .
- $D(c) = \{m \in \mathbb{N} / -1 \leq m \leq 16\}$.
- $D(c) = \{m \in \mathbb{Z} / 0 \leq m \leq 16\}$.
- $D(c) = \{m \in \mathbb{N} / 0 < m < 16\}$.

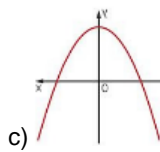
23. Qual dos gráficos a seguir, melhor, representa uma função quadrática em que $\Delta > 0$, $P=0$ (produto dos zeros da função) e coeficiente $a > 0$, é:



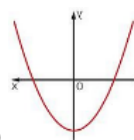
a)



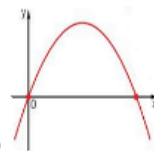
b)



c)

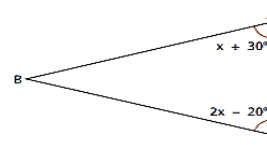


d)



e)

24. Se o $\triangle ABC$ é isósceles de base \overline{AC} , o valor do ângulo B é

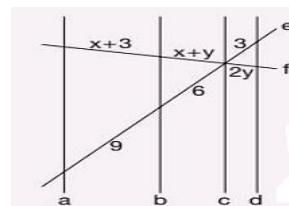


- 50° .
- 20° .
- 80° .
- 30° .
- 60° .

25. A população de uma colônia da bactéria Salmonellae dobra a cada 20 minutos. Em um experimento, colocou-se inicialmente, em um tubo de ensaio, uma amostra com 1.000 bactérias por mililitro. No final do experimento, obteve-se um total de $1,024 \times 10^6$ bactérias por mililitro. Sendo assim, o tempo do experimento foi de

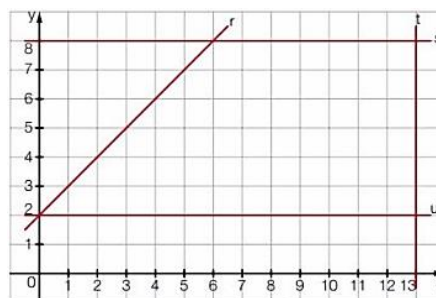
- 4h.
- 4h e 20min.
- 3h.
- 3h e 20min.
- 3h e 40min.

26. Sabendo que $a/b/c/d$, o valor de x é



- 1.
- 2.
- 3.
- 4.
- 5.

27. Considere a figura formada/delimitada pelas retas r , s , t e u , sabendo que o plano cartesiano está graduado em centímetros.



A área externa ao retângulo de vértices (6, 3), (10, 3), (10, 5) e (6, 5) é

- 50cm².
- 52cm².
- 60cm².
- 72cm².
- 78cm².

28. Em um determinado grupo de pessoas ocorreu que um homem estava agredindo verbalmente uma criança e uma mulher. Frente a este episódio, duas pessoas entrevistaram na situação a fim de proteger a criança e a mulher. A esse respeito, é CORRETO afirmar o que se apresenta na opção

- Correto a ser feito era ter ignorado o fato.
- Intervenção das pessoas não foi correta porque desrespeitou a privacidade.
- Agressão verbal, além de ser antiética, pode ser enquadrada como crime.
- Agressão verbal é um ato comum e deve ser aceitável quando se vive em sociedade.
- Homem agiu corretamente, pois estava exercendo seu direito.

29. São exemplos de democracia indireta no Brasil indicados pelos algarismos romanos: o(a)

- voto.
- plebiscito.
- referendo.
- greve.

Marque a opção que apresenta as afirmativas CORRETAS.

- I – II.
- II – III.
- III – IV.
- II – IV.
- I – III.

30. Em um grupo de WhatsApp circularam imagens e comentários pejorativos sobre o aniversário de uma colega de trabalho. Incomodada com a situação, Ivani reporta aos integrantes do respectivo grupo que discorda dos comentários e adverte que sairá do grupo.

Considerando os princípios éticos profissionais, a atitude de Ivani pode ser caracterizada como

- coerente.
- radical.
- desnecessária.
- incorreta.
- descontextualizada.

31. Conforme o MapBiomias, o número de focos de incêndios no Pantanal em 2024 já supera o registrado no mesmo período de 2020, que foi o ano recorde de queimadas em todo o bioma e que afetou mais de 65 milhões de animais vertebrados da região, como os indicados pelos algarismos romanos.

- Jacaré.
- Água-viva.
- Escorpião.
- Onça pintada.
- Borboletas.

Marque a opção que apresenta as afirmativas CORRETAS.

- I – II – III.
- II – IV – V.
- III – V.
- I – IV.
- III – IV.

32. As mudanças climáticas afetam a estabilidade de sistemas alimentares, pois o clima é um determinante importante nos padrões de produção, oferta e demanda de alimentos, resultando nas variabilidades, a curto e longo prazo, dos preços, principalmente em populações mais pobres e vulneráveis.

A afirmação está

- correta, mas não se pode afirmar que o clima influencia na oferta de produtos agrícolas.
- incorreta pelos argumentos sobre o clima.
- correta, já que as mudanças climáticas têm impactado não somente a natureza, mas diversos setores socioeconômicos.
- parcialmente correta, já que o clima não interfere na produção agrícola.
- parcialmente correta, pois a oferta de alimentos depende do setor primário do País.

33. Ecossistema exclusivamente brasileiro, adaptado à escassez de chuva na região, em um clima quente e seco que se associa a um solo rico em minérios, raso e pedregoso.

Estamos falando do(a):

- savana.
- mata atlântica.
- cerrado.
- caatinga.
- floresta amazônica.

34. Uma revolução na área da saúde está acontecendo com o uso de Inteligência Artificial em consultórios, clínicas e hospitais. De acordo com um mapeamento feito pela Associação Nacional de Hospitais Privados (Anahp) e Associação Brasileira de Startups de Saúde (ABSS), 62,5% das instituições utilizam o recurso de alguma forma.

Entre as principais vantagens do uso de IA na área da saúde, está a

- garantia de eficácia do tratamento.
- personalização de tratamentos e otimização de operações hospitalares.
- ausência de risco na realização do procedimento médico.
- agilidade nas consultas, tornando-as mais rápidas.
- interpretação somente de dados genéticos.

35. Rede social que foi bloqueada em agosto de 2024 após decisão do Supremo Tribunal Federal.

- Instagram.
- Telegram.
- Orkut.
- WhatsApp.
- X, antigo Twitter.

36. País sul-americano que sofreu tentativa de golpe de Estado no segundo semestre de 2024.

- Brasil.
- Venezuela.
- Bolívia.
- Chile.
- Peru.

37. De acordo com dados do Instituto Trata Brasil, o Brasil tem 32 milhões de brasileiros sem acesso à água potável e 90 milhões de pessoas sem acesso à coleta de esgoto.

(Fonte: exame, 20 de março de 2024).

Sobre saneamento básico, analise as afirmativas a seguir e marque (V) para as VERDADEIRAS e (F) para as FALSAS.

- () A universalização do saneamento básico a toda população brasileira é uma realidade.
- () O Brasil enfrenta desafios para garantir água potável para toda a população brasileira.
- () A falta de saneamento básico não constitui causa de doenças.
- () O acesso à água tratada é um direito que nem todos os brasileiros podem usufruir.

Marque a opção que apresenta a sequência CORRETA.

- V – F – F – V.
- F – V – V – F.
- V – F – V – F.
- F – V – F – V.
- F – F – V – V.

38. “O Brasil aproxima-se da marca de 5 mil mortes provocadas pela dengue em 2024. De acordo com a última atualização do Painel de Monitoramento de Arboviroses, o País contabiliza 4.961 óbitos confirmados pela doença. Há ainda 2.161 mortes em investigação”.

(Fonte: Agência Brasil, 04 de agosto de 2024).

Os Estados que registraram mais casos da doença são

- São Paulo e Amapá.
- São Paulo e Minas Gerais.
- Amapá e Roraima.
- Sergipe e Minas Gerais.
- Paraná e Ceará.

39. Em 2024, o Município de Ubajara completa quantos anos de criação?

- 90 anos.
- 109 anos.
- 119 anos.
- 120 anos.
- 129 anos.

40. Observe a imagem a seguir.



Na trajetória histórica do Município de Ubajara, a imagem refere-se ao local onde já funcionou o(a)

- primeiro hospital do Município.
- centro cultural da cidade.
- agência bancária.
- prefeitura municipal.
- escola de ensino profissionalizante.

CONHECIMENTOS ESPECÍFICOS

41. Leia a seguinte afirmação:

“É o conjunto de ações capaz de eliminar, diminuir ou prevenir riscos à saúde e de intervir nos problemas sanitários decorrentes do meio ambiente, da produção e circulação de bens e da prestação de serviços de interesse da saúde.” Segundo a Lei nº 8.080 de 1990, esta afirmativa trata de

- Vigilância sanitária.
- Controle de zoonoses.
- Vigilância epidemiológica.
- Vigilância nutricional.
- Saúde do trabalhador.

42. Segundo a Lei Complementar nº 141 de 2012 que regulamenta o § 3º do art. 198 da Constituição Federal, assinale a afirmação que NÃO constituirá despesas com ações e serviços públicos de saúde, para fins de apuração dos percentuais mínimos de que trata esta Lei Complementar, aquelas decorrentes de

- vigilância em saúde, incluindo a epidemiológica e a sanitária.
- atenção integral e universal à saúde em todos os níveis de complexidade, incluindo assistência terapêutica e recuperação de deficiências nutricionais.
- capacitação do pessoal de saúde do Sistema Único de Saúde (SUS).
- limpeza urbana e remoção de resíduos.
- desenvolvimento científico e tecnológico e controle de qualidade promovidos por instituições do SUS.

43. De acordo com a Lei nº 8.080/1990, o Sistema Único de Saúde (SUS) obedece a alguns princípios. Assinale a afirmação que NÃO corresponde a um princípio do Sistema Único de Saúde.

- Igualdade da assistência à saúde, sem preconceitos ou privilégios de qualquer espécie.
- Direito à informação, às pessoas assistidas, sobre sua saúde.
- Preservação da autonomia das pessoas na defesa de sua integridade física e moral.
- Integração em nível executivo das ações de saúde, meio ambiente e saneamento básico.
- A identificação e divulgação dos fatores condicionantes e determinantes da saúde.

44. Conforme a Lei nº 8.142/1990, o Sistema Único de Saúde (SUS) contará, em cada esfera de governo, sem prejuízo das funções do Poder Legislativo, com as instâncias colegiadas: Conferência e Conselho de Saúde. Com relação ao conselho de saúde, assinale a afirmação CORRETA.

- Na sua composição há representantes do Conselho Nacional de Secretários de Saúde e do Conselho Nacional de Secretários Municipais de Saúde.
- Tem sua organização e normas de funcionamento determinadas em regimento próprio, aprovadas pelo Ministério da Saúde.
- Possui caráter permanente e consultivo, tendo papel fundamental na formulação de estratégias da política de saúde.
- A representação dos usuários nos Conselhos de Saúde será majoritária em relação ao conjunto dos demais segmentos.
- Reunir-se-á a cada quatro anos com a representação dos vários segmentos sociais.

45. Analise as proposições a seguir.

A NOB-SUS 01 / 96, aponta para uma reordenação do modelo de atenção à saúde, na medida em que redefine

- os papéis de cada esfera de governo e, em especial, no tocante a diferentes direções.
- os instrumentos gerenciais para que municípios e estados superem o papel exclusivo de prestadores de serviços e assumam seus respectivos papéis de gestores do SUS.
- os mecanismos e fluxos de financiamento, reduzindo progressiva e continuamente a remuneração por produção de serviços e ampliando as transferências de caráter global, fundo a fundo, com base em programações ascendentes, pactuadas e integradas.
- os vínculos dos serviços com os seus usuários, privilegiando os núcleos familiares e comunitários, criando, assim, condições para uma efetiva participação e controle social.

Marque a opção que apresenta as afirmativas CORRETAS.

- II – IV.
- III – IV.
- II – III – IV.
- I – II – III.
- I – II – III – IV.

46. Materiais perfurocortantes devem ser descartados separadamente, no local de sua geração, imediatamente ao uso ou à necessidade de descarte. Para atender à norma ANVISA- RDC Nº 222, de 28 de março de 2018, assinale a afirmativa INCORRETA.

- a) As agulhas descartáveis devem ser desprezadas juntamente com as seringas, quando descartáveis, sendo proibido reencapá-las ou proceder a sua retirada manualmente.
- b) Os recipientes de acondicionamento devem ser descartados quando o preenchimento atingir 2/3 de sua capacidade ou o nível de preenchimento ficar a 5 (cinco) cm de distância da boca do recipiente, sendo proibido o seu esvaziamento ou reaproveitamento.
- c) O armazenamento temporário, o transporte interno e o armazenamento externo destes resíduos podem ser feitos nos mesmos recipientes utilizados para o grupo d.
- d) Os resíduos perfurocortantes contaminados com agente biológico, classe de risco 4, micro-organismos com relevância epidemiológica e risco de disseminação ou causador de doença emergente que se torne epidemiologicamente importante ou cujo mecanismo de transmissão seja desconhecido, devem ser submetidos a tratamento.
- e) Os materiais perfurocortantes devem ser descartados separadamente em recipientes, rígidos, resistentes à punctura, ruptura e vazamento, com tampa, devidamente identificados.

47. Assinale a alternativa que NÃO indica um equipamento de proteção individual, segundo a NR-32: segurança e saúde no trabalho em serviços de saúde.

- a) Máscara.
- b) Touca.
- c) Luvas.
- d) Avental e/ou jaleco.
- e) Sapatos abertos.

48. Conforme a RDC nº 15 de 2012 que dispõe sobre os requisitos de boas práticas para o processamento de produtos para saúde quanto ao processamento de artigos hospitalares, assinale a afirmação CORRETA.

- a) O estetoscópio e o esfigmomanômetro são exemplos de artigos semicríticos.
- b) As máscaras de inalação são exemplos de artigos não críticos.
- c) Os endoscópios rígidos são exemplos de artigos críticos.
- d) O estetoscópio e o esfigmomanômetro são exemplos de artigos críticos.
- e) As comadres são exemplos de artigos não críticos.

49. A higienização das mãos é a medida individual mais simples e necessária que o técnico de enfermagem tenha conhecimento sobre o processo de lavagem de mãos. Com relação ao uso das luvas, assinale a afirmativa CORRETA.

- a) O uso de luvas substitui a higienização das mãos.
- b) Durante o contato com o paciente, não é necessário trocar de luvas quando for mudar de um sítio corporal contaminado para outro limpo.
- c) Na mesma enfermaria não é necessário trocar de luvas quando entrar em contato com outros pacientes.
- d) Não é necessário realizar a higienização das mãos após retirar as luvas.
- e) Trocar de luvas sempre que entrar em contato com outro paciente para realizar qualquer procedimento.

50. Conforme o Protocolo para prevenção de lesão por pressão do Ministério da Saúde de 2013, são essenciais seis etapas de uma estratégia de prevenção de lesão por pressão (LPP). Podemos citar, EXCETO o que se apresenta na opção

- a) Avaliação de LPP na admissão de todos os pacientes.
- b) Inspeção diária da pele.
- c) Manutenção do paciente seco e com a pele hidratada.

- d) Realizar massagem.
- e) Minimizar a pressão.

51. Conforme a Resolução do Cofen 567 de 2018 que regulamenta a atuação da Equipe de Enfermagem no Cuidado aos pacientes com feridas, assinale a afirmação CORRETA com relação aos cuidados que o técnico de enfermagem deve ter com pacientes nessas condições.

- a) Realizar curativos em todos os tipos de feridas, independente do grau de comprometimento tecidual.
- b) Executar o desbridamento autolítico, instrumental, mecânico e enzimático.
- c) Realizar curativo nas feridas sob prescrição e supervisão do enfermeiro.
- d) Executar os cuidados de enfermagem para os procedimentos de maior complexidade técnica.
- e) Participar e solicitar parecer técnico das comissões de curativos.

52. Considerando momentos do processo cirúrgico e tempos cirúrgicos, leia e analise as afirmativas a seguir.

- I. Pré-operatório mediato é o período desde a decisão de realizar a cirurgia, até 24 horas antes do procedimento operatório.
- II. Pré-operatório imediato são as 24 horas que antecedem a cirurgia.
- III. Transoperatório compreende desde o momento em que o paciente é recebido na sala de cirurgia até quando é admitido na sala de recuperação pós-anestésica.
- IV. Pós-operatório imediato são as primeiras 24 horas depois da cirurgia.
- V. Pós-operatório Mediato engloba de 24 horas depois da cirurgia, até um mês depois.
- VI. Pós-operatório Tardio é o período de um mês depois da cirurgia, até a alta do acompanhamento relacionado ao procedimento operatório.

Marque a opção que apresenta as afirmativas CORRETAS.

- a) I – III – IV – V.
- b) I – II – III – IV.
- c) I – II – V – VI.
- d) III – IV – V – VI.
- e) II – III – IV – V.

53. O Pós-operatório que se inicia a partir da saída do paciente da sala de cirurgia e perdura até sua total recuperação, pode ser dividido em pós-operatório imediato, mediato e tardio. Assinale a alternativa que apresenta as intervenções de enfermagem CORRETAS no pós-operatório imediato.

- a) Avaliar o nível de consciência e treinar o paciente para o cuidado domiciliar.
- b) Monitorar sinais vitais e encaminhar o paciente para redes de apoio comunitário.
- c) Monitorar sinais vitais, avaliar o nível de consciência e avaliar a condição do local da cirurgia.
- d) Observar as características da dor e marcar o retorno do paciente.
- e) Avaliar o nível de consciência e encaminhar o paciente para redes de apoio comunitário.

54. A AIDS é a doença causada pela infecção do Vírus da Imunodeficiência Humana (HIV é a sigla em inglês). Sobre a AIDS, assinale a afirmação INCORRETA.

- a) O vírus da AIDS pode ser transmitido por meio de relações sexuais desprotegidas, pelo sangue contaminado, de mãe gestante para filho durante a gravidez, parto ou amamentação.
- b) As principais células atacadas pelo vírus da imunodeficiência humana são os linfócitos T CD4, responsável pelas respostas imunitárias do organismo.

- c) A AIDS propicia o aparecimento de infecções oportunistas e que podem ser fatais em razão da debilidade do organismo da pessoa acometida.
- d) Todas as pessoas diagnosticadas com HIV têm direito a iniciar o tratamento com antirretrovirais imediatamente.
- e) A transmissão do HIV e, por consequência da AIDS, acontece também através da doação de sangue.

55. Associe a Coluna B, pela Coluna A, relacionando o nome da doença as suas características.

COLUNA A

- I. Variola.
- II. Hepatite.
- III. Poliomielite.
- IV. Dengue.
- V. Varicela.

COLUNA B

- () Pode afetar o sistema nervoso e a musculatura, provocando paralisia e atrofia muscular.
- () Febre alta, dor nas juntas, dor de cabeça e, em alguns casos, manchas vermelhas na pele são os principais sintomas dessa doença.
- () Causa um grande número de pequenas feridas pelo corpo, geralmente, sem deixar cicatrizes.
- () Forma pústulas na pele. Acredita-se que tenha sido erradicada do mundo, graças a vacinação.
- () Esta doença afeta o fígado e, dependendo do vírus, pode se tornar crônica.

Marque a opção que apresenta a sequência CORRETA.

- a) III – IV – V – I – II.
- b) I – II – III – IV – V.
- c) III – V – IV – II – I.
- d) III – IV – I – V – II.
- e) II – IV – V – I – III.

56. Segundo o Ministério da Saúde, sobre o sarampo, marque a afirmação INCORRETA.

- a) Sua transmissão ocorre quando o doente tosse, fala, espirra ou respira próximo de outras pessoas.
- b) Doença bacteriana, infecciosa aguda, potencialmente grave, transmissível, extremamente contagiosa e bastante comum na infância.
- c) A transmissão do vírus do sarampo ocorre de pessoa a pessoa, por via aérea, ao tossir, espirrar, falar ou respirar.
- d) O sarampo é tão contagioso que uma pessoa infectada pode transmitir para 90% das pessoas próximas que não estejam imunes.
- e) A maneira mais efetiva de evitar o sarampo é por meio da vacinação.

57. Segundo o Calendário de Vacinação do Ministério da Saúde, assinale a opção que apresenta a vacina contra sarampo.

- a) Pentavalente.
- b) Penumocócica 10.
- c) Triplice viral.
- d) Triplice bacteriana.
- e) HPV.

58. Considerando as vacinas indicadas no Calendário de Vacinação do Ministério da Saúde para o público adulto e idoso, assinale a afirmação CORRETA.

- a) A vacina contra hepatite B deve ser aplicada em duas doses de acordo com a situação vacinal da pessoa.
- b) A vacina contra febre amarela possui recomendação de duas doses para pessoas que nunca foram vacinadas ou que não tenham comprovante de vacinação.
- c) A vacina contra difteria e tétano tem recomendação de reforço a cada 15 anos.

- d) Pessoas a partir de 60 anos, que nunca foram vacinadas ou sem comprovante de vacinação, o serviço de saúde deverá avaliar a pertinência e o risco X benefício da vacinação contra febre amarela.
- e) Pessoas de 30 a 59 anos de idade não vacinadas devem receber duas doses de tríplice viral.

59. Considerando o Código de Ética do profissional da enfermagem quanto às responsabilidades, deveres e direitos dos profissionais, assinale a afirmação INCORRETA.

- a) Fundamentar suas relações no direito, na prudência, no respeito, na solidariedade e na diversidade de opinião e posição ideológica.
- b) Comunicar ao COREN e aos órgãos competentes, fatos que infrinjam dispositivos legais e que possam prejudicar o exercício profissional.
- c) Promover e ser conivente com a injúria, calúnia e difamação de membro da equipe de enfermagem, equipe de saúde e de trabalhadores de outras áreas, de organizações da categoria ou instituições.
- d) Exercer a enfermagem com liberdade, autonomia e ser tratado segundo os pressupostos e princípios legais, éticos e dos direitos humanos.
- e) Exercer a profissão com justiça, compromisso, equidade, resolutividade, dignidade, competência, responsabilidade, honestidade e lealdade.

60. Do sigilo profissional presente no Código de Ética do Profissional de Enfermagem, assinale a assertiva que representa uma proibição.

- a) Abster-se de revelar informações confidenciais de que tenha conhecimento em razão de seu exercício profissional a pessoas ou entidades que não estejam obrigadas ao sigilo.
- b) Manter segredo sobre fato sigiloso de que tenha conhecimento em razão de sua atividade profissional, exceto casos previstos em lei, ordem judicial, ou com o consentimento escrito da pessoa envolvida ou de seu representante legal.
- c) Orientar, na condição de enfermeiro, a equipe sob sua responsabilidade, sobre o dever do sigilo profissional.
- d) Divulgar ou fazer referência a casos, situações ou fatos de forma que os envolvidos possam ser identificados.
- e) Posicionar-se contra falta cometida durante o exercício profissional seja por imperícia, imprudência ou negligência.