


PREFEITURA MUNICIPAL DE CAETÉ/MG

**PROCESSO SELETIVO
EDITAL Nº 01/2022**



**Agente Comunitário de Saúde –
Todas as Unidades**

Tarde

Tipo 1 - BRANCA

Organizadora:



**INSTITUTO
CONSULPLAN**

FUNÇÃO: AGENTE COMUNITÁRIO DE SAÚDE – TODAS AS UNIDADES

CONHECIMENTOS BÁSICOS

LÍNGUA PORTUGUESA

Maneira de amar

O jardineiro conversava com as flores e elas se habituaram ao diálogo. Passava manhãs contando coisas a uma cravina ou escutando o que lhe confiava um gerânio. O girassol não ia muito com sua cara, ou porque não fosse homem bonito, ou porque os girassóis são orgulhosos de natureza.

Em vão o jardineiro tentava captar-lhe as graças, pois o girassol chegava a voltar-se contra a luz para não ver o rosto que lhe sorria. Era uma situação bastante embaraçosa, que as outras flores não comentavam. Nunca, entretanto, o jardineiro deixou de regar o pé de girassol e de renovar-lhe a terra, na devida ocasião.

O dono do jardim achou que seu empregado perdia muito tempo parado diante dos canteiros, aparentemente não fazendo coisa alguma. E mandou-o embora, depois de assinar a carteira de trabalho.

Depois que o jardineiro saiu, as flores ficaram tristes e censuravam-se porque não tinham induzido o girassol a mudar de atitude. A mais triste de todas era o girassol, que não se conformava com a ausência do homem. “Você o tratava mal, agora está arrependido?” “Não”, respondeu. “Estou triste porque agora não posso tratá-lo mal. É a minha maneira de amar, ele sabia disso, e gostava.”

(Armazém de Textos. Em: 08/08/2019. Carlos Drummond de Andrade. Adaptado.)

Questão 01

Considerando as ideias evidenciadas na crônica, é possível afirmar que:

- A) Todos os dias, o girassol sorria para o jardineiro.
- B) As flores se habituaram com o diálogo do jardineiro.
- C) O jardineiro conversava com todas as flores, à exceção do girassol.
- D) Apesar de toda a sua indiferença, o girassol recebia, às vezes, atenção do jardineiro.

Questão 02

É possível inferir que a ideia principal dessa pequena crônica é:

- A) O valor do diálogo.
- B) Cada um tem um modo de expressar o amor.
- C) Como cuidar, satisfatoriamente, de um jardim.
- D) As características e peculiaridades de cada flor.

Questão 03

Considerando as ideias textuais, sobre os girassóis, é correto afirmar que:

- A) Tratava, educadamente, o jardineiro.
- B) Mudava de comportamento constantemente.
- C) São orgulhosos, ou seja, são presunçosos de natureza.
- D) Perdia bastante tempo inerte no canteiro: uma situação delicada.

Questão 04

Em “*Em vão o jardineiro tentava captar-lhe as graças, pois o girassol chegava a voltar-se contra a luz para não ver o rosto que lhe sorria.*” (2º§), a expressão destacada significa:

- A) Inutilmente.
- B) Calmamente.
- C) Gradualmente.
- D) Venturosamente.

Questão 05

No trecho “*Nunca, entretanto, o jardineiro deixou de regar o pé de girassol e de renovar-lhe a terra, na devida ocasião.*” (2º§), o termo destacado pode ser substituído, sem alteração de sentido, por:

- A) Portanto.
- B) Outrossim.
- C) No entanto.
- D) Diante disso.

Questão 06

No fragmento “*Era uma situação bastante embaraçosa, que as outras flores não comentavam.*” (2º§), a expressão destacada pode ser substituída, sem prejuízo semântico, por:

- A) Polêmica.
- B) Reprovada.
- C) Tempestuosa.
- D) Constrangedora.

Questão 07

Considerando que o advérbio é uma palavra invariável que acompanha o verbo, modificando seu sentido, podendo, também, se relacionar com adjetivos ou até mesmo outros advérbios, assinale a afirmativa citada no texto que exprime circunstância de modo.

- A) “*E mandou-o embora, depois de assinar a carteira de trabalho.*” (3º§)
- B) “*Era uma situação bastante embaraçosa, que as outras flores não comentavam.*” (2º§)
- C) “*A mais triste de todas era o girassol, que não se conformava com a ausência do homem.*” (4º§)
- D) “*O dono do jardim achou que seu empregado perdia muito tempo parado diante dos canteiros, aparentemente não fazendo coisa alguma.*” (3º§)

Questão 08

Considerando que o sujeito é o termo essencial da oração sobre o qual se diz alguma coisa, trata-se de afirmativa que expressa sujeito oculto:

- A) “*O girassol não ia muito com sua cara, [...]*” (1º§)
- B) “*O dono do jardim achou que seu empregado perdia muito tempo parado diante dos canteiros, [...]*” (3º§)
- C) “*Passava manhãs contando coisas a uma cravina ou escutando o que lhe confiava um gerânio.*” (1º§)
- D) “[...] *as flores ficaram tristes e censuravam-se porque não tinham induzido o girassol a mudar de atitude.*” (4º§)

Questão 09

Em “*Você o tratava mal, agora está arrependido?*” (4º§), o ponto de interrogação (?) tem como finalidade:

- A) Realizar uma indagação.
- B) Finalizar oração declarativa.
- C) Marcar uma pequena pausa.
- D) Anunciar uma dúvida do leitor.

Questão 10


Considerando as afirmativas transcritas do texto, assinale a que indica ação verbal que expressa ideia de continuidade.

- A) “*O jardineiro conversava com as flores [...]*” (1º§)
- B) “*Estou triste porque agora não posso tratá-lo mal.*” (4º§)
- C) “*E mandou-o embora, depois de assinar a carteira de trabalho.*” (3º§)
- D) “*Nunca, entretanto, o jardineiro deixou de regar o pé de girassol [...]*” (2º§)

RACIOCÍNIO LÓGICO-MATEMÁTICO

Questão 11

Observe a sequência lógica a seguir.



Qual alternativa completa o elemento que falta?

- A) 12
- B) 18
- C) 24
- D) 32

Questão 12

Considere que são necessários 15 agentes comunitários de saúde para atender 180 famílias em uma região de determinada cidade. Sendo assim, para que sejam atendidas 216 famílias, o número de agentes comunitários de saúde igualmente eficientes que devem ser contratados totaliza:

- A) 16
- B) 17
- C) 18
- D) 20

Questão 13

Após uma campanha de vacinação contra o sarampo, o número de crianças vacinadas por semana aumentou em 46%, totalizando 219 vacinações semanais. Com base nessa situação, pode-se concluir que o aumento no número de crianças vacinadas está compreendido entre:

- A) 50 e 70
- B) 70 e 80
- C) 80 e 90
- D) 90 e 100

Questão 14

Um agente comunitário de saúde, atuando em uma política pública de combate a uma epidemia, recebe dois tipos de pacientes: contaminados e não contaminados. Sabe-se que a probabilidade de que um paciente esteja contaminado é de 30%. Desse modo, se ele receber 5 pacientes, a probabilidade de que exatamente 3 estejam contaminados está compreendida entre:

- A) 0 e 20%
- B) 20% e 40%
- C) 40% e 80%
- D) 80% e 100%

Questão 15

Em uma confraternização dos servidores da prefeitura do município x foram distribuídos 100 números, do 100 ao 199, para sorteio de um brinde ao número contemplado. Sabe-se que participam da confraternização 4 setores: limpeza, obras, saúde e compras, sendo que os números foram distribuídos da seguinte forma:

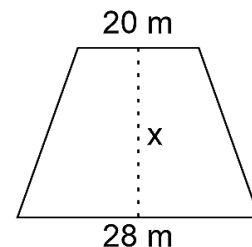
- Limpeza: números 100 a 124.
- Obras: números 125 a 149.
- Saúde: números 150 a 174.
- Compras: números 175 a 199.

Com base na situação descrita, caso seja sorteado um desses números aleatoriamente, a probabilidade de que o número contemplado pertença ao setor da limpeza ou ao setor de saúde e seja ímpar está compreendida entre:

- A) 0% e 24,9%
- B) 25,0% e 49,9%
- C) 50,0% e 74,9%
- D) 75,0% e 100%

Questão 16

Marcelo recebeu parte da herança de sua família e decidiu comprar um terreno em um bairro onde o preço do metro quadrado é de R\$ 1.500,00. No lote de terrenos em que Marcelo apresentou interesse, os terrenos eram padronizados conforme a figura a seguir, variando apenas em relação ao valor x, que representa a profundidade do terreno a ser comprado; observe.



Com base nessas informações, se Marcelo dispõe de, exatamente, R\$ 225.000,00 para comprar um desses terrenos, a profundidade máxima do terreno que ele poderá comprar está compreendida entre:

- A) 3 e 5 metros
- B) 5 e 6 metros
- C) 6 e 7 metros
- D) 7 e 10 metros

Questão 17

Considere dois conjuntos numéricos representados por:

$$L = \{2, 4, 24, 3, 6, 36\} \text{ e } M = \{1, 3, 13, 5, 6, 56\}$$

Quantos elementos há na intersecção desses dois conjuntos?

- A) 2
- B) 3
- C) 4
- D) 6

Questão 18

O responsável pelo setor de saúde de determinado município verificou que a demanda de agentes de endemia é de 20 servidores para serviços internos e administrativos e mais 4 servidores para cada bairro existente na cidade. Dessa forma, caso o município possua um total de 15 bairros, qual será o total de agentes de endemia que o município deverá ter?

- A) 60
- B) 70
- C) 80
- D) 90

Questão 19

Gilberto trabalha embalando luvas para atendimento médico em um posto de saúde. As embalagens são compostas por 3 luvas e, ao final do trabalho, ele precisa registrar a quantidade total de luvas que foram embaladas em uma planilha para enviar a seu supervisor. Considere que, ao final de determinado dia de trabalho, Gilberto acabou se confundindo quanto ao número que deveria registrar, mas sabe que não cometeu nenhum erro na execução do trabalho e que a etiqueta com o quantitativo de luvas embaladas era um dos seguintes valores:

- Etiqueta A: 3.443;
- Etiqueta B: 3.134;
- Etiqueta C: 3.852; e,
- Etiqueta D: 3.610.

Sabendo das propriedades numéricas dos números naturais, Gilberto pode afirmar que a única etiqueta que pode evidenciar corretamente a quantidade de luvas embaladas por ele nesse dia é a etiqueta:

- A) A.
- B) B.
- C) C.
- D) D.

Questão 20

Uma Unidade Básica de Saúde (UBS) possui 12 funcionários que precisam coletar 1.400 cadastros de usuários em 12 dias. Ao final do sexto dia, quando a metade dos cadastros estava coletada, 3 funcionários pediram demissão, deixando o serviço a cargo dos demais, o que ocasionará um atraso na finalização dos cadastros. Mantendo-se a produtividade de cada funcionário inalterada, quantos dias, ao todo, serão necessários para que os funcionários da UBS finalizem os 1.400 cadastros?

- A) 13 dias.
- B) 14 dias.
- C) 15 dias.
- D) 16 dias.

CONHECIMENTOS ESPECÍFICOS

CONHECIMENTOS DA FUNÇÃO

Questão 21

O Programa Saúde da Família constitui-se como uma estratégia de inversão do modelo assistencial, trazendo consigo a necessidade de transformação e superação das práticas de saúde vigentes no país. Diante disso, entende-se que a lógica dos serviços não é apenas a cura e reabilitação do indivíduo, mas a vigilância à saúde, em que o enfoque é o cidadão com seu modo de pensar e encarar a vida.

(Fonte: Escola de Saúde Pública do Estado de Minas Gerais. Adaptado.)

O processo de territorialização em saúde é um processo essencial para assegurar os princípios do Sistema Único de Saúde (SUS), pois visa conhecer o território onde o Programa Saúde da Família (PSF) atua e como são processadas as práticas de saúde. Sobre os modelos de divisão territorial em saúde, relacione adequadamente os conceitos a seguir.

1. Distrito sanitário.
 2. Microárea.
 3. Área de abrangência.
 4. Domicílio.
- () Refere-se ao detalhamento da base territorial da microárea. É a adscrição mínima da área de abrangência.
 - () Corresponde à área de responsabilidade de uma unidade de saúde, baseada na lógica da vigilância em saúde. Apoiase em critérios de acessibilidade geográfica e de fluxo da população.
 - () Trata-se de um segmento da divisão geográfica da área de abrangência, composto de domicílios, sob a responsabilidade de um agente comunitário de saúde.
 - () Compreende uma área delimitada geograficamente para facilitar a administração municipal. Consiste em um processo de mudanças das práticas sanitárias, orientado pela epidemiologia e sob a gestão de uma autoridade local.

A sequência está correta em

- A) 4, 3, 2, 1.
- B) 2, 4, 3, 1.
- C) 1, 3, 2, 4.
- D) 1, 2, 3, 4.

Questão 22

Segundo Tomaz (1997), “diagnóstico é o conhecimento, é o retrato vivo que pode ser feito de uma pessoa, de uma instituição ou de uma comunidade”. O diagnóstico demográfico consiste no estudo das características de uma comunidade em relação ao número de pessoas que nascem, vivem, migram e morrem e sua distribuição por sexo, faixa etária e localização (zona rural e urbana). Sobre o diagnóstico demográfico da faixa etária, considerando a atuação do agente comunitário de saúde, assinale a afirmativa INCORRETA.

- A) A faixa etária de 0 a 10 anos representa as crianças de sua microárea.
- B) Mulheres de 12 a 49 anos representam as mulheres em idade fértil.
- C) Pessoas com mais de 60 anos representam os idosos de sua microárea.
- D) As doenças imunopreveníveis são mais prevalentes na população acima 15 anos.

Questão 23

Toda a Equipe de Saúde da Família deve elaborar um retrato de sua microárea observando com clareza os locais onde se encontram os principais problemas de saúde e do meio ambiente. O mapa deve ser construído representando toda a área onde trabalha a equipe; entretanto, toda a equipe deverá participar de sua elaboração e atualização, proporcionando o planejamento das ações em conjunto, uma vez que o trabalho de um profissional depende da atuação do outro. Considerando as vantagens do mapa, marque V para as afirmativas verdadeiras e F para as falsas.

- () Proporciona o planejamento do percurso das visitas de cada dia sem perder tempo.
- () Gera visibilidade, por meio de símbolos, às casas com famílias em situação de risco e que necessitam ser priorizadas pela equipe.
- () Mostra toda a microárea, dando uma visão global do trabalho a ser executado por todos os profissionais de saúde.

A sequência está correta em

- A) V, V, V.
- B) F, V, V.
- C) F, F, F.
- D) V, F, V.

Questão 24

É imprescindível que o agente comunitário de saúde tenha conhecimentos sobre alguns termos e definições importantes utilizados no seu dia a dia. O termo “cadeia de transmissão epidemiológica” se refere à:

- A) Porção ou produto de um agente biológico que pode estimular a formação de anticorpos específicos.
- B) Pessoa ou animal infectado ou doente que apresenta características clínicas, laboratoriais e/ou epidemiológicas específicas.
- C) Caracterização dos mecanismos de transmissão de um agente infeccioso que envolvem os suscetíveis, os agentes patogênicos e os reservatórios.
- D) Relação entre a frequência absoluta de mortes e o número de expostos ao risco de morrer. Pode ser geral, quando inclui todos os óbitos e toda a população da área em estudo e pode ser específico por idade, sexo, ocupação e causa de morte.

Questão 25

A Política Nacional de Saúde da Pessoa Idosa, Portaria GM nº 2.528/2006, define que a atenção à saúde dessa população terá como porta de entrada a Atenção Básica/Estratégia de Saúde da Família. A Rede de Atenção Psicossocial (RAPS) e a Rede de Atenção às Urgências e Emergências (UPAS e Pronto Atendimento) também são portas de entrada para o atendimento. Sobre as diretrizes da Política Nacional de Saúde da Pessoa Idosa, analise as afirmativas a seguir.

- I. Promoção do envelhecimento ativo e saudável.
- II. Provimento de recursos capazes de assegurar qualidade da atenção à saúde da pessoa idosa.
- III. Estímulo às ações intersetoriais, visando à integralidade da atenção.

Está correto o que se afirma em

- A) I, II e III.
- B) II, apenas.
- C) III, apenas.
- D) I e II, apenas.

Questão 26

A gravidez é um período que dura cerca de 40 semanas (280 dias) e é o resultado do processo de fecundação de um ovócito por um espermatozoide e posterior fixação do zigoto na cavidade uterina. A gravidez envolve o desenvolvimento do feto no interior do útero da mulher e é um período que se estende até a expulsão do bebê no momento do parto.

(Disponível em: <https://brasilecola.uol.com.br/biologia/gravidez.htm>. Adaptado.)

Sobre as complicações que podem ocorrer na gravidez, marque V para as afirmativas verdadeiras e F para as falsas.

- () Hiperêmese gravídica é a ocorrência de vômitos excessivos incontrolláveis durante a gestação, resultando em desidratação, perda ponderal e cetose.
- () A gravidez ectópica ou tubária acontece quando o óvulo fertilizado é implantado fora do útero, como nas tubas uterinas.
- () Pré-eclâmpsia é uma condição que causa pressão alta na gravidez e, geralmente, ocorre após a 20ª semana.
- () O diabetes gestacional ocorre quando a gestante está com baixo nível de açúcar no sangue.

A sequência está correta em

- A) V, V, V, F.
- B) F, V, V, F.
- C) F, F, F, F.
- D) V, F, V, F.

Questão 27

O Programa Nacional de Imunizações (PNI) preconiza que a primeira dose da vacina contra hepatite B deverá ser ministrada:

- A) 60 dias após o nascimento.
- B) 30 dias após o nascimento.
- C) 180 dias após o nascimento.
- D) Nas primeiras 12 horas de vida do recém-nascido.

Questão 28

Na atualidade, é um fato que a terceira idade não é mais como era antigamente, uma vez que hoje vive-se com mais qualidade, saúde e bem-estar. Enquanto a taxa de natalidade está caindo, a expectativa de vida só cresce. Portanto, é preciso que a sociedade esteja preparada para acolher da melhor forma quem tem mais de 60 anos. Hoje, o número de pessoas acima dos 60 no país já é superior ao de crianças com até 9 anos de idade. De acordo com dados divulgados pelo IBGE, em 2019, data do último estudo, nosso país chegou a cerca de 32,9 milhões de idosos, sendo que a previsão é de que o número de pessoas com 65 anos ou mais aumente significativamente até 2060, chegando a 58,2 milhões – o equivalente a 25,5% da população.

(Disponível em: www.medico24hs.com.br.)

São consideradas as principais doenças que atingem os idosos, EXCETO:

- A) Catarata.
- B) Osteoporose.
- C) Leucodistrofia.
- D) Doença de Alzheimer.

Questão 29

Sobre a importância de declaração dos nascidos vivos, analise as afirmativas a seguir.

- I. A fonte utilizada para o levantamento de nascimentos em um dado local e período é o Registro Civil; porém, as informações contidas em tal documento podem não refletir a realidade pela ocorrência do subregistro ou, ainda, má qualidade das informações preenchidas.
- II. O número de nascimentos em um determinado período e localidade é uma informação indispensável para o planejamento de programas de saúde, possibilitando a elaboração de indicadores demográficos, epidemiológicos, político-sociais e econômicos.
- III. A Declaração de Nascido Vivo (DN) é um documento padronizado pelo Ministério da Saúde (MS) que contém informações importantes na definição do perfil epidemiológico da população, como peso ao nascer, Índice de *Apgar*, duração da gestação, tipo de parto e paridade; informações fundamentais na construção de coeficientes específicos de mortalidade infantil para a área de saúde materno-infantil.
- IV. A Declaração de Nascido Vivo (DN) deve ser preenchida em todo o território nacional para todos os nascidos vivos, exclusivamente, nas unidades de internação ou de emergência dos estabelecimentos de saúde.

Está correto o que se afirma apenas em

- A) II e IV.
- B) III e IV.
- C) I, II e III.
- D) I, II e IV.

Questão 30

A vacina tetravalente (DTP + Hib) imuniza contra as seguintes doenças, EXCETO:

- A) Tétano.
- B) Difteria.
- C) Coqueluche.
- D) Poliomielite.

ATENÇÃO



NÃO É PERMITIDA a anotação das respostas da prova em QUALQUER MEIO.
O candidato flagrado nesta conduta poderá ser **ELIMINADO** do processo.



INSTRUÇÕES

É facultativo o uso de máscara durante a aplicação da prova. O álcool em gel se encontra disponível para o uso dos candidatos.

1. Somente será permitida a utilização de caneta esferográfica de tinta azul ou preta, feita de material transparente e de ponta grossa.
2. É proibida, durante a realização das provas, a comunicação entre os candidatos, bem como a utilização de máquinas calculadoras e/ou similares, livros, anotações, impressos ou qualquer outro material de consulta, protetor auricular, lápis, borracha ou corretivo. Especificamente, não será permitido o candidato ingressar na sala de provas sem o devido recolhimento, com respectiva identificação, dos seguintes equipamentos: *bip*, telefone celular, *walkman*, agenda eletrônica, *notebook*, *palmtop*, *ipod*, *ipad*, *tablet*, *smartphone*, mp3, mp4, receptor, gravador, máquina de calcular, máquina fotográfica, controle de alarme de carro, relógio de qualquer modelo, pulseiras magnéticas e similares e etc., o que não acarreta em qualquer responsabilidade do Instituto Consulplan sobre tais equipamentos.
3. Com vistas à garantia da segurança e da integridade do Processo Seletivo, no dia da realização das provas escritas objetivas, os candidatos serão submetidos ao sistema de detecção de metais na entrada e na saída dos sanitários.
4. O caderno de provas consta de 40 (quarenta) questões de múltipla escolha para as funções de Nível Superior; 30 (trinta) questões de múltipla escolha para as funções de Nível Médio/Técnico Completo; e, Nível Fundamental Completo.
5. Ao receber o material de realização das provas, o candidato deverá conferir atentamente se o caderno de provas contém o número de questões previsto, se corresponde a função a que está concorrendo, bem como se os dados constantes no Cartão de Respostas (Gabarito) estão corretos. Caso os dados estejam incorretos, ou o material esteja incompleto ou, ainda, detenha qualquer imperfeição, o candidato deverá informar tal ocorrência ao Fiscal de Aplicação.
6. As provas terão duração de 3 (três) horas para todas as funções.
7. As questões das provas objetivas são do tipo múltipla escolha, com 4 (quatro) opções de respostas (A a D) e uma única resposta correta. Ao terminar a prova, o candidato, obrigatoriamente, deverá devolver ao Fiscal de Aplicação o Cartão de Respostas (Gabarito) devidamente assinado em local específico.
8. Os Fiscais de Aplicação não estão autorizados a emitir opinião e prestar esclarecimentos sobre o conteúdo das provas. Cabe, única e exclusivamente, ao candidato interpretar e decidir.
9. Não é permitida a anotação de informações relativas às respostas (cópia de gabarito) no Cartão de Confirmação de Inscrição (CCI) ou em qualquer outro meio.
10. O candidato somente poderá se retirar do local de realização das provas escritas levando o caderno de provas no decurso dos últimos 30 (trinta) minutos anteriores ao horário previsto para o seu término. O candidato, também, poderá retirar-se do local de provas somente a partir dos 90 (noventa) minutos após o início de sua realização, contudo não poderá levar consigo o caderno de provas.
11. Os 3 (três) últimos candidatos de cada sala só poderão sair juntos. Caso algum destes candidatos insista em sair do local de aplicação antes de autorizado pelo fiscal de aplicação, será lavrado Termo de Ocorrência, assinado pelo candidato e testemunhado pelos 2 (dois) outros candidatos, pelo fiscal de aplicação da sala e pelo Coordenador da unidade de provas, para posterior análise pela Comissão de Acompanhamento do Processo Seletivo.

RESULTADOS E RECURSOS

- Os gabaritos oficiais preliminares das provas objetivas serão divulgados na *internet*, no endereço eletrônico www.institutoconsulplan.org.br, a partir das 16h00min da segunda-feira subsequente à realização das provas escritas objetivas de múltipla escolha.
- O candidato que desejar interpor recursos contra os gabaritos oficiais preliminares das provas objetivas disporá de 2 (dois) dias úteis, a partir do dia subsequente ao da divulgação, em requerimento próprio disponibilizado no *link* correlato ao Processo Seletivo no endereço eletrônico www.institutoconsulplan.org.br.
- A interposição de recursos poderá ser feita via *internet*, através do Sistema Eletrônico de Interposição de Recursos, com acesso pelo candidato ao fornecer os dados referentes à sua inscrição, apenas no prazo recursal, ao Instituto Consulplan, conforme disposições contidas no endereço eletrônico www.institutoconsulplan.org.br, no *link* correspondente ao Processo Seletivo.