



PREFEITURA MUNICIPAL DE BARRA DE SANTANA - PB

NÍVEL FUNDAMENTAL INCOMPLETO

AGENTE CONDUTOR DE VEÍCULOS - D
AGENTE DE LIMPEZA URBANA
OPERADOR DE MÁQUINAS PESADAS

EXAME GRAFOTÉCNICO:

(Transcreva a frase abaixo no local indicado na sua Folha de Respostas)

**“Barra de Santana berço onde habita
Alegria paz amor é poesia”**

INSTRUÇÕES:

- 01** Verifique se este caderno de provas contém **40 (quarenta)** questões de múltipla escolha, sendo Português de **01 a 20**, Matemática de **21 a 30** e Conhecimentos Gerais de **31 a 40**.
- 02** Observe se há falhas ou imperfeições gráficas que causem dúvidas. Caso existam, comunique imediatamente ao Fiscal de Sala.
- 03** Verifique se os dados existentes na Folha de Respostas conferem com os dados do Cartão de Inscrição.
- 04** Esta Prova tem duração de **4 (quatro)** horas. Não é permitida a saída do candidato antes de esgotado o tempo mínimo de **2 (duas)** horas.
- 05** É vetado, durante a prova, o intercâmbio ou empréstimo de material de qualquer natureza entre os candidatos, bem como o uso de celulares, calculadoras e/ou qualquer outro tipo de equipamento eletrônico. A fraude, ou tentativa, a indisciplina e o desrespeito às autoridades encarregadas dos trabalhos são faltas que eliminam o candidato.
- 06** Assine a **Lista de Presença** e entregue ao Fiscal de Sala a **Folha de Respostas** devidamente assinada, bem como o **Caderno de Prova**.



PORTUGUÊS

Leia o Texto I e responda às questões de 1 a 10:

Texto I

APRENDA A CHAMAR A POLÍCIA

Eu tenho o sono muito leve, e numa noite dessas notei que havia alguém andando sorrateiramente no quintal de casa. Levantei em silêncio e fiquei acompanhando os leves ruídos que vinham lá de fora, até ver uma silhueta passando pela janela do banheiro. Como minha casa era muito segura, com grades nas janelas e trancas internas nas portas, não fiquei muito preocupado, mas era claro que eu não ia deixar um ladrão ali, espiando tranquilamente.

Liguei baixinho para a polícia, informei a situação e o meu endereço.

Perguntaram-me se o ladrão estava armado ou se já estava no interior da casa.

Esclareci que não e disseram-me que não havia nenhuma viatura por perto para ajudar, mas que iriam mandar alguém assim que fosse possível.

Um minuto depois, liguei de novo e disse com a voz calma:

— Oi, eu liguei há pouco porque tinha alguém no meu quintal. Não precisa mais ter pressa. Eu já matei o ladrão com um tiro de escopeta calibre 12, que tenho guardada em casa para estas situações. O tiro fez um estrago danado no cara!

Passados menos de três minutos, estavam na minha rua cinco carros da polícia, um helicóptero, uma unidade do resgate, uma equipe de TV e a turma dos direitos humanos, que não perderiam isso por nada neste mundo.

Eles prenderam o ladrão em flagrante, que ficava olhando tudo com cara de assombrado. Talvez ele estivesse pensando que aquela era a casa do Comandante da Polícia.

No meio do tumulto, um tenente se aproximou de mim e disse:

— Pensei que tivesse dito que tinha matado o ladrão.

Eu respondi:

— Pensei que tivesse dito que não havia ninguém disponível.

VERÍSSIMO, Luís Fernando. **Aprenda a chamar a polícia.** Disponível em: <https://armazemdetexto.blogspot.com/2020/07/cronica-aprenda-chamar-policia-luis.html>. Acesso em: 18 set. 2024.

1ª QUESTÃO

Assinale a alternativa CORRETA em relação às ideias apresentadas no Texto I.

- a) O texto mostra que havia policiamento disponível para agir desde o primeiro contato do narrador.
- b) Após o narrador relatar ao comandante da polícia que havia matado o ladrão, a equipe policial agiu rapidamente.
- c) O ladrão portava uma arma e já estava no interior da residência quando o proprietário da casa ligou para a polícia.
- d) Apesar da casa ser muito segura, com grades nas janelas e trancas internas nas portas, o morador ficou muito preocupado.
- e) Apesar de todo o esforço das equipes policiais, o ladrão não foi preso, pois conseguiu fugir pelo quintal.

2ª QUESTÃO

Na passagem “Eu tenho o sono muito leve, e numa noite dessas notei que havia alguém andando sorrateiramente no quintal de casa”, o termo “sorrateiramente” significa:

- a) de maneira sigilosa, barulhenta.
- b) de maneira ruidosa, descuidada.
- c) de maneira aberta, ligeira.
- d) de maneira descuidada, fortuita.
- e) de maneira oculta, sigilosa.

3ª QUESTÃO

Na passagem “No meio do tumulto, um tenente se aproximou de mim e disse:”, os dois-pontos foram empregados para:

- a) enfatizar uma expressão empregada pelo narrador.
- b) encerrar o parágrafo.
- c) anunciar a fala de um personagem da história.
- d) encerrar o período.
- e) separar uma lista de elementos.

4ª QUESTÃO

Analise as afirmativas acerca do fragmento “Liguei baixinho para a polícia, informei a situação e o meu endereço”.

- I- O termo “baixinho” indica diminutivo.
- II- O verbo “liguei” está conjugado na primeira pessoa do plural.
- III- O verbo “informei” está conjugado no modo subjuntivo.
- IV- Há apenas dois artigos definidos no fragmento.

É CORRETO o que se afirma apenas em:

- a) II e III.
- b) I.
- c) I e II.
- d) II e IV.
- e) I, III e IV.

5ª QUESTÃO

No fragmento “Como minha casa era muito segura, com grades nas janelas e trancas internas nas portas, não fiquei muito preocupado”, o termo “preocupado” é classificado, consoante o número de sílabas, como:

- a) oxítono, pois possui quatro sílabas.
- b) dissílabo, pois possui duas sílabas.
- c) polissílabo, pois possui exatamente quatro sílabas.
- d) trissílabo, pois possui três sílabas.
- e) polissílabo, pois possui mais de três sílabas.

6ª QUESTÃO

Assinale o comentário CORRETO em relação à substituição do termo “ruídos” pelo termo “ruído”, no fragmento: “Levantei em silêncio e fiquei acompanhando os leves ruídos que vinham lá de fora”.

- a) A alteração provoca mudança na categoria número, do plural para o singular.
- b) A alteração provoca mudança na categoria número, do singular para o plural.
- c) A alteração provoca mudança na categoria gênero, do masculino para o feminino.
- d) A alteração provoca mudança na categoria gênero, do feminino para o masculino.
- e) A alteração provoca mudança na categoria grau, do diminutivo para o aumentativo.

7ª QUESTÃO

Observe os termos sublinhados nos dois fragmentos abaixo e analise as assertivas.

FRAGMENTO A – “Como minha casa era muito segura, com grades nas janelas e trancas internas nas portas, não fiquei muito preocupado, mas era claro que eu não ia deixar um ladrão ali, espiando tranquilamente.”.

FRAGMENTO B – “Perguntaram-me se o ladrão estava armado ou se já estava no interior da casa.”.

- I- No fragmento A, o ladrão foi mencionado pela primeira vez, razão pela qual foi empregado o artigo definido.
- II- No fragmento B, o ladrão foi mencionado pela segunda vez, razão pela qual se optou pelo uso do artigo definido.
- III- No fragmento B, o termo “o” é um artigo indefinido.
- IV- No fragmento A, o termo “um” foi empregado para designar um ser ainda não referido.

É CORRETO o que se afirma apenas em:

- a) IV.
- b) I, III e IV.
- c) III.
- d) II.
- e) II e IV.

8ª QUESTÃO

Assinale a alternativa CORRETA sobre a forma verbal “esclareci”, extraída do fragmento: “Esclareci que não e disseram-me que não havia nenhuma viatura por perto para ajudar”.

- a) Está conjugada no modo subjuntivo e foi empregada para indicar uma possibilidade ou hipótese.
- b) Está conjugada no modo indicativo e foi empregada para expressar dúvida.
- c) Está conjugada no modo indicativo e foi empregada para expressar uma certeza.
- d) Está conjugada no modo imperativo e foi empregada para expressar incerteza.
- e) Está conjugada no modo indicativo e foi empregada para influenciar comportamentos.

9ª QUESTÃO

Assinale a alternativa que reúne duas palavras paroxítonas e uma palavra oxítone, nesta ordem:

- a) comandante, tumulto, disponível.
- b) escopeta, alguém, minutos.
- c) sorrateiramente, andando, três.
- d) janelas, humanos, assombrado.
- e) tenente, polícia, viatura.

10ª QUESTÃO

Assinale a alternativa que apresenta a relação adequada entre o termo sublinhado no fragmento e a classe gramatical correspondente.

- a) “Perguntaram-me se o ladrão estava armado ou se já estava no interior da casa” – substantivo.
- b) “Liguei baixinho para a polícia, informei a situação e o meu endereço” – adjetivo.
- c) “Pensei que tivesse dito que tinha matado o ladrão” – pronome.
- d) “Eles prenderam o ladrão em flagrante, que ficava olhando tudo com cara de assombrado” – artigo.
- e) “Eu tenho o sono muito leve” – adjetivo.

Leia o Texto II e responda às questões de 11 a 15:

Texto II

Tanto Querer

Quando a gente se encontra, cresce no peito
Um gosto de vida
Um sorriso, tanto querer

É quando a luz da saudade
Acende de um jeito
Se faz tanto tempo a gente não quer nem saber

Agora será como sempre
Eterno, presente
Certeza que mesmo distante, em nós resistiu

Seja luar, amanhecer
Saudade vem e vai
Amor é o que me levará a você

Geraldo Azevedo/Nando Cordel. **Tanto querer**. Disponível em: <https://www.lettras.mus.br/geraldo-azevedo/99838/>. Acesso em: 17 set. 2024.

11ª QUESTÃO

O Texto II é uma composição musical de dois grandes artistas nacionais. Assinale a alternativa CORRETA em relação às ideias apresentadas na letra da música.

- a) A música aborda a temática da vida após a morte.
- b) A música trata de um amor que resistiu ao tempo.
- c) A música defende que a saudade apaga o amor.
- d) A música trata de um amor que acabou.
- e) A música defende que a saudade traz gosto de vida.

12ª QUESTÃO

No Texto II, o termo “quando”, extraído do fragmento “Quando a gente se encontra, cresce no peito”, indica:

- a) intensidade.
- b) modo.
- c) lugar.
- d) tempo.
- e) condição.

13ª QUESTÃO

No fragmento “Se faz tanto tempo a gente não quer nem saber”, a palavra “tempo” é composta por:

- a) duas consoantes e três vogais.
- b) duas vogais e três consoantes.
- c) duas vogais, duas consoantes e uma semivogal.
- d) uma vogal, duas consoantes e uma semivogal.
- e) duas vogais e três semivogais.

14ª QUESTÃO

No fragmento “Quando a gente se encontra, cresce no peito”, o termo “cresce” pode ser substituído sem alteração de sentido pelo termo:

- a) aumenta.
- b) estabiliza.
- c) encerra.
- d) existe.
- e) refresca.

15ª QUESTÃO

Assinale a alternativa que indica, respectivamente, a classificação quanto ao número de sílabas dos termos sublinhados no fragmento “Quando a gente se encontra, cresce no peito”.

- a) Trissílabo e trissílabo.
- b) Dissílabo e trissílabo.
- c) Trissílabo e dissílabo.
- d) Polissílabo e dissílabo.
- e) Monossílabo e polissílabo.

Leia o Texto III e responda às questões de 16 a 20:

Texto III

**Pratica algum esporte de
risco? — Sim.**

**Às vezes dou a minha
opinião.**



16ª QUESTÃO

Na situação apresentada, Mafalda responde à pergunta “Pratica algum esporte de risco?” com a frase: “Sim. Às vezes dou a minha opinião.”. Analise as afirmativas abaixo com base na resposta de Mafalda.

- I- A resposta de Mafalda revela que ela considera um perigo emitir suas opiniões.
- II- A resposta de Mafalda indica que, para ela, falar o que pensa é sempre fácil e seguro.
- III- A resposta de Mafalda pode, eventualmente, ser compreendida como uma crítica ao modo como a sociedade, às vezes, lida mal com opiniões divergentes.

É CORRETO o que se afirma em:

- a) I e III apenas.
- b) II e III apenas.
- c) I, II e III.
- d) I apenas.
- e) III apenas.

17ª QUESTÃO

Assinale a alternativa CORRETA sobre as frases extraídas do Texto III.

- a) “Pratica algum esporte de risco?” é uma frase interrogativa.
- b) “Às vezes dou a minha opinião” é uma frase negativa.
- c) “Pratica algum esporte de risco?” é uma frase afirmativa.
- d) “Sim” é uma frase interrogativa.
- e) “Às vezes dou a minha opinião” é uma frase interrogativa.

18ª QUESTÃO

Observe o emprego de letras maiúsculas e minúsculas nos termos “Pratica”, “Sim” e “Às”, extraídos do Texto III, e assinale a alternativa CORRETA.

- a) O primeiro termo deveria ter sido grafado em letra minúscula.
- b) Apenas o primeiro e segundo termos deveriam ter sido grafados em letra maiúscula.
- c) Os três termos foram grafados em letra minúscula por estarem no início da frase.
- d) Os três termos foram grafados em letra maiúscula por estarem no início da frase.
- e) O segundo termo deveria ter sido grafado em letra minúscula.

19ª QUESTÃO

No fragmento “Às vezes dou a minha opinião”, o termo “dou”:

- a) é um exemplo de encontro consonantal, pois há um ditongo, assim como acontece na palavra “baixo”.
- b) é um exemplo de encontro vocálico, pois há um hiato, assim como acontece na palavra “saúde”.
- c) é um exemplo de encontro vocálico, pois há um tritongo, assim como acontece na palavra “água”.
- d) é um exemplo de encontro vocálico, pois há um ditongo, assim como acontece na palavra “lousa”.
- e) é um exemplo de encontro consonantal, pois há um hiato, como acontece na palavra “triângulo”.

20ª QUESTÃO

Analise as assertivas acerca dos diferentes sinais de pontuação empregados no Texto III: “Pratica algum esporte de risco? – Sim. Às vezes dou a minha opinião”.

- I- Há uma exclamação.
- II- Há uma interrogação.
- III- Há um travessão.
- IV- Há um colchete.

É CORRETO o que se afirma apenas em:

- a) II.
- b) I, III e IV.
- c) II e IV.
- d) II e III.
- e) III.

MATEMÁTICA

21ª QUESTÃO

Para preparar uma argamassa, um pedreiro faz uma mistura com cimento, areia e água. Sabendo que são necessários 400g de cimento para produzir 2kg de argamassa, qual é a quantidade total de cimento necessária para preparar 75kg dessa argamassa?

- a) 21 kg.
- b) 19 kg.
- c) 22 kg.
- d) 14 kg.
- e) 15 kg.

22ª QUESTÃO

Certo dia, na cidade de Cabedelo, na Paraíba, o nascer do sol ocorreu às 5h28 e o pôr do sol foi às 17h20. Qual foi o tempo total transcorrido entre o nascer e o pôr do sol nesse dia em Cabedelo?

- a) 12 horas e 52 minutos.
- b) 11 horas e 52 minutos.
- c) 11 horas e 42 minutos.
- d) 12 horas e 42 minutos.
- e) 12 horas e 32 minutos.

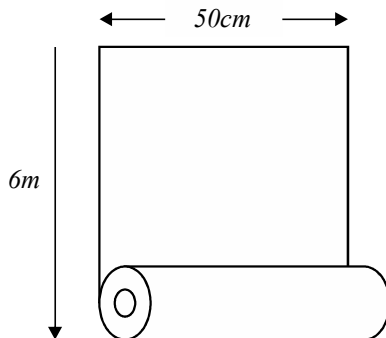
23ª QUESTÃO

Carlos possui um carro com um tanque de gasolina com capacidade para 50 litros. Ao perceber que o nível de gasolina estava baixo, ele foi a um posto de combustíveis e pediu ao frentista para encher completamente o tanque. Sabendo que o litro da gasolina estava custando R\$ 6,00 e que Carlos pagou o valor total de R\$ 255,00, quantos litros de gasolina havia no carro antes do abastecimento?

- a) 8,4.
- b) 7,8.
- c) 8,0.
- d) 7,5.
- e) 9,2.

24ª QUESTÃO

Márcia quer revestir uma parede retangular da sua sala com papel de parede. Para isso, ela comprou rolos de papel, cada um medindo 6m de comprimento e 50cm de largura. Sabendo que a parede a ser revestida tem 3m de altura e 5m de comprimento, de quantos rolos de papel Márcia precisará, no mínimo, para cobrir toda a parede?

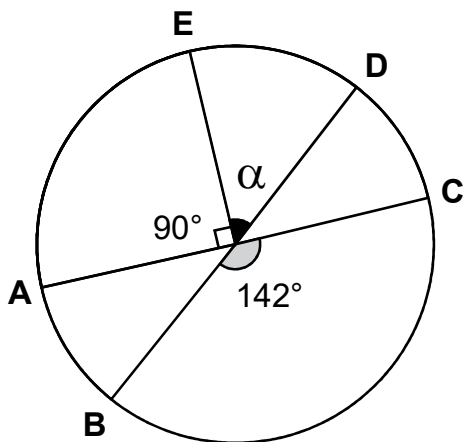


- a) 3.
- b) 4.
- c) 5.
- d) 6.
- a) 7.

RASCUNHO

28ª QUESTÃO

No círculo representado na figura, estão destacados ângulos centrais de 90° e 142° . Sabendo que AC e BD são diâmetros, é CORRETO afirmar que o ângulo α que subetende o arco \widehat{ED} mede:



- a) 38° .
- b) 52° .
- c) 45° .
- d) 28° .
- e) 48° .

29ª QUESTÃO

Um piscicultor decidiu investir na produção de filé de tilápia e tem como objetivo produzir 24kg desse produto diariamente. Sabe-se que, para obter 1kg de filé, são necessários aproximadamente 3kg de peixe inteiro devido ao processo de corte e limpeza. Considerando que as tilápias criadas em sua piscicultura pesam em média 800g cada, qual é a quantidade mínima de tilápias que ele precisará abater diariamente para alcançar essa meta de produção?

- a) 90.
- b) 85.
- c) 80.
- d) 75.
- e) 70.

30ª QUESTÃO

Jonas foi almoçar em um restaurante e levou certa quantia em dinheiro na carteira. Ele usou $\frac{2}{3}$ dessa quantia para pagar a conta e $\frac{1}{8}$ para dar de gorjeta ao garçom. Ao final, sobraram-lhe apenas R\$ 20,00 na carteira. Com base nessas informações, é CORRETO afirmar que o valor da conta foi de:

- a) R\$ 85,00.
- b) R\$ 72,00.
- c) R\$ 60,00.
- d) R\$ 78,00.
- e) R\$ 64,00.

RASCUNHO

CONHECIMENTOS GERAIS

31ª QUESTÃO

As características e as potencialidades naturais e culturais do estado da Paraíba, no litoral e no interior, vêm possibilitando o crescimento de uma importante atividade econômica para o estado, atraindo pessoas e investimentos e gerando emprego e renda para a população. Assinale a alternativa CORRETA acerca da(s) atividade(s) econômica(s) referida(s) no texto sobre a economia paraibana.

- a) Geração de energias térmica e hidráulica.
- b) Indústria automobilística e de eletrodomésticos.
- c) Produção de soja e pecuária bovina.
- d) Extração e refino de petróleo.
- e) Turismo de sol e mar e turismo de eventos.

32ª QUESTÃO

Com a proclamação da República em 1889, o Brasil tornou-se uma República Federativa, mantendo até os dias atuais esta forma de organização política e administrativa do seu território.

Considerando as atuais características da organização política e administrativa do Brasil, analise as proposições abaixo:

- I- Os Estados, os Municípios e o Distrito Federal fazem parte da Federação Brasileira.
- II- Os cargos do poder executivo, de Presidente, Governadores e Prefeitos são eletivos, com eleições a cada quatro anos.
- III- Na República Brasileira não existe a divisão nem a autonomia entre os três poderes: Executivo, Legislativo e Judiciário.
- IV- A República brasileira é presidencialista e o poder executivo é exercido pelo Senado Federal.

É CORRETO o que se afirma apenas em:

- a) II, III e IV.
- b) II e III.
- c) I e IV.
- d) I e II.
- e) I, III e IV.

33ª QUESTÃO

Conforme o IBGE (2022), a população brasileira é superior a 200 milhões de habitantes. Ainda de acordo com o IBGE, algumas mudanças e tendências vêm ocorrendo com a população brasileira nas últimas décadas, exigindo dos governantes reformas econômicas e sociais.

Assinale a alternativa CORRETA que indica duas tendências que vêm ocorrendo com a população brasileira.

- a) Aumento da proporção de jovens e população rural superior a população urbana.
- b) Maior crescimento da população do campo e maior crescimento da proporção de homens.
- c) Aumento do número de filhos por casal e diminuição da proporção de idosos.
- d) Aumento da expectativa de vida e diminuição das taxas de natalidade.
- e) Diminuição da população total do Brasil e crescente migração das cidades para o campo.

34ª QUESTÃO

Leia os textos abaixo:

Texto 01 – “Confira a lista das dez cidades mais violentas do Brasil, segundo o Anuário de Segurança Pública, quando levado em conta o índice de mortes intencionais (como homicídios, latrocínios e lesões corporais seguidas de morte): Santana (AP), Camaçari (BA), Jequié (BA), Sorriso (MT), Simões Filho (BA), Feira de Santana (BA), Juazeiro (BA), Maranguape (CE), Macapá (AP) e Eunápolis (BA).”.

(Disponível em: <https://www.cartacapital.com.br/justica/as-10-cidades-mais-violentas-do-brasil>. Acesso em: 20 de jul de 2024)

Texto 02 – “As causas da violência são de natureza estrutural e sistêmica, tendo como exemplos as profundas desigualdades socioeconômicas, a falta de oportunidades à população mais pobre e a ausência ou inadequação das políticas públicas sociais e de segurança promovidas pelo Estado.”.

(Disponível em: <https://www.preparaenem.com/geografia/violencia-no-brasil>. Acesso em: 20 de jul de 2024)

A partir da análise dos dados e das informações dos textos, sobre a violência urbana no Brasil, analise as proposições abaixo.

- I- A violência atinge por igual, toda a população brasileira, independente da classe social.
- II- As populações mais pobres são as principais vítimas da violência urbana no Brasil.
- III- As dez cidades mais violentas do Brasil estão localizadas em estados da região Nordeste.
- IV- A desigualdade social é uma das causas da violência que atinge a população urbana brasileira.

É CORRETO o que se afirma apenas em:

- a) I, III e IV.
- b) II e III.
- c) I e IV.
- d) I, II e III.
- e) II e IV.

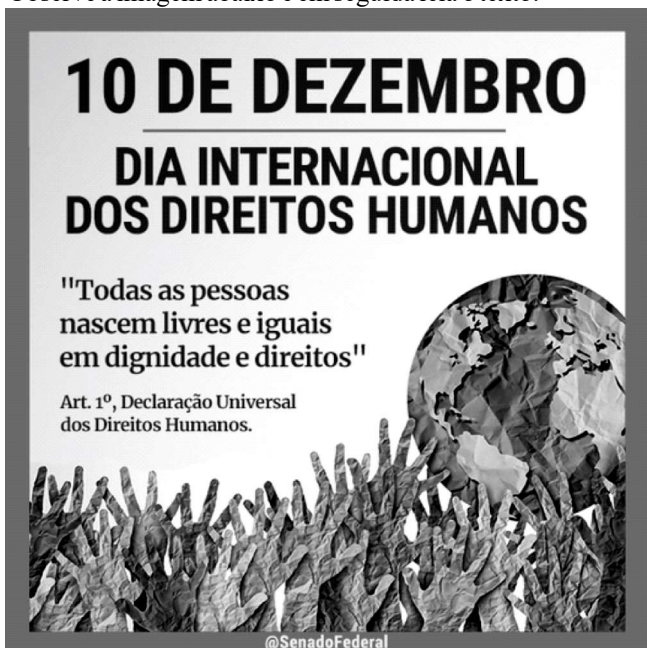
35ª QUESTÃO

Dentre os mais graves problemas ambientais do Brasil e com repercussão internacional é o desmatamento e os incêndios na floresta amazônica, com graves consequências sociais e ambientais. Assinale a seguir, a alternativa que indica CORRETAMENTE uma consequência do desmatamento na Amazônia.

- a) Aumento da biodiversidade.
- b) Extinção de espécies.
- c) Diminuição das temperaturas.
- d) Preservação do solo.
- e) Desvio do curso dos rios.

36ª QUESTÃO

Observe a imagem abaixo e em seguida leia o texto.



(Disponível em: <https://www.facebook.com/SenadoFederal/posts/os-direitos-humanos-s%C3%A3o-uma-conquista-civilizacional>. Acesso: em 23 de jul de 2024)

"Direitos Humanos são uma categoria de direitos básicos assegurados a todo e qualquer ser humano, não importando a classe social, raça, nacionalidade, religião, cultura, profissão, gênero, orientação sexual ou qualquer outra variante possível que possa diferenciar os seres humanos."

(Disponível em: <https://brasilecola.uol.com.br/sociologia/direitos-humanos.htm>. Acesso em: 23 de jul de 2024)

Considerando o texto e a imagem sobre os direitos humanos e seu cumprimento no Brasil, é CORRETO afirmar que:

- a) todas as pessoas devem ter assegurados seus direitos básicos, como educação, habitação, liberdade e saúde, dentre outros.
- b) a Constituição Federal brasileira não assegura e não estabelece o cumprimento dos direitos humanos para a população.
- c) a exclusão social que atinge grande parte da população brasileira não impede o cumprimento dos direitos humanos.
- d) existem diferenças de cor, de gênero e de renda entre as pessoas, por isso que os direitos humanos não podem ser assegurados.
- e) os direitos básicos da vida, como educação, saúde, habitação, liberdade e o direito de ir e vir não são considerados como direitos humanos.

37ª QUESTÃO

Leia o texto a seguir:

“A **produção de petróleo no Brasil** é marcada pelo aumento acelerado do desempenho nos últimos anos. Há cerca de 20 anos o petróleo brasileiro era, em sua maioria, oriundo de importações. Atualmente, o país já detém a autossuficiência do produto, ou seja, já produz o suficiente para atender ao mercado interno. (...) Entretanto, o Brasil ainda importa uma pequena parte do petróleo que produz. Isso acontece por razões econômicas e técnicas. (...) A produção de Petróleo no Brasil é realizada em nove bacias petrolíferas, das quais quatro merecem destaque: as bacias de Campos, de Santos, do Espírito Santo e do Recôncavo Baiano.”

(Disponível em: <https://mundoeducacao.uol.com.br/geografia/producao-petroleo-no-brasil>. Acesso em: 23 de jul de 2024)

A partir da leitura do texto e considerando a importância do petróleo para a economia brasileira, é CORRETO afirmar que:

- a) a região Nordeste responde por mais da metade do petróleo produzido em todo o Brasil.
- b) o petróleo só tem importância econômica no Brasil para os transportes rodoviário e ferroviário.
- c) apesar do aumento da produção do petróleo internamente, o Brasil continua a importar este produto.
- d) o Brasil é, atualmente, o maior exportador mundial de petróleo por razões técnicas e econômicas.
- e) as importações de petróleo e o aumento nos preços deste produto, não afetam a economia brasileira.

38ª QUESTÃO

Os problemas ambientais urbanos são situações que impactam diretamente no meio ambiente das cidades e afetam o cotidiano de suas populações. A charge abaixo faz referência a dois destes problemas.



(Disponível em: <https://www.google.com/search?q=charge+sobre+problemas+ambientais+urbano>. Acesso em 23 de jul de 2024)

Os problemas referidos na charge, relacionados com a drenagem urbana e com o consumo da população, são os seguintes:

- a) áreas verdes e chuvas ácidas.
- b) enchentes e resíduos sólidos (lixo).
- c) pavimentação de ruas e inversão térmica.
- d) ilhas de calor e poluição do ar.
- e) poluição das águas e verticalização urbana.

39ª QUESTÃO

Observe a imagem a seguir e em seguida leia o texto:



“No estado da Paraíba que se destaca pela resistência contra os colonizadores, existem quatro povos indígenas: os Potiguara, os Tabajara, os Cariris e os Tarairiús. No total, estima-se que 25 mil indígenas residam na Paraíba, aldeados ou não, segundo o antropólogo e professor da Universidade Federal da Paraíba (UFPB), Estevão Palitot. Segundo ele, uma maior diversidade de povos existia durante o século 18 e, antes da colonização portuguesa, a Paraíba já era habitada exclusivamente por povos indígenas.”

(Disponível em: https://auniao.pb.gov.br/noticias/caderno_paraiba/paraiba-e-sinonimo-de-terra-indigena. Acesso em: 23 de jul de 2024)

A partir deste contexto é CORRETO afirmar que:

- a) Os povos indígenas da Paraíba mantiveram sua integridade física e seus valores culturais ao longo dos últimos séculos.
- b) Os povos indígenas da Paraíba eram semelhantes, com os mesmos costumes e a mesma língua, como pode ser observado na imagem.
- c) Antes da ocupação portuguesa o atual território da Paraíba era ocupado por diversos e diferentes povos indígenas.
- d) Atualmente não mais existem remanescentes de povos indígenas que ocupavam, no passado, o atual território da Paraíba.
- e) Os povos indígenas da Paraíba não ofereceram, no passado colonial, nenhuma resistência contra a ocupação portuguesa

40ª QUESTÃO

Observe a charge a seguir.



(Disponível em: <https://www.google.com/search?q=charges+sobre+internet+e+redes+sociais>. Acesso em 24 de jul de 2024)

A partir da análise da charge acima e considerando uso da internet e das redes sociais, é CORRETO afirmar que:

- a) Existem diversas redes sociais, com objetivos diferentes e com grupos de pessoas se relacionando.
- b) As redes sociais são espaços reais onde grupos de pessoas compartilham informações.
- c) A internet possibilita apenas o uso de uma rede social por pessoa, limitando a troca de informações.
- d) As atuais redes sociais virtuais já existiam antes do surgimento da internet e da invenção do celular.
- e) As redes sociais e a internet não permitem o compartilhamento de informações entre pessoas em diferentes países.