

CADERNO DE PROVA

CARGO: EDUCADOR FÍSICO

Instruções gerais:

1. Este caderno de prova contém 40 (quarenta) questões objetivas. É de sua inteira responsabilidade conferir se o caderno de provas recebido está completo e se corresponde ao seu cargo. Caso esteja incompleto ou apresente qualquer defeito, comunique imediatamente ao fiscal de sala para que seja tomada a providência necessária para sanar o problema;
2. **ATENÇÃO:** para cada questão objetiva são apresentadas as opções A, B, C, D e apenas uma delas corresponde à alternativa correta;
3. O tempo estipulado para a realização da prova é de até **03 (três) horas**, está incluído nesse tempo o preenchimento do cartão-resposta, entrega do material e identificação do candidato;
4. Na carteira somente poderá ficar o documento de identidade e a caneta esferográfica de tinta azul ou preta, fabricada em material transparente, fica a critério do candidato a utilização de caneta de outra cor, porém, caso haja falha na leitura ótica do cartão-resposta, os pontos correspondentes às questões não lidas, não serão computados;
5. Ao receber o CARTÃO-RESPOSTA verifique se contém a mesma quantidade de questões do Caderno de Prova, caso perceba algum problema com seu cartão-resposta, comunique imediatamente o fiscal de sala para que seja adotada a medida necessária;
6. No CARTÃO-RESPOSTA você deverá assinalar somente a alternativa que julgar correta e sem rasuras.
7. O preenchimento do cartão-resposta é de sua inteira responsabilidade, para o correto preenchimento siga às instruções contidas na parte superior do cartão, observe atentamente o número da questão antes de marcar, pois não haverá substituição do cartão- resposta que é personalizado e único.
8. Quando terminar a prova sinalize para o fiscal e aguarde ser chamado para entregar a prova, o cartão-resposta e assinar a lista de presença, caso não tenha assinado na entrada;
9. Somente depois de decorridos 1 (uma) hora do início da prova você poderá sair da sala sem levar consigo o caderno de provas;
10. Você poderá levar esse caderno de provas quando estiver faltando 30 (trinta) minutos para o encerramento da prova;
11. É proibido levantar ou comunicar com outros candidatos durante a prova;
12. É proibido anotar informações relacionadas às suas respostas da prova objetiva em qualquer outro lugar que não seja o caderno de provas;
13. Os 3 (três) últimos candidatos de cada sala só poderão ser liberados juntos;
14. O gabarito da prova objetiva será divulgado no segundo dia útil subsequente a aplicação da prova e será fixado no placar da Prefeitura e nos sites www.itame.com.br e www.baliza.go.gov.br;

Informações importantes:

- ✓ Não serão aceitos recursos em desacordo com o item 15 e seguintes do edital regulamento;
 - ✓ Somente é permitida a reprodução da prova para fins didáticos, devendo ser citada a fonte.
- Boa sorte!**

1. Nos versos da letra da música de Gonzaguinha estão presentes as seguintes figuras de linguagem:

Chega de temer, chorar, sofrer, sorrir, se dar
E se perder e se achar e tudo aquilo que é viver
Eu quero mais é me abrir e que essa vida entre assim
Como se fosse o sol desvirginando a madrugada
Quero sentir a dor desta manhã

- (A) hipérbole, metonímia, eufemismo.
- (B) metáfora, personificação, ironia.
- (C) gradação, antítese, comparação.
- (D) hipérbato, perífrase, pleonismo.

2. Assinale a alternativa correta sobre os tipos de discursos.

- (A) No discurso indireto, o narrador incorpora na sua linguagem a fala das personagens.
- (B) Os chamados verbos de elocução são uma das marcas do discurso indireto livre.
- (C) A frase “Seu pai o interpelou, questionando se aquilo eram horas de chegar em casa”, é um exemplo de uso do discurso direto.
- (D) Sempre que a narrativa usar os verbos na terceira pessoa significa que ali haverá discurso indireto livre.

3. Identifique duas funções da linguagem presentes no trecho da letra dessa música.

[...]

Olha malandro

Na esquina do peito eu me rendo a teus pés

Um belo sujeito eu sei que tu és

Erraste comigo, mas deixa pra lá

Se eu gosto do teu jeito de se entregar

Não vejo outro jeito a não ser te aturar

Faça o que eu mando

Não faça o que eu faço

Você sempre diz,

É queda de braço, mas eu sou feliz

Com os outros eu fiz tudo o que eu quis fazer

Mas o meu desejo prefere você

Eu perco espaço

Mas ganho prazer.

Altay Veloso

- (A) função fática e denotativa.
- (B) função metalinguística e conativa.
- (C) função referencial e poética.
- (D) função expressiva e apelativa.

4. Os versos “Eu perco espaço/mas ganho prazer”, se constituem de

(A) um período composto misto, formado por uma oração coordenada seguida de uma subordinada concessiva.

(B) duas orações coordenadas: a primeira é assindética; a segunda, adversativa.

(C) um período composto por coordenação, formado apenas de orações assindéticas.

(D) duas orações subordinadas: a primeira é a principal; a segunda, adverbial concessiva reduzida de infinitivo.

5. Assinale a alternativa em que o verbo destacado está classificado corretamente quanto à regência.

I. Naquela noite, todos **ficaram** em casa – verbo intransitivo.

II. **Parecia** tranquilo o início daquela chuva torrencial, quando ouvimos os primeiros chuviscos. – verbo de ligação.

III. O professor **cometia** erros frequentes ao explicar o conteúdo. – verbo transitivo indireto.

(A) Estão corretas apenas I e II.

(B) Estão corretas apenas I e III.

(C) Estão corretas apenas II e III.

(D) Apenas a III está correta.

6. Assinale a alternativa em que a justificativa de uso da vírgula corresponde ao exemplo dado.

(A) Caro amigo, a vida não espera o melhor momento para nos surpreender. – Separa aposto explicativo.

(B) Estudantes de escola pública, até mesmo os infrequentes, esperam por aprovação automática. – Separa aposto explicativo.

(C) A certa hora da tarde, o silêncio era cortado apenas pelo som ensurdecedor das cigarras. – Separa uma expressão exemplificativa.

(D) De fato, há um momento na vida que é mais importante ter paz do que ter dinheiro. – Marca a elipse de um verbo.

7. Assinale a alternativa em que o termo destacado tem a função sintática de complemento nominal.

(A) Os cristãos acreditam **em Deus**.

(B) De um modo geral, não é fácil obedecer **a restrições**.

(C) Há cada vez mais pessoas intolerantes **à lactose**.

(D) Teoricamente os pecados são perdoados **por Deus**.

8. Julgue as assertivas e assinale a alternativa correta.

I. Na frase “Jamais me esquecerei do nosso primeiro encontro”, ocorre próclise, porque termos de sentido negativo atraem o pronome para antes do verbo.

II. Na frase “Ele se retirou da sala antes que a reunião acabasse”, ocorre próclise ou mesóclise, tanto faz, em razão de o sujeito explícito estar antes do verbo.

III. Na frase “Desconfiada de assédio, recusou a proposta, fazendo-se de desentendida”, ocorre ênclise pois o verbo está no gerúndio e não há palavra atrativa.

- (A) Está correta apenas a I.
- (B) Está correta apenas a II.
- (C) Estão corretas I e II.
- (D) Estão corretas apenas I e III.

9. Assinale a alternativa em que não haja erro no emprego do acento grave (crase).

- (A) O professor não se referiu àquele estudante de maneira gentil; porém, à líder da sala falou com delicadeza e simpatia.
- (B) Era evidente a necessidade de resolver àquela situação de desrespeito para com alguns alunos e alunas.
- (C) Há lojas divulgando liquidação com descontos à partir de 50%.
- (D) Atualmente compramos quase tudo a quilo; até as lanchonetes aderiram à essa prática.

10. Analise as assertivas e marque a alternativa correta.

I. Ontem mais de um candidato participaram do debate na televisão – o verbo concorda com o sujeito.

II. Faz tempo que não viajamos juntos – na primeira oração, o verbo se mantém no singular, pois é impessoal.

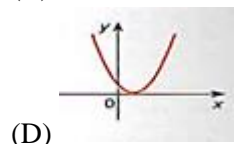
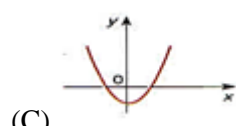
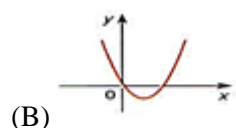
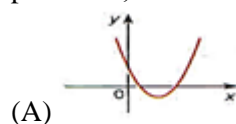
III. Viajou o pai e a filha – o verbo concorda com o termo mais próximo do sujeito.

- (A) Apenas a I está correta.
- (B) Apenas I e II estão corretas
- (C) Apenas II e III estão corretas.
- (D) Apenas I e III estão corretas.

11. Uma cidade tem 50.000 habitantes e 3 clubes esportivos *Alfa*, *Beta* e *Gama*. Destes habitantes: 15.000 torcem para o clube Alfa; 10.000 torcem para o clube Beta; 8.000 torcem para clube Gama; 6.000 torcem para o clube Alfa e Beta; 4.000 torcem para o clube Alfa e Gama; 3.000 torcem para o clube Beta e Gama e 1.000 torcem para os três clubes. Uma pessoa é selecionada ao acaso, a probabilidade de que ela torça somente para um clube é:

- (A) 10%
- (B) 15%
- (C) 20%
- (D) 25%

12. A melhor representação da função $y = ax^2 + bx + c$, para $a > 0$, $\Delta > 0$ e $c = 0$ é:



13. O polinômio que dividido por $(m - 1)$ tem por quociente $(m^2 + m + 1)$ e o resto 2, é:

- (A) $m^3 + m^2 + 1$
- (B) $m^3 - 1$
- (C) $m^3 - m^2 + 1$
- (D) $m^3 + 1$

14. É comum encontrarmos produtos com conteúdo líquido menor que o declarado nas embalagens. Em um determinado supermercado, requeijão são vendidos em copos de vidro em cujos rótulos consta a informação relativa ao “peso” de 200g. Dois fabricantes “*CrenBom*” e “*ConDelícia*”, fornecem requeijão com conteúdo real médio de 190g e 195g, respectivamente. O supermercado comprou um total de n copos (somados as duas marcas) de requeijão, e verificou-se que o conteúdo médio líquido do lote era 193,5g. O número de copos comprados pelo supermercado de cada fabricante, sabendo que um deles vendeu 40 copos a mais que outro, é de:

- (A) 30 *CrenBom* e 70 *ConDelícia*
- (B) 20 *CrenBom* e 60 *ConDelícia*
- (C) 40 *CrenBom* e 80 *ConDelícia*
- (D) 50 *CrenBom* e 90 *ConDelícia*

15. Os lados de um triângulo medem, respectivamente, 4, 7 e 9 cm. O perímetro do triângulo semelhante ao dado cujo lado maior é de 27cm, mede:

- (A) 58 cm
- (B) 60 cm
- (C) 63 cm
- (D) 78 cm

16. Um atleta de alta performance está se preparando para uma competição importante. Durante os treinos, ele apresenta sinais de distração e nervosismo, o que

afeta seu desempenho. Seu treinador sugere o uso de técnicas de concentração e controle do estresse para melhorar a performance. O atleta decide implementar estratégias cognitivas e de controle da respiração antes das competições. Qual das seguintes abordagens é mais eficaz para melhorar a concentração e reduzir os efeitos do estresse em competições?

- (A) Utilizar apenas exercícios físicos intensos antes das competições para aliviar a tensão.
- (B) Realizar simulações mentais de situações competitivas e controlar a respiração para manter o foco.
- (C) Evitar pensar na competição até o momento de começar para reduzir a ansiedade.
- (D) Focar exclusivamente em minimizar os erros durante a competição, sem considerar o estado mental.

17. Um grupo de educadores físicos está realizando um estudo sobre os impactos da prática regular de esportes no comportamento e na personalidade dos atletas. Eles notaram que, além das mudanças fisiológicas, como aumento da capacidade cardiorrespiratória e força muscular, os atletas também demonstram melhorias em aspectos psicológicos como a autoconfiança e a resiliência. Quais fatores psicológicos estão diretamente associados à prática regular de esportes e contribuem para a motivação e o desenvolvimento de traços de personalidade resilientes?

- (A) A prática esportiva regular aumenta a agressividade e o estresse competitivo, reduzindo a motivação.
- (B) O esporte fortalece a capacidade de lidar com frustrações, mas não tem impacto na personalidade ou na motivação dos atletas.
- (C) A prática esportiva regular contribui para a melhora da autoconfiança e promove a resiliência, fortalecendo a motivação.
- (D) A prática esportiva leva ao aumento da emoção competitiva, sem influenciar a autoconfiança ou a resiliência.

18. Durante uma sessão de treino funcional, um aluno adulto apresenta sinais de desidratação grave e queda de pressão arterial. O educador físico, que possui treinamento em primeiros socorros, deve agir rapidamente para estabilizar o aluno. O protocolo de socorro imediato envolve medidas como reposição de líquidos e a colocação do aluno em uma posição específica para aumentar o fluxo sanguíneo para o cérebro. Nesse sentido, complete corretamente as lacunas a seguir.

O educador físico deve primeiramente colocar o aluno em posição _____ (1) para melhorar o fluxo

sanguíneo, e em seguida, deve iniciar a reposição de líquidos, preferencialmente _____ (2).

- (A) (1) sentado; (2) por via intravenosa.
- (B) (1) em pé; (2) por via oral com água fria.
- (C) (1) deitada com as pernas elevadas; (2) por via intravenosa.
- (D) (1) deitada com as pernas elevadas; (2) por via oral com soro caseiro.

19. Durante o planejamento de uma temporada de futsal, um treinador define um ciclo de treinamento que visa melhorar a capacidade anaeróbica dos jogadores, com foco em ações rápidas e explosivas, comuns ao jogo de futsal. O treinamento é ajustado para diferentes fases da partida, priorizando a recuperação rápida após momentos intensos de esforço. Qual das estratégias de treinamento abaixo é mais adequada para desenvolver a capacidade anaeróbica e otimizar a recuperação em jogos de futsal?

- (A) Treinos intervalados de alta intensidade, com curtos períodos de descanso, para simular os esforços intensos e a recuperação rápida no jogo.
- (B) Treinos contínuos de baixa intensidade para aumentar a resistência cardiovascular e diminuir o acúmulo de ácido láctico.
- (C) Treinos de longa duração em velocidade moderada para aumentar a resistência muscular e reduzir o tempo de recuperação após o esforço.
- (D) Treinos exclusivamente de força muscular, priorizando o aumento da massa muscular para sustentar as exigências físicas do futsal.

20. Um treinador de natação está preparando seus atletas para uma competição que inclui provas de curta e média distância. O treinador decide adotar um plano de treinamento que combina técnicas específicas de natação com o desenvolvimento da capacidade aeróbica e anaeróbica, além de estratégias de controle respiratório para otimizar o desempenho nas provas. Qual das abordagens de treinamento é a mais eficiente para preparar atletas de natação para provas de curta e média distância?

- (A) Treinamento intervalado com variação de intensidade e foco no controle respiratório em séries curtas.
- (B) Treinamento contínuo em baixa intensidade para maximizar a capacidade aeróbica e melhorar a eficiência respiratória.
- (C) Treinamento de força com levantamento de peso fora da água para aumentar a potência dos membros superiores e inferiores.

(D) Treinamento exclusivo de técnica, sem foco no desenvolvimento da resistência, para otimizar a eficiência dos movimentos.

21. Durante a avaliação de um grupo de jovens atletas, um educador físico observa que os padrões de desenvolvimento motor diferem significativamente entre os indivíduos, mesmo aqueles que possuem a mesma idade. Ele considera fatores como a maturação biológica, o ambiente e a prática esportiva ao avaliar as habilidades motoras. Qual dos fatores abaixo influencia diretamente o desenvolvimento motor em crianças e adolescentes, além da prática esportiva regular?

- (A) Apenas a idade cronológica.
- (B) Maturação biológica, ambiente e oportunidades para prática.
- (C) Genética, mas sem interferência do ambiente ou das experiências motoras.
- (D) Exclusivamente o ambiente social em que a criança está inserida.

22. Um educador físico está desenvolvendo um programa de atividades lúdicas para um grupo de jovens que frequentam uma academia comunitária. O objetivo é usar essas atividades para promover o desenvolvimento físico e social dos participantes, enquanto eles se divertem e se envolvem ativamente no processo. Qual das abordagens abaixo descreve corretamente o papel do lúdico na promoção do desenvolvimento motor e social em atividades físicas?

- (A) O lúdico é uma forma de lazer sem impacto relevante no desenvolvimento motor e social.
- (B) Atividades lúdicas são eficazes apenas para o desenvolvimento motor, mas não têm impacto no desenvolvimento social.
- (C) O lúdico deve ser evitado em atividades físicas que visam resultados concretos, pois atrapalha a concentração.
- (D) Atividades lúdicas promovem o desenvolvimento motor e social ao incentivar a criatividade, a interação e a resolução de problemas.

23. O Sistema Único de Saúde (SUS) é um dos maiores sistemas públicos de saúde do mundo e tem como base princípios fundamentais para garantir o acesso universal e igualitário à saúde. A criação do SUS é regulamentada pela Constituição Federal de 1988 e detalhada pelas Leis nº 8.080/90 e nº 8.142/90, que estabelecem seus princípios, diretrizes, financiamento e articulação com outros serviços de saúde. Analise as afirmativas a seguir com base na legislação do SUS (Leis nº 8.080/90 e nº 8.142/90) e nos princípios que regem o sistema.

I. O princípio da universalidade no SUS garante o acesso à saúde apenas para cidadãos brasileiros, excluindo estrangeiros que estejam residindo no país.

II. A Lei nº 8.080/90 prevê a descentralização das ações e serviços de saúde, com a direção única em cada esfera de governo (União, Estados e Municípios).

III. O financiamento do SUS é realizado exclusivamente pelo governo federal, sem a participação dos Estados e Municípios.

IV. A Lei nº 8.142/90 dispõe sobre a participação da comunidade na gestão do SUS, por meio dos Conselhos de Saúde e das Conferências de Saúde.

Estão corretas as afirmativas:

- (A) I, II e III, apenas.
- (B) I e III, apenas.
- (C) II e IV, apenas.
- (D) II, III e IV, apenas.

24. Em uma academia, um educador físico observa que um dos frequentadores apresenta sintomas de uma possível doença infecciosa. Sabendo da importância de monitorar a saúde pública e garantir a segurança de todos, o educador precisa saber se a doença em questão deve ser notificada às autoridades de saúde, conforme a lista de Doenças de Notificação Compulsória (DNC) definida pelo Ministério da Saúde. Qual das seguintes doenças deve ser notificada imediatamente às autoridades de saúde, conforme a lista de Doenças de Notificação Compulsória no Brasil?

- (A) Hipertensão arterial.
- (B) Sarampo.
- (C) Diabetes mellitus.
- (D) Tendinite.

25. Em uma cidade, o Conselho Municipal de Saúde está organizando uma Conferência de Saúde para discutir as prioridades do sistema de saúde local. Educadores físicos da região são convidados a participar para contribuir com suas perspectivas, especialmente em relação à promoção de saúde e prevenção de doenças. Qual das afirmações abaixo descreve corretamente o papel da participação popular e do controle social na gestão do Sistema Único de Saúde (SUS)?

- (A) A participação popular é restrita a profissionais de saúde, não havendo espaço para outros setores da sociedade.
- (B) O controle social no SUS é exercido exclusivamente pelos Conselhos de Saúde, sem a necessidade de consultas públicas.

(C) A participação popular no SUS é um direito garantido por lei e pode ser exercida por meio dos Conselhos de Saúde e das Conferências de Saúde.

(D) A gestão do SUS é realizada apenas pelo poder público, sendo a participação popular opcional.

26. As diferentes tendências pedagógicas na Educação Física influenciam diretamente as práticas de ensino nas escolas. Cada uma dessas tendências reflete uma abordagem particular em relação aos objetivos da disciplina, ao papel do professor e às formas de interação com os alunos. Para que educadores físicos que atuam fora do ambiente escolar compreendam essas influências, é fundamental conhecer as principais características de cada uma dessas correntes pedagógicas. Relacione as tendências pedagógicas da Educação Física com suas respectivas características.

Coluna A - Tendências Pedagógicas

- 1 – Tendência Desenvolvimentista.
- 2 – Tendência Higienista.
- 3 – Tendência Crítico-Superadora.
- 4 – Tendência Construtivista.

Coluna B – Características

() Visa à formação integral do indivíduo, utilizando o movimento como meio de expressão, com foco na solução de problemas.

() Enfatiza o desenvolvimento motor das crianças e a progressão das habilidades ao longo das fases de crescimento.

() Baseia-se em princípios científicos para garantir a saúde física e moral, focando na prevenção de doenças e no fortalecimento do corpo.

() Propõe a superação das desigualdades sociais, utilizando a Educação Física como ferramenta de transformação social.

A sequência correta é:

- (A) 3 – 2 – 1 – 4.
- (B) 2 – 4 – 3 – 1.
- (C) 1 – 3 – 2 – 4.
- (D) 4 – 1 – 2 – 3.

27. Um treinador de uma equipe de alto rendimento está planejando o ciclo anual de treinamento para seus atletas. Ele sabe que a estrutura do treinamento deve seguir a lógica da periodização, que inclui macrociclos, mesociclos e microciclos, visando otimizar o desempenho em competições importantes. O planejamento deve garantir picos de performance nos momentos certos, ao mesmo tempo que previne lesões e overtraining. Considerando os conceitos de macrociclo,

mesociclo e microciclo na periodização do treinamento, qual das seguintes afirmações é a mais correta?

(A) O macrociclo é a menor unidade de planejamento e dura geralmente uma semana.

(B) O mesociclo é responsável pela periodização anual e engloba o planejamento de todas as fases do treinamento.

(C) O microciclo é a unidade de planejamento que varia entre uma semana e um mês e ajusta-se para objetivos de curto prazo.

(D) O macrociclo é a maior unidade de planejamento e pode durar meses ou até um ano, integrando mesociclos e microciclos.

28. Durante a periodização de um ciclo de treinamento voltado para o ganho de força máxima, um educador físico precisa ajustar as fases do treino para otimizar o desenvolvimento muscular, garantindo que o atleta alcance um pico de força no final do ciclo, sem perder flexibilidade e coordenação motora. Ele também deve garantir uma fase de transição adequada antes do início de uma nova fase intensiva. Qual das abordagens abaixo é a mais adequada durante a fase de transição dentro da periodização do treinamento de força?

(A) Reduzir o volume e a intensidade do treino, permitindo recuperação e prevenindo o overtraining, mas mantendo a ativação muscular leve.

(B) Manter o volume e a intensidade do treinamento de força no máximo para evitar perdas de força durante a transição.

(C) Aumentar a intensidade e reduzir o volume de treino para gerar um estímulo máximo na fase de transição.

(D) Abandonar completamente o treino de força para focar apenas em atividades de recuperação ativa e descanso total.

29. Durante a preparação de um atleta de resistência, um educador físico precisa avaliar a capacidade funcional do sistema cardiovascular para otimizar o treinamento aeróbico. O atleta deseja melhorar sua capacidade de manter o fluxo sanguíneo eficiente e aumentar a oxigenação muscular durante exercícios prolongados. Qual das seguintes variáveis é o melhor indicador da capacidade funcional do sistema cardiovascular durante atividades de resistência?

(A) Frequência cardíaca máxima (FCmáx).

(B) Volume sistólico.

(C) Consumo máximo de oxigênio (VO₂ máx).

(D) Pressão arterial diastólica.

30. Um educador físico está explicando aos seus alunos como o treinamento de força afeta o músculo

esquelético, detalhando as adaptações que ocorrem nas fibras musculares e como essas mudanças melhoram a capacidade de gerar força e resistir à fadiga. Qual das seguintes afirmativas descreve corretamente uma das principais adaptações do músculo esquelético ao treinamento de força?

- (A) Hipertrofia das fibras musculares tipo II, com aumento da capacidade de gerar força explosiva.
- (B) Hipertrofia das fibras musculares tipo I, com aumento da resistência à fadiga.
- (C) Aumento do número de mitocôndrias nas fibras musculares tipo II.
- (D) Aumento da capilarização das fibras musculares tipo II, melhorando a resistência aeróbica.

31. O estudo da fisiologia do exercício envolve a compreensão dos mecanismos que regulam o sistema neuromuscular e respiratório, bem como os processos de troca de gases entre os pulmões e o sangue. Esses mecanismos são fundamentais para o desempenho atlético e a saúde, e seu conhecimento é essencial para educadores físicos que atuam na promoção do rendimento esportivo e da qualidade de vida. Analise as afirmativas a seguir sobre a fisiologia do exercício, abordando aspectos neuromusculares, estrutura e funções pulmonares, e permuta e transporte de gases, e determine se são verdadeiras (V) ou falsas (F).

- () O controle neuromuscular durante o exercício envolve a ativação simultânea de todas as unidades motoras, independentemente da demanda de força exigida.
- () A hemoglobina, presente nas hemácias, é responsável pelo transporte de aproximadamente 98% do oxigênio no sangue.
- () Durante o exercício, o volume de ar inspirado e expirado aumenta para atender à maior demanda de oxigênio e eliminação de dióxido de carbono, caracterizando a função ventilatória pulmonar.
- () A difusão de oxigênio e dióxido de carbono nos alvéolos pulmonares ocorre por transporte ativo, envolvendo o gasto de energia celular.

A sequência correta é:

- (A) V-F-V-F.
- (B) F-V-V-F.
- (C) F-V-F-V.
- (D) V-F-F-V.

32. Dentre os direitos fundamentais previstos no artigo 5º da Carta Magna, as liberdades de reunião e de manifestação como meio de utilizar da liberdade de expressão ocupam um lugar bastante importante. Nesse

sentido, a respeito dessas reuniões e manifestações, pode-se afirmar:

- (A) apenas os cidadãos maiores de 18 (dezoito) anos podem reunir-se, pacificamente, sem armas, em locais abertos ao público, mediante autorização da Administração Pública e desde que não frustrem outras reuniões.
- (B) todos podem reunir-se pacificamente, sem armas, em locais públicos ou privados, independentemente de autorização ou aviso prévio.
- (C) apenas os cidadãos maiores de 18 (dezoito) anos podem reunir-se, pacificamente, em locais abertos ou privados, independentemente de autorização ou aviso prévio.
- (D) todos podem reunir-se pacificamente, sem armas, em locais abertos ao público, independentemente de autorização, desde que não frustrem outra reunião anteriormente convocada para o mesmo local, sendo apenas exigido prévio aviso à autoridade competente.

33. Marque a alternativa incorreta.

De acordo com a Lei Orgânica Municipal de Baliza, o Poder Executivo é exercido pelo Prefeito. Nesse sentido, compete privativamente ao Prefeito:

- (A) dirigir os trabalhos do plenário e disciplinar os serviços administrativos da Câmara.
- (B) iniciar o processo legislativo, na forma e nos casos previstos na Constituição Estadual e na Lei Orgânica Municipal.
- (C) vetar projetos de lei, total ou parcialmente.
- (D) prestar contas da aplicação dos auxílios federais ou estaduais entregues ao Município, na forma da lei.

34. Considerando o disposto no Estatuto dos Servidores Públicos do Município de Baliza, que institui o Regime Jurídico Único e Plano de Carreira dos Servidores Municipais, e dá outras providências, assinale a alternativa correta acerca das seguintes atribuições:

- (A) A Assessoria Jurídica é o órgão de assistência do Prefeito para as funções políticas, atendimento de munícipe e de ligação com os demais poderes e autoridades, assim como de relações públicas, incluindo as de representação e divulgação, bem como pela supervisão das atividades atinentes à administração municipal exercidas por todos os setores.
- (B) A Secretaria Geral de Administração é o órgão encarregado da execução político-financeira e fiscal do Município, bem como das atividades relativas a lançamento de tributos e arrecadação de rendas municipais; fiscalização dos contribuintes; elaboração, controle e execução do orçamento.
- (C) A Secretaria de Transportes é o órgão responsável pela execução, em conjunto com a Secretaria de Obras,

de atividades relativas ao setor viário do Município; reforma e consertos de máquinas e equipamentos pertencente à frota municipal.

(D) A Secretaria de Serviços Sociais é o órgão responsável pelas atividades de assistência médico-odontológica à população local, mediante a administração dos serviços hospitalares de pronto-socorro, dos ambulatórios periféricos, serviços odontológicos, de zoonoses e enfermagem, através de ações integradas de saúde com os órgãos de saúde estadual e federal.

35. Anistia, graça e indulto são modalidades de indulgência soberana emanada de órgãos estranhos ao Poder Judiciário, que dispensam, em determinadas hipóteses, a total ou parcial incidência da lei penal.

Dito isso, o inciso XLIII do artigo 5º da Constituição Federal traz que a lei considerará crimes inafiançáveis e insuscetíveis de graça ou anistia a prática:

(A) da tortura, do terrorismo, da tentativa de homicídio e os definidos como crimes hediondos.

(B) da tortura, do terrorismo, do estupro e os definidos como contravenções penais.

(C) da tortura, o tráfico ilícito de entorpecentes e drogas afins, o terrorismo e os definidos como crimes hediondos.

(D) do crime de tráfico internacional de arma de fogo, da tortura, da injúria e da corrupção ativa e passiva.

36. Em um navegador de internet, o que é uma URL (Uniform Resource Locator)?

(A) Um tipo de arquivo de texto.

(B) Uma extensão do arquivo usado em planilhas.

(C) Um atalho para abrir programas instalados.

(D) Um endereço utilizado para identificar recursos na web, como sites.

37. No Microsoft Excel 2007 ou superior, qual fórmula pode ser utilizada para retornar o valor mínimo em um conjunto valores e não ignora valores lógicos e texto?

(A) =MÉDIA

(B) =MÍNIMO

(C) =MENOR

(D) =MÍNIMO

38. Considere as seguintes afirmações:

I. A população total do município supera 5 mil habitantes.

II. O cálculo da densidade demográfica é inferior a 2 habitantes por quilômetro quadrado.

III. A área da unidade territorial situa-se entre 1.000 km² e 2.000 km².

IV. O município está localizado na mesorregião do Noroeste Goiano.

Com base nos dados do Censo de 2022, realizado pelo IBGE (Instituto Brasileiro de Geografia e Estatística), acerca dos aspectos territoriais e demográficos do município de Baliza (GO), é correto afirmar que:

(A) Apenas a I e a III estão corretas.

(B) Apenas a I e a II estão corretas.

(C) Apenas a II, III e IV estão corretas.

(D) Nenhuma está correta.

39. “Em 2021, o **PIB** per capita era de R\$ 22.746,12. Na comparação com outros municípios do estado, ficava nas posições 189 de 246 entre os municípios do estado e na 2865 de 5570 entre todos os municípios.”

“Em 2010, a taxa de escolarização de 6 a 14 anos de idade era de 98,6%. Na comparação com outros municípios do estado, ficava na posição 62 de 246. Em relação ao **IDEB**, no ano de 2021, o IDEB para os anos iniciais do ensino fundamental na rede pública era 6 e para os anos finais, de 4,8.”

(Fonte: <https://cidades.ibge.gov.br/brasil/go/baliza/panorama>)

Os trechos apresentados anteriormente foram extraídos de pesquisas do IBGE (Instituto Brasileiro de Geografia e Estatística) sobre os aspectos econômicos e educacionais do município de Baliza (GO). Neles, são mencionadas duas siglas importantes para a compreensão do panorama socioeconômico: PIB e IDEB, que correspondem, respectivamente, a:

(A) Percentual Interno Brasileiro e Índice de Desenvolvimento Educacional Brasileiro

(B) Produto Interno Bruto e Índice de Desenvolvimento da Educação Básica

(C) Produto Interno Brasileiro e Índice de Desenvolvimento Educacional Brasileiro

(D) Produto Interino Bruto e Índice de Desenvoltura da Educação Brasileira

40. Com a instauração do golpe de 1937, baseado no discurso de proteção à nação brasileira contra a ameaça comunista, Getúlio Vargas estabeleceu uma ditadura que perduraria pelos próximos 8 anos. Sobre esse período da história brasileira, assinale a alternativa que apresenta corretamente uma realização de Vargas durante o Estado Novo:

(A) Construção e transferência da capital para Brasília.

(B) Ampliação das leis e direitos trabalhistas com a criação da CLT.

(C) Criação do Plano SALTE, que visava o aprimoramento nas áreas de saúde, alimentação, transporte e energia.

(D) Com o slogan "50 anos em 5", abriu o mercado brasileiro para indústrias estrangeiras, especialmente as automobilísticas.