

CADERNO DE PROVA

CARGO: NUTRICIONISTA

Instruções gerais:

1. Este caderno de prova contém 40 (quarenta) questões objetivas. É de sua inteira responsabilidade conferir se o caderno de provas recebido está completo e se corresponde ao seu cargo. Caso esteja incompleto ou apresente qualquer defeito, comunique imediatamente ao fiscal de sala para que seja tomada a providência necessária para sanar o problema;
2. **ATENÇÃO:** para cada questão objetiva são apresentadas as opções A, B, C, D e apenas uma delas corresponde à alternativa correta;
3. O tempo estipulado para a realização da prova é de até **03 (três) horas**, está incluído nesse tempo o preenchimento do cartão-resposta, entrega do material e identificação do candidato;
4. Na carteira somente poderá ficar o documento de identidade e a caneta esferográfica de tinta azul ou preta, fabricada em material transparente, fica a critério do candidato a utilização de caneta de outra cor, porém, caso haja falha na leitura ótica do cartão-resposta, os pontos correspondentes às questões não lidas, não serão computados;
5. Ao receber o CARTÃO-RESPOSTA verifique se contêm a mesma quantidade de questões do Caderno de Prova, caso perceba algum problema com seu cartão-resposta, comunique imediatamente o fiscal de sala para que seja adotada a medida necessária;
6. No CARTÃO-RESPOSTA você *deverá assinalar somente a alternativa que julgar correta e sem rasuras.*
7. O preenchimento do cartão-resposta é de sua inteira responsabilidade, para o correto preenchimento siga às instruções contidas na parte superior do cartão, observe atentamente o número da questão antes de marcar, pois não haverá substituição do cartão- resposta que é personalizado e único.
8. Quando terminar a prova sinalize para o fiscal e aguarde ser chamado para entregar a prova, o cartão-resposta e assinar a lista de presença, caso não tenha assinado na entrada;
9. Somente depois de decorridos 1 (uma) hora do início da prova você poderá sair da sala sem levar consigo o caderno de provas;
10. Você poderá levar esse caderno de provas quando estiver faltando 30 (trinta) minutos para o encerramento da prova;
11. É proibido levantar ou comunicar com outros candidatos durante a prova;
12. É proibido anotar informações relacionadas às suas respostas da prova objetiva em qualquer outro lugar que não seja o caderno de provas;
13. Os 3 (três) últimos candidatos de cada sala só poderão ser liberados juntos;
14. O gabarito da prova objetiva será divulgado no segundo dia útil subsequente a aplicação da prova e será fixado no placar da Prefeitura e nos sites www.itame.com.br e www.baliza.go.gov.br;

Informações importantes:

- ✓ Não serão aceitos recursos em desacordo com o item 15 e seguintes do edital regulamento;
 - ✓ Somente é permitida a reprodução da prova para fins didáticos, devendo ser citada a fonte.
- Boa sorte!**

1. Nos versos da letra da música de Gonzaguinha estão presentes as seguintes figuras de linguagem:

Chega de temer, chorar, sofrer, sorrir, se dar
E se perder e se achar e tudo aquilo que é viver
Eu quero mais é me abrir e que essa vida entre assim
Como se fosse o sol desvirginando a madrugada
Quero sentir a dor desta manhã

- (A) hipérbole, metonímia, eufemismo.
- (B) metáfora, personificação, ironia.
- (C) gradação, antítese, comparação.
- (D) hipérbato, perífrase, pleonismo.

2. Assinale a alternativa correta sobre os tipos de discursos.

- (A) No discurso indireto, o narrador incorpora na sua linguagem a fala das personagens.
- (B) Os chamados verbos de elocução são uma das marcas do discurso indireto livre.
- (C) A frase “Seu pai o interpelou, questionando se aquilo eram horas de chegar em casa”, é um exemplo de uso do discurso direto.
- (D) Sempre que a narrativa usar os verbos na terceira pessoa significa que ali haverá discurso indireto livre.

3. Identifique duas funções da linguagem presentes no trecho da letra dessa música.

[...]

Olha malandro

Na esquina do peito eu me rendo a teus pés

Um belo sujeito eu sei que tu és

Erraste comigo, mas deixa pra lá

Se eu gosto do teu jeito de se entregar

Não vejo outro jeito a não ser te aturar

Faça o que eu mando

Não faça o que eu faço

Você sempre diz,

É queda de braço, mas eu sou feliz

Com os outros eu fiz tudo o que eu quis fazer

Mas o meu desejo prefere você

Eu perco espaço

Mas ganho prazer.

- (A) função fática e denotativa.
- (B) função metalinguística e conativa.
- (C) função referencial e poética.
- (D) função expressiva e apelativa.

4. Os versos “Eu perco espaço/mas ganho prazer”, se constituem de

(A) um período composto misto, formado por uma oração coordenada seguida de uma subordinada concessiva.

(B) duas orações coordenadas: a primeira é assindética; a segunda, adversativa.

(C) um período composto por coordenação, formado apenas de orações assindéticas.

(D) duas orações subordinadas: a primeira é a principal; a segunda, adverbial concessiva reduzida de infinitivo.

5. Assinale a alternativa em que o verbo destacado está classificado corretamente quanto à regência.

I. Naquela noite, todos **ficaram** em casa – verbo intransitivo.

II. **Parecia** tranquilo o início daquela chuva torrencial, quando ouvimos os primeiros chuviscos. – verbo de ligação.

III. O professor **cometia** erros frequentes ao explicar o conteúdo. – verbo transitivo indireto.

(A) Estão corretas apenas I e II.

(B) Estão corretas apenas I e III.

(C) Estão corretas apenas II e III.

(D) Apenas a III está correta.

6. Assinale a alternativa em que a justificativa de uso da vírgula corresponde ao exemplo dado.

(A) Caro amigo, a vida não espera o melhor momento para nos surpreender. – Separa aposto explicativo.

(B) Estudantes de escola pública, até mesmo os infrequentes, esperam por aprovação automática. – Separa aposto explicativo.

(C) A certa hora da tarde, o silêncio era cortado apenas pelo som ensurdecido das cigarras. – Separa uma expressão exemplificativa.

(D) De fato, há um momento na vida que é mais importante ter paz do que ter dinheiro. – Marca a elipse de um verbo.

7. Assinale a alternativa em que o termo destacado tem a função sintática de complemento nominal.

(A) Os cristãos acreditam **em Deus**.

(B) De um modo geral, não é fácil obedecer **a restrições**.

(C) Há cada vez mais pessoas intolerantes **à lactose**.

(D) Teoricamente os pecados são perdoados **por Deus**.

8. Julgue as assertivas e assinale a alternativa correta.

I. Na frase “Jamais me esquecerei do nosso primeiro encontro”, ocorre próclise, porque termos de sentido negativo atraem o pronome para antes do verbo.

Altay Veloso

II. Na frase “Ele se retirou da sala antes que a reunião acabasse”, ocorre próclise ou mesóclise, tanto faz, em razão de o sujeito explícito estar antes do verbo.

III. Na frase “Desconfiada de assédio, recusou a proposta, fazendo-se de desentendida”, ocorre ênclise pois o verbo está no gerúndio e não há palavra atrativa.

- (A) Está correta apenas a I.
- (B) Está correta apenas a II.
- (C) Estão corretas I e II.
- (D) Estão corretas apenas I e III.

9. Assinale a alternativa em que não haja erro no emprego do acento grave (crase).

- (A) O professor não se referiu àquele estudante de maneira gentil; porém, à líder da sala falou com delicadeza e simpatia.
- (B) Era evidente a necessidade de resolver àquela situação de desrespeito para com alguns alunos e alunas.
- (C) Há lojas divulgando liquidação com descontos à partir de 50%.
- (D) Atualmente compramos quase tudo a quilo; até as lanchonetes aderiram à essa prática.

10. Analise as assertivas e marque a alternativa correta.

I. Ontem mais de um candidato participaram do debate na televisão – o verbo concorda com o sujeito.

II. Faz tempo que não viajamos juntos – na primeira oração, o verbo se mantém no singular, pois é impessoal.

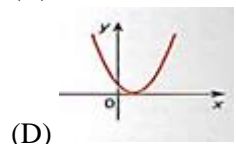
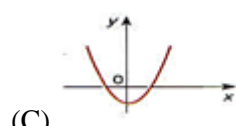
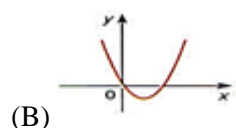
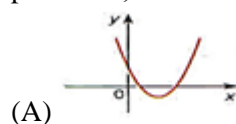
III. Viajou o pai e a filha – o verbo concorda com o termo mais próximo do sujeito.

- (A) Apenas a I está correta.
- (B) Apenas I e II estão corretas
- (C) Apenas II e III estão corretas.
- (D) Apenas I e III estão corretas.

11. Uma cidade tem 50.000 habitantes e 3 clubes esportivos *Alfa*, *Beta* e *Gama*. Destes habitantes: 15.000 torcem para o clube Alfa; 10.000 torcem para o clube Beta; 8.000 torcem para o clube Gama; 6.000 torcem para o clube Alfa e Beta; 4.000 torcem para o clube Alfa e Gama; 3.000 torcem para o clube Beta e Gama e 1.000 torcem para os três clubes. Uma pessoa é selecionada ao acaso, a probabilidade de que ela torça somente para um clube é:

- (A) 10%
- (B) 15%
- (C) 20%
- (D) 25%

12. A melhor representação da função $y = ax^2 + bx + c$, para $a > 0$, $\Delta > 0$ e $c = 0$ é:



13. O polinômio que dividido por $(m - 1)$ tem por quociente $(m^2 + m + 1)$ e o resto 2, é:

- (A) $m^3 + m^2 + 1$
- (B) $m^3 - 1$
- (C) $m^3 - m^2 + 1$
- (D) $m^3 + 1$

14. É comum encontrarmos produtos com conteúdo líquido menor que o declarado nas embalagens. Em um determinado supermercado, requeijão são vendidos em copos de vidro em cujos rótulos consta a informação relativa ao “peso” de 200g. Dois fabricantes “*CrenBom*” e “*ConDelícia*”, fornecem requeijão com conteúdo real médio de 190g e 195g, respectivamente. O supermercado comprou um total de n copos (somados as duas marcas) de requeijão, e verificou-se que o conteúdo médio líquido do lote era 193,5g. O número de copos comprados pelo supermercado de cada fabricante, sabendo que um deles vendeu 40 copos a mais que outro, é de:

- (A) 30 *CrenBom* e 70 *ConDelícia*
- (B) 20 *CrenBom* e 60 *ConDelícia*
- (C) 40 *CrenBom* e 80 *ConDelícia*
- (D) 50 *CrenBom* e 90 *ConDelícia*

15. Os lados de um triângulo medem, respectivamente, 4, 7 e 9 cm. O perímetro do triângulo semelhante ao dado cujo lado maior é de 27cm, mede:

- (A) 58 cm
- (B) 60 cm
- (C) 63 cm
- (D) 78 cm

16. Com relação à avaliação do estado nutricional da criança, o indicador que “expressa o crescimento linear e melhor representa o efeito cumulativo de situações

adversas sobre o crescimento da criança. É considerado como o índice mais sensível para aferir a qualidade de vida da população infantil”. Trata-se de:

- (A) Índice de peso por idade (P/I)
- (B) Índice de altura por idade (A/I)
- (C) Índice de peso por altura (P/A)
- (D) Índice de massa corporal por idade (IMC/I)

17. O Programa Nacional de Alimentação Escolar – PNAE (Lei nº 11.947, de 16/6/2009), dispõe sobre o atendimento da alimentação escolar e está regulamentada atualmente pela Resolução CD/FNDE nº 06, de 08/05/2020. Acerca desta política pública, assinale a alternativa INCORRETA:

- (A) O cálculo do valor total de repasse aos municípios considera o número de alunos matriculados segundo o Censo escolar, a quantidade de dias letivos e o valor per capita definido.
- (B) No mínimo, 30% do valor dos recursos federais do PNAE repassados pelo FNDE devem ser investidos na compra direta de produtos da agricultura familiar.
- (C) O PNAE contempla todos os estudantes de todas as etapas e modalidades da educação básica nas redes municipal, distrital, estadual e federal, com exceção da educação de jovens e adultos (EJA) em período noturno.
- (D) O valor per capita por estudante da educação básica de escola localizada em áreas indígenas e quilombolas é maior que o de escolas em zonas urbanas ou rurais.

18. Acerca dos cardápios da alimentação escolar, analise as afirmativas abaixo e assinale a alternativa adequada:

- I.** Em unidades escolares que ofertam alimentação escolar em período parcial, os cardápios devem ofertar, obrigatoriamente, legumes e verduras, no mínimo três dias por semana.
- II.** Cabe ao nutricionista responsável técnico a definição do horário e do alimento adequado a cada tipo de refeição, respeitados o hábito e a cultura alimentar.
- III.** As bebidas à base de frutas substituem a obrigatoriedade da oferta de frutas in natura.
- IV.** É obrigatória a inclusão de alimentos fonte de ferro heme no mínimo 2 (dois) dias por semana nos cardápios escolares.

- (A) Todas as afirmativas estão corretas.
- (B) Estão corretas somente as afirmativas III e IV.
- (C) Nenhuma das afirmativas está correta.
- (D) Estão corretas somente as afirmativas I e II.

19. Assinale a alternativa que contém os termos adequados para completar a seguinte sentença, referente à RDC 216/2004.

“Os óleos e gorduras utilizados devem ser aquecidos a temperaturas não superiores a _____, sendo substituídos imediatamente sempre que houver alteração evidente das características _____ ou _____, tais como _____ e _____ e formação intensa de _____ e fumaça”.

- (A) 180°C/ físico-químicas/ sensoriais/ aroma/ sabor/ espuma.
- (B) 200°C/ físico-químicas/ nutricionais/ cor/ sabor/ resíduos.
- (C) 180°C/ sensoriais/ nutricionais/ fluidez/ cor/ resíduos.
- (D) 190°C/ físico-químicas/ nutricionais/ cor/ sabor/ espuma.

20. O Marco de Referência de Educação Alimentar e Nutricional (EAN) para as políticas públicas apresenta nove princípios que norteiam estas ações em diversos setores e cenários. Assinale a alternativa que **não contempla** um destes princípios:

- (A) Valorização da cultura alimentar local
- (B) Segurança alimentar e nutricional
- (C) Participação ativa dos sujeitos
- (D) Intersetorialidade

21. A respeito das alergias e intolerâncias alimentares, assinale a alternativa correta:

- (A) A intolerância alimentar é consequência da reação imunológica que ocorre em indivíduos previamente sensíveis a um nutriente ou substância presente no alimento.
- (B) No caso de alergia alimentar do lactente em aleitamento materno exclusivo, deve-se excluir da dieta materna o alimento suspeito.
- (C) Dificuldades respiratórias e choque anafilático são sinais clínicos comuns que podem ocorrer nas intolerâncias alimentares.
- (D) A sensibilidade não celíaca ao glúten é um tipo de alergia alimentar que requer exclusão total do glúten da dieta, incluindo os alimentos que podem ter sofrido contaminação cruzada.

22. O Índice de Cocção (IC) determina o rendimento do alimento numa determinada preparação, ou seja, ele mostra a relação entre a quantidade do alimento pronto e do alimento cru e limpo utilizado na receita. O valor do IC pode apresentar variações para um mesmo alimento em função dos fatores citados abaixo, **exceto**:

- (A) Variedade do alimento e tempo pós-colheita
- (B) Capacidade de hidratação do alimento
- (C) Método de cocção (calor seco, úmido, misto)
- (D) Partes não comestíveis do alimento

23. A aceitação de um alimento pelos estudantes é um importante fator para determinar a qualidade do serviço prestado pelas escolas em relação ao fornecimento da alimentação escolar. Além disso, evita o desperdício de recursos públicos na compra de gêneros alimentícios. Assinale a alternativa que contém os testes de aceitabilidade preconizados pelo Programa Nacional de Alimentação Escolar (PNAE):

- (A) Teste de preferência e teste de ordenação
- (B) Escala hedônica e resto-ingesta
- (C) Teste triangular e análise descritiva quantitativa
- (D) Teste duo-trio e resto-ingesta

24. A dieta hospitalar laxativa tem como objetivo regular o trânsito intestinal, aumentar a ingestão de fibras e auxiliar no alívio dos sintomas da constipação, prevenindo piora clínica. Assinale a alternativa que contém somente alimentos permitidos na dieta laxativa:

- (A) Tapioca, leite achocolatado e banana
- (B) Mingau de maisena com canela
- (C) Pão integral, queijo branco, chá mate e melancia.
- (D) Arroz, feijão, farinha de mandioca, couve e charque

25. São características das substâncias prebióticas, **exceto**:

- (A) Sofrem absorção intestinal lenta e gradual
- (B) Resistentes à acidez gástrica e hidrólise enzimática
- (C) Sofrem fermentação pela microbiota intestinal
- (D) Estimulam seletivamente o crescimento e atividade microbiana

26. Você é nutricionista de uma unidade hospitalar e está acompanhando um paciente hospitalizado com os seguintes sinais clínicos: Baixo peso; ossos salientes; perda importante de gordura subcutânea e massa muscular, pele seca e edema generalizado.

Assinale a alternativa que contém os exames bioquímicos a serem mais urgentemente realizados com base no quadro clínico do paciente:

- (A) Glicemia de jejum, curva glicêmica, lipidograma completo, ferro sérico, ferritina sérica, urina de 24h, TSH e T4livre.
- (B) Glicemia de jejum, glicemia pós prandial, hemoglobina glicada, clearance de creatinina, sódio e potássio séricos.
- (C) Hemograma completo, glicemia, lipidograma completo, bilirrubinas, transaminases, gama GT, fosfatase alcalina, uréia.

(D) Albumina plasmática, pré-albumina, transferrina, proteína ligadora de retinol, contagem total de linfócitos, creatinina urinária.

27. “Participa dos sistemas enzimáticos envolvidos na síntese e degradação de proteínas e na transformação de glicose em ácidos graxos. Favorece a síntese de ácidos nucleicos, sendo fundamental no crescimento, desenvolvimento e maturação sexual. É parte da estabilidade estrutural das membranas celulares, prevenindo a peroxidação lipídica, atuando como agente antioxidante e anti-inflamatório. Sua deficiência está associada à resistência à insulina e é caracterizada pela presença de anorexia, alterações no paladar e dificuldade de reparação tecidual”.

O texto acima se refere ao nutriente:

- (A) Vitamina D
- (B) Selênio
- (C) Zinco
- (D) Folato

28. Analise as afirmativas a seguir quanto aos diversos aspectos que devem ser considerados durante as atividades de produção de refeições em Unidades Produtoras de Refeições (UPR) e assinale a alternativa adequada:

I. As principais fontes de contaminação por *Bacillus cereus* são o leite não pasteurizado, carne crua, além de verduras e legumes frescos ou cozidos e armazenados em temperaturas não adequadas.

II. Dentro da ferramenta de Análise dos Perigos e Pontos Críticos de Controle (APPCC), limite crítico é um valor máximo e/ou mínimo de parâmetros biológicos, químicos ou físicos que assegure o controle do perigo estabelecido.

III. As luvas descartáveis devem ser utilizadas pelos colaboradores na manipulação de vegetais já higienizados, fornos e fritadeiras.

IV. A antissepsia consiste na operação de remoção de substâncias tais como terra, poeira, gordura e outras sujidades dos alimentos ou superfícies.

V. A louça deve ser seca com pano, evitando assim que fique muito tempo molhada e exposta a microorganismos.

- (A) Todas as afirmativas estão incorretas.
- (B) Estão corretas as afirmativas I e II.
- (C) Estão corretas as afirmativas II e IV.
- (D) Todas as afirmativas estão corretas.

29. Os valores de referência de ingestão de nutrientes estabelecidos pelas DRIs (Dietary Reference Intakes) são utilizados para planejar e avaliar dietas para

indivíduos ou coletividades saudáveis. São divididas em quatro níveis de referência, sendo eles:

1. Limite máximo de ingestão diária de nutrientes sem risco de efeitos adversos à saúde.
2. Meta de ingestão de nutrientes para cobrir as necessidades de 97 a 98% dos indivíduos saudáveis por faixa etária e sexo.
3. Valor médio de ingestão diária, suficiente para suprir às necessidades de 50% da população saudável por faixa etária e sexo.
4. Meta de ingestão diária de um nutriente quando não se conhece a necessidade média estimada.

Assinale a alternativa que apresenta a sequência correta dos níveis de referência descritos nas afirmativas 1 a 4, respectivamente.

- (A) UL, EAR, RDA, AI
- (B) UL, RDA, EAR, AI
- (C) AI, EAR, UL, RDA
- (D) RDA, EAR, AI, UL

30. Segundo a legislação vigente, diversas atividades devem ser executadas para o bom funcionamento do Programa de Alimentação Escolar (PNAE) em cada município, dentre elas:

Elaboração do Plano Anual de Trabalho, contemplando os procedimentos adotados para o desenvolvimento das atribuições

- I. Implementação de fichas técnicas de preparo (FTP).
- II. Execução de testes de aceitabilidade.
- III. Participação em processos licitatórios e chamada pública.
- IV. Assessoria ao Conselho de Alimentação Escolar.
- V. Atividades de educação nutricional.

São atribuições do nutricionista integrante do quadro técnico do PNAE:

- (A) Todos os itens.
- (B) Todos os itens, exceto IV e V.
- (C) Todos os itens, exceto III e IV.
- (D) Somente os itens II e IV.

31. De acordo com as evidências e diretrizes mais recentes sobre o tratamento nutricional da obesidade, assinale a alternativa **incorreta**:

- (A) Por ser uma dieta muito radical, induzir a diminuição de massa magra e não favorecer aderência a hábitos alimentares saudáveis, a dieta cetogênica não deve ser recomendada para o tratamento nutricional da obesidade.
- (B) A dieta low carb não induz maior perda de peso em relação a outros tipos de dieta em estudos de longa duração.

(C) A dieta low carb induz redução de peso em estudos de curta a média duração (3-6 meses) e parece ser segura em curto prazo, podendo estar relacionada à restrição da opção de alimentos, monotonia e simplicidade da dieta.

(D) O índice glicêmico como uma medida de qualidade do carboidrato parece ser um determinante muito relevante para o peso corporal e para a perda de peso, sendo as dietas de baixo índice glicêmico recomendadas para o tratamento da obesidade.

32. Dentre os direitos fundamentais previstos no artigo 5º da Carta Magna, as liberdades de reunião e de manifestação como meio de utilizar da liberdade de expressão ocupam um lugar bastante importante. Nesse sentido, a respeito dessas reuniões e manifestações, pode-se afirmar:

(A) apenas os cidadãos maiores de 18 (dezoito) anos podem reunir-se, pacificamente, sem armas, em locais abertos ao público, mediante autorização da Administração Pública e desde que não frustrem outras reuniões.

(B) todos podem reunir-se pacificamente, sem armas, em locais públicos ou privados, independentemente de autorização ou aviso prévio.

(C) apenas os cidadãos maiores de 18 (dezoito) anos podem reunir-se, pacificamente, em locais abertos ou privados, independentemente de autorização ou aviso prévio.

(D) todos podem reunir-se pacificamente, sem armas, em locais abertos ao público, independentemente de autorização, desde que não frustrem outra reunião anteriormente convocada para o mesmo local, sendo apenas exigido prévio aviso à autoridade competente.

33. Marque a alternativa incorreta.

De acordo com a Lei Orgânica Municipal de Baliza, o Poder Executivo é exercido pelo Prefeito. Nesse sentido, compete privativamente ao Prefeito:

(A) dirigir os trabalhos do plenário e disciplinar os serviços administrativos da Câmara.

(B) iniciar o processo legislativo, na forma e nos casos previstos na Constituição Estadual e na Lei Orgânica Municipal.

(C) vetar projetos de lei, total ou parcialmente.

(D) prestar contas da aplicação dos auxílios federais ou estaduais entregues ao Município, na forma da lei.

34. Considerando o disposto no Estatuto dos Servidores Públicos do Município de Baliza, que institui o Regime Jurídico Único e Plano de Carreira dos Servidores Municipais, e dá outras providências, assinale a alternativa correta acerca das seguintes atribuições:

(A) A Assessoria Jurídica é o órgão de assistência do Prefeito para as funções políticas, atendimento de município e de ligação com os demais poderes e autoridades, assim como de relações públicas, incluindo as de representação e divulgação, bem como pela supervisão das atividades atinentes à administração municipal exercidas por todos os setores.

(B) A Secretaria Geral de Administração é o órgão encarregado da execução político-financeira e fiscal do Município, bem como das atividades relativas a lançamento de tributos e arrecadação de rendas municipais; fiscalização dos contribuintes; elaboração, controle e execução do orçamento.

(C) A Secretaria de Transportes é o órgão responsável pela execução, em conjunto com a Secretaria de Obras, de atividades relativas ao setor viário do Município; reforma e consertos de máquinas e equipamentos pertencente à frota municipal.

(D) A Secretaria de Serviços Sociais é o órgão responsável pelas atividades de assistência médico-odontológica à população local, mediante a administração dos serviços hospitalares de pronto-socorro, dos ambulatórios periféricos, serviços odontológicos, de zoonoses e enfermagem, através de ações integradas de saúde com os órgãos de saúde estadual e federal.

35. Anistia, graça e indulto são modalidades de indulgência soberana emanada de órgãos estranhos ao Poder Judiciário, que dispensam, em determinadas hipóteses, a total ou parcial incidência da lei penal.

Dito isso, o inciso XLIII do artigo 5º da Constituição Federal traz que a lei considerará crimes inafiançáveis e insuscetíveis de graça ou anistia a prática:

(A) da tortura, do terrorismo, da tentativa de homicídio e os definidos como crimes hediondos.

(B) da tortura, do terrorismo, do estupro e os definidos como contravenções penais.

(C) da tortura, o tráfico ilícito de entorpecentes e drogas afins, o terrorismo e os definidos como crimes hediondos.

(D) do crime de tráfico internacional de arma de fogo, da tortura, da injúria e da corrupção ativa e passiva.

36. Em um navegador de internet, o que é uma URL (Uniform Resource Locator)?

(A) Um tipo de arquivo de texto.

(B) Uma extensão do arquivo usado em planilhas.

(C) Um atalho para abrir programas instalados.

(D) Um endereço utilizado para identificar recursos na web, como sites.

37. No Microsoft Excel 2007 ou superior, qual fórmula pode ser utilizada para retornar o valor mínimo em um conjunto valores e não ignora valores lógicos e texto?

(A) =MÉDIA

(B) =MÍNIMO

(C) =MENOR

(D) =MÍNIMO

38. Considere as seguintes afirmações:

I. A população total do município supera 5 mil habitantes.

II. O cálculo da densidade demográfica é inferior a 2 habitantes por quilômetro quadrado.

III. A área da unidade territorial situa-se entre 1.000 km² e 2.000 km².

IV. O município está localizado na mesorregião do Noroeste Goiano.

Com base nos dados do Censo de 2022, realizado pelo IBGE (Instituto Brasileiro de Geografia e Estatística), acerca dos aspectos territoriais e demográficos do município de Baliza (GO), é correto afirmar que:

(A) Apenas a I e a III estão corretas.

(B) Apenas a I e a II estão corretas.

(C) Apenas a II, III e IV estão corretas.

(D) Nenhuma está correta.

39. “Em 2021, o **PIB** per capita era de R\$ 22.746,12. Na comparação com outros municípios do estado, ficava nas posições 189 de 246 entre os municípios do estado e na 2865 de 5570 entre todos os municípios.”

“Em 2010, a taxa de escolarização de 6 a 14 anos de idade era de 98,6%. Na comparação com outros municípios do estado, ficava na posição 62 de 246. Em relação ao **IDEB**, no ano de 2021, o IDEB para os anos iniciais do ensino fundamental na rede pública era 6 e para os anos finais, de 4,8.”

(Fonte: <https://cidades.ibge.gov.br/brasil/go/baliza/panorama>)

Os trechos apresentados anteriormente foram extraídos de pesquisas do IBGE (Instituto Brasileiro de Geografia e Estatística) sobre os aspectos econômicos e educacionais do município de Baliza (GO). Neles, são mencionadas duas siglas importantes para a compreensão do panorama socioeconômico: PIB e IDEB, que correspondem, respectivamente, a:

(A) Percentual Interno Brasileiro e Índice de Desenvolvimento Educacional Brasileiro

(B) Produto Interno Bruto e Índice de Desenvolvimento da Educação Básica

(C) Produto Interno Brasileiro e Índice de Desenvolvimento Educacional Brasileiro

(D) Produto Interino Bruto e Índice de Desenvolvimento da Educação Brasileira

40. Com a instauração do golpe de 1937, baseado no discurso de proteção à nação brasileira contra a ameaça comunista, Getúlio Vargas estabeleceu uma ditadura que perduraria pelos próximos 8 anos. Sobre esse período da história brasileira, assinale a alternativa que apresenta corretamente uma realização de Vargas durante o Estado Novo:

- (A) Construção e transferência da capital para Brasília.
- (B) Ampliação das leis e direitos trabalhistas com a criação da CLT.
- (C) Criação do Plano SALTE, que visava o aprimoramento nas áreas de saúde, alimentação, transporte e energia.
- (D) Com o slogan "50 anos em 5", abriu o mercado brasileiro para indústrias estrangeiras, especialmente as automobilísticas.