

PREFEITURA DE SÃO LUIS DO QUITUNDE (AL) :: NÍVEL FUNDAMENTAL
 CADERNO DE QUESTÕES OBJETIVAS DO CONCURSO PÚBLICO



Proibido folhear o
 Caderno de Questões
 antes da autorização
 do fiscal.

NOME:	
INSCRIÇÃO:	
CPF:	

Para mais informações, acesse nosso site www.admtec.org.br

ATENÇÃO!

Verifique se as informações descritas neste Caderno de Questões Objetivas coincidem com o registrado no topo de cada página e com o seu Cartão de Respostas. Caso contrário, notifique o fiscal de sala para que sejam tomadas as devidas providências.

Informações gerais:

1. Você receberá do fiscal de sala o material descrito a seguir:
 - a. este Caderno de Questões Objetivas, contendo 40 (quarenta) questões de múltipla escolha;
 - b. um Cartão de Respostas destinado ao preenchimento das respostas das questões objetivas formuladas na prova.
2. Ao receber o Cartão de Respostas você deverá:
 - a. conferir seu nome e número de inscrição;
 - b. ler atentamente as instruções para a marcação das respostas das questões objetivas;
 - c. assinar o Cartão de Respostas, no espaço reservado, com caneta de cor azul ou preta.
3. As questões são identificadas pelo número que se situa antes do enunciado de cada questão.
4. Durante a aplicação da prova não será permitido:
 - a. qualquer tipo de comunicação entre os candidatos;
 - b. levantar-se da cadeira sem a devida autorização do fiscal de sala;
 - c. portar aparelhos eletrônicos, tais como telefone celular, notebook, receptor, gravador ou máquina fotográfica ou equivalente;
 - d. anotar o gabarito da prova em outros meios que não sejam o Cartão de Respostas e este Caderno de Questões;
 - e. fazer consulta em material de apoio ou afins.
5. Não será permitida a troca do Cartão de Respostas por erro do candidato.
6. Reserve tempo suficiente para marcar seu Cartão de Respostas.
7. Para fins de correção do Cartão de Respostas, serão levadas em consideração apenas as marcações realizadas no local indicado no Cartão de Respostas.
8. No Cartão de Respostas, para cada questão, assinale apenas uma opção, pois será anulada a questão com mais de uma opção assinalada, ainda que dentre elas se encontre a correta.
9. O Cartão de Respostas não pode ser dobrado, amassado, rasurado ou manchado nem pode conter nenhum registro fora dos locais destinados às respostas.
10. Quando terminar sua prova, você deverá, OBRIGATORIAMENTE, entregar o Cartão de Respostas devidamente preenchido e assinado ao fiscal da sala. Aquele que descumprir esta regra será ELIMINADO do concurso.
11. O (a) candidato (a) só poderá retirar-se do local de realização das provas portando o caderno de questões após transcorridas 2 (duas) horas do início da prova. (Capítulo 9, item 38 do edital).

AUXILIAR DE LIMPEZA





CONHECIMENTOS ESPECÍFICOS
Questões de 1 a 20

01) Prevenir é sempre melhor do que remediar e no caso das cortinas e tapetes isso também é válido. Para tirar manchas ou cheiro ruim de tapetes e carpetes, uma boa dica é utilizar uma mistura de:

- a) Água sanitária e desinfetante.
- b) Água sanitária e amônia.
- c) Vinagre e água.
- d) Vinagre e água oxigenada.

02) A diluição de produtos de limpeza é o processo de adicionar água a um produto de limpeza concentrado para criar uma solução segura e eficaz para uso. Uma diluição de 1:20 significa que em uma mistura de 1 litro teremos:

- a) 800 ml de água.
- b) 850 ml de água.
- c) 900 ml de água.
- d) 950 ml de água.

03) Um dos maiores desafios da higienização empresarial é a limpeza de computador e equipamentos eletrônicos. Nesse sentido, está incorreta a seguinte afirmação:

- a) O melhor produto para a limpeza de computadores e equipamentos eletrônicos é o álcool 99%.
- b) Ar comprimido para limpá-los é uma boa escolha de produto. Isso vai remover quaisquer indícios de poeira e acúmulo de sujeira.
- c) A limpeza diária de computadores com um produto antiestático, por exemplo, ajuda a reduzir o acúmulo de poeira e sujeira.
- d) Por conta da baixa tolerância à água, não é recomendado que líquidos sejam aplicados diretamente em equipamentos.

04) Pelo menos duas vezes por semana recomenda-se varrer a área externa para remover a sujeira aparente. A vassoura de pelo é o ideal para a varrição de:

- a) Pisos de pedra bruta.
- b) Pisos de porcelanato.
- c) Pisos de pedra.
- d) Pisos de cimento queimado.

05) Cada produto de limpeza que usa em casa serve para uma função específica, e seu modo de uso deve ser respeitado conforme indicado na embalagem. A aguarrás é indicada para:

- a) A limpeza de vidros, espelhos e metais.
- b) Ser utilizado como desinfetante e alvejante.
- c) O tratamento da água da piscina.
- d) A limpeza e remoção de esmaltes sintéticos e graxas impregnadas nas superfícies.

06) As cozinhas profissionais são ambientes com diversos equipamentos e bastante circulação de pessoas, por isso os cuidados com a limpeza e higienização devem ser redobrados. Na eliminação de sujeiras complexas, como gordura queimada que gruda no fogão, nas grelhas, nas chapas, nas coifas e em outros maquinários, é necessário a utilização de produtos:

- a) Biodegradáveis.
- b) Alvejantes.
- c) Desincrustantes.
- d) Desinfetantes.

07) A coleta seletiva de resíduos sólidos tem o objetivo de reduzir o impacto ambiental gerado pela produção de resíduos em uma cidade, destinando corretamente os materiais para reaproveitamento ou descarte adequado. Nesse contexto, o lixo orgânico deve ser separado e descartado em lixeiras ou contenedores de cor:

- a) Marrom.
- b) Azul.
- c) Verde.
- d) Branca.





08) Para que os produtos químicos diluídos na água não entrem em contato direto com o corpo ou com as roupas do usuário, os aventais geralmente têm uma proteção:

- a) Emborrachada.
- b) Inoxidável.
- c) Impermeável.
- d) Isolante.

09) Para viabilizar o aproveitamento do que é resíduo e garantir o descarte correto dos rejeitos é preciso separar o lixo reciclável do não reciclável corretamente. Assinale a alternativa que se refere ao tipo de material que não pode ser reciclado:

- a) Revistas.
- b) Ampolas de medicamentos.
- c) Garrafas de vidro.
- d) Tubos e conexões de PVC.

10) A natureza de substâncias perigosas pode ser identificada por meio de ícones que devem constar nos rótulos dos produtos. Um produto corrosivo, pode ser identificado pela seguinte imagem:

- a) 
- b) 
- c) 
- d) 

11) No Brasil, não é obrigatório que as instalações elétricas identifiquem fios e cabos por cor. Mas, caso se utilizem cores para separar diferentes tipos de fios, elas devem seguir o padrão da NBR 5410. O fio de carga são representados pela cor:

- a) Verde.
- b) Preto.
- c) Azul.
- d) Vermelho.

12) Os tubos e conexões de PVC soldáveis em instalações hidráulicas, são unidos por meio de:

- a) Roscas.
- b) Adesivo plástico.
- c) Solda MIG.
- d) Solda TIG.

13) Os serviços de limpeza urbana são ações de manutenção da limpeza pública para manter a higiene, limpeza e organização da cidade. A remoção da vegetação daninha pela raiz, que cresce indesejadamente nos espaços verdes, caracteriza o seguinte serviço de limpeza urbana:

- a) Varrição.
- b) Poda.
- c) Capina.
- d) Roçada.

14) Assinale a alternativa que se refere ao material de limpeza descrito abaixo:

Destaca-se por sua função primária de remover gorduras de superfícies, além de ter propriedades para eliminar vírus e bactérias. Versátil, pode ser utilizado na limpeza de diversas superfícies, estendendo-se para além de ambientes como cozinha e copa. No entanto, é nesses locais que o produto tem seu maior consumo, proporcionando resultados eficazes a um custo reduzido.

- a) Detergente neutro.
- b) Desinfetante.
- c) Alvejante.
- d) Álcool 70%.

15) A limpeza da caixa d'água é fundamental porque a água que chega da rua na sua casa, pode ser facilmente contaminada no reservatório do imóvel. No processo de limpeza, deve ser utilizado:

- a) Vassoura.
- b) Escova de aço.
- c) Água sanitária.
- d) Detergente biodegradável.

16) Segundo a NR 32, nos ambientes hospitalares e clínicos, é necessário observar não apenas os riscos biológicos, mas também outras situações que envolvem riscos, como os que surgem a partir do mau uso e posicionamento de equipamentos utilizados pelos colaboradores, classificados como:

- a) Riscos físicos.
- b) Riscos mecânicos.
- c) Riscos ortopédicos.
- d) Riscos ergonômicos.

17) Os sacos plásticos utilizados no acondicionamento dos resíduos de saúde devem atender ao disposto na NBR 9191 e ainda ser preenchidos até:

- a) O total da sua capacidade.
- b) 2/3 de sua capacidade.
- c) 1/3 de sua capacidade.
- d) Metade de sua capacidade.

18) A reciclagem é uma ação de suma importância para o desenvolvimento econômico e ambiental. Nesse sentido, está incorreta a seguinte afirmação:

- a) A função da reciclagem é transformar um material industrializado em um produto artesanal.
- b) A reciclagem é um processo de transformação de resíduos sólidos descartáveis em novos insumos e produtos.
- c) A reciclagem é classificada conforme a forma de transformação em mecânica, energética e química.
- d) As cores da reciclagem são uma forma de facilitar a identificação de espaços para a deposição correta de determinados tipos de lixo.

19) Pelo regime jurídico único dos servidores públicos, os servidores fazem jus a um adicional sobre o vencimento do cargo efetivo, quando trabalharem com habitualidade:

- a) Em locais fechados.
- b) Em contato permanente com substâncias tóxicas.
- c) Em locais distante da sua residência.
- d) Em contato esporádico com substâncias tóxicas.

20) A comissão composta por representantes dos trabalhadores e da empresa que tem como objetivo prevenir acidentes de trabalho e doenças ocupacionais, é conhecida como:

- a) EPI.
- b) CTI.
- c) SAMU.
- d) CIPA.



CONHECIMENTOS GERAIS
Questões de 21 a 40

Leia o texto:

O que é Riqueza e Pobreza

Um dia, um pai de família rica levou seu filho para viajar para o interior com o firme propósito de mostrar quanto as pessoas podem ser pobres. Eles passaram um dia e uma noite na fazenda de uma família muito pobre. Quando retornaram da viagem, o pai perguntou ao filho:

- Como foi a viagem?
- Muito boa, Papai!
- Você viu como as pessoas podem ser pobres?
- Sim. "Respondeu o menino".
- E o que você aprendeu?

- Eu vi que nós temos um cachorro em casa, e eles têm quatro. Nós temos uma piscina que alcança o meio do jardim; eles têm um riacho que não tem fim. Nós temos uma varanda coberta e iluminada com luz, eles têm um céu imenso com as estrelas e a lua. Nosso quintal vai até o portão de entrada, eles têm uma floresta inteira.

O pequeno garoto estava acabando de responder, quando seu pai ficou estupefato pelo que o filho acrescentou:

- Obrigado, pai, por me mostrar o quanto nós somos pobres....
- (Texto adaptado)
Disponível em:
<http://www.reflexaodevida.com.br/074riquezapobreza.htm>.
Acesso em 25AGO2024

21) Qual era o objetivo do pai ao levar o filho para a fazenda?

- a) Mostrar ao filho como é a vida na cidade.
- b) Ensinar o filho sobre a importância do dinheiro.
- c) Mostrar ao filho a pobreza das pessoas.
- d) Mostrar ao filho a beleza da natureza.

22) Qual foi a reação inicial do filho após a viagem?

- a) Ficou triste com a pobreza das pessoas.
- b) Sentiu-se culpado por ter muitas coisas.
- c) Não entendeu o objetivo da viagem.
- d) Ficou feliz pela experiência.

23) O que o filho aprendeu com a viagem?

- a) Que a riqueza está em ter muitas coisas materiais.
- b) Que a felicidade não depende apenas de bens materiais.
- c) Que a vida na cidade é melhor que a vida no campo.
- d) Que a pobreza é algo ruim a ser evitado.

24) Qual foi a maior surpresa do pai com a resposta do filho?

- a) O filho entendeu a pobreza de uma forma diferente.
- b) O filho não valorizou a experiência.
- c) O filho se sentiu superior às pessoas da fazenda.
- d) O filho não queria mais voltar para casa.

25) Qual o objetivo principal do texto?

- a) Divertir o leitor com uma história engraçada.
- b) Criticar as pessoas ricas.
- c) Refletir sobre os valores e a felicidade.
- d) Mostrar a importância de viajar.

26) Na oração: "quando seu pai ficou estupefato pelo que o filho acrescentou", a palavra que pode substituir o vocábulo sublinhado sem mudar o sentido da frase é:

- a) alegre.
- b) espantado.
- c) chateado.
- d) decepcionado.

27) Na frase: "Eles passaram um dia e uma noite na fazenda de uma família muito pobre...", o pronome sublinhado se refere a:

- a) pessoas.
- b) pobres.
- c) família.
- d) pai e filho.

28) A classificação da oração sublinhada "Quando retornaram da viagem, o pai perguntou ao filho" é:

- a) Subordinada adverbial causal.
- b) Subordinada adverbial temporal.
- c) Subordinada substantiva objetiva direta.
- d) Subordinada substantiva objetiva indireta.

29) Qual a Função Sintática do termo sublinhado em: "eles têm uma floresta inteira"?

- a) Adjunto adnominal.
- b) Adjunto adverbial.
- c) Complemento nominal.
- d) Complemento verbal.

30) Na frase "Não beber água é prejudicial à saúde", o termo sublinhado exerce a Função Sintática de:

- a) Objeto Indireto.
- b) Adjunto adnominal.
- c) Agente da passiva.
- d) Complemento Nominal.

31) As palavras "Caráter" e "Bíceps" recebem Acento Gráfico porque:

- a) Ambas são oxítonas.
- b) Ambas são paroxítonas.
- c) Ambas são proparoxítonas.
- d) A primeira é paroxítona e a segunda é proparoxítona.

32) De acordo com a norma culta da Língua Portuguesa, todas as palavras a seguir estão escritas corretamente, exceto em:

- a) Canjica, ojeriza, tigela.
- b) Casarão, azar, êxodo.
- c) Enxame, enchente, chícara.
- d) Pajé, colégio, flecha.

33) Considere o número de 3 algarismo, qual o algarismo de menor valor que deve ser colocado no lugar do x, para formar um número divisível por 6:

4	7	x
---	---	---

- a) 1
- b) 2
- c) 3
- d) 4

34) Dos conjuntos abaixo, o único que possui como elementos somente números primos é:

- a) {13, 17, 27, 31}
- b) {13, 17, 23, 31}
- c) {19, 21, 23, 29}
- d) {19, 21, 27, 29}

35) Um neto me visita a cada 12 dias, um segundo neto me visita a cada 15 dias. Se aconteceu hoje esta visita dos dois netos, daqui a quantos dias coincidirá novamente a visita dos dois netos juntos:

- a) 20 dias
- b) 30 dias
- c) 40 dias
- d) 60 dias

36) Ana Lúcia comprou um objeto por R\$ 1.800,00. Deu de entrada $\frac{4}{9}$ desse valor e vai pagar o restante em prestações mensais. Sabendo-se que cada prestação será de $\frac{1}{25}$ do restante, o valor de cada prestação será de:

- a) R\$ 40,00
- b) R\$ 50,00
- c) R\$ 75,00
- d) R\$ 80,00

37) Um funcionário da empresa W recebeu R\$ 270,00 a mais em seu salário nesse mês referente a uma aumento de 12%. Sendo assim, o seu salário atual passou a ser de:

- a) R\$ 2.250,00
- b) R\$ 2.320,00
- c) R\$ 2.520,00
- d) R\$ 2.550,00

38) Em um terreno quadrado de 12m de lado, Sr Ulisses irá fazer 6 canteiros retangulares para fazer hortas de 4m de comprimento por 2m de largura, o restante ele irá plantar grama. A área gramada será de:

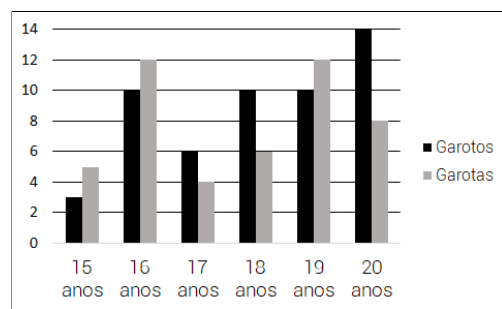
- a) 48m²
- b) 64m²
- c) 96m²
- d) 100m²

39) A Loja "Bela Dona" vende um vestido à vista por R\$ 300,00, ou em dois pagamentos iguais de R\$ 180,00 cada, sendo o primeiro pagamento no ato da compra e o segundo, um mês após a compra. A taxa mensal de juros simples cobrados de quem compra o vestido a prazo, é:

- a) 20%
- b) 25%
- c) 30%
- d) 50%

40) No edifício em que moro foi feito um censo dos moradores e identificamos os jovens com idade entre 15 e 20 anos conforme o gráfico abaixo. Então a média de idade dos jovens do meu edifício, é de aproximadamente:

- a) 15 anos
- b) 16 anos
- c) 18 anos
- d) 19 anos



RASCUNHO
PROIBIDO DESTACAR