



## CÂMARA MUNICIPAL DE ITAPORANGA - PB

### NÍVEL FUNDAMENTAL COMPLETO

#### AUXILIAR DE SERVIÇOS GERAIS MOTORISTA VIGIA

#### EXAME GRAFOTÉCNICO:

(Transcreva a frase abaixo no local indicado na sua Folha de Respostas)

**“Ita é pedra  
Poranga é bonita  
Foi o nome que um dia te deu”**

#### INSTRUÇÕES:

- 01** Verifique se este caderno de provas contém **40 (quarenta)** questões de múltipla escolha, sendo Português de **01 a 20**, Matemática de **21 a 30** e Conhecimentos Gerais de **31 a 40**.
- 02** Observe se há falhas ou imperfeições gráficas que causem dúvidas. Caso existam, comunique imediatamente ao Fiscal de Sala.
- 03** Verifique se os dados existentes na Folha de Respostas conferem com os dados do Cartão de Inscrição.
- 04** Esta Prova tem duração de **4 (quatro)** horas. Não é permitida a saída do candidato antes de esgotado o tempo mínimo de **2 (duas)** horas.
- 05** É vetado, durante a prova, o intercâmbio ou empréstimo de material de qualquer natureza entre os candidatos, bem como o uso de celulares, calculadoras e/ou qualquer outro tipo de equipamento eletrônico. A fraude, ou tentativa, a indisciplina e o desrespeito às autoridades encarregadas dos trabalhos são faltas que eliminam o candidato.
- 06** Assine a **Lista de Presença** e entregue ao Fiscal de Sala a **Folha de Respostas** devidamente assinada, bem como o **Caderno de Prova**.





# PORTUGUÊS

A leitura do **Texto 1** é necessária para responder às questões de 1 a 5.

## TEXTO 1



Fonte: <https://www.instagram.com/sandubinhadobem>. Acesso em 03 de ago de 2024.

---

### 1ª QUESTÃO

Com base no texto apresentado, assinale a alternativa que define o gênero textual ao qual ele pertence:

- a) Paródia.
- b) Charge.
- c) Gibi.
- d) Webquadrinho.
- e) Anedota.

### 2ª QUESTÃO

O Texto 1 traz uma abordagem humorística sobre a competição entre Simone Biles (retratada como Simone Fries) e Rebeca Andrade (retratada como Rebeca Alface) nas Olimpíadas de 2024, que ocorreram em Paris. Neste texto, é retratado um diálogo fictício entre a personagem Rebeca Alface e seus entrevistadores, no qual discutem sobre a conquista da prata. Utilizando o humor, o texto:

- a) lança o foco sobre impacto das redes sociais na carreira de ginastas olímpicas.
- b) denuncia o fato de Simone Biles ter quebrado as regras da competição para garantir, de forma desonesta, a medalha de ouro.
- c) desdenha da conquista da prata de Rebeca Andrade.
- d) reflete acerca da pressão da mídia sobre o desempenho das atletas nas Olimpíadas.
- e) aborda a competição saudável entre as duas atletas e a admiração.

### 3ª QUESTÃO

No primeiro quadrinho do Texto 1 destaca-se, além da personagem central, o termo “Wooooow!”, o qual aparece em segundo plano e escrito em uma fonte que desperta a atenção do leitor. Com base no termo em questão, identifique o processo de formação de palavras que o caracteriza CORRETAMENTE.

- a) Estrangeirismo.
- b) Neologismo.
- c) Híbrido.
- d) Parassíntese.
- e) Aglutinação.

### 4ª QUESTÃO

Ainda sobre o primeiro quadrinho do Texto 1, o termo “Wooooow!”, do ponto de vista semântico, representa graficamente:

- a) o grito de surpresa da plateia que assistia à apresentação.
- b) o som do *collant* da atleta se rasgando.
- c) o som do corpo cortando o ar ao longo do salto.
- d) o grito de dor da atleta ao sofrer uma contusão enquanto realizava o salto.
- e) o barulho do aparelho ao absorver o impacto do salto da ginasta.

### 5ª QUESTÃO

Analise as frases “Como assim?” e “Quais leis ela quebrou?” (contidas nos balões das personagens do quarto quadrinho do Texto 1) e identifique o tipo de frase predominante. Baseando-se na análise, selecione a alternativa que CORRETAMENTE classifica os tipos de frases utilizadas.

- a) Ambas são afirmativas.
- b) Negativa e afirmativa.
- c) Ambas são exclamativas.
- d) Interrogativa e exclamativa.
- e) Ambas são interrogativas.

**TEXTO 2**

## Como um formigueiro funciona

Ele é formado por indivíduos extremamente simples. Mas segue uma série de etapas complexas, que combinam seleção genética e divisões de tarefas.

### 1 O COMEÇO

A formiga-rainha voa até encontrar um macho. Os dois têm uma relação sexual, em que o macho injeta esperma no corpo dela (e morre logo depois). A rainha procura um lugar adequado para formar uma colônia. Quando encontra, ela perde as asas e coloca seus primeiros ovos. Eles dão origem às primeiras formigas trabalhadoras, que vão construir o formigueiro.

### 2 A ESTRUTURA

Um formigueiro chega a ter 50 cm de altura e 2 metros de profundidade, podendo abrigar de 100 mil a 500 mil insetos. As formigas são fortes (cada uma delas consegue carregar até 50 vezes o próprio peso) e acima de tudo persistentes: elas vão escavando a terra, grão por grão, num processo que pode levar até três anos.

### 3 A REPRODUÇÃO

Confortavelmente instalada no próprio "quarto", a rainha vive até 15 anos. Sua função é produzir e colocar ovos: uma só rainha pode gerar centenas de milhares deles. Conforme os ovos amadurecem e vão se transformando em larvas, pupas e casulos, são levados para outros compartimentos do formigueiro (veja no item 2).

### 4 OS TIPOS

São três: as formigas trabalhadoras, os machos e as fêmeas aladas. O destino de cada ovo, ou seja, qual dos três tipos ele vai gerar, é determinado por fatores genéticos e ambientais - algumas larvas recebem mais alimento, aumentando sua chance de se tornarem fêmeas rainhas ou soldados (veja próximo item).

### 5 AS FUNÇÕES

Os machos podem ser soldados, que são mais fortes e defendem o formigueiro, ou "bitus", que saem voando para tentar acasalar com outras rainhas. As içãs são fêmeas que um dia terão asas, e se tornarão rainhas. As cortadeiras trazem pedaços de folhas, enquanto as generalistas cuidam da colônia e das larvas. Já as jardineiras fazem algo especialmente interessante: cultivam fungos (veja abaixo).

### 6 O TRABALHO

As formigas usam as folhas para cultivar fungos - que elas depois comem. Também mantêm "rebanhos" de pulgões: insetos de 5 mm de comprimento, pertencentes à família Aphidoidea, dos quais as formigas cuidam. Elas protegem os pulgões do seu predador natural, as joaninhas, e os levam para dentro do formigueiro - onde lambem uma secreção doce produzida por eles.

Fonte: <https://super.abril.com.br/ciencia/o-planeta-das-formigas>. Acesso em 06 de agosto de 2024.

**6ª QUESTÃO**

O Texto 2 trata de um infográfico, que consiste em uma representação visual de informações ou dados que combina texto, imagens, gráficos e ícones para comunicar informações complexas de maneira clara e concisa. O objetivo dos infográficos é facilitar a compreensão de dados e conceitos ao apresentar as informações de forma visualmente atraente e acessível. Eles são frequentemente utilizados para resumir estatísticas, mostrar tendências, explicar processos ou comparar informações, e são amplamente utilizados em mídias digitais, impressos e apresentações. Diante destas informações e a partir da leitura do texto fornecido, marque a alternativa que define de forma CORRETA a tipologia textual predominante no gênero textual infográfico.

- a) Expositiva.
- b) Dissertativa.
- c) Injuntiva.
- d) Publicitária.
- e) Narrativa.

---

### 7ª QUESTÃO

Observe os títulos de cada tópico do infográfico (“O começo”; “A estrutura”; “A reprodução”; “Os tipos”; “As funções”; “O trabalho”). Em todos eles são utilizados termos de uma mesma classe gramatical. Analise as afirmativas abaixo:

- I- Todos possuem substantivos que concordam, respectivamente, em gênero, número e grau.
- II- Todos possuem adjetivos que assumem uma função restritiva.
- III- Todos possuem advérbios, por isso, invariáveis.
- IV- É possível observar três substantivos masculinos e três substantivos femininos.
- V- Apenas dois estão no plural.

É CORRETO o que se afirma apenas em:

- a) I e IV.
- b) II e III.
- c) II e V.
- d) I, IV e V.
- e) III, IV e V.

### 8ª QUESTÃO

Do ponto de vista da flexão de gênero, o termo “formiga”, tema central do Texto 2, deve ser classificado como:

- a) substantivo neutro.
- b) substantivo epiceno.
- c) substantivo comum de dois gêneros.
- d) substantivo sobrecomum.
- e) substantivo biforme.

### 9ª QUESTÃO

Observe o terceiro tópico do Texto 2, que tem por título “A Reprodução”. Os termos “ovo”, “larva”, “pupa”, “casulo” e “formiga” estão ordenados em uma sequência que define o ciclo evolutivo de uma formiga. O recurso estilístico utilizado pelo autor do infográfico é definido como:

- a) perífrase.
- b) metonímia.
- c) gradação.
- d) antítese.
- e) pleonasma.

### 10ª QUESTÃO

Análise a frase do primeiro parágrafo do tópico um do infográfico:

*“A formiga-rainha voa até encontrar um macho.”*

Com base na estrutura da frase, identifique os termos essenciais da oração. Considere as funções sintáticas desempenhadas por cada termo.

- I- O substantivo “formiga-rainha” é o sujeito da oração.
- II- A forma verbal “voa” é o predicado da oração e “até encontrar um macho” é um adjunto adverbial.
- III- A oração divide-se em: sujeito, “A formiga-rainha”, e predicado, “voa até encontrar um macho”.
- IV- A oração “A formiga-rainha voa até encontrar um macho.” possui núcleo verbal.
- V- O substantivo “macho” é sujeito-paciente da oração.

É CORRETO o que se afirma apenas em:

- a) I, II e IV.
- b) II e V.
- c) III e IV.
- d) III.
- e) II, IV e V.

---

A leitura do Texto 3 é necessária para responder às questões de 11 a 15.

### TEXTO 3

#### Muito romântica

Por Rosa Amanda Strausz

Comparar seus olhos com um lago não só seria um lugar-comum como uma mentira enorme. Ausentes a placidez, a capacidade de refletir sem deturpar, a calma pantanosa — mãe dos mosquitos e da estagnação, o que restaria ali de lago?

A comparação era um blefe.

Entretanto, estávamos ali, à beira do lago. E entardecia. Eu o amava e julgava finalmente compreender o panteísmo dos poetas românticos. Claro que o mundo era feito à imagem e semelhança do amado e seus olhos eram o lago, porque o mundo era a suprema metáfora dele.

Só muitos anos mais tarde, quando me deparei com a fria realidade das duas pedrinhas emolduradas por grossos aros de plástico, lamentei: infelizmente, amado, você não era a metáfora que eu perseguia.

Fonte: STRAUZ, Rosa Amanda. **Mínimo do mínimo: mais alguns contos de nariz sutil**. Rio de Janeiro: Ventania Editorial, 2020.

#### 11ª QUESTÃO

No texto “Muito romântica”, de Rosa Amanda Strausz, qual é o sentimento da narradora em relação à comparação dos olhos do amado com um lago?

- a) A narradora acredita que a comparação dos olhos com um lago é extremamente original.
- b) A narradora considera a comparação dos olhos com um lago, um lugar-comum e uma mentira.
- c) A narradora sente que a comparação dos olhos com um lago é uma descrição precisa e verdadeira.
- d) A narradora acha que a comparação dos olhos com um lago é uma metáfora científica e precisa.
- e) A narradora está confusa sobre o significado da comparação dos olhos com um lago.

#### 12ª QUESTÃO

No final do texto, o que a narradora lamenta em relação ao seu amado?

- a) Não ter conseguido encontrar um lago verdadeiro para a comparação.
- b) Que o amado não fosse o que ela idealizava.
- c) Que o amado não correspondesse à sua visão romântica do mundo.
- d) Não ter compreendido o panteísmo dos poetas românticos.
- e) Ter comparado os olhos do amado com as pedrinhas de plástico.

#### 13ª QUESTÃO

A partir da leitura estrutural dos elementos dessa narrativa, qual é o foco narrativo predominante no texto “Muito romântica”?

- a) Primeira pessoa do plural, usando “nós” para relatar a experiência de um grupo.
- b) Terceira pessoa limitada, com foco na perspectiva de um personagem que não é o narrador.
- c) Terceira pessoa objetiva, sem acesso aos pensamentos ou sentimentos dos personagens.
- d) Segunda pessoa, com o narrador dirigindo-se diretamente ao leitor.
- e) Primeira pessoa, pois a narradora usa “eu” para relatar suas próprias experiências e sentimentos.

#### 14ª QUESTÃO

No texto “Muito romântica”, a autora utiliza figuras de linguagem para enriquecer a expressão dos sentimentos da narradora. Qual das alternativas abaixo identifica a figura de linguagem empregada na frase: “Claro que o mundo era feito à imagem e semelhança do amado e seus olhos eram o lago”?

- a) Eufemismo, pois suaviza uma ideia negativa sobre o amado.
- b) Metonímia, pois há uma relação de proximidade entre o amado e o lago.
- c) Hipérbole, pois a frase exagera ao dizer que o mundo era feito à imagem e semelhança do amado.
- d) Metáfora, pois os olhos do amado são equiparados a um lago, sugerindo uma semelhança implícita.
- e) Ironia, pois há um contraste entre o que é dito e o que realmente se quer dizer.

#### 15ª QUESTÃO

No texto “Muito romântica”, as palavras são escolhidas cuidadosamente para expressar as nuances dos sentimentos da narradora. Considerando o contexto, qual das alternativas abaixo apresenta um sinônimo CORRETO para a palavra “placidez” e um antônimo CORRETO para a palavra “fria”?

- a) Agitação e calorosa.
- b) Tranquilidade e calorosa.
- c) Serenidade e rígida.
- d) Indiferença e insensível.
- e) Tristeza e alegre.





# MATEMÁTICA

## 21ª QUESTÃO

Se certo equipamento vendido em uma loja no mês de janeiro sofre um desconto de 10%, no mês de fevereiro sofre outro desconto de 30% e no mês de março sofre um aumento de 10%, é CORRETO afirmar que o preço desse equipamento no mês de março, após esse aumento, em relação ao preço de janeiro, sofreu:

- a) um desconto de 30,7%.
- b) um desconto de 30%.
- c) um desconto de 30,3%.
- d) um desconto de 69,3%.
- e) um desconto de 70%.

## 22ª QUESTÃO

Um estudante prestou vestibular para uma determinada universidade do país, começando sua prova às 08h, tendo a prova uma duração de 4 (quatro) horas. Se esse estudante terminou sua prova às 09h48min, é CORRETO afirmar que ele entregou a prova quando ainda faltavam:

- a) 9.720 segundos para acabar a prova.
- b) 7.200 segundos para acabar a prova.
- c) 7.920 segundos para acabar a prova.
- d) 8.200 segundos para acabar a prova.
- e) 1.320 segundos para acabar a prova.

## 23ª QUESTÃO

Dentre os divisores positivos de 2024, quantos deles são múltiplos de 11?

- a) 8.
- b) 6.
- c) 11.
- d) 4.
- e) 9.

## 24ª QUESTÃO

Uma família composta por pai, mãe e três filhos fez uma viagem a Paris para assistir as olimpíadas de 2024. Em um dia, decidiram visitar pontos turísticos da cidade, como por exemplo, a *Torre Eiffel*, e chegando lá decidiram pedir a uma pessoa para tirar uma fotografia deles para registrar esse momento em família. Considerando as possíveis posições entre essas 5 pessoas, é CORRETO afirmar que o número de fotos distintas que é possível tirar dessas 5 pessoas é:

- a) 60.
- b) 120.
- c) 45.
- d) 80.
- e) 20.

RASCUNHO

**25ª QUESTÃO**

Eudes foi a uma loja comprar uma TV para sua casa. Nessa loja, o preço da TV pelo qual Eudes se interessou para comprar era de R\$ 2.630,00, mas o gerente da loja lhe concederia um desconto de 10% caso a compra fosse feita no pix, ou um desconto de 7% caso a compra fosse feita no cartão de crédito. Sendo  $P_1$ , o preço da TV comprada no pix e  $P_2$  o preço da TV comprada com cartão de crédito, é CORRETO afirmar que  $P_2 - P_1$  vale:

- a) R\$ 78,10
- b) R\$ 79,00
- c) R\$ 79,10
- d) R\$ 79,90
- e) R\$ 78,90

**26ª QUESTÃO**

Um prêmio de R\$ 16.000 foi dividido entre três pessoas, sendo os prêmios das pessoas  $p_1, p_2$  e  $p_3$  proporcionais aos números 5, 2 e 1, respectivamente. Nesse caso, a pessoa  $p_2$  recebeu um valor de:

- a) R\$ 6.000,00
- b) R\$ 2.000,00
- c) R\$ 4.000,00
- d) R\$ 8.000,00
- e) R\$ 3.000,00

**27ª QUESTÃO**

Se  $x$  um número positivo, o seu inverso é denotado por  $\frac{1}{x}$ . Considerando o conjunto formado pelos divisores positivos do número 28, é CORRETO afirmar que a soma dos inversos desses números vale:

- a)  $\frac{1}{28}$
- b) 1
- c) 6
- d)  $\frac{1}{2}$
- e) 2

**28ª QUESTÃO**

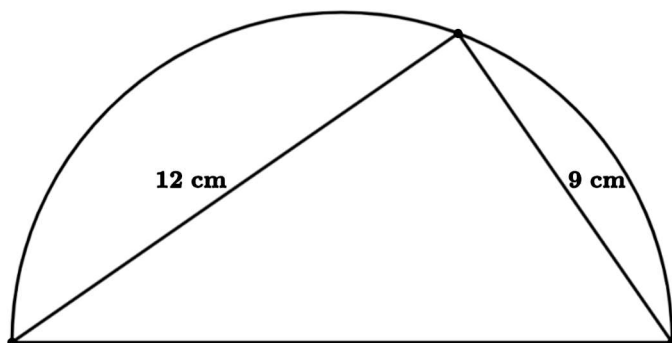
Existem algumas espécies de cigarras que são chamadas de cigarras-periódicas. Duas dessas espécies, a chamada ninhada XIX e a chamada ninhada XIII vivem no subsolo e, em períodos de 13 e 17 anos, respectivamente, emergem a superfície e se tornam uma ameaça para os agricultores nos locais em que esse fenômeno acontece. Em 2024, um grupo de cigarras-periódicas com período de 13 anos e outro grupo de cigarras-periódicas com período de 17 anos se encontraram simultaneamente no centro-oeste e no sudeste dos EUA. É CORRETO afirmar que encontros simultâneos entre esses dois grupos de cigarras-periódicas ocorrerão entre os anos 2000 e 3000 quantas vezes?

- a) 8 vezes.
- b) 4 vezes.
- c) 6 vezes.
- d) 5 vezes.
- e) 7 vezes.

RASCUNHO

**29ª QUESTÃO**

A figura a seguir mostra um semicírculo tal que a medida do seu diâmetro é a medida da hipotenusa de um triângulo retângulo inscrito nele, cujos catetos medem 9 cm e 12 cm.

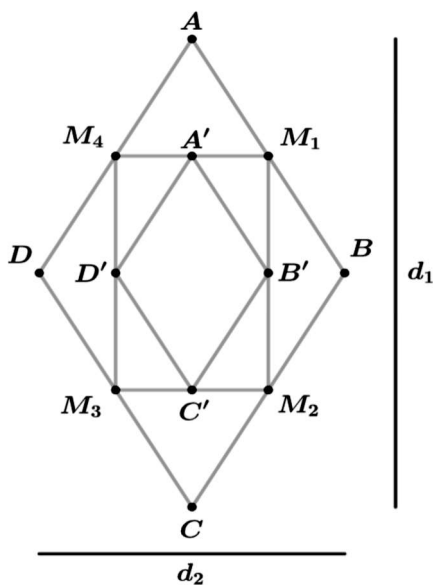


Nesse caso, denotando por  $C$  a área desse semicírculo, denotando por  $T$  a área desse triângulo e usando  $\pi = 3$ , é CORRETO afirmar que  $C - T$  vale:

- a) 33,125 cm<sup>2</sup>.
- b) 114,75 cm<sup>2</sup>.
- c) 283,5 cm<sup>2</sup>.
- d) 30,375 cm<sup>2</sup>.
- e) 84,375 cm<sup>2</sup>.

**30ª QUESTÃO**

A figura a seguir exibe um losango  $ABCD$ , cuja diagonal maior mede  $d_1$  e a diagonal menor mede  $d_2$  com um retângulo  $M_1M_2M_3M_4$  inscrito nele de forma que  $M_1$  é o ponto médio do lado  $AB$ ;  $M_2$  é ponto médio do lado  $BC$ ;  $M_3$  é ponto médio do lado  $CD$  e  $M_4$  é ponto médio do lado  $AD$ . Além disso, temos outro losango, a saber,  $A'B'C'D'$ , dessa vez inscrito no retângulo  $M_1M_2M_3M_4$ , de tal forma que  $A'$  é ponto médio do lado  $M_1M_4$ ;  $B'$  é ponto médio do lado  $M_1M_2$ ;  $C'$  é ponto médio do lado  $M_2M_3$ ; e  $D'$  é ponto médio do lado  $M_3M_4$ . Sabendo que a área do losango  $ABCD$  vale  $S$ . A fração que representa a área do losango  $A'B'C'D'$  é:



- a)  $S/2$ .
- b)  $S/4$ .
- c)  $S/3$ .
- d)  $S/8$ .
- e)  $S/9$ .

RASCUNHO

# CONHECIMENTOS GERAIS

## 31ª QUESTÃO

As características e as potencialidades naturais e culturais do estado da Paraíba, no litoral e no interior, vêm possibilitando o crescimento de uma importante atividade econômica para o estado, atraindo pessoas e investimentos e gerando emprego e renda para a população. Assinale a alternativa CORRETA acerca da(s) atividade(s) econômica(s) referida(s) no texto sobre a economia paraibana.

- a) Geração de energias térmica e hidráulica.
- b) Indústria automobilística e de eletrodomésticos.
- c) Produção de soja e pecuária bovina.
- d) Extração e refino de petróleo.
- e) Turismo de sol e mar e turismo de eventos.

## 32ª QUESTÃO

Com a proclamação da República em 1889, o Brasil tornou-se uma República Federativa, mantendo até os dias atuais esta forma de organização política e administrativa do seu território.

Considerando as atuais características da organização política e administrativa do Brasil, analise as proposições abaixo:

- I- Os Estados, os Municípios e o Distrito Federal fazem parte da Federação Brasileira.
- II- Os cargos do poder executivo, de Presidente, Governadores e Prefeitos são eletivos, com eleições a cada quatro anos.
- III- Na República Brasileira não existe a divisão nem a autonomia entre os três poderes: Executivo, Legislativo e Judiciário.
- IV- A República brasileira é presidencialista e o poder executivo é exercido pelo Senado Federal.

É CORRETO o que se afirma apenas em:

- a) II, III e IV.
- b) II e III.
- c) I e IV.
- d) I e II.
- e) I, III e IV.

## 33ª QUESTÃO

Conforme o IBGE (2022), a população brasileira é superior a 200 milhões de habitantes. Ainda de acordo com o IBGE, algumas mudanças e tendências vêm ocorrendo com a população brasileira nas últimas décadas, exigindo dos governantes reformas econômicas e sociais.

Assinale a alternativa CORRETA que indica duas tendências que vêm ocorrendo com a população brasileira.

- a) Aumento da proporção de jovens e população rural superior a população urbana.
- b) Maior crescimento da população do campo e maior crescimento da proporção de homens.
- c) Aumento do número de filhos por casal e diminuição da proporção de idosos.
- d) Aumento da expectativa de vida e diminuição das taxas de natalidade.
- e) Diminuição da população total do Brasil e crescente migração das cidades para o campo.

## 34ª QUESTÃO

Leia os textos abaixo:

Texto 01 – “Confira a lista das dez cidades mais violentas do Brasil, segundo o Anuário de Segurança Pública, quando levado em conta o índice de mortes intencionais (como homicídios, latrocínios e lesões corporais seguidas de morte): Santana (AP), Camaçari (BA), Jequié (BA), Sorriso (MT), Simões Filho (BA), Feira de Santana (BA), Juazeiro (BA), Maranguape (CE), Macapá (AP) e Eunápolis (BA).”.

(Disponível em: <https://www.cartacapital.com.br/justica/as-10-cidades-mais-violentas-do-brasil>. Acesso em: 20 de jul de 2024)

Texto 02 – “As causas da violência são de natureza estrutural e sistêmica, tendo como exemplos as profundas desigualdades socioeconômicas, a falta de oportunidades à população mais pobre e a ausência ou inadequação das políticas públicas sociais e de segurança promovidas pelo Estado.”.

(Disponível em: <https://www.preparaenem.com/geografia/violencia-no-brasil>. Acesso em: 20 de jul de 2024)

A partir da análise dos dados e das informações dos textos, sobre a violência urbana no Brasil, analise as proposições abaixo.

- I- A violência atinge por igual, toda a população brasileira, independente da classe social.
- II- As populações mais pobres são as principais vítimas da violência urbana no Brasil.
- III- As dez cidades mais violentas do Brasil estão localizadas em estados da região Nordeste.
- IV- A desigualdade social é uma das causas da violência que atinge a população urbana brasileira.

É CORRETO o que se afirma apenas em:

- a) I, III e IV.
- b) II e III.
- c) I e IV.
- d) I, II e III.
- e) II e IV.

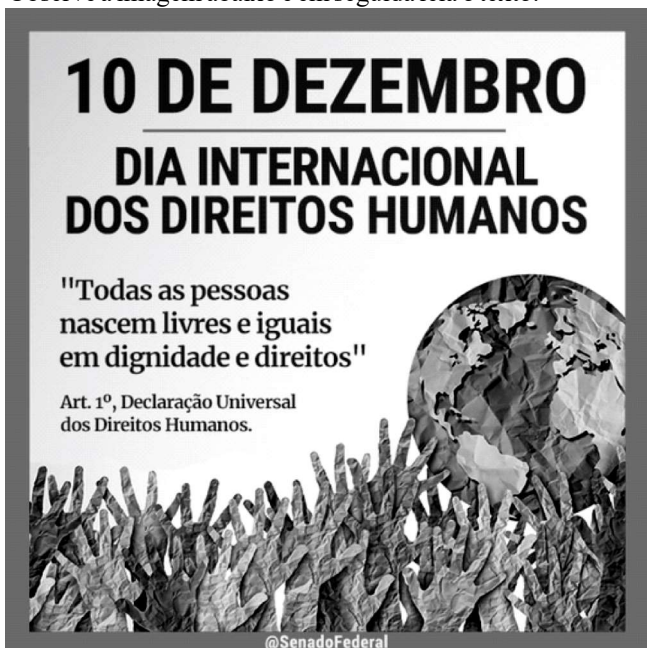
### 35ª QUESTÃO

Dentre os mais graves problemas ambientais do Brasil e com repercussão internacional é o desmatamento e os incêndios na floresta amazônica, com graves consequências sociais e ambientais. Assinale a seguir, a alternativa que indica CORRETAMENTE uma consequência do desmatamento na Amazônia.

- a) Aumento da biodiversidade.
- b) Extinção de espécies.
- c) Diminuição das temperaturas.
- d) Preservação do solo.
- e) Desvio do curso dos rios.

### 36ª QUESTÃO

Observe a imagem abaixo e em seguida leia o texto.



(Disponível em: <https://www.facebook.com/SenadoFederal/posts/os-direitos-humanos-s%C3%A3o-uma-conquista-civilizacional>. Acesso em: 23 de jul de 2024)

"Direitos Humanos são uma categoria de direitos básicos assegurados a todo e qualquer ser humano, não importando a classe social, raça, nacionalidade, religião, cultura, profissão, gênero, orientação sexual ou qualquer outra variante possível que possa diferenciar os seres humanos."

(Disponível em: <https://brasilecola.uol.com.br/sociologia/direitos-humanos.htm>. Acesso em: 23 de jul de 2024)

Considerando o texto e a imagem sobre os direitos humanos e seu cumprimento no Brasil, é CORRETO afirmar que:

- a) todas as pessoas devem ter assegurados seus direitos básicos, como educação, habitação, liberdade e saúde, dentre outros.
- b) a Constituição Federal brasileira não assegura e não estabelece o cumprimento dos direitos humanos para a população.
- c) a exclusão social que atinge grande parte da população brasileira não impede o cumprimento dos direitos humanos.
- d) existem diferenças de cor, de gênero e de renda entre as pessoas, por isso que os direitos humanos não podem ser assegurados.
- e) os direitos básicos da vida, como educação, saúde, habitação, liberdade e o direito de ir e vir não são considerados como direitos humanos.

### 37ª QUESTÃO

Leia o texto a seguir:

“A **produção de petróleo no Brasil** é marcada pelo aumento acelerado do desempenho nos últimos anos. Há cerca de 20 anos o petróleo brasileiro era, em sua maioria, oriundo de importações. Atualmente, o país já detém a autossuficiência do produto, ou seja, já produz o suficiente para atender ao mercado interno. (...) Entretanto, o Brasil ainda importa uma pequena parte do petróleo que produz. Isso acontece por razões econômicas e técnicas. (...) A produção de Petróleo no Brasil é realizada em nove bacias petrolíferas, das quais quatro merecem destaque: as bacias de Campos, de Santos, do Espírito Santo e do Recôncavo Baiano.”

(Disponível em: <https://mundoeducacao.uol.com.br/geografia/producao-petroleo-no-brasil>. Acesso em: 23 de jul de 2024)

A partir da leitura do texto e considerando a importância do petróleo para a economia brasileira, é CORRETO afirmar que:

- a) a região Nordeste responde por mais da metade do petróleo produzido em todo o Brasil.
- b) o petróleo só tem importância econômica no Brasil para os transportes rodoviário e ferroviário.
- c) apesar do aumento da produção do petróleo internamente, o Brasil continua a importar este produto.
- d) o Brasil é, atualmente, o maior exportador mundial de petróleo por razões técnicas e econômicas.
- e) as importações de petróleo e o aumento nos preços deste produto, não afetam a economia brasileira.

### 38ª QUESTÃO

Os problemas ambientais urbanos são situações que impactam diretamente no meio ambiente das cidades e afetam o cotidiano de suas populações. A charge abaixo faz referência a dois destes problemas.



(Disponível em: <https://www.google.com/search?q=charge+sobre+problemas+ambientais+urbano>. Acesso em 23 de jul de 2024)

Os problemas referidos na charge, relacionados com a drenagem urbana e com o consumo da população, são os seguintes:

- a) áreas verdes e chuvas ácidas.
- b) enchentes e resíduos sólidos (lixo).
- c) pavimentação de ruas e inversão térmica.
- d) ilhas de calor e poluição do ar.
- e) poluição das águas e verticalização urbana.

### 39ª QUESTÃO

Observe a imagem a seguir e em seguida leia o texto:



“No estado da Paraíba que se destaca pela resistência contra os colonizadores, existem quatro povos indígenas: os Potiguara, os Tabajara, os Cariris e os Tarairiús. No total, estima-se que 25 mil indígenas residam na Paraíba, aldeados ou não, segundo o antropólogo e professor da Universidade Federal da Paraíba (UFPB), Estevão Palitot. Segundo ele, uma maior diversidade de povos existia durante o século 18 e, antes da colonização portuguesa, a Paraíba já era habitada exclusivamente por povos indígenas.”

(Disponível em: [https://auniao.pb.gov.br/noticias/caderno\\_paraiba/paraiba-e-sinonimo-de-terra-indigena](https://auniao.pb.gov.br/noticias/caderno_paraiba/paraiba-e-sinonimo-de-terra-indigena). Acesso em: 23 de jul de 2024)

A partir deste contexto é CORRETO afirmar que:

- a) Os povos indígenas da Paraíba mantiveram sua integridade física e seus valores culturais ao longo dos últimos séculos.
- b) Os povos indígenas da Paraíba eram semelhantes, com os mesmos costumes e a mesma língua, como pode ser observado na imagem.
- c) Antes da ocupação portuguesa o atual território da Paraíba era ocupado por diversos e diferentes povos indígenas.
- d) Atualmente não mais existem remanescentes de povos indígenas que ocupavam, no passado, o atual território da Paraíba.
- e) Os povos indígenas da Paraíba não ofereceram, no passado colonial, nenhuma resistência contra a ocupação portuguesa

#### 40ª QUESTÃO

Observe a charge a seguir.



(Disponível em: <https://www.google.com/search?q=charges+sobre+internet+e+redes+sociais>. Acesso em 24 de jul de 2024)

A partir da análise da charge acima e considerando uso da internet e das redes sociais, é CORRETO afirmar que:

- a) Existem diversas redes sociais, com objetivos diferentes e com grupos de pessoas se relacionando.
- b) As redes sociais são espaços reais onde grupos de pessoas compartilham informações.
- c) A internet possibilita apenas o uso de uma rede social por pessoa, limitando a troca de informações.
- d) As atuais redes sociais virtuais já existiam antes do surgimento da internet e da invenção do celular.
- e) As redes sociais e a internet não permitem o compartilhamento de informações entre pessoas em diferentes países.