

CADERNO DE PROVA

CARGO: MÉDICO

Instruções gerais:

1. Este caderno de prova contém 40 (quarenta) questões objetivas. É de sua inteira responsabilidade conferir se o caderno de provas recebido está completo e se corresponde ao seu cargo. Caso esteja incompleto ou apresente qualquer defeito, comunique imediatamente ao fiscal de sala para que seja tomada a providência necessária para sanar o problema;
2. **ATENÇÃO:** para cada questão objetiva são apresentadas as opções A, B, C, D e apenas uma delas corresponde à alternativa correta;
3. O tempo estipulado para a realização da prova é de até **03 (três) horas**, está incluído nesse tempo o preenchimento do cartão-resposta, entrega do material e identificação do candidato;
4. Na carteira somente poderá ficar o documento de identidade e a caneta esferográfica de tinta preta, fabricada em material transparente, fica a critério do candidato a utilização de caneta de outra cor, porém, caso haja falha na leitura ótica do cartão-resposta, os pontos correspondentes às questões não lidas, não serão computados;
5. Ao receber o CARTÃO-RESPOSTA verifique se contêm a mesma quantidade de questões do Caderno de Prova, caso perceba algum problema com seu cartão-resposta, comunique imediatamente o fiscal de sala para que seja adotada a medida necessária;
6. No CARTÃO-RESPOSTA você deverá assinalar somente a alternativa que julgar correta e sem rasuras.
7. O preenchimento do cartão-resposta é de sua inteira responsabilidade, para o correto preenchimento siga às instruções contidas na parte superior do cartão, observe atentamente o número da questão antes de marcar, pois não haverá substituição do cartão- resposta que é personalizado e único.
8. Quando terminar a prova sinalize para o fiscal e aguarde ser chamado para entregar a prova, o cartão-resposta e assinar a lista de presença, caso não tenha assinado na entrada;
9. Somente depois de decorridos 1 (uma) hora do início da prova você poderá sair da sala sem levar consigo o caderno de provas;
10. Você poderá levar esse caderno de provas quando estiver faltando 30 (trinta) minutos para o encerramento da prova;
11. É proibido levantar ou comunicar com outros candidatos durante a prova;
12. É proibido anotar informações relacionadas às suas respostas da prova objetiva em qualquer outro lugar que não seja o caderno de provas;
13. Os 3 (três) últimos candidatos de cada sala só poderão ser liberados juntos;
14. O gabarito da prova objetiva será divulgado no segundo dia útil subsequente a aplicação da prova e será fixado no placar da Prefeitura e nos sites www.itame.com.br e www.mozarlandia.go.gov.br;

Informações importantes:

- ✓ Não serão aceitos recursos em desacordo com o item 14 e seguintes do edital regulamento;
 - ✓ Somente é permitida a reprodução da prova para fins didáticos, devendo ser citada a fonte.
- Boa sorte!**

1. Considerando o contexto, as palavras em destaque significam respectivamente:

Organização Mundial da Saúde (OMS), Organização Internacional do Trabalho (OIT), Ministério da Previdência Social, Justiça do Trabalho... Será que todas essas instituições estão erradas quando reforçam a importância da saúde mental no ambiente de trabalho?

Será que estão mentindo quando revelam o impacto da falta de cuidados no crescente índice de afastamento dos trabalhadores?

Será que o Centro de Pesquisa de Política Econômica da União Europeia se equivoca quando demonstra que pessoas com diagnóstico de burnout podem sofrer danos graves e duradouros em sua carreira – e as mulheres são três vezes mais **suscetíveis** a essas consequências?

Ou que as repercussões do esgotamento estendem-se à família, reduzindo o rendimento do cônjuge e até mesmo o desempenho escolar dos filhos? Será que a Constituição Federal de 1988, que garante o direito à saúde mental a todo cidadão, está **obsoleta**?

E o que dizer das perdas de quase 400 bilhões de reais por ano no Brasil devido a desafios psíquicos e emocionais, de acordo com pesquisa da Federação das Indústrias do Estado de Minas Gerais?

Dados e constatações não faltam para nos alertar que a educação em saúde mental é uma demanda urgente para enfrentar um fenômeno concreto, doloroso e caro para toda a população. Mesmo assim, onde estão os EPIs da saúde mental? Sim, equipamentos de proteção individual!

Para evitar riscos físicos, trabalhadores dispõem de capacete, bota, luva, protetor auricular etc. Inclusive há campanhas para o uso deles nas fábricas e multa para quem descumpra as regras. Mas e os riscos psicológicos?

Mesmo sentada, sem me expor a perigos visíveis, posso adoecer se **negligenciar** sinais sobre meus limites cognitivos e emocionais. Como ainda tem gente que prefere ignorar os fatos e continuar pensando como no século passado, cansei!

[...]

Mas o que seria um EPI da saúde mental? É o letramento da liderança em segurança psicológica, é a prevenção de qualquer tipo de assédio, é o direito à desconexão, é a flexibilidade de tempo e local de trabalho, é o acesso a sessões de terapia, é a possibilidade de realizar uma jornada de

autoconhecimento ou turismo interno, como chamo o processo de atualização de identidade. [...]

Izabella Camargo. Disponível em: <https://saude.abril.com.br/coluna/com-a-palavra/por-que-devemos-ter-equipamentos-de-protecao-para-a-saude-mental/>. Acesso em: 28 jun. 2024.

- (A) propensas – anacrônica – ignorar.
- (B) sensíveis – mandriã – transgredir.
- (C) itinerantes – ultrapassada – fomentar.
- (D) vulneráveis – atemporal – descuidar.

2. Leia as proposições e assinale o que estiver de acordo com o texto.

I. As mulheres diagnosticadas com burnout são três vezes mais suscetíveis a ter danos graves e duradouros em suas carreiras.

II. Os danos à saúde mental do(a) trabalhador(a) não o(a) afeta isoladamente, mas pode atingir a sua família, inclusive o desempenho escolar dos filhos.

III. EPI de saúde mental diz respeito a medidas individuais de prevenção, tratamento terapêutico após o diagnóstico e flexibilização a afastamentos temporários do ambiente tóxico de trabalho.

- (A) Estão corretas apenas I e III.
- (B) Está correta apenas a III.
- (C) Está correta apenas a II.
- (D) Estão corretas I e II.

3. Identifique a função sintática dos termos em destaque nos seguintes períodos: “...reforçam a importância **da saúde mental** no ambiente de trabalho?”; “...as mulheres são três vezes mais suscetíveis **a essas consequências**?”; “garante o direito **à saúde mental**”

- (A) complemento nominal.
- (B) objeto indireto.
- (C) objeto direto preposicionado.
- (D) adjunto adnominal.

4. No período a seguir, a oração destacada tem valor:

Ainda que não faltem dados e constatações para nos alertar, a saúde mental do trabalhador continua sendo negligenciada.

- (A) consecutivo
- (B) concessivo
- (C) condicional
- (D) causal

5. Assinale a alternativa que apresenta a justificativa correta acerca da necessidade (ou não) do acento grave para os períodos em destaque.

- I.** “Mesmo sentada, sem me expor **a** perigos visíveis”.
- II.** “...é o acesso **a** sessões de terapia”.

III. “...que garante o direito à saúde mental a todo cidadão, está obsoleta?”

(A) I e II não ocorre crase, pois apenas a preposição **a** se faz necessária em razão da regência do verbo expor e do substantivo acesso.

(B) Na proposição II, apesar de sessões ser um substantivo feminino, a palavra acesso não exige a preposição **a**.

(C) A presença da crase na proposição III se dá em razão da regência do verbo garante, que exige preposição.

(D) A proposição I apresenta uma exceção à regra de uso de crase, visto que a palavra perigos é masculina e está no plural.

6. Sobre o período: “Inclusive há campanhas para o uso deles nas fábricas e multa para quem descumpra as regras”, pode-se afirmar que:

I. *campanhas* é o sujeito do verbo haver.

II. o verbo haver é impessoal, por isso não apresenta sujeito.

III. *deles* é pronome anafórico que retoma e se refere aos equipamentos de proteção individual citados.

IV. *campanhas* é objeto direto do verbo haver.

(A) Estão corretas apenas I, II e III.

(B) Estão corretas apenas II, III e IV.

(C) Estão corretas apenas I e III.

(D) Está correta apenas a II.

7. Julgue as proposições e assinale a alternativa que apresenta a classificação correta do **se**.

I. Morre-se de fome neste país. (índice de indeterminação do sujeito).

II. Veja **se** a empresa oferece conexão de internet de qualidade. (conjunção condicional).

III. Vendem-se casas com varandas em terrenos arborizados. (partícula apassivadora)

(A) Está correta apenas a II.

(B) Está correta apenas a I.

(C) Estão corretas apenas II e III.

(D) Estão corretas apenas I e III.

8. Que função da linguagem predomina neste texto?



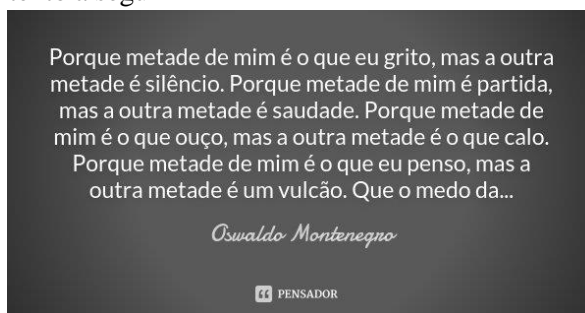
(A) metalinguística

(B) fática

(C) conativa

(D) emotiva

9. Identifique a figura de linguagem que se sobressai no texto a seguir




(A) antítese

(B) eufemismo

(C) pleonasma

(D) gradação

10. A respeito do texto abaixo, é possível inferir que:



(A) Trata-se de uma campanha publicitária com o intuito de aumentar a venda de passagens aéreas, a fim de desobstruir o trânsito nas rodovias.

(B) Trata-se de uma campanha publicitária voltada para a educação no trânsito com o propósito de diminuir o número de acidentes automobilísticos.

(C) Trata-se de uma campanha publicitária de uma companhia aérea cujo objetivo é convencer as pessoas de que o transporte aéreo é mais seguro do que o rodoviário.

(D) Trata-se de uma campanha publicitária voltada ao incentivo para melhorar as condições do transporte aéreo oferecidas ao público infantil.

11. Com a aproximação da data de realização de certo concurso para oficial de justiça, uma escola que se dedica a preparar candidatos a cargos públicos deu três aulas de revisão intensiva para seus alunos. Do total Σ de alunos, sabe-se que 80 compareceram à primeira aula, 85 à segunda e 65 compareceram à terceira aula de revisão. Dos alunos que assistiram à primeira aula, 36 não retornaram para as duas aulas seguintes, 15 retornaram apenas para a segunda e 20 compareceram às três aulas. Dos alunos que não estavam presentes na primeira aula, 30 compareceram à segunda e à terceira aulas. Com base nessas informações, se $\frac{1}{5}$ do total Σ de alunos não compareceu às aulas de revisão, o valor de Σ é:

- (A) 165
- (B) 170
- (C) 204
- (D) 230

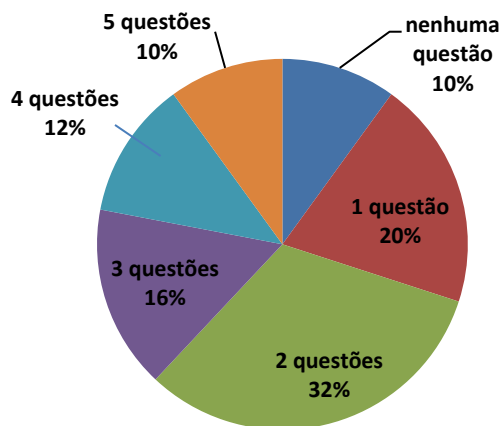
12. Considere duas caixas A e B. Na caixa A, temos 5 bolas vermelhas e 15 azuis, e na caixa B, temos 7 bolas vermelhas e 13 azuis. Se escolhermos, ao acaso, uma caixa e, em seguida, retirarmos uma bola, qual a probabilidade de que esta bola seja vermelha:

- (A) 17,5%
- (B) 20%
- (C) 27,5%
- (D) 30%

13. Lua é 6 anos mais velha que Sol. Há 2 anos, a idade de Lua era o triplo da idade de Terra e daqui a 1 ano será igual à soma das idades de Terra e Sol. A idade de Sol é:

- (A) 17 anos
- (B) 23 anos
- (C) 9 anos
- (D) 7anos

14. O gráfico abaixo mostra a porcentagem de acertos nas questões de um concurso público para agente fiscal havia 15.000 inscritos. Com base nos dados apresentados, a quantidade de candidatos que acertaram pelo menos três questões é:



- (A) 2.400
- (B) 3.300
- (C) 5.700
- (D) 6.000

15. A função real f , de variável real, dada por $f(x) = x^2 - 12x + 20$, tem valor:

- (A) mínimo igual a 16, para $x = -12$
- (B) mínimo igual a -16, para $x = 6$
- (C) máximo igual a 56, para $x = 6$
- (D) máximo igual a 72, para $x = 12$

16. Um paciente de 65 anos é trazido ao pronto-socorro com queixas de dor torácica intensa, sudorese profusa e dispneia. O exame físico revela pressão arterial de 90/60 mmHg, frequência cardíaca de 120 bpm e saturação de oxigênio de 85% em ar ambiente. O eletrocardiograma mostra supradesnivelamento do segmento ST em derivações precordiais. Qual é a conduta imediata mais adequada para este paciente, considerando o contexto de uma emergência clínica?

- (A) Administração de analgésicos opioides e observação em ambiente de emergência.
- (B) Intubação endotraqueal e ventilação mecânica imediata, independentemente da resposta respiratória.
- (C) Iniciar terapia de reperfusão com angioplastia primária ou fibrinólise, além de oxigenoterapia e monitorização hemodinâmica.
- (D) Solicitar exames laboratoriais e realizar um ecocardiograma para avaliação cardíaca detalhada.

17. Um paciente de 65 anos apresenta-se à consulta com queixas de dispneia aos esforços e fadiga progressiva. Ao exame físico, o médico nota sopro sistólico na região mitral, que irradia para a axila esquerda. Além disso, o paciente apresenta sinais de congestão pulmonar à ausculta. Qual das seguintes valvopatias é mais provável de estar presente neste paciente?

- (A) Estenose aórtica.
- (B) Insuficiência mitral.
- (C) Estenose mitral.
- (D) Insuficiência aórtica.

18. Um paciente de 55 anos, ex-tabagista, apresenta-se ao ambulatório com queixas de tosse seca persistente e dispneia progressiva nos últimos seis meses. Durante a avaliação, o exame físico revela estertores crepitantes à ausculta pulmonar, e a tomografia computadorizada de tórax de alta resolução mostra opacidades reticulares e faveolamento, que acomete principalmente as regiões pulmonares subpleurais e os lobos pulmonares inferiores. Com base nos dados apresentados, qual das seguintes condições é a mais provável?

- (A) Pneumonia bacteriana.
- (B) Fibrose pulmonar idiopática.
- (C) Asma brônquica.
- (D) Doença pulmonar obstrutiva crônica.

19. Um paciente de 68 anos com histórico de insuficiência cardíaca congestiva e tratamento com diuréticos apresenta-se ao pronto-socorro com queixas de fraqueza, confusão mental e edema periférico. Os exames laboratoriais revelam hiponatremia (sódio sérico de 130 mEq/L) e hipocalemia (potássio sérico de 3,0 mEq/L). De acordo com o exposto, qual a conduta inicial mais adequada para este paciente?

- (A) Administração imediata de solução salina hipertônica (NaCl a 3%) para correção rápida da hiponatremia.
- (B) Restrição de fluidos e administração de potássio via intravenosa para correção da hipocalemia.
- (C) Início de terapia com diuréticos poupadores de potássio e correção gradual da hiponatremia com solução salina isotônica (NaCl a 0,9%).
- (D) Monitorização clínica e laboratorial sem intervenção imediata, uma vez que a hiponatremia é leve.

20. Um paciente de 60 anos, hipertenso e diabético, apresenta-se ao pronto-socorro com queixas de náuseas, vômitos e confusão mental. Os exames laboratoriais mostram os seguintes resultados: pH arterial de 7,28, PaCO₂ de 50 mmHg e HCO₃⁻ de 22 mEq/L. Com base nesses dados, qual é o distúrbio acidobásico mais provável deste paciente?

- (A) Acidose respiratória aguda.
- (B) Alcalose metabólica.
- (C) Acidose metabólica.
- (D) Alcalose respiratória.

21. Um paciente de 25 anos apresenta-se com queixas de diarreia sanguinolenta, dor abdominal e febre. Após avaliação clínica e exames laboratoriais, o diagnóstico de colite ulcerativa é confirmado. Considerando o manejo da colite ulcerativa, qual das seguintes alternativas é a mais apropriada?

- (A) O tratamento de primeira linha geralmente inclui 5-aminossalicilatos (5-ASA) como mesalazina.
- (B) A terapia com corticosteroides deve ser a primeira opção em todos os casos, independentemente da gravidade.
- (C) A cirurgia é sempre necessária em todos os pacientes diagnosticados com colite ulcerativa.
- (D) A colite ulcerativa não requer acompanhamento regular após o diagnóstico inicial.

22. Um paciente de 12 anos apresenta-se com febre, artralgia, eritema marginado e um histórico recente de faringite. Após a avaliação, o médico suspeita de febre reumática. Considerando os critérios de Jones para o diagnóstico, qual das seguintes combinações de manifestações clínicas é mais indicativa de febre reumática?

- (A) Artrite, cardite e movimentos coreicos.
- (B) Artralgia, eritema marginado e febre.
- (C) Cardite, síncope e mialgia.
- (D) Eritema nodoso, artralgia e febre.

23. Um paciente de 45 anos, portador de diabetes mellitus tipo 2, apresenta-se com queixas de dor, formigamento e fraqueza nos membros inferiores. Após a avaliação clínica, o médico suspeita de polineuropatia diabética. Considerando a abordagem diagnóstica e terapêutica recomendada, qual das seguintes afirmações é verdadeira?

- (A) A eletromiografia (EMG) é o exame de escolha para o diagnóstico de polineuropatia diabética.
- (B) O tratamento inicial deve ser exclusivamente sintomático, sem consideração das causas subjacentes.
- (C) O controle rigoroso da glicemia pode ajudar a prevenir a progressão da polineuropatia.
- (D) A polineuropatia diabética não está associada a complicações cardiovasculares.

24. Durante o processo de construção do Sistema Único de Saúde (SUS), qual dos seguintes eventos ou documentos foi fundamental para a consolidação de um sistema de saúde pública no Brasil?

- (A) A criação da carteira de vacinação obrigatória em 1973.
- (B) O movimento da Reforma Sanitária, que ocorreu nos anos 1970 e 1980, enfatizando a saúde como um direito.

(C) A implementação do Programa Saúde da Família em 1994.

(D) A privatização total do sistema de saúde na década de 1990.

25. Em relação às bases legais e às diretrizes do Sistema Único de Saúde (SUS), considere as seguintes afirmações:

I. A Constituição Federal de 1988 estabelece que a saúde é um direito de todos e um dever do Estado, mas não define a responsabilidade dos municípios na prestação dos serviços de saúde.

II. A Lei 8.080/1990 estabelece princípios fundamentais do SUS, incluindo a descentralização e a participação da comunidade na gestão da saúde.

III. A Lei 8.142/1990 é a principal norma que regulamenta a relação entre os entes federativos e a responsabilidade pelo financiamento do SUS.

Qual das alternativas abaixo contém as afirmações corretas?

(A) Apenas I.

(B) Apenas II e III.

(C) Apenas I e III.

(D) Apenas II e III.

26. Na prática médica contemporânea, a ética e a bioética desempenham papéis fundamentais na tomada de decisões. Considere as seguintes afirmações sobre princípios éticos e bioéticos na medicina:

I. O princípio da autonomia enfatiza o direito do paciente de tomar decisões informadas sobre seu tratamento, independentemente da opinião do médico.

II. O princípio da beneficência prioriza a promoção do bem-estar do paciente, podendo justificar intervenções mesmo sem o seu consentimento.

III. O princípio da não maleficência é diretamente oposto ao princípio da beneficência, permitindo ações que causem dano ao paciente em certas circunstâncias.

Qual das alternativas abaixo apresenta a interpretação correta dos princípios éticos mencionados?

(A) Apenas I e II estão corretas.

(B) Apenas II e III estão corretas.

(C) Apenas I e III estão corretas.

(D) Apenas I e II estão corretas.

27. Durante uma epidemia de gripe em uma determinada região, as autoridades de saúde pública implementam medidas de vigilância epidemiológica para monitorar a propagação da doença. Sobre a Vigilância Epidemiológica, assinale a alternativa correta:

(A) A vigilância epidemiológica é limitada apenas ao registro de casos notificados e não inclui ações de controle ou prevenção.

(B) O foco da vigilância epidemiológica é apenas a coleta de dados clínicos, desconsiderando fatores sociais e ambientais que podem influenciar a propagação de doenças.

(C) A vigilância ativa consiste apenas na análise dos dados coletados, sem a necessidade de contato direto com a população.

(D) A vigilância epidemiológica deve integrar dados de diferentes fontes, incluindo informações clínicas, sociais e ambientais, para uma compreensão abrangente da epidemia.

28. Maria, 35 anos, mãe solteira de dois filhos, trabalha como empregada doméstica em uma área urbana de uma grande cidade. Ela apresenta queixas frequentes de dor nas costas e fadiga intensa, que se agravam ao final do dia. Ao longo da consulta, Maria menciona que vive em uma habitação pequena, sem ventilação adequada, e que muitas vezes não consegue arcar com os custos de transporte para ir ao trabalho ou às consultas médicas. Além disso, ela relata dificuldades em acessar alimentos saudáveis devido ao alto custo e à falta de opções em sua vizinhança. Considerando os determinantes sociais da saúde que afetam a saúde de Maria, qual das alternativas abaixo é a mais correta?

(A) O principal determinante da saúde de Maria é a genética, pois sua família tem histórico de problemas de coluna.

(B) Os fatores socioeconômicos, como a baixa renda e a falta de acesso a serviços de saúde, têm um impacto significativo na saúde de Maria.

(C) O ambiente físico onde Maria vive não tem influência sobre sua saúde, pois ela deve manter um estilo de vida saudável independentemente das condições.

(D) A saúde de Maria é afetada principalmente pela falta de informação sobre saúde e nutrição, uma vez que ela não lê jornais ou revistas.

29. O Sistema de Informação da Atenção Básica (SIAB) desempenha um papel crucial na gestão da saúde pública no Brasil. Considerando as funcionalidades e a importância do SIAB, analise as seguintes afirmações:

I. O SIAB é uma plataforma que possibilita o registro das atividades desenvolvidas pelas equipes de saúde da família, incluindo consultas, procedimentos e ações de promoção da saúde.

II. O sistema foi desenvolvido apenas para a coleta de dados quantitativos, sem considerar a análise qualitativa

das informações sobre as condições de saúde da população atendida.

III. A integração do SIAB com outros sistemas de informação, como o Sistema de Informação da Atenção Especializada (SIAE), é fundamental para a continuidade do cuidado e para a elaboração de políticas públicas mais eficazes.

IV. O SIAB não permite a utilização de dados em tempo real, o que dificulta a gestão e o monitoramento das ações de saúde pelas equipes.

Qual das alternativas abaixo apresenta as afirmações corretas?

- (A) Apenas I e II estão corretas.
- (B) Apenas II e IV estão corretas.
- (C) Apenas I e III estão corretas.
- (D) Apenas I e III estão corretas.

30. Uma cidade com uma população total de 100.000 habitantes registrou 250 novos casos de tuberculose em um ano. Considerando esses dados, calcule a taxa de incidência de tuberculose na cidade para o ano e assinale a alternativa correta:

- (A) 0,25 por 100 habitantes.
- (B) 0,50 por 1.000 habitantes.
- (C) 2,5 por 100 habitantes.
- (D) 2,5 por 1.000 habitantes.

31. Durante um surto de gastroenterite viral em uma região, foram notificados 1.000 casos confirmados da doença. Desses, 80 pacientes foram internados em unidades de terapia intensiva (UTI) e 20 deles vieram a óbito. Considerando esses dados, qual é a taxa de letalidade dessa gastroenterite entre os pacientes que foram internados na UTI?

- (A) 5%.
- (B) 8%.
- (C) 10%.
- (D) 25%.

32. Marque a alternativa **incorreta**.

Segundo o artigo 60 da Lei Orgânica de Mozarlândia, perde o mandato o Prefeito que:

- (A) Assumir outro cargo ou função na administração pública direta ou indireta, ressalvada a posse em virtude do concurso público.
- (B) Ausentar-se do Município por período superior a quinze dias.
- (C) Contrair empréstimos e realizar operações de créditos sem prévia autorização da Câmara.
- (D) desempenhar função de administração em qualquer empresa privada.

33. A publicidade das leis e atos municipais far-se-ão em órgãos da imprensa local ou regional ou por afixação na sede da Prefeitura ou da Câmara Municipal. A escolha do órgão da imprensa para a divulgação das leis e atos administrativos far-se-á, através de:

- (A) contratação direta.
- (B) licitação, em que se levarão em conta não só as condições de preços, como as circunstâncias de frequência, horário, tiragem e distribuição.
- (C) voto popular, com o intuito de escolher o órgão da imprensa mais consumido pelo povo.
- (D) voto popular, levando em conta apenas as condições de preço.

34. A competência comum, também chamada de competência administrativa, é atribuída a todos os entes federativos, sem exceção: À União, aos Estados, ao DF e aos Municípios. Leis complementares fixarão normas para a cooperação entre os entes federativos, tendo em vista o equilíbrio do desenvolvimento e do bem-estar no âmbito nacional.

Dito isso, conforme o artigo 11 da Lei Orgânica de Mozarlândia, é competência do município em comum com a União e o Estado:

- (A) conceder alvará para exercício de atividade profissional liberal.
- (B) autorizar e fiscalizar as edificações, bem como as obras de conservação, modificação ou demolição que nelas devam ser efetuadas.
- (C) abrir, arborizar, conservar, melhorar e pavimentar as vias públicas.
- (D) registrar, acompanhar e fiscalizar as concessões de direitos de pesquisa e exploração de recursos hídricos e minerais em seu território.

35. Analise as assertivas abaixo e marque a alternativa correta.

O servidor nomeado para cargo de provimento efetivo em virtude de aprovação em concurso público, ficará submetido à estágio probatório, pelo período de 3 (três) anos, a contar da entrada em exercício, durante o qual sua aptidão e capacidade serão objetos de avaliação para o desempenho do cargo.

Desse modo, o servidor público estável só perderá o cargo:

- I.** em virtude de sentença judicial transitada em julgado;
- II.** mediante processo administrativo em que lhe seja assegurada ampla defesa;
- III.** mediante procedimento de avaliação periódica de desempenho, na forma da lei complementar, assegurada ampla defesa;
- IV.** para corte de despesas com pessoal, na forma prevista na Constituição Federal;

- (A) Apenas os itens I, II e III estão corretos.
- (B) Apenas os itens I, III e IV estão corretos.
- (C) Apenas os itens II e III estão corretos.
- (D) Os itens I, II, III e IV estão corretos.

36. No Microsoft Word 2007, qual recurso específico é utilizado para aplicar um espaçamento duplo entre as linhas do texto?

- (A) Opção "Formatação Condicional" na guia de Revisão.
- (B) Comando "Espaço 2,0" na barra de ferramentas de formatação de parágrafos.
- (C) Configuração "Intervalo Antes" na guia de Layout da Página.
- (D) Botão "Recuos" disponível na guia de Exibição.

37. Ao pressionar SHIFT+F11 no Microsoft Excel 2007:

- (A) Insere uma nova planilha.
- (B) Amplia a janela para modo tela cheia.
- (C) Abre a janela de impressão.
- (D) Abre a autoajuda do Microsoft Excel.

38. Durante o processo de colonização do território brasileiro, o principal objetivo da Coroa Portuguesa era, por meio de uma vinculação econômica com a nova colônia, maximizar o acúmulo de riquezas e, assim, consolidar seus propósitos mercantilistas. A relação de dominação mais marcante estabelecida entre a metrópole e a colônia foi a imposição da obrigatoriedade e exclusividade de que a colônia só pudesse comercializar com a metrópole, prática conhecida como:

- (A) Tratado de Transatlântico.
- (B) Livre-comércio metropolitano.
- (C) Pacto Colonial.
- (D) Sistema feitorial.

39. Sobre os dados populacionais do município de Mozarlândia (GO), de acordo com o censo de 2022 realizado pelo IBGE (Instituto Brasileiro de Geografia e Estatística), é correto afirmar que:

- (A) Sua população estimada está entre 15 mil e 16 mil pessoas, com densidade demográfica superior a 8 habitantes por km².
- (B) Sua população estimada está entre 14 mil e 15 mil pessoas, com densidade demográfica superior a 7 habitantes por km².
- (C) Sua população estimada está entre 13 mil e 14 mil pessoas, com densidade demográfica superior a 9 habitantes por km².

(D) Sua população estimada está entre 12 mil e 13 mil pessoas, com densidade demográfica superior a 9 habitantes por km².

40. “Ministros do turismo dos países membros do G20 estão em Belém, para discutir os desafios e oportunidades no Turismo global. A realização deste encontro na capital paraense consolida Belém como um importante centro de debates sobre o Turismo Internacional no ano que antecede a realização da 30ª Conferência das Nações Unidas sobre as Mudanças Climáticas (COP30), o maior evento climático do planeta, organizado pela ONU e com a participação de representantes de 190 países, em novembro de 2025.

(texto adaptado de: <https://agenciapara.com.br/noticia/59802>)

A notícia apresentada anteriormente faz referência ao grupo G20, uma importante organização mundial cujas principais características são:

- (A) A participação dos 20 principais países da América Latina, sob a coordenação da ONU, para discutir crises ambientais e climáticas.
- (B) A rotatividade dos países membros a cada 4 anos, abordando questões focadas na solução de crises ambientais e na sustentabilidade mundial.
- (C) A reunião das 20 principais empresas e cooperativas mundiais, que promovem o livre comércio e a globalização econômica de forma sustentável.
- (D) A cooperação internacional com o objetivo de debater temas relevantes relacionados à estabilidade econômica global.