

CARGO:

ANALISTA LEGISLATIVO DE ARTICULAÇÃO E PLANEJAMENTO

INSTRUÇÕES

1. Verifique se este caderno contém 40 questões sem rasuras ou falhas.
2. A duração total da prova é de 4 horas.
3. Verifique no cartão-resposta se seu nome, número de inscrição e número de documento de identidade estão corretos.
4. Para cada uma das questões você deve marcar somente uma das alternativas.
5. Será anulada a resposta que contiver emenda, rasura, ou ainda, a que apresentar mais de uma alternativa assinalada no cartão- resposta.
6. Ao marcar o cartão-resposta, use caneta esferográfica azul ou preta.

PROVA DIA 13.10.2024
HORÁRIO: 08h00min às 12h00min

Câmara Municipal de
Arcoverde - PE

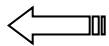
FUNVAPI
Fundação Vale do Piauí

ATENÇÃO

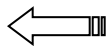
INFORMAÇÕES SOBRE O CARTÃO RESPOSTA

Fundação
Vale do Piauí

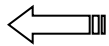
INSCRIÇÃO											
0	1	2	3	4	5	6	7	8	9		
0	1	2	3	4	5	6	7	8	9		
0	1	2	3	4	5	6	7	8	9		
0	1	2	3	4	5	6	7	8	9		
0	1	2	3	4	5	6	7	8	9		
0	1	2	3	4	5	6	7	8	9		
CARGO											
0	1	2	3	4	5	6	7	8	9		
0	1	2	3	4	5	6	7	8	9		
0	1	2	3	4	5	6	7	8	9		
RESPOSTAS											
01		B	C	D	E	31		B	C	D	E
02	A		C	D	E	32	A		C	D	E
03	A	B		D	E	33	A	B		D	E
04	A	B	C		E	34	A	B	C		E
05	A	B	C	D		35	A	B	C	D	
06	A	B	C	D		36	A	B	C	D	
07	A	B	C		E	37	A	B	C		E
08	A	B		D	E	38	A	B		D	E
09	A		C	D	E	39	A		C	D	E
10		B	C	D	E	40		B	C	D	E
11	A	B	C	D	E	41	A	B	C	D	E



Não marque nesta área da inscrição, pois seu cartão-resposta será anulado.



Não marque nesta área da especificação da prova, pois seu cartão-resposta será anulado.



Marque somente nesta área as respostas do seu cartão.

Obs. Preencha completamente o quadro de resposta como no exemplo, para que as respostas sejam validadas.

Língua Portuguesa

Texto para as questões 01 e 02.

Capoeira

Gustavo Pereira Côrtes

Dança, luta ou jogo de origem negra, foi introduzida no Brasil pelos escravos bantos de Angola, tendo-se difundido com grande intensidade no Nordeste do Brasil, especialmente nas capitanias da Bahia e de Pernambuco, durante o período colonial. Marcada por movimentos que imitavam animais, era utilizada como instrumento de defesa pessoal. Seu nome se refere às antigas roças, conhecidas por capoeiras, onde os negros realizavam seus treinos. Após a abolição, a capoeira foi marginalizada, sendo reprimida pela polícia da época.

Em Recife e também no Rio de Janeiro, não há um estilo sincronizado, sendo considerada um jogo de rua, uma malandragem. Na Bahia, assume um caráter especial, uma vez que é marcada pela presença de cantigas de roda e pelo uso de berimbaus e pandeiros, o que lhe confere um aspecto amigável e menos ofensivo.

Atualmente, vulgarizou-se e pode ser encontrada em todo o país, relacionada a atividades ligadas ao esporte e à educação. A indumentária é simples, com calças largas e cordões amarrados na cintura, que indicam o estágio no qual o participante se insere.

1. No trecho:

“Seu nome se refere às antigas roças, conhecidas por capoeiras, onde os negros realizavam seus treinos.”

Como se classificam morfologicamente as palavras acima destacadas, respectivamente?

- a) pronome – substantivo – preposição
- b) preposição – substantivo – pronome
- c) conjunção – substantivo – adjunto adnominal
- d) pronome – substantivo – verbo

2. Em:

Seu nome se refere às antigas roças, conhecidas por capoeiras, onde os negros realizavam seus treinos.

Como se classificam sintaticamente os termos em destaque, respectivamente?

- a) pronome possessivo – adjetivo
- b) pronome substantivo – adjetivo
- c) adjunto adnominal – adjunto adnominal
- d) adjunto adverbial – adjunto adverbial

3. Assinale a alternativa em que o emprego da METONÍMA se faz presente.

- a) “O bonde passa cheio de pernas.” (Carlos Drummond de Andrade)
- b) “A chuva caía como lágrimas de um céu entristecido.” (Alberto Caetano)
- c) “O Brasil é novo, é um país pivete.” (Abel Silva)
- d) A Cidade Maravilhosa é famosa por sua beleza natural e pelo seu carnaval.

4. Leia:

*“Usei a cara da lua
As asas do vento
Os braços do mar
O pé da montanha”*

(Ronaldo Tapajós e Renato Rocha)

Nos versos acima há um mesmo tipo de figura de linguagem. Identifique-a.

- a) sinestesia
- b) catacrese
- c) eufemismo
- d) ironia

5. Assinale a alternativa em que ocorre um pleonasmio vicioso.

- a) Na boca dela estava a marca da agressão que sofrera.
- b) Ele é um bom ator. Na última peça, ele fez um monólogo sozinho.
- c) Paguei dez reais por cada caderno.
- d) O pião parou próximo à porta.

6. Há um ERRO de colocação pronominal em:

- a) Não o verei amanhã.
- b) Talvez o veja ainda hoje.
- c) Emprésteme um livro?
- d) Aquilo entristeceu-me.

7. Todas as frases a seguir estão incorretas quanto à regência verbal, **EXCETO**.

- a) Você precisa ir em Recife.
- b) Na carroceria, aspirávamos o pó levantado pelo caminhão.
- c) O povo aspira uma sociedade mais justa.
- d) O atirador sempre visava a um mesmo ponto.

8. Identifique a frase em que o verbo em destaque está no pretérito imperfeito do indicativo.

- a) O professor **escreveu** bastante no quadro.
- b) Minha vizinha **falou** muito ontem à noite.
- c) A linda garota **brincava** antigamente na calçada.
- d) Minha mãe **estivera** na igreja quando tudo aconteceu.

9. Assinale a alternativa em que o termo em destaque está classificado de forma INCORRETA.

- a) A lembrança **do passado** martelava-lhe na cabeça. (complemento nominal)
- b) enviamos lindos **presentes** às crianças. (objeto indireto)
- c) Bia gosta **de cores fortes**. (objeto indireto)
- d) Os alunos assistiram **à peça de teatro**. (objeto indireto)

10. Leia as palavras a seguir.

EMPOBRECER - BUROCRACIA - INQUIETO

Nessas palavras temos, respectivamente, os seguintes processos de formação de palavras:

- a) hibridismo, parassíntese, hibridismo
- b) justaposição, prefixação, parassíntese
- c) parassíntese, hibridismo, prefixação
- d) aglutinação, justaposição, sufixação

Raciocínio Lógico

11. Analise a seguinte sequência de numerais:

(012345678012345678012345678...012345678012345678...)

Qual alternativa apresenta corretamente o numeral que ocupará a posição n° 200201 dessa sequência?

- a) 2
- b) 3
- c) 4
- d) 5

12. Todo fim de semana acontece a rifa da “fafá”. Sabendo que os pontos de sua rifa são numerados de 1 a 200. No sorteio desse fim de semana qual a probabilidade de o número sorteado ser um divisor de 40?

- a) $\frac{1}{25}$
- b) $\frac{1}{50}$
- c) $\frac{6}{50}$
- d) $\frac{2}{25}$

13. O prefeito de Taperoá-PB dispõe de 10 médicos e 7 enfermeiros para formar uma comissão na área de saúde. Quantas comissões poderão ser formadas se deve ser composta por 4 médicos e 4 enfermeiros?

- a) 245
- b) 630
- c) 1050
- d) 7350

14. Dada a sequência: (1, 4, 9, 16, 25, 36, ...), obedecendo ao padrão de formação da sequência numérica, qual é o nono termo?

- a) 49
- b) 64
- c) 81
- d) 100

15. Quantos anagramas que começam com a letra T e termina com a letra Z podemos formar com a palavra DIRETRIZES?

- a) 5050
- b) 5040
- c) 4840
- d) 1680

16. Na empresa “Meu bem querer”, sabe-se que 70% dos funcionários falam espanhol, 48% falam inglês e 22% deles não falam nenhuma daquelas línguas. Se exatamente 64 funcionários falam espanhol e inglês, podemos concluir que o número de funcionários dessa empresa é:

- a) 160
- b) 165
- c) 170
- d) 175

17. Assinale a opção que apresenta corretamente a quantidade de linhas da proposição composta dada por: $(\sim P \rightarrow Q) \wedge (R \rightarrow S) \leftrightarrow (\sim T)$.

- a) 64
- b) 32
- c) 16
- d) 8

18. Considerando todas as possíveis valorações V ou F das proposições simples P, Q e R, Qual a quantidade de valorações V na tabela-verdade da proposição composta:

$(\sim P \wedge Q) \rightarrow (R)$?

- a) 1
- b) 2
- c) 4
- d) 7

19. Sabe-se que em uma urna há 4 bolas vermelhas, 8 bolas pretas e 6 bolas amarelas. Uma bola é extraída ao acaso. Qual a probabilidade dessa bola extraída ser preta ou amarela?

- a) 7/9
- b) 7/18
- c) 9/18
- d) 13/9

20. Uma urna contém bolas numeradas de 1 a 30. Ao retirar uma bola dessa urna, qual a probabilidade dessa bola possuir um número múltiplo de 3?

- a) 1
- b) 1/2
- c) 1/3
- d) 1/4

Conhecimentos Específicos

21. No contexto das escolas de planejamento estratégico, qual é a principal premissa da Escola Ambiental?

- a) A organização controla totalmente seu ambiente externo.
- b) A estratégia deve ser planejada rigidamente sem considerar o ambiente.
- c) A estratégia é um processo emergente influenciado por fatores externos.
- d) O ambiente é irrelevante para a formulação da estratégia.

22. A padronização de processos em uma organização visa principalmente:

- a) Aumentar a eficiência operacional e consistência.
- b) Reduzir a criatividade dos funcionários.
- c) Eliminar a necessidade de treinamento.
- d) Personalizar produtos para clientes individuais.

23. Qual é o principal objetivo do planejamento institucional em organizações públicas?

- a) Maximizar os lucros dos acionistas.
- b) Expandir a participação no mercado internacional.
- c) Reduzir a interferência governamental nos negócios.
- d) Atender às demandas sociais e promover o bem comum.

24. A gestão de processos organizacionais envolve várias etapas. Qual das seguintes é essencial para a melhoria contínua?

- a) Ignorar feedback dos clientes.
- b) Estabelecer indicadores de desempenho claros.
- c) Evitar mudanças nos processos estabelecidos.
- d) Centralizar todas as decisões na alta gerência.

25. Segundo a Escola Empreendedora de estratégia, o sucesso estratégico depende principalmente de:

- a) Processos burocráticos rigorosos.
- b) Consenso entre todos os funcionários.
- c) Análise detalhada de dados históricos.
- d) Visão e liderança do principal executivo.

26. No planejamento estratégico, a técnica de benchmarking é utilizada para:

- a) Definir preços competitivos no mercado.
- b) Avaliar a satisfação dos funcionários internamente.
- c) Estabelecer políticas internas de recursos humanos.
- d) Comparar o desempenho da organização com os melhores do setor.

27. Em relação à gestão de processos, o mapeamento de processos serve para:

- a) Eliminar etapas desnecessárias sem documentá-las.
- b) Substituir a necessidade de treinamento dos funcionários.
- c) Visualizar e compreender as etapas envolvidas em um processo.
- d) Automatizar processos sem análise prévia.

28. A abordagem de *Balanced Scorecard* inclui várias perspectivas. Qual das seguintes NÃO é uma dessas perspectivas tradicionais?
- a) Sustentabilidade Ambiental.
 - b) Financeira.
 - c) Clientes.
 - d) Inovação e Aprendizado.
29. No contexto de modelos de gestão, o que diferencia uma organização orgânica de uma mecânica?
- a) A organização mecânica é mais flexível e adaptável.
 - b) A organização orgânica tem estruturas rígidas e hierárquicas.
 - c) A organização orgânica promove comunicação horizontal e flexibilidade.
 - d) A organização mecânica incentiva a inovação e a criatividade.
30. Qual é a importância da visão organizacional no planejamento estratégico?
- a) Orienta a direção futura desejada pela organização.
 - b) Define metas de curto prazo sem considerar o futuro.
 - c) É um documento confidencial não compartilhado com os funcionários.
 - d) Serve apenas para fins de marketing externo.
31. A gestão estratégica de recursos humanos visa principalmente:
- a) Reduzir custos eliminando benefícios dos funcionários.
 - b) Centralizar todas as decisões de pessoal na alta gerência.
 - c) Evitar investimentos em treinamento e desenvolvimento.
 - d) Alinhar as políticas de RH com a estratégia organizacional.
32. Qual é o papel da cultura organizacional no planejamento estratégico?
- a) Pode atuar como facilitadora ou barreira para a mudança estratégica.
 - b) É irrelevante e não afeta a implementação da estratégia.
 - c) Deve ser substituída por culturas estrangeiras de sucesso.
 - d) É fixa e não pode ser alterada.
33. Qual das seguintes é uma característica de uma organização orientada para processos?
- a) Foco nas funções individuais ao invés do fluxo de trabalho.
 - b) Ênfase na satisfação do cliente e na eficiência dos processos.
 - c) Hierarquias rígidas e comunicação vertical.
 - d) Baixa adaptabilidade a mudanças.
34. O planejamento estratégico situacional difere do tradicional por:
- a) Não considerar as variáveis externas.
 - b) Ser linear e seguir etapas fixas.
 - c) Ignorar a participação dos stakeholders.
 - d) Adaptar-se às mudanças e focar na resolução de problemas concretos.

35. No contexto de indicadores de desempenho, a eficiência refere-se a:

- a) Fazer as coisas certas.
- b) Alcançar os objetivos independentemente dos recursos usados.
- c) Relação entre os recursos utilizados e os resultados alcançados.
- d) Satisfação dos acionistas.

36. Uma organização pública está enfrentando desafios em alinhar seus processos internos com as demandas crescentes da sociedade por serviços mais eficientes e transparentes. Considerando os conceitos de gestão de processos organizacionais e cadeia de valor em organizações públicas, qual abordagem seria mais adequada para abordar esse desafio?

- a) Implementar uma estrutura hierárquica rígida para controlar melhor os processos.
- b) Realizar uma reengenharia de processos focada na eliminação de atividades que não agregam valor ao cidadão.
- c) Aumentar o número de funcionários para atender às demandas sem alterar os processos existentes.
- d) Centralizar todas as decisões na alta administração para garantir uniformidade.

37. Considerando a cadeia de valor em organizações públicas, como a tecnologia pode ser utilizada para agregar valor aos serviços prestados ao cidadão?

- a) Automatizando processos sem considerar a usabilidade para o usuário final.
- b) Implementando sistemas tecnológicos que aumentam a transparência e acessibilidade dos serviços.
- c) Investindo em tecnologia apenas nas áreas administrativas internas.
- d) Utilizando tecnologia para reduzir o contato entre cidadãos e servidores públicos.

38. Uma empresa está considerando adotar uma estratégia de diversificação relacionada para expandir seus negócios. Com base nos fundamentos de estratégia, qual dos seguintes riscos ela deve considerar ao implementar essa estratégia?

- a) A falta de sinergia entre as unidades de negócio pode levar à ineficiência operacional.
- b) A concentração excessiva em um único mercado pode aumentar a vulnerabilidade a flutuações.
- c) A dificuldade em manter uma cultura organizacional unificada pode ser negligenciada.
- d) A entrada em mercados não relacionados pode diluir a marca e confundir os clientes.

39. Uma organização percebe que seus processos estão lentos devido a burocracias internas e hierarquias rígidas. Com base nos modelos de gestão e estruturas organizacionais, qual seria uma solução adequada para aumentar a agilidade e eficiência?

- a) Manter a estrutura atual, mas aumentar a pressão por resultados.
- b) Adotar uma estrutura matricial ou horizontal que promova maior colaboração e flexibilidade.
- c) Eliminar níveis hierárquicos sem redefinir responsabilidades.
- d) Implementar tecnologia sem alterar os processos existentes.

40. Uma empresa opta por utilizar a abordagem de gestão por processos para melhorar seu desempenho. Durante a implementação, percebe que algumas áreas resistem às mudanças propostas. Qual seria a melhor estratégia para lidar com essa resistência?

- a) Ignorar a resistência e seguir com a implementação conforme planejado.
- b) Punir as áreas resistentes para evitar futuros conflitos.
- c) Comunicar claramente os benefícios, envolver as partes impactadas e fornecer suporte durante a transição.
- d) Abandonar a iniciativa de gestão por processos para evitar problemas.