

CARGO:

**ASSISTENTE LEGISLATIVO TÉCNICO/
AUXILIAR DE CONTROLE INTERNO**

INSTRUÇÕES

1. Verifique se este caderno contém 40 questões sem rasuras ou falhas.
2. A duração total da prova é de 4 horas.
3. Verifique no cartão-resposta se seu nome, número de inscrição e número de documento de identidade estão corretos.
4. Para cada uma das questões você deve marcar somente uma das alternativas.
5. Será anulada a resposta que contiver emenda, rasura, ou ainda, a que apresentar mais de uma alternativa assinalada no cartão- resposta.
6. Ao marcar o cartão-resposta, use caneta esferográfica azul ou preta.

PROVA DIA 13.10.2024
HORÁRIO: 08h00min às 12h00min

**Câmara Municipal de
Arcoverde - PE**

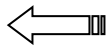
FUNVAPI
Fundação Vale do Piauí

ATENÇÃO


INFORMAÇÕES SOBRE O CARTÃO RESPOSTA

Fundação
Vale do Piauí

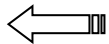
INSCRIÇÃO											
0	1	2	3	4	5	6	7	8	9		
0	1	2	3	4	5	6	7	8	9		
0	1	2	3	4	5	6	7	8	9		
0	1	2	3	4	5	6	7	8	9		
0	1	2	3	4	5	6	7	8	9		
0	1	2	3	4	5	6	7	8	9		
CARGO											
0	1	2	3	4	5	6	7	8	9		
0	1	2	3	4	5	6	7	8	9		
0	1	2	3	4	5	6	7	8	9		
RESPOSTAS											
01		B	C	D	E	31		B	C	D	E
02	A		C	D	E	32	A		C	D	E
03	A	B		D	E	33	A	B		D	E
04	A	B	C		E	34	A	B	C		E
05	A	B	C	D		35	A	B	C	D	
06	A	B	C	D		36	A	B	C	D	
07	A	B	C		E	37	A	B	C		E
08	A	B		D	E	38	A	B		D	E
09	A		C	D	E	39	A		C	D	E
10		B	C	D	E	40		B	C	D	E
11	A	B	C	D	E	41	A	B	C	D	E



Não marque nesta área da inscrição, pois seu cartão-resposta será anulado.



Não marque nesta área da especificação da prova, pois seu cartão-resposta será anulado.



Marque somente nesta área as respostas do seu cartão.

Obs. Preencha completamente o quadro de resposta como no exemplo, para que as respostas sejam validadas.

Leia o texto a seguir para responder às questões de **01 a 03**.

Trabalho de detetive

Um dos maiores físicos do século XX, Albert Einstein, comparou o trabalho de um cientista ao trabalho de um detetive.

“Em quase todo romance policial, chega um momento em que o investigador já coletou todos os fatos de que necessita para solucionar pelo menos uma das etapas de seu problema. Esses fatos parecem frequentemente estranhos e incoerentes, inteiramente sem relação entre si. Contudo, o grande detetive percebe não serem necessárias mais investigações no momento e que somente o raciocínio o levará a correlacionar os fatos coletados. Então, ele toca o seu violino ou descansa na sua poltrona, deliciando-se com seu cachimbo, quando, de repente, lhe ocorre a solução. E não somente tem a explicação para os indícios que dispunha, mas também sabe que outros acontecimentos devem ter ocorrido. Sabendo agora exatamente onde buscar o que deseja, poderá, se quiser, coletar mais dados para a confirmação de sua teoria.

O cientista, lendo o livro da natureza, se nos permitem repetir esse lugar-comum, deve obter a solução por si, porque ele não pode, como fazem os leitores impacientes de outras histórias, ir logo ao final do livro. Em nosso caso, o leitor é também o investigador, procurando explicar, pelo menos em parte, as relações entre os acontecimentos em sua forma mais completa. Para obter uma solução, mesmo parcial, o cientista tem de coletar os fatos desordenados disponíveis e, por meio do seu pensamento criador, torná-los coerentes e inteligíveis.”

Einstein, Albert & I. Infeld: *The evolution of Physics*. Nova York: Simon and Schuster, 1952. p.4.

1. No trecho:

“Um dos maiores físicos do século XX, Albert Einstein, comparou o trabalho de um cientista ao trabalho de um detetive.”

O termo em destaque classifica-se morfológicamente como sendo:

- a) verbo
- b) substantivo
- c) sujeito
- d) adjunto adverbial

2. Em:

“Um dos maiores físicos do século XX, Albert Einstein, comparou o trabalho de um cientista ao trabalho de um detetive.”

A forma verbal destacada está no:

- a) futuro do pretérito do indicativo
- b) pretérito perfeito do indicativo
- c) pretérito imperfeito do indicativo
- d) pretérito mais-que-perfeito do indicativo

3. Assinale a alternativa em que o termo em destaque é conjunção.

- a) Nada mais há **entre** mim e você.
- b) Eu **a** vi ontem à noite no escritório.
- c) Minha prima estudou bastante, **mas** não foi aprovada no concurso.
- d) Meu pai falou **com** ele sobre o empréstimo.

4. Na frase:

Meu vizinho é **paraibano**.

O termo em destaque se classifica morfologicamente como sendo:

- a) adjetivo superlativo
- b) substantivo pátrio
- c) advérbio de lugar
- d) adjetivo pátrio

5. Na frase:

“Não parei de chorar desde **a** sua partida”

Como se classifica morfologicamente o termo acima em destaque?

- a) artigo definido
- b) pronome oblíquo
- c) preposição
- d) adjunto adnominal

Texto para as questões **06 e 07**.

CANÇÃO DO EXÍLIO

Gonçalves Dias

*Minha terra tem palmeiras
Onde canta o Sabiá,
As aves, que aqui gorjeiam,
Não gorjeiam como lá.*

*Nosso céu tem mais estrelas,
Nossas várzeas têm mais flores,
Nossos bosques têm mais vida,
Nossa vida mais amores.
Em cismar, sozinho, à noite,
Mais prazer encontro eu lá;
Minha terra tem palmeiras,
Onde canta o Sabiá.*

*Minha terra tem primores,
Que tais não encontro eu cá;
Em cismar – sozinho, à noite –
Mais prazer encontro eu lá;
Minha terra tem palmeiras,
Onde canta o Sabiá.*

*Não permita Deus que eu morra,
Sem que eu volte para lá;
Sem que desfrute os primores
Que não encontro por cá;
Sem qu'inda aviste as palmeiras,
Onde canta o Sabiá.*

6. Nos versos:

*“As aves, que aqui gorjeiam,
Não gorjeiam como lá.”*

Os termos em destaque se classificam morfologicamente como:

- a) advérbio de lugar
- b) preposição de lugar
- c) conjunção de lugar
- d) adjunto adverbial de lugar

7. Em:

“Minha terra tem palmeiras”

O termo em destaque se classifica sintaticamente como sendo:

- a) pronome possessivo
- b) pronome substantivo
- c) adjunto adnominal
- d) predicativo do sujeito

8. Assinale a frase em que o verbo destacado está com a regência INCORRETA.

- a) O veterinário assistiu o gato com dedicação.
- b) Os turistas assistiram o espetáculo.
- c) O povo aspira a uma sociedade mais justa.
- d) Os trabalhadores aspiravam a maior segurança no trabalho.

9. Identifique a frase que NÃO apresenta erro de concordância.

- a) Da janela, viam-se os passarinhos e as coloridas flores do jardim.
- b) Existe, no mundo, inúmeros estudiosos preocupados com o aquecimento global.
- c) Os maias são uma obra do escritor português Eça de Queirós.
- d) Tratam-se de remédios que ainda não foram autorizados para comercialização.

10. Em: *Essa minha vizinha está estudando para o Enem*, podemos identificar quantas orações?

- a) uma oração
- b) duas orações
- c) três orações
- d) quatro orações

Matemática

11. Dada a função g tal que $g(x) = \frac{7x-1}{3} - 15$. Qual é o valor de $g(7)$?

- a) 1
- b) 2
- c) 3
- d) 4

12. Um capital aplicado à taxa de 2,5% ao mês rende um montante no valor de R\$ 9561,344 ao final de três meses, em regime de capitalização composta. Qual o valor do capital aplicado?

- a) R\$ 8400,00
- b) R\$ 8500,00
- c) R\$ 8600,00
- d) R\$ 8700,00

13. Sabe-se que B representa um número natural. Se $B = 2^{10} - 2^5$, então o valor de B é:

- a) 996
- b) 994
- c) 992
- d) 990

14. Se $\log 5 = 0,70$ e $\log 7 = 0,85$, então qual é o valor de $\log 35$?

- a) 0,15
- b) 0,55
- c) 1,55
- d) 1,65

15. Um terreno no formato de um triângulo retângulo possui um dos seus catetos igual a $\sqrt{27}$ e a hipotenusa igual a $\sqrt{243}$. Quanto mede o perímetro desse terreno?

- a) $18\sqrt{6}$
- b) $18\sqrt{3}$
- c) $12\sqrt{3} + 6\sqrt{3}$
- d) $12\sqrt{3} + 6\sqrt{6}$

16. Se $3\log_3 x + 9\log_9 x = 2$, então o valor de x é:

- a) $\sqrt[9]{81}$
- b) $\sqrt[15]{81}$
- c) $\sqrt[15]{9}$
- d) $\sqrt[9]{27}$

17. Um capital no valor de R\$ 3.554,00 aplicado, a juros compostos, rendeu um montante X com uma taxa de 1,0% ao mês durante 3 meses. Qual o valor aproximado do montante X, ao final desse período?

- a) R\$ 3.661,00
- b) R\$ 3.660,00
- c) R\$ 3.659,00
- d) R\$ 3.658,00

18. Considere que um certo capital no valor de 7500 reais aplicado, sob regime de juros simples, por um período de um ano e meio com uma taxa de 3,5% ao mês terá um rendimento de juros no valor de:

- a) 4740
- b) 4735
- c) 4725
- d) 4720

19. Considere que um certo capital no valor de 8000 reais aplicado, sob regime de juros compostos, por um período de 3 meses com uma taxa de 5% ao mês renderá um montante no valor de:

- a) 9258
- b) 9259
- c) 9260
- d) 9261

20. Dada a função $F(n) = 3^n - 3 + 21$, o valor de n para que $F(n) = 750$ é de:

- a) 6
- b) 7
- c) 8
- d) 9

Conhecimentos de Informática

21. Qual das alternativas a seguir apresenta uma afirmação falsa sobre o SUSE LINUX SLES 15 SP2?

- a) A partir do SUSE Linux Enterprise Server 15, o meio de instalação consiste apenas no Instalador Unificado, em um sistema mínimo para instalação, atualização e registro de todos os produtos base do SUSE Linux Enterprise.
- b) Durante a instalação do SUSE 15 não é possível adicionar funcionalidades selecionando módulos e extensões para ser instalados em coexistência com o Instalador Unificado.
- c) O meio de instalação padrão SLE-15-SP2-Online- ARCH -GM-media1.iso tem o tamanho otimizado e não inclui módulos e extensões.
- d) O meio de instalação padrão SLE-15-SP2-Online- ARCH -GM-media1.iso requer acesso à rede para registrar seu produto e recuperar os dados do repositório referentes aos módulos e extensões.

22. No SUSE SLES 15, qual ambiente gráfico de fácil utilização pode ser personalizado de acordo com suas necessidades e preferências pessoais?

- a) GNOME
- b) Shell
- c) Excel
- d) Malware

23. No SUSE SLES 15, qual Suíte Office de código-fonte aberto oferece ferramentas para todos os tipos de tarefas de escritório, como elaboração de textos, trabalho com planilhas ou criação de gráficos e apresentações?

- a) Microsoft Office.
- b) MalwareBytes.
- c) LibreOffice.
- d) BIOS.

24. Qual browser da Web está incluído no SUSE Linux SLES 15, incluídos neste browser recursos como navegação com guias, bloqueio de janelas popup e gerenciamento de downloads?

- a) Microsoft Edge.
- b) Microsoft Internet Explorer.
- c) Access.
- d) Mozilla Firefox.

25. Sabemos que é possível implantar o sistema operacional SUSE SLES 15 em uma ampla variedade de hardwares e que é impossível listar todas as combinações diferentes de hardware que o SUSE SLES 15 suporta. Levando isto em consideração, qual das afirmações a seguir é falsa?

- a) Há necessidade de pelo menos 1024 MB de memória RAM para a instalação mínima.
- b) Os requisitos de disco dependem amplamente da instalação selecionada e de como você usa sua máquina.
- c) É possível inicializar o computador de um CD ou de uma rede.
- d) Não existe quantidade mínima de memória RAM para instalar e utilizar o SUSE SLES 15.

26. No Windows 10, versão português Brasil, configuração de teclado ABNT2, qual combinação de teclas pode ser utilizada para Abrir a Ferramenta de Captura?

- a) Ctrl + Shift + V
- b) tecla do logotipo do Windows + Shift + C
- c) Ctrl + Shift + Delete
- d) tecla do logotipo do Windows + Shift + S

27. No Windows 10, versão português Brasil, configuração de teclado ABNT2, qual atalho de teclado pode ser utilizado para Mudar o nome de um item selecionado no Explorador de Arquivos?

- a) Ctrl + Shift + ESC
- b) F2
- c) Ctrl + Alt + Delete
- d) F4

28. No Windows 10, versão português Brasil, configuração de teclado ABNT2, qual atalho de teclado pode ser utilizado para mudar o foco para a barra de endereço no Explorador de Arquivos?

- a) Ctrl + Shift + ESC
- b) F2
- c) Ctrl + Alt + Delete
- d) F4

29. No Windows 10, versão português Brasil, configuração de teclado ABNT2, qual atalho de teclado pode ser utilizado para Fechar janela ativa.?

- a) Ctrl + Shift + ESC
- b) F2
- c) Ctrl + W
- d) F4

30. No Microsoft Windows 10-versão Português Brasil, é possível encontrar dentro do Painel de Controle(modos de exibição Ícones Grandes) o ícone Opções de Internet. Ao abrir as Opções de Internet, na aba Segurança, é possível modificar configurações de Segurança de algumas Zonas diferentes. Qual das opções abaixo apresenta a Zona que contém os sites que você acredita que não danificarão o computador ou seus arquivos?

- a) Internet
- b) Sites Restritos
- c) Sites Confiáveis
- d) Malware

31. Qual recurso do Microsoft Windows 10 armazena entradas anteriores em páginas da Web e sugere correspondências?

- a) Certificado Digital
- b) Assinatura Digital
- c) Bloqueador de Pop-up
- d) Preenchimento Automático

32. No Microsoft Windows 10-versão Português Brasil, é possível encontrar dentro do Painel de Controle(modos de exibição Ícones Grandes) o ícone Contas de Usuário. Ao abrir a janela de Contas de Usuários, estando logado como Administrador, qual função não estará disponível nesta janela?

- a) Alterar o Nome da Conta
- b) Fazer Logout da Conta
- c) Alterar o Tipo da Conta
- d) Gerenciar outra Conta

33. No Microsoft Windows 10-versão Português Brasil, dentro do Painel de Controle (modo de exibição Ícones Grandes), qual ícone abre uma janela onde é possível alterar configurações como Formato de Data e Hora, Idioma e Informações da Tela de Boas Vindas?

- a) Região
- b) Fontes
- c) Central de Redes e Compartilhamento
- d) Windows Defender Firewall

34. No Microsoft Word 365, versão Português Brasil, qual atalho de teclado exibe o painel de tarefas para verificar a ortografia e a gramática do documento ou texto selecionado?

- a) Ctrl + N
- b) F7
- c) Ctrl + S
- d) F1

35. No Microsoft Word 365, versão Português Brasil, qual tipo não encontramos disponível dentre as opções de Inserção de Mala Direta?
- a) Cartas
 - b) Envelopes
 - c) Etiquetas
 - d) SmartArt
36. Ao inserir uma imagem em um documento do Microsoft Word 365, versão Português Brasil, é possível alterarmos as opções de Layout desta imagem, de forma que a imagem fique melhor posicionada no documento. Qual das alternativas a seguir não apresenta um dos Layouts possíveis de serem aplicados nesta imagem em relação ao texto contido no documento?
- a) Alinhado com o Texto
 - b) Atrás do Texto
 - c) Exclusão do Texto
 - d) Na Frente do Texto
37. No Microsoft PowerPoint 365, versão Português Brasil, qual efeito de Transição de Slides faz com que o Slide anterior avance lentamente e desapareça e, em seguida, o slide atual desce lentamente para o modo de exibição?
- a) Revelar
 - b) Forma
 - c) Piscar
 - d) Cortinas
38. No Microsoft PowerPoint 365, versão Português Brasil, qual ferramenta permite adicionar ao documento um print de qualquer janela que esteja aberta na área de trabalho?
- a) SmartArt
 - b) Mala Direta
 - c) Ocultar Slide
 - d) Instantâneo
39. Em redes de computadores, quais protocolos são usados, respectivamente, em Navegadores de Internet e em Programas de Envio de E-mail?
- a) FTP e HTML
 - b) CSS e JAVASCRIPT
 - c) HTTP e SMTP
 - d) SSH e HTML
40. Qual mecanismo de Segurança da Informação tem como objetivo proteger as informações contra alteração não autorizada?
- a) Malware
 - b) Integridade
 - c) Disponibilidade
 - d) Formatação