



Ministério da Educação
Instituto Federal do Espírito Santo
Reitoria

CONCURSO PÚBLICO

Edital nº 02/2022
Técnico-Administrativos em Educação

Caderno de Provas

Contador

Instruções:

1. Aguarde autorização para abrir o caderno de provas.
2. Após a autorização para o início da prova, confira-a, com a máxima atenção, observando se há algum defeito (de encadernação ou de impressão) que possa dificultar a sua compreensão.
3. A prova terá duração máxima de 3 (três) horas, não podendo o candidato retirar-se com a prova antes que transcorram 2 (duas) horas do seu início.
4. A prova é composta de **40 questões objetivas**.
5. As respostas às questões objetivas deverão ser assinaladas no Cartão Resposta a ser entregue ao candidato. Lembre-se de que para cada questão objetiva há **APENAS UMA** resposta.
6. A prova deverá ser feita, obrigatoriamente, com caneta esferográfica (tinta azul escuro ou preta).
7. A interpretação dos enunciados faz parte da aferição de conhecimentos. Não cabem, portanto, esclarecimentos.
8. Não é permitido o uso de aparelhos eletrônicos.
9. O candidato deverá devolver ao Fiscal o Cartão Resposta, ao término de sua prova.

LÍNGUA PORTUGUESA

O texto a seguir refere-se às questões 1 e 2.

O que é alopecia, condição que causa perda de cabelo (e não é piada)

Durante o Oscar 2022, Will Smith, que levou a estatueta de Melhor Ator para a casa, deu um tapa na cara de Chris Rock, após o comediante fazer uma piada sobre a esposa do ator, Jada Pinkett-Smith, que ficou careca por sofrer de uma condição chamada alopecia.

A alopecia, também conhecida como calvície, é definida como a ausência, rarefação (menor quantidade de fios) ou queda dos cabelos e pelos do corpo. De acordo com a Biblioteca Virtual em Saúde do Ministério da Saúde, o problema pode ser transitório ou definitivo, podendo ocorrer de forma local, regional ou total.

A condição tende a afetar mais os homens, quando a queda dos cabelos está diretamente associada à presença dos hormônios sexuais masculinos, principalmente a testosterona. Como as mulheres produzem menos esse hormônio, a ocorrência da calvície nelas é mais rara e, normalmente, menos drástica.

(Redação da Revista Galileu- 28 de março de 2022 – adaptado)

01. No primeiro período do texto anterior, há a presença da oração “**que levou a estatueta de Melhor Ator para a casa**”. De acordo com a função sintática, essa oração é classificada como:

- a) Oração subordinada substantiva subjetiva.
- b) Oração subordinada substantiva objetiva direta.
- c) Oração subordinada adjetiva explicativa.
- d) Oração subordinada substantiva objetiva indireta.
- e) Oração subordinada adjetiva restritiva.

02. No trecho do texto anterior: “**A condição tende a afetar mais os homens, quando a queda dos cabelos está diretamente associada à presença dos hormônios sexuais masculinos...**” o uso da crase, segundo a sua regra de aplicação, ocorre por estar diante de:

- a) um substantivo feminino.
- b) um verbo.
- c) uma palavra masculina.
- d) uma locução adverbial.
- e) uma locução prepositiva.

O texto abaixo serve como base para a questão 3.

Bruce Willis faz pausa na carreira de ator após diagnóstico de afasia

A família do ator Bruce Willis, de 67 anos, anunciou que ele fará uma pausa na carreira após ser diagnosticado com afasia, doença que afeta a comunicação. "Para os maravilhosos fãs de Bruce, como família, nós gostaríamos de compartilhar que nosso amado Bruce está passando por alguns problemas de saúde e, recentemente, foi diagnosticado com afasia, o que está afetando suas habilidades cognitivas. Como resultado disso, e com muita consideração, Bruce está se afastando da carreira que significou tanto para ele, diz a publicação do Instagram.

Afasia

Segundo artigo do Hospital Albert Einstein, o distúrbio altera a capacidade dos pacientes de se comunicar de forma adequada e pode afetar as seguintes funções: capacidade de falar ou se expressar verbalmente; compreensão da linguagem verbal; compreensão da linguagem escrita (leitura) e capacidade de escrever.

Entre as causas da afasia estão várias doenças neurológicas, como o AVC (Acidente Vascular Cerebral). O distúrbio também pode se instalar de forma gradual, se relacionado a tumores cerebrais ou a doenças degenerativas, como o Alzheimer.

(<https://www.uol.com.br/splash/noticias-> acessado em 30/03/2022-adaptado)

03. Releia o trecho: **“Segundo artigo do Hospital Albert Einstein, o distúrbio altera a capacidade dos pacientes de se comunicar de forma adequada e pode afetar as seguintes funções: capacidade de falar ou se expressar verbalmente; compreensão da linguagem verbal; compreensão da linguagem escrita (leitura) e capacidade de escrever.”**

Quanto ao uso da pontuação, pode-se afirmar:

- I. O ponto e vírgula está separando orações no período.
- II. O ponto e vírgula poderia ser substituído pela vírgula, sem prejuízo sintático.
- III. Os dois-pontos foram utilizados para anunciar um esclarecimento acerca do que foi anunciado.

Está(ão) **CORRETA(S)**:

- a) Apenas I.
- b) Apenas II.
- c) Apenas III.
- d) Apenas I e II.
- e) I, II e III.

Faça a leitura do texto abaixo para responder as questões 4 e 5.

Galos, noites e quintais

(Belchior)

Quando eu não tinha o olhar lacrimoso
Que hoje eu trago e tenho
Quando adoçava o meu pranto e meu sono
No bagaço de cana do engenho
Quando eu ganhava esse mundo de meu Deus
Fazendo eu mesmo o meu caminho
Por entre as fileiras do milho verde
Que ondeia, com saudade do verde marinho

Eu era alegre como um rio
Um bicho, um bando de pardais
Como um galo, quando havia...
Quando havia galos, noites e quintais
[...]

04. De acordo com o último verso da canção anterior: “**Quando havia galos, noites e quintais**”, a afirmativa correta quanto à classificação do sujeito é:

- a) Sujeito Composto.
- b) Sujeito Simples.
- c) Sujeito Oculto.
- d) Sujeito Inexistente.
- e) Sujeito Indeterminado.

05. No verso “**Eu era alegre como um rio**”, pode-se afirmar:

- I. Há uma linguagem denotativa.
- II. Há uma figura de linguagem: Comparação.
- III. Trata-se de uma linguagem conotativa.

Está(ão) **CORRETA(S)**:

- a) Apenas I e III.
- b) Apenas II.
- c) Apenas II e III.
- d) Apenas I e II.
- e) I, II e III.

RACIOCÍNIO LÓGICO

06. Com o advento da internet de banda larga, os canais de *streaming* se popularizaram e estão angariando cada vez mais usuários. Serviços de *streaming* são aqueles que possibilitam a transmissão de conteúdos pela internet, sem a necessidade de o usuário fazer *download* para ter acesso ao filme, música ou livro. Suponha que um grupo de 250 usuários assistam, pelo menos, a um dos três canais de *streaming* seguintes, denominados de Net, Prime e HB. Sabe-se que, do total de usuários:

- a quantidade dos que assistem ao canal Prime e ao canal HB é a mesma;
- 150 assistem ao canal Net;
- 70 assistem aos canais Net e HB;
- 20 assistem apenas ao canal HB;
- 60 assistem aos canais Prime e HB;
- 30 assistem aos três canais.

Considerando essas informações, quantos usuários assistem apenas ao canal Net?

- a) 70
- b) 60
- c) 40
- d) 30
- e) 20

07. Três colegas, João, Pedro e José, nascidos respectivamente nos anos de 1973, 1973 e 1950, estavam discutindo sobre quais dos três filmes – “O poderoso chefão”, lançado em 1972; “O silêncio dos inocentes”, lançado em 1991; “Django livre”, lançado em 2012 –, eles haviam assistido. Sabe-se que:

- cada um dos três filmes, foi assistido por apenas um dos três colegas no ano do seu lançamento no cinema;
- todos os três colegas assistiram aos três filmes pelo menos uma vez ou no cinema ou na televisão;
- João assistiu “Django livre” apenas na televisão.

Com base nessas informações, é **CORRETO** afirmar que:

- a) José assistiu “O silêncio dos inocentes” no cinema, no ano de seu lançamento.
- b) João assistiu “O silêncio dos inocentes” apenas na televisão.
- c) Pedro e José assistiram “O poderoso chefão” apenas na televisão.
- d) João assistiu “O poderoso chefão” no cinema, no ano de seu lançamento.
- e) Pedro assistiu “Django livre” no cinema, no ano de seu lançamento.

08. O gráfico abaixo se refere a média diária de casos da Covid-19 nos meses de março a dezembro de 2020.



*Adaptado.

Considerando as informações do gráfico acima, suponha que cada pessoa pesquisada contraiu Covid-19 uma única vez. Uma pessoa é selecionada ao acaso, e sabe-se que ela contraiu Covid-19 durante um dos meses que têm 30 dias: abril, junho, setembro e novembro. Arredondando o resultado para o primeiro número inteiro mais próximo, qual a probabilidade de ela ter contraído Covid-19 no mês de abril?

- a) 5%
- b) 6%
- c) 7%
- d) 3%
- e) 4%

09. Quantas comissões podem ser compostas por 5 assistentes em administração e 3 assistentes de alunos se os componentes dessas comissões forem escolhidos em um grupo de 8 assistentes em administração e 5 assistentes de alunos?

- a) 66
- b) 286
- c) 560
- d) 1.287
- e) 1.716

10. A prática de pirâmide financeira consiste na formação de uma cadeia de pessoas que são atraídas por promessa fraudulenta de ganhos fáceis ao indicar novos clientes, cujos investimentos mantêm a estrutura em funcionamento, “até que venha a ruir pela falta de novas vítimas”. Basicamente, a estrutura é mantida unicamente com os investimentos dos novos clientes, que entram na base da pirâmide e que, por sua vez, devem buscar novos investidores (Fonte: Agência Senado).

Um modelo comercial em forma de uma pirâmide financeira começou com uma pessoa no 1º dia e seguiu conforme a tabela abaixo:

Dia	Quantidade de pessoas
1º	1
2º	3
3º	9
4º	27
⋮	⋮

Sabe-se que a quantidade de pessoas aumenta diariamente em forma de uma progressão geométrica com razão constante. Por se tratar de um modelo comercial não sustentável, chegará o dia em que não haverá mais pessoas para serem angariadas para a base da pirâmide. Suponha que a quantidade de pessoas que essa pirâmide possa suportar antes de se tornar insustentável é de, no máximo, 6.561 pessoas. A partir de que dia a pirâmide se tornará insustentável?

- a) 16º dia
- b) 10º dia
- c) 15º dia
- d) 8º dia
- e) 12º dia

INFORMÁTICA

11. Considere a planilha abaixo, que demonstra a cotação de preços para a montagem de um laboratório de informática com 11 estações de trabalho, incluindo alguns itens de reposição. Para a relação de equipamentos da planilha, o vendedor ofereceu 10% de desconto em caso de pagamento à vista. Qual fórmula deve ser inserida na célula D10 para exibir o valor final da compra à vista?

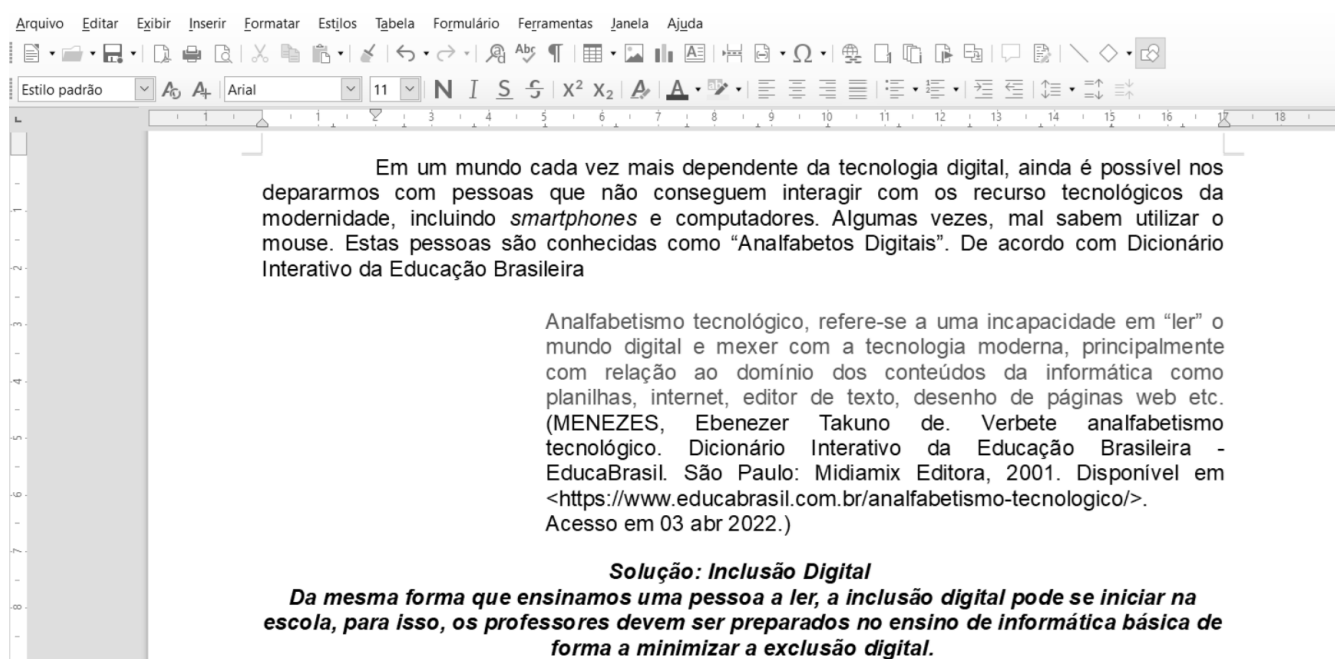
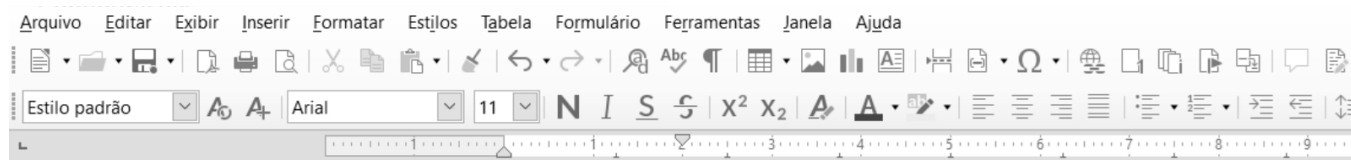
	A	B	C	D
1	Equipamento	Quantidade	Valor Unitário	Valor Total
2	Computador Desktop	11	R\$ 2.800,00	R\$ 30.800,00
3	Mouse	20	R\$ 84,00	R\$ 1.680,00
4	Teclado	20	R\$ 96,00	R\$ 1.920,00
5	Memória DDR4 – 4GB	4	R\$ 232,00	R\$ 928,00
6	HD SSD 240GB	2	R\$ 269,00	R\$ 538,00
7	Monitor	12	R\$ 838,00	R\$ 10.056,00
8			Valor Total	R\$ 45.922,00
9			Desconto a Vista	10%
10			Valor Final a Vista	

- a) =D8-D9
- b) =45922*10%
- c) =D8-D8*D9
- d) =D9*D9
- e) =D8-(D8-D9)

12. Acerca da URL <http://www.ca.vitoria.edu/index.html>, indique a opção **CORRETA**.

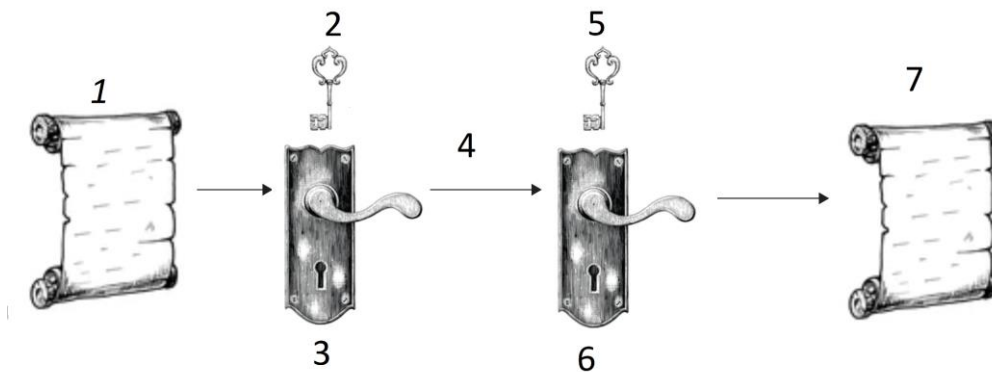
- a) O protocolo é http, o nome DNS do *host* é www.ca.vitoria.edu e o nome do caminho é index.html.
- b) O protocolo TCP é http://www, o nome DNS do *host* é ca.vitoria.edu e o nome do caminho é index.html.
- c) O nome DNS do *host* é http, o TCP é www.ca e o nome do caminho é vitoria.edu/index.html.
- d) O nome DNS do *host* é http://www, o TCP é ca.vitoria.edu e o nome do caminho é index.html.
- e) O protocolo é http, o TCP do *host* é www.ca.vitoria.edu e o nome do caminho é index.html.

13. As figuras abaixo ilustram um documento no editor de texto Writer do LibreOffice v.6.3. A primeira figura exibe a barra de ferramentas de forma ampliada, enquanto a segunda figura exibe o texto do documento, permitindo visualizar a formatação dos parágrafos. Com o auxílio de ambas figuras é possível perceber, também, a disposição dos 3 parágrafos. Com base nas figuras, no texto e em seus conhecimentos de editor de texto e do aplicativo Writer do LibreOffice, marque a sentença **CORRETA**.



- Para reproduzir a formatação do primeiro parágrafo, bastaria selecionar o parágrafo, ajustar o alinhamento à esquerda e configurar um recuo de primeira linha em 2 cm.
- Para reproduzir a formatação do segundo parágrafo, bastaria selecionar o parágrafo e ajustar o alinhamento à direita.
- Para reproduzir a formatação do terceiro parágrafo, bastaria selecionar o parágrafo, ajustar o alinhamento para justificado e formatar o texto em Negrito e Itálico.
- Para reproduzir a formatação do segundo parágrafo, bastaria selecionar o parágrafo e ajustar o alinhamento para justificado.
- Para reproduzir a formatação do primeiro parágrafo, bastaria selecionar o parágrafo, ajustar o alinhamento para justificado e configurar um recuo de primeira linha em 2 cm.

14. A figura abaixo ilustra o modelo simplificado da encriptação simétrica. Os números 1 e 7 representam a mensagem ou os dados originais e são inteligíveis. Assinale a alternativa **CORRETA**.



- a) 2 e 5 - Chave secreta compartilhada pelo emissor e pelo destinatário; 3 - Texto criptografado; 4 - Internet e; 6 - Algoritmo de decifração.
- b) 2 - Chave de encriptação compartilhada; 3 - Texto cifrado transmitido; 4 - Internet ; 5 – Chave de decifração e; 6 – Texto decifrado.
- c) 2 e 5 - Chave secreta compartilhada pelo emissor e pelo destinatário; 3 - Texto cifrado transmitido; 4 - Internet e; 6 - Texto decifrado.
- d) 2 - Chave secreta compartilhada pelo emissor e pelo destinatário; 3 - Algoritmo de encriptação; 4 - Texto cifrado transmitido; 5 - Chave secreta compartilhada pelo emissor e pelo destinatário e; 6 - Texto decifrado.
- e) 2 e 5 - Chave secreta compartilhada pelo emissor e pelo destinatário; 3 - Algoritmo de encriptação; 4 - Texto cifrado transmitido e; 6 - Algoritmo de decifração.

15. A Internet e as redes de computadores, em geral, fazem uso intenso de protocolos. Qual protocolo está relacionado ao acesso remoto a correio eletrônico?

- a) SMTP
- b) POP-3
- c) HTTP
- d) FTP
- e) IPP

LEGISLAÇÃO

16. De acordo com o Estatuto do Servidor Público Federal (Lei nº 8.112/90), acerca da posse e do exercício, assinale a alternativa **INCORRETA**.

- a) A posse ocorrerá no prazo de trinta dias contados da publicação do ato de provimento.
- b) A posse não poderá se dar mediante procuração específica.
- c) Só haverá posse nos casos de provimento de cargo por nomeação.
- d) No ato da posse, o servidor apresentará declaração de bens e valores que constituem seu patrimônio e declaração quanto ao exercício ou não de outro cargo, emprego ou função pública.
- e) A posse em cargo público dependerá de prévia inspeção médica oficial.

17. De acordo com a Lei de Processo Administrativo Federal (Lei nº 9.784/99), assinale a alternativa **CORRETA**.

- a) Os atos do processo administrativo dependem, como regra, de forma expressa determinada pela lei.
- b) Pode ser arguida a suspeição de autoridade ou servidor que tenha amizade íntima ou inimizade notória com algum dos interessados ou com os respectivos cônjuges, companheiros, parentes e afins até o terceiro grau.
- c) A Administração deve anular seus próprios atos, por motivo de conveniência ou oportunidade e pode revogá-los, quando eivados de vício de legalidade, respeitados os direitos adquiridos.
- d) O direito da Administração de anular os atos administrativos de que decorram efeitos favoráveis para os destinatários decai em três anos, contados da data em que foram praticados, salvo comprovada má-fé.
- e) Em decisão na qual se evidencie não acarretarem lesão ao interesse público nem prejuízo a terceiros, mesmo os atos que apresentarem defeitos sanáveis não poderão ser convalidados pela própria Administração.

18. Conforme a Lei de Improbidade Administrativa (Lei nº 8.429/92), constituem atos de improbidade administrativa que causam lesão ao erário, as seguintes ações expressamente previstas, **EXCETO**:

- a) permitir ou facilitar a aquisição, permuta ou locação de bem ou serviço por preço superior ao de mercado.
- b) realizar operação financeira sem observância das normas legais e regulamentares ou aceitar garantia insuficiente ou inidônea.
- c) frustrar a licitude de processo licitatório ou de processo seletivo para celebração de parcerias com entidades sem fins lucrativos, ou dispensá-los indevidamente, acarretando perda patrimonial efetiva.
- d) ordenar ou permitir a realização de despesas não autorizadas em lei ou regulamento.
- e) deixar de prestar contas quando esteja obrigado a fazê-lo, desde que disponha das condições para isso, com vistas a ocultar irregularidades.

19. Nos termos da Lei nº 11.892/08, que instituiu a Rede Federal de Educação Profissional, Científica e Tecnológica, assinale a alternativa **INCORRETA**.

- a) Os Institutos Federais de Educação, Ciência e Tecnologia possuem natureza jurídica de autarquia, detentoras de autonomia administrativa, patrimonial, financeira, didático-pedagógica e disciplinar.
- b) Os Institutos Federais são instituições de educação superior, básica e profissional, pluricurriculares e multicampi, especializados na oferta de educação profissional e tecnológica nas diferentes modalidades de ensino, com base na conjugação de conhecimentos técnicos e tecnológicos com as suas práticas pedagógicas, nos termos desta Lei.
- c) Para efeito da incidência das disposições que regem a regulação, avaliação e supervisão das instituições e dos cursos de educação superior, os Institutos Federais são equiparados às universidades federais.
- d) No âmbito de sua atuação, os Institutos Federais exercerão o papel de instituições acreditadoras e certificadoras de competências profissionais.
- e) Os Institutos Federais terão autonomia para criar e extinguir cursos, nos limites de sua área de atuação territorial, exceto para registrar diplomas dos cursos por eles oferecidos.

20. De acordo com a LDB (Lei nº 9.394/96), acerca da Educação Especial, assinale a alternativa **INCORRETA**.

- a) Entende-se por educação especial, para os efeitos desta Lei, a modalidade de educação escolar oferecida preferencialmente na rede regular de ensino, para educandos com deficiência, transtornos globais do desenvolvimento e altas habilidades ou superdotação.
- b) Haverá, quando necessário, serviços de apoio especializado, na escola regular, para atender às peculiaridades da clientela de educação especial.
- c) O atendimento educacional será feito em classes, escolas ou serviços especializados, sempre que, em função das condições específicas da instituição de ensino, não for possível a sua integração nas classes comuns de ensino regular.
- d) A oferta de educação especial tem início na educação infantil e estende-se ao longo da vida.
- e) O poder público deverá instituir cadastro nacional de alunos com altas habilidades ou superdotação matriculados na educação básica e na educação superior, a fim de fomentar a execução de políticas públicas destinadas ao desenvolvimento pleno das potencialidades desse alunado.

CONHECIMENTOS ESPECÍFICOS

21. Com relação às Normas Brasileiras de Contabilidade (NBC TG e NBC TSP), indique a afirmativa **INCORRETA**:

- a) De acordo com a NBC TG 01 (R4): Valor recuperável de um ativo ou de unidade geradora de caixa é o maior montante entre o seu valor justo líquido de despesa de venda e o seu valor em uso. De modo que, quando o valor contábil de um ativo ou de unidade geradora de caixa excede seu valor recuperável, tem-se uma situação de perda por desvalorização (calculada pela diferença entre os referidos valores).
- b) De acordo com a NBC TG 25 (R2): Os riscos e incertezas que inevitavelmente existem em torno de muitos eventos e circunstâncias devem ser levados em consideração para se alcançar a melhor estimativa da provisão.
- c) De acordo com a NBC TSP Estrutura Conceitual: Os Relatórios Contábeis de Propósito Geral das Entidades do Setor Público são os componentes centrais da transparência da informação contábil dos governos e de outras entidades do setor público, aprimorando-a e favorecendo-a.
- d) De acordo com a NBC TSP 02: As entidades do setor público podem auferir receitas de transações com ou sem contraprestação. Exemplos de transações com contraprestação incluem as receitas decorrentes do exercício do poder soberano (por exemplo, tributos diretos e indiretos, multas e tributos alfandegários), subsídios e doações.
- e) De acordo com a NBC TSP 13: A explicação das diferenças materiais entre os valores realizados e os orçados auxilia os usuários a entenderem as razões para as diferenças materiais do orçamento aprovado pelo qual a entidade submete-se à prestação de contas e responsabilização.

22. Considere que, no mês de agosto de X1, uma empresa que fabrica e comercializa bolas de tênis (produto único) tenha produzido 2.200 unidades e vendido 1.600 unidades. Ao longo do referido período, os custos fixos e as despesas fixas totalizaram \$ 20.000, enquanto a margem de segurança obtida foi de 600 unidades.

Sabendo que a margem de contribuição unitária representou 80% do preço de venda unitário, em agosto de X1, pode-se afirmar que o preço de venda unitário praticado no mês em análise foi de:

- a) \$ 12,50.
- b) \$ 15,62.
- c) \$ 18,00.
- d) \$ 20,00.
- e) \$ 25,00.

23. Suponha que, no edital de um certame licitatório do Instituto Federal do Espírito Santo (Ifes) para contratação de mão de obra, com dedicação exclusiva, para prestação de serviços de manutenção predial, esteja definido como requisito mínimo para habilitação econômico-financeira, a comprovação da boa situação financeira da empresa mediante obtenção de índices de Liquidez Geral (LG), Liquidez Corrente (LC) e Liquidez Seca (LS) iguais ou superiores a 1 (um). Sabendo que a licitante que apresentou a melhor proposta forneceu o Balanço Patrimonial do último exercício social, no qual constavam as contas e os seus respectivos saldos, descritos a seguir, julgue as afirmativas que seguem:

Conta	Saldo
Amortização Acumulada	\$ 5.000
Caixa e Bancos Conta Movimento	\$ 303.000
Capital Social a Integralizar	\$ 50.000
Capital Social Subscrito	\$ 250.000
Clientes	\$ 206.000
Depreciação Acumulada	\$ 30.000
Despesas Pagas Antecipadamente – Curto Prazo	\$ 11.000
Empréstimos a Pagar – Curto Prazo	\$ 54.000
Estoques	\$ 20.000
Fornecedores	\$ 118.000
Impostos e Contribuições a Recolher – Curto Prazo	\$ 24.000
Lucros Acumulados	\$ 160.000
Marcas e Patentes	\$ 15.000
Obrigações Trabalhistas – Curto Prazo	\$ 104.000
Veículos	\$ 140.000

- I. A empresa apresenta índice de LS de 1,80.
- II. Os índices de LG e LC da empresa apresentam o mesmo valor.
- III. Do ponto de vista da qualificação econômico-financeira, a empresa deve ser considerada habilitada nos termos do edital do certame licitatório.

Está(ão) **CORRETA(S)**:

- a) II apenas.
- b) I e II apenas.
- c) I e III apenas.
- d) II e III apenas.
- e) I, II e III.

24. Ao iniciar o exercício social de X1, a empresa Beta 3 S.A. detinha um ativo total de \$ 2.000.000. Além disso, por meio da análise vertical da sua situação patrimonial, era possível perceber que 45% das fontes de financiamento provinham de capital de terceiros, bem como que 60% do patrimônio líquido total referia-se ao capital social integralizado, 10% à reserva legal e 30% às outras reservas de lucro. No decorrer do exercício social de X1, os saldos das contas de capital social e de reservas permaneceram inalterados.

Finalizado o referido exercício social, os órgãos de administração da empresa encaminharam a proposta de destinação do lucro líquido do exercício (que totalizou \$ 500.000) para análise e deliberação da Assembléia-Geral Ordinária (AGO).

Sendo assim, pode-se afirmar que, do lucro líquido de exercício de X1, o valor destinado para a constituição de reserva legal, nos termos da Lei Federal nº 6.404/1976 (artigo 193), será de:

- a) \$ 0 (não haverá a constituição de reserva legal).
- b) \$ 18.000.
- c) \$ 22.000.
- d) \$ 25.000.
- e) \$ 110.000.

25. A indústria PHD S.A. é detentora de um equipamento utilizado na fabricação de um determinado insumo essencial para o seu processo produtivo. Esse equipamento foi adquirido e colocado em uso em 01/03/X1 pelo valor total de \$ 480.000, com vida útil estimada de 10 anos e sem a previsão de valor residual.

Em 31/12/X2, a administração da empresa, após ampla análise, concluiu ser mais vantajoso comprar o insumo pronto de um terceiro do que fabricá-lo internamente, decidindo, portanto, colocar o equipamento utilizado na fabricação do insumo para venda imediata. Sabe-se que a gestão da empresa está comprometida com o plano de venda desse ativo e, firmemente, empenhada em localizar um comprador, de modo que a expectativa é pela conclusão da venda até 31/05/X3. O valor estimado para venda do equipamento é de \$ 400.000 e espera-se incorrer com despesas para concluir a venda no valor de \$ 12.000.

Com base nessas informações e na NBC TG 31 (R4), pode-se afirmar que, em 31/12/X2, o equipamento em análise será:

- a) Evidenciado no balanço patrimonial como ativo não circulante mantido para venda, no valor de \$ 388.000.
- b) Evidenciado no balanço patrimonial como ativo imobilizado, no valor de \$ 388.000.
- c) Evidenciado no balanço patrimonial como ativo não circulante mantido para venda, no valor de \$ 392.000.
- d) Evidenciado no balanço patrimonial como ativo imobilizado, no valor de \$ 392.000.
- e) Baixado do balanço patrimonial, sendo registrada uma perda na alienação de ativo imobilizado no valor de \$ 4.000.

26. A indústria Delta S.A. iniciou suas atividades em janeiro de X1, tendo por objeto a produção e a comercialização de um único produto. Encerrado o ano de X1, o setor de contabilidade da empresa apurou os seguintes dados:

Receita bruta de vendas	\$ 160 por unidade
Impostos incidentes sobre vendas brutas	30%
Mão de obra (remuneração fixa) – departamento de administração	\$ 40.800 ao ano
Mão de obra (remuneração fixa) – departamento de produção	\$ 50.000 ao ano
Matéria-prima consumida durante X1	\$ 200.000
Depreciação (linear) – departamento de produção	\$ 18.000 ao ano
Depreciação (linear) – departamento de administração	\$ 7.000 ao ano
Comissão incidente sobre vendas brutas	10%
Outros gastos fixos – departamento de produção	\$ 12.000 ao ano
Outros gastos fixos – departamento de administração	\$ 9.000 ao ano

Sabe-se que:

- I. Toda a produção iniciada durante X1 foi concluída no mesmo ano, portanto, não havia estoque final de produtos em elaboração; e
- II. Nesse período, a indústria produziu 10.000 unidades e comercializou 7.000 unidades.

Considerando as informações apresentadas, indique a afirmativa **CORRETA**:

- a) O estoque final de produtos acabados pelo custeio por absorção totalizou \$ 60.000.
- b) O estoque final de produtos acabados pelo custeio variável totalizou \$ 84.000.
- c) O resultado operacional pelo custeio por absorção superou o resultado operacional pelo custeio variável em \$ 24.000.
- d) O resultado operacional pelo custeio por absorção superou o resultado operacional pelo custeio variável em \$ 80.000.
- e) O ponto de equilíbrio contábil (em quantidade) foi de 2.000 unidades.

27. Suponha que o Instituto Federal do Espírito Santo (Ifes) decida realizar a aquisição de máscaras de proteção contra o Covid-19, por meio de processo licitatório, para distribuição gratuita aos discentes em situação de vulnerabilidade social de diversos *campi* do Instituto. Para tanto, o procedimento de emissão da nota de empenho deverá observar que se trata de uma despesa corrente associada ao elemento de despesa _____. Além disso, uma vez entregues pela empresa vencedora da licitação, considerando o disposto na NBC TSP 04, os referidos materiais deverão ser mensurados pelo _____.

Preenchem as lacunas, respectivamente, de forma **CORRETA**:

- a) 31 / valor justo na data do seu recebimento.
- b) 32 / menor valor entre o custo e o custo corrente de reposição.
- c) 31 / valor realizável líquido.
- d) 32 / valor justo na data do seu recebimento.
- e) 31 / menor valor entre o custo e o custo corrente de reposição.

28. De acordo com o Manual de Contabilidade Aplicada ao Setor Público (MCASP, 2021, p. 26), “no Plano de Contas Aplicado ao Setor Público (PCASP) as contas contábeis são classificadas segundo a natureza das informações que evidenciam – orçamentária, patrimonial e de controle, de modo que os registros orçamentários não influenciem ou alterem os registros patrimoniais, e vice-versa”. Com base na estrutura do PCASP e sua função de proporcionar registros contábeis com natureza de informações distintas, bem como nos conhecimentos de Contabilidade Pública, indique a afirmativa **CORRETA**:

- a) O registro de apólice de seguro-garantia prestado por empresa contratada nos termos da Lei Federal nº 14.133/2021: impacta as informações patrimonial e de controle; e não impacta a informação orçamentária.
- b) O registro de empenho de despesa para aquisição de material de consumo (antes do fato gerador): impacta as informações orçamentária e patrimonial; e não impacta a informação de controle.
- c) O registro de reforço de empenho de despesa para contratação de prestação de serviços (antes do fato gerador): impacta a informação de controle; e não impacta as informações orçamentária e patrimonial.
- d) O registro de baixa de material de estoque consumido durante o mês: impacta as informações orçamentária, patrimonial e de controle.
- e) O registro de liquidação de despesa de capital com incorporação simultânea de ativo imobilizado: impacta as informações orçamentária, patrimonial e de controle.

29. Suponha que, no dia 15/01/X1, o Instituto Federal do Espírito Santo (Ifes) tenha decidido instalar uma nova unidade no município de Ponto Belo/ES. Para tanto, em 07/02/X1, foi adquirido um terreno pela gestão do Instituto, no valor de \$ 600.000 para a construção do novo *campus*, estando o início das obras previsto para julho de X1. Até a conclusão das obras, o *campus* funcionará em um espaço alugado pelo Instituto.

Em 01/03/X1, os seguintes itens (ativo imobilizado) foram recebidos pela Coordenadoria de Patrimônio do novo *campus*:

Item	Valor de aquisição	Vida útil estimada
Equipamentos de TIC	\$ 24.000	10 anos
Mobiliários em Geral	\$ 60.000	20 anos
Veículos	\$ 35.000	5 anos
Equipamentos de Laboratório de Mecânica	\$ 48.000	8 anos
(=) Total	\$ 167.000	-

Os itens citados na tabela foram instalados e colocados em uso imediatamente, com exceção dos “Equipamentos de Laboratório de Mecânica”, que serão instalados e colocados em uso em maio de X1. Além disso, há a previsão de valor residual de \$ 5.000 para os “Veículos”, sendo que não há a previsão de valor residual para os demais itens. A próxima aquisição de itens de ativo imobilizado está prevista para junho de X1.

Com o registro da depreciação do ativo imobilizado da competência de abril de X1 (método linear), nos termos da NBC TSP 07, o Plano de Contas Aplicado ao Setor Público (PCASP) será impactado da seguinte forma:

- a) Não haverá impacto nenhum, visto que os órgãos públicos não realizam a depreciação do seu ativo imobilizado.
- b) Haverá decréscimo do saldo da classe 2, no valor de \$ 1.450; e acréscimo do saldo da classe 4, no mesmo valor.
- c) Haverá decréscimo do saldo da classe 1, no valor de \$ 1.450; e acréscimo do saldo da classe 3, no mesmo valor.
- d) Haverá decréscimo do saldo da classe 2, no valor de \$ 950; e acréscimo do saldo da classe 4, no mesmo valor.
- e) Haverá decréscimo do saldo da classe 1, no valor de \$ 950; e acréscimo do saldo da classe 3, no mesmo valor.

30. Conforme o Manual de Contabilidade Aplicada ao Setor Público (MCASP, 2021, p. 468):

A fim de possibilitar a consolidação das contas públicas nos diversos níveis de governo [...] foi criado no Plano de Contas Aplicado ao Setor Público (PCASP) um mecanismo para a segregação dos valores das transações que serão incluídas ou excluídas na consolidação. Este mecanismo consiste na utilização do 5º nível (Subtítulo) das classes 1, 2, 3 e 4 do PCASP [...] para identificar os saldos recíprocos.

Considere uma situação em que um determinado *campus* do Instituto Federal do Espírito Santo (Ifes), um ente federal, proceda à liquidação da despesa referente à vistoria e renovação do alvará de competência do Corpo de Bombeiros Militar do Espírito Santo (CBMES), um ente estadual, conforme o seguinte lançamento de natureza patrimonial:

Débito: 3.7.1.2. __.01.00

Crédito: 2.1.4.2. __.14.02

Pode-se afirmar que o dígito que preenche de forma **CORRETA** o 5º nível (Subtítulo) no caso apresentado, tanto na conta debitada, quanto na conta creditada, é:

- a) 5.
- b) 4.
- c) 3.
- d) 2.
- e) 1.

31. Em relação aos procedimentos contábeis dos suprimentos de fundos elencados no Manual de Contabilidade Aplicada ao Setor Público (MCASP, 2021, p. 142-144), indique a afirmativa **INCORRETA**:

- a) Sob o enfoque patrimonial, com a prestação de contas pelo servidor suprido, ocorrerá um fato modificativo.
- b) Para concessão de recurso ao servidor suprido é necessário que a despesa orçamentária percorra os três estágios: empenho, liquidação e pagamento.
- c) As contas com natureza de informação orçamentária e de controle são as únicas impactadas no primeiro registro contábil (momento do empenho da despesa).
- d) O reconhecimento do direito da entidade concedente do suprimento de fundos acontece, somente, após a ocorrência da finalidade que motivou a concessão. Nas etapas anteriores, o registro se dá em conta específica de controle.
- e) Sob o enfoque patrimonial, com a devolução de valores não aplicados pelo servidor suprido, ocorrerá um fato permutativo.

32. Em relação às Demonstrações Contábeis Aplicadas ao Setor Público, julgue as afirmativas que seguem:

- I. Em atendimento ao artigo 105 da Lei Federal nº 4.320/1964, um dos quadros que compõem o Balanço Patrimonial consiste em apresentar a segregação dos valores correspondentes a ativos e passivos financeiros dos ativos e passivos permanentes.
- II. A Demonstração das Variações Patrimoniais elaborada no setor público tem atribuição similar à Demonstração do Resultado do Exercício elaborada no setor privado, pois ambas apuram o resultado patrimonial do período. Entretanto, a motivação para apuração do referido resultado não é a mesma nos dois casos. Enquanto no setor privado busca-se aferir o lucro/prejuízo líquido como medida de desempenho da entidade, no setor público o objetivo é averiguar, de forma quantitativa, o impacto dos serviços públicos disponibilizados aos cidadãos nos elementos patrimoniais.
- III. A obrigatoriedade de elaboração e divulgação da Demonstração dos Fluxos de Caixa pelas Sociedades por Ações, com exceção das companhias fechadas com patrimônio líquido inferior a R\$ 2.000.000,00 na data do balanço patrimonial, teve início com o advento da Lei Federal nº 11.638/2007, que a acrescentou no rol das demais demonstrações financeiras já exigíveis. Por outro lado, no âmbito das entidades públicas, não existe a obrigatoriedade de elaboração e divulgação do referido demonstrativo.
- IV. O Balanço Financeiro demonstra as receitas e despesas orçamentárias, bem como os ingressos e dispêndios extraorçamentários, conjugados com os saldos de caixa do exercício anterior e os que se transferem para o início do exercício subsequente.

Estão **CORRETAS**:

- a) I e IV apenas.
- b) II e III apenas.
- c) III e IV apenas.
- d) I, II e IV apenas.
- e) I, II, III e IV.

33. Com base no Balanço Orçamentário da União (Orçamento Fiscal e da Seguridade Social) a seguir, referente ao exercício financeiro de 2020, julgue as afirmativas que seguem:

Receitas Orçamentárias	Previsão Inicial	Previsão Atualizada	Receitas Realizadas	Saldo
A) Receitas Correntes	1.724.919	1.724.919	1.545.625	(179.294)
B) Receitas de Capital	923.466	923.466	1.616.792	693.326
C) (=) Subtotal das Receitas (A + B)	2.648.385	2.648.385	3.162.417	514.032
D) Refinanciamento	917.135	917.135	507.553	(409.582)
E) (=) Subtotal com Refinanciamento (C + D)	3.565.520	3.565.520	3.669.970	104.450
F) Resultado da Execução Orçamentária	-	-	XXX	XXX
G) (=) Total (E + F)	3.565.520	3.565.520	XXX	XXX
Crédito Adicionais Abertos	-	634.225	634.225	-

Despesas Orçamentárias	Dotação Inicial	Dotação Atualizada	Despesas Empenhadas	Despesas Liquidadas	Despesas Pagas	Saldo
H) Despesas Correntes	2.141.613	2.652.319	2.505.165	2.421.817	2.359.980	XXX
I) Despesas de Capital	1.388.250	754.827	492.280	457.001	454.634	XXX
J) Reserva de Contingência	35.657	40.193	-	-	-	XXX
K) (=) Subtotal das Despesas (H + I + J)	3.565.520	3.447.339	2.997.445	2.878.818	2.814.614	XXX
L) Amortização da Dívida/Refinanciamento	-	751.151	720.700	720.700	720.700	XXX
M) (=) Subtotal com Refinanciamento (K + L)	3.565.520	4.198.490	3.718.145	3.599.518	3.535.314	XXX
N) (=) Total (M)	3.565.520	4.198.490	3.718.145	3.599.518	3.535.314	XXX

Informações complementares:

- Valores monetários em milhões de reais (R\$). Os valores monetários informados com “XXX” foram omitidos para não comprometer o propósito da questão;

- Não há a necessidade de apresentação dos seguintes quadros para resolução da questão: “Execução de Restos a Pagar Não Processados” e “Execução de Restos a Pagar Processados”; e

- Informações extraídas das Demonstrações Contábeis Consolidadas da União do exercício financeiro de 2020 (Ministério da Economia / Secretaria Especial de Fazenda / Secretaria do Tesouro Nacional). Disponível em: https://sisweb.tesouro.gov.br/apex/f?p=2501:9:::9:P9_ID_PUBLICACAO:38245.

- I. O resultado da execução orçamentária indica um *déficit* de R\$ 48.175 (valor em milhões), pois as despesas empenhadas superaram as receitas realizadas (arrecadadas) no referido valor.
- II. O resultado da realização da despesa indica uma economia de R\$ 598.972 (valor em milhões), pois as despesas liquidadas ficaram abaixo da dotação atualizada no referido valor.
- III. Os valores provenientes da arrecadação de tributos são um exemplo de receita corrente, enquanto os valores originados da amortização de empréstimos concedidos são um exemplo de receita de capital. As despesas com juros e encargos da dívida são um exemplo de despesa corrente, já as despesas com a aquisição de imóveis são um exemplo de despesa de capital.

Está(ão) **CORRETA(S)**:

- a) I apenas.
- b) II apenas.
- c) III apenas.
- d) I e III apenas.
- e) I, II e III.

34. Considerando as particularidades que caracterizam o setor público brasileiro, julgue as afirmativas que seguem:

- I. Em relação à receita pública, quando a prefeitura de um município emite os carnês de IPTU em nome dos contribuintes, ocorre o lançamento. Em relação à despesa pública, quando há o empenho para a contratação de empresa de prestação de serviços de limpeza durante o período de 12 meses, com pagamentos em valores fixos mensalmente, este empenho deverá ser do tipo global.
- II. Com base nos dados do último censo demográfico (2010), tem-se: Castelo/ES, população total de 34.747 pessoas; Linhares/ES, população total de 141.306 pessoas; e Serra/ES, população total de 409.267 pessoas. Considerando que os números apresentados estão corretos, o Relatório de Gestão Fiscal (RGF) previsto na Lei Complementar Federal nº 101/2000 deverá ser elaborado quadrimestralmente por Linhares/ES e Serra/ES, enquanto Castelo/ES deverá providenciar a elaboração do RGF semestralmente.
- III. Questões como alterações no organograma de um determinado órgão público federal, não podem ser tratadas na Lei Orçamentária Anual (LOA). Ocorre que a Constituição Federal de 1988 prevê o princípio orçamentário da universalidade, isto é, a LOA não poderá conter dispositivo estranho à previsão da receita e à fixação da despesa, não se incluindo nessa proibição a autorização para abertura de créditos adicionais suplementares e contratação de operações de crédito, ainda que por antecipação de receita, nos termos da lei.

Está(ão) **CORRETA(S)**:

- a) I apenas.
- b) II apenas.
- c) III apenas.
- d) I e II apenas.
- e) I, II e III.

35. Suponha que, num período anterior à pandemia de Covid-19, um projeto de Lei Municipal que previa a redução da alíquota do Imposto de Transmissão de Bens Imóveis (ITBI), em 80%, na primeira transmissão da propriedade dos imóveis financiados por uma determinada companhia de habitação sediada na região, foi vetado, integralmente, pelo prefeito. As razões alegadas foram de ordem jurídica, com respaldo na Lei Federal nº 101/2000, conforme justificativas a seguir:

- I. Não ficou demonstrado que a renúncia foi considerada na estimativa de receita da lei orçamentária anual, e que não afetará as _____; e
- II. Não houve a apresentação de medidas de compensação, para o período previsto na legislação, por meio do(a) _____.

Preenchem as lacunas, respectivamente, de forma **CORRETA**:

- a) metas de resultados fiscais / aumento da receita.
- b) estimativas de gastos públicos / renegociação da dívida.
- c) metas de resultados fiscais / diminuição da despesa.
- d) despesas obrigatórias de caráter continuado / diminuição da despesa.
- e) estimativas de gastos públicos / aumento da receita.

36. O Diretor-Geral de um determinado campus do Instituto Federal do Espírito Santo (Ifes) promoveu uma reunião com sua equipe de trabalho. Na parte final da reunião, o Diretor-Geral realizou algumas indagações específicas, conforme diálogos a seguir:

Diretor-Geral: “– Teresa, a empresa F&H S.A., da qual compramos papel A4, entrou em contato. Estão reclamando de não ter recebido o valor integral da nota fiscal. O que aconteceu?”

Teresa (Coordenadora de Contabilidade): “– Ocorre que essa empresa não é optante pelo Simples Nacional. Dessa forma, foram retidos os seguintes tributos no momento do pagamento: IRPJ, CSLL, COFINS, PIS/PASEP e ICMS. O procedimento está em consonância com a Instrução Normativa da Receita Federal do Brasil nº 1.234/2012. Por outro lado, não houve a retenção do INSS e do ISSQN na forma das legislações pertinentes, visto que a contratação não se refere a uma prestação de serviços.”

Diretor-Geral: “– Luiz, soube que o governo federal editou uma nova legislação para tratar das contratações públicas. Você poderia preparar uma apresentação para nossa equipe?”

Luiz (Coordenador de Compras e Licitações): “– Sim, claro. Trata-se da Lei Federal nº 14.133/2021 que, entre outras coisas, prevê as seguintes modalidades de licitação: pregão, concorrência, concurso, leilão e diálogo competitivo.”

Diretor-Geral: “– Hélio, a servidora Luzia reclamou comigo que não recebeu o valor integral das diárias que tem direito em virtude de locomoção para participação em curso na cidade de Belo Horizonte/MG. O que devo responder para a servidora?”

Hélio (Gestor de Diárias e Passagens): “– Nesse caso, as diárias podem ser pagas parceladamente, pois o curso durou doze dias e o Decreto Federal nº 5.992/2006 prevê a possibilidade de pagamento parcelado quando o afastamento compreender um período superior a dez dias.”

Mediante o exposto, pode-se afirmar que:

- a) Somente as respostas de Luiz e Hélio estão totalmente corretas.
- b) Somente a resposta de Luiz está totalmente correta.
- c) Somente as respostas de Teresa e Hélio estão totalmente corretas.
- d) Todos os servidores responderam de maneira totalmente correta.
- e) Nenhum servidor respondeu de maneira totalmente correta.

37. O artigo 117 da Instrução Normativa da Receita Federal do Brasil nº 971/2009 discrimina os serviços cuja responsabilidade pela retenção e recolhimento da contribuição previdenciária sobre o valor bruto da nota fiscal, da fatura ou recibo de prestação de serviços, pertence à pessoa jurídica contratante, tanto nos casos de contratação mediante cessão de mão de obra, quanto nos casos mediante empreitada. Já o artigo 118 discrimina aqueles serviços cuja retenção é aplicável, somente, na execução por cessão de mão de obra. Com base nos dispositivos da referida Instrução Normativa, julgue as afirmativas que seguem:

- I. A retenção de INSS, nos casos de contratação por empreitada, aplica-se, tão somente, às obras e aos serviços de engenharia.
- II. Na cessão de mão de obra, os trabalhadores ficam à disposição da contratante, de modo que os serviços devem ser realizados, necessariamente, nas dependências da contratante.
- III. Na empreitada, a tarefa, a obra ou o serviço tem como objeto um resultado pretendido.

Está(ão) **CORRETA(S)**:

- a) I apenas.
- b) II apenas.
- c) III apenas.
- d) II e III apenas.
- e) I, II e III.

Considere o enunciado a seguir para resolução das questões **38, 39 e 40**.

Visando a atender aos diversos normativos legais que enfatizam a inclusão social em variados meios, inclusive no educacional, cada *campus* do Instituto Federal do Espírito Santo (Ifes) possui um Núcleo de Atendimento às Pessoas com Necessidades Específicas (Napne). Este possui como finalidade desenvolver ações que contribuam para a promoção da integração escolar de pessoas com necessidades específicas, buscando oportunizar condições para acesso, permanência e saída com êxito em seus cursos. Suponha que, numa reunião com representantes dos núcleos de cada *campus*, constatou-se que os diversos *campi* possuíam uma demanda de aquisição de material permanente comum. Sendo assim, após o levantamento de todos os itens necessários, foi decidido que cada um buscaria orientações junto à Coordenadoria de Licitações e Compras do seu respectivo *campus*, quanto à abertura do processo de aquisição. Todas as Coordenadorias de Licitações e Compras consultadas foram unânimes em indicar a adoção do Sistema de Registro de Preços como melhor alternativa para a situação apresentada. Além disso, os servidores das referidas Coordenadorias conscientizaram os representantes dos núcleos que, estes, como conhecedores e requisitantes da demanda, têm um papel fundamental na fase preparatória do processo licitatório, principalmente, no que tange à elaboração de documentos que irão instruir o referido processo.

38. Em relação à fase preparatória do processo licitatório expressa na Lei Federal nº 14.133/2021, indique a afirmativa **INCORRETA**:

- a) A legislação citada substituiu o termo de referência, o anteprojeto, o projeto básico e o projeto executivo pelo estudo técnico preliminar, o qual apresenta um conteúdo mais abrangente, uma vez que contém elementos além daqueles que eram exigidos nos documentos que foram extintos.
- b) O estudo técnico preliminar é um dos documentos que deve compor a instrução processual, o qual deve evidenciar o problema a ser resolvido e a sua melhor solução, de modo a permitir a avaliação da viabilidade técnica e econômica da contratação.
- c) A fase preparatória do processo licitatório é caracterizada pelo planejamento e deve compatibilizar-se com o plano de contratações anual, sempre que elaborado, e com as leis orçamentárias, bem como abordar todas as considerações técnicas, mercadológicas e de gestão que podem interferir na contratação.
- d) Um dos elementos que devem compor o estudo técnico preliminar é: estimativas das quantidades para a contratação, acompanhadas das memórias de cálculo e dos documentos que lhes dão suporte, que considerem interdependências com outras contratações, de modo a possibilitar economia de escala.
- e) A apresentação e o julgamento de possíveis riscos, que possam intervir, negativamente, no sucesso da licitação e na boa execução contratual, enquadram-se na fase preparatória do processo licitatório.

39. A Lei Federal nº 14.133/2021 define o Sistema de Registro de Preços como o “conjunto de procedimentos para realização, mediante contratação direta ou licitação nas modalidades pregão ou concorrência, de registro formal de preços relativos a prestação de serviços, a obras e a aquisição e locação de bens para contratações futuras” (artigo 6º, XLV).

Suponha que, após a conclusão da licitação citada no enunciado, um dos itens registrados seja o equipamento “Linha Braille”. Passados alguns meses, surgiu uma demanda pelo item mencionado num determinado órgão público federal, o qual, tão logo tomou conhecimento da existência da ata de registro de preços do Ifes, solicitou adesão, na condição de órgão não participante, no intuito de adquirir 120 unidades do produto. Segue trecho da referida ata:

Item	Especificação	Empresa Registrada	Quantidade Registrada			Valor Unitário	Valor Total
			Órgão Gerenciador (A)	Órgão Participante (B)	(=) Total (A + B)		
7	Equipamento “Linha Braille”	Futura S.A.	30	150	180	\$ 22.075	\$ 3.973.500

Sabendo que o órgão gerenciador já havia autorizado adesões ao “item 7” por outros órgãos não participantes, as quais totalizaram 80 unidades, indique a afirmativa **CORRETA**:

- a) O órgão gerenciador pode autorizar a adesão às 120 unidades solicitadas, sendo indispensável a anuência da empresa registrada ao órgão não participante.
- b) O órgão gerenciador pode autorizar a adesão a 90 unidades, no máximo, sendo indispensável a anuência da empresa registrada ao órgão não participante.
- c) O órgão gerenciador pode autorizar a adesão a 90 unidades, no máximo, sendo dispensável a anuência da empresa registrada ao órgão não participante.
- d) O órgão gerenciador pode autorizar a adesão a 10 unidades, no máximo, sendo indispensável a anuência da empresa registrada ao órgão não participante.
- e) O órgão gerenciador pode autorizar a adesão a 10 unidades, no máximo, sendo dispensável a anuência da empresa registrada ao órgão não participante.

40. Passado um mês do início da vigência da ata de registro de preços, a empresa Futura S.A. recebeu a primeira nota de empenho referente ao “item 7” a fim de que seja providenciado fornecimento ao órgão gerenciador, com a respectiva emissão do documento fiscal. Considerando que o produto, de acordo com a Lei Federal nº 10.865/2004, possui alíquota zero de PIS/PASEP e COFINS, bem como que a empresa não é optante pelo Simples Nacional, com base na Instrução Normativa da Receita Federal do Brasil nº 1.234/2012, julgue as afirmativas que seguem:

- I. A empresa fornecedora do equipamento deve entregar ao órgão gerenciador, com a nota fiscal, uma declaração à parte, cujo modelo é anexo da Instrução Normativa citada, informando a condição favorável do produto e indicando os respectivos tributos abrangidos, a fim de evitar a retenção indevida no momento do pagamento.
- II. São exemplos de itens com alíquota zero de PIS/PASEP e COFINS, nos termos da Instrução Normativa citada: a prestação de serviços de limpeza e a aquisição livros, seja no mercado interno, seja no mercado externo.
- III. Para fins de retenção e recolhimento dos demais tributos abrangidos pela Instrução Normativa citada, o órgão gerenciador deverá utilizar o código da receita relativo a “mercadorias e bens em geral” (6147), deduzindo, do percentual total, os percentuais das alíquotas do PIS/PASEP e COFINS.

Está(ão) **INCORRETA(S)**:

- a) I apenas.
- b) II apenas.
- c) III apenas.
- d) II e III apenas.
- e) I, II e III.



Ministério da Educação
Instituto Federal do Espírito Santo
Reitoria

CONCURSO PÚBLICO

Folha de Resposta (Rascunho)

Questão	Resposta	Questão	Resposta	Questão	Resposta	Questão	Resposta
01		11		21		31	
02		12		22		32	
03		13		23		33	
04		14		24		34	
05		15		25		35	
06		16		26		36	
07		17		27		37	
08		18		28		38	
09		19		29		39	
10		20		30		40	