



Estado de Santa Catarina
Prefeitura Municipal de Anchieta - SC
Edital de Concurso Público nº 01/2022



CADERNO DE PROVAS

Cargo	Prova Tipo
OPERADOR DE MÁQUINAS (CNH CATEGORIA NO MÍNIMO C)	1

➤ **AGUARDE A ORDEM DO FISCAL PARA ABRIR ESTE CADERNO DE PROVAS.**

Leia atentamente as instruções abaixo:

- ✓ O candidato deverá **OBRIGATORIAMENTE** observar as medidas sanitárias de segurança à prevenção de contaminação e disseminação da COVID-19.
- ✓ Deixe sobre a carteira apenas o documento de identificação e a caneta esferográfica de tinta preta ou azul, feita de material transparente.
- ✓ Não será permitida qualquer consulta ou comunicação entre os candidatos.
- ✓ Verifique se:
 - No seu cartão resposta, o tipo de prova destacado corresponde ao mesmo tipo de prova constante no caderno de prova que lhe foi entregue. As provas de cada cargo serão identificadas pelos números 1, 2, 3 e 4 e é de responsabilidade do candidato a conferência do tipo de prova constante no cartão resposta e no caderno de prova.
 - Sua prova é para o cargo ao qual se inscreveu e se a mesma contém **35 questões**, numeradas de **1 à 35**. Caso contrário, informe imediatamente ao fiscal de sala. Não serão aceitas reclamações posteriores por falha de impressão e/ou total de questões.
- ✓ Preencha o **Cartão Resposta**, com as informações solicitadas.
- ✓ Para cada questão existe apenas **uma** resposta certa. A resposta certa deve ser marcada no **Cartão Resposta**.
- ✓ Segue demonstrado a forma correta de preencher o **Cartão Resposta**: ●
- ✓ As marcações duplas, rasuradas ou marcadas diferente do modelo acima, ocasionará a anulação da questão.
- ✓ É de responsabilidade do candidato o preenchimento dos dados do **Cartão Resposta**.
- ✓ A prova terá duração de **03h**, incluído neste horário, o tempo para o preenchimento do **Cartão Resposta**.
- ✓ A saída da sala só poderá ocorrer após decorridos 30 (trinta) minutos do início das provas.
- ✓ Ao sair da sala, entregue o **Cartão Resposta** ao fiscal da sala e retire-se imediatamente do local de aplicação das provas.
- ✓ Não é permitido o uso do banheiro após entregar seu Cartão Resposta.

Boa prova!

Rascunho do gabarito:

1	2	3	4	5	6	7	8	9	10	11	12	13	14	15	16	17	18	19	20
21	22	23	24	25	26	27	28	29	30	31	32	33	34	35					

Conhecimentos Específicos

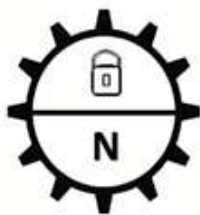
Questão 01

Qual nome do sistema que tem a função de conectar e desconectar a força motriz do motor do sistema de transmissão de um veículo? Marque a alternativa CORRETA.

- (A) Freio de estacionamento.
- (B) Homocinética.
- (C) Sistema hidráulico.
- (D) Embreagem.

Questão 02

Observe a imagem abaixo e analise:



Após análise, marque a alternativa que descreve **corretamente** a sua simbologia.

- (A) Neutralizador da transmissão ligado.
- (B) Neutralizador da transmissão desligado.
- (C) Diferencial bloqueado.
- (D) Diferencial desbloqueado.

Questão 03

Observe a imagem abaixo e analise:



Após análise, marque a alternativa que descreve **corretamente** o significado da placa de trânsito.

- (A) Circulação exclusiva de ônibus.
- (B) Circulação exclusiva de caminhões.
- (C) Ônibus, caminhões e veículos de grande porte mantenham-se à direita.
- (D) Conserve-se à direita.

Questão 04

Observe as alternativas abaixo e marque a que descreve **corretamente**, quais são os principais componentes de um sistema de arrefecimento:

- I. bomba d'água.
- II. Sensor de temperatura.

III. válvula termostática.

IV. Sonda lambda.

V. Radiador.

É CORRETO o que se afirma em:

- (A) As alternativas III e IV, estão corretas.
- (B) As alternativas I, II, III e IV, estão corretas.
- (C) As alternativas I, II, III e V, estão corretas.
- (D) As alternativas I, II, III, IV e V, estão corretas.

Questão 05

Qual a função do eixo virabrequim? Marque a alternativa CORRETA.

- (A) É responsável por resfriar os cilindros.
- (B) É responsável por lubrificar todas as peças que estão em constante atrito.
- (C) É responsável por receber as forças geradas pelo movimento dos pistões e transformá-las em torque.
- (D) É responsável por controlar a quantidade da mistura ar-combustível que irá para dentro dos cilindros.

Questão 06

Qual definição o Código de Trânsito Brasileiro (CTB), dá aos veículos denominados TRATOR? Marque a alternativa CORRETA.

- (A) Veículo fabricado há mais de 30 (trinta) anos, original ou modificado, que possui valor histórico próprio.
- (B) Veículo automotor construído para realizar trabalho agrícola, de construção e pavimentação e tracionar outros veículos e equipamentos.
- (C) Veículo automotor destinado ao transporte simultâneo de carga e passageiro.
- (D) Reboque ou semi-reboque tipo casa, com duas, quatro, ou seis rodas, acoplado ou adaptado à traseira de automóvel ou camionete, utilizado em geral em atividades turísticas como alojamento, ou para atividades comerciais.

Questão 07

O que pode ocorrer quando os pneus de um veículo estão com a calibragem baixa? Marque a alternativa CORRETA.

- (A) Melhora o desempenho do veículo.
- (B) Redução do desgaste.
- (C) Reduz o consumo de combustível.
- (D) Aumento do desgaste.

Questão 08

Qual o nome do sistema responsável por controlar a temperatura dos motores a combustão? Marque a alternativa CORRETA.

- (A) Arrefecimento.

- (B) Ignição.
- (C) Descarbonização.
- (D) Combustão.

Questão 09

Observe a imagem abaixo e analise:



Após análise, marque a alternativa que descreve **corretamente** o significado da placa de trânsito.

- (A) Depressão.
- (B) Caminhões na pista.
- (C) Área com desmoronamento.
- (D) Obras adiante.

Questão 10

Observe a imagem abaixo e marque a alternativa que descreve corretamente a sua simbologia.



Após análise, marque a opção CORRETA.

- (A) Pressão da água.
- (B) Pressão de óleo do motor.
- (C) Pressão do fluido de freio.
- (D) Pressão do óleo hidráulico.

Questão 11

Observe a imagem abaixo e analise:



Após análise, marque a alternativa que descreve **corretamente** o significado da placa de trânsito.

- (A) Circulação exclusiva de ônibus.
- (B) Conserve-se à direita.
- (C) Ônibus caminhões e veículos de grande porte mantenham se a direita.

- (D) Passagem obrigatória.

Questão 12

Observe a imagem abaixo e analise:

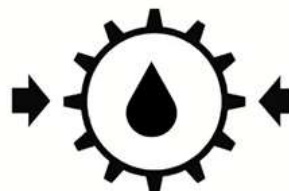


Após análise, marque a alternativa que descreve **corretamente** o significado da placa de trânsito.

- (A) Lombada.
- (B) Mão dupla adiante.
- (C) Início de pista dividida.
- (D) Pista irregular.

Questão 13

Observe a imagem abaixo e analise:



Após análise, marque a alternativa que descreve **corretamente** a sua simbologia.

- (A) Pressão do óleo da transmissão.
- (B) Pressão da água do motor.
- (C) Pressão do óleo do motor.
- (D) Pressão do óleo hidráulico.

Questão 14

Observe a imagem abaixo e analise:



Após análise, marque a alternativa que descreve **corretamente** a sua simbologia.

- (A) Pressão do sistema de arrefecimento.
- (B) Temperatura do óleo hidráulico.
- (C) Temperatura do sistema de arrefecimento.
- (D) Pressão do óleo hidráulico.

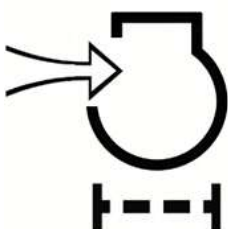
Questão 15

Os Operadores de Máquinas que forem conduzir trator de roda, trator de esteira, trator misto ou o equipamento automotor destinado à movimentação de cargas ou execução de trabalho agrícola, de terraplenagem, de construção ou de pavimentação em vias públicas deverão estar habilitados minimamente em qual categoria? Marque a alternativa CORRETA.

- (A) Categoria A.
- (B) Categoria B.
- (C) Categoria C.
- (D) Categoria AB.

Questão 16

Observe a imagem abaixo e analise:



Após análise, marque a alternativa que descreve **corretamente** a sua simbologia.

- (A) Filtro de ar do motor.
- (B) Pressão de ar de admissão.
- (C) Filtro de óleo do motor.
- (D) Filtro de água do motor.

Questão 17

Observe as alternativas abaixo e marque a que descreve **corretamente** qual a principal função da válvula de escape dos motores a combustão.

- (A) Deixar entrar a mistura de ar com combustível.
- (B) Controla a temperatura interna nos motores.
- (C) Deixa entrar água no motor para sua refrigeração.
- (D) Controlar a saída dos gases resultantes da explosão.

Questão 18

Qual o tipo de freio o condutor deverá acionar quando o veículo estiver imobilizado?

- (A) Freio magnético.
- (B) Freio de estacionamento.
- (C) Freio motor.
- (D) Freio de acionamento.

Questão 19

Observe a imagem abaixo e analise:



Após análise, marque a alternativa que descreve **corretamente** o significado da placa de trânsito.

- (A) Pista irregular.
- (B) Projeção de cascalho.
- (C) Fim de obras.
- (D) Obras a diante.

Questão 20

Observe as alternativas abaixo e marque a que descreve **corretamente** qual a principal função da válvula de admissão dos motores a combustão.

- (A) Controla a temperatura interna nos motores.
- (B) Deixar entrar a mistura ar-combustível.
- (C) Deixa entrar água no motor para sua refrigeração.
- (D) Controlar a saída dos gases resultantes da explosão.

Língua Portuguesa

O texto seguinte servirá de base para responder à questão 21.

Síndrome da pessoa rígida: doença neurológica causa dor e limita movimentos

A Síndrome da pessoa rígida, antigamente chamada de síndrome do homem rígido, causa dores e espasmos musculares intensos. No decorrer dos anos, aqueles que sofrem com a condição podem desenvolver rigidez permanente em áreas importantes do corpo.

A síndrome é uma condição autoimune rara que, comumente, começa enrijecendo músculos do tronco, pernas, braços, até chegar em outros músculos do corpo. Alguns casos são piores do que outros, já que há pacientes que precisam de tratamento contínuo para manter um pouco de qualidade de vida; outros casos podem levar a uma rigidez extrema que limita a capacidade de andar e se locomover.

Como é muito rara, a síndrome neurológica costuma afetar apenas um paciente em cada um milhão de pessoas, e as mulheres têm duas vezes mais chances de serem diagnosticadas com a condição. Normalmente, os primeiros sinais do problema costumam aparecer entre 30 e 60 anos, contudo, podem ocorrer em qualquer idade.

Apesar de surgir em diferentes pessoas, é mais comum

que a doença se desenvolva em pacientes com outras doenças autoimunes, como diabete, vitiligo, tireoide e anemia perniciosa. Além disso, a síndrome também está associada a pessoas com câncer de pulmão, cólon, mama, tireoide etc.

Síndrome da pessoa rígida: doença neurológica causa dor e limita movimentos (msn.com). Adaptado.

Questão 21

A síndrome da pessoa rígida (SPR) é um distúrbio raro que costuma paralisar o movimento das pessoas ao afetar o sistema nervoso central. A condição é autoimune e atinge o cérebro e a medula espinhal do paciente - no início, ela pode até aparecer e desaparecer, mas ao longo do tempo, a rigidez será constante.

De acordo com o texto:

- (A) A doença não é comum de se ver a todo momento, sendo que os homens têm menos probabilidade de serem afetados.
- (B) Sendo uma doença infecciosa, deve-se tomar cuidado ao se aproximar de pessoas que sofrem desta doença, para não ser contaminado.
- (C) A síndrome é muito comum em pacientes que apresentam quadros de outras doenças, como estresse, depressão, síndrome do pânico.
- (D) Pessoas entre 30 e 60 anos são mais resistentes à doença, sendo que, após essa idade, ela é bastante agressiva.

Questão 22

A Síndrome da pessoa rígida, antigamente chamada de síndrome do homem rígido, causa dores e espasmos musculares intensos.

A série de palavras que contém apenas substantivos é:

- (A) dores - causa - rígida
- (B) síndrome - dores - espasmos
- (C) espasmos - Síndrome - rígido
- (D) pessoa - causa - homem

Questão 23

Outros casos podem levar a uma rigidez extrema que limita a capacidade de andar e se locomover.

O número de artigos presentes na frase distribui-se da seguinte forma:

- (A) Dois artigos indefinidos e dois artigos definidos.
- (B) Dois artigos indefinidos e um artigo definido.
- (C) Um artigo indefinido e dois artigos definidos.
- (D) Um artigo indefinido e um artigo definido.

Questão 24

A síndrome é uma condição autoimune rara.

Assinale a opção CORRETA quanto à sintaxe.

- (A) O sujeito da frase é a palavra 'síndrome'.
- (B) O sujeito da frase é a expressão 'A síndrome'.
- (C) O predicado é a expressão 'é uma condição autoimune'.
- (D) O predicado é a expressão 'é uma condição'.

Questão 25

Como é muito rara, a síndrome neurológica 'afeta' apenas um paciente em cada um milhão.

Conjugando o verbo destacado no pretérito imperfeito do indicativo, tem-se:

- (A) Como é muito rara, a síndrome neurológica 'afetaria' apenas um paciente em cada um milhão.
- (B) Como é muito rara, a síndrome neurológica 'afetou' apenas um paciente em cada um milhão.
- (C) Como é muito rara, a síndrome neurológica 'afetara' apenas um paciente em cada um milhão.
- (D) Como é muito rara, a síndrome neurológica 'afetava' apenas um paciente em cada um milhão.

Questão 26

No decorrer dos anos, aqueles que sofrem com a condição podem desenvolver rigidez permanente em áreas importantes do corpo.

Assinale a expressão que contenha, pelo menos, um adjetivo.

- (A) aqueles que sofrem com
- (B) rigidez permanente em
- (C) No decorrer dos anos
- (D) em áreas do corpo

Questão 27

Além disso, a síndrome também está associada a pessoas com câncer de pulmão, cólon, mama, tireoide etc.

As duas palavras que são acentuadas exatamente pela mesma regra são:

- (A) câncer - cólon
- (B) além - também
- (C) também está
- (D) está - pulmão

Questão 28

Como é muito rara, a síndrome neurológica costuma afetar apenas um paciente em cada um milhão de pessoas.

Assinale a opção que contenha a nova pontuação CORRETA dentro dos padrões gramaticais vigentes.

- (A) A síndrome neurológica, como é muito rara, costuma afetar apenas um paciente em cada um milhão de pessoas.
- (B) A síndrome neurológica como é muito rara, costuma afetar apenas um paciente em cada um milhão de pessoas.
- (C) A síndrome neurológica, como é muito rara costuma afetar apenas um paciente em cada um milhão de pessoas.
- (D) A síndrome neurológica, como é muito, rara costuma afetar, apenas, um paciente em cada um milhão de pessoas.

Questão 29

A síndrome é uma condição autoimune rara que, comumente, começa 'enrijecendo' músculos do tronco.

O verbo destacado encontra-se conjugado no:

- (A) Particípio regular.
- (B) Particípio irregular.
- (C) Infinitivo pessoal.
- (D) Gerúndio.

Questão 30

Alguns casos são piores do que outros.

A frase, em se tratando de flexão dos adjetivos em grau, encontra-se no:

- (A) Comparativo de inferioridade.
- (B) Comparativo de superioridade.
- (C) Superlativo sintético.
- (D) Superlativo de superioridade.

Conhecimentos Gerais

Questão 31

A Lei Orgânica de Anchieta/SC cita como um dos direitos dos servidores públicos estáveis do município:

- (A) Remuneração do trabalho noturno superior à do diurno.
- (B) Remuneração do trabalho noturno inferior à do diurno.
- (C) Remuneração do trabalho noturno 50% maior que a do diurno.
- (D) Remuneração do trabalho noturno equiparado à do diurno.

Questão 32

Antes de se tornar município, o território onde hoje se encontra Anchieta/SC pertenceu a três cidades, são elas:

- (A) São Miguel do Oeste, São José do Cedro e Guaraciaba.
- (B) Chapecó, São Miguel do Oeste e Guaraciaba.

- (C) São José do Cedro, Palma Sola e Chapecó.
- (D) São José do Cedro, Guaraciaba e Palma Sola.

Questão 33

Tendo sido considerado o posto português mais avançado da América do Sul, Santa Catarina despertou a ambição dos espanhóis, que invadiram o território em 1777, devolvendo no mesmo ano por meio do:

- (A) Tratado de Santo Agostinho.
- (B) Tratado de Santo Idelfonso.
- (C) Tratado de Tordesilhas.
- (D) Tratado de Nossa Senhora do Desterro.

Questão 34

De acordo com a Lei Orgânica do Município de Anchieta/SC, constitui uma condição para que o servidor público estável perca o cargo:

- (A) Em virtude de ato institucional do chefe do Poder Executivo.
- (B) Em virtude de sentença judicial transitada em julgamento.
- (C) Em virtude de desejo manifestado por meio de ação popular.
- (D) Desde que haja processo judicial contra sua pessoa em andamento.

Questão 35

A saúde tem sido foco de grande preocupação da população mundial nos últimos anos, que após acompanhar milhões de mortes causadas pela covid-19, viveu o drama de temer uma nova pandemia por meio de uma doença que se espalhou por alguns países, mas felizmente em proporções infinitamente menores que no caso da anterior. Qual é essa doença?

- (A) O mal da vaca louca.
- (B) A varíola dos macacos.
- (C) A gripe aviária.
- (D) A cólera.