



PREFEITURA MUNICIPAL DE SÃO JOSÉ DE PIRANHAS - PB

NÍVEL FUNDAMENTAL INCOMPLETO

**AGENTE DE CORREIÇÃO ANIMAL - AUXILIAR DE MAGAREFE
CALCETEIRO - COVEIRO - GARI - JARDINEIRO - MERENDEIRA
OPERADOR DE MÁQUINAS PESADAS - PEDREIRO - SERVENTE DE OBRAS
VIGIA - ZELADOR**

EXAME GRAFOTÉCNICO:

(Transcreva a frase abaixo no local indicado na sua Folha de Respostas)

**Seus filhos são fortes, seu povo tem fé
Oh, meu São José! São José de Piranhas!**

INSTRUÇÕES:

- 01** Verifique se este caderno de provas contém **40 (quarenta)** questões de múltipla escolha, sendo Português de **01 a 20**, Matemática de **21 a 30** e Conhecimentos Gerais de **31 a 40**.
- 02** Observe se há falhas ou imperfeições gráficas que causem dúvidas. Caso existam, comunique imediatamente ao Fiscal de Sala.
- 03** Verifique se os dados existentes na Folha de Respostas conferem com os dados do Cartão de Inscrição.
- 04** Esta Prova tem duração de **4 (quatro)** horas. Não é permitida a saída do candidato antes de esgotado o tempo mínimo de **2 (duas)** horas.
- 05** É vetado, durante a prova, o intercâmbio ou empréstimo de material de qualquer natureza entre os candidatos, bem como o uso de celulares, calculadoras e/ou qualquer outro tipo de equipamento eletrônico. A fraude, ou tentativa, a indisciplina e o desrespeito às autoridades encarregadas dos trabalhos são faltas que eliminam o candidato.
- 06** Assine a **Lista de Presença** e entregue ao Fiscal de Sala a **Folha de Respostas** devidamente assinada, bem como o **Caderno de Prova**.



PORTUGUÊS

Leia o Texto I e responda às questões de 1 a 4:

Texto I

A Europa esquentada, esquentada, esquentada...

Em duas semanas não consecutivas, a Organização Mundial da Saúde (OMS) divulgou os efeitos lesivos aos europeus decorrentes do calor excessivo. Agora, na terça-feira 20, a instituição fechou alguns dados e os divulgou. O que diz respeito ao número de óbitos é estarrecedor: o calor, incessante e extremo, vem sendo responsável, em média, por pelo menos cento e setenta mil mortes anuais — em 2024 já vitimou quase cem mil pessoas. Esse continente é o que apresenta o ritmo mais rápido de aquecimento, respondendo por aproximadamente 35% das mortes em todo o mundo em consequência da mudança climática. Nos últimos vinte anos, registrou-se na Europa um aumento de temperatura na casa dos 20%. “Essa região está aquecendo mais rápido que qualquer outra do planeta”, escreveu em nota oficial o diretor regional da OMS, Hans Kluge. “As temperaturas aumentam cerca de duas vezes mais rapidamente”. O denominado “estresse térmico” causa doenças respiratórias e cardiovasculares, diabetes e problemas relacionados à saúde mental. Fonte: ISTO É. **Semana**. 22 ago. 2024. Disponível em: <https://www.pressreader.com/brazil/isto-e/20240822/page/19/textview>. Acesso em: 03 out. 2024.

1ª QUESTÃO

Assinale a alternativa CORRETA em relação às ideias apresentadas no Texto I.

- a) O calor extremo na Europa tem causado aproximadamente cento e setenta mil mortes por ano.
- b) O continente europeu responde por 50% das mortes globais relacionadas à mudança climática.
- c) O aumento de temperatura na Europa foi de 10% nos últimos vinte anos.
- d) O diretor regional da OMS afirmou que a Europa está aquecendo na mesma velocidade que o restante do planeta.
- e) O calor na Europa não tem causado danos significativos à população, haja vista as políticas de combate ao aquecimento global.

2ª QUESTÃO

Considere as assertivas que seguem a respeito das consequências do aumento da temperatura na Europa, consoante o Texto I.

- I- Doenças respiratórias e cardiovasculares.
- II- Alzheimer e perda de memória.
- III- Diabetes e problemas relacionados à saúde mental.
- IV- Obesidade e doenças infecciosas.

É CORRETO o que se afirma em:

- a) I, II, III e IV.
- b) I e II apenas.
- c) III apenas.
- d) I e III apenas.
- e) I apenas.

3ª QUESTÃO

No título “A Europa esquentada, esquentada, esquentada...”, observa-se a repetição do termo “esquentada”. Assinale a alternativa que justifica esta repetição.

- a) O termo “esquentada” está sendo repetido para enfatizar as altas temperaturas que têm sido observadas na Europa.
- b) A repetição do termo “esquentada” ocorre para indicar que houve uma tradução do texto da língua inglesa para o português brasileiro.
- c) A repetição do termo “esquentada” está associada à transitividade do verbo “esquentar”.
- d) O termo “esquentada” está sendo empregado três vezes para demonstrar que a temperatura na Europa tem aumentado três graus por ano.
- e) A repetição do termo “esquentada” serve para minimizar os efeitos causadas pelo aumento da temperatura na Europa.

4ª QUESTÃO

No fragmento “O que diz respeito ao número de óbitos é estarrecedor”, o termo “estarrecedor” significa:

- a) que provoca ruído.
- b) que provoca estresse.
- c) que causa náuseas.
- d) que causa espanto.
- e) que provoca exposição.

Leia o Texto II e responda às questões de 5 a 8:

Texto II



Disponível em: <https://www.instagram.com>. Acesso em: 02 out. 2024.

5ª QUESTÃO

Marque a alternativa CORRETA a respeito das ideias apresentadas no Texto II.

- a) A segunda cena sugere que a mãe representada incentiva mais o uso de tecnologias do que brincadeiras ao ar livre.
- b) As duas cenas retratam o cuidado da figura materna com o gerenciamento das atividades do(s) filho(s).
- c) A primeira cena sugere que a mãe representada não se importa com as atividades do filho.
- d) A segunda cena sugere que a mãe representada acredita que brincar com o celular é mais seguro do que brincar ao ar livre.
- e) As duas cenas sugerem o controle desmedido e desnecessário de todas as mães com as atividades dos filhos.

6ª QUESTÃO

Assinale a alternativa CORRETA em relação ao(s) tempo(s) retratado(s) no Texto II.

- a) O texto retrata apenas o tempo futuro.
- b) O texto retrata dois tempos distintos: o presente e o futuro.
- c) O texto retrata apenas o tempo presente.
- d) O texto retrata apenas o tempo passado.
- e) O texto retrata dois tempos distintos: o passado e o presente.

7ª QUESTÃO

Nos fragmentos “Larga essa brincadeira” e “Larga esse celular”, o termo “larga” indica:

- a) uma certeza.
- b) uma dúvida.
- c) uma ordem.
- d) uma incerteza.
- e) uma possibilidade.

8ª QUESTÃO

Assinale a alternativa CORRETA em relação ao sinal de pontuação “!!!” empregado no fragmento: “Larga essa brincadeira e vem pra dentro!!!”.

- a) As exclamações indicam uma emoção forte por parte da mãe.
- b) As exclamações sugerem uma fala despreziosa e descontrada da mãe.
- c) As exclamações foram usadas para indicar uma pergunta retórica.
- d) As exclamações foram utilizadas para suavizar a fala da mãe.
- e) As exclamações foram usadas para transmitir carinho e tranquilidade.

Leia o Texto III e responda às questões de 09 a 12:

Texto III



Disponível em: <https://www.instagram.com>. Acesso em: 04 out. 2024.

9ª QUESTÃO

Analise as afirmações que seguem a respeito da linguagem empregada na situação comunicativa apresentada no Texto III.

- I- A forma reduzida “Tá” é uma forma bastante empregada no registro informal.
- II- A forma desenvolvida de “Tá tudo bem com você?” seria “Está tudo bem com você?”.
- III- O enunciado “Tá tudo bem com você?” seria considerado formal em qualquer contexto.
- IV- A forma desenvolvida de “Tá tudo bem com você?” seria “Estar tudo bem com você?”.

É CORRETO o que se afirma em:

- a) I e III apenas.
- b) I e II apenas.
- c) II e IV apenas.
- d) I, II, III e IV.
- e) II apenas.

10ª QUESTÃO

No fragmento “Como você está se sentindo hoje? Eu vou te examinar”, o pronome “eu” corresponde à:

- a) segunda pessoa do plural.
- b) segunda pessoa do singular.
- c) terceira pessoa do singular.
- d) primeira pessoa do plural.
- e) primeira pessoa do singular.

11ª QUESTÃO

Considere os termos “você”, “médico” e “já”, extraídos do fragmento “Você é o médico mais humano que já conheci”, e analise as assertivas abaixo sobre o emprego da acentuação gráfica.

- I- Os termos “médico” e “já” receberam acento agudo.
- II- O termo “você” recebeu acento circunflexo.
- III- As três palavras receberam acento gráfico em razão da mesma regra.

É CORRETO o que se afirma apenas em:

- a) III.
- b) I e III.
- c) I e II.
- d) I.
- e) II.

12ª QUESTÃO

No excerto “Você é o médico mais humano que já conheci”, a palavra “médico” recebe acento gráfico pela mesma regra que determina o emprego do acento em:

- a) saúde.
- b) você.
- c) robô.
- d) boné.
- e) térmico.

Leia o Texto IV e responda às questões de 13 a 15:

Texto IV

Cortar o Tempo

Quem teve a ideia de cortar o tempo em fatias,
a que se deu o nome de ano,
foi um indivíduo genial.
Industrializou a esperança,
fazendo-a funcionar no limite da exaustão.
Doze meses dão para qualquer ser humano
se cansar e entregar os pontos.
Aí entra o milagre da renovação
e tudo começa outra vez,
com outro número e outra vontade de acreditar que
daqui pra diante vai ser diferente.

Fonte: ANDRADE, Carlos Drummond de. **Cortar o Tempo**. Disponível em:

http://catalogo.educacaonaculturadigital.mec.gov.br/hypermedia_files/live/gestao/pagina-2.html. Acesso em: 07 out. 2024.

13ª QUESTÃO

Analise as afirmações sobre o poema “Cortar o Tempo”, de Carlos Drummond de Andrade.

- I- O texto sugere que, com o passar dos meses, as pessoas se sentem mais fortalecidas.
- II- O autor expressa a ideia de que, ao final de doze meses, as pessoas se sentem esgotadas.
- III- O texto sugere que as pessoas renovam suas esperanças a cada ano, apesar do cansaço.

É CORRETO o que se afirma apenas em:

- a) II.
- b) I e III.
- c) III.
- d) I e II.
- e) II e III.

14ª QUESTÃO

Assinale a alternativa que apresenta a relação adequada entre o termo sublinhado no fragmento e a classe de palavras correspondente.

- a) “Industrializou a esperança” – adjetivo.
- b) “Doze meses dão para qualquer ser humano” – verbo.
- c) “foi um indivíduo genial” – pronome.
- d) “Quem teve a ideia de cortar o tempo em fatias” – substantivo.
- e) “Aí entra o milagre da renovação” – verbo.

15ª QUESTÃO

No trecho “Industrializou a esperança, fazendo-a funcionar no limite da exaustão”, o termo “exaustão” significa:

- a) alívio temporário.
- b) cansaço extremo.
- c) esquecimento.
- d) segurança.
- e) memória curta.

Leia o Texto V e responda às questões de 16 a 20:

Texto V

Cresce parcela da população que afirma sempre reciclar

Cresceu o percentual de brasileiros que dizem sempre separar materiais para reciclagem, segundo a pesquisa Sustentabilidade & Opinião Pública, da Confederação Nacional da Indústria (CNI). A porcentagem chegou a 47%, contra 44% no ano passado. Os itens mais separados são plásticos em geral e garrafas PET (55%), alumínio (44%), e papel, papelão e jornal (44%). O levantamento diz respeito a todos os tipos de produtos, não apenas lixo, diz a CNI.

Fonte: CRESCE PARCELA DA POPULAÇÃO QUE AFIRMA SEMPRE RECICLAR. **O Estado de São Paulo**, Economia & Negócios, B18, 03 out. 2024. Disponível em: <https://www.pressreader.com/brazil/o-estado-de-s-paulo/20241003/page/42/textview>. Acesso em: 03 out. 2024.

16ª QUESTÃO

Analise as assertivas abaixo consoante as ideias apresentadas no Texto V.

- I- O texto afirma que houve um aumento no número de brasileiros que separam materiais para reciclagem.
- II- Dentre os itens mais separados pelos brasileiros, estão os plásticos e garrafas PET.
- III- Os dados apresentados são de uma pesquisa realizada pelo Jornal O Estado de S. Paulo.

É CORRETO o que se afirma em:

- a) I e II apenas.
- b) II apenas.
- c) I e III apenas.
- d) I, II e III.
- e) I apenas.

17ª QUESTÃO

Assinale a alternativa CORRETA em relação aos propósitos comunicativos do Texto V.

- a) O texto mostra que a separação de materiais aumentou em razão de políticas governamentais.
- b) O texto chama a atenção da população para os problemas causados pela falta de reciclagem no país.
- c) O texto divulga a tendência de separação de materiais recicláveis no cenário brasileiro.
- d) O texto destaca o relevante papel da Confederação Nacional da Indústria no controle dos materiais reciclados.
- e) O texto aponta a falta de compromisso da população brasileira com a reciclagem.

18ª QUESTÃO

Analise as afirmações abaixo sobre o fragmento “O levantamento diz respeito a todos os tipos de produtos, não apenas lixo, diz a CNI”.

- I- A sigla CNI foi empregada para retomar “pesquisa Sustentabilidade & Opinião Pública”.
- II- A sigla CNI está sendo usada para substituir “Confederação Nacional da Indústria”.
- III- A sigla “CNI” significa “Centro Nacional de Inovações”.

É CORRETO o que se afirma em:

- a) I, II e III.
- b) I e III apenas.
- c) II apenas.
- d) I apenas.
- e) III apenas.

19ª QUESTÃO

No fragmento “Cresceu o percentual de brasileiros que dizem sempre separar materiais para reciclagem”, o termo “percentual” diz respeito a:

- a) valor.
- b) medida.
- c) diferença.
- d) proporção.
- e) peso.

20ª QUESTÃO

Analise o número de sílabas das palavras “porcentagem” e “passado”, extraídas do fragmento “A porcentagem chegou a 47%, contra 44% no ano passado”.

- I- A palavra “porcentagem” possui quatro sílabas.
- II- A palavra “passado” possui três sílabas.
- III- A separação silábica da palavra “porcentagem” é por-cen-ta-gem.
- IV- A separação silábica da palavra “passado” é pa-ssa-do.
- V- A palavra “passado” é classificada como dissílabo.

É CORRETO o que se afirma em:

- a) I e II apenas.
- b) I, II e III apenas.
- c) I, II, III, IV e V.
- d) II, III e IV apenas.
- e) IV e V apenas.

MATEMÁTICA

21ª QUESTÃO

Matheus, após reformar sua casa, decidiu também trocar alguns móveis. Foi a uma loja e comprou um refrigerador, no valor de R\$ 3.900,00; uma TV, no valor de R\$ 2.500,00; um sofá, no valor de R\$ 1.200,00 e um fogão, no valor de R\$ 650,00. Porém, como disse ao vendedor que iria pagar por essas compras no pix, ganhou um desconto de 5% sobre o valor do refrigerador, 7% sobre o valor da TV, 10% sobre o valor do sofá e 12% sobre o valor do fogão. Desse modo, o valor que Matheus economizou por ter feito a compra pagando através de pix foi de:

- a) R\$ 568,00.
- b) R\$ 825,00.
- c) R\$ 668,00.
- d) R\$ 570,00.
- e) R\$ 725,00.

22ª QUESTÃO

Jean foi prestar um concurso na sua cidade, cuja prova tinha 30 questões, e a pontuação era contabilizada da seguinte maneira: para cada questão correta, o candidato ganha 3 pontos e para cada questão errada, o candidato perdia um ponto. Se Jean acertou 22 questões, é CORRETO afirmar que ele fez:

- a) 60 pontos.
- b) 66 pontos.
- c) 90 pontos.
- d) 56 pontos.
- e) 58 pontos.

23ª QUESTÃO

Pedro trabalha em uma grande empresa produtora de alimentos e seu salário mensal fixo é de R\$ 3.200,00. No entanto, em algumas ocasiões especiais, seu gerente lhe pede para fazer horas-extras a fim de deixar prontos para venda grandes pedidos. Para cada hora-extra que Pedro faz, a empresa lhe paga a quantia de R\$ 58,50, valor que a empresa paga a Pedro quando ele solicita, pois ele pode deixar as horas serem acumuladas para resgate do valor em momento oportuno, de acordo com a escolha do funcionário. Pedro solicitou que a empresa lhe fizesse no próximo pagamento o valor referente às vinte e três horas-extras que ele havia trabalhado. Nesse caso, o valor que Pedro vai receber de salário esse mês por conta dessas horas-extras é de:

- a) R\$ 4.545,00.
- b) R\$ 3.258,50.
- c) R\$ 4.545,50.
- d) R\$ 4.500,00.
- e) R\$ 4.345,50.

24ª QUESTÃO

Josilene vai entrar de férias e fará uma viagem para os EUA. Ela planejou toda a sua viagem, passeios, hospedagens, alimentação e compras em geral e percebeu que precisaria de 6.450 dólares americanos. Sabendo que 1 dólar americano vale R\$ 5,60 real brasileiro, o valor que Josilene precisa, em real brasileiro, para fazer esta viagem é:

- a) R\$ 1.151,79.
- b) R\$ 36.120,00.
- c) R\$ 35.475,00.
- d) R\$ 1.172,73.
- e) R\$ 6.450,00.

RASCUNHO

25ª QUESTÃO

Jussara comprou uma máquina de lavar para sua casa. Nessa loja, o preço desse produto era de R\$ 2.120,00, mas havia um desconto de 6% caso a compra fosse feita no pix ou um acréscimo de 2% caso a compra fosse feita com cartão de crédito. Sendo C o valor da compra feita com cartão de crédito e P o valor da compra feita com pix, é CORRETO afirmar que $C - P$ vale:

- a) R\$ 2.289,60.
- b) R\$ 170,00.
- c) R\$ 169,60.
- d) R\$ 1.950,40.
- e) R\$ 192,70.

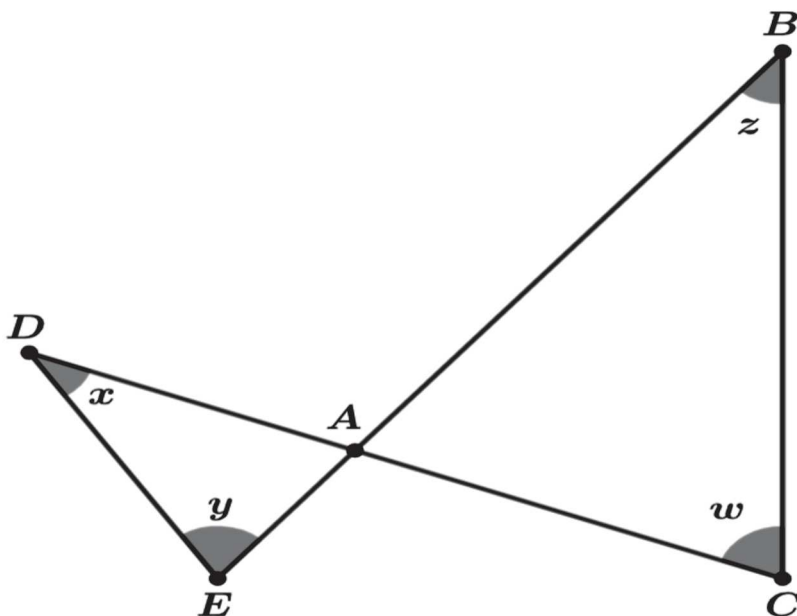
26ª QUESTÃO

Rafinha faz aniversário esse mês, e seus pais organizaram toda a festa para convidar um total de 75 pessoas, tendo com isso um custo de R\$ 3.500,00. No entanto, esqueceram-se de colocar na lista 15 pessoas e tiveram que recalcular os custos da festa. Sabendo que o preço por pessoa é sempre proporcional, independentemente da pessoa, é CORRETO afirmar que os pais de Rafinha vão gastar:

- a) R\$ 1.000,00 a mais pelo acréscimo dessas 15 pessoas.
- b) R\$ 700,00 a mais pelo acréscimo dessas 15 pessoas.
- c) R\$ 800,00 a mais pelo acréscimo dessas 15 pessoas.
- d) R\$ 750,00 a mais pelo acréscimo dessas 15 pessoas.
- e) R\$ 900,00 a mais pelo acréscimo dessas 15 pessoas.

27ª QUESTÃO

A figura a seguir exibe dois triângulos escalenos, o triângulo ABC e o triângulo ADE , e esses triângulos estão unidos pelo vértice A , que é comum aos dois. São destacados os ângulos internos x, y do triângulo ADE e os ângulos z, w do triângulo ABC . Está CORRETO acerca desses ângulos o que está descrito no item:

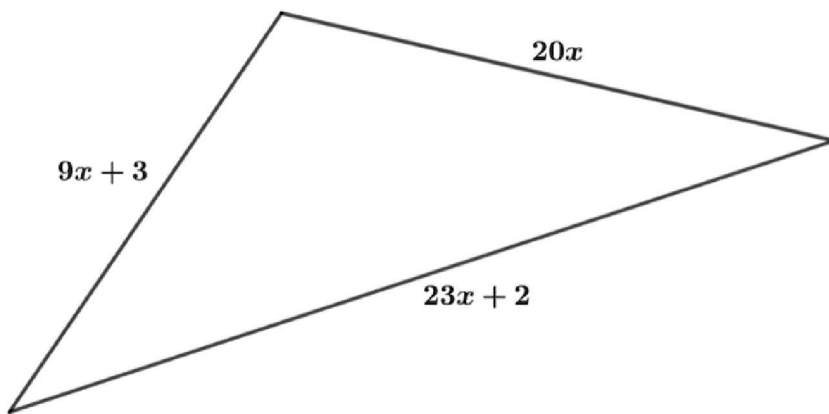


- a) $x + y = z$.
- b) $x = y$ e $z = w$.
- c) $x + z = y + w$.
- d) $x + y = z + w$.
- e) $z + w = y$.

RASCUNHO

28ª QUESTÃO

Observe a figura a seguir:



Sabendo que esse triângulo possui 31 cm de perímetro, é CORRETO afirmar que o dobro do número x vale:

- a) 1
- b) 2
- c) $\frac{1}{2}$
- d) $\frac{1}{4}$
- e) 4

29ª QUESTÃO

Luziane tomou a palavra PATO e montou todos os anagramas que se podem fazer com esta palavra, ou seja, formou todas as palavras possíveis com essas quatro letras, mesmo que seja um vocábulo que não faça sentido na língua portuguesa, como, por exemplo, o anagrama TPAO. Suponha que Luziane colocasse todos esses anagramas formados seguindo a sequência da ordem alfabética, ou seja, todos os que começam com a letra A; depois, todos os que começam com a letra O e assim sucessivamente usando o mesmo princípio, como em um dicionário. É CORRETO afirmar que o anagrama PATO ocuparia a:

- a) 11ª posição.
- b) 12ª posição.
- c) 20ª posição.
- d) 14ª posição.
- e) 13ª posição.

30ª QUESTÃO

Luís recebeu um dinheiro que um amigo lhe devia, e, como não estava esperando aquele dinheiro naquele momento, decidiu usar metade desse valor para consertar seu carro. A quinta parte do que lhe sobrou deu à sua filha mais velha; em seguida, do que sobrou, deu metade à sua esposa, e, por fim, do que sobrou, deu a quinta parte à sua filha mais nova, restando-lhe R\$ 256,00. Quanto Luís recebeu de seu amigo?

- a) R\$ 3.200,00.
- b) R\$ 752,94.
- c) R\$ 1.000,00.
- d) R\$ 950,00.
- e) R\$ 1.600,00.

RASCUNHO

CONHECIMENTOS GERAIS

31ª QUESTÃO

O Brasil adota, atualmente, a República e a Federação como formas de organização política e administrativa. Analisando o funcionamento destas formas de organização política do Brasil e comparando-as com as organizações de outros países, é CORRETO afirmar que:

- a) a Federação Brasileira é composta pela união dos Estados, do Distrito Federal e dos Municípios.
- b) o Brasil e todos os países do mundo adotam a República como forma de governar seus territórios.
- c) na República, quem governa o país é o Parlamento. Isto ocorre no Brasil e em outras Repúblicas.
- d) a Federação brasileira é composta apenas pela junção das cinco regiões e dos seus estados.
- e) o Brasil sempre foi uma República e sempre ocorreram eleições para a escolha de seu presidente.

32ª QUESTÃO

Observe a vegetação na imagem abaixo e em seguida leia a pergunta.



Disponível em: https://www.google.com/search?cinzenta&sca_esv. Acesso em: 19 mar. 2024.

A imagem acima apresenta uma vegetação xerófita exclusivamente brasileira, típica da região Nordeste e que domina mais da metade do estado da Paraíba. Sobre esta vegetação e sua ocorrência na Paraíba, assinale a alternativa CORRETA.

- a) A vegetação é a Caatinga, com plantas muito resistentes à escassez de chuvas e às secas.
- b) É uma vegetação típica da Mata Atlântica, com plantas e árvores de grande porte.
- c) Esta vegetação ocorre na Paraíba apenas nas regiões onde as chuvas são abundantes.
- d) Esta vegetação identifica as paisagens das regiões do litoral e do brejo paraibano.
- e) Nesta vegetação, a vida animal foi extinta, devido às características das plantas e à escassez d'água.

33ª QUESTÃO

Leia o texto abaixo.

O que é a tecnologia da informação e por que ela está em alta?

A tecnologia da informação chegou para ficar e tornar nossa vida mais fácil, ao automatizar tarefas simples. Temos celulares, computadores e diversos dispositivos de comunicação cada vez mais inteligentes, com *apps* que nos conectam. Com uma palavra, um assistente virtual pode colocar sua música preferida, resumir as notícias do dia ou adicionar itens à sua lista de compras.


Disponível em: <https://ebaonline.com.br/blog/o-que-e-ti-seo>. Acesso em: 19 mar. 2024

Analisando o texto sobre a tecnologia da informação e sua importância no mundo atual, é CORRETO afirmar que:

- a) só quem usa a tecnologia da informação é a imprensa, para divulgar notícias e executar músicas.
- b) a tecnologia da informação é utilizada apenas por empresas para organizar seus processos de produção.
- c) a tecnologia da informação, disponível apenas para computadores, torna a vida mais complexa.
- d) a tecnologia da informação não permite o processo de automatização em nenhum tipo de atividade.
- e) a tecnologia da informação permite o desenvolvimento de *softwares*, das redes sociais e das telecomunicações.

34ª QUESTÃO

Observe a charge abaixo e em seguida leia o texto sobre alguns aspectos da educação no Brasil.



Disponível em: <https://www.google.com/search?q=charge+sobre+educa%C3%A7%C3%A3o+no+Brasil&ca>. Acesso em: 21 mar. 2024.

É evidente que o sistema educacional brasileiro enfrenta grandes desafios. Um dos principais problemas está na qualidade do ensino oferecido nas escolas, principalmente nas instituições públicas. O índice de reprovação e abandono escolar é alto, o que revela a falta de engajamento dos estudantes e a falta de recursos e infraestrutura adequada nas instituições.

Disponível em: <https://meuartigo.brasile scola.uol.com.br/educacao/uma-educacao-sem-qualidade-realidade-alar mante-da-educacao-no-pais.htm>. Acesso em: 21 mar. 2024.

A partir da análise da charge e do texto sobre a qualidade da educação no Brasil, assinale a alternativa CORRETA.

- a) A evasão escolar deixou de ser um problema educacional no Brasil, isto porque não mais se observa o abandono da escola por parte dos alunos.
- b) Um problema da educação básica no Brasil é a diferença na qualidade do ensino entre as escolas públicas e as escolas privadas.
- c) Conforme a charge e o texto, o problema das escolas públicas é de infraestrutura, relacionado com a oferta de energia elétrica.
- d) A oferta de uma adequada infraestrutura para a educação básica na rede pública assegura uma melhor qualidade de ensino para os alunos.
- e) O problema educacional relatado na charge e no texto é o analfabetismo, e atinge desigualmente as escolas públicas e as particulares.

35ª QUESTÃO

Leia abaixo os trechos abaixo da música “Tropeiros da Borborema”, composição de Raimundo Asfora e Rosil Cavalcante, gravada por Luiz Gonzaga.

São tropas de burros que vêm do sertão
Trazendo seus fardos de pele e algodão
O passo moroso só a fome galopa
Pois tudo atropela os passos da tropa
[...]
Estala relho marvado
Recordar hoje é meu tema
Quero é rever os antigos tropeiros da Borborema

Assim caminhavam as tropas cansadas
E os bravos tropeiros buscando pousada
Nos ranchos e aguados dos tempos de outrora
Saindo mais cedo que a barra da aurora
Riqueza da terra que tanto se expande
E se hoje se chama de Campina Grande.
[...]

Disponível em: <https://www.lettras.mus.br/luiz-gonzaga/682871/>. Acesso em: 22 mar. 2024.

Sobre os tropeiros, o algodão e sua importância na história econômica da Paraíba, é CORRETO afirmar que:

- a) os Tropeiros foram os fundadores da atual cidade de Campina Grande, fato que foi possibilitado em função da comercialização do algodão.
- b) os Tropeiros realizavam o transporte de algodão de Campina Grande para João Pessoa, que exportava este produto para outros países.
- c) o cultivo e o comércio do algodão foram atividades importantes para o crescimento de Campina Grande, no interior da Paraíba.
- d) os Tropeiros surgiram para fazer o transporte do algodão sobre a região do planalto da Borborema, no interior da Paraíba.
- e) os Tropeiros transportavam mercadorias em carros de boi e foram os responsáveis pela ocupação e povoamento do Sertão paraibano.

36ª QUESTÃO

Observe a charge abaixo.



Disponível em: <https://www.google.com/search?q=charge+sobre+o>. Acesso em: 22 mar. 2024.

A charge acima faz referência a uma das características do sistema econômico que comanda atualmente as economias mundial e brasileira. Nesse sistema, sob efeito da propaganda, as pessoas passam a adquirir produtos muito além daquilo que necessitam. Assinale a alternativa que indica CORRETAMENTE o nome deste sistema econômico e a situação apresentada na charge.

- a) Mercado e racionamento.
- b) Socialismo e preservacionismo.
- c) Capitalismo e consumismo.
- d) Comercialização e padronização.
- e) Globalização e conservação.

37ª QUESTÃO

Leia o texto a seguir sobre a cultura brasileira:

A **Cultura Brasileira** é o resultado da miscigenação de diversos grupos étnicos que participaram da formação da população brasileira. A diversidade cultural predominante no Brasil é consequência também da grande extensão territorial e das características geradas em cada região do país.

Disponível em: <https://www.todamateria.com.br/cultura-brasileira>. Acesso em: 22 mar. 2024.

Analisando o texto acima e considerando outros aspectos da cultura brasileira, é CORRETO afirmar que:

- a) existe uma homogeneidade cultural entre as regiões do Brasil.
- b) resultou da integração entre indígenas, portugueses e africanos.
- c) os indígenas não influenciaram a formação cultural do Brasil.
- d) a miscigenação ocorreu apenas entre portugueses e indígenas.
- e) cada região brasileira possui e fala seu próprio idioma.

38ª QUESTÃO

Leia os textos a seguir sobre a urbanização brasileira.

O processo de urbanização no Brasil teve início no século XX, a partir do processo de industrialização, que funcionou como um dos principais fatores para o deslocamento da população da área rural em direção à área urbana. [...] A partir de 1970, mais da metade dos brasileiros já se encontrava em áreas urbanas, cuja oferta de emprego e de serviços, como saúde, educação e transporte, eram maiores. [...] O rápido e desordenado processo de urbanização ocorrido no Brasil irá trazer uma série de consequências, e em sua maior parte negativas. A falta de planejamento urbano e de uma política econômica menos concentradora irá contribuir para a ocorrência de vários problemas.

Disponível em: <http://educacao.globo.com/geografia/assunto/urbanizacao/urbanizacao-brasileira>. Acesso em: 23 mar. 2024.

Analisando o texto sobre o processo de urbanização e as cidades brasileiras, é CORRETO afirmar que:

- a) no início do século XX, mais da metade da população brasileira já residia em áreas urbanas.
- b) o crescimento das cidades no Brasil, ocorreu acompanhado de um planejamento urbano.
- c) os problemas urbanos no Brasil ocorrem apenas nas regiões metropolitanas.
- d) o deslocamento de populações da área rural para áreas urbanas é denominado de êxodo rural.
- e) o rápido crescimento das cidades brasileiras trouxe consequências positivas para toda a população urbana.

39ª QUESTÃO

Observe a charge abaixo sobre entregadores de comida.



Disponível em: <https://www.google.com/search?q=charge+sobre+o+subemprego&sca>. Acesso em: 23 mar. 2024.

Segundo o IPEA (Instituto de Pesquisas Econômicas Aplicadas), existem no Brasil cerca de 1,5 milhão de pessoas trabalhando como entregadores de comida em cidades de todo o país. É um tipo de atividade em expansão. Considerando a charge acima e o perfil desses trabalhadores, é CORRETO afirmar que:

- a) possuem emprego formal e todos os direitos trabalhistas.
- b) são microempreendedores e trabalham por conta própria.
- c) trabalham normalmente durante o dia e folgam no final de semana.
- d) são trabalhadores informais, sem contrato de trabalho com os restaurantes.
- e) utilizam os serviços da plataforma Uber para realizar as entregas.

40ª QUESTÃO

O Brasil é, atualmente, um dos maiores produtores e exportadores mundiais de alimentos. A mecanização da agricultura e o uso de outras técnicas modernas foi um dos fatores importantes para transformar o Brasil em um grande produtor mundial no setor agropecuário.

Com relação à agropecuária brasileira, sua produção e exportações, leia as proposições a seguir.

- I- O agronegócio é responsável por toda a produção da agropecuária brasileira.
- II- Soja, carnes e açúcar são alguns dos produtos agrícolas mais exportados pelo Brasil.
- III- O Brasil exporta apenas os produtos que não são consumidos internamente por sua população.
- IV- Apesar das técnicas modernas, algumas áreas agrícolas ainda permanecem atrasadas.

É CORRETO o que se afirma apenas em:

- a) I, II e IV.
- b) II e III.
- c) III e IV.
- d) II, III e IV.
- e) II e IV.