



PREFEITURA MUNICIPAL DE SÃO JOSÉ DE PIRANHAS - PB

NÍVEL FUNDAMENTAL COMPLETO

AUXILIAR DE SERVIÇOS GERAIS
ENCANADOR - MONITOR DE CAPS - MOTORISTA B
MOTORISTA C - PORTEIRO - SERALHEIRO

EXAME GRAFOTÉCNICO:

(Transcreva a frase abaixo no local indicado na sua Folha de Respostas)

**Seus filhos são fortes, seu povo tem fé
Oh, meu São José! São José de Piranhas!**

INSTRUÇÕES:

- 01** Verifique se este caderno de provas contém **40 (quarenta)** questões de múltipla escolha, sendo Português de **01 a 20**, Matemática de **21 a 30** e Conhecimentos Gerais de **31 a 40**.
- 02** Observe se há falhas ou imperfeições gráficas que causem dúvidas. Caso existam, comunique imediatamente ao Fiscal de Sala.
- 03** Verifique se os dados existentes na Folha de Respostas conferem com os dados do Cartão de Inscrição.
- 04** Esta Prova tem duração de **4 (quatro)** horas. Não é permitida a saída do candidato antes de esgotado o tempo mínimo de **2 (duas)** horas.
- 05** É vetado, durante a prova, o intercâmbio ou empréstimo de material de qualquer natureza entre os candidatos, bem como o uso de celulares, calculadoras e/ou qualquer outro tipo de equipamento eletrônico. A fraude, ou tentativa, a indisciplina e o desrespeito às autoridades encarregadas dos trabalhos são faltas que eliminam o candidato.
- 06** Assine a **Lista de Presença** e entregue ao Fiscal de Sala a **Folha de Respostas** devidamente assinada, bem como o **Caderno de Prova**.



PORTUGUÊS

Leia o Texto I e responda às questões de 1 a 10.

Texto I

Banhos de mar

Meu pai acreditava que todos os anos se devia fazer uma cura de banhos de mar. E nunca fui tão feliz quanto naquelas temporadas de banhos em Olinda, Recife.

Meu pai também acreditava que o banho de mar salutar era o tomado antes de o sol nascer. Como explicar o que eu sentia de presente inaudito em sair de casa de madrugada e pegar o bonde vazio que nos levaria para Olinda ainda na escuridão?

De noite eu ia dormir, mas o coração se mantinha acordado, em expectativa. E de puro alvoroço, eu acordava às quatro e pouco da madrugada e despertava o resto da família. Vestíamos depressa e saíamos em jejum. Porque meu pai acreditava que assim devia ser: em jejum.

Saíamos por uma rua toda escura, recebendo a brisa da pré-madrugada. E esperávamos o bonde. Até que lá de longe ouvíamos o seu barulho se aproximando. Eu me sentava bem na ponta do banco: e minha felicidade começava. Atravessar a cidade escura me dava algo que jamais tive de novo. No bonde mesmo o tempo começava a clarear e uma luz trêmula de sol escondido nos banhava e banhava o mundo.

Eu olhava tudo: as poucas pessoas na rua, a passagem pelo campo com os bichos-de-pé: “Olhe um porco de verdade!” gritei uma vez, e a frase de deslumbramento ficou sendo uma das brincadeiras de minha família, que de vez em quando me dizia rindo: “Olhe um porco de verdade.”

Passávamos por cavalos belos que esperavam de pé pelo amanhecer.

Eu não sei da infância alheia. Mas essa viagem diária me tornava uma criança completa de alegria. E me serviu como promessa de felicidade para o futuro. Minha capacidade de ser feliz se revelava. Eu me agarrava, dentro de uma infância muito infeliz, a essa ilha encantada que era a viagem diária.

No bonde mesmo começava a amanhecer. Meu coração batia forte ao nos aproximarmos de Olinda. Finalmente saltávamos e íamos andando para as cabinas pisando em terreno já de areia misturada com plantas. Mudávamos de roupa nas cabinas. E nunca um corpo desabrochou como o meu quando eu saía da cabina e sabia o que me esperava.

O mar de Olinda era muito perigoso. Davam-se alguns passos em um fundo raso e de repente caía-se num fundo de dois metros, calculo.

O cheiro do mar me invadia e me embriagava. As algas boiavam. Oh, bem sei que não estou transmitindo o que significavam como vida pura esses banhos em jejum, com o sol se levantando pálido ainda no horizonte. Bem sei que estou tão emocionada que não consigo escrever. O mar de Olinda era muito iodado e salgado. E eu fazia o que no futuro sempre iria fazer: com as mãos em concha, eu as mergulhava nas águas, e trazia um pouco do mar até minha boca: eu bebia diariamente o mar, de tal modo queria me unir a ele.

Não demorávamos muito. O sol já se levantara todo, e meu pai tinha que trabalhar cedo [...].

Fonte: LISPECTOR, Clarice. Banho de mar. In: **Todas as crônicas**. Rio de Janeiro, Rocco, 2018, p. 193-195. Disponível em: <https://cronicabrasileira.org.br/cronicas/12670/banhos-de-mar>. Acesso em: 11 ago. 2024, com adaptações.

1ª QUESTÃO

Assinale a alternativa correta em relação ao Texto I.

O pai da narradora acreditava que o banho de mar:

- a) deveria ser evitado em dias de chuva.
- b) só é benéfico se tomado ao entardecer.
- c) deveria ser tomado após o desjejum e antes do sol nascer.
- d) era mais saudável se tomado antes do sol nascer e em jejum.
- e) deveria ser acompanhado de caminhadas na praia.

2ª QUESTÃO

Assinale a alternativa que contém um fragmento que explicita a alegria da narradora em sua viagem até Olinda.

- a) “eu bebia diariamente o mar, de tal modo queria me unir a ele” (10º§).
- b) “Eu me agarrava, dentro de uma infância muito infeliz” (7º§).
- c) “Eu olhava tudo: as poucas pessoas na rua, a passagem pelo campo com os bichos-de-pé” (5º§).
- d) “Eu me sentava bem na ponta do banco: e minha felicidade começava” (4º§).
- e) “Passávamos por cavalos belos que esperavam de pé pelo amanhecer” (6º§).

3ª QUESTÃO

Analise as assertivas a respeito do Texto I:

- I- A narradora revela que as viagens eram uma fuga da sua infância infeliz.
- II- A narradora podia brincar com outras crianças no bonde durante as viagens.
- III- O bonde era muito confortável e luxuoso, o que proporcionava uma sensação de felicidade à narradora.
- IV- A narradora sempre foi uma criança muito feliz.

É CORRETO o que se afirma em:

- a) I apenas.
- b) I e II apenas.
- c) I, II, III e IV.
- d) II e IV apenas.
- e) III apenas.

4ª QUESTÃO

Assinale a alternativa que contém elementos que traduzem o sentimento da narradora ao encontrar-se com o mar.

- a) Insegurança e desconfiança.
- b) Medo e apreensão.
- c) Indiferença e rejeição.
- d) Desgosto e aversão.
- e) Emoção e encantamento.

5ª QUESTÃO

No fragmento “Meu pai também acreditava que o banho de mar salutar era o tomado antes de o sol nascer” (2º§), o termo “salutar” pode ser substituído sem alteração de sentido pelo termo:

- a) agradável.
- b) perigoso.
- c) relaxante.
- d) saudável.
- e) refrescante.

6ª QUESTÃO

No fragmento “De noite eu ia dormir, mas o coração se mantinha acordado, em expectativa” (3º§), o termo “mas” estabelece relação de:

- a) causa.
- b) oposição.
- c) adição.
- d) concessão.
- e) explicação.

7ª QUESTÃO

No fragmento “Finalmente saltávamos e íamos andando para as cabinas pisando em terreno já de areia misturada com plantas.” (8º§), o termo “e”:

- a) modifica o termo “finalmente”.
- b) estabelece relação de adição.
- c) indica uma circunstância de modo.
- d) funciona como elemento de intensidade.
- e) funciona como elemento de retomada do elemento anterior.

8ª QUESTÃO

Na passagem “Davam-se alguns passos em um fundo raso e de repente caía-se num fundo de dois metros, calculo” (9º§), o termo “calculo” confere:

- a) precisão na indicação da quantidade de passos.
- b) precisão na indicação da profundidade.
- c) estimativa na indicação da profundidade.
- d) estimativa na quantidade de passos.
- e) precisão na indicação de todas as informações apresentadas.

9ª QUESTÃO

Analise as assertivas abaixo a respeito do termo “que” na passagem: “Passávamos por cavalos belos que esperavam de pé pelo amanhecer” (6º§).

- I- Pode ser substituído por “os quais”.
- II- Pode ser substituído por “o qual”.
- III- Está sendo empregado para retomar “cavalos”.
- IV- Está sendo empregado para retomar “passávamos”.

É CORRETO o que se afirma apenas em:

- a) I e III.
- b) I, III e IV.
- c) III e IV.
- d) I.
- e) III.

10ª QUESTÃO

No excerto “Saíamos por uma rua toda escura, recebendo a brisa da pré-madrugada”, a forma verbal “saíamos” corresponde à:

- a) primeira pessoa do plural do modo indicativo.
- b) primeira pessoa do singular do modo subjuntivo.
- c) segunda pessoa do singular do modo indicativo.
- d) terceira pessoa do plural do modo subjuntivo.
- e) segunda pessoa do plural do modo indicativo.

Leia o Texto II e responda às questões de 11 a 16.

Texto II

REBECA LEVA PRATA E É MAIOR DO BRASIL EM JOGOS

Rebeca Andrade conquista prata, iguala recorde de velejadores e diz que 'está ficando gigante'

Ginasta brasileira fica na segunda colocação geral da disputa no salto, em Paris, e torna-se a atleta do país com maior número de medalhas, cinco, na história das Olimpíadas.

Nenhum brasileiro tem mais medalhas olímpicas do que Rebeca Andrade. São cinco. A mais recente delas foi obtida na tarde francesa de sábado (3), na Arena Bercy, onde ela ficou com a prata na prova do salto da ginástica artística dos Jogos de Paris, atrás somente da craque norte-americana Simone Biles.

Na França, a brasileira tem duelado com o maior nome da história da ginástica, que retornou em alto nível e triunfou na competição por equipes e na individual geral. Andrade foi respectivamente bronze e prata nesses torneios. No salto, ficou novamente atrás da lendária atleta dos Estados Unidos.

“A Simone é de outro mundo, né? A gente sempre busca evoluir da melhor maneira, e ver a ginástica incrível dela incentiva a todos, é uma inspiração”, afirmou a guarulhense, ciente de que também é espelho para muitos no Brasil. “Inspirar pessoas do meu país é muito bom, é algo que vou carregar para sempre.”

Fonte: PARIS, Marcos Guedes. Rebeca leva prata e é maior do Brasil em jogos. **Folha de S. Paulo**. Primeira Página. A1. 4 Aug 2024.

11ª QUESTÃO

Considerando as ideias apresentadas e os propósitos comunicativos do Texto II, analise as assertivas que seguem.

- I- O texto narra os principais acontecimentos dos Jogos Olímpicos de Paris, com ênfase em diferentes esportes e atletas.
- II- O texto argumenta a respeito do desempenho de Simone Biles e sua superioridade na ginástica artística em comparação aos demais competidores.
- III- O texto destaca o protagonismo de Rebeca Andrade no cenário esportivo, ao tempo que reforça o seu papel como inspiração para o seu país.

É CORRETO o que se afirma apenas em:

- a) I e III.
- b) II e III.
- c) III.
- d) I.
- e) I e II.

12ª QUESTÃO

Analise as assertivas que seguem sobre o fragmento: “Rebeca Andrade conquista prata, iguala recorde de velejadores e diz que está ficando gigante”.

- I- O termo “velejadores” é relativo à navegação e manobra de barcos à vela.
- II- A expressão “ficando gigante” foi empregada em sentido real.
- III- A expressão “ficando gigante” refere-se ao crescimento profissional da ginasta.
- IV- O termo “velejadores” é relativo à pilotagem de avião com acrobacias aéreas.
- V- A expressão “ficando gigante” refere-se ao crescimento intelectual da ginasta.

É CORRETO o que se afirma apenas em:

- a) I, II e V.
- b) III e IV.
- c) I e III.
- d) I.
- e) III.

13ª QUESTÃO

Analise as assertivas acerca do fragmento: “a brasileira tem duelado com o maior nome da história da ginástica” (2º§):

- I- Observa-se o emprego de uma linguagem formal, compatível com a linguagem jornalística.
- II- Trata-se de um fragmento extraído de um jornal de circulação nacional, razão pela qual precisa manter o rigor formal da língua.
- III- Trata-se de um fragmento extraído de um jornal local, razão pela qual não é necessário manter o rigor formal da língua.

É CORRETO o que se afirma em:

- a) II apenas.
- b) I, II e III.
- c) III apenas.
- d) I apenas.
- e) I e II apenas.

14ª QUESTÃO

Analise as afirmações que seguem a respeito do excerto “Nenhum brasileiro tem mais medalhas olímpicas do que Rebeca Andrade. São cinco. A mais recente delas foi obtida na tarde francesa de sábado (3), na Arena Bercy” (1º§).

- I- O fragmento “A mais recente delas” está sendo empregado para retomar “medalhas olímpicas”.
- II- O termo “olímpicas” concorda com “medalhas”.
- III- O número “(3)” indica a quantidade de medalhas da ginasta Rebeca Andrade.
- IV- O termo “olímpicas” está especificando o tipo de medalha.

É CORRETO o que se afirma apenas em:

- a) I e III.
- b) I e IV.
- c) II e III.
- d) I, II e IV.
- e) II.

15ª QUESTÃO

As palavras “ginástica”, “incrível” e “olímpicas” são classificadas, respectivamente, consoante a posição do acento gráfico, como:

- a) paroxítona, proparoxítona, proparoxítona.
- b) proparoxítona, paroxítona, proparoxítona.
- c) oxítona, paroxítona, proparoxítona.
- d) paroxítona, oxítona, proparoxítona.
- e) proparoxítona, proparoxítona, oxítona.

16ª QUESTÃO

Analise as assertivas abaixo a respeito da estrutura morfossintática do fragmento: “Na França, a brasileira tem duelado com o maior nome da história da ginástica” (2º§).


- I- A expressão “a brasileira” exerce função sintática de complemento nominal.
- II- “Na França” poderia ser deslocado para o meio da oração: “a brasileira tem duelado, na França, com o maior nome da história da ginástica”.
- III- “Na França” exerce função sintática de sujeito da oração.

É CORRETO o que se afirma em

- a) I e II apenas.
- b) II e III apenas.
- c) I, II e III.
- d) I apenas.
- e) II apenas.

Leia o Texto III e responda às questões de 17 a 20.

Texto III



Disponível em: https://www.instagram.com_ Acesso em: 01 set 2024.

17ª QUESTÃO

Assinale a alternativa que traduz adequadamente a ideia central do Texto III: “o que está fora do meu controle terá que ficar fora da minha mente”.

- a) Só devemos nos preocupar com coisas que são vantajosas para nós.
- b) É importante assumir o controle de todas as situações.
- c) Devemos ignorar completamente tudo o que acontece ao nosso redor.
- d) A melhor forma de lidar com problemas é fingir que eles não existem.
- e) Devemos evitar nos preocupar com situações que não podemos controlar.

18ª QUESTÃO

Analisar as assertivas abaixo a respeito do Texto III: “o que está fora do meu controle terá que ficar fora da minha mente”.

- I- A primeira palavra do texto funciona como artigo definido.
- II- A forma verbal “está” pode ser substituída pela sua forma plural “estão”, sem prejuízo gramatical.
- III- A primeira palavra pode ser substituída por “aquilo”.
- IV- O termo “minha” é determinante de “mente”.

É CORRETO o que se afirma em:

- a) IV apenas.
- b) III apenas.
- c) I, II, III e IV.
- d) II e III apenas.
- e) III e IV apenas.

19ª QUESTÃO

Assinale a alternativa cuja substituição das formas “meu” e “minha” pela segunda pessoa do singular, no Texto III, recebeu adequada redação.

- a) O que está fora do vosso controle terá que ficar fora da sua mente.
- b) O que está fora do seu controle terá que ficar fora da tua mente.
- c) O que está fora do teu controle terá que ficar fora da tua mente.
- d) O que está fora do meu controle terá que ficar fora da tua mente.
- e) O que está fora do teu controle terá que ficar fora da vossa mente.

20ª QUESTÃO

Assinale a alternativa cuja substituição da forma “o” para a forma “todas as coisas”, no texto: “o que está fora do meu controle terá que ficar fora da minha mente” resulta na adequada transposição.

- a) Todas as coisas que estão fora do meu controle terá que ficar fora da minha mente.
- b) Todas as coisas que estão fora do meu controle terão que ficar fora da minha mente.
- c) Todas as coisas que está fora do meu controle terão que ficar fora da minha mente.
- d) Todas as coisas que está fora do meu controle terá que ficar fora da minha mente.
- e) Todas as coisas que estarão fora do meu controle terão que ficar fora da minha mente.

MATEMÁTICA

21ª QUESTÃO

Neste mês, Roberto pagou o total de R\$ 450,00 nas contas de água, luz e internet, do qual 20% desse valor foi referente apenas à conta de água. Sabendo que o valor da conta de luz foi o dobro do valor da internet, é CORRETO afirmar que ele pagou pela internet o total de:

- a) R\$ 105,00. c) R\$ 150,00. e) R\$ 142,00.
b) R\$ 120,00. d) R\$ 135,00.

22ª QUESTÃO

Renata está organizando a festa de aniversário de sua filha e deseja comprar uma quantidade de refrigerantes suficiente para servir 600 ml para cada adulto e 400 ml para cada criança. Se a festa terá no total 50 adultos e 25 crianças, a quantidade mínima de garrafas de 2,5 litros que ela deverá comprar é:

- a) 16. c) 12. e) 18.
b) 10. d) 14.

23ª QUESTÃO

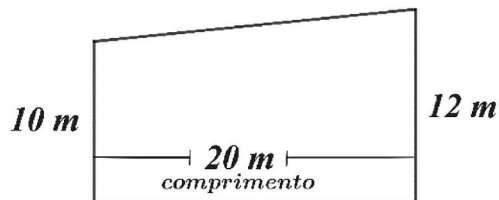
Em uma loja, um produto **A** que custava R\$ 44,00 sofreu um aumento de 25% no preço e um produto **B** teve um aumento de 10%. Sabendo-se que ambos os produtos ficaram exatamente com o mesmo preço, é CORRETO afirmar que, antes do reajuste, o produto **B** custava:

- a) 65 reais. c) 60 reais. e) 50 reais.
b) 70 reais. d) 55 reais.

24ª QUESTÃO

A figura representa um terreno com 20 metros de comprimento, no formato de um trapézio, cujos lados paralelos medem 10 e 12 metros. Analisando as condições do terreno, um corretor de imóveis estima que o seu preço deve ser de R\$ 350,00 por metro quadrado. Sendo assim, o valor total do terreno, em reais, é de:

- a) 84 mil.
b) 70 mil.
c) 77 mil.
d) 82 mil.
e) 89 mil.



25ª QUESTÃO

A tabela abaixo apresenta os preços, por quilo, de certo tipo de queijo e de presunto em um mercado. Um cliente, dispondo de uma quantia de R\$ 40,00, solicitou 800 g de queijo ao atendente. Sendo assim, a quantidade máxima de presunto que ele poderá comprar, sem exceder o valor que possui, é de:

- a) 680 g
b) 550 g.
c) 580 g.
d) 640 g.
e) 690 g

Produto (1 kg)	Preço (R\$)
Queijo	30,00
Presunto	25,00

26ª QUESTÃO

Resolvendo a expressão numérica $(-2)^2 + (-2)^3 - (-2)^4 - (-2)^5$, obtém-se:

- a) -52. c) 44. e) 12.
b) 4. d) -28.

RASCUNHO

27ª QUESTÃO

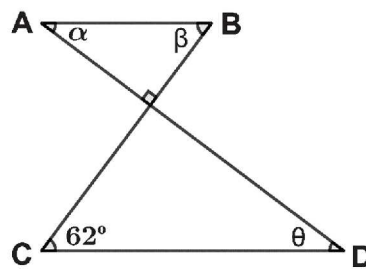
Um ônibus partiu da cidade **A** com destino à cidade **B** e durante o trajeto realizou duas paradas para o desembarque de passageiros. Na primeira parada, desembarcaram $\frac{1}{6}$ dos passageiros, e na segunda desembarcaram a metade das pessoas que ainda estavam no ônibus. Sabendo que apenas 10 pessoas chegaram ao destino final, quantos passageiros estavam no ônibus no início da viagem?

- a) 30.
- b) 26.
- c) 24.
- d) 32.
- e) 36.

28ª QUESTÃO

Na figura, **AB** e **CD** são segmentos paralelos, **AD** e **CB** são perpendiculares e o ângulo com vértice em **C** mede 62° . Avalie as seguintes proposições acerca dos ângulos α , β e θ indicados na figura:

- I- O ângulo α mede 28° .
- II- O ângulo β mede 48° .
- III- Os ângulos θ e β são complementares.



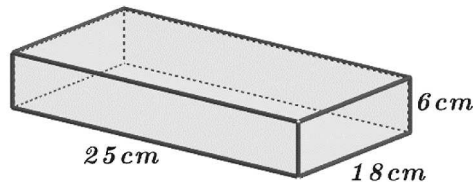
É CORRETO o que se afirma em:

- a) III apenas.
- b) I apenas.
- c) II apenas.
- d) I e III apenas.
- e) I, II e III.

29ª QUESTÃO

Uma cozinheira irá assar um bolo em uma forma de alumínio retangular com dimensões de 25 cm, 18 cm e 6 cm, conforme a figura. Sabendo que a massa do bolo deve ir ao forno ocupando apenas $\frac{2}{3}$ da forma, o volume de massa que ela deve colocar na forma é de:

- a) 1,8 litros.
- b) 1,2 litros.
- c) 1,5 litros.
- d) 1,6 litros.
- e) 1,4 litros.



30ª QUESTÃO

Com o objetivo de passar em um concurso público, Marcelo reserva diariamente um tempo para estudar. Em uma determinada semana, ele anotou numa tabela o tempo diário dedicado aos estudos no período de segunda a sexta, obtendo os dados abaixo

Dia da Semana	Tempo de estudo
Segunda-feira	5h25min
Terça-feira	4h
Quarta-feira	6h10min
Quinta-feira	5h15min
Sexta-feira	3h20min

De acordo com a tabela, a média (aritmética) de tempo de estudo diário, nesse período, foi de:

- a) 5h 10min.
- b) 4h 50min.
- c) 5h 30min.
- d) 5h 05min.
- e) 4h 45min.

RASCUNHO

CONHECIMENTOS GERAIS

31ª QUESTÃO

O Brasil adota, atualmente, a República e a Federação como formas de organização política e administrativa. Analisando o funcionamento destas formas de organização política do Brasil e comparando-as com as organizações de outros países, é CORRETO afirmar que:

- a) a Federação Brasileira é composta pela união dos Estados, do Distrito Federal e dos Municípios.
- b) o Brasil e todos os países do mundo adotam a República como forma de governar seus territórios.
- c) na República, quem governa o país é o Parlamento. Isto ocorre no Brasil e em outras Repúblicas.
- d) a Federação brasileira é composta apenas pela junção das cinco regiões e dos seus estados.
- e) o Brasil sempre foi uma República e sempre ocorreram eleições para a escolha de seu presidente.

32ª QUESTÃO

Observe a vegetação na imagem abaixo e em seguida leia a pergunta.



Disponível em: https://www.google.com/search?cinzenta&sca_esv. Acesso em: 19 mar. 2024.

A imagem acima apresenta uma vegetação xerófila exclusivamente brasileira, típica da região Nordeste e que domina mais da metade do estado da Paraíba. Sobre esta vegetação e sua ocorrência na Paraíba, assinale a alternativa CORRETA.

- a) A vegetação é a Caatinga, com plantas muito resistentes à escassez de chuvas e às secas.
- b) É uma vegetação típica da Mata Atlântica, com plantas e árvores de grande porte.
- c) Esta vegetação ocorre na Paraíba apenas nas regiões onde as chuvas são abundantes.
- d) Esta vegetação identifica as paisagens das regiões do litoral e do brejo paraibano.
- e) Nesta vegetação, a vida animal foi extinta, devido às características das plantas e à escassez d'água.

33ª QUESTÃO

Leia o texto abaixo.

O que é a tecnologia da informação e por que ela está em alta?

A tecnologia da informação chegou para ficar e tornar nossa vida mais fácil, ao automatizar tarefas simples. Temos celulares, computadores e diversos dispositivos de comunicação cada vez mais inteligentes, com *apps* que nos conectam. Com uma palavra, um assistente virtual pode colocar sua música preferida, resumir as notícias do dia ou adicionar itens à sua lista de compras.


Disponível em: <https://ebaonline.com.br/blog/o-que-e-ti-seo>. Acesso em: 19 mar. 2024

Analisando o texto sobre a tecnologia da informação e sua importância no mundo atual, é CORRETO afirmar que:

- a) só quem usa a tecnologia da informação é a imprensa, para divulgar notícias e executar músicas.
- b) a tecnologia da informação é utilizada apenas por empresas para organizar seus processos de produção.
- c) a tecnologia da informação, disponível apenas para computadores, torna a vida mais complexa.
- d) a tecnologia da informação não permite o processo de automatização em nenhum tipo de atividade.
- e) a tecnologia da informação permite o desenvolvimento de *softwares*, das redes sociais e das telecomunicações.

34ª QUESTÃO

Observe a charge abaixo e em seguida leia o texto sobre alguns aspectos da educação no Brasil.



Disponível em: <https://www.google.com/search?q=charge+sobre+educa%C3%A7%C3%A3o+no+Brasil&sc>. Acesso em: 21 mar. 2024.

É evidente que o sistema educacional brasileiro enfrenta grandes desafios. Um dos principais problemas está na qualidade do ensino oferecido nas escolas, principalmente nas instituições públicas. O índice de reprovação e abandono escolar é alto, o que revela a falta de engajamento dos estudantes e a falta de recursos e infraestrutura adequada nas instituições.

Disponível em: <https://meuartigo.brasile scola.uol.com.br/educacao/uma-educacao-sem-qualidade-realidade-alar mante-da-educacao-no-pais.htm>. Acesso em: 21 mar. 2024.

A partir da análise da charge e do texto sobre a qualidade da educação no Brasil, assinale a alternativa CORRETA.

- a) A evasão escolar deixou de ser um problema educacional no Brasil, isto porque não mais se observa o abandono da escola por parte dos alunos.
- b) Um problema da educação básica no Brasil é a diferença na qualidade do ensino entre as escolas públicas e as escolas privadas.
- c) Conforme a charge e o texto, o problema das escolas públicas é de infraestrutura, relacionado com a oferta de energia elétrica.
- d) A oferta de uma adequada infraestrutura para a educação básica na rede pública assegura uma melhor qualidade de ensino para os alunos.
- e) O problema educacional relatado na charge e no texto é o analfabetismo, e atinge desigualmente as escolas públicas e as particulares.

35ª QUESTÃO

Leia abaixo os trechos abaixo da música “Tropeiros da Borborema”, composição de Raimundo Asfora e Rosil Cavalcante, gravada por Luiz Gonzaga.

São tropas de burros que vêm do sertão
Trazendo seus fardos de pele e algodão
O passo moroso só a fome galopa
Pois tudo atropela os passos da tropa
[...]
Estala relho marvado
Recordar hoje é meu tema
Quero é rever os antigos tropeiros da Borborema

Assim caminhavam as tropas cansadas
E os bravos tropeiros buscando pousada
Nos ranchos e aguados dos tempos de outrora
Saindo mais cedo que a barra da aurora
Riqueza da terra que tanto se expande
E se hoje se chama de Campina Grande.
[...]

Disponível em: <https://www.let ras.mus.br/luiz-gonzaga/682871/>. Acesso em: 22 mar. 2024.

Sobre os tropeiros, o algodão e sua importância na história econômica da Paraíba, é CORRETO afirmar que:

- a) os Tropeiros foram os fundadores da atual cidade de Campina Grande, fato que foi possibilitado em função da comercialização do algodão.
- b) os Tropeiros realizavam o transporte de algodão de Campina Grande para João Pessoa, que exportava este produto para outros países.
- c) o cultivo e o comércio do algodão foram atividades importantes para o crescimento de Campina Grande, no interior da Paraíba.
- d) os Tropeiros surgiram para fazer o transporte do algodão sobre a região do planalto da Borborema, no interior da Paraíba.
- e) os Tropeiros transportavam mercadorias em carros de boi e foram os responsáveis pela ocupação e povoamento do Sertão paraibano.

36ª QUESTÃO

Observe a charge abaixo.



Disponível em: <https://www.google.com/search?q=charge+sobre+o>. Acesso em: 22 mar. 2024.

A charge acima faz referência a uma das características do sistema econômico que comanda atualmente as economias mundial e brasileira. Nesse sistema, sob efeito da propaganda, as pessoas passam a adquirir produtos muito além daquilo que necessitam. Assinale a alternativa que indica CORRETAMENTE o nome deste sistema econômico e a situação apresentada na charge.

- a) Mercado e racionamento.
- b) Socialismo e preservacionismo.
- c) Capitalismo e consumismo.
- d) Comercialização e padronização.
- e) Globalização e conservação.

37ª QUESTÃO

Leia o texto a seguir sobre a cultura brasileira:

A **Cultura Brasileira** é o resultado da miscigenação de diversos grupos étnicos que participaram da formação da população brasileira. A diversidade cultural predominante no Brasil é consequência também da grande extensão territorial e das características geradas em cada região do país.

Disponível em: <https://www.todamateria.com.br/cultura-brasileira>. Acesso em: 22 mar. 2024.

Analisando o texto acima e considerando outros aspectos da cultura brasileira, é CORRETO afirmar que:

- a) existe uma homogeneidade cultural entre as regiões do Brasil.
- b) resultou da integração entre indígenas, portugueses e africanos.
- c) os indígenas não influenciaram a formação cultural do Brasil.
- d) a miscigenação ocorreu apenas entre portugueses e indígenas.
- e) cada região brasileira possui e fala seu próprio idioma.

38ª QUESTÃO

Leia os textos a seguir sobre a urbanização brasileira.

O processo de urbanização no Brasil teve início no século XX, a partir do processo de industrialização, que funcionou como um dos principais fatores para o deslocamento da população da área rural em direção à área urbana. [...] A partir de 1970, mais da metade dos brasileiros já se encontrava em áreas urbanas, cuja oferta de emprego e de serviços, como saúde, educação e transporte, eram maiores. [...] O rápido e desordenado processo de urbanização ocorrido no Brasil irá trazer uma série de consequências, e em sua maior parte negativas. A falta de planejamento urbano e de uma política econômica menos concentradora irá contribuir para a ocorrência de vários problemas.

Disponível em: <http://educacao.globo.com/geografia/assunto/urbanizacao/urbanizacao-brasileira>. Acesso em: 23 mar. 2024.

Analisando o texto sobre o processo de urbanização e as cidades brasileiras, é CORRETO afirmar que:

- a) no início do século XX, mais da metade da população brasileira já residia em áreas urbanas.
- b) o crescimento das cidades no Brasil, ocorreu acompanhado de um planejamento urbano.
- c) os problemas urbanos no Brasil ocorrem apenas nas regiões metropolitanas.
- d) o deslocamento de populações da área rural para áreas urbanas é denominado de êxodo rural.
- e) o rápido crescimento das cidades brasileiras trouxe consequências positivas para toda a população urbana.

39ª QUESTÃO

Observe a charge abaixo sobre entregadores de comida.



Disponível em: <https://www.google.com/search?q=charge+sobre+o+subemprego&sca>. Acesso em: 23 mar. 2024.

Segundo o IPEA (Instituto de Pesquisas Econômicas Aplicadas), existem no Brasil cerca de 1,5 milhão de pessoas trabalhando como entregadores de comida em cidades de todo o país. É um tipo de atividade em expansão. Considerando a charge acima e o perfil desses trabalhadores, é CORRETO afirmar que:

- a) possuem emprego formal e todos os direitos trabalhistas.
- b) são microempreendedores e trabalham por conta própria.
- c) trabalham normalmente durante o dia e folgam no final de semana.
- d) são trabalhadores informais, sem contrato de trabalho com os restaurantes.
- e) utilizam os serviços da plataforma Uber para realizar as entregas.

40ª QUESTÃO

O Brasil é, atualmente, um dos maiores produtores e exportadores mundiais de alimentos. A mecanização da agricultura e o uso de outras técnicas modernas foi um dos fatores importantes para transformar o Brasil em um grande produtor mundial no setor agropecuário.

Com relação à agropecuária brasileira, sua produção e exportações, leia as proposições a seguir.

- I- O agronegócio é responsável por toda a produção da agropecuária brasileira.
- II- Soja, carnes e açúcar são alguns dos produtos agrícolas mais exportados pelo Brasil.
- III- O Brasil exporta apenas os produtos que não são consumidos internamente por sua população.
- IV- Apesar das técnicas modernas, algumas áreas agrícolas ainda permanecem atrasadas.

É CORRETO o que se afirma apenas em:

- a) I, II e IV.
- b) II e III.
- c) III e IV.
- d) II, III e IV.
- e) II e IV.