

CADERNO

203

**FADENOR**  
FUNDAÇÃO DE APOIO AO DESENVOLVIMENTO DO ENSINO SUPERIOR DO NORTE DE MINAS

2 . 249 . 492

**PROCESSO SELETIVO PÚBLICO DA PREFEITURA MUNICIPAL DE  
SÃO FRANCISCO - MG**

**AGENTE ADMINISTRATIVO (SEMAF)  
AGENTE SOCIAL - AEPETI (SEMDS)  
AUXILIAR DE CUIDADOR SOCIAL (SEMDS)  
COSTUREIRA (SEMS)  
COZINHEIRO (SEMAF)  
VIGIA (SEMAF)**

**ORIENTAÇÕES**

- 01 - Este caderno contém questões do tipo múltipla escolha.
- 02 - Verifique se o caderno contém falhas: folhas em branco, má impressão, páginas trocadas, numeração errada, etc. Encontrando falhas, levante a mão. O Fiscal o atenderá e trocará o seu caderno.
- 03 - Não marque mais de uma resposta para a mesma questão, nem deixe nenhuma delas sem resposta. Se isso acontecer, a resposta não será computada.
- 04 - Para marcar as respostas, use preferencialmente caneta esferográfica com tinta azul ou preta. **NÃO** utilize caneta com tinta vermelha. Assinale a resposta certa, preenchendo toda a área da bolinha.
- 05 - Tenha cuidado na marcação da Folha de Respostas, pois ela não será substituída em hipótese alguma.
- 06 - Confira e assine a Folha de Respostas, antes de entregá-la ao Fiscal. **NA FALTA DA ASSINATURA, A SUA PROVA SERÁ ANULADA.**
- 07 - Não se esqueça de assinar a Lista de Presenças.

OBS.: Candidatos com cabelos longos deverão deixar as orelhas totalmente descobertas durante a realização das provas. É proibido o uso de boné.

**NOME:**

**Nº DO PRÉDIO:**

**SALA:**

**ASSINATURA**

**COTEC**  
CONCURSOS  
TÉCNICOS

## PROVA DE LÍNGUA PORTUGUESA

**INSTRUÇÃO:** Leia, com atenção, o texto 01 e, a seguir, responda às questões 01, 02 e 03 que a ele se referem.  
Texto 01

### O que é ser rico?

O relato era sobre a cobertura de um acidente de trem no Peru, na região do Vale Sagrado. Eu estava de plantão na reportagem num final de semana qualquer e, por telefone mesmo, conversei com algumas pessoas que me contaram que muitos viajantes e turistas ficaram isolados nas montanhas no inverno, sem comida nem aquecimento. Muitos poderiam ter morrido naquela noite do acidente se não fosse pelos camponeses das vilas do entorno que foram até o local levando comida e cobertores para aquecê-los. Eram pessoas pobres e muitos levaram seus próprios cobertores e pertences.

Relendo minha descrição da época sobre o episódio, um forte sentimento me veio à tona no momento. Fiquei pensando como minhas próprias inseguranças me parecem pequenas demais. Como minha generosidade ainda é minúscula.

Meu coração abriu como se quisesse me dizer algo. Se aqueles camponeses indigentes podem doar o pouco que têm, então certamente eu não preciso ficar tão preocupado com meu futuro financeiro. Eu posso doar também e vai ficar tudo bem.

Outra maneira de interpretar essa história também é entender que aqueles moradores andinos pobres são muito mais ricos do que eu, do que você e de muitos de nós que ainda não conseguimos enxergar além do muro que nos aprisiona.

Talvez esses camponeses tenham o que nós, em busca do dinheiro, sucesso e de uma segurança ilusória, estamos querendo atingir de alguma maneira.

Penso que ainda temos muita dificuldade em ver sentido e grandeza em pequenos gestos, mas são eles que mudam o mundo e nos convidam a olhar para a vida e sentir nela toda sua potencialidade. A vida nos convida a todo momento, só precisamos nos permitir, ou melhor, confiar. [...]

Disponível em: <https://www.vidasimples.com.br/>. Acesso em: 14 maio 2023.

### QUESTÃO 01

De acordo com o texto, a cobertura de um acidente de trem no Peru motiva, principalmente, reflexões sobre a

- A) carência em que vivem os camponeses andinos.
- B) importância de se conseguir o sucesso financeiro.
- C) capacidade de se praticar atos de generosidade.
- D) insignificância que reside nos pequenos gestos.
- E) impossibilidade dos pobres de serem generosos.

---

### QUESTÃO 02

O texto permite inferir que o narrador é um

- A) turista.
- B) repórter.
- C) camponês.
- D) andino.
- E) socorrista.

---

### QUESTÃO 03

De acordo com o texto, “ser rico” está relacionado a

- A) adquirir sucesso e segurança financeira e saber preservá-los.
- B) valorizar os bens materiais conquistados e não renunciar a eles.
- C) garantir o futuro financeiro para se prevenir da carência material.
- D) ser capaz de perceber e satisfazer as necessidades do próximo.
- E) acumular dinheiro suficiente para viver com conforto e abundância.

**INSTRUÇÃO:** Leia, com atenção, o texto 02 e, a seguir, responda às questões 04, 05 e 06, que a ele se referem.

Texto 02



Disponível em: <https://bichinhosdojardim.html>. Acesso em: 15 maio 2023.

#### QUESTÃO 04

Analise as afirmativas, tendo em vista as ideias que o texto permite inferir.

- I. A expressão “seguir o fluxo” significa fazer o que a maioria está fazendo.
- II. A aspereza da vida afeta de forma negativa os sentimentos das pessoas.
- III. O termo “endoçurar” forma uma antítese em relação ao termo “endurecer”.
- IV. Diante da aspereza da vida, não há possibilidade de se agir positivamente.
- V. O termo “endoçurar” foi usado entre aspas por se tratar de um neologismo.

Estão **CORRETAS** as afirmativas

- A) I, II, III e V, apenas.
- B) I, II e III, apenas.
- C) II, III e IV, apenas.
- D) III, IV e V, apenas.
- E) I, II, III, IV e V.

#### QUESTÃO 05

Na fala do primeiro quadro, a vírgula foi usada porque o termo “Meleca” é um

- A) aposto.
- B) sujeito.
- C) advérbio.
- D) predicativo.
- E) vocativo.

#### QUESTÃO 06

O termo “ou” insere, na fala do terceiro quadro, uma ideia de

- A) adição.
- B) conclusão.
- C) adversidade.
- D) alternância.
- E) explicação.

**INSTRUÇÃO:** Leia, com atenção, o texto 03 e, a seguir, responda às questões 07 e 08, que a ele se referem.

Texto 03



Disponível em: <https://br.images.search.yahoo.com>. Acesso em: 15 maio 2023.

#### QUESTÃO 07

Analise as afirmativas a seguir, tendo em vista as ideias que se inferem do texto.

- I. O personagem não se casará com a personagem nem que ela seja a última garota da Terra.
- II. O personagem não se casará com a personagem, exceto se ela for a última garota da Terra.
- III. A esperança da personagem reside no fato de que, se ela for a última garota da Terra, o personagem se casará com ela.
- IV. O personagem afirma, no primeiro quadro, que, em hipótese alguma, se casará com a personagem.
- V. A personagem entende que, se ela for a última garota da Terra, o personagem se casará com ela.

Estão **CORRETAS** as afirmativas

- A) I, II e III, apenas.
- B) II, III e V, apenas.
- C) II, IV e V, apenas.
- D) III, IV e V, apenas.
- E) I, II, III, IV e V.

#### QUESTÃO 08

No segundo quadro, a personagem faz a pergunta em relação ao uso do “se” ou do “a menos que” porque

- A) o uso de um ou de outro termo não alteraria o sentido da fala do personagem no primeiro quadro.
- B) o uso de qualquer um dos termos, na fala do primeiro quadro, daria esperança a ela de se casar com o personagem.
- C) o uso do “se”, na primeira fala, daria mais esperança a ela do que o uso do “a menos que”.
- D) ela considera que qualquer um dos usos, na primeira fala do personagem, traria desesperança a ela.
- E) ela considera que o uso do “a menos que”, na primeira fala do personagem, traria mais esperança a ela.

**INSTRUÇÃO:** Leia, com atenção, o texto 04 e, a seguir, responda à questão 09, que a ele se refere.

Texto 04



Disponível em: <http://ecoescolaesrp.blogspot.com/2012/03/reduzir-o-consumismo.html>. Acesso em: 15 maio 2023.

### **QUESTÃO 09**

Analise as afirmativas a seguir, tendo em vista as ideias veiculadas no texto.

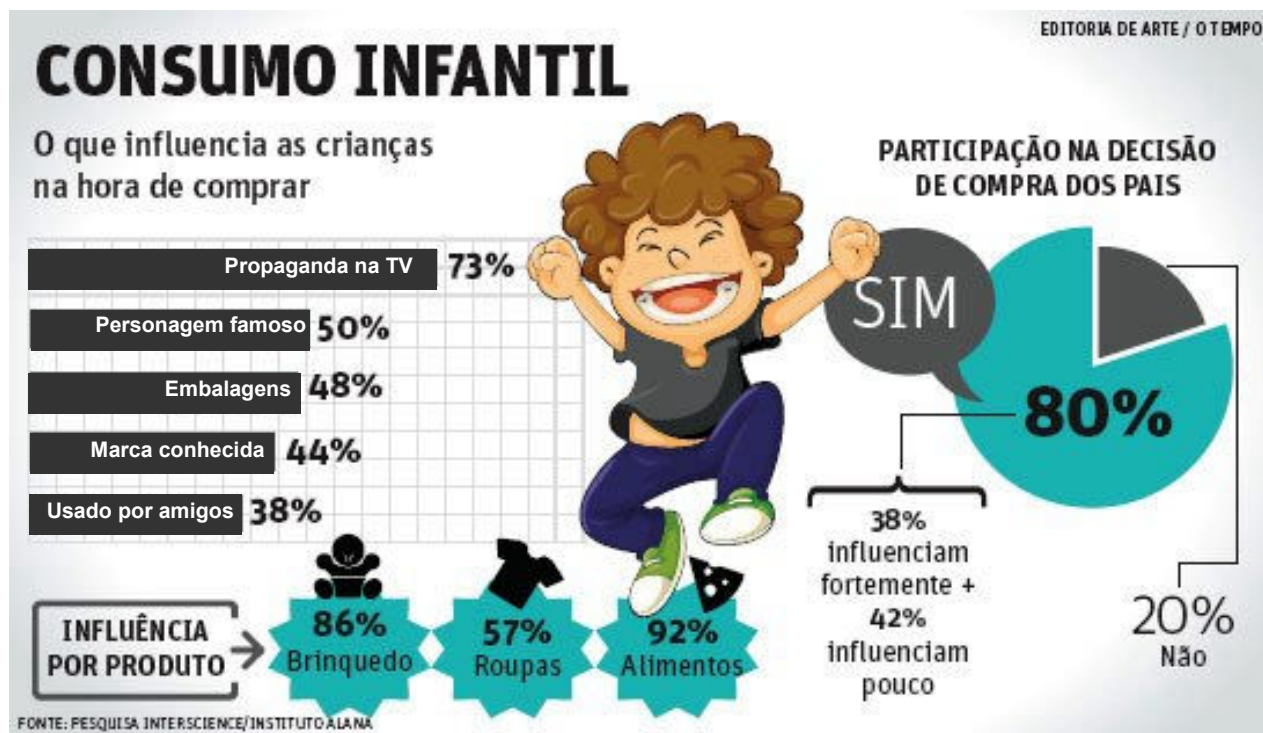
- I. Os lixos que são jogados fora vão para algum lugar dentro do planeta.
- II. A redução da quantidade de lixo é uma das soluções para o planeta.
- III. A redução do consumo conseqüentemente gera redução de lixo.
- IV. A reciclagem do lixo é mais eficaz do que a redução do consumo.
- V. As compras não precisam ser reduzidas se o lixo for jogado fora.

Estão **CORRETAS** as afirmativas

- A) I, II e III, apenas.
- B) III e IV, apenas.
- C) IV e V, apenas.
- D) III, IV e V, apenas.
- E) II, III, IV, apenas.

**INSTRUÇÃO:** Leia, com atenção, o texto 05 e, a seguir, responda à questão 10, que a ele se refere.

Texto 05



Disponível em: [pascentarospequeninos.blogspot.com/2015/06/consumismo.html](http://pascentarospequeninos.blogspot.com/2015/06/consumismo.html). Acesso em: 15 maio 2023.

### QUESTÃO 10

Analise as afirmativas a seguir, tendo em vista as ideias veiculadas no texto.

- I. As propagandas na TV são as que mais influenciam as crianças ao consumo.
- II. A maioria das crianças exerce alguma influência nas compras realizadas pelos pais.
- III. Os brinquedos são os produtos que mais influenciam as crianças a consumir.
- IV. A minoria das crianças participa das decisões das compras feitas pelos pais.
- V. A embalagem do produto influencia mais o consumo das crianças que a marca.

Estão **CORRETAS** as afirmativas

- A) III, IV e V, apenas.
- B) II, III e IV, apenas.
- C) I, II e V, apenas.
- D) I, III e IV, apenas.
- E) II, III e V, apenas.

## PROVA DE MATEMÁTICA

### QUESTÃO 11

Dois irmãos resolvem fazer uma corrida em um circuito em forma de círculo. Os dois irmãos saem do mesmo ponto de largada. O irmão 1 demora 8 minutos para fazer uma volta completa, e o irmão 2 demora 6 minutos para fazer uma volta completa. Em quanto tempo os dois irmãos irão se encontrar novamente no ponto de largada?

- A) 18 minutos.
- B) 20 minutos.
- C) 21 minutos.
- D) 22 minutos.
- E) 24 minutos.

---

**QUESTÃO 12**

Considere a operação  $\frac{2^3 \cdot \sqrt[3]{64}}{|-2|}$  envolvendo potenciação, radiciação e módulo. O resultado dessa operação é:

- A) 12.
- B) 10.
- C) 8.
- D) 2.
- E) 0.

---

**QUESTÃO 13**

Um investidor aplicou R\$ 1.550,00 no sistema de capitalização composta. Após 3 meses, o investidor foi resgatar o montante. Sabe-se que a taxa de juros dessa operação foi de 2% ao mês. Qual o valor do montante que o investidor resgatou?

- A) R\$ 1.591,67.
- B) R\$ 1.576,91.
- C) R\$ 1.621,76.
- D) R\$ 1.616,50.
- E) R\$ 1.644,87.

---

**QUESTÃO 14**

João e Joaquim elaboram questões de provas para concurso. João elaborou cinco questões a mais que o triplo da quantidade de questões elaboradas por Joaquim. Se João elaborou 41 questões. Quantas questões Joaquim elaborou?

- A) 12.
- B) 13.
- C) 14.
- D) 15.
- E) 16.

---

**QUESTÃO 15**

Considere o triângulo equilátero com altura  $h=3$ . Qual a área desse triângulo equilátero?

- A)  $\sqrt{3}$ .
- B)  $\sqrt{6}$ .
- C)  $3 \cdot \sqrt{3}$ .
- D)  $6 \cdot \sqrt{6}$ .
- E) 2.

---

**QUESTÃO 16**

João estima que o lucro na venda um produto da sua empresa é dado pela função polinomial quadrática  $L(x) = x^2 + x - 6$ , em que  $x$  é a quantidade de produto vendido. Assinale a alternativa que apresenta o intervalo de  $x$  em que João teria prejuízo:

- A)  $(-10,3)$ .
- B)  $(3,10)$ .
- C)  $(0,5)$ .
- D)  $(-3,2)$ .
- E)  $(-5,2)$ .

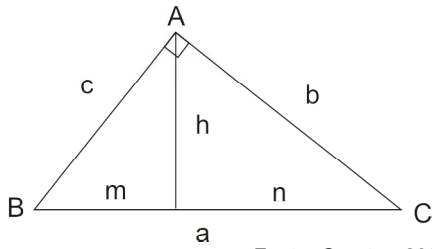
---

**QUESTÃO 17**

Dadas as alternativas a seguir, assinale a igualdade verdadeira para todo  $a$  e para todo  $b$ :

- A)  $(a+b)^2 = a^2 + ab + b^2$ .
- B)  $a^2 - b^2 = (a-b) \cdot (a+b)$ .
- C)  $a^2 + b^2 = (a+b) \cdot (a+b)$ .
- D)  $(a+b)^3 = a^3 + 3ab + b^3$ .
- E)  $(a-b)^2 = b^2 + 2ab + a^2$ .

**INSTRUÇÃO:** Analise o triângulo retângulo a seguir.



Fonte: O autor, 2023.

**QUESTÃO 18**

Considere o ângulo  $BAC=90^\circ$ ,  $b=6$  e  $a=12$ . Então, o valor de  $h$  é

- A)  $\sqrt{10}$ .
- B)  $\sqrt{22}$ .
- C)  $\sqrt{24}$ .
- D)  $\sqrt{26}$ .
- E)  $\sqrt{27}$ .

**QUESTÃO 19**

Considere o conjunto **Dados** = {50,23,18,21,14,12}. A mediana desses dados é

- A) 23.
- B) 21.
- C) 20.
- D) 19,5.
- E) 18.

**QUESTÃO 20**

Um dado não viciado é lançado, obtendo R1 (resultado 1). Após isso, o mesmo dado é lançado novamente, obtendo R2 (resultado 2). Qual a probabilidade de o resultado da multiplicação  $R1 \times R2$  ser maior ou igual a 20?

- A) 22%.
- B) 26%.
- C) 20%.
- D) 28%.
- E) 24%.

**PROVA DE CONHECIMENTOS GERAIS**

**QUESTÃO 21**

A região Centro-Oeste tornou-se um grande polo do agronegócio no Brasil e tal fato colocou sob pressão o Cerrado, um dos maiores biomas brasileiros. Considerando a produção agrícola, o desenvolvimento e a sustentabilidade ambiental no Cerrado, relacione a primeira coluna com a segunda.

- |                     |   |
|---------------------|---|
| 1- Agricultura      | ( ) É não somente tema da agenda ambiental, mas constitui também um conjunto de estratégias para o desenvolvimento social, institucional e econômico. |
| 2- Tecnologia       | ( ) É composto, geralmente, por árvores baixas de raízes profundas, que são capazes de sobreviver a severa estiagem e ocorrências de fogo espontâneo. |
| 3- Cerrado          | ( ) Ocorre no Cerrado, gerando vários problemas ambientais observados nas áreas rurais, as quais, em geral, não apresentam plano de preservação.      |
| 4- Sustentabilidade | ( ) É aplicada na produção de soja e é uma das melhores do mundo, envolve um alto custo da maquinaria, geralmente, utilizada para outras produções.   |

A sequência **CORRETA**, de cima para baixo, é:

- A) 3, 4, 1, 2.
- B) 4, 3, 2, 1.
- C) 4, 3, 1, 2.
- D) 3, 2, 4, 1.
- E) 4, 1, 2, 3.

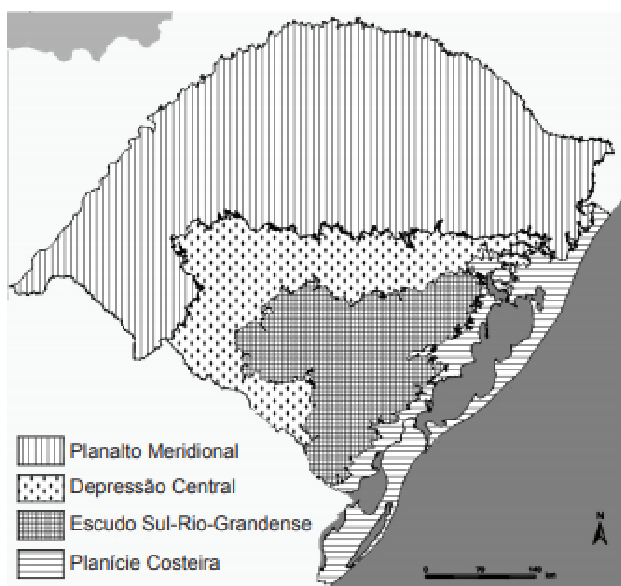


## QUESTÃO 22

No Brasil, a escravidão começou em meados de 1530, com a finalidade de suprir a demanda por mão-de-obra vinda dos portugueses que tinham atividades de exploração no país. Muitas pessoas em situação de escravos resistiam de maneiras diversas contra essa prática desumana e cruel, que atentava, e ainda atenta, contra diferentes direitos humanos. Uma forma de resistência se desenvolveu por meio da formação dos quilombos. Sobre os quilombos e sua história, marque a alternativa **CORRETA**.

- A) O Quilombo dos Palmares foi um dos maiores quilombos do Brasil e há indícios de seu surgimento por volta de 1580, nas Capitânicas de São Paulo e Rio de Janeiro.
- B) Galbi dos Palmares foi um dos maiores ícones do Quilombo de Palmares e ele se tornou líder local por conta das bem-sucedidas missões de guerrilha para libertar outros escravos.
- C) Os quilombos eram locais de refúgio para escravos que conseguiam a alforria e, nesses espaços, havia agricultura, criação de animais e atividades mercantis.
- D) Os setores da Igreja e da Coroa se opunham à escravização negra, apoiavam as fugas dos escravos e a legislação antiescravista, tornando a atividade menos lucrativa e atraente.
- E) Dandara era a esposa de Zumbi e ela dominava técnicas de capoeira, lutando ao lado tanto de homens quanto de mulheres nas batalhas de ataque ao quilombo.

**INSTRUÇÃO:** O estado do Rio Grande do Sul apresenta domínios paisagísticos bem diferenciados, que podem ser visualizados na figura a seguir.



Disponível em: <https://www.aio.com.br/questions/content/o-estado-do-rio-grande-do-sul-apresenta-dominios-paisagisticos-bem>. Acesso em: 15 maio 2023.

## QUESTÃO 23

Essa diversidade paisagística é fruto da interação de aspectos naturais no decorrer do tempo geológico, que conformou a sua morfologia e o relevo. Em relação às unidades de relevo que o mapa apresenta, está **CORRETA** a seguinte afirmativa:

- A) A Depressão Central trata-se de uma faixa mais baixa entre a Planície Costeira e o Escudo Sul-rio-grandense que corta o estado de Norte a Sul, é um relevo intensamente ondulado, formado por rochas magmáticas, e a sua altitude é inferior a 100 metros, com algumas exceções.
- B) Na Planície Costeira, há grandes lagoas parcialmente separadas do mar por extensos cordões litorâneos, as denominadas restingas, as quais são formadas por sedimentos marinhos e fluviais depositados ao longo do tempo com as transgressões e regressões marinhas.
- C) O relevo Escudo Sul-rio-grandense é conhecido como Serra do Sudeste, uma região mais nova em termos da formação geológica do Rio Grande do Sul e a sua altitude varia entre 20 metros nas áreas mais altas, perto das bordas, até 10 metros nas mais baixas.
- D) A região do Planalto Meridional possui as menores altitudes do estado chegando até 1.398 metros em Monte Negro, o qual é formado principalmente por rochas areníticas friáveis, e possui a menor feição geomorfológica, ocupando em torno de 5% do estado.
- E) No relevo do Rio Grande do Sul, as maiores altitudes estão localizadas na região Sudeste, a qual possui formas ocasionadas por diferentes motivos; do litoral à Campanha Gaúcha, há variedades de solos, rochas, altitudes e as ações do homem, ao longo de milhões de anos, definiram as suas feições.

---

**QUESTÃO 24**

Com o “despertar da consciência ecológica” e a realização das conferências sobre o meio ambiente e o clima, os países passaram a versar sobre as melhores estratégias, metas e ações pautadas na perspectiva ambiental. Isso ocorreu devido ao avanço do conhecimento científico e das técnicas de estudo sobre o meio natural, que ampliaram os debates sobre a sua conservação – sobretudo após a Segunda Guerra Mundial. Analise as afirmativas a seguir sobre as conferências mundiais acerca do clima e o meio ambiente, e classifique-as em verdadeiras (V) ou falsas (F).

- ( ) A Conferência de Estocolmo foi realizada de 1972 com representantes de diversos países e organizações ambientais, que se reuniram para debater as questões e temas referentes ao meio ambiente. Teve como principal resultado a Agenda 21, designando às gerações futuras e à população mundial o direito contornável de viverem em um ambiente com saúde e sem degradações.
- ( ) A COP27 aconteceu num cenário de pressão, uma vez que os países estão próximos de alcançar as metas do Acordo de Paris. Nesse evento, os cientistas detalharam que as temperaturas mais baixas estão levando a “extremos climáticos compostos”, isto é, quando várias ameaças (como temperaturas extremas e precipitação) ocorrem ao mesmo tempo e no mesmo lugar e/ou repetidas vezes.
- ( ) A Eco-92 foi considerada um dos principais marcos da questão ambiental em termos de políticas internacionais ao longo da história. O encontro teve como resultado a assinatura de cinco importantes acordos ambientais: a Declaração do Rio sobre Meio Ambiente e Desenvolvimento; a Agenda 21; os Princípios para a Administração Sustentável das Florestas; a Convenção da Biodiversidade; e a Convenção do Clima.

Assinale a alternativa que contém a sequência **CORRETA**, de cima para baixo:

- A) F, F, V.
- B) F, V, F.
- C) F, F, F.
- D) V, F, F.
- E) F, V, V.

---

**QUESTÃO 25**

A cultura nordestina é muito vasta, oriunda de diversos povos, com alguns costumes e tradições que se mantêm de geração em geração e se popularizam, e outros nem tão conhecidos assim, mas igualmente relevantes para provar a diversidade e riqueza dessa região do Brasil. Sobre esse assunto, leia o texto que segue.

A cultura nordestina é considerada \_\_\_\_\_, embora tenha características únicas. Nela, estão contidas muitas histórias folclóricas, lendas populares, comidas para os mais variados gostos. As festas típicas mundialmente mais conhecidas são o \_\_\_\_\_ e as Festas Juninas, com costumes de todos os tipos. Além disso, há a contação de história do Brasil e as danças tradicionais, os quais mantêm a \_\_\_\_\_ do povo e dos estados.

As palavras que completam coerentemente as lacunas são, na ordem,

- A) ampla, frevo, economia.
- B) singular, carnaval, cultura.
- C) ampla, carnaval, cultura.
- D) singular, frevo, economia.
- E) ampla, carnaval, economia.

---

**QUESTÃO 26**

A formação territorial brasileira deu-se durante um longo processo. Houve períodos em que o domínio português, em certas localidades, foi ameaçado por franceses e holandeses. A primeira invasão holandesa ocorreu em 1624, na Bahia. O ataque foi feito por uma esquadra de 26 navios, 3.300 homens e 450 canhões. Além da resistência da população baiana, os holandeses enfrentaram uma esquadra enviada da Espanha, composta por 52 navios, 12.566 homens e 1.185 canhões. Sobre a invasão dos holandeses na Bahia, é possível afirmar:

- A) Derrotados, os holandeses foram expulsos da Bahia, mas não desistiram de seu objetivo. Enquanto organizavam outra tentativa de invasão, passaram a atacar e saquear, em águas brasileiras, os navios portugueses que levavam açúcar, fumo, couro, algodão e pau-brasil.
- B) Derrotados, os holandeses foram expulsos da Bahia e desistiram de seu objetivo, mas organizaram outra tentativa de invasão na região de Recife. Em águas brasileiras, os navios holandeses levavam açúcar, fumo, couro, algodão e pau-brasil para a Europa, dominando o comércio colonial.
- C) Vitoriosos, os holandeses foram coroados pelo cumprimento de seu objetivo de dominação da Bahia. Mas, enquanto organizavam a expansão da invasão no território brasileiro, foram atacados por navios portugueses apoiados pela Espanha, que após uma forte batalha, reconquistaram a região baiana.
- D) Derrotados, os holandeses foram expulsos da Bahia, mas não desistiram de seu objetivo. Enquanto organizavam outra tentativa de invasão, foram atacados e saqueados pela população baiana, que organizou um exército nativo para combater os invasores, com o apoio da Espanha.
- E) Vitoriosos, os holandeses foram coroados cumprindo seu objetivo de dominação da Bahia e organizaram também outra tentativa de invasão na região de Recife. Em águas brasileiras, os navios holandeses levavam açúcar, fumo, couro, algodão e pau-brasil para a Europa, dominando o comércio colonial.

---

**QUESTÃO 27**

Os diferentes tipos de clima são determinados pelas diferenças de quantidade de calor que cada região da Terra recebe da luz do Sol. O clima tem influência na formação da paisagem e no cotidiano das pessoas. Além dos fatores naturais, os elementos humanos também influenciam a dinâmica climática. Um dos fenômenos climáticos causados por fatores sociais e ambientais são as ilhas de calor. Os fatores que mais influenciam esse fenômeno climático urbano são

- A) elevação da temperatura, dissipação dos gases poluentes, circulação de ar barrada pelos prédios.
- B) elevação da temperatura, concentração dos gases poluentes, circulação de chuva barrada pelos prédios.
- C) elevação da pluviosidade, concentração dos gases poluentes, circulação de ar barrada pelos prédios.
- D) elevação da pluviosidade, dissipação dos gases poluentes, circulação de chuva barrada pelos prédios.
- E) elevação da temperatura, concentração dos gases poluentes, circulação de ar barrada pelos prédios.

---

**QUESTÃO 28**

Dados do Censo de 2010, divulgado pelo Instituto Brasileiro de Geografia e Estatística (IBGE), mostram que em todo território nacional apenas 0,49% da população é indígena, o que corresponde a cerca de 870 mil pessoas. A Fundação Nacional do Índio (FUNAI) acredita que existem 77 grupos de índios totalmente isolados na Floresta Amazônica, sendo que 32 já foram confirmados. Qual das afirmativas apresentadas a seguir está de acordo com o modo de vida e a cultura indígena?

- A) O modo de vida dos índios das etnias que não mantêm relações com o homem urbanizado é conhecido. A partir de imagens obtidas pela FUNAI, os pesquisadores puderam concluir que esses índios andam nus, produzem seus próprios alimentos, fabricam suas ferramentas e falam línguas identificadas.
- B) As regiões Norte e Nordeste concentram a maior população indígena com cultura preservada, com pessoas vivendo em tribos e sem etnias desconhecidas. Os índios da Amazônia possuem menor qualidade de vida do que as etnias indígenas que vivem em cidades ou em integração com o meio urbano.
- C) Os índios, em razão de a FUNAI organizar e manter os seus territórios, não entram mais em conflitos com os fazendeiros e posseiros das terras, como relatam os líderes das tribos. Os índios da Amazônia possuem melhor qualidade de vida do que as etnias indígenas que vivem em cidades ou em integração com o meio urbano.
- D) Os índios que vivem na Floresta Amazônica, em sua maioria, dormem em redes dentro de enormes ocas comunitárias e, como seus antecedentes, caçam, pescam e cultivam seus próprios alimentos. Mesmo escolhendo viver em aldeias na mata, boa parte dos índios conhece outras culturas e são fluentes em português.
- E) Os índios habitam o território brasileiro desde antes da chegada dos portugueses, e estavam distribuídos no litoral e na Amazônia. Muitos desses povos já entraram em contato com os costumes não indígenas, mas alguns grupos ainda vivem isolados, fabricam suas ferramentas e falam línguas não identificadas.

---

**QUESTÃO 29**

A agricultura e a pecuária são duas atividades econômicas tradicionais no Brasil e, apesar do desenvolvimento industrial dos últimos anos, continuam tendo fundamental importância para a economia, a sociedade e as transformações espaciais. Qual das afirmativas a seguir, está de acordo com as características da agricultura e da pecuária do Brasil?

- A) A posse da terra para o seu cultivo ou a criação de gado, desde a chegada dos portugueses às terras que viriam a ser o Brasil, foi igualitário e proporcional entre a população.
- B) As culturas especializadas são aquelas que, condicionadas pelo clima e solo, encontram, em certas áreas do território brasileiro, a possibilidade de obter maior produtividade.
- C) A pecuária intensiva, tanto no Centro-Oeste como na Amazônia, é amplamente praticada, em grandes porções de terra e com alto número de cabeças por hectares.
- D) As plantas cultivadas no Brasil são sobretudo as de clima tropical, em virtude de o território brasileiro estender-se nas direções Leste e Oeste, em áreas de baixa altitude, e possuir variações regionais.
- E) As grandes culturas comerciais, como a soja e o milho, correm em vastas áreas nas diversas regiões do país e, nos últimos anos, essa prática se modernizou.

---

**QUESTÃO 30**

Segundo o jornal Estado de Minas do dia 19/01/2022, uma doença causada por um novo vírus, em 2019, começou como um surto na cidade de Wuhan, na China, depois se tornou uma epidemia e, em março de 2020, foi classificada pela Organização Mundial da Saúde (OMS) como pandemia. Sobre a pandemia, é possível afirmar que:

- A) A pandemia de uma doença acontece quando há um repentino e inesperado aumento de números de casos, em uma determinada região, comunidade ou estação do ano.
- B) A pandemia é avaliada pela variação no número de casos, de acordo com o agente que causa a doença, e pelo tamanho da exposição anterior, pois se trata de uma doença conhecida.
- C) A pandemia de uma doença ocorre quando existem surtos em regiões, ou seja, acontece quando há casos de uma doença em determinados locais geográficos ou comunidades.
- D) A pandemia é a disseminação mundial de uma doença (epidemia) e pode surgir quando um agente infeccioso se espalha ao redor do mundo e a maior parte das pessoas não são imunes a ele.
- E) A pandemia de uma doença de causa e atuação local manifesta-se com frequência em determinada região, possui um número de casos esperado e um padrão estável prevalece.