



CONCURSO PÚBLICO DA PREFEITURA MUNICIPAL DE SANTA CRUZ DO CAPIBARIBE – PE

EDITAL Nº 01/2024, DE 01 DE OUTUBRO DE 2024

MOTORISTA – CATEGORIA B

ESCREVA ABAIXO A NUMERAÇÃO CONTIDA EM SEU CARTÃO-RESPOSTA:

Nº _____

INSTRUÇÕES GERAIS

- O (a) candidato(a) receberá do Fiscal de Sala o material a seguir descrito:
 - este caderno com 40 (quarenta) questões do tipo objetiva, cada qual com quatro alternativas (A, B, C e D); e
 - um cartão-resposta destinado às respostas das questões objetivas.
- Ao receber o cartão-resposta, o(a) candidato(a) deverá:
 - conferir seus dados pessoais, como nome e CPF, que constam na parte superior do cartão-resposta;
 - caso exista algum erro de digitação ou impressão no seu cartão-resposta, comunicar imediatamente ao Fiscal de Sala, a fim de que seja registrado em Ata de Sala e seja feita a devida substituição;
 - ler atentamente as instruções contidas no cartão-resposta, para o seu devido preenchimento;
 - assinar o cartão-resposta no espaço reservado, com caneta de cor azul ou preta fabricada em material transparente.
- O cartão-resposta é o único documento válido para o processamento das respostas da prova objetiva e, em hipótese alguma, será substituído por erro do(a) candidato(a).
- O cartão-resposta não pode ser dobrado, amassado, rasurado ou manchado nem pode conter nenhum registro fora dos locais destinados às respostas.
- Somente será permitido ao(à) candidato(a) retirar-se definitivamente do local de prova após transcorrido o tempo de 2 (duas) horas de seu início, mediante a entrega obrigatória do seu caderno de questões e de seu cartão-resposta, devidamente preenchido e assinado, ao Fiscal de Sala.
- O(a) candidato(a) poderá ausentar-se da sala de aula, para utilização de sanitários ou para beber água, após transcorrido o tempo de 01 (uma) hora de seu início e até o prazo de 20 (vinte) minutos antes do término do tempo de prova.
- O(a) candidato(a) deverá devolver ao Fiscal de Sala, obrigatoriamente, o cartão-resposta e o caderno de questões. Caso se negue a entregá-los, será eliminado(a) do concurso.
- O tempo disponível para realização das questões objetivas, bem como ao preenchimento do cartão-resposta, é de 03 (três) horas.
- Não serão aceitas reclamações posteriores.
- Boa sorte!

LÍNGUA PORTUGUESA

Texto

Saúde do homem: prevenção é fundamental para uma vida saudável

Cada vez mais pesquisas comprovam que a saúde, mais do que genética, é consequência das escolhas e hábitos de vida. Hábitos saudáveis e acompanhamento de saúde preventivo são o caminho para o envelhecimento com qualidade de vida. Porém os homens costumam dar menos atenção à saúde e realizam menos consultas médicas. Um levantamento do Centro de Referência em Saúde do Homem de São Paulo mostra que 70% das pessoas do sexo masculino que procuram um consultório médico tiveram a influência da mulher ou de filhos. O estudo também revela que mais da metade desses pacientes adiaram a ida ao médico e já chegaram com doenças em estágio avançado.

Os homens brasileiros vivem, em média, 7,2 anos a menos que as mulheres. Entre as causas de morte prematura estão a violência e acidentes de trânsito, além de doenças cardiovasculares e infartos. Por isso o Ministério da Saúde implementou, em 2009, a Política Nacional de Atenção Integral à Saúde do Homem. Um dos principais objetivos é promover ações de saúde que contribuam para a compreensão da realidade singular masculina e propiciar um melhor acolhimento no Sistema Único de Saúde (SUS).

Angelita Herrmann, coordenadora de Saúde do Homem do Ministério da Saúde, ressalta a importância de conscientizar o sexo masculino da importância de se cuidar. "É preciso chamar atenção dos homens para o autocuidado. Homem não é super-herói, eles precisam quebrar o mito de serem fortes o tempo todo. Essa cultura do não se olhar é que faz com que os homens morram antes das mulheres", disse.

A adoção de hábitos saudáveis, a prática de atividade física regular, a alimentação balanceada e o uso moderado de bebidas alcoólicas são cruciais para diminuir estes agravos evitáveis. A identificação precoce de doenças aumenta as chances de um tratamento eficaz. Por isso, alguns exames devem fazer parte da rotina dos homens. "É preciso prestar atenção no corpo e ficar atento aos sinais que ele envia. O cuidado deve ser diário. Mudanças de hábitos alimentares, com menos alimentos gordurosos e ultraprocessados são fundamentais. Evitar estes comportamentos de risco é a chave para uma vida mais longa e saudável", disse a coordenadora.

Aferir a pressão com frequência e acompanhar as taxas de colesterol são importantes para evitar doenças crônicas como a diabetes e a hipertensão. Outros testes importantes a serem realizados dizem respeito às doenças sexualmente transmissíveis como o teste de HIV, hepatite B (HBsAg) e do vírus da hepatite C (anti-HCV). (...)

Disponível em <https://bvsm.s.saude.gov.br/saude-do-homem-prevencao-e-fundamental-para-uma-vida-saudavel-2/>.

1. Analise a seguinte assertiva retirada do Texto: "Homem não é super-herói, eles precisam **quebrar o mito** de serem fortes o tempo todo.". De acordo com o contexto, a expressão em destaque apresenta o mesmo sentido de

- A) romper paradigmas.
- B) aprender informações novas.
- C) livrar-se de pensamentos negativos.
- D) desistir de lutar por uma vida melhor

2. Em relação às informações apresentadas no Texto, analise os itens a seguir:

- I. Os homens brasileiros vivem, em média, 10 anos a menos que as mulheres, por não terem o hábito de ir ao médico.
- II. Cerca de 70% dos homens só procuram um consultório médico por influência da mulher ou dos filhos.
- III. As mortes prematuras de homens estão relacionadas, em sua maior parte, a doenças cardiovasculares e infartos.
- IV. O autocuidado é essencial para que muitas doenças possam ser evitadas ou tratadas, de forma a prolongar a vida.
- V. A adoção de hábitos saudáveis, a prática de atividade física regular, a alimentação balanceada e o uso moderado de bebidas alcoólicas são cruciais para não desenvolver essas doenças.

A partir da análise dos itens acima, assinale a alternativa correta.

- A) Somente os itens I e III estão corretos.
- B) Somente os itens II e V estão corretos.
- C) Somente os itens III e IV estão corretos.
- D) Somente os itens II e IV estão corretos.

3. No período "Os homens brasileiros vivem, em média, 7,2 anos a menos que **as** mulheres.", extraído do Texto, as partículas destacadas exercem, respectivamente, as funções de

- A) 1. Artigo definido. 2. Preposição.
- B) 1. Preposição. 2. Artigo definido.
- C) 1. Preposição. 2. Pronome oblíquo.
- D) 1. Pronome oblíquo. 2. Artigo definido.

4. Os pronomes são palavras que indicam pessoas do discurso, posse e posições. Eles podem substituir substantivos, como ocorre nos exemplos a seguir:

- I. "É preciso chamar atenção dos homens para o autocuidado. Homem não é super-herói, **eles** precisam quebrar o mito de serem fortes o tempo todo."
- II. "É preciso prestar atenção no corpo e ficar atento aos sinais que **ele** envia."

Assinale a alternativa que apresenta corretamente os substantivos que os pronomes destacados acima estão substituindo.

- A) I. mito. II. corpo.
- B) I. homens. II. corpo.
- C) I. super-herói. II. fortes.
- D) I. homens. II. atenção.

5. Respeitando as regras de concordância verbal, assinale a alternativa correta.

- A) Existe na atualidade milhares de pessoas passando fome no mundo.
- B) Podem provocar dependência os remédios consumidos de forma indiscriminada.
- C) Persistem por muito tempo o prejuízo moral causado pelas Fake News na vida das pessoas.
- D) Falta aos países subdesenvolvidos recursos financeiros para proteção e recuperação ambiental.

CARGO: MOTORISTA - CATEGORIA "B"

6. "A identificação precoce de doenças aumenta as chances de um tratamento eficaz. **Por isso**, alguns exames devem fazer parte da rotina dos homens." A conjunção destacada está ligando os períodos, estabelecendo entre eles uma ideia de

- A) adição.
- B) finalidade.
- C) conclusão.
- D) explicação.

7. Assinale a alternativa correta em que a palavra é acentuada exatamente pelo mesmo motivo que justifica o acento na palavra "referência".

- A) Estágio.
- B) Saudável.
- C) Alcoólicas.
- D) Transmissíveis.

8. De acordo com os processos de formação das palavras, pode-se afirmar que o vocábulo **cardiovascular** sofreu

- A) derivação prefixal.
- B) derivação pré-sufixal.
- C) composição por aglutinação.
- D) composição por justaposição.

9. Em relação aos encontros vocálicos, assinale a alternativa correta em que todas as palavras apresentam em sua estrutura somente ditongo.

- A) pessoas – doenças.
- B) saudáveis – estágio.
- C) pacientes – consultório.
- D) saúde – consequência.

10. As palavras "hipertensão" e "transmissíveis" são substantivos derivados que receberam em sua formação afixos, denominados, respectivamente, de

- A) prefixo e sufixo.
- B) sufixo e prefixo.
- C) prefixo e vogal temática.
- D) sufixo e desinência de número.

11. Encontro consonantal é quando duas ou mais consoantes aparecem juntas em uma palavra, sem vogal entre elas. Sabendo-se disso, assinale a alternativa correta sobre os encontros consonantais nas palavras a seguir.

- A) "crônicas" – apresenta um encontro consonantal disjunto.
- B) "doenças" – apresenta um encontro consonantal disjunto.
- C) "frequência" – apresenta um encontro consonantal puro.
- D) "importantes" – apresenta um encontro consonantal puro.

12. Estão separadas corretamente, conforme as regras de separação silábicas, as palavras presentes

- A) in-flu-ên-ci-a; pa-cien-tes.
- B) pro-ces-sa-dos; coor-de-na-do-ra.
- C) fun-da-men-ta-is; sau-dá-vel.
- D) con-sul-tó-rio; trans-mis-sí-veis.

RACIOCÍNIO LÓGICO

13. Em uma pesquisa com 100 pessoas sobre esportes favoritos, constatou-se que:

- 60 gostam de futebol;
- 40 gostam de basquete;
- 20 gostam de ambos os esportes.

Determine quantas pessoas não gostam nem de futebol nem de basquete e assinale a alternativa correta.

- A) 0.
- B) 20.
- C) 40.
- D) 60.

14. Seja um número inteiro positivo n tal que quando dividido por 5, deixa resto 2. Determine em qual das alternativas abaixo também ocorre resto 2 quando dividida por 5 e assinale-a.

- A) $n + 5$.
- B) $n + 3$.
- C) $2n$.
- D) $3n$.

15. Um gráfico mostra a variação da temperatura ao longo do dia em uma cidade. Às 6h, a temperatura era de 15°C . Ao meio-dia, atingiu 25°C , e às 18h, caiu para 20°C . Determine qual foi a variação média de temperatura por hora entre 6h e 18h e assinale a alternativa correta.

- A) Aumento de aproximadamente $0,5^{\circ}\text{C}$ por hora.
- B) Aumento de aproximadamente $0,42^{\circ}\text{C}$ por hora.
- C) Aumento de aproximadamente $0,83^{\circ}\text{C}$ por hora.
- D) Aumento de aproximadamente $0,49^{\circ}\text{C}$ por hora.

16. Uma tabela mostra a produção de três fábricas (A, B e C) ao longo de quatro meses:

Fábrica	Jan	Fev	Mar	Abr
A	100	120	110	130
B	90	95	100	105
C	80	85	90	95

Determine qual foi o aumento percentual da produção total das três fábricas, de janeiro para abril, e assinale a alternativa correta.

- A) 15,73%.
- B) 22,22%.
- C) 25%.
- D) 33,10%.

17. Em uma classe, alguns alunos gostam da matéria de matemática, outros gostam de português e alguns gostam de ambas. Determine qual diagrama representa melhor essa situação e assinale a alternativa correta.

- A) Dois círculos separados, um para matemática e outro para português.
- B) Dois círculos sobrepostos, mostrando a interseção entre matemática e português.
- C) Um círculo dentro do outro, com matemática dentro de português.
- D) Três círculos separados para matemática, português e ambos.

CARGO: MOTORISTA - CATEGORIA "B"

18. Se todo pássaro tem asas e todo animal que tem asas pode voar, então podemos concluir que:

- A) Todo pássaro pode voar.
- B) Alguns pássaros não podem voar.
- C) Todo animal que pode voar é um pássaro.
- D) Nenhum pássaro pode voar.

19. Em um código secreto, as letras correspondem a números conforme a seguir: A=1, B=2, C=3, D=4 e E=5. Determine qual é o valor da expressão $(A + E) \times C$ e assinale a alternativa correta.

- A) 15.
- B) 18.
- C) 20.
- D) 24.

20. Considere as seguintes afirmações:

- I. Se Carlos vai à festa, então Diana também vai.
- II. Se Diana vai à festa, então ela leva um bolo.
- III. Diana não levou um bolo.

Com base nas informações acima, assinale a alternativa correta que apresenta uma conclusão logicamente válida.

- A) Carlos foi à festa.
- B) Diana foi à festa.
- C) Carlos não foi à festa.
- D) Carlos e Diana foram à festa.

CONHECIMENTOS ESPECÍFICOS

21. Pedro recebeu em seu endereço uma notificação de multa de trânsito por parar com o veículo sobre a faixa destinada a pedestres na mudança de sinal luminoso. Esta conduta configura uma infração ao artigo 183 do Código de Trânsito Brasileiro. Entretanto, Pedro deseja recorrer, pois, devido ao congestionamento, ficou impossibilitado de prosseguir seu caminho e, se manteve na faixa de pedestres até a mudança do sinal. Neste caso, como será um recurso administrativo, Pedro deverá apresentar sua defesa no

- A) DNIT.
- B) DETRAN.
- C) CONTRAN.
- D) JARI.

22. Sobre o tema sinalização, observe as características a seguir:

Apresentam-se em forma retangular, com a cor de fundo e orla externa em verde, e as legendas, tarja, diagrama e orla interna em branco, sua função é apresentar os movimentos que podem ser efetuados no entroncamento que se aproxima e seu objetivo é indicar antecipadamente ao condutor, através de representação gráfica, os movimentos a serem realizados para alcançar os destinos indicados.

A descrição acima se refere às

- A) placas de identificação de rodovias.
- B) placas de posicionamento na pista.
- C) placas diagramadas.
- D) placas educativas.

23. Com relação aos conceitos básicos de mecânica automotiva, assinale a alternativa correta que apresenta com precisão a função da correia do alternador.




- A) É responsável por acionar o eixo e transmitir o movimento do motor térmico.
- B) Tem como principal função colocar o alternador em atividade através de um acoplamento de polias, peças que geram a energia para a bateria do carro.
- C) Tem a função de proteger os contatos elétricos da ponte retificadora e, assim, impedir que durante a manutenção do motor térmico tenha acesso aos terminais elétricos.
- D) É uma peça criada para manter a tensão regulada dentro dos parâmetros pré-estabelecidos.

24. Edson precisou sair de casa muito apressado para levar sua esposa Cláudia ao hospital, pois ela estava entrando em trabalho de parto, e, com isso, esqueceu de pegar sua carteira. Chegando próximo à maternidade, Edson foi parado em uma blitz, onde foi solicitado que apresentasse sua CNH que, infelizmente, não estava em sua posse. De acordo com o Código de Trânsito Brasileiro, dirigir sem portar a CNH é multa

- A) leve.
- B) média.
- C) grave.
- D) gravíssima.

25. Correlacione as colunas abaixo a partir dos itens em relação às imagens apresentadas:

- | |
|---------------------|
| I. Depressão. |
| II. Pista irregular |
| III. Lombada |

()	
()	
()	

A partir da correlação acima, assinale a alternativa que apresenta a sequência correta obtida no sentido de cima para baixo.

- A) I – II – III.
- B) III – II – I.
- C) II – I – III.
- D) III – I – II.

CARGO: MOTORISTA - CATEGORIA "B"

26. Assinale a alternativa que descreve corretamente a função principal do Código de Trânsito Brasileiro (CTB).

- A) Exclusivamente, criar métodos que possam ajudar condutores a manterem uma boa educação no trânsito, através de diretrizes para a regulamentação do tráfego urbano.
- B) Estabelecer normas de emissão de poluentes para fábricas de veículos.
- C) Garantir a segurança e a ordem no trânsito terrestre em todo o território nacional.
- D) Regular o limite de velocidade.

27. Ricardo e sua família viajaram para o interior do estado, onde foram passar a virada do ano com seus parentes. Em determinado momento da viagem, Ricardo percebeu que o freio de seu veículo falhou. Nessa situação, a melhor escolha, observando os termos da Direção Defensiva, é

- A) reduzir a marcha gradativamente e acionar o freio de mão.
- B) tentar parar o veículo usando apenas o freio de mão.
- C) desligar o motor para evitar danos.
- D) ligar o pisca-alerta e continuar dirigindo.

28. Ao dirigir sob chuva intensa, a prática mais recomendada é

- A) parar no acostamento.
- B) manter a velocidade constante.
- C) acelerar para evitar aquaplanagem.
- D) reduzir a velocidade e aumentar a distância do veículo à frente.

29. O componente que reduz a emissão de poluentes do veículo é

- A) o radiador.
- B) o filtro de ar.
- C) o catalisador.
- D) a bateria.

30. A sinalização obrigatória ao parar em via pública por falha mecânica é

- A) a luz baixa.
- B) o pisca-alerta e triângulo de sinalização.
- C) o farol de neblina.
- D) a luz alta e faróis ligados.

31. O sistema responsável pelo acionamento de sinalização do veículo é o

- A) elétrico.
- B) de transmissão.
- C) de combustível.
- D) de ignição.

32. O condutor veicular deve dar preferência à passagem de pedestre

- A) quando o sinal estiver vermelho.
- B) assim que o pedestre colocar os pés na faixa de pedestre.
- C) se o pedestre apresentar ter mais de 60 anos de idade.
- D) em qualquer situação.

33. Anselmo é motorista do transporte escolar público de sua cidade, no período diurno e, com isso, tem algumas obrigações, como manter o ônibus limpo, verificar o nível do óleo, entre outras. Seu colega de trabalho, ao receber a chave do ônibus, percebe que o veículo se encontra com mau cheiro. A postura correta do motorista do turno vespertino deve ser a de

- A) limpar o veículo.
- B) limpar o veículo e assim que possível comunicar aos seu colega de trabalho.
- C) exigir outro ônibus.
- D) comunicar ao superior e aguardar providências.

34. Manter um bom relacionamento interpessoal é indispensável para que uma equipe de trabalho consiga executar todas as tarefas do dia. Sobre o assunto, assinale a alternativa que **não** apresenta um dos pilares para se manter o equilíbrio entre razão e emoção.

- A) Autoconhecimento.
- B) Assertividade.
- C) Individualidade.
- D) Cordialidade.

35. Todo condutor deve ter cuidado e zelo pelo automóvel que possui ou dirige. Sobre o tema, assinale a alternativa correta que apresenta um tipo de manutenção preventiva veicular.

- A) Vulcanizar a câmara de ar rasgada.
- B) Trocar a correia dentada desgastada.
- C) Trocar a lâmpada do farol queimada.
- D) Trocar o óleo do motor dentro do tempo adequado previsto no manual do veículo.

36. Sobre o acionamento do pisca-alerta, analise os itens a seguir:

- I. Para avisar aos motoristas e pedestres presentes no tráfego sobre as ações que o carro fará ou sobre algum problema.
- II. Para alertar a presença de animais na via.
- III. Ao atingir mais de 100 km/h em uma via pública.

Mediante a análise dos itens acima, assinale a alternativa correta.

- A) Somente os itens I e II estão corretos.
- B) Somente os itens I e III estão corretos.
- C) Somente os itens II e III estão corretos.
- D) Todos os itens estão corretos.

37. A cada infração cometida são computados determinados números de pontos. Sobre o tema, assinale a alternativa correta.

- A) Gravíssima – 8 pontos; Grave – 6 pontos; Média – 4 pontos; Leve – 2 pontos.
- B) Gravíssima – 7 pontos; Grave – 5 pontos; Média – 4 pontos; Leve – 3 pontos.
- C) Gravíssima – 6 pontos; Grave – 4 pontos; Média – 3 pontos; Leve – 2 pontos.
- D) Gravíssima – 5 pontos; Grave – 3 pontos; Média – 2 pontos; Leve – 1 ponto.

CARGO: MOTORISTA - CATEGORIA "B"

38. No que se refere às possibilidades de se pagar multas de trânsito com desconto, analise os itens a seguir:

- I. É possível ter 20% de desconto, ou seja, o proprietário do veículo pagará 80% do valor descrito no boleto. Devendo enfatizar que, mesmo pagando a multa é possível apresentar recurso e sendo este deferido é possível receber o valor pago. Portanto, é possível pagar o boleto com desconto, recorrer e ainda receber o valor pago.
- II. O desconto será de 40% sobre o valor da multa, ou seja, o proprietário do veículo irá pagar 60% do valor descrito no boleto. Porém, é necessário cumprir alguns requisitos, como: (1) optar pelo sistema de notificação eletrônica e (2) não apresentar recurso.
- III. É possível ter 50% de desconto, ou seja, o proprietário do veículo pagará 50% do valor descrito no boleto. Com isso, não é possível apresentar recurso.

Mediante a análise dos itens acima, assinale a alternativa correta.

- A) Somente os itens II e III estão corretos.
- B) Somente os itens I e II estão corretos.
- C) Somente os itens I e III estão corretos.
- D) Todos os itens estão corretos.

39. O triângulo de sinalização é um equipamento de segurança obrigatório do veículo. O dispositivo está previsto na Resolução nº 14/98 do Conselho Nacional de Trânsito (Contran). Conforme dispõe a legislação, trata-se de um "dispositivo de sinalização luminosa ou refletora de emergência, independente do sistema de iluminação do veículo". Sobre o assunto, assinale a alternativa que apresenta a maneira correta para sua utilização.

- A) O condutor deverá posicionar o triângulo de sinalização, ou equipamento similar, à distância mínima de 20 metros da parte traseira do veículo.
- B) O condutor deverá acionar de imediato as luzes de advertência (pisca-alerta), providenciando a colocação do triângulo de sinalização, ou equipamento similar, à distância mínima de 2 metros da parte traseira do veículo.
- C) O condutor deverá colocar o seu triângulo de sinalização, ou equipamento similar, dentro do porta-malas do veículo.
- D) O condutor deverá acionar de imediato as luzes de advertência (pisca-alerta), providenciando a colocação do triângulo de sinalização, ou equipamento similar, à distância mínima de 30 metros da parte traseira do veículo.

40. De acordo com o CTB, o condutor de veículo só poderá fazer uso de buzina, desde que em toque breve, nas seguintes situações:

- I. para fazer as advertências necessárias a fim de evitar sinistros;
- II. fora das áreas urbanas, quando for conveniente advertir a um condutor que se tem o propósito de ultrapassá-lo.

Sobre os itens acima, assinale a alternativa correta.

- A) Somente o item I está correto.
- B) Somente o item II está correto.
- C) Os itens I e II estão corretos.
- D) Os itens I e II estão incorretos.

Espaço livre.