

CONCURSO PÚBLICO

CÂMARA MUNICIPAL DE RIO BRILHANTE/MS

EDITAL N.º 001/2024

AUXILIAR DE SERVIÇOS DE TRANSPORTES

Duração: 4h (quatro horas)

Leia atentamente as instruções abaixo:

01 Você recebeu do fiscal o seguinte material:

a) Este caderno, com **30 (trinta)** questões da prova objetiva, sem repetição ou falha, conforme distribuição abaixo:

CONHECIMENTOS BÁSICOS			CONHECIMENTOS ESPECÍFICOS
LÍNGUA PORTUGUESA	MATEMÁTICA BÁSICA	CONHECIMENTOS GERAIS	
1 a 10	11 a 15	16 a 20	21 a 30

b) Um cartão de respostas destinado à marcação da alternativa correta.

- 02 Verifique se este material está em ordem e se o seu nome, RG, cargo e número de inscrição conferem com os dados que aparecem no cartão de respostas. Caso contrário, notifique imediatamente o fiscal.
- 03 Após a conferência, o candidato deverá assinar no espaço próprio do cartão de respostas, com caneta esferográfica de tinta na cor azul ou preta.
- 04 No cartão de respostas da prova objetiva, a marcação da alternativa correta deve ser feita cobrindo a letra correspondente ao número da questão e preenchendo todo o espaço interno, com caneta esferográfica de tinta na cor azul ou preta, de forma contínua e densa.

Exemplo:



- 05 Para cada uma das questões objetivas, são apresentadas **5 (cinco) alternativas** classificadas com as letras (A, B, C, D e E), mas só uma responde adequadamente à questão proposta. Você só deve assinalar uma alternativa. A marcação em mais de uma alternativa anula a questão, mesmo que uma das respostas esteja correta.
- 06 O candidato poderá entregar seu cartão de respostas, seu caderno de questões e retirar-se da sala de prova somente depois de decorrida **1 (uma) hora** do início da prova. O candidato que insistir em sair da sala de prova, descumprindo o aqui disposto, deverá assinar o Termo de Ocorrência declarando sua desistência do certame, que será lavrado pelo Coordenador do local.
- 07 Ao candidato será permitido levar seu caderno de questões a partir de **1 (uma) hora** para o término da prova e desde que permaneça em sala até esse momento.
- 08 Não será permitida a cópia de gabarito no local de prova. Ao terminar a prova de conhecimentos, o candidato entregará, obrigatoriamente, o seu cartão de respostas. **O candidato que se retirar da sala levando o cartão de respostas estará automaticamente eliminado do certame.**
- 09 Reserve os **30 (trinta)** minutos finais para marcar seu cartão de respostas. Os rascunhos e as marcações assinaladas no caderno de questões não serão levados em consideração.
- 10 Os **3 (três)** últimos candidatos permanecerão sentados até que todos concluam a prova ou que termine o seu tempo de duração, devendo assinar a ata de sala e retirar-se juntos.

LÍNGUA PORTUGUESA

Leia o texto a seguir:

OS SEGREDOS DA NOSSA CASA

Certo dia, uma mulher estava na cozinha e, ao atijar a fogueira, deixou cair cinza em cima do seu cão.

O cão queixou-se:

— A senhora, por favor, não me queime!

Ela ficou muito espantada: um cão a falar! Até parecia mentira...

Assustada, resolveu bater-lhe com o pau com que mexia a comida. Mas o pau também falou:

— O cão não me fez mal. Não quero bater-lhe!

A senhora já não sabia o que fazer e resolveu contar às vizinhas o que se tinha passado com o cão e o pau.

Mas, quando ia sair de casa, a porta, com um ar zangado, avisou-a:

— Não saias daqui e pensa no que aconteceu. Os segredos da nossa casa não devem ser espalhados pelos vizinhos.

A senhora percebeu o conselho da porta. Pensou que tudo começara porque tratara mal o seu cão. Então, pediu-lhe desculpa e repartiu o almoço com ele.

Comentário: é fundamental sabermos conviver uns com os outros, assegurar o respeito

Fonte: https://muralafrica.paginas.ufsc.br/files/2011/11/CONTOS_AFRICANOS.pdf. Acesso em: 07 nov. 2024.

1. De acordo com o texto, ao perceber que o cão e o pau falavam, a mulher decidiu:

- A) expulsar o cão da cozinha
- B) livrar-se do pau, por conta do seu espanto
- C) conversar com seu esposo sobre a situação vivida
- D) contar o fato às vizinhas, o que foi realizado logo em seguida
- E) contar o fato às vizinhas, mas a mulher não conseguiu fazê-lo

2. Um determinado fato desencadeou toda a narrativa. Esse fato foi:

- A) o almoço, que foi servido ao cão
- B) a cinza que caiu sobre o rabo do cão
- C) a conversa informal entre o cão e o pau
- D) o diálogo que o cão travou com a mulher
- E) a importância da convivência entre todos

3. “Mas, quando ia sair de casa, a porta, com um ar **zangado**, avisou-a”. Nesse trecho, a palavra destacada tem sentido semelhante a:

- A) contente
- B) satisfeito
- C) pensativo
- D) aborrecido
- E) melancólico

4. No texto, há informações mais centrais e há informações mais secundárias. Um trecho que concentra uma informação central ou principal, que ajuda a desenvolver a narrativa, é:

- A) “pensa no que aconteceu”
- B) “a mulher estava na cozinha”
- C) “a senhora já não sabia o que fazer”
- D) “ela ficou muito espantada: um cão a falar”
- E) “resolveu contar às vizinhas o que se tinha passado”

5. O texto é formado:

- A) somente por elementos verbais
- B) somente por elementos não verbais
- C) predominantemente por elementos verbais
- D) predominantemente por elementos não verbais
- E) por elementos verbais e por elementos não verbais

6. Segundo o texto, o cão falou. Em seguida a mulher ficou espantada. Entre a fala do cão e o espanto da mulher, há uma relação de:

- A) fato e consequência
- B) fato e conclusão
- C) fato e finalidade
- D) fato e opinião
- E) fato e causa

7. “Os segredos da casa não devem ser espalhados pelos vizinhos”. Nesse trecho:

- A) há uma opinião, visto que o cão apresentou seu ponto de vista sobre uma determinada questão
- B) há uma opinião, visto que a porta apresentou seu ponto de vista sobre uma determinada questão
- C) há uma opinião, visto que a mulher apresentou seu ponto de vista sobre uma determinada questão
- D) não há uma opinião, pois o trecho indica apenas um fato ou constatação, ou seja, não há nenhuma avaliação pessoal
- E) não há uma opinião, pois animais e coisas não podem apresentar pontos de vista, nem mesmo em textos literários

8. No texto anterior, o cão, o pau e a porta:

- A) não são personagens, pois eles têm uma importância muito pequena no texto
- B) não são personagens, pois todos eles cumprem um papel secundário na narrativa
- C) são personagens, visto que participam da narração, com algumas características humanas
- D) não são personagens, pois somente os seres humanos desempenham esse papel na narrativa
- E) são personagens, visto que todos os animais, objetos ou coisas sempre são personagens em textos literários

9. Com base na leitura do texto, a fala da porta é:

- A) anterior à fala do cão
- B) anterior à fala do pau
- C) posterior à fala do cão
- D) posterior ao almoço da mulher
- E) posterior ao pedido de desculpas da mulher ao cão

10. No texto, o narrador é:

- A) personagem, pois participa da história em papel principal
- B) personagem, pois participa da história em papel secundário
- C) observador, pois participa da história em papel principal
- D) observador, pois participa da história em papel secundário
- E) observador, pois apenas narra o que observa, sem participar como personagem

MATEMÁTICA BÁSICA

11. Nas últimas eleições para prefeito em certo município, os candidatos **A**, **B** e **C** receberam, respectivamente, 42%, 31% e 17% dos votos válidos.

Se o candidato **A** recebeu 4.325 votos a mais que o candidato **C**, o número de votos que o candidato **B** recebeu é:

- A) 2.941
- B) 3.275
- C) 4.498
- D) 5.363
- E) 6.569

12. Um professor aplicou provas para duas turmas **A** e **B**, que têm dez alunos e oito alunos, respectivamente. As somas das notas dos alunos, tanto da turma **A** quanto da turma **B**, foi igual a 80.

Portanto, a média aritmética das notas de todos os alunos das duas turmas está entre:

- A) 8,0 e 8,3
- B) 8,3 e 8,6
- C) 8,6 e 8,9
- D) 8,9 e 9,2
- E) 9,2 e 9,5

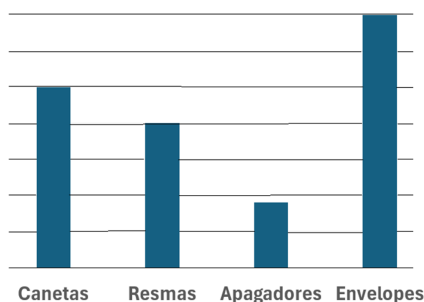
13. O perímetro de um terreno retangular é igual a 68 metros. Se o comprimento do terreno é 8 metros maior que a largura, esse comprimento, em metros, corresponde a:

- A) 21
- B) 22
- C) 23
- D) 24
- E) 25

14. Um pacote contendo 0,6 kg de um certo produto é vendido por R\$ 12,03. O valor do kg desse produto, em reais, é:

- A) 20,50
- B) 20,05
- C) 20,00
- D) 2,50
- E) 2,05

15. O gráfico a seguir mostra as quantidades disponíveis de certos materiais no depósito de uma escola.



Sabendo que há 250 canetas e 200 resmas, a soma do número de apagadores e de envelopes está entre:

- A) 375 e 400
- B) 400 e 425
- C) 425 e 450
- D) 450 e 475
- E) 475 e 500

CONHECIMENTOS GERAIS

16. O critério utilizado pela Constituição para determinar quem tem o dever de prestação do serviço público foi o da predominância de interesses. Nesse sentido, a prestação de serviço de interesse local compete:

- A) à União
- B) ao Estado
- C) ao município
- D) às autarquias
- E) à sociedade de economia mista

17. O ato administrativo goza da pressuposição de que, ao nascer, está de acordo com a lei. Esse atributo que confere a imediata operatividade do ato administrativo trata da presunção de:

- A) legalidade
- B) veracidade
- C) legitimidade
- D) imperatividade
- E) autoexecutoriedade

18. De acordo com a Constituição, todos são iguais perante a lei, sem distinção de qualquer natureza, garantindo-se aos brasileiros e aos estrangeiros residentes no País a inviolabilidade do direito à vida, à liberdade, à igualdade, à segurança e à propriedade. Essa proteção envolve diretamente:

- A) a defesa do estado e das instituições democráticas
- B) os direitos e deveres individuais e coletivos
- C) os princípios fundamentais de república
- D) a ordem econômica e financeira
- E) a organização do estado

19. No Censo realizado pelo IBGE (Instituto Brasileiro de Geografia e Estatística) em 2022, a cidade de Rio Brilhante contabilizou 37.601 habitantes, com a estimativa de atingir 39.936 habitantes em 2024. Nas eleições municipais desse ano de 2024, 26.474 cidadãos e cidadãs da cidade estiveram aptos a votar e escolher os Vereadores e o Prefeito da cidade.

Segundo a Constituição Federal Brasileira que vigora desde 1988, tem direito de voto apenas as pessoas que são:

- A) maiores de 16 anos, homens e mulheres, alfabetizados
- B) maiores de 18 anos, homens e mulheres, alfabetizados
- C) maiores de 16 anos, homens e mulheres, independentes de serem alfabetizados
- D) maiores de 18 anos, homens e mulheres, independentes de serem alfabetizados
- E) maiores de 21 anos, homens e mulheres, independentes de serem alfabetizados

20. Originalmente, a vegetação do Cerrado cobria a maior parte do território do município de Rio Brilhante. Na atualidade, grande parte da vegetação original foi substituída pela:

- A) fruticultura irrigada
- B) mata de eucaliptos
- C) cultura da cana-de-açúcar
- D) floresta estacional semidecidual
- E) planícies de inundação

CONHECIMENTOS ESPECÍFICOS

21. O CONTRAN - Conselho Nacional de Trânsito - que compõe o Sistema Nacional de Trânsito, é um órgão do tipo:

- A) julgador
- B) executivo
- C) normativo
- D) deliberativo
- E) operacional


22. As emissões de CO₂ e o ruído produzidos pelos motores dos veículos são diretamente responsáveis pelos tipos de poluição ambiental, respectivamente:

- A) do ar e sonora
- B) do solo e do ar
- C) hídrica e sonora
- D) térmica e hídrica
- E) do solo e hídrica

23. O trânsito de veículos sobre passeios é:

- A) proibido, sob qualquer circunstância
- B) permitido, sob qualquer circunstância
- C) permitido, desde que o motorista acenda o pisca-alerta
- D) permitido, exclusivamente para se adentrar ou sair de imóveis
- E) permitido, para se adentrar ou sair de imóveis ou em áreas especiais de estacionamento

24. Observe a imagem abaixo:

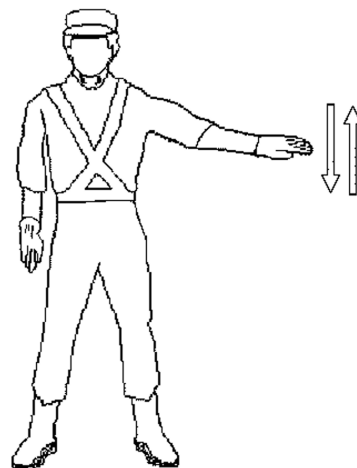


Fonte: ABRAMET. Noções de Primeiros Socorros no Trânsito. 2005.

O procedimento inicial adequado, se você não estiver treinado, ao encontrar uma vítima inconsciente (desmaiada), após acidente de trânsito é:

- A) movimentar a vítima, tentando despertá-la
- B) iniciar procedimento de massagem cardíaca, tentando reanimá-la
- C) retirar a vítima do local do desmaio, afastando-a do veículo acidentado
- D) indagar entre as pessoas que estão no local, se existe alguém treinado e preparado para atuar nesta situação
- E) iniciar procedimento de boca a boca, tentando normalizar sua respiração e depois oferecer-lhe água para beber

25. Observe a imagem abaixo:



AGRALE. Manual Básico de Segurança no Trânsito. 2018.

Você está dirigindo seu veículo por uma avenida e vê um agente de trânsito com o braço levantado verticalmente, com a palma da mão virada para baixo, fazendo movimentos verticais (subindo e descendo), como mostrado na imagem acima. Você deverá:

- A) diminuir a velocidade do veículo, parando próximo ao agente
- B) diminuir a velocidade, mas continuar trafegando com o veículo
- C) parar imediatamente o veículo, independentemente de onde ele estiver
- D) parar imediatamente o veículo, se ele estiver passando por uma interseção
- E) continuar trafegando normalmente, sem alterar sua velocidade ou frear

26. O dispositivo destinado a provocar a diminuição da marcha do veículo ou pará-lo é chamado de:

- A) freio motor
- B) freio de engate
- C) freio de serviço
- D) freio de segurança
- E) freio de estacionamento

27. Observe a imagem abaixo:



Fonte: ABRAMET. Noções de Primeiros Socorros no Trânsito. 2005.

Uma das principais causas de acidentes de trânsito, relacionada diretamente ao comportamento do condutor, é:

- A) imperícia
- B) ineficácia
- C) diligência
- D) prudência
- E) deficiência

28. Observe a imagem abaixo:

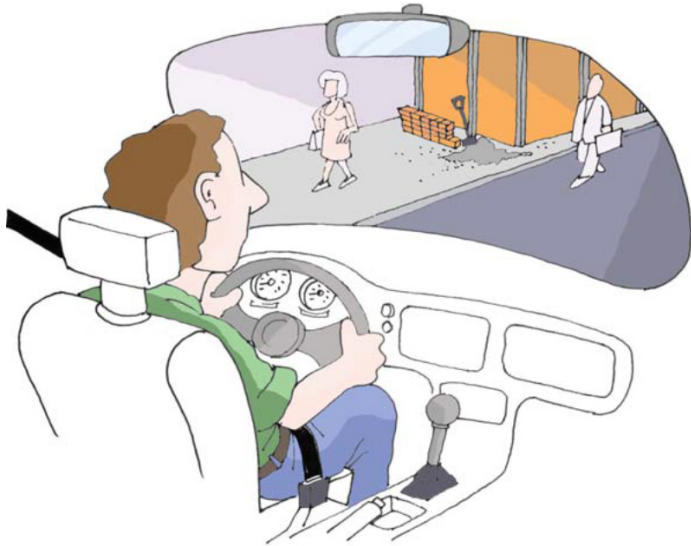


A-42b

Segundo a legislação do CONTRAN referente à sinalização viária, a placa A-42b estampada acima significa:

- A) advertência em relação à pista dividida
- B) advertência em relação ao fim de pista dupla
- C) advertência em relação ao início de pista dupla
- D) regulamentação em relação ao fim de pista dupla
- E) regulamentação em relação ao início de pista dividida

29. Observe a imagem abaixo:



Fonte: DENATRAN. Direção Defensiva. Cartilha. 2005.

Um comportamento ético que contribui para um trânsito mais humano é:

- A) dirigir abaixo da metade da velocidade regulamentada
- B) deixar de dar passagem a veículos precedidos de batedores
- C) aumentar a velocidade do veículo ao se aproximar de cortejos
- D) acelerar ao perceber que um veículo está tentando ultrapassar o seu veículo
- E) sair de fila de veículos estacionados dando preferência à passagem a pedestres

30. Podem ser considerados um EPC (Equipamento de Proteção Coletiva):

- A) óculos e fones de ouvido
- B) capacete e máscara respiratória
- C) extintor de incêndio e silenciador
- D) protetor facial e máscara de solda
- E) cinto de segurança e encosto de cabeça

RASCUNHO