



CONCURSO PÚBLICO Nº 01/2024 PARA PROVIMENTO DE CARGOS DA PREFEITURA MUNICIPAL DE MANHUAÇU - MG

SERVENTE ESCOLAR – EDUCAÇÃO – TURNO C

Código: 109

SÁBADO – MANHÃ

ABRA APENAS QUANDO AUTORIZADO.

Leia com atenção as seguintes instruções:

- Este caderno contém as **25 questões** da Prova Objetiva, composta por: 10 questões de Língua Portuguesa, 8 questões de Matemática e 7 questões de Conhecimentos Gerais.
Caso haja algum problema em seu caderno de provas, informe ao aplicador.
- As informações / instruções dadas no dia da prova complementam o edital.
- Durante as provas, não é permitido o uso de dispositivos eletrônicos de qualquer tipo e celulares, assim como relógios e materiais de consulta.
- Use a Folha de Respostas (versão do candidato) reproduzida no final do Caderno de Prova apenas para marcar seu Gabarito. Esse rascunho somente poderá ser destacado pelo aplicador.
- Na Folha de Respostas:**
 - Confira seu nome, número de inscrição e cargo.
 - Assine, A TINTA, no espaço próprio indicado.
 - Transcreva a seguinte frase, com sua caligrafia usual, mantendo as letras maiúsculas e minúsculas, desconsiderando aspas e autoria:
“Ser feliz sem motivo é a mais autêntica forma de felicidade.”
Carlos Drummond de Andrade
- A Folha de Respostas deve ser assinada e não deve ser dobrada, amassada ou rasurada.
- Sua resposta **NÃO** será computada se houver marcação de mais de uma alternativa, questões não assinaladas ou rasuradas.
- Ao transferir as respostas para a Folha de Respostas:
 - Use somente caneta AZUL ou PRETA, preenchendo toda a área reservada à letra correspondente à resposta solicitada em cada questão, conforme o modelo:

01 A B C D
 - Assinale somente uma alternativa em cada questão e não deixe nenhuma questão sem resposta.
- Sua prova e Folha de Respostas poderão ser entregues somente após o término do período de sigilo: 2 horas.
- Não é permitido levar o Caderno de Prova. Ao entregar sua prova, recolha seus objetos, deixe a sala de provas e, em seguida, o prédio. Até deixar as dependências do local de prova, continuam válidas as proibições do uso de aparelhos eletrônicos e celulares, bem como não lhe é mais permitido o uso dos sanitários.
- Ao término do prazo estabelecido para a prova, os três últimos candidatos deverão permanecer na sala até que o último candidato termine sua prova, devendo todos assinar a Ata de Sala, atestando a idoneidade da fiscalização das provas, retirando-se da sala de prova de uma só vez.
- O Caderno de Questões e os gabaritos das Provas Objetivas serão divulgados no endereço eletrônico www.gestaodeconcursos.com.br, no primeiro dia útil subsequente à data de realização da Prova.

**DURAÇÃO TOTAL DAS PROVAS,
INCLUINDO TRANSCRIÇÃO DA
FOLHA DE RESPOSTAS:
TRÊS HORAS**

Escreva seu nome completo de forma legível.

NOME: _____

LÍNGUA PORTUGUESA

INSTRUÇÃO: Leia o texto I a seguir para responder às questões de 1 a 5.

TEXTO I

Exposição inédita sobre Salvador Dalí chega ao Brasil

“Desafio Salvador Dalí” será exibida no Museu de Arte Brasileira da Faap entre maio e junho

Estreou a exposição “Desafio Salvador Dalí” no Museu de Arte Brasileira da Fundação Armando Alvares Penteado (FAAP), em São Paulo. A mostra é dedicada à vida e à obra do renomado pintor espanhol, conhecido por suas obras surrealistas.

Mais de 100 obras inéditas de Dalí poderão ser vistas juntas pela primeira vez no Brasil, através de uma tecnologia de impressão que assegura reprodução e ampliação mantendo as cores e texturas originais.

As obras foram enviadas da Espanha sob supervisão da Fundação Gala-Salvador Dalí, para o público explorar o universo surrealista do artista, conhecer mais sobre sua personalidade vanguardista, o respeito pelo ofício de pintor, a admiração pelas artes clássicas e a relação pouco convencional com a esposa Gala.

[...]

Disponível em: <https://www.cnnbrasil.com.br/lifestyle/exposicao-inedita-sobre-salvador-dali-chega-ao-brasil-saiba-tudo/>. Acesso em: 6 set. 2024 (adaptado).

• QUESTÃO 1 •

Leia este período extraído do texto I.

Os objetos, conteúdos e interatividades estão distribuídos em seis áreas expositivas.

O sujeito desse período é

- A) composto.
- B) simples.
- C) indeterminado.
- D) inexistente.

• QUESTÃO 2 •

Considerando o uso das palavras no texto I, assinale a alternativa que apresenta apenas substantivos.

- A) Arte, brasileira, fundação.
- B) Obra, renomado, espanhol.
- C) Espanha, público, surrealista.
- D) Universo, personalidade, admiração.

• QUESTÃO 3 •

Assinale a alternativa que apresenta o sinônimo da palavra “mostra”, considerando o contexto em que ela se insere, em: “A mostra é dedicada à vida e à obra do renomado pintor espanhol, conhecido por suas obras surrealistas”.

- A) Alegação
- B) Encoberta
- C) Exibição
- D) Riqueza

• QUESTÃO 4 •

Leia este período extraído do texto I.

Estreou a exposição “Desafio Salvador Dalí” no Museu de Arte Brasileira da Fundação Armando Alvares Penteado (FAAP), em São Paulo.

O sujeito da oração nesse período é

- A) composto.
- B) simples.
- C) indeterminado.
- D) inexistente.

• QUESTÃO 5 •

Com base no texto I, analise as afirmativas a seguir.

- I. A exposição chamada “Desafio Salvador Dalí” é dedicada à vida e à obra do renomado pintor espanhol.
- II. Através de uma tecnologia de impressão, mais de 100 obras inéditas de Salvador Dalí poderão ser vistas juntas.
- III. A exposição “Desafio Salvador Dalí” estreou no Museu de Arte Brasileira da Fundação Armando Alvares Penteado (FAAP), em São Paulo.

Estão corretas as afirmativas

- A) I e II apenas.
- B) II e III, apenas.
- C) I e III, apenas.
- D) I, II e III.

INSTRUÇÃO: Leia o texto II a seguir para responder às questões de 6 a 8.

TEXTO II

Evento em Belo Horizonte promove as rotas do queijo de Minas

Um evento que integra a valorização de dois patrimônios de Minas Gerais: o queijo e o turismo cultural. É com este tema que o Museu das Minas e do Metal (MM Gerda), no Circuito Liberdade, região Centro-Sul da Capital, abre as portas para apresentar ao público o evento “Made in Minas Gerais: Rota do Queijo de Minas – Sabores que Conectam”.

Com entrada gratuita, mas com espaço sujeito à lotação, a programação do evento pretende celebrar a tradição queijeira do Estado e conectar produtores e consumidores para o fomento dos negócios.

Durante os dias de programação, o projeto inclui uma série de ações formativas, dentre elas: degustações de queijos artesanais, intervenções artísticas e uma feira de queijos para negócios e fomento a circuitos turísticos.

“Nesta quinta edição, o Made in Minas Gerais se junta oficialmente à Rota do Queijo de Minas para promover o turismo cultural e de experiências pelas regiões e fazendas produtoras dessa iguaria”, detalha o curador gastronômico e idealizador do evento.

[...]

Disponível em: <https://diariodocomercio.com.br/turismo/evento-belo-horizonte-rotas-queijo-minas/>. Acesso em: 6 set. 2024 (adaptado).

• QUESTÃO 6 •

Assinale a alternativa que traz uma informação noticiada no texto II.

- A) A programação do evento “Made in Minas Gerais: Rota do Queijo de Minas – Sabores que Conectam” tem por objetivo a divulgação de produtos da pecuária mineira.
- B) O evento “Made in Minas Gerais: Rota do Queijo de Minas – Sabores que Conectam” une a valorização do queijo e a valorização do turismo cultural de Minas Gerais.
- C) Os dois patrimônios de Minas Gerais são temas de interesse dos produtores rurais não só mineiros, mas também brasileiros.
- D) O evento tem sido promovido pelos produtores rurais ligados ao agronegócio e pelos responsáveis pelas atrações turísticas do Estado.

• QUESTÃO 7 •

Leia este período extraído do texto II.

Com entrada gratuita, mas com espaço sujeito à lotação, a programação do evento **pretende** celebrar a tradição queijeira do Estado e conectar produtores e consumidores para o fomento dos negócios.

Assinale a alternativa que apresenta o tempo e o modo da forma verbal destacada.

- A) Presente do subjuntivo.
- B) Presente do indicativo.
- C) Pretérito imperfeito do indicativo.
- D) Pretérito imperfeito do subjuntivo.

• QUESTÃO 8 •

Leia este período extraído do texto II.

Durante os três dias de programação, o projeto inclui uma série de ações formativas, dentre elas: degustações de queijos artesanais, intervenções artísticas e uma feira de queijos para negócios e fomento a circuitos turísticos.

Assinale a alternativa que justifica o uso dos dois-pontos nesse período.

- A) Anunciar a fala do responsável pelo evento.
- B) Indicar a síntese de um pensamento.
- C) Indicar itens numa enumeração.
- D) Anunciar uma pergunta direta.

INSTRUÇÃO: Leia o texto III a seguir para responder às questões 9 e 10.

TEXTO III

Desidratação

O calor excessivo faz o corpo aumentar a produção de suor na tentativa de resfriar o organismo. No entanto, isso leva a uma perda significativa de líquidos, o que pode resultar em desidratação caso a pessoa não beba água suficiente.

Os principais sintomas da desidratação são: boca seca, urina escura, fraqueza, tonturas e até desmaios. Por isso, é fundamental aumentar a ingestão de água nos dias mais quentes, mesmo quando não sentir sede. O ideal é beber 2 litros ou mais de água, para adultos saudáveis e sem restrições para ingestão de líquidos.

Disponível em: <https://dasa.com.br/blog/saude/calor-excessivo/>. Acesso em: 6 set. 2024 (adaptado).

• QUESTÃO 9 •

Assinale a alternativa que apresenta o objetivo do texto III.

- A) Expor o que é o calor excessivo.
- B) Divulgar informações para adultos saudáveis.
- C) Instruir os leitores sobre a desidratação.
- D) Defender como diagnosticar a desidratação.

• QUESTÃO 10 •

Assinale a alternativa em que as palavras estão agrupadas porque têm a mesma classificação quanto ao número de sílabas.

- A) Desidratação, tentativa, organismo.
- B) Significativa, líquidos, principais.
- C) Fraqueza, fundamental, ingestão.
- D) Saudáveis, restrições, excessivo.

MATEMÁTICA

• QUESTÃO 11 •

Paulo está fazendo uma reforma em sua casa. Ele foi ao depósito de construção Preço Baixo e fez uma compra, conforme se verifica na nota fiscal a seguir:

NOTA FISCAL		
ITEM	QUANTIDADE	PREÇO UNITÁRIO
Cimento	3 pacotes	R\$ 28,00
Argamassa	4 pacotes	R\$ 18,50

Qual foi o valor total pago por Paulo?

- A) R\$ 74,00.
- B) R\$ 84,00.
- C) R\$ 120,00.
- D) R\$ 158,00.

• QUESTÃO 12 •

No final de todo mês, João retira o extrato bancário para conferir todos os seus débitos e créditos durante o mês. Em janeiro de 2024, foram feitos dois créditos em sua conta, sendo um de R\$ 300,00 e outro R\$ 750,00, e três débitos, nos valores de R\$ 150,00, R\$ 200,00 e R\$ 470,00.

No final do mês de janeiro de 2024, o saldo na conta de João era de:

- A) R\$ 130,00.
- B) R\$ 230,00.
- C) R\$ 330,00.
- D) R\$ 430,00.

• QUESTÃO 13 •

Carolina recebeu de sua mãe 25% de R\$ 220,00.

Então, é correto afirmar que Carolina recebeu

- A) R\$ 50,00.
- B) R\$ 55,00.
- C) R\$ 110,00.
- D) R\$ 220,00.

• QUESTÃO 14 •

Maria é servente escolar. O relógio a seguir mostra a que horas ela inicia o seu trabalho diariamente.



Sabendo que ela trabalha por 5 horas, qual foi o horário em que Maria saiu da escola?

- A) 13 horas e 20 minutos.
- B) 14 horas e 20 minutos.
- C) 15 horas e 20 minutos.
- D) 16 horas e 20 minutos.

• QUESTÃO 15 •

O quadro a seguir apresenta o preço de três artigos vendidos no supermercado Boa Compra.

PRODUTO (pacote de 10 kg)	PREÇO DO PACOTE (R\$)
Açúcar	R\$ 18,00
Farinha	R\$ 6,00
Arroz	R\$ 28,00

Carlos foi a esse supermercado e comprou: 1 pacote de açúcar, 2 pacotes de farinha e 1 pacote de arroz.

Quanto ele gastou em suas compras?

- A) R\$ 20,00.
- B) R\$ 30,00.
- C) R\$ 46,00.
- D) R\$ 58,00.

• QUESTÃO 16 •

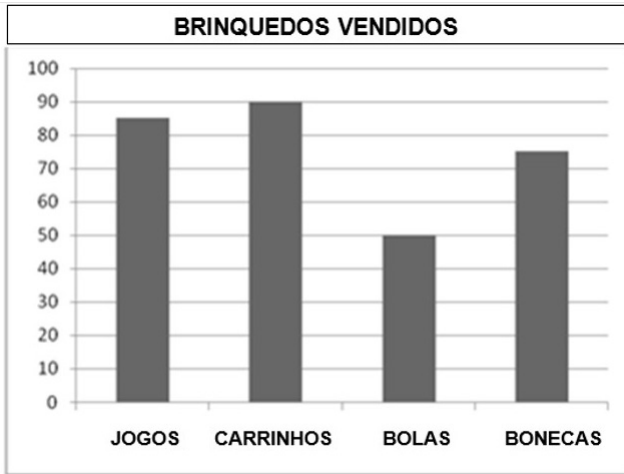
A altura de uma casa era de 4,78 m. Foi construído um 2º andar, e a altura da casa passou a ser de 7,40 m.

Em quantos metros a altura inicial da casa foi aumentada?

- A) 2,62 metros.
- B) 12,18 metros.
- C) 7,40 metros.
- D) 4,78 metros.

• QUESTÃO 17 •

O gráfico a seguir apresenta a quantidade de brinquedos vendidos em uma loja durante a Semana da Criança.



Com base nos dados apresentados, o número de carrinhos mais o número de bolas vendidos foi de:

- A) 130
- B) 140
- C) 145
- D) 150

• QUESTÃO 18 •

A classe de Renato fez uma campanha para arrecadar produtos de higiene para ajudar um orfanato. Foram arrecadados 85 produtos, sendo 48 sabonetes e o restante desodorantes.

Qual foi a quantidade de desodorantes arrecadados?

- A) 133.
- B) 85.
- C) 48.
- D) 37.

CONHECIMENTOS GERAIS

• QUESTÃO 19 •

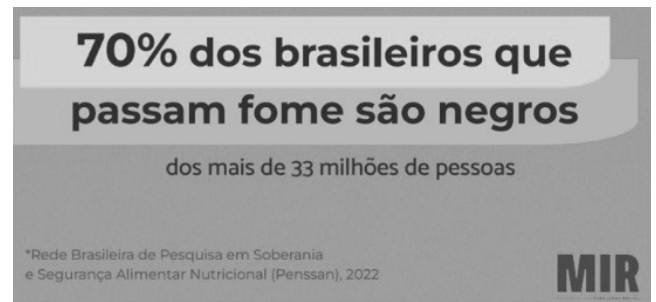
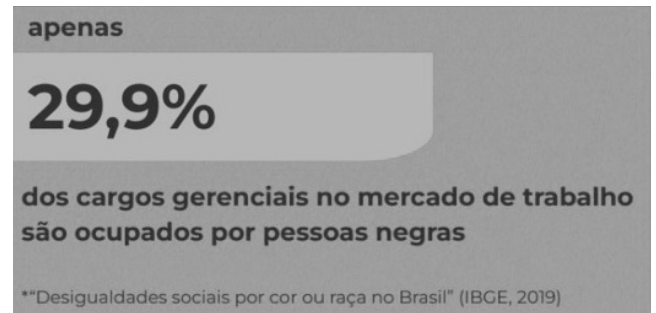
Dentre as campanhas de saúde pública que têm sido realizadas em municípios de todo o Brasil, inclusive em Manhuaçu, está o combate ao mosquito *Aedes aegypti*.

São doenças causadas por esse mosquito:

- A) Dengue, zika e chikungunya.
- B) Zika, covid-19 e febre amarela.
- C) Tuberculose, zika e chikungunya.
- D) Dengue, zika e pneumonia.

• QUESTÃO 20 •

Leia, a seguir, alguns dados apresentados pelo Ministério da Igualdade Racial (MIR) ao Senado Federal, em abril de 2023.



Esses dados revelam que

- A) não é possível comprovar a existência do racismo no Brasil.
- B) o racismo no Brasil é um problema individual, e não da sociedade.
- C) políticas de promoção da igualdade racial não surtem efeito no Brasil.
- D) é necessário criar políticas públicas de combate ao racismo no Brasil.

• QUESTÃO 21 •

Em 2023, a Prefeitura de Manhuaçu decretou o tombamento da fachada do Hotel França, localizado no centro da cidade.

Essa ação significa que a fachada desse hotel deve ser

- A) derrubada.
- B) preservada.
- C) desapropriada.
- D) revitalizada.

• QUESTÃO 22 •

ESGOTO NÃO É LIXEIRA!



ÓLEO DE COZINHA



FIOS DE CABELO



COTONETES



BITUCAS DE CIGARRO



ABSORVENTES



PRESERVATIVOS

**SÃO OS PRINCIPAIS
RESPONSÁVEIS POR OBSTRUÇÕES
NAS TUBULAÇÕES DOMÉSTICAS**

Secretaria de Comunicação Social de Manhuaçu, 2019.

Considerando as informações presentes nessa figura, é possível concluir que

- A) fios de cabelo não possuem impacto negativo na rede de esgoto.
- B) bitucas de cigarro são os principais responsáveis por incêndios.
- C) absorventes devem ser descartados no vaso sanitário.
- D) óleo de cozinha não deve ser jogado no ralo da pia.

• QUESTÃO 23 •

A Constituição da República Federativa do Brasil garante, entre outros, os seguintes direitos aos trabalhadores urbanos e rurais:

- A) Seguro-desemprego, salário-mínimo e repouso semanal remunerado.
- B) Remuneração desigual entre homens e mulheres e licença à gestante.
- C) Gozo de férias anuais sem remuneração adicional e aposentadoria.
- D) Aviso prévio, jornada de oito horas diárias e serviço extra sem remuneração.

• QUESTÃO 24 •

Assinale a alternativa que apresenta a descrição correta de contracheque.

- A) Documento que permite sacar ou transferir dinheiro de uma conta bancária para outra.
- B) Documento que comprova o depósito dos vencimentos de um funcionário no banco ou na tesouraria.
- C) Expressão usada no jogo de xadrez para indicar que o adversário não tem como escapar da derrota.
- D) Expressão usada quando um cheque é devolvido pelo banco por falta de dinheiro na conta bancária.

• QUESTÃO 25 •

Secretaria de Saúde promove ação pela prática da atividade física

O evento foi em alusão ao Dia Mundial da Atividade Física, celebrado em 6 de abril

Disponível em: <https://www.manhuacu.mg.gov.br/>. Acesso em: 25 set. 2024.

Podem ser consideradas práticas de atividade física:

- A) Subir escada e passear com o cachorro.
- B) Andar a pé e fazer conta de adição.
- C) Fazer faxina e configurar o celular.
- D) Limpar a janela e ler um livro.

FOLHA DE RESPOSTAS

(RASCUNHO – VERSÃO DO CANDIDATO)

01	A	B	C	D
	<input type="radio"/>	<input type="radio"/>	<input type="radio"/>	<input type="radio"/>
02	A	B	C	D
	<input type="radio"/>	<input type="radio"/>	<input type="radio"/>	<input type="radio"/>
03	A	B	C	D
	<input type="radio"/>	<input type="radio"/>	<input type="radio"/>	<input type="radio"/>
04	A	B	C	D
	<input type="radio"/>	<input type="radio"/>	<input type="radio"/>	<input type="radio"/>
05	A	B	C	D
	<input type="radio"/>	<input type="radio"/>	<input type="radio"/>	<input type="radio"/>
06	A	B	C	D
	<input type="radio"/>	<input type="radio"/>	<input type="radio"/>	<input type="radio"/>
07	A	B	C	D
	<input type="radio"/>	<input type="radio"/>	<input type="radio"/>	<input type="radio"/>
08	A	B	C	D
	<input type="radio"/>	<input type="radio"/>	<input type="radio"/>	<input type="radio"/>
09	A	B	C	D
	<input type="radio"/>	<input type="radio"/>	<input type="radio"/>	<input type="radio"/>
10	A	B	C	D
	<input type="radio"/>	<input type="radio"/>	<input type="radio"/>	<input type="radio"/>
11	A	B	C	D
	<input type="radio"/>	<input type="radio"/>	<input type="radio"/>	<input type="radio"/>
12	A	B	C	D
	<input type="radio"/>	<input type="radio"/>	<input type="radio"/>	<input type="radio"/>
13	A	B	C	D
	<input type="radio"/>	<input type="radio"/>	<input type="radio"/>	<input type="radio"/>

14	A	B	C	D
	<input type="radio"/>	<input type="radio"/>	<input type="radio"/>	<input type="radio"/>
15	A	B	C	D
	<input type="radio"/>	<input type="radio"/>	<input type="radio"/>	<input type="radio"/>
16	A	B	C	D
	<input type="radio"/>	<input type="radio"/>	<input type="radio"/>	<input type="radio"/>
17	A	B	C	D
	<input type="radio"/>	<input type="radio"/>	<input type="radio"/>	<input type="radio"/>
18	A	B	C	D
	<input type="radio"/>	<input type="radio"/>	<input type="radio"/>	<input type="radio"/>
19	A	B	C	D
	<input type="radio"/>	<input type="radio"/>	<input type="radio"/>	<input type="radio"/>
20	A	B	C	D
	<input type="radio"/>	<input type="radio"/>	<input type="radio"/>	<input type="radio"/>
21	A	B	C	D
	<input type="radio"/>	<input type="radio"/>	<input type="radio"/>	<input type="radio"/>
22	A	B	C	D
	<input type="radio"/>	<input type="radio"/>	<input type="radio"/>	<input type="radio"/>
23	A	B	C	D
	<input type="radio"/>	<input type="radio"/>	<input type="radio"/>	<input type="radio"/>
24	A	B	C	D
	<input type="radio"/>	<input type="radio"/>	<input type="radio"/>	<input type="radio"/>
25	A	B	C	D
	<input type="radio"/>	<input type="radio"/>	<input type="radio"/>	<input type="radio"/>

Ao transferir essas marcações para a folha de respostas, observe as instruções específicas dadas na capa da prova.

Use caneta esferográfica azul ou preta.



Segundo a Lei nº 9.610/1998, reproduções de natureza não pedagógicas das questões desta prova estão proibidas.