

CADERNO DE PROVA

CARGO: AGENTE ARRECADADOR

MEDIDAS INDIVIDUAIS DE PREVENÇÃO CONTRA COVID 19 DURANTE A REALIZAÇÃO DA PROVA

a) *Uso obrigatório da máscara de proteção facial que cubra a boca e o nariz, a máscara somente poderá ser retirada para alimentação ou ingestão de líquidos, desde que sem tocar na parte frontal, prosseguida da higienização das mãos com álcool líquido ou gel de uso individual do próprio candidato;*



b) *Se tossir cubra o rosto*

c) *O descarte da máscara de proteção, durante a aplicação da prova, deve ser feito pelo candidato de forma segura nas lixeiras;*

d) *Não será permitido utilizar o banheiro do local de aplicação após o término da prova e a saída definitiva da sala;*

e) *Ao final das provas, o candidato deverá se retirar imediatamente do local de provas, sob pena de eliminação do certame.*

ANTES DE INICIAR A PROVA LEIA ATENTAMENTE AS INSTRUÇÕES ABAIXO:

- ✓ Você recebeu um Caderno de Provas contendo 35 (trinta e cinco) questões objetivas com 04 (quatro) proposições cada, identificadas pelas letras A, B, C, e D, sendo apenas uma resposta **correta** de acordo com o enunciado;
- ✓ Um Cartão Resposta personalizado para a Prova Objetiva;
- ✓ Você está autorizado(a) a usar caneta esferográfica de tinta preta, fabricada em material transparente;
- ✓ É de sua inteira responsabilidade certificar-se de que os dados informados nos materiais por você recebido estão corretos;
- ✓ **Ao ser autorizado o início da prova, verifique no caderno de provas se a numeração das questões e a paginação estão corretas;**
- ✓ Você dispõe de 3 (três) horas para realizar a Prova Objetiva e somente poderá sair da sala depois de decorridos 1 (uma) hora do início da prova **sem levar consigo o caderno de provas**, e **com o caderno de provas**, faltando 30 (trinta) minutos para o encerramento;
- ✓ Ao terminar a prova escrita, você deverá entregar a prova, o cartão-resposta e assinar a lista de presença, caso não tenha assinado na entrada;
- ✓ Você deverá assinalar no **CARTÃO RESPOSTA** uma única alternativa que julgar correta e **sem rasuras**. O preenchimento do cartão deverá obedecer às instruções nele contidas, é responsabilidade do candidato o correto preenchimento do cartão-resposta, observe atentamente o número da questão antes de marcar, pois não haverá substituição do **CARTÃO RESPOSTA**, que é personalizado e único;
- ✓ Não é permitida a consulta aos apontamentos, livros, dicionários e uso de aparelhos eletrônicos;
- ✓ **Será considerada nula a questão que tiver mais de uma alternativa assinalada, com rasuras ou que esteja em branco ou em desacordo com as instruções de preenchimento informadas no cartão resposta;**
- ✓ Durante a prova, você **não** deverá levantar-se ou comunicar-se com outros(as) candidatos(as);
- ✓ Os(As) 3 (três) últimos(as) candidatos(as) de cada sala só poderão ser liberados(as) juntos(as);
- ✓ O gabarito das provas objetivas será divulgado no segundo dia útil subsequente a aplicação da prova e será fixado no local de realização das inscrições e nos sites www.itame.com.br e www.varjao.go.gov.br;
- ✓ Recursos contra itens do gabarito preliminar poderão ser interpostos na forma do regulamento;
- ✓ Qualquer informação sobre o concurso será fornecida pela Prefeitura, através da Comissão Especial de Concurso Público.

Leia o texto para responder as questões 01, 02, 03, 04, 05, 06, 07 e 08.

(Marina Colasanti)

Do coração partido

Sentada junto à sacada para que com a luz lhe chegasse a vida da rua, a jovem costurava o longo traje de seda cor de jade que alguma dama iria vestir.

Essa seda agora muda – pensava a costureira enquanto a agulha que retinha nos dedos ia e vinha – haveria de farfalhar sobre mármore, ondeando a cada passo da dama, exibindo e ocultando nos poços das pregas seu suave verde. O traje luziria nobre como uma joia. E dos pontos, dos pontos todos, pequenos e incontáveis que ela, aplicada, tecia dia após dia, ninguém saberia.

Assim ia pensando a moça, quando uma gota de sangue caiu sobre o tecido.

De onde vinha esse sangue? Perguntou-se em assombro, afastando a seda e olhando as próprias mãos limpas. Levantou o olhar. De um vaso na sacada, uma roseira subia pela parede oferecendo, ao alto, uma única rosa flamejante.

– Foi ela – sussurrou o besouro que parecia dormir sobre uma folha. – Foi do seu coração partido. Esfregou a cabeça com as patinhas. – Sensível demais, essa rosa – acrescentou, não sem um toque de censura. – Um mancebo acabou de passar lá embaixo, nem olhou para ela. E bastou esse nada, essa quase presença, para ela sofrer de amor.

Por um instante esquecida do traje, a moça debruçou-se na sacada. Lá ia o mancebo afastando-se num esvoejar da capa em meio às gentes e cavalos. – Senhor! Senhor! – gritou ela, mas nem tão alto, que não lhe ficaria bem. E agitava o braço.

O mancebo não chegou a ouvir. Afinal, não era o seu nome que chamavam. Mas voltou-se assim mesmo, voltou-se porque sentiu que devia voltar-se ou porque alguém ao seu lado virou a cabeça de súbito como se não pudesse perder algo que estava acontecendo. E voltando-se viu, debruçada no alto de uma sacada, uma jovem que agitava o braço, uma jovem envolta em sol, cuja trança pendia tentadora como uma escada. E aquela jovem, sim, aquela jovem o chamava.

Retornar sobre os próprios passos, atravessar um portão, subir degraus, que tão rápido isso pode acontecer quando se tem pressa. E eis que o mancebo estava de pé junto à sacada, junto à moça. Ela não teve nem tempo de dizer por que o havia chamado, que já o mancebo extraía seu punhal e, de um golpe, decepava a rosa para lhe oferecer.

Uma última gota de sangue caiu sobre a seda verde esquecida no chão. Mas a moça costureira, que agora só tinha olhos para o mancebo, nem viu.

01) Nesse texto, a construção da narratividade, predominantemente, apresenta de forma sequenciada:

- (A) um fato causa efeito, que origina outro fato, e assim por diante;
- (B) uma exposição, que mostra passo a passo as informações, opiniões entre outras;
- (C) uma descrição do lugar, onde a jovem costurava e a sequência de seus pensamentos;
- (D) um relato de ações reais e concretas de uma jovem que ganhava a vida costurando roupas de seda.

02) A finalidade principal desse texto é:

- (A) divulgar fatos científicos;
- (B) narrar uma história fictícia;
- (C) relatar acontecimentos reais;
- (D) expor conhecimentos formais.

03) No fragmento: “Assim ia pensando a moça, quando uma gota de sangue caiu sobre o tecido.” O termo ‘**assim**’, pode ser substituído, sem mudança de sentido por:

- (A) conquanto;
- (B) consoante;
- (C) tal como;
- (D) dessa forma.

04) Em: “E voltando-se viu, debruçada no alto de uma sacada, uma jovem que agitava o braço, uma jovem envolta em sol, **cuja trança pendia tentadora como uma escada.**” A expressão sublinhada apresenta predominantemente, qual figura de linguagem?

- (A) Catacrese.
- (B) Sinestesia.
- (C) Metonímia.
- (D) Comparação.

05) Considerando respectivamente, as palavras: **farfalhar – junto – joia – saberia**, tem-se:

- (A) ditongo crescente – encontro consonantal – hiato – ditongo crescente;
- (B) encontro consonantal – dígrafo vocálico – hiato – ditongo crescente;
- (C) dígrafo consonantal – dígrafo vocálico – ditongo decrescente – hiato;
- (D) dígrafo vocálico – encontro consonantal – ditongo crescente – ditongo decrescente.

06) O fragmento: “O mancebo não chegou a ouvir. Afinal, não era o seu nome que chamavam. Mas voltou-se assim mesmo, voltou-se porque sentiu que devia voltar-se...” pode ser reescrito considerando coesão e coerência em qual alternativa?

(A) O rapaz não chegou a ouvir. Não obstante, não era o seu nome que chamavam. Embora voltou-se posto que sentiu que devia voltar-se...

(B) O efebo não chegou a ouvir. À medida que, não era o seu nome que chamavam. Entretanto, voltou-se tanto que, voltou-se já que sentiu que devia voltar-se...

(C) O moço não chegou a ouvir. De sorte que, não era o seu nome que chamavam. Porquanto voltou-se se bem que sentiu que devia voltar-se...

(D) O jovem não chegou a ouvir. Afinal de contas, não era o seu nome que chamavam. Todavia voltou-se ainda assim, voltou-se, pois, sentiu que devia voltar-se.

07) No fragmento: “– Foi ela – sussurrou o besouro que parecia dormir sobre uma folha. – Foi do seu coração partido.” Há a presença dos travessões que foram usados nesse contexto, predominantemente, para

(A) marcar o discurso.

(B) resumir uma ideia.

(C) intercalar partes do texto.

(D) substituir o papel da vírgula.

08) As palavras: “**após – incontáveis – mármore – pé,**” são acentuadas, porque são, respectivamente,

(A) paroxítona – paroxítona – oxítona – dissílabo tônico.

(B) paroxítona – oxítona – proparoxítona – dissílabo terminado em “e.”

(C) oxítona – paroxítona – proparoxítona – monossílabo átono.

(D) oxítona – paroxítona – proparoxítona – monossílabo tônico terminado em “e.”

09) Em: A eventualidade de interferências _____ - nos a compreender que _____ uma relação complexa entre homem e sociedade que os _____ reciprocamente subordinados.

Considerando a concordância verbal, marque a alternativa correta.

(A) leva – existe – torna.

(B) leva – existe – tornam.

(C) levam – existem – torna.

(D) levam – existe – tornam.

10) Considerando a concordância nominal, marque a alternativa incorreta.

(A) A persistência é necessário.

(B) Vendi sapato e calça pretos.

(C) Escrevi bastantes livros literários.

(D) Minha professora está meio triste.

11) A representação fracionária irredutível do número racional 1,28 é igual à:

(A) 31/9

(B) 32/11

(C) 32/25

(D) 33/11

12) Suponha que uma senha para acessar um programa de computador, seja composta por duas letras do alfabeto e três algarismos, nesta ordem. Nessas condições, a quantidade de senhas que podem ser formadas com essa quantidade de letras e esses algarismos, é igual à:

(A) 546.000 senhas

(B) 590.000 senhas

(C) 643.040 senhas

(D) 676.000 senhas

13) Um estoquista de uma papelaria recebeu 286 agendas e 104 cadernos para serem divididos em lotes contendo o mesmo produto, sem que haja sobras de produtos. Sabendo que cada lote deve ter a mesma quantidade de produtos e que a quantidade de produtos por lote deve ser a maior possível, então cada lote terá:

(A) 21 produtos

(B) 23 produtos

(C) 26 produtos

(D) 52 produtos

14) Na compra de 13 caixas contendo 24 lápis de cor foram gastos R\$ 36,27. Nessas condições, o valor gasto na compra de 8 caixas de lápis iguais às anteriores é igual à:

(A) R\$ 21,67

(B) R\$ 22,17

(C) R\$ 22,32

(D) R\$ 23,34

15) Marcelo é professor e encontrou em uma loja, a seguinte promoção:



LEVE 5

E

PAGUE 4

Ele pretende presentear seus 122 alunos com um bombom. Aproveitando ao máximo a promoção, sem que haja sobra de bombons, Marcelo deve:

(A) pagar 96 bombons na promoção e levar 2 bombons fora da promoção;

(B) pagar 120 bombons na promoção e levar 2 bombons fora da promoção;

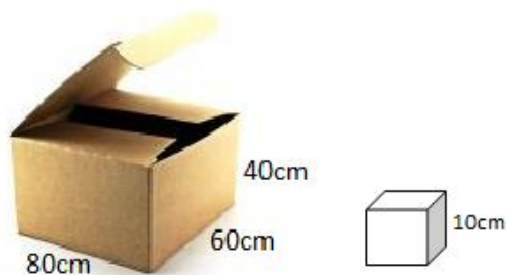
(C) pagar 100 bombons;

(D) pagar 24 bombons na promoção e levar 2 fora da promoção.

16) Três filhos de idades diferentes recebem mesadas. O mais velho recebe o dobro do que o segundo recebe, e segundo recebe o triplo do que o mais novo recebe. Sendo o total de mesadas igual a R\$ 140,00, cada um recebe respectivamente, em ordem crescente de acordo com a idade:

- (A) R\$ 14,00, R\$ 32,00 e R\$ 82,00
- (B) R\$ 14,00, R\$ 42,00 e R\$ 84,00
- (C) R\$ 14,00, R\$ 24,00 e R\$ 72,00
- (D) R\$ 14,00, R\$ 62,00 e R\$ 114,00

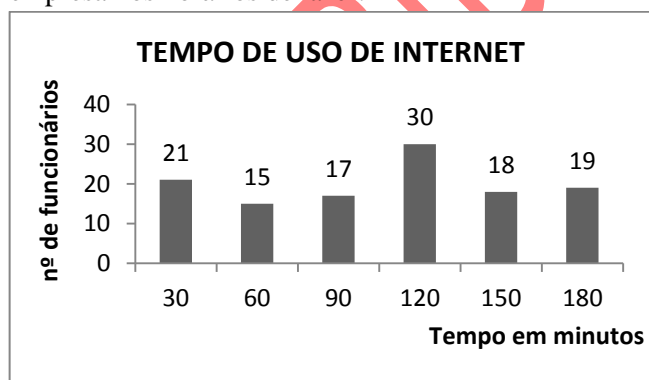
17) A seguir estão representados um cubo (sólido menor) e uma caixa em forma de paralelepípedo retangular (sólido maior), com as medidas de suas dimensões em centímetros.



A quantidade máxima de cubos que podem ser colocados no interior dessa caixa, sem ultrapassar as suas dimensões é igual à:

- (A) 192 cubos
- (B) 1.000 cubos
- (C) 192.000 cubos
- (D) 170.000 cubos

18) No gráfico, a seguir, estão representados os intervalos de tempo de uso da internet dos funcionários de uma empresa nos horários de lazer.



De acordo com as informações do gráfico, a porcentagem de funcionários que usam pelo menos 90 minutos de internet, em relação ao total de funcionários que usam internet nos horários de lazer, é igual à:

- (A) 70%
- (B) 72%
- (C) 74%
- (D) 80%

19) Uma empresa de alimentos pretende iniciar as suas atividades com uma produção de 4.000 unidades no primeiro mês e, a cada mês, produzir 187 unidades a mais que no mês anterior. Mantidas essas condições, em um ano a quantidade total de unidades que a fábrica irá produzir será igual à:

- (A) 12.342 unidades
- (B) 32.342 unidades
- (C) 54.342 unidades
- (D) 60.342 unidades

20) Quatro estudantes chegaram atrasados para um curso de formação ampliada. No auditório, só restam 8 cadeiras desocupadas. Dessa forma, a quantidade de maneiras distintas de ocupação dessas cadeiras é igual à:

- (A) 210 maneiras
- (B) 336 maneiras
- (C) 1.680 maneiras
- (D) 1.780 maneiras

21) Com base na Constituição Federal de 1988, assinale a alternativa incorreta:

- (A) os vencimentos dos cargos do Poder Legislativo e do Poder Judiciário não poderão ser superiores aos pagos pelo Poder Executivo;
- (B) é vedada a vinculação ou equiparação de quaisquer espécies remuneratórias para o efeito de remuneração de pessoal do serviço público;
- (C) não é proibido a acumulação remunerada de cargos públicos, desde que observadas às regras previstas na Constituição Federal e demais normas relacionadas;
- (D) os acréscimos pecuniários percebidos por servidor público serão computados e acumulados para fins de concessão de acréscimos ulteriores.

22) De acordo com o artigo 86 do Código de Posturas Municipal. Na intimação além do nome, endereço e qualificação, devem constar os dispositivos a cumprir e o prazo para seu cumprimento ou defesa, não podendo exceder o prazo de:

- (A) 15 dias
- (B) 10 dias
- (C) 8 dias
- (D) 5 dias

23) Analise as afirmativas acerca das regras previstas no Código de Posturas da Cidade de Varjão.

I. Todo tipo de obra a ser realizada, terá obrigatoriamente, que ter sua planta aprovada pelo Órgão competente da Municipalidade, ficando certo, que no caso de qualquer inobservância desta norma, a obra será embargada;

II. É proibida na zona urbana ou de extensão urbana, ou ainda em quintais, a criação de suínos, equinos, caprinos

e muare, mesmo que em chiqueiros fechados. Em caso de descumprimento o infrator poderá ser multado em até 20 (vinte) UFIR'S;

III. Os proprietários de imóveis localizados no município de Varjão são obrigados a conservar em perfeito estado de higiene e limpeza, seus quintais, pátios e jardins. Se o proprietário não realizar a limpeza a prefeitura poderá fazê-la e debitar as despesas acrescida de 20% do valor gasto;

IV. Os terrenos baldios devem ser limpos no mínimo quatro vezes ao ano;

V. É permitida a cobertura de vegetação em terrenos alagadiços, tanto na zona central como nos bairros.

Estão corretas apenas as afirmativas:

(A) I, III e V

(B) I, II e III

(C) II, IV e V

(D) I, II, III e IV

24) De acordo com o Código de Posturas da Cidade de Varjão, é de responsabilidade da fiscalização municipal, cumprir e fazer cumprir as prescrições nele estabelecidas. Neste sentido, é correto o que se afirma na afirmativa:

(A) O vendedor ambulante não é obrigado a exibir sua licença em qualquer lugar ou momento.

(B) Constatado pela fiscalização municipal que gêneros alimentícios colocados à disposição do público, estão impróprios para consumo, o fiscal deverá lavar imediatamente a multa, removendo e encaminhando os gêneros alimentícios deteriorados ao aterro sanitário.

(C) Para efeito da fiscalização municipal, o proprietário do estabelecimento comercial, industrial ou prestador de serviços, deverá conservar o alvará de localização e funcionamento, em lugar próprio, visível e de fácil acesso aos fiscais municipais.

(D) Caberá multa de 10 UFIR'S ao proprietário que obstruir ou embaraçar a fiscalização de seu estabelecimento comercial.

25) Com base na licença de localização e funcionamento, sendo devido o pagamento de ISSQN, é correto afirmar que

(A) o estabelecimento comercial, industrial, prestador de serviço ou similar só após instalar-se no município e já tendo iniciado suas atividades poderá solicitar a licença de localização e funcionamento;

(B) o estabelecimento comercial, industrial, prestador de serviço ou similar só poderão instalar-se no município após requerer a licença de localização e funcionamento, sendo permitido exceções apenas em funcionamento de caráter temporário;

(C) nenhum estabelecimento comercial, industrial, prestador de serviço ou similar poderá instalar-se no município, mesmo em caráter temporário, nem iniciar

suas atividades, sem a prévia licença de localização e funcionamento;

(D) nenhum estabelecimento comercial, industrial, prestador de serviço ou similar que oferecem riscos a comunidade só poderá instalar-se no município, e iniciar suas atividades sem a prévia licença de localização e funcionamento, sendo permitido exceções apenas em caráter temporário, para os serviços de rotinas, de atendimentos básicos e emergenciais.

26) O imposto, de competência dos municípios, sobre a propriedade predial e territorial urbana tem como fato gerador:

(A) a transmissão, a qualquer título, da propriedade ou do domínio útil de bens imóveis por natureza ou por acessão física, como definidos na lei civil;

(B) o domínio útil ou a posse de bem imóvel por natureza, como definido na lei municipal, localizado no município;

(C) a transmissão, a qualquer título, de direitos reais sobre imóveis, a posse, exceto os direitos reais de garantia; incluindo a cessão de direitos relativos às transmissões referidas na lei;

(D) a propriedade, o domínio útil ou a posse de bem imóvel por natureza ou por acessão física, como definido na lei civil, localizado na zona urbana do município.

27) As taxas de licença do município, têm como fato gerador:

(A) a valorização do imóvel localizado nas áreas beneficiadas direta ou indiretamente por obras públicas, como por exemplo, pavimentação, iluminação, arborização, esgotos pluviais, pontes, túneis, viadutos, construção e ampliação de sistemas de trânsito rápido, etc;

(B) o efetivo exercício regular do poder de polícia administrativa do município, mediante a realização de diligências, exames, inspeções, vistoria e outros atos administrativos;

(C) uma situação independente de qualquer atividade estatal específica, relativa ao contribuinte;

(D) a ocorrência, em si, que traz à tona a exigência do respectivo ônus para o contribuinte.

28) Acerca da publicidade dos atos públicos previstos na Lei Orgânica Municipal de Varjão, analise as afirmativas e assinale a correta:

I. Nenhum ato produzirá efeito antes de sua publicação;

II. O prefeito fará publicar diariamente, por edital, o movimento do caixa do dia anterior;

III. A publicação das leis e atos municipais far-se-á somente em órgão da imprensa regional ou por afixação na sede da Prefeitura.

IV. A publicação dos atos não normativos, pela imprensa, não poderá ser resumido.

Estão corretos apenas:

- (A) I, III e IV
- (B) II, III e IV
- (C) I e II
- (D) I, II, III e IV

29) De acordo com a Lei Orgânica de Varjão “Legislar sobre assuntos de interesse local” é de competência:

- (A) Privativa do Município;
- (B) Privativa do Estado;
- (C) Comum do Município, União e Estado;
- (D) Comum do Município e Estado.

30) Segundo o Estatuto dos Servidores Públicos Municipal, independente de solicitação, será pago ao servidor, por ocasião das férias, um adicional de pelo menos um terço da remuneração correspondente ao período de férias. Sobre o assunto, assinale a única afirmativa errada:

- (A) Se o servidor exercer função de direção, chefia ou assessoramento, a respectiva vantagem será considerada no cálculo do adicional.
- (B) No caso do servidor ocupar cargo em comissão, a respectiva vantagem será considerada no cálculo do adicional.
- (C) O servidor em regime de acumulação lícita, perceberá o adicional de férias correspondente à remuneração de apenas um dos cargos exercido.
- (D) O servidor em regime de acumulação lícita, perceberá o adicional de férias correspondente à remuneração de cada cargo exercido.

31) A Ferramenta de Captura do Windows 7 é possível:

- (A) Modificar o menu iniciar
- (B) Realizar cálculos na planilha
- (C) Recortar imagem da tela
- (D) Criar slides

32) “é um programa básico de edição de texto, mais comumente usado para exibir ou editar arquivos de texto. Normalmente identificado pela extensão .txt.” Fonte: Auto ajuda e suporte do Windows 7. O texto acima refere-se ao:

- (A) Bloco de notas
- (B) Microsoft Excel
- (C) Paint
- (D) One Note

33) Sobre a história do município de Varjão, responda. Qual fator influenciou o estabelecimento pessoas e consequente crescimento do povoado Vargem Grande no início da década de 1930?

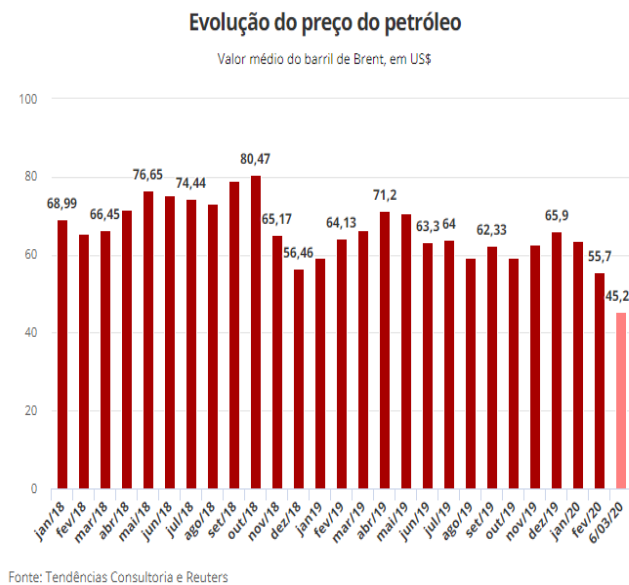
- (A) Construção de rodovia federal.
- (B) Existência de riquezas minerais.
- (C) Proximidade em relação à capital goiana.
- (D) Fuga de epidemias em regiões de florestas.

34) “(...) houve a instalação, pelo governador D. Marcos de Noronha, da primeira Casa de Fundição em Vila Boa, no ano de 1752. Em 1754, ao norte da Capitania, em São Félix, foi instalada uma segunda Casa de Fundição, transferida para Cavalcante, em 1796, e, extinta, em 1807”.

A instalação das Casas de Fundição em território goiano e o sistema de cobrança realizado por elas tinham o objetivo de

- (A) julgar pequenos delitos e evitar revoltas de escravos;
- (B) fiscalizar o trabalho realizado pelos pequenos fiscoadores;
- (C) combater a sonegação de impostos e o contrabando;
- (D) organizar a exploração do ouro, dividindo terras para mineração entre os mineradores.

35) Observe o gráfico.



Constituem razões que explicam a maior queda diária do preço do petróleo, desde a Guerra do Golfo.

- I. avanço do coronavírus.
- II. fracasso de acordo entre Opep e Rússia.
- III. corte dos preços do petróleo e aumento da produção na Arábia Saudita.

Estão corretas:

- (A) Apenas as afirmativas I e II.
- (B) Apenas as afirmativas I e III.
- (C) Apenas as afirmativas II e III.
- (D) Todas as afirmativas.