



PREFEITURA MUNICIPAL DE VISTA ALEGRE DO ALTO

ESTADO DE SÃO PAULO

CONCURSO PÚBLICO

008. PROVA OBJETIVA

TÉCNICO EM ENFERMAGEM

- ◆ Você recebeu sua folha de respostas e este caderno contendo 40 questões objetivas.
- ◆ Confira seus dados impressos na capa deste caderno e na folha de respostas.
- ◆ Quando for permitido abrir o caderno, verifique se está completo ou se apresenta imperfeições. Caso haja algum problema, informe ao fiscal da sala para a devida substituição deste caderno.
- ◆ Leia cuidadosamente todas as questões e escolha a resposta que você considera correta.
- ◆ Marque, na folha de respostas, com caneta de tinta preta, a letra correspondente à alternativa que você escolheu.
- ◆ A duração da prova é de 3 horas, já incluído o tempo para o preenchimento da folha de respostas.
- ◆ Só será permitida a saída definitiva da sala e do prédio após transcorridas 2 horas do início da prova.
- ◆ Deverão permanecer em cada uma das salas de prova os 3 últimos candidatos, até que o último deles entregue sua prova e assine o termo respectivo.
- ◆ Ao sair, você entregará ao fiscal a folha de respostas e este caderno.
- ◆ Até que você saia do prédio, todas as proibições e orientações continuam válidas.

AGUARDE A ORDEM DO FISCAL PARA ABRIR ESTE CADERNO.

Nome do candidato

RG

Inscrição

Prédio

Sala

Carteira

CONHECIMENTOS GERAIS

LÍNGUA PORTUGUESA

Leia o texto, para responder às questões de números **01** a **09**.

O Brasil é um dos países mais desiguais do mundo, e nada expõe mais a desigualdade do que o acesso à água e ao esgoto.

Segundo o censo do IBGE, com dados de 2022, quase 50 milhões de brasileiros, 1/4 da população, não têm coleta de esgoto. Quase 40 milhões despejam seus dejetos em fossas rudimentares ou buracos e cerca de 4 milhões em rios, lagos ou no mar. Mais de 6 milhões de brasileiros não têm acesso à água e dependem de caminhões-pipa ou água da chuva, rios ou açudes sem o devido tratamento.

Para adicionar insulto à injúria, 1,2 milhão de crianças estudam em colégios sem acesso à água potável.

Além da incidência de doenças diretamente relacionadas à exposição a ambientes sem saneamento (leptospirose, disenteria, tifo, cólera), a falta de saneamento impacta o meio ambiente, a produtividade do trabalho, o aproveitamento escolar, os valores imobiliários e o turismo.

Essa tragédia humanitária não é uma consequência natural da realidade socioeconômica do Brasil – o saneamento básico no País está bem abaixo da média de outros países de renda média-alta e mesmo de renda média. Portanto, é só incúria, pura e simples, do poder público.

O Marco do Saneamento, aprovado em 2020, buscou reverter esse quadro, definindo metas para a universalização, obrigando a licitação para a escolha dos prestadores, garantindo mais segurança jurídica à privatização das companhias estaduais, estimulando a prestação regionalizada de serviços e conferindo à Agência Nacional de Águas e Saneamento Básico (ANA) o papel de padronizar a regulação e a fiscalização dos serviços.

(Opinião do Estadão. Disponível em: <estadao.com.br/opinao>.

Acesso em 28.02.2024. Adaptado)

01. É correto afirmar que o texto atribui a situação crítica do saneamento básico no Brasil

- (A) à perda da renda da população.
- (B) à alta do valor dos imóveis.
- (C) à falta de ações efetivas do poder público.
- (D) ao despreparo dos egressos das escolas.
- (E) à extinção irreversível de rios e lagos.

02. Na afirmação – “O Brasil é um dos países mais desiguais do mundo, e nada expõe mais a desigualdade do que o acesso à água e ao esgoto.” –, defende-se a ideia segundo a qual

- (A) há países mais destacados do que o Brasil em matéria de desigualdade, e o acesso à água supera o esgoto para gerar a desigualdade.
- (B) nenhum outro país supera o Brasil em matéria de desigualdade, e nada mais expõe a desigualdade além do acesso à água e ao esgoto.
- (C) o Brasil compartilha com outros países a posição de maior desigualdade, que é exposta, acima de tudo, pelo acesso à água e ao esgoto.
- (D) não há, provavelmente, países mais desiguais do que o Brasil, situação que é exposta essencialmente pelo acesso à água e ao esgoto.
- (E) o Brasil está entre os países mais desiguais do mundo, e a desigualdade só supera a exposição do acesso à água e ao esgoto.

03. Nas passagens – “Quase 40 milhões despejam seus **dejetos** em fossas rudimentares ou buracos ...” (2º parágrafo) e “Portanto, é só **incúria**, pura e simples, do poder público.” (5º parágrafo) – as palavras destacadas têm sinônimos adequados, respectivamente, em

- (A) objetos e descuido.
- (B) lixos e inconstância.
- (C) fezes e impertinência.
- (D) excrementos e negligência.
- (E) refugos e negociação.

04. Assinale a alternativa em que o trecho destacado está substituído, nos colchetes, por construção de acordo com a norma-padrão de emprego do sinal de crase.

- (A) Quase 40 milhões **despejam seus dejetos** em fossas rudimentares... [dão fim à seus dejetos]
- (B) O Marco do Saneamento, aprovado em 2020, **buscou reverter** esse quadro... [começou à reverter esse quadro]
- (C) ... e nada **expõe mais a desigualdade** do que o acesso à água e ao esgoto. [dá mais visibilidade à desigualdade]
- (D) Mais de 6 milhões de brasileiros não têm acesso à água e **dependem de caminhões-pipa**... [recorrem à caminhões-pipa]
- (E) ... a falta de saneamento **impacta o meio ambiente**... [traz impactos à todo o meio ambiente]

05. A passagem do texto em que a palavra destacada está empregada em sentido figurado é:

- (A) Segundo o **censo** do IBGE, com dados de 2022...
- (B) ... açudes sem o **devido** tratamento.
- (C) ... colégios sem **acesso** à água potável.
- (D) Essa **tragédia** humanitária não é uma consequência natural...
- (E) ... obrigando a licitação para a escolha dos **prestadores**...

06. Na passagem – ... o saneamento básico no País está **bem** abaixo da média de outros países de renda média-alta e **mesmo** de renda média. (5º parágrafo) –, os advérbios destacados expressam, nos respectivos contextos, as noções de

- (A) intensidade e inclusão.
- (B) quantidade e igualdade.
- (C) modo e inclusão.
- (D) intensidade e igualdade.
- (E) modo e igualdade.

07. No contexto do quinto parágrafo, a conjunção destacada no enunciado – **Portanto**, é só incúria, pura e simples, do poder público. – introduz uma

- (A) oposição e poderia ser substituída por “Porém”.
- (B) conclusão e poderia ser substituída por “Logo”.
- (C) explicação e poderia ser substituída por “Pois”.
- (D) condição e poderia ser substituída por “Caso”.
- (E) causa e poderia ser substituída por “Como”.

10. Leia a tira.



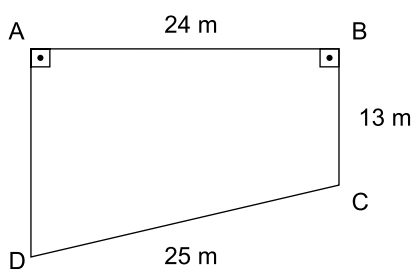
(Charles M Schulz. *Minduíum*)

A alternativa que reescreve uma das falas da personagem, de acordo com a norma-padrão de emprego e colocação do pronome, é:

- (A) Eu tenho que falar com a Trufa e explicá-la tudo.
- (B) Ela tem que saber por que eu não a vi de novo.
- (C) Preciso dizer à Trufa por que não fui ver-lhe de novo.
- (D) O que você faz quando você liga e ninguém atende-o?
- (E) O que você faz quando liga e as pessoas não atendem-no?

11. Segundo a Agência Brasil, o número de casos de dengue em gestantes aumentou cerca de 345% nas seis primeiras semanas de 2024, na comparação com o mesmo período de 2023. Se considerarmos que houve C casos de dengue em gestantes no período mencionado de 2024, então, o número de casos de dengue em gestantes no mesmo período de 2023 foi de
- (A) $C \div 3,45$.
(B) $C \div 4,45$.
(C) $C \div 345$.
(D) $C \div 445$.
(E) $C \times 0,345$.
12. Segundo dados do *site* gov.br, em 2022 o Brasil registrou 174.517 casos prováveis de Chikungunya, com uma taxa de incidência de 81,8 casos por 100 mil habitantes. Nessa estatística, considera-se que o total de habitantes do Brasil em 2022 era de, aproximadamente,
- (A) 201 milhões.
(B) 207 milhões.
(C) 213 milhões.
(D) 218 milhões.
(E) 223 milhões.

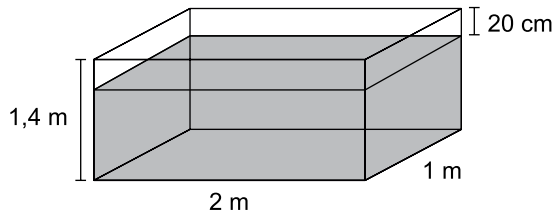
13. Um agente sanitário vai percorrer o perímetro de um terreno, que tem a forma de trapézio retângulo ABCD, com $AB = 24$ m, $BC = 13$ m e $CD = 25$ m, como mostra a figura.



A distância que o agente sanitário vai percorrer, em metros, é igual a

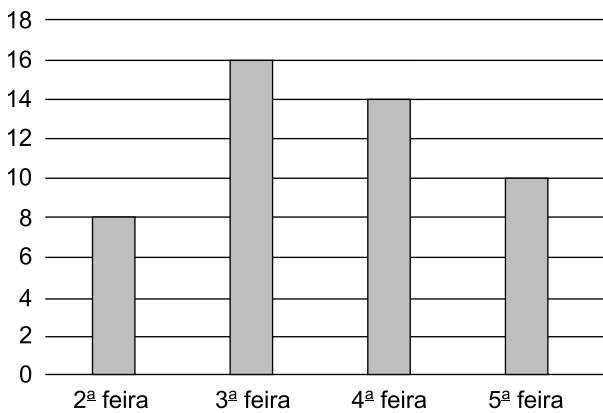
- (A) 106.
(B) 98.
(C) 84.
(D) 82.
(E) 80.

14. A diluição de 2 mL de água sanitária por litro de água é suficiente para combate das larvas do mosquito da dengue. Uma caixa d'água com a forma de paralelepípedo reto-retângulo está quase que totalmente preenchida com água, como mostra a figura.



Sabendo-se que 1 m^3 corresponde a 1 000 L, a quantidade suficiente de água sanitária que deve ser adicionada nessa caixa d'água para o combate das larvas do mosquito da dengue é de

- (A) 4,8 L.
 (B) 4,2 L.
 (C) 3,6 L.
 (D) 2,8 L.
 (E) 2,4 L.
15. O gráfico indica o número de residências com focos de larvas do mosquito da dengue visitadas por um agente sanitário nos quatro primeiros dias úteis de uma semana.



Após a contabilização dos dados das visitas desse agente sanitário na sexta-feira dessa semana, a média aritmética diária de residências com focos de larvas do mosquito da dengue que ele visitou nessa semana (2ª a 6ª feira) foi igual a 12. Sendo assim, o número de residências com focos de larvas do mosquito da dengue visitadas por esse agente na sexta-feira foi

- (A) 10.
 (B) 11.
 (C) 12.
 (D) 13.
 (E) 14.

16. Do total de agentes sanitários de uma cidade, $\frac{5}{8}$ foram

alocados para trabalhar nos bairros da periferia da cidade, e os demais foram alocados para os outros bairros. Sabendo-se que a diferença entre o número de agentes alocados para os bairros de periferia da cidade e os que foram alocados para os demais bairros era igual a 18, então, o número de agentes sanitários dessa cidade é igual a

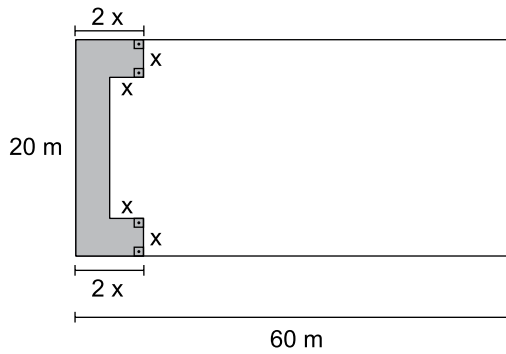
- (A) 64.
- (B) 72.
- (C) 80.
- (D) 88.
- (E) 96.

17. Antônio planeja passar as férias com sua família no Rio de Janeiro (RJ) e no Espírito Santo (ES). Segundo seus cálculos, ele deverá gastar R\$ 420,00 reais por dia no RJ e R\$ 350,00 por dia no ES. Seu orçamento total, para os 15 dias de viagem que pretende fazer, é de R\$ 5.740,00.

Considerando que Antônio gastará nessa viagem a totalidade do seu orçamento, é correto afirmar que os dias que ele e sua família ficarão no RJ, quando comparados àqueles em que ficarão no ES, correspondem a

- (A) 12,5%.
- (B) 15,5%.
- (C) 66,6%.
- (D) 84,5%.
- (E) 87,5%.

18. Em uma praça retangular de 20 m por 60 m será construído um grande banco, de largura igual a x metros, como mostra a figura, em vista superior.



Sabe-se que a área do polígono de oito lados que representa a parte do banco destinada às pessoas sentarem é de $17,28 \text{ m}^2$. Na situação descrita, uma equação do 2º grau cuja solução positiva representa a medida de x , em metro, é

- (A) $x^2 + 10x - 17,28 = 0$.
- (B) $x^2 + 10x - 8,64 = 0$.
- (C) $x^2 + 10x - 4,32 = 0$.
- (D) $x^2 + 20x - 17,28 = 0$.
- (E) $x^2 + 20x - 8,64 = 0$.
19. O maior divisor comum entre as idades de Mário e Jorge é 9, e o menor múltiplo comum entre as idades deles é 360. Sabendo-se que a soma das idades de Mário e Jorge é igual a 117 anos, então, a idade do mais velho dos dois supera a do mais novo em, exatos,
- (A) 18 anos.
- (B) 21 anos.
- (C) 24 anos.
- (D) 25 anos.
- (E) 27 anos.
20. No mês de janeiro, Renato gastou 30% do seu salário com despesas médicas. Do saldo, $\frac{3}{5}$ foram usados para pagar o aluguel, sobrando R\$ 700,00 para as demais despesas do mês. Sendo assim, o valor do aluguel de Renato é igual a
- (A) R\$ 1.050,00.
- (B) R\$ 1.150,00.
- (C) R\$ 1.200,00.
- (D) R\$ 1.250,00.
- (E) R\$ 1.300,00.

CONHECIMENTOS ESPECÍFICOS

21. O Código de Ética dos Profissionais de Enfermagem estabelece como direito do profissional

- (A) colaborar para o processo de fiscalização do exercício profissional e prestar informações fidedignas, permitindo o acesso a documentos e área física institucional.
- (B) ter acesso, pelos meios de informação disponíveis, às diretrizes políticas, às normativas e aos protocolos institucionais, bem como participar de sua elaboração.
- (C) prestar assistência de enfermagem em condições que ofereçam segurança, mesmo em caso de suspensão das atividades profissionais decorrentes de movimentos reivindicatórios da categoria.
- (D) recusar-se a executar prescrição de enfermagem e prescrição médica nas quais não constem assinatura e número de registro do profissional prescritor, exceto em situação de urgência e emergência.
- (E) estimular, apoiar, colaborar e promover o desenvolvimento de atividades de ensino, pesquisa e extensão.

22. Podem ser considerados técnicos de enfermagem, segundo a Lei nº 7.498/86, que regula o exercício profissional da Enfermagem no Brasil, os indivíduos que

- (A) tiverem cursado, com aprovação, o primeiro e o segundo ano do curso de graduação em Enfermagem em faculdades reconhecidas pelo Ministério da Educação.
- (B) tenham diploma de auxiliar de enfermagem e de, pelo menos, três especializações reconhecidas pelo Conselho Federal de Enfermagem.
- (C) tenham diploma ou certificado de técnico de enfermagem conferido por escola estrangeira que tenha convênio com escola brasileira.
- (D) tenham diploma de obstetrix conferido por escola estrangeira e revalidado no Brasil.
- (E) sejam titulares de diploma ou certificado de técnico de enfermagem, expedido de acordo com a legislação e registrado pelo órgão competente.

23. No meio da manhã, ouviu-se a enfermeira da UPA, que estava na sala de observação, dizendo "Parada, leito 6". Imediatamente, viu-se um técnico de enfermagem deslocando rapidamente o carrinho de emergência para a sala de observação, e o médico interrompendo a consulta em curso e também se dirigindo para lá. Toda a rotina prevista para o atendimento de uma parada cardiorrespiratória foi posta em ação.

Na situação hipotética relatada, uma das características imprescindíveis do trabalho em equipe ficou evidente:

- (A) o espírito de liderança.
- (B) o respeito pela hierarquia.
- (C) a autoestima individual.
- (D) a boa comunicação.
- (E) o espírito de grupo.

24. A temperatura corporal pode se apresentar elevada em diferentes situações clínicas. Para melhor descrevê-la, além da anotação dos valores aferidos a cada medida, são usados termos classificatórios, tais como "hipertermia

- (A) remittente", quando a temperatura corporal é constante, continuamente acima de 38°C e com pouca flutuação.
- (B) sustentada", quando ocorrem picos de febre intercalados com temperatura em níveis usuais, e a temperatura retorna a um valor aceitável pelo menos uma vez em 24 horas.
- (C) reincidente", quando períodos de episódios febris e períodos de normotermia são, com frequência, mais longos que 24 horas.
- (D) intermitente", quando picos e quedas de febre se sucedem, sem retorno à temperatura normal.
- (E) maligna", quando a temperatura retal atinge valor maior ou igual a 39°C.

25. Para cuidar de feridas, é preciso saber sua etiologia, sua fisiologia e sua epidemiologia. Nessa perspectiva, sobre a úlcera varicosa, é correto afirmar que

- (A) é caracterizada pela destruição de camadas cutâneas, tais como epiderme e derme, e pode atingir os tecidos subcutâneo e subjacente.
- (B) sua causa está relacionada à hipotensão venosa dos membros inferiores, resultando em uma incompetência valvular, associada ou não à obstrução do fluxo venoso.
- (C) fatores determinantes, como avanço da idade, história familiar, etilismo, trombose venosa profunda prévia, profissão sedentária, sexo masculino e obesidade, contribuem para o seu surgimento.
- (D) pode afetar cerca de 2% a 5% da população mundial, com maior proporção em adultos de meia idade, com possível aumento de casos entre a etnia negra.
- (E) não provoca dor, mas causa limitações, como deambulação prejudicada, medo, insegurança, desesperança, entre outras, que interferem no cotidiano do paciente.

- 26.** Na orientação do paciente diabético para autoaplicação de insulina, deve-se
- (A) avisar que o contato do frasco de insulina com gelo é melhor do que submetê-lo a variações de temperatura; assim, é melhor deixá-lo no congelador que na porta da geladeira.
 - (B) explicar que, quando não for possível lavar as mãos com água e sabão, pode-se substituir o procedimento pela fricção com substância contendo álcool – bebida, perfume ou similar.
 - (C) enfatizar que a insulina do tipo Neutral Protamine Hagedorn (NPH) precisa ser homogeneizada com 20 movimentos interpalmares suaves para que os componentes se misturem e formem um líquido de aspecto leitoso.
 - (D) recomendar que não seja injetado ar no frasco antes de aspirar o líquido, para que o produto não seja contaminado com os microrganismos presentes no ambiente.
 - (E) alertar que a prega cutânea só deve ser desfeita quando a droga começar a ser injetada e que massagem vigorosa no local de aplicação deve suceder a retirada da agulha, para favorecer a dispersão do líquido.
- 27.** Várias alterações degenerativas, naturais do processo de envelhecimento humano, ocorrem em todo o aparelho auditivo, atingindo diretamente os sons agudos e comprometendo a capacidade de compreender a fala.
- Para contornar essa deficiência, algumas condutas podem ser adotadas, por exemplo:
- (A) falar olhando para a boca do paciente.
 - (B) falar de forma lenta e pausada.
 - (C) falar em tom de voz bem alto.
 - (D) repetir as frases, em vez de perguntar se o paciente compreendeu.
 - (E) evitar expressões faciais e gestos, que podem ter interpretação equivocada.
- 28.** Na primeira consulta de enfermagem do pré-natal, a situação vacinal da gestante deve ser avaliada, e a paciente deve ser encaminhada à sala de vacinação para atualização, se necessário. Algumas vacinas, entretanto, não são indicadas para o período gestacional, devendo, no caso de suscetibilidade, serem agendadas para o período do puerpério.
- Uma dessas vacinas é a
- (A) Hepatite B.
 - (B) Influenza.
 - (C) Tríplice viral (SCR).
 - (D) Difteria e tétano.
 - (E) Covid-19.
- 29.** Assinale a alternativa correta no que diz respeito à orientação do Ministério da Saúde para o atendimento ao adolescente que procura o serviço de saúde desacompanhado.
- (A) O atendimento deve ser mantido em sigilo total, sendo proibido compartilhar o caso em reuniões de equipe ou de matriciamento.
 - (B) O atendimento não deve ser registrado no prontuário do adolescente, de modo a garantir o sigilo dos motivos da procura.
 - (C) O fornecimento de preservativos, se necessário, deve ser agendado para um novo comparecimento, a acontecer com a presença de pais ou responsáveis.
 - (D) É preciso mostrar ao adolescente que ele não tem condições de refletir sobre a situação que motiva a sua procura de atendimento sem a participação dos pais ou responsáveis.
 - (E) As necessidades urgentes do adolescente devem ser atendidas, sendo que o profissional de saúde poderá solicitar a presença de outro membro da equipe para maior segurança no atendimento ou para o manejo do caso.
- 30.** Para administrar medicamentos, é preciso conhecer formas de medidas, tal como:
- (A) 1 colher de sopa corresponde a 10 mL.
 - (B) 1 colher de sobremesa corresponde a 5 mL.
 - (C) 1 mL corresponde a 15 gotas.
 - (D) 1 mL corresponde a 60 microgotas.
 - (E) 1 gota corresponde a 5 microgotas.
- 31.** O médico fez a prescrição de soro glicosado a 10%, 500 mL. Na farmácia do serviço de saúde, há soro glicosado 5%, 500 mL, e glicose a 50%, em ampolas com 50 mL. Para preparar a medicação, será necessário utilizar _____ ampola(s) de glicose a 50%, de 50 mL cada.
- Assinale a alternativa que preenche corretamente a lacuna.
- (A) 1
 - (B) 1,5
 - (C) 2
 - (D) 2,5
 - (E) 3

- 32.** No que diz respeito à imunização contra o sarampo, assinale a alternativa correta.
- (A) A vacina que protege contra o sarampo deve ser aplicada por via intramuscular profunda, preferencialmente na região glútea.
 - (B) O esquema vacinal compreende a aplicação de 3 doses, aos 12 meses, aos 18 meses e aos 4 anos de idade.
 - (C) Para crianças menores de 7 anos, a vacina contra o sarampo se apresenta combinada com mais duas vacinas virais (tríplice viral) ou mais três vacinas virais (tetra viral).
 - (D) Em nenhuma circunstância, as vacinas contra o sarampo poderão ser aplicadas em crianças com menos de 9 meses de idade.
 - (E) A vacina deve ser conservada em temperaturas entre 0°C e +4°C.
- 33.** Na prestação dos primeiros socorros ao indivíduo que apresenta uma convulsão, deve-se, entre outros cuidados, mantê-lo em segurança, apoiar sua cabeça e avaliar os sinais vitais e
- (A) a gasometria.
 - (B) a glicemia capilar.
 - (C) o diâmetro pupilar.
 - (D) a acuidade visual.
 - (E) a acuidade auditiva.
- 34.** Em uma comunidade, há uma família cuja residência não é abastecida de água tratada. Para ingestão e preparo das refeições, uma vizinha gentilmente cede alguns galões de água tratada. Entretanto, a água recebida é insuficiente para outras necessidades diárias. Por esse motivo, o serviço de saúde deve estar atento porque, pela dificuldade de acesso à água tratada, essa família mantém o risco de apresentar
- (A) escabiose.
 - (B) hepatite B.
 - (C) dengue.
 - (D) leptospirose.
 - (E) hanseníase.
- 35.** Alguns grupos populacionais, tais como _____, quando contraem Covid-19, têm maior risco de desenvolver quadros graves e complicações, razão pela qual devem ser acompanhados de perto pelas equipes de saúde da família.
- Assinale a alternativa que completa corretamente a afirmação.
- (A) crianças em idade escolar
 - (B) obesos e gestantes
 - (C) frequentadores de academias de ginástica
 - (D) portadores de rinite alérgica
 - (E) pessoas que já tiveram Covid-19 anteriormente
- 36.** No que diz respeito à saúde do trabalhador, com enfoque na promoção e na prevenção em saúde, assinale a alternativa correta.
- (A) Os equipamentos de proteção individual (EPIs) descartáveis deverão estar à disposição em número suficiente nos postos de trabalho e ser fornecidos pelo empregador. Os itens não descartáveis devem ser adquiridos pelos trabalhadores, que serão responsáveis por sua guarda e manutenção.
 - (B) O uso de luvas substitui o processo de lavagem das mãos e promove maior agilidade na realização dos procedimentos.
 - (C) Nas ocorrências de acidente envolvendo riscos biológicos, deve ser emitida a Comunicação de Acidente de Trabalho (CAT) apenas nos casos que requeiram afastamento do acidentado do trabalho.
 - (D) Todos os trabalhadores com possibilidade de exposição a agentes biológicos devem utilizar vestimenta de trabalho adequada e em condições de conforto, de livre escolha do modelo, desde que com ônus para o próprio trabalhador.
 - (E) Os quartos ou as enfermarias destinados ao isolamento de pacientes portadores de doenças infecto-contagiosas devem conter lavatório em seu interior.
- 37.** Na assistência à saúde, a higienização das mãos deve ser realizada
- (A) com água e sabão, antes do preparo e da manipulação de medicamentos, para eliminar a microbiota residente, por um período de tempo adequado para prevenir a contaminação dos materiais por microrganismos.
 - (B) com preparações alcoólicas, antes do contato com pacientes, para evitar a transmissão de microrganismos oriundos do paciente para o profissional de saúde.
 - (C) com preparações alcoólicas nas mãos enluvadas, durante o contato com o paciente, se for mudar o procedimento (ou manejo) de um sítio corporal contaminado para outro, limpo.
 - (D) com antissépticos, antes da realização de procedimentos invasivos, tal como inserção de cateter intravascular central, entre outros.
 - (E) com processo de degermação da pele, antes da manipulação de invólucros de material esterilizado.

- 38.** No que diz respeito às boas práticas para o processamento de produtos para saúde, a Agência Nacional de Vigilância Sanitária (ANVISA) determina que, no Centro de Material Esterilizado, a sala de
- (A) recepção deve ter uma bancada para separação de material limpo, a ser reesterilizado sem inspeção, e material sujo, a ser encaminhado para limpeza e desinfecção prévias.
 - (B) desinfecção química deve ter barreira física para separar os setores úmido e seco.
 - (C) preparo e esterilização deve ter termostatos acoplados ao controle central do aparelho de ar condicionado para manter a temperatura constantemente entre 19°C e 25°C.
 - (D) armazenamento e distribuição deve ter equipamento de transporte com rodízio e prateleiras ou cestos aramados.
 - (E) armazenamento deve estar em local acessível, para não haver demora na distribuição de materiais.
- 39.** O acolhimento é uma das estratégias de humanização dos serviços de saúde e se constitui em uma atribuição
- (A) privativa de médicos.
 - (B) privativa de enfermeiros.
 - (C) privativa de profissionais de nível universitário.
 - (D) privativa de enfermeiros e agentes comunitários de saúde (ACS).
 - (E) comum a todos os integrantes da equipe da atenção básica.
- 40.** O técnico de enfermagem participa de uma atividade educativa dirigida a um grupo de hipertensos, na qual são enfatizadas as principais recomendações do Ministério da Saúde referentes ao tratamento não medicamentoso da hipertensão arterial, compreendendo, entre outras medidas,
- (A) cessar o tabagismo e controlar o peso corporal, mantendo o índice de massa corporal (IMC) menor que 25 kg/m² para indivíduos de até 65 anos de idade e menor que 27 kg/m², a partir dessa idade.
 - (B) reduzir o consumo de hortaliças e laticínios, além de restringir o consumo de sódio a 6 gramas por dia.
 - (C) realizar, pelo menos, 30 minutos por semana de atividade física moderada e estimular o trabalho sentado.
 - (D) aumentar o consumo de oleaginosas e de carne vermelha, além de realizar, pelo menos, 150 minutos de atividade aeróbica por semana.
 - (E) abolir o comportamento sedentário, levantando-se por 5 minutos a cada 30 minutos sentado, e manter o IMC abaixo de 20 kg/m².

