



PREFEITURA MUNICIPAL DE VISTA ALEGRE DO ALTO

ESTADO DE SÃO PAULO

CONCURSO PÚBLICO

006. PROVA OBJETIVA

MOTORISTA DE AMBULÂNCIA

- ◆ Você recebeu sua folha de respostas e este caderno contendo 40 questões objetivas.
- ◆ Confira seus dados impressos na capa deste caderno e na folha de respostas.
- ◆ Quando for permitido abrir o caderno, verifique se está completo ou se apresenta imperfeições. Caso haja algum problema, informe ao fiscal da sala para a devida substituição deste caderno.
- ◆ Leia cuidadosamente todas as questões e escolha a resposta que você considera correta.
- ◆ Marque, na folha de respostas, com caneta de tinta preta, a letra correspondente à alternativa que você escolheu.
- ◆ A duração da prova é de 3 horas, já incluído o tempo para o preenchimento da folha de respostas.
- ◆ Só será permitida a saída definitiva da sala e do prédio após transcorridas 2 horas do início da prova.
- ◆ Deverão permanecer em cada uma das salas de prova os 3 últimos candidatos, até que o último deles entregue sua prova e assine o termo respectivo.
- ◆ Ao sair, você entregará ao fiscal a folha de respostas e este caderno.
- ◆ Até que você saia do prédio, todas as proibições e orientações continuam válidas.

AGUARDE A ORDEM DO FISCAL PARA ABRIR ESTE CADERNO.

Nome do candidato

RG

Inscrição

Prédio

Sala

Carteira

CONHECIMENTOS GERAIS

LÍNGUA PORTUGUESA

Leia o texto, para responder às questões de números **01** a **09**.

O Brasil é um dos países mais desiguais do mundo, e nada expõe mais a desigualdade do que o acesso à água e ao esgoto.

Segundo o censo do IBGE, com dados de 2022, quase 50 milhões de brasileiros, 1/4 da população, não têm coleta de esgoto. Quase 40 milhões despejam seus dejetos em fossas rudimentares ou buracos e cerca de 4 milhões em rios, lagos ou no mar. Mais de 6 milhões de brasileiros não têm acesso à água e dependem de caminhões-pipa ou água da chuva, rios ou açudes sem o devido tratamento.

Para adicionar insulto à injúria, 1,2 milhão de crianças estudam em colégios sem acesso à água potável.

Além da incidência de doenças diretamente relacionadas à exposição a ambientes sem saneamento (leptospirose, disenteria, tifo, cólera), a falta de saneamento impacta o meio ambiente, a produtividade do trabalho, o aproveitamento escolar, os valores imobiliários e o turismo.

Essa tragédia humanitária não é uma consequência natural da realidade socioeconômica do Brasil – o saneamento básico no País está bem abaixo da média de outros países de renda média-alta e mesmo de renda média. Portanto, é só incúria, pura e simples, do poder público.

O Marco do Saneamento, aprovado em 2020, buscou reverter esse quadro, definindo metas para a universalização, obrigando a licitação para a escolha dos prestadores, garantindo mais segurança jurídica à privatização das companhias estaduais, estimulando a prestação regionalizada de serviços e conferindo à Agência Nacional de Águas e Saneamento Básico (ANA) o papel de padronizar a regulação e a fiscalização dos serviços.

(Opinião do Estadão. Disponível em: <estadao.com.br/opinao>.

Acesso em 28.02.2024. Adaptado)

01. É correto afirmar que o texto atribui a situação crítica do saneamento básico no Brasil

- (A) à perda da renda da população.
- (B) à alta do valor dos imóveis.
- (C) à falta de ações efetivas do poder público.
- (D) ao despreparo dos egressos das escolas.
- (E) à extinção irreversível de rios e lagos.

02. Na afirmação – “O Brasil é um dos países mais desiguais do mundo, e nada expõe mais a desigualdade do que o acesso à água e ao esgoto.” –, defende-se a ideia segundo a qual

- (A) há países mais destacados do que o Brasil em matéria de desigualdade, e o acesso à água supera o esgoto para gerar a desigualdade.
- (B) nenhum outro país supera o Brasil em matéria de desigualdade, e nada mais expõe a desigualdade além do acesso à água e ao esgoto.
- (C) o Brasil compartilha com outros países a posição de maior desigualdade, que é exposta, acima de tudo, pelo acesso à água e ao esgoto.
- (D) não há, provavelmente, países mais desiguais do que o Brasil, situação que é exposta essencialmente pelo acesso à água e ao esgoto.
- (E) o Brasil está entre os países mais desiguais do mundo, e a desigualdade só supera a exposição do acesso à água e ao esgoto.

03. Nas passagens – “Quase 40 milhões despejam seus **dejetos** em fossas rudimentares ou buracos ...” (2º parágrafo) e “Portanto, é só **incúria**, pura e simples, do poder público.” (5º parágrafo) – as palavras destacadas têm sinônimos adequados, respectivamente, em

- (A) objetos e descuido.
- (B) lixos e inconstância.
- (C) fezes e impertinência.
- (D) excrementos e negligência.
- (E) refugos e negociação.

04. Assinale a alternativa em que o trecho destacado está substituído, nos colchetes, por construção de acordo com a norma-padrão de emprego do sinal de crase.

- (A) Quase 40 milhões **despejam seus dejetos** em fossas rudimentares... [dão fim à seus dejetos]
- (B) O Marco do Saneamento, aprovado em 2020, **buscou reverter** esse quadro... [começou à reverter esse quadro]
- (C) ... e nada **expõe mais a desigualdade** do que o acesso à água e ao esgoto. [dá mais visibilidade à desigualdade]
- (D) Mais de 6 milhões de brasileiros não têm acesso à água e **dependem de caminhões-pipa**... [recorrem à caminhões-pipa]
- (E) ... a falta de saneamento **impacta o meio ambiente**... [traz impactos à todo o meio ambiente]

05. A passagem do texto em que a palavra destacada está empregada em sentido figurado é:
- (A) Segundo o **censo** do IBGE, com dados de 2022...
- (B) ... açudes sem o **devido** tratamento.
- (C) ... colégios sem **acesso** à água potável.
- (D) Essa **tragédia** humanitária não é uma consequência natural...
- (E) ... obrigando a licitação para a escolha dos **prestadores**...
06. Na passagem – ... o saneamento básico no País está **bem** abaixo da média de outros países de renda média-alta e **mesmo** de renda média. (5º parágrafo) –, os advérbios destacados expressam, nos respectivos contextos, as noções de
- (A) intensidade e inclusão.
- (B) quantidade e igualdade.
- (C) modo e inclusão.
- (D) intensidade e igualdade.
- (E) modo e igualdade.
07. No contexto do quinto parágrafo, a conjunção destacada no enunciado – **Portanto**, é só incúria, pura e simples, do poder público. – introduz uma
- (A) oposição e poderia ser substituída por “Porém”.
- (B) conclusão e poderia ser substituída por “Logo”.
- (C) explicação e poderia ser substituída por “Pois”.
- (D) condição e poderia ser substituída por “Caso”.
- (E) causa e poderia ser substituída por “Como”.

08. Assinale a alternativa que dá sequência à frase, empregando os verbos de acordo com a norma-padrão.
- Era provável que
- (A) a falta de saneamento viesse a impactar o meio ambiente.
- (B) nada vai expor mais a desigualdade do que o acesso à água e ao esgoto.
- (C) essa tragédia humanitária possa ser uma consequência natural da realidade socioeconômica.
- (D) o Marco do Saneamento, aprovado em 2020, buscará reverter esse quadro.
- (E) quase 50 milhões de brasileiros, 1/4 da população, não tinha coleta de esgoto.
09. A alternativa redigida segundo a norma-padrão de concordância nominal e verbal é:
- (A) Pelo menos 1/4 da população brasileira não possuem coleta de esgoto adequado.
- (B) Dados do censo do IBGE já aponta casos bastante preocupante no país.
- (C) Despejado em fossas irregulares, os dejetos contaminam rios, lagos e o mar.
- (D) Foi revelado que no Brasil muita pouca gente dispõem de saneamento básico.
- (E) O Marco de Saneamento Básico procura sanar problemas que sempre houve no país.

10. Leia a tira.



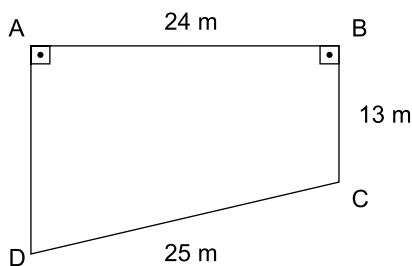
(Charles M Schulz. *Minduim*)

A alternativa que reescreve uma das falas da personagem, de acordo com a norma-padrão de emprego e colocação do pronome, é:

- (A) Eu tenho que falar com a Trufa e explicá-la tudo.
- (B) Ela tem que saber por que eu não a vi de novo.
- (C) Preciso dizer à Trufa por que não fui ver-lhe de novo.
- (D) O que você faz quando você liga e ninguém atende-o?
- (E) O que você faz quando liga e as pessoas não atendem-no?

11. Segundo a Agência Brasil, o número de casos de dengue em gestantes aumentou cerca de 345% nas seis primeiras semanas de 2024, na comparação com o mesmo período de 2023. Se considerarmos que houve C casos de dengue em gestantes no período mencionado de 2024, então, o número de casos de dengue em gestantes no mesmo período de 2023 foi de
- (A) $C \div 3,45$.
(B) $C \div 4,45$.
(C) $C \div 345$.
(D) $C \div 445$.
(E) $C \times 0,345$.
12. Segundo dados do *site* gov.br, em 2022 o Brasil registrou 174.517 casos prováveis de Chikungunya, com uma taxa de incidência de 81,8 casos por 100 mil habitantes. Nessa estatística, considera-se que o total de habitantes do Brasil em 2022 era de, aproximadamente,
- (A) 201 milhões.
(B) 207 milhões.
(C) 213 milhões.
(D) 218 milhões.
(E) 223 milhões.

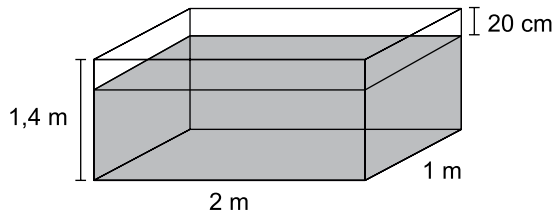
13. Um agente sanitário vai percorrer o perímetro de um terreno, que tem a forma de trapézio retângulo ABCD, com $AB = 24$ m, $BC = 13$ m e $CD = 25$ m, como mostra a figura.



A distância que o agente sanitário vai percorrer, em metros, é igual a

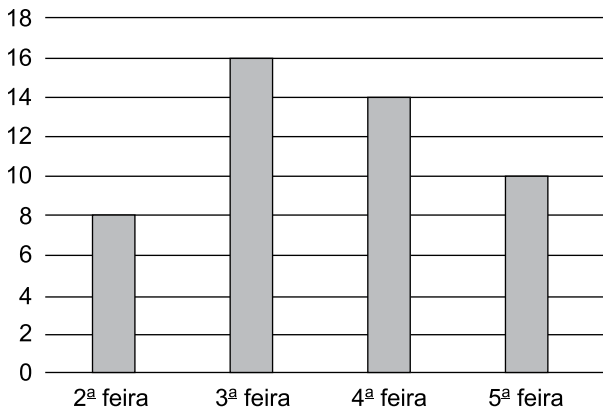
- (A) 106.
(B) 98.
(C) 84.
(D) 82.
(E) 80.

14. A diluição de 2 mL de água sanitária por litro de água é suficiente para combate das larvas do mosquito da dengue. Uma caixa d'água com a forma de paralelepípedo reto-retângulo está quase que totalmente preenchida com água, como mostra a figura.



Sabendo-se que 1 m^3 corresponde a 1 000 L, a quantidade suficiente de água sanitária que deve ser adicionada nessa caixa d'água para o combate das larvas do mosquito da dengue é de

- (A) 4,8 L.
 (B) 4,2 L.
 (C) 3,6 L.
 (D) 2,8 L.
 (E) 2,4 L.
15. O gráfico indica o número de residências com focos de larvas do mosquito da dengue visitadas por um agente sanitário nos quatro primeiros dias úteis de uma semana.



Após a contabilização dos dados das visitas desse agente sanitário na sexta-feira dessa semana, a média aritmética diária de residências com focos de larvas do mosquito da dengue que ele visitou nessa semana (2ª a 6ª feira) foi igual a 12. Sendo assim, o número de residências com focos de larvas do mosquito da dengue visitadas por esse agente na sexta-feira foi

- (A) 10.
 (B) 11.
 (C) 12.
 (D) 13.
 (E) 14.

16. Do total de agentes sanitários de uma cidade, $\frac{5}{8}$ foram

alocados para trabalhar nos bairros da periferia da cidade, e os demais foram alocados para os outros bairros. Sabendo-se que a diferença entre o número de agentes alocados para os bairros de periferia da cidade e os que foram alocados para os demais bairros era igual a 18, então, o número de agentes sanitários dessa cidade é igual a

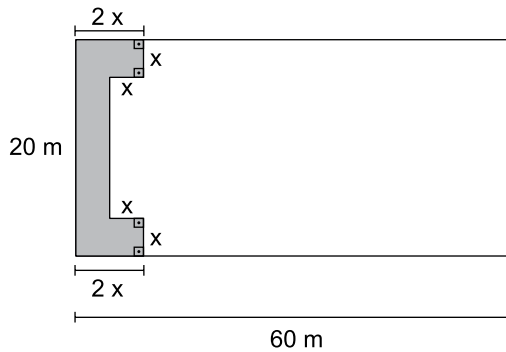
- (A) 64.
- (B) 72.
- (C) 80.
- (D) 88.
- (E) 96.

17. Antônio planeja passar as férias com sua família no Rio de Janeiro (RJ) e no Espírito Santo (ES). Segundo seus cálculos, ele deverá gastar R\$ 420,00 reais por dia no RJ e R\$ 350,00 por dia no ES. Seu orçamento total, para os 15 dias de viagem que pretende fazer, é de R\$ 5.740,00.

Considerando que Antônio gastará nessa viagem a totalidade do seu orçamento, é correto afirmar que os dias que ele e sua família ficarão no RJ, quando comparados àqueles em que ficarão no ES, correspondem a

- (A) 12,5%.
- (B) 15,5%.
- (C) 66,6%.
- (D) 84,5%.
- (E) 87,5%.

18. Em uma praça retangular de 20 m por 60 m será construído um grande banco, de largura igual a x metros, como mostra a figura, em vista superior.



Sabe-se que a área do polígono de oito lados que representa a parte do banco destinada às pessoas sentarem é de $17,28 \text{ m}^2$. Na situação descrita, uma equação do 2º grau cuja solução positiva representa a medida de x , em metro, é

- (A) $x^2 + 10x - 17,28 = 0$.
- (B) $x^2 + 10x - 8,64 = 0$.
- (C) $x^2 + 10x - 4,32 = 0$.
- (D) $x^2 + 20x - 17,28 = 0$.
- (E) $x^2 + 20x - 8,64 = 0$.
19. O maior divisor comum entre as idades de Mário e Jorge é 9, e o menor múltiplo comum entre as idades deles é 360. Sabendo-se que a soma das idades de Mário e Jorge é igual a 117 anos, então, a idade do mais velho dos dois supera a do mais novo em, exatos,
- (A) 18 anos.
- (B) 21 anos.
- (C) 24 anos.
- (D) 25 anos.
- (E) 27 anos.
20. No mês de janeiro, Renato gastou 30% do seu salário com despesas médicas. Do saldo, $\frac{3}{5}$ foram usados para pagar o aluguel, sobrando R\$ 700,00 para as demais despesas do mês. Sendo assim, o valor do aluguel de Renato é igual a
- (A) R\$ 1.050,00.
- (B) R\$ 1.150,00.
- (C) R\$ 1.200,00.
- (D) R\$ 1.250,00.
- (E) R\$ 1.300,00.

CONHECIMENTOS ESPECÍFICOS

21. Segundo Lei Federal nº 9.503/97 que instituiu o Código de Trânsito Brasileiro (CTB), o artigo 60, diz que: as vias abertas à circulação, de acordo com sua utilização, classificam-se em:

- (A) arterial e urbana.
- (B) rural e estrada.
- (C) trânsito rápido e local.
- (D) urbana e rural.
- (E) coletora e arterial.


22. Os veículos destinados a socorro de incêndio e salvamento, os de polícia, os de fiscalização e operação de trânsito e as ambulâncias, além de prioridade no trânsito, gozam de livre circulação, estacionamento e parada, quando em serviço de urgência, de policiamento ostensivo ou de preservação da ordem pública, observadas as seguintes disposições:

- (A) dispositivos regulamentares de alarme sonoro e iluminação intermitente acionados.
- (B) devidamente caracterizados com faixa adesiva, giroflex e os faróis acesos com a luz de posição ligada.
- (C) faróis acesos na posição de luz alta e a buzina acionada de forma intermitente.
- (D) strobo acionado na cor vermelha e os faróis piscando de forma intermitente.
- (E) veículo na cor branca, com devidas inscrições para identificação, e com alarme sonoro acionado.

23. De acordo com o artigo 87 do CTB, os sinais de trânsito classificam-se em:

- (A) horizontais, pista simples de mão dupla, dispositivo de sinalização auxiliar, semáforo e barreira.
- (B) placas de regulamentação, placas de advertência, tachões, semáforos, dispositivos auxiliares e sonoros.
- (C) verticais, horizontais, dispositivos de sinalização auxiliar, luminosos, sonoros e gestos do agente de trânsito e do condutor.
- (D) gestos do agente e condutor, luzes, placas auxiliares, faixa simples, faixa dupla e sinais sonoros.
- (E) cavaletes, placas de serviços auxiliares, placas de regulamentação, gestos do condutor, faixa simples e tachões.

24. Considere a figura:



(https://www.gov.br/transportes/pt-br/assuntos/transito/arquivos-senatran/docs/copy_of_02_MBST_Vol._II_Sin._Vert._Advertencia.pdf)

Considerando a placa de advertência apresentada, que orienta o condutor de possíveis perigos adiante, assinale a resposta que indica seu significado corretamente.

- (A) bifurcação em Y.
- (B) entroncamento oblíquo à esquerda.
- (C) confluência à esquerda.
- (D) entroncamento oblíquo à direita.
- (E) via lateral à esquerda.

25. Segundo a Lei nº 14.440, de 2 de setembro de 2022, no artigo 61 do CTB a velocidade máxima permitida para uma caminhonete em uma rodovia de pista dupla é de

- (A) 60 Km/h.
- (B) 80 Km/h.
- (C) 90 Km/h.
- (D) 100 Km/h.
- (E) 110 Km/h.

26. Conforme o artigo 190 do CTB e de acordo com a Lei nº 14.440, de 2 de setembro de 2022, seguir veículo em serviço de urgência, estando este com prioridade de passagem devidamente identificada por dispositivos regulamentares de alarme sonoro e iluminação intermitente, é considerado como uma infração

- (A) levíssima.
- (B) leve.
- (C) média.
- (D) grave.
- (E) gravíssima.


27. Deixar o condutor de prestar socorro à vítima de sinistro de trânsito, quando solicitado pela autoridade e seus agentes, é considerado uma infração

- (A) leve.
- (B) média.
- (C) grave.
- (D) gravíssima.
- (E) suspensiva.

- 28.** Segundo o artigo 193 do CTB, transitar com o veículo sobre marcas de canalização é uma infração
- (A) gravíssima, que soma 7 pontos na CNH e tem um fator multiplicador 3.
 - (B) média, que soma 4 pontos e recolhimento da CNH.
 - (C) leve, que soma 3 pontos na CNH e apreensão do veículo.
 - (D) grave, que soma 5 pontos na CNH e tem um fator multiplicador 7.
 - (E) gravíssima, que soma 7 pontos na CNH e curso de reciclagem.
- 29.** Segundo o artigo 261 do CTB, no caso do condutor que exerce atividade remunerada utilizando-se do veículo, a penalidade de suspensão do direito de dirigir será imposta quando o infrator
- (A) não for o principal condutor ou o proprietário do veículo, e exceder o prazo de 60 (sessenta) dias, contado da autuação, para apresentar a respectiva comprovação.
 - (B) não for identificado como condutor no momento da infração, sendo atribuída a pontuação à empresa responsável nos termos previstos no CTB.
 - (C) atingir o limite de 20 pontos, previsto no artigo 261 do CTB, independentemente da natureza das infrações cometidas.
 - (D) atingir o limite de 30 pontos, previsto no artigo 261 do CTB, independentemente da natureza das infrações cometidas.
 - (E) atingir o limite de 40 pontos, previsto no artigo 261 do CTB, independentemente da natureza das infrações cometidas.
- 30.** A força centrífuga é um assunto estudado em direção defensiva, que tem por objetivo orientar o motorista a evitar colisão nos(as)
- (A) declives retos acentuados.
 - (B) curvas em velocidade alta.
 - (C) cruzamentos não sinalizados.
 - (D) lombadas não sinalizadas.
 - (E) retas em baixa velocidade.
- 31.** O condutor que dirige sob a influência de álcool ou de qualquer outra substância psicoativa, que determine dependência, segundo o artigo 165 do CTB, está cometendo uma infração de trânsito, para a qual receberá uma penalidade e uma medida administrativa. Considerando, respectivamente, a infração, a penalidade e a medida administrativa, assinale a alternativa que apresenta, corretamente, suas aplicações.
- (A) Infração gravíssima; multa (dez vezes) e suspensão do direito de dirigir por 12 (doze) meses; recolhimento do documento de habilitação e retenção do veículo.
 - (B) Infração grave; multa (cinco vezes) e suspensão do direito de dirigir por 12 (doze) meses; recolhimento do documento de habilitação e do veículo.
 - (C) Infração média; multa (três vezes) e suspensão do direito de dirigir por 30 (trinta) dias; recolhimento do documento de habilitação e curso de reciclagem.
 - (D) Infração leve; multa (dez vezes) e suspensão do direito de dirigir por 06 (seis) meses; recolhimento do documento de habilitação e apreensão do veículo.
 - (E) Infração gravíssima; multa (duas vezes) e suspensão do direito de dirigir por 12 (doze) meses; recolhimento do documento de habilitação e retenção do veículo.
- 32.** Com base no anexo I do CTB, a via caracterizada por interseções em nível, geralmente controlada por semáforo, com acessibilidade aos lotes lindeiros e às vias secundárias, possibilitando o trânsito entre as regiões da cidade, é denominada como uma via:
- (A) rural.
 - (B) local.
 - (C) coletora.
 - (D) arterial.
 - (E) trânsito rápido.
- 33.** Conforme a resolução do CONTRAN nº 973/2022, as marcas longitudinais amarelas, contínuas simples ou duplas, têm poder de regulamentação, elas
- (A) são utilizadas para delimitar a pista (linha de bordo) e para separar faixas de trânsito de fluxos de mesmo sentido.
 - (B) separam e ordenam as correntes de tráfego, definindo a parte da pista destinada à circulação de veículos e a velocidade da via.
 - (C) são utilizadas para separação de vias, e, como dispositivo auxiliar a sinalização horizontal, possuem um dispositivo refletivo que auxilia na visibilidade noturna.
 - (D) são utilizadas para delimitar a pista (linha de bordo) e para limitar a passagem de pedestres ao longo da via.
 - (E) separam os movimentos veiculares de fluxos opostos e regulamentam a proibição de ultrapassagem e os deslocamentos laterais, exceto para acesso a imóvel lindeiro.

34. Quando o condutor pretender habilitar-se na categoria E, deverá estar habilitado, no mínimo, há
- (A) um ano na categoria B.
 - (B) dois anos na categoria B.
 - (C) um ano na categoria C.
 - (D) dois anos na categoria C.
 - (E) dois anos na categoria D.
35. Assinale a alternativa que apresenta, corretamente, o significado da placa de regulamentação “R1” com formato octogonal.
- (A) Pare.
 - (B) Parada obrigatória.
 - (C) Parada obrigatória a frente.
 - (D) Ao chegar no cruzamento pare.
 - (E) Diminua a velocidade e dê a preferência.
36. De acordo com o artigo 250 do CTB, quando o veículo estiver em movimento e deixar de manter acesa a luz baixa, durante à noite, de dia, em túneis, sob chuva, neblina ou cerração, será considerada uma infração
- (A) levíssima.
 - (B) leve.
 - (C) média.
 - (D) grave.
 - (E) gravíssima.

37. Analise a figura a seguir:



Ela mostra um pneu em corte, no qual observam-se algumas nomenclaturas muito importantes no momento da troca desse equipamento. Considerando o exposto, assinale a alternativa que contempla o significado do número 205 indicado pela seta de número 1.

- (A) pressão do pneu.
- (B) altura do pneu.
- (C) carga máxima admissível.
- (D) largura da banda de rodagem.
- (E) velocidade máxima permitida.

38. A direção defensiva possui cinco elementos que são essenciais para uma boa conduta no trânsito, são eles:
- (A) conhecimento, atenção, previsão, decisão e habilidade.
 - (B) habilidade, prevenção de acidente, ação, coragem e atenção.
 - (C) prever o perigo, ser decidido, agir a tempo, atenção e habilidade.
 - (D) conhecimento das leis, boa coordenação, previsão, ação e habilidade.
 - (E) atenção, conhecer só as leis de trânsito, previsão, decisão e habilidade.
39. A queimadura de primeiro grau afeta apenas a camada superficial da pele e causa sinais, como dor e vermelhidão na região. Nestes casos é recomendado:
- (A) aplicar na região queimada produtos para trazer alívio a pele, por exemplo, óleo ou manteiga.
 - (B) cobrir a área queimada com pano microfibra, com esta ação os raios solares e sujeiras não atacam a pele.
 - (C) colocar pasta de dente sobre a região da queimadura e, com pano tipo gases, cobrir a região, oferecendo proteção.
 - (D) colocar a região queimada debaixo de água fria por, pelo menos, 15 minutos, em seguida, manter um pano limpo e umedecido em água fria na região.
 - (E) caso apareçam bolhas na região, furar com cuidado, usando agulha esterilizada, e fazer um curativo com esparadrapo de microfibra.

40. Os primeiros socorros são as primeiras providências tomadas no local do acidente, este atendimento inicial e temporário e muito importante até a chegada de um socorro profissional, são eles:

- (A) sinalizar o local para evitar novos acidentes, caso a ambulância demore a chegar, colocar a vítima num carro comum e leva-la para um pronto-socorro.
- (B) diante de uma fratura exposta, colocar um torniquete e estancar o sangue, em seguida, colocar numa prancha e transportar para o hospital.
- (C) caso a vítima seja um motociclista, remover o capacete com muito cuidado e colocar uma base de apoio para cabeça, aguardando o serviço de ambulância.
- (D) oferecer água, dar um analgésico, ver os sinais vitais e nível de consciência fazendo perguntas, em seguida, transportar a vítima para um pronto-socorro.
- (E) garantir a segurança sinalizando o local do ocorrido, controlar a situação, ver o nível de consciência conversando com a vítima, verificar a situação da vítima e pedir socorro ao serviço de saúde.

