


**GOVERNO DO ESTADO DO ESPÍRITO SANTO**  
**SECRETARIA DE ESTADO DA SEGURANÇA PÚBLICA E DEFESA SOCIAL**  
**POLÍCIA MILITAR DO ESPÍRITO SANTO**  
CONCURSO PÚBLICO PARA ADMISSÃO AO CURSO DE FORMAÇÃO  
DE OFICIAIS COMBATENTES (QOCPM)

**CARGO: 300 - OFICIAL COMBATENTE (QOC) – TIPO A**

**FRASE: “A persistência é o caminho do êxito.”**  
(Transcrever a frase acima para o cartão de respostas)


 **SUA PROVA**

O candidato receberá do fiscal de sala:

- Este caderno de provas, contendo **80 (oitenta)** questões Objetivas e **1 (uma)** questão Discursiva;
- Um **Cartão de Respostas** destinado às respostas das questões Objetivas; e
- Um **Caderno de Texto Definitivo** destinado à resposta da **Prova Discursiva**.

 **TEMPO**

- **05h (cinco horas)** é o tempo disponível para a realização das provas, já incluindo o tempo para a marcação no **Cartão de Respostas** da prova objetiva e transcrição da prova discursiva no **Caderno de Texto Definitivo**.
- Em hipótese alguma o candidato levará consigo o caderno de prova.

 **NÃO SERÁ PERMITIDO**

- ausentar-se da sala ou do local de prova sem o acompanhamento de um fiscal;
- fazer uso de calculadora, relógio de qualquer espécie e/ou agenda eletrônica ou similar;
- portar, após o início das provas, qualquer equipamento eletrônico e/ou sonoro e/ou de comunicação ligados ou desligados;
- comunicar-se com outro candidato ou terceiros, verbalmente ou por escrito, bem como fazer uso de material não permitido para a realização da prova;
- lançar meios ilícitos para a realização da prova;
- deixar de devolver ao fiscal qualquer material de aplicação da prova, fornecido pelo **IDECAN**;
- usar sanitários após o término da prova, ao deixar a sala.

 **INFORMAÇÕES GERAIS**

- Verifique se o **CARGO** deste caderno de prova coincide com o registrado no cabeçalho de cada página e com o cargo para o qual você está inscrito. Caso contrário, notifique imediatamente o fiscal da sala, para que sejam tomadas as devidas providências.
- Confira seus dados pessoais, cargo, número de inscrição e documento de identidade e leia atentamente as instruções para preencher o **Cartão de Respostas**.
- Identifique no **Cartão de Respostas** o **TIPO** de caderno de prova, a não identificação no **Cartão de respostas**, pelo candidato, acarretará em nota final igual a **0,00 (zero)**.
- Assine seu nome, no espaço reservado, com caneta esferográfica em material transparente, de tinta cor azul ou preta.
- Em hipótese alguma haverá substituição do **Cartão de Respostas** e/ou do **Caderno de Texto Definitivo** por erro do candidato.
- O candidato deverá transcrever as respostas da prova objetiva para o **Cartão de Respostas**, sendo este o único documento válido para a correção da prova. O preenchimento do **Cartão de Respostas** e do **Caderno de Texto Definitivo** será de inteira responsabilidade do candidato, que deverá proceder em conformidade com as instruções específicas contidas no **Edital**, no **Caderno de Prova**, no **Cartão de Respostas** e no **Caderno de Texto Definitivo**.
- O **IDECAN** realizará identificação datiloscópica de todos os candidatos. A identificação datiloscópica compreenderá a coleta das impressões digitais dos candidatos.
- Ao terminar a prova, o candidato deverá, **OBRIGATORIAMENTE**, devolver ao fiscal o **Caderno de Prova**, o **Cartão de Respostas** e o **Caderno de Texto Definitivo** devidamente assinados, apenas, nos locais indicados.
- Durante a realização da prova, o envelope de segurança com os equipamentos e materiais não permitidos, devidamente lacrado, deverá permanecer embaixo ou ao lado da carteira/cadeira utilizada pelo candidato, devendo permanecer lacrado durante toda a realização da prova e somente poderá ser aberto no ambiente externo do local de provas.
- Os **3 (três) últimos** candidatos de cada sala só poderão sair juntos.
- O gabarito oficial preliminar da prova objetiva serão divulgados na Internet, no endereço eletrônico [www.idecan.org.br](http://www.idecan.org.br), juntamente com os Cadernos de Provas, conforme Edital.

**PREENCHA MANUALMENTE:**

**INSCRIÇÃO**

**NOME COMPLETO**



O texto seguinte servirá de base para responder às questões de 1 a 15.

### O ranking da mobilidade no mundo

Como são os padrões de mobilidade em cada país? Quanto as cidades dependem do automóvel? Quanto se anda a pé em cada lugar? Um estudo gigantesco chamado ABC of Mobility, publicado em março deste ano, conseguiu traçar um mapa de 794 cidades ao redor do mundo para responder a essas perguntas.

Todas essas cidades foram colocadas num triângulo que tem três vértices: carro, transporte público e mobilidade ativa. O resultado é provavelmente um dos maiores levantamentos do gênero e é riquíssimo para entender a diferença entre as cidades.

A urbanização das cidades americanas e canadenses, tomadas por vias expressas, com subúrbios ricos que dependem totalmente do automóvel, é expressa com clareza pelo estudo.

À medida de comparação, 94% dos deslocamentos são feitos em carro, muito mais do que os 50% das cidades europeias. Atlanta deve ser o caso mais emblemático de esgarçamento urbano. Apenas 1% de seus habitantes se deslocam a pé ou bicicleta, o que a coloca no finzinho do ranking mundial.

Não existe um padrão europeu de mobilidade. Se em Roma ou Manchester quase 70% das pessoas dependem do carro para se deslocar, a Europa do Norte é pródiga no oposto. Em Copenhague, 47% de todos os habitantes andam ou pedalam para o trabalho. Esse número vai a 75% numa cidade como Utrecht, na Holanda.

Nas maiores cidades europeias o transporte público oferece alternativa ao carro: 45% dos londrinos e 60% dos parisienses vão de transporte público ao trabalho.

Não por acaso, Londres e Paris têm malhas de transporte invejáveis, mas também são cidades que têm políticas explícitas de desestimular o uso do carro, diminuindo espaços e até cobrando pedágio para entrar no centro. Hoje, a capital francesa já tem mais gente andando a pé que de carro.

O estudo mostra que os deslocamentos em transporte público aumentam com o tamanho da cidade.

Na média global das cidades de 100 mil habitantes, transporte público representa 10% das viagens, mas aumenta para 25% nas cidades com mais de um milhão de habitantes. Nas metrópoles com mais de 20 milhões, esse número ultrapassa 40%.

A exceção a essa regra são EUA, Canadá e Austrália. Nesses países, as cidades pequenas mantêm mais de 90% de seus deslocamentos em automóvel.

Na outra ponta, a campeã do ranking é uma cidade de 300 mil habitantes em Moçambique, Quelimane, onde 91% das pessoas vão a seus afazeres diários a pé ou

em bicicleta.

A China tem enorme participação de bicicletas e do pé nos deslocamentos, mas provavelmente esse número deve mudar rapidamente, uma vez que, quanto maior a renda per capita, maior a participação do automóvel. No resto da Ásia, porém, há brilhantes exceções, como as cidades densas que têm alta renda e enorme participação do transporte público, como Tóquio e principalmente Hong Kong.

Apenas quatro cidades brasileiras entraram no estudo: São Paulo, Rio de Janeiro, Belo Horizonte e Curitiba. Elas apresentam um quadro parecido que mostra um certo equilíbrio entre os modais. São Paulo, na verdade, é a cidade que fica bem no meio do triângulo do estudo global, com praticamente um terço dos deslocamentos para cada modo de transporte.

Essa situação expõe uma contradição: o maior modal é o andar a pé, mas o maior objeto de desejo é o carro. As infraestruturas existentes privilegiam o carro, mas os congestionamentos gigantes demonstram um ponto de exaustão. Por outro lado, o descaso histórico com o transporte público expõe o tamanho do desafio, tanto na qualidade como na capilaridade das redes de transporte.

Ao redor do mundo, o pico do uso do carro ainda não chegou, mas é sintomático que cidades ricas, como Paris, Barcelona, Viena e tantas outras, estejam justamente investindo no transporte público, na bicicleta e na caminhabilidade para reduzir emissão de gases e melhorar a experiência urbana.

A boa mobilidade deve integrar mobilidade ativa e transporte público. A seguir, uma amostra do estudo com algumas cidades para dar uma ideia da disparidade entre elas, baseando-se em dois aspectos: andar a pé e por bicicleta. O ranking completo está disponível na revista *The Economist* e na plataforma ScienceDirect.

Para comparar dados de 794 cidades no mundo, os pesquisadores Rafael Prieto-Curiel, do Complexity Science Hub, e Juan Pablo Ospina, da EAFIT University, consultaram aproximadamente mil bases de dados diferentes. Isso permite juntar informações de cidades em diferentes continentes, mas gera algumas limitações nas comparações.

Como algumas cidades misturam transporte a pé e bicicleta, a pesquisa juntou tudo em "mobilidade ativa". Outra limitação é considerar apenas deslocamentos para o trabalho, além da ausência das cidades médias dos países subdesenvolvidos. Finalmente, o estudo desconsidera as viagens multimodais, em que as pessoas trocam de meios de transporte, por exemplo, andando de sua casa até o ponto de ônibus.

Mesmo com essas limitações, a pesquisa tem o mérito de dar um quadro geral a algo muito fragmentado e vai ser um grande estímulo para novos estudos.

Mauro Calliari.

Disponível em: <https://www1.folha.uol.com.br/>.

Acesso em: 12 jul. 2024.

### Questão 01

Um estudo gigantesco chamado *ABC of Mobility*, publicado em março **deste** ano, conseguiu traçar um mapa de 794 cidades ao redor do mundo para responder a **essas** perguntas.

No período acima, estão destacados dois pronomes demonstrativos, que exercem papel, respectivamente,

- (A) catafórico e dêitico.
- (B) anafórico e dêitico.
- (C) anafórico e catafórico.
- (D) dêitico e catafórico.
- (E) dêitico e anafórico.

### Questão 02

Nas maiores cidades europeias o transporte público oferece alternativa ao carro: 45% dos londrinos e **60% dos parisienses vão de transporte público ao trabalho**.

Assinale a alternativa em que a alteração do segmento destacado no período acima tenha sido feita de acordo com a norma culta. Não leve em conta as alterações de sentido.

- (A) 0,86% vão de transporte público
- (B) 1,45% da população parisiense vão de transporte público
- (C) 1,54% vai de transporte público
- (D) dois terços dos parisienses vai de transporte público
- (E) menos de 2% dos parisienses vai de transporte público

### Questão 03

**Se** em Roma ou Manchester quase 70% das pessoas dependem do carro para **se** deslocar, a Europa do Norte é pródiga no oposto.

No período acima, as duas ocorrências do SE se classificam, respectivamente, como

- (A) conjunção subordinativa e partícula apassivadora.
- (B) conjunção integrante e indeterminador do sujeito.
- (C) conjunção subordinativa e parte integrante do verbo.
- (D) conjunção subordinativa e pronome reflexivo.
- (E) conjunção integrante e partícula apassivadora.

### Questão 04

A urbanização das cidades americanas e canadenses, tomadas por vias expressas, com subúrbios ricos que dependem totalmente do automóvel, é expressa com clareza pelo estudo.

Indique a alternativa em que se tenha construído pontuação igualmente correta para o período acima.

- (A) A urbanização das cidades americanas e canadenses, tomadas por vias expressas, – com subúrbios ricos que dependem totalmente do automóvel – é expressa com clareza pelo estudo.
- (B) A urbanização das cidades americanas e canadenses – tomadas por vias expressas –, com subúrbios ricos que dependem totalmente do automóvel, é expressa com clareza pelo estudo.
- (C) A urbanização das cidades americanas e canadenses – tomadas por vias expressas – com subúrbios ricos que dependem totalmente do automóvel é expressa com clareza pelo estudo.
- (D) A urbanização das cidades – americanas e canadenses, tomadas por vias expressas – com subúrbios ricos que dependem totalmente do automóvel, é expressa com clareza pelo estudo.
- (E) A urbanização das cidades – americanas e canadenses – tomadas por vias expressas com subúrbios ricos que dependem totalmente do automóvel, é expressa com clareza pelo estudo.

### Questão 05

**Como algumas cidades misturam transporte a pé e bicicleta**, a pesquisa juntou tudo em "mobilidade ativa".

No período acima, a oração destacada se classifica como

- (A) oração coordenada sindética explicativa.
- (B) oração subordinada adverbial conformativa.
- (C) oração subordinada adverbial causal.
- (D) oração subordinada adverbial comparativa.
- (E) oração subordinada adverbial condicional.

### Questão 06

Nas maiores cidades europeias o transporte público oferece alternativa ao carro: **45% dos londrinos e 60% dos parisienses vão de transporte público ao trabalho**.

O segmento destacado no período acima, em relação ao que se enuncia anteriormente, apresenta valor semântico de

- (A) especificação.
- (B) exemplificação.
- (C) enumeração.
- (D) explicação.
- (E) explicitação.

### Questão 07

O texto, em relação à sua tipologia, se classifica predominantemente como

- (A) descritivo.
- (B) injuntivo.
- (C) dissertativo-expositivo.
- (D) narrativo.
- (E) dissertativo-argumentativo.

### Questão 08

Apenas **quatro** cidades brasileiras entraram no **estudo**: São Paulo, Rio de Janeiro, Belo Horizonte e Curitiba. Elas apresentam um **quadro** parecido que mostra um certo **equilíbrio** entre os **modais**.

Marque a alternativa que indique corretamente, dentre as palavras destacadas no período acima, a que desempenha papel adjetivo.

- (A) quadro
- (B) equilíbrio
- (C) quatro
- (D) modais
- (E) estudo

### Questão 09

No texto, a relação que se estabelece para a palavra transporte, em relação à palavra automóvel, é de

- (A) hiperonímia.
- (B) sinonímia.
- (C) hiponímia.
- (D) antonímia.
- (E) metonímia.

### Questão 10

Por outro lado, o descaso histórico **com o transporte público** expõe o tamanho do desafio, tanto na qualidade como na capilaridade **das redes de transporte**.

No período acima, os termos destacados desempenham função sintática, respectivamente, de

- (A) objeto indireto e complemento nominal.
- (B) adjunto adnominal e adjunto adnominal.
- (C) adjunto adnominal e complemento nominal.
- (D) complemento nominal e complemento nominal.
- (E) complemento nominal e adjunto adnominal.

### Questão 11

Essa situação expõe uma contradição: o maior modal é o andar a pé, mas o maior objeto de desejo é o carro.

O segmento destacado no período acima se relaciona ao que é enunciado anteriormente. Isso se dá com o objetivo de introduzir uma

- (A) explicação.
- (B) estratificação.
- (C) especificação.
- (D) enumeração.
- (E) exemplificação.

### Questão 12

Para comparar dados de 794 cidades no mundo, os pesquisadores **Rafael Prieto-Curiel**, do Complexity Science Hub, e Juan Pablo Ospina, da EAFIT University, consultaram aproximadamente mil bases de dados diferentes.

O termo em destaque no período acima desempenha função sintática de

- (A) adjunto adnominal.
- (B) aposto.
- (C) objeto direto.
- (D) predicativo.
- (E) complemento nominal.

### Questão 13

Assinale a alternativa em que a palavra, retirada do texto, tenha sido formada, ao longo de seu processo, por derivação, e não por composição.

- (A) metrópoles
- (B) triângulo
- (C) infraestruturas
- (D) automóvel
- (E) multimodais

### Questão 14

Na palavra "continentes", retirada do texto, há

- (A) doze fonemas.
- (B) nove fonemas.
- (C) oito fonemas.
- (D) onze fonemas.
- (E) dez fonemas.

### Questão 15

Com base na leitura do texto e suas possíveis inferências, assinale a alternativa correta.

- (A) Em grandes centros urbanos, em que a mobilidade pode se tornar um entrave à economia por conta de longos engarrafamentos, o investimento em transporte público depende diretamente das empresas prejudicadas por esse cenário.
- (B) A resposta da contemporaneidade ao crescimento das cidades foi o estabelecimento de dinâmicas de dependência do transporte motorizado, mormente pela economia de tempo que ele proporciona.
- (C) Ao passo que nos Estados Unidos há um grande glamour em possuir um carro, na Europa esse desejo de consumo é mínimo.
- (D) Como existem, nos Estados Unidos, grandes metrópoles, com grandes vias expressas, é praticamente natural que a mobilidade urbana se concentre em veículos individuais.
- (E) Em cidades com poucos habitantes, a tendência é se construírem grandes malhas de transporte público, de modo a alcançar a totalidade da população.

### Raciocínio Lógico e Matemático

#### Questão 16

O produto de  $(1 + \cotg^2 x)$  por  $(1 - \cos^2 x)$ , para todo  $x$  real e  $x \neq k\pi$  é igual a

- (A)  $\tg^2 x$ .
- (B) 1.
- (C)  $\sec^2 x$ .
- (D) 0.
- (E)  $\sen^2 x$ .

#### Questão 17

Clara foi ao hortifruti três vezes numa mesma semana, no primeiro dia comprou 3 kg de cenoura e uma bandeja de brócolis gastando R\$ 30,00, na segunda vez comprou 1 kg de cenoura e duas bandejas de brócolis gastando R\$ 20,00 e na terceira vez, comprou 2 kg de cenoura e 3 bandejas de brócolis. Sabe-se que o preço desses produtos não sofreu alteração durante toda a semana.

O valor gasto por Clara, em reais, no terceiro dia foi de

- (A) 38.
- (B) 16.
- (C) 34.
- (D) 26.
- (E) 18.

### Questão 18

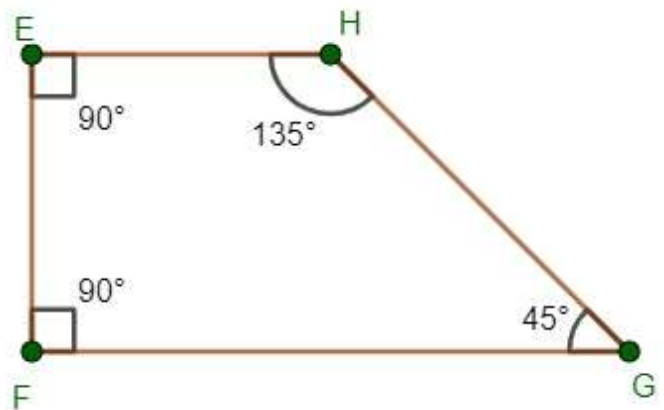
Beto fez um financiamento de R\$ 20.000,00 usando o sistema de amortização constante, a uma taxa de 2% ao mês a ser pago em 10 meses.

O valor, em reais, que Beto irá pagar na 5ª prestação é igual a

- (A) R\$ 2.240,00
- (B) R\$ 2.400,00
- (C) R\$ 2.320,00
- (D) R\$ 2.480,00
- (E) R\$ 2.000,00

### Questão 19

Na imagem do trapézio a seguir temos que há dois ângulos de  $90^\circ$ , um ângulo com  $135^\circ$  e um com  $45^\circ$ .



Essas três medidas de ângulos ( $90^\circ$ ,  $135^\circ$  e  $45^\circ$ ) recebem o nome, respectivamente, de

- (A) ângulo obtuso, ângulo agudo e ângulo reto.
- (B) ângulo reto, ângulo agudo e ângulo obtuso.
- (C) ângulo agudo, ângulo reto e ângulo obtuso.
- (D) ângulo agudo, ângulo obtuso e ângulo reto.
- (E) ângulo reto, ângulo obtuso e ângulo agudo.

### Questão 20

Dadas as afirmativas abaixo:

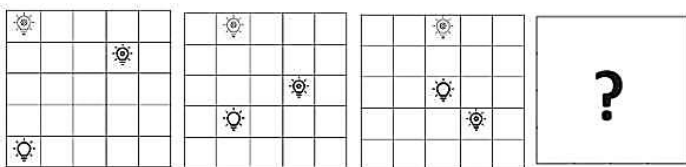
- I. Carlos não joga xadrez ou Bruno joga dama.
- II. Se Bruno joga dama, então Arthur joga gamão.
- III. Arthur não joga gamão.

É necessariamente verdade que

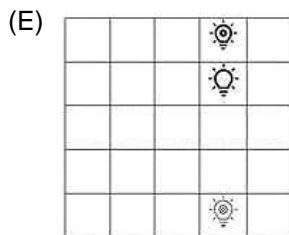
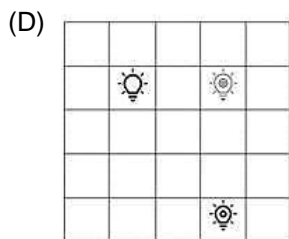
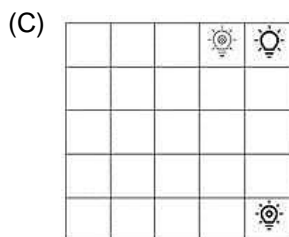
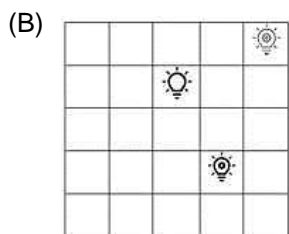
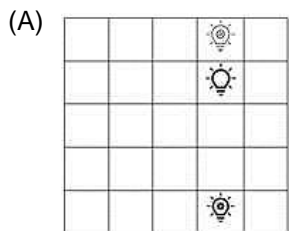
- (A) Carlos joga xadrez.
- (B) Se Carlos não joga xadrez, então Arthur joga gamão.
- (C) Bruno joga dama.
- (D) Arthur joga gamão.
- (E) Bruno não joga dama.

### Questão 21

A seguir temos uma sequência de 4 figuras que obedece a um determinado padrão.



Seguindo esse padrão, a quarta figura que completa a sequência é



### Questão 22

A palavra ABACATE está para 738, assim como BANANA está para 636 e MELANCIA está para 848, da mesma maneira podemos concluir que GROSELHA está para

- (A) 848.
- (B) 853.
- (C) 868.
- (D) 856.
- (E) 865.

### Questão 23

Considere as proposições a seguir:

p: André gosta de estudar;

q: Arthur gosta de viajar.

Desse modo, a proposição  $\sim (\sim p \vee q)$ , em linguagem natural, corresponde a:

- (A) André gosta de estudar e Arthur não gosta de viajar.
- (B) André não gosta de estudar ou Arthur gosta de viajar.
- (C) André não gosta de estudar e Arthur não gosta de viajar.
- (D) André não gosta de estudar ou Arthur não gosta de viajar.
- (E) André gosta de estudar ou Arthur não gosta de viajar.

### Questão 24

Arthur lançou duas vezes um dado no formato de octaedro, ou seja, que possui 8 faces numeradas de 1 a 8. A probabilidade de ter saído número primo nos dois lançamentos é igual a

- (A)  $\frac{1}{2}$
- (B)  $\frac{1}{5}$
- (C)  $\frac{1}{4}$
- (D)  $\frac{1}{6}$
- (E)  $\frac{1}{8}$

### Questão 25

Uma loja de *outlet* resolveu inovar nos descontos, lá todos os produtos estão com 30% de desconto em cima do preço da etiqueta e quem pagar usando pix ganha mais 10% de desconto em cima do valor final da conta. Bruno foi até essa loja e resolveu comprar uma camisa que o preço da etiqueta era de R\$ 120,00 e pagar com pix.

O valor, em reais, que Bruno vai pagar nesta camisa é igual a

- (A) R\$ 80,00
- (B) R\$ 84,00
- (C) R\$ 70,20
- (D) R\$ 75,60
- (E) R\$ 78,40

### Questão 26

Em uma aula, cinco estudantes realizaram cada um uma afirmativa, a seguir temos elas:

Estudante A: Se 5 é um número primo, então 10 é número primo também.

Estudante B: O número 303 é múltiplo de 3 e 357 é divisível por 9.

Estudante C: O número 47 é composto ou o número 81 é primo.

Estudante D: O número 30 é múltiplo de 4 ou 108 é divisível por 9.

Estudante E: O número 61 é ímpar e 51 é número primo.

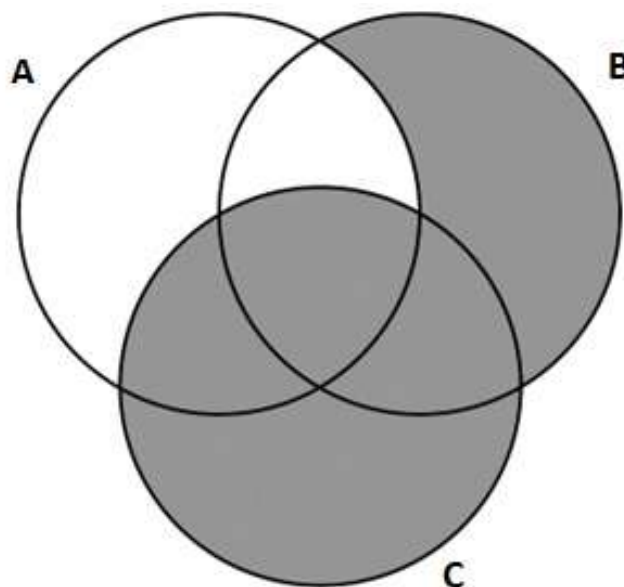
O professor ao ver as cinco afirmativas percebeu que apenas uma delas estava correta.

A única afirmativa correta foi a do estudante

- (A) D.
- (B) C.
- (C) B.
- (D) A.
- (E) E.

### Questão 27

Considere os conjuntos não vazios: A, B e C, e o diagrama a seguir:



A região em cinza no diagrama anterior é representada por

- (A)  $(B \cup C) - A$
- (B)  $(B - A) \cup C$
- (C)  $(B \cap C) - A$
- (D)  $(C - A) \cup B$
- (E)  $(B \cup C) \cup (A \cap B)$

### Questão 28

Ricardo resolveu distribuir toda sua coleção de gibis para quatro sobrinhos. Ao fazer isso, percebeu que ao dividir igualmente entre eles, ainda lhe sobrou três gibis. Os seus quatro sobrinhos por sua vez resolveram cada um dar quatro gibis para um mesmo amigo, ficando o amigo com a mesma quantidade de gibis que eles quatro.

O total de gibis que Ricardo possuía antes de distribuir para seus quatro sobrinhos é igual a

- (A) 80.
- (B) 67.
- (C) 83.
- (D) 64.
- (E) 77.

### Questão 29

Na tabela a seguir há o total de gols marcados nas 9 rodadas que ocorreram em um campeonato de futebol.

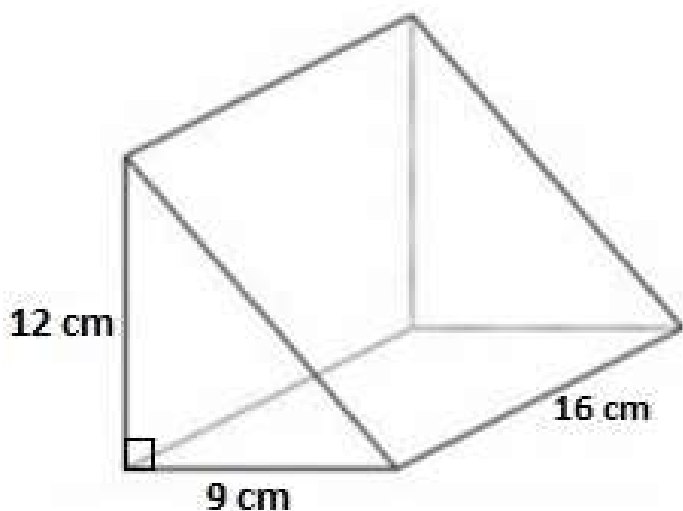
Rodada	1ª	2ª	3ª	4ª	5ª	6ª	7ª	8ª	9ª
Total de gols	16	18	17	13	15	21	20	19	23

A média de gols por rodada desse campeonato de futebol é igual a

- (A) 16.
- (B) 20.
- (C) 19.
- (D) 18.
- (E) 17.

### Questão 30

Uma empresa produz embalagens de plástico no formato de prisma, conforme a ilustração a seguir.



O volume, em centímetros cúbicos, que possui essa embalagem é igual a

- (A) 1286.
- (B) 948.
- (C) 684.
- (D) 864.
- (E) 1728.

## Geografia

### Questão 31

As mudanças climáticas têm implicações geopolíticas significativas. Desse modo, assinale a alternativa que corretamente descreve as consequências geopolíticas do derretimento do gelo no Ártico.

- (A) Abertura de novas rotas marítimas e aumento da competição por recursos naturais.
- (B) Redução da necessidade de energias renováveis.
- (C) Isolamento geopolítico dos países do Ártico.
- (D) Diminuição da cooperação internacional e o fim das zonas de proteção ambiental.
- (E) Diminuição da importância estratégica do Ártico.

### Questão 32

A distribuição de renda no Espírito Santo reflete diversas desigualdades socioeconômicas presentes no estado. Com base nos indicadores socioeconômicos e nas políticas públicas voltadas para a distribuição de renda, assinale a alternativa correta.

- (A) O Espírito Santo apresenta uma das menores taxas de pobreza do Brasil, com distribuição de renda mais equitativa nas áreas rurais devido ao desenvolvimento de políticas agrícolas eficientes.
- (B) O Índice de Gini do Espírito Santo, que mede a desigualdade de renda, é superior a 0,7, situando-se entre os mais elevados do Brasil, refletindo uma extrema concentração de renda.
- (C) As políticas públicas no Espírito Santo têm focado principalmente na industrialização, o que resultou em uma distribuição de renda mais equitativa nas áreas industriais do estado, com pouca disparidade entre trabalhadores de diferentes setores.
- (D) Os programas de transferência de renda e desenvolvimento econômico implementados pelo governo estadual nos últimos anos conseguiram reduzir o Índice de Gini do Espírito Santo para abaixo de 0,4, tornando-o um dos estados com menor desigualdade de renda no país.
- (E) A concentração de renda no Espírito Santo é mais acentuada nas áreas urbanas, especialmente na região metropolitana de Vitória, e políticas públicas recentes têm tido impacto limitado na redução das desigualdades regionais.

### Questão 33

A divisão político-administrativa do Brasil é uma estrutura organizacional que define os diferentes níveis de governança e administração territorial. Sobre essa divisão, marque a alternativa correta.

- (A) O Brasil é dividido em cinco regiões, compostas por estados, municípios e distritos federais, conforme estabelecido pelo Instituto Brasileiro de Geografia e Estatística (IBGE).
- (B) A divisão político-administrativa do Brasil é composta por três regiões administrativas: Norte, Centro-Oeste e Sul, cada uma subdividida em estados e municípios.
- (C) Cada unidade federativa do Brasil é composta por regiões metropolitanas, que possuem autonomia financeira e administrativa, e são governadas diretamente pelo governo federal.
- (D) O Brasil é dividido em estados, municípios e territórios, sendo que os territórios possuem status político-administrativo equivalente aos estados.
- (E) O Brasil possui 27 unidades federativas, incluindo 26 estados e 1 distrito federal, cada uma com autonomia política, administrativa e financeira.

### Questão 34

Os aquíferos são formações geológicas que armazenam água subterrânea e desempenham um papel crucial no abastecimento de água doce em diversas regiões do Brasil. Sobre as características e a importância dos aquíferos brasileiros, assinale a alternativa correta.

- (A) O Aquífero Urucua, presente na região Centro-Oeste, é conhecido por sua importância para o abastecimento hídrico, mas não contribui significativamente para o fornecimento de água potável.
- (B) Os aquíferos são formações impermeáveis que impedem a infiltração e armazenamento de água subterrânea.
- (C) O Aquífero Alter do Chão, localizado na região amazônica, possui uma das maiores capacidades de armazenamento de água doce do mundo.
- (D) A poluição dos aquíferos é uma preocupação menor, pois a água subterrânea é naturalmente protegida contra contaminação.
- (E) O Aquífero Guarani é exclusivamente encontrado no Brasil e é utilizado principalmente na irrigação agrícola.

### Questão 35

O Brasil é um dos maiores produtores de ouro do mundo, com diversas ocorrências desse metal precioso em seu território. Dentre os minerais de ouro encontrados no Brasil, destacam-se o ouro nativo, a calaverita e a silvanita. Considerando as características e ocorrências desses minerais, marque a alternativa correta.

- (A) O ouro nativo, calaverita e silvanita são comuns na região Centro-Oeste do Brasil, especialmente no estado de Goiás, em depósitos hidrotermais.
- (B) A calaverita é um mineral de ouro e telúrio, encontrado com maior frequência em minas a céu aberto no estado do Pará.
- (C) O ouro nativo é encontrado principalmente na região Sul do Brasil, em grandes depósitos de aluvião.
- (D) A principal ocorrência de ouro nativo no Brasil está localizada no Quadrilátero Ferrífero, em Minas Gerais, onde o metal é extraído principalmente em minas subterrâneas.
- (E) A silvanita é um mineral raro no Brasil, composto por ouro, prata e telúrio, sendo encontrada principalmente na Serra Pelada, no Pará.

### Questão 36

O conceito de isostasia é essencial para compreender a distribuição de massas na crosta terrestre e as variações topográficas. A esse respeito, assinale a alternativa que descreve corretamente o conceito de isostasia.

- (A) A isostasia refere-se à deformação elástica da crosta terrestre devido às forças tectônicas, resultando em falhamentos e dobramentos.
- (B) A isostasia descreve a erosão diferencial que resulta na formação de vales e colinas, moldando o relevo terrestre ao longo do tempo.
- (C) A isostasia está relacionada à deposição de sedimentos em bacias sedimentares, onde o peso dos sedimentos causa subsidência tectônica.
- (D) A isostasia descreve o processo de intemperismo químico e físico que desgasta as rochas da superfície terrestre, contribuindo para a formação de solos.
- (E) A isostasia é o princípio que explica o equilíbrio gravitacional entre a litosfera e o manto, onde áreas com maior carga afundam e áreas com menor carga soerguem.

### Questão 37

O Espírito Santo abriga diversos sítios históricos e culturais de grande importância para o Brasil. Entre esses sítios, destaca-se um santuário religioso que é conhecido por sua antiguidade e significância histórica. Fundado como uma pequena capela dedicada a São Francisco de Assis em 1562, este santuário é considerado um dos mais antigos do país e atrai muitos visitantes e peregrinos ao longo do ano. Sua localização estratégica oferece vistas panorâmicas deslumbrantes, e sua arquitetura reflete a herança colonial do período. Este local não apenas representa um marco religioso, mas também é um importante símbolo cultural e turístico do Espírito Santo. Estamos falando do(a)

- (A) Convento da Penha.
- (B) Igreja do Rosário.
- (C) Catedral Metropolitana de Vitória.
- (D) Palácio Anchieta.
- (E) Igreja dos Reis Magos.

### Questão 38

A estrutura geológica dos continentes é composta por várias regiões distintas. Em relação a isso, assinale a alternativa que corretamente descreve um *cráton*.

- (A) Um cinturão montanhoso formado pela colisão de placas tectônicas.
- (B) Um núcleo estável de rochas antigas que formam a base dos continentes.
- (C) Uma região de expansão do fundo oceânico onde novas crostas são formadas.
- (D) Uma zona de subducção onde a crosta oceânica é reciclada no manto.
- (E) Uma área onde ocorrem frequentes atividades sísmicas e vulcânicas.

### Questão 39

Assinale a alternativa que apresenta um clima caracterizado por elevadas temperaturas médias anuais, alta umidade relativa do ar e precipitações superiores a 2.500 mm anuais, sendo predominante na região Norte do Brasil.

- (A) Clima Litorâneo.
- (B) Clima Semiárido.
- (C) Clima Equatorial.
- (D) Clima Subtropical.
- (E) Clima Tropical.

### Questão 40

O Porto de Praia Mole, localizado no estado do Espírito Santo, é um dos principais portos da região Sudeste do Brasil. Esse porto desempenha um papel fundamental na cadeia logística e econômica do estado devido à sua especialização e infraestrutura. Considerando as características e as principais atividades do Porto de Praia Mole, assinale a alternativa que apresenta o tipo de carga predominantemente movimentada nesse terminal.

- (A) Minério de ferro.
- (B) Fertilizantes.
- (C) Automóveis.
- (D) Cargas agrícolas.
- (E) Produtos siderúrgicos.

### Questão 41

As curvaturas das camadas de rochas sedimentares resultantes da compressão tectônica, frequentemente observadas em regiões montanhosas, são estruturas importantes para a compreensão da geografia local. Essas formações, que incluem anticlinórios e sinclinórios, são denominadas

- (A) erosões.
- (B) sedimentações.
- (C) falhamentos.
- (D) dobramentos.
- (E) placas.

### Questão 42

O Espírito Santo possui uma rica hidrografia que desempenha um papel importante no abastecimento de água, na agricultura e na biodiversidade local. Entre os vários rios que cortam o estado, um deles se destaca por sua importância ecológica, pelo papel que desempenha no abastecimento de água da região norte do estado, mais especificamente na área do município de Aracruz, e por atravessar terras indígenas, sendo crucial para as comunidades locais. Estamos falando do rio

- (A) Cricaré.
- (B) Doce.
- (C) Itaúnas.
- (D) Jucu.
- (E) Piraquê-Açu.

### Questão 43

O Planalto de Poços de Caldas é uma formação geológica localizada em Minas Gerais, caracterizada por sua origem vulcânica. Essa região é conhecida pela atividade geotérmica e pela extração de minerais como a bauxita. Nesse sentido, assinale a alternativa que apresenta o tipo de planalto ao qual pertence essa formação.

- (A) Planalto Sedimentar.
- (B) Planalto Fluvial.
- (C) Planalto Basáltico.
- (D) Planalto Metamórfico.
- (E) Planalto Cristalino.

### Questão 44

O clima semiárido, encontrado em pequenas porções do noroeste do Espírito Santo, apresenta características distintas em relação aos demais climas do estado. Assim, marque a alternativa que descreve corretamente as características desse clima.

- (A) Temperaturas elevadas e baixa precipitação, com médias anuais inferiores a 1.000 mm, tornando-o um clima menos expressivo em extensão, mas relevante para a diversidade climática do estado.
- (B) Alta precipitação anual e temperaturas amenas, com médias anuais variando de 18°C a 22°C.
- (C) Temperaturas elevadas e alta umidade relativa do ar, com precipitação média anual entre 1.200 mm e 1.500 mm.
- (D) Temperaturas amenas e distribuição uniforme de chuvas ao longo do ano, com média anual de precipitação de aproximadamente 1.800 mm.
- (E) Clima predominantemente seco com temperaturas médias anuais variando de 21°C a 25°C, e precipitação anual superior a 2.000 mm.

### Questão 45

De acordo com o IBGE, o Estado do Espírito Santo é dividido em quatro mesorregiões, cada uma com características específicas em termos de geografia, economia e população. Desse modo, assinale a alternativa que apresenta corretamente as mesorregiões do Espírito Santo.

- (A) Noroeste Espírito-Santense, Norte Espírito-Santense, Metropolitana Espírito-Santense e Sul Espírito-Santense.
- (B) Noroeste Espírito-Santense, Litoral Norte Espírito-Santense, Central Espírito-Santense, Sul Espírito-Santense.
- (C) Norte Espírito-Santense, Sul Espírito-Santense, Central Espírito-Santense e Metropolitana Espírito-Santense.
- (D) Noroeste Espírito-Santense, Centro-Sul Espírito-Santense, Central Espírito-Santense e Leste Espírito-Santense.
- (E) Norte Espírito-Santense, Central Espírito-Santense, Sul Espírito-Santense e Metropolitana Espírito-Santense.

## História

### Questão 46

A fundação do movimento ocorreu em 1984, durante o 1º Encontro Nacional dos Sem Terra, realizado entre os dias 20 e 22 de janeiro, na cidade de Cascavel, Paraná. No evento, cerca de 80 trabalhadores rurais reuniram-se para organizar ocupações de terra em 12 estados, incluindo o Rio Grande do Sul, Santa Catarina, Paraná, São Paulo, Mato Grosso do Sul, Espírito Santo, Bahia, Pará, Goiás, Rondônia, Acre e Roraima, além de representantes da Abra (Associação Brasileira de Reforma Agrária), da CUT (Central Única dos Trabalhadores), do Cimi (Conselho Indigenista Missionário) e da Pastoral Operária de São Paulo. O movimento agregou posseiros, atingidos por barragens, migrantes, meeiros, parceiros, pequenos agricultores que representavam estes e outros movimentos [...].

(FORTES, Alexandre et al. (Orgs.). Dicionário histórico dos movimentos sociais brasileiros (1964-2014). Rio de Janeiro: UFRJ, 2014. p. 113.)

O texto base refere-se ao Movimento dos Trabalhadores Rurais Sem Terra (MST), sobre o qual é correto afirmar que

- (A) é um movimento terrorista que visa desestabilizar a ordem pública e promover a violência no campo, usando táticas de invasões ilegais e confrontos armados para alcançar seus objetivos.
- (B) recebe financiamento estrangeiro de governos comunistas para promover uma agenda de esquerda radical no Brasil e inviabilizar o desenvolvimento do agronegócio no país.
- (C) suas ações são centradas na promoção de conflitos violentos entre trabalhadores rurais e proprietários de terra, com o objetivo de criar instabilidade social e política, para poder se apropriar irregularmente de propriedades alheias.
- (D) realiza invasões de propriedades privadas realizadas de modo ilegal e sem o respaldo da legislação brasileira, causando prejuízos significativos aos produtores rurais, sobretudo, de agricultura familiar, e à economia local.
- (E) é um movimento social que busca promover a reforma agrária e a distribuição de terras no Brasil, para que cumpram sua função social, baseando-se em princípios constitucionais.

### Questão 47

Em novembro de 1908, Cachoeiro de Itapemirim foi palco de acontecimento que assinala a presença, viva e palpitante, de numerosa classe operária no território capixaba. Entraram em greve os trabalhadores da construção da Estrada de Ferro Sul do Espírito Santo, por atraso do pagamento dos salários. O movimento explodiu nas cercanias da cidade e [...] conseguiu empolgar cerca de oitocentos trabalhadores, que estiveram acampados ali, durante dois ou três dias, batendo-se pacificamente pelos seus direitos [...]. Como era natural, a atitude dos operários preocupou o Governo Estadual que, cautelosamente, solicitou o auxílio de forças federais. De pronto, foi mandado um contingente do 20º Batalhão de Infantaria, do Rio de Janeiro, que se limitou a umas escaramuças, nas estradas, com pequenos grupos de grevistas [...].

(IBGE. Enciclopédia dos Municípios Brasileiros. Vol. I. Rio de Janeiro: IBGE, 1957. p. 420.)

Considerando o acontecimento descrito no texto base, que envolveu trabalhadores em greve, assinale a afirmativa correta.

- (A) O movimento grevista em Cachoeiro de Itapemirim foi apoiado ativamente pelo governo estadual do Espírito Santo, que se opôs à intervenção das forças federais, buscando resolver os conflitos de forma negociada.
- (B) Durante a Primeira República, as intervenções das forças federais eram frequentemente solicitadas pelos governos estaduais para reprimir movimentos operários, visando manter a ordem social e econômica estabelecida.
- (C) O episódio em Cachoeiro de Itapemirim demonstra a eficácia das políticas trabalhistas implementadas pelo governo federal na época, que rapidamente resolveram a situação dos grevistas garantindo suas reivindicações.
- (D) A greve de 1908 foi marcada por confrontos violentos que resultaram em numerosas baixas entre os grevistas, levando a uma repressão severa que desmantelou completamente o movimento operário na região por seis décadas.
- (E) A greve dos trabalhadores na Estrada de Ferro Sul do Espírito Santo reflete uma ruptura significativa na estrutura social capixaba, levando à reorganização sindical e ao fortalecimento dos movimentos operários no estado.

## Questão 48

Fundado oficialmente em 7 de outubro de 1932, com o lançamento do "Manifesto de Outubro", existiu legalmente até dezembro de 1938, um ano após o golpe do Estado Novo, imposto por Getúlio Vargas, que colocou os partidos políticos na ilegalidade. O movimento estruturou-se a partir de uma série de pequenos grupos e partidos de extrema direita, tais como Ação Social Brasileira (Partido Nacional Fascista); Legião Cearense do Trabalho, de 1931, dirigida por Severino Sombra; Partido Nacional Sindicalista, de Minas Gerais, fundado por Olbiano de Melo; e o monarquista Ação Imperial Pátrio-novista. No início da década de 1930, integrantes desses grupos aglutinaram-se em torno da liderança de Plínio Salgado, redator, com San Tiago Dantas, do jornal A Razão, fundado em 1931, e da futura Sociedade de Estudos Políticos, tendo como lema principal "Deus, Pátria e Família".

(FERREIRA, Jorge; DELGADO, Lucilia de A. Neves (Orgs). O Brasil Republicano. Vol. II. O tempo do nacional-estatismo: do início da década de 1930 ao apogeu do Estado Novo. Rio de Janeiro: Civilização Brasileira, 2007. p. 41.)

Assinale a afirmativa que corresponde corretamente ao movimento político brasileiro de extrema direita, de viés fascista, cujo lema era 'Deus, Pátria e Família' e tem suas características apresentadas no texto base.

- (A) Integralismo.
- (B) Queremismo.
- (C) Brizolismo.
- (D) Getulismo.
- (E) Tenentismo.

## Questão 49

Na agricultura [...] o elemento fundamental será a grande propriedade [...] que corresponde à exploração agrícola em larga escala, em oposição à pequena exploração do tipo camponês. [...] A colonização portuguesa foi estritamente levada pelas circunstâncias em que se processou, e sofreu as contingências fatais criadas pelo conjunto das condições internas e externas que acompanham a obra aqui realizada por ela. A grande exploração agrária – o engenho, a fazenda – é consequência natural e necessária de tal conjunto; resulta de todas aquelas circunstâncias que concorrem para a ocupação e aproveitamento deste território que havia de ser o Brasil [...]. São estes, em última análise, os fatores que vão determinar a estrutura agrária do Brasil colônia. Os três caracteres apontados: a grande propriedade, monocultura, trabalho escravo, são formas que se combinam e completam; e derivam diretamente e como consequência necessária, daqueles fatores. Aliás em todas as colônias em que concorrem, não só no Brasil, tais caracteres reaparecem.

(PRADO JÚNIOR, Caio. Formação do Brasil contemporâneo. São Paulo: Brasiliense, 1961. p. 113.)

Assinale a afirmativa que corretamente explica as razões históricas para a predominância da grande propriedade monocultural e do trabalho escravo no Brasil colonial.

- (A) A colonização portuguesa foi influenciada pela necessidade de integração ao sistema econômico mundial, o que levou à criação de grandes propriedades monoculturais voltadas para a exportação, utilizando trabalho escravo como forma de maximizar a produção e os lucros.
- (B) A imposição de políticas mercantilistas pela Coroa Portuguesa determinou que as colônias deveriam ser autossuficientes, promovendo a criação de pequenos latifúndios diversificados, com uma força de trabalho composta majoritariamente por colonos europeus e indígenas.
- (C) A necessidade de colonizar rapidamente o vasto território brasileiro levou os portugueses a adotarem pequenas propriedades diversificadas, onde a produção agrícola era destinada, principalmente, ao mercado interno, utilizando mão de obra livre e indígena.
- (D) A falta de interesse da Coroa Portuguesa na integração ao comércio mundial resultou na criação de grandes propriedades monoculturais voltadas exclusivamente para o mercado interno, utilizando trabalho escravo apenas como um recurso adicional.
- (E) As características climáticas e geográficas do Brasil, aliadas ao isolamento das colônias portuguesas, resultaram em um sistema agrário baseado em pequenas propriedades diversificadas, com mão de obra livre, orientado para a subsistência local e regional.

## Questão 50

Os bens culturais de natureza imaterial dizem respeito àquelas práticas e domínios da vida social que se manifestam em saberes, ofícios e modos de fazer, celebrações, formas de expressão cênicas, plásticas, musicais ou lúdicas; e nos lugares (como mercados, feiras e santuários que abrigam práticas culturais coletivas). São referências culturais fundadas na tradição e manifestadas por indivíduos ou grupos de indivíduos como expressão de sua identidade cultural e social.

(IPHAN. Patrimônio Imaterial. Instituto do Patrimônio Histórico e Artístico Nacional, 10 set. 2021. Disponível em: <gov.br/iphan>. Acesso em: 1 jul. 2024.)

Assinale a afirmativa que corresponde corretamente a um patrimônio de natureza imaterial reconhecido oficialmente a partir do estado do Espírito Santo.

- (A) Modo de fazer a viola de cocho.
- (B) Ofício das Paneleiras de Goiabeiras.
- (C) Festival de Parintins.
- (D) Fandango Caiçara.
- (E) Boi de Mamão.

## Questão 51

A vinte e três de maio de 1535, oitava de Pentecostes (domingo), a caravela [do donatário] aportou à sua Capitania, aproando em uns terrenos baixos, ao fundo de uma enseada, bem junto ao Monte Moreno, à esquerda da entrada da baía – que julgaram ser um rio. O primeiro contato com a terra revelou os tropeços que aguardavam aquele pugilo de aventureiros: os índios preparavam uma recepção nada cordial. Postando-se armados em grupos na praia, mostravam-se dispostos a impedir o desembarque. Alguns disparos das peças de bordo, porém, anularam a pretensão, afugentando-os para a floresta.

(OLIVEIRA, José Teixeira de. História do estado do Espírito Santo. Vitória: Fundação Cultural do Espírito Santo, 1975. p. 35.)

Assinale a afirmativa que corresponde corretamente a um dos povos que habitavam o território que veio a se constituir como a capitania do Espírito Santo, à época do evento narrado no texto base.

- (A) Yanomami.
- (B) Parintintin.
- (C) Guaranis.
- (D) Kaingang.
- (E) Botocudos.

## Questão 52

A divisão internacional do trabalho significa que alguns países se especializam em ganhar e outros em perder. Nossa comarca no mundo, que hoje chamamos América Latina, foi precoce: especializou-se em perder desde os remotos tempos em que os europeus do Renascimento se aventuraram pelos mares e lhe cravaram os dentes na garganta. Passaram-se os séculos e a América Latina aprimorou suas funções. Ela já não é o reino das maravilhas em que a realidade superava a fábula e a imaginação era humilhada pelos troféus da conquista, as jazidas de ouro e as montanhas de prata. Mas a região continua trabalhando como serviçal, continua existindo para satisfazer as necessidades alheias, como fonte e reserva de petróleo e ferro, de cobre e carne, frutas e café, matérias-primas e alimentos, destinados aos países ricos que, consumindo-os, ganham muito mais do que ganha a América Latina ao produzi-los.

(GALEANO, Eduardo. As veias abertas da América Latina. Porto Alegre: L&PM, 2010. p. 10.)

Sobre a afamada obra 'As veias abertas da América Latina' (1971), do escritor uruguaio Eduardo Galeano (1940-2015), é correto afirmar que

- (A) descreve como as elites latino-americanas têm historicamente protegido os direitos dos povos indígenas e promovido a justiça social, garantindo que a riqueza natural da região beneficie toda a população de maneira equitativa.
- (B) defende a ideia de que o neoliberalismo e as políticas de livre mercado são as soluções ideais para os problemas econômicos e sociais da América Latina, exaltando os acordos de livre comércio e a privatização dos recursos naturais.
- (C) trata da exploração histórica, econômica e social da América Latina por potências estrangeiras, destacando os impactos negativos do colonialismo e do imperialismo na região.
- (D) propõe que a colonização europeia trouxe progresso e desenvolvimento sustentável para a América Latina, argumentando que a região se beneficiou amplamente dos sistemas econômicos impostos pelas potências coloniais.
- (E) celebra o desenvolvimento econômico da América Latina, atribuindo o crescimento da região à ajuda e investimentos contínuos das potências estrangeiras, destacando os benefícios trazidos pelo colonialismo.

### Questão 53

Pelo tratado anglo-brasileiro de 1826, todo o tráfico escravo brasileiro se tornou ilegal em março de 1830. O governo brasileiro se viu imediatamente sob intensa pressão britânica para cumprir sua obrigação de criar e colocar em vigor leis proibindo a importação de escravos no Brasil. Finalmente, foi aprovada uma lei em 7 de novembro de 1831. Mas, pelo visto, era apenas "para inglês ver".

(CARVALHO, José Murilo de (Coord.). A construção nacional: 1830-1889. Vol. 2. Rio de Janeiro: Objetiva, 2012. p. 24.)

Considerando o contexto histórico da expressão "para inglês ver" no Brasil e sua relação com a legislação citada no texto base, assinale a afirmativa correta.

- (A) A expressão "para inglês ver" refere-se às políticas internas do Brasil que, diante das pressões do governo inglês, implementaram reformas substanciais e efetivas para modernizar a economia e a sociedade, erradicando práticas arcaicas como a escravidão sem contradições práticas.
- (B) A expressão "para inglês ver" está associada ao sistema legislativo brasileiro que, durante o século XIX, promoveu uma série de reformas sociais genuínas, destacando-se pela eliminação rápida e eficaz da escravidão através de uma aplicação rigorosa de leis e repressões em parceria com a Inglaterra.
- (C) A expressão "para inglês ver" descreve as medidas severas e aplicadas com firmeza pelo governo brasileiro contra o comércio escravista realizado pela Inglaterra, seu maior adversário comercial, medidas que visavam, também, transformar a estrutura social e econômica do país, eliminando a escravidão de forma definitiva e sem resistência significativa.
- (D) A expressão "para inglês ver" surgiu em resposta às leis rigorosas e amplamente aplicadas pelo governo brasileiro para abolir a escravidão, destacando o compromisso genuíno do país, junto a parceiros como a Inglaterra, com a abolição e os direitos humanos.
- (E) A expressão "para inglês ver" reflete a criação de leis vistas como simbólicas, não efetivamente aplicadas, ou, ainda, sem a devida fiscalização pelo governo brasileiro, que visava acalmar as pressões internacionais, especialmente britânicas, enquanto continuava a prática da escravidão internamente.

### Questão 54

Quando estalou o movimento revolucionário de 1930, achava-se à frente do Governo estadual o Presidente Aristeu Borges de Aguiar, que se empossara aos trinta de junho de 1928. [...] As circunstâncias em que se desenvolveram os acontecimentos no âmbito nacional e a vizinhança do Estado de Minas – cujo Governo chefiava a Revolução no centro do País – tornaram difícil a posição do executivo espírito-santense.

(IBGE. Enciclopédia dos Municípios Brasileiros. Vol. I. Rio de Janeiro: IBGE, 1957. p. 428.)

Quando eclodiu a chamada "Revolução de 1930", que encerrou a chamada "República do Café com Leite", é possível afirmar que o governo do estado do Espírito Santo

- (A) colocou-se como candidato à presidência nas eleições de 1930, tendo como vice o mineiro Antônio Carlos Ribeiro de Andrade.
- (B) declarou-se neutro nas eleições de 1930, sem apoiar qualquer candidato no pleito, mas foi favorável à deposição de Washington Luís.
- (C) era solidário ao Presidente Washington Luís (1926-1930), e apoiava a candidatura do paulista Júlio Prestes nas eleições de 1930.
- (D) apoiava tanto a candidatura do gaúcho Getúlio Vargas para Presidente, nas eleições de 1930, quanto a deposição de Washington Luís.
- (E) embora não apoiasse a candidatura de Getúlio Vargas à presidência, era radical e explicitamente favorável à deposição de Washington Luís.

## Questão 55

Vinte anos após a fundação da Capitania do Espírito Santo, José de Anchieta a visitou como enviado da Europa para transmitir valores cristãos aos indígenas em 1553. Acredita-se que ele viajasse ao Espírito Santo pelo menos uma vez por ano, até que, em 1579, iniciou a fixação dos religiosos de sua ordem na aldeia de Rerigtiba (em tupi, "lugar de muitas ostras", atual Anchieta), onde, entre 1587 e 1592, permaneceu como líder de sua ordem. Lá, viveu boa parte da vida e faleceu, em 9 de junho de 1597.

(Adapt. JANUZZI, Nicolle. Passos de Anchieta: a relação do jesuíta com o estado do Espírito Santo. G1, 14 jun. 2022. Disponível em: <g1.globo.com>. Acesso em: 1 jul. 2024.)

Considerando o contexto político, assinale a afirmativa que corresponde corretamente à ordem religiosa que desempenhou um papel crucial na colonização e aculturação dos povos indígenas, estabelecendo missões católicas ao longo da costa brasileira, e à qual pertenceu José de Anchieta (1534-1597).

- (A) Ordem de São Bento (Benedictinos).
- (B) Ordem dos Pregadores (Dominicanos).
- (C) Ordem dos Cistercienses (Cistercienses).
- (D) Companhia de Jesus (Jesuítas).
- (E) Ordem dos Frades Menores (Franciscanos).

## Questão 56

A economia do Espírito Santo encerrou o ano de 2023 em forte expansão. O Produto Interno Bruto (PIB) capixaba registrou avanço de +5,7% no acumulado do ano, resultado quase duas vezes maior que a média nacional, que ficou em +2,9%.

(GOVERNO ES. PIB do Espírito Santo avança +5,7% em 2023, quase o dobro da média nacional. Governo do Estado do Espírito Santo, 6 mar. 2024. Disponível em: es.gov.br. Acesso em: 1 jul. 2024.)

O setor que mais contribuiu para a expansão da economia estadual nos primeiros anos da década de 2020 foi o setor

- (A) do entretenimento.
- (B) dos serviços.
- (C) de cosmética.
- (D) da agropecuária.
- (E) da indústria.

## Questão 57

O navegador [português] chegou na praia de Vila Velha em 23 de maio de 1535 e lá fundou o primeiro povoamento local. Batizou a terra de Espírito Santo em homenagem à terceira pessoa da Santíssima Trindade da Igreja Católica. Ele dividiu capitania em sesmarias e as distribuiu entre os 60 colonizadores que o acompanharam ao local.

(IBGE. Espírito Santo. Disponível em: <https://cidades.ibge.gov.br>. Acesso em: 1 jul. 2024.)

O texto base refere-se ao fidalgo português, primeiro donatário da Capitania do Espírito Santo, chamado

- (A) Vasco Fernandes Coutinho.
- (B) Gago Coutinho.
- (C) Martim Afonso de Sousa.
- (D) Duarte Coelho.
- (E) Pero de Góis da Silveira.

## Questão 58

O universo dos doze edifícios tombados, a partir de 1940, pelo Instituto do Patrimônio Histórico e Artístico Nacional (IPHAN) no estado do Espírito Santo testemunha o processo de colonização do seu território, com o predomínio da arquitetura

- (A) industrial.
- (B) residencial.
- (C) indígena.
- (D) comercial.
- (E) religiosa.

## Questão 59

O Espírito Santo tem ainda a sua estrutura econômica à base do café, embora não seja dos mais famosos, bem definido pelo fato de que, na época da queima do café, os plantadores de Minas compravam safras capixabas para entregá-las à "cota de sacrifício".

(IBGE. Enciclopédia dos Municípios Brasileiros. Vol. I. Rio de Janeiro: IBGE, 1957. p. 40.)

Quanto à chamada "cota de sacrifício" existente no contexto da produção cafeeira no estado do Espírito Santo, é correto afirmar que

- (A) foi uma medida adotada pelo governo brasileiro na década de 1930 para estabilizar os preços do café, obrigando os produtores a destruir parte de sua produção devido à superprodução e à queda da demanda internacional.
- (B) envolveu a doação de excedentes de café para países Aliados, como forma de ajuda humanitária, durante a Primeira República, buscando melhorar as relações diplomáticas do país e demonstrar solidariedade internacional, no contexto da Primeira Guerra Mundial.
- (C) surgiu como uma estratégia durante a crise do café na década de 1950, onde o governo brasileiro incentivou a produção em larga escala e a exportação maciça, ignorando as flutuações do mercado internacional e mantendo altos níveis de produção sem considerar os preços globais.
- (D) foi uma política implementada no final do século XIX, para incentivar a exportação de café, aumentando a produção e os estoques nacionais, para buscar dominar o mercado internacional e reduzir a concorrência de outros países produtores.
- (E) foi introduzida para promover a substituição do cultivo de café por outras culturas agrícolas mais lucrativas, como a soja e o milho, a partir da década de 1970, no contexto da chamada Revolução Verde, para diversificar a agricultura brasileira.

## Questão 60

Em 1825, uma rebelião regional proclamou a separação do Brasil e a incorporação do futuro Uruguai às Províncias Unidas do Rio da Prata. Esse fato precipitou a guerra entre Brasil e Buenos Aires, a partir de dezembro de 1825. A guerra foi um desastre militar para os brasileiros, vencidos em Ituzaingó (1827), e uma catástrofe financeira para as duas partes envolvidas. A paz foi alcançada com a mediação da Inglaterra, interessada em restaurar as transações comerciais normais que o conflito aniquilara. O tratado de paz que pôs fim ao conflito garantiu o surgimento do Uruguai como país independente e a livre navegação do [rio da] Prata e de seus afluentes.

(FAUSTO, Boris. História concisa do Brasil. São Paulo: Edusp/Imprensa Oficial do Estado, 2002. p. 83.)

O texto base narra um relevante conflito ocorrido no contexto do Brasil Imperial. Tal conflito ficou conhecido na historiografia brasileira como

- (A) Revolução Farroupilha.
- (B) Guerra do Paraguai.
- (C) Guerra da Cisplatina.
- (D) Revolução Federalista.
- (E) Guerra do Prata.

## Informática

---

### Questão 61

O conjunto de dados organizados de forma a terem sentido e valor para seu destinatário é conhecido como

- (A) estrutura.
- (B) informação.
- (C) alternativas.
- (D) propósito.
- (E) conhecimento.

### Questão 62

O tipo de topologia de rede na qual todos os dispositivos são ligados no mesmo cabo, sendo que em cada uma das pontas desse cabo é colocado um terminador, que tem por função indicar o final da rede, é conhecida como topologia

- (A) de árvore.
- (B) anel.
- (C) de barramento.
- (D) estrela.
- (E) malha.

### Questão 63

O administrador de redes percebe que uma praga virtual se espalhou de forma automática por todos os servidores e computadores da rede sem a necessidade de execução a nível de administrador. Essa praga virtual é conhecida como

- (A) Vírus.
- (B) Spyware.
- (C) Firewall.
- (D) Ransomware.
- (E) Worm.

### Questão 64

Em Python, a estrutura de dados que permite que o programador manipule uma sequência de valores de dados de qualquer tipo é conhecida como

- (A) lista.
- (B) file.
- (C) string.
- (D) herança.
- (E) polimorfismo.

### Questão 65

No aprendizado de máquinas, o modelo que reside na identificação de propriedades intrínsecas aos dados de entrada, de maneira a construir representações desses dados que possam servir a diversos propósitos, como auxílio a tomada de decisões ou descoberta de conhecimento, é conhecido como modelo

- (A) conexionistas.
- (B) descritivo.
- (C) preditivo.
- (D) probabilístico.
- (E) simbólico.

### Questão 66

Um endereço MAC também é conhecido como endereço de hardware Ethernet, endereço de hardware ou endereço físico. Assinale a alternativa que apresenta um endereço MAC

- (A) 12:34:56:78:9A:BC
- (B) 10.0.0.5
- (C) 2001:0db8:85a3:0000:0000:8a2e:0370:7334
- (D) 192.168.0.5
- (E) GX:12:AB:5U:08:9R

### Questão 67

A camada do modelo OSI na qual são enviados bits por um meio e são fornecidas as especificações mecânicas e elétricas da transmissão é o(a)

- (A) sessão.
- (B) apresentação.
- (C) rede.
- (D) física.
- (E) enlace.

### Questão 68

A ferramenta utilizada para tornar o serviço em nuvem mais tolerante em caso de falha de algum componente, como o hardware, é conhecida como

- (A) Balanceador de carga.
- (B) IaaS.
- (C) PaaS.
- (D) Firewall.
- (E) SaaS.

### Questão 69

O aplicativo para segurança que usa lista de controle de acesso para permitir ou bloquear acessos de sites a nível de enlace e rede é o

- (A) Blockchain.
- (B) Anti-spyware.
- (C) Switch.
- (D) Firewall.
- (E) Rootkit.

### Questão 70

A camada de transporte é responsável por transportar, parte por parte, todas as mensagens do processo que são executadas no host. Um exemplo de protocolo que trabalha nessa camada é o

- (A) HTTPS.
- (B) HTTP.
- (C) DNS.
- (D) FTP.
- (E) TCP.

## Noções de Direito Administrativo e Constitucional

### Questão 71

A propriedade privada é protegida pela Constituição Federal de 1988 (art. 5º, XXII e art. 170, II). No entanto, em algumas situações, o Estado interfere na propriedade privada para atender ao interesse da coletividade, sendo essa atuação denominada como "intervenção do Estado na propriedade privada". Assim, o Estado, excepcionalmente, intervém na propriedade particular para resguardar a função social com base na prevalência do interesse público sobre o privado. A Constituição e a legislação infraconstitucional elenca as seguintes formas de intervenção do Estado. Diante disso, assinale a alternativa em que o "tombamento" está corretamente apresentado.

- (A) É a medida na qual o Poder Público usa transitoriamente imóveis privados (e, excepcionalmente, móveis, serviços e pessoal), como meio de apoio à execução de obras, serviços ou atividades públicas (ou de interesse público), como modalidade de intervenção do Estado na propriedade.
- (B) É o ato que representa a intervenção supressiva do Estado na propriedade privada e por meio do qual o poder público despoja alguém da propriedade, adquirindo-a originariamente, por necessidade ou utilidade pública, ou por interesse social, mediante justa e prévia indenização em dinheiro, ressalvados os casos previstos na Constituição Federal de 1988.
- (C) É o ato decorrente do uso permanente de parte da propriedade necessária à execução de serviços públicos (por exemplo, a instalação de redes de fornecimento de energia elétrica), admitida pretensão indenizatória por prejuízos derivados do uso, sujeita à prescrição quinquenal.
- (D) É a restrição de caráter geral, não atingindo um bem especificamente como ocorre na servidão, podendo afetar todos os proprietários que estiverem na situação descrita na norma. Decorre do exercício do poder de polícia, ensejando a limitação do uso de bens privados, como forma de os adequarem às necessidades públicas. Dessa forma, a norma geral incide sobre bens pertencentes a particulares, configurando uma restrição ao caráter absoluto da propriedade, uma vez que limita a forma de utilização do bem pelo próprio proprietário.
- (E) É ato de intervenção estatal na propriedade que implica, ao proprietário, o dever de preservá-la em todas as suas características declaradas como portadoras de significativo valor histórico, cultural, artístico ou paisagístico, tornando-a, assim, parte integrante do patrimônio cultural brasileiro. Recai sobre bem de natureza material específico, não se tratando de restrição ou imposição de obrigação de caráter geral.

### Questão 72

Na forma da Lei Federal nº 14.133/2021 e demais disposições normativas, que regem as licitações e contratos administrativos, temos enumerados em seu extenso art. 6º uma série de conceitos e definições de necessária compreensão para o tema. Dentre os comandos referendados, temos o "projeto executivo", corretamente conceituado apenas em:

- (A) Conjunto de peças técnicas com todos os subsídios necessários à elaboração do edital, que deve conter, no mínimo, os parâmetros e elementos descritivos detalhados na forma da lei.
- (B) Cláusula contratual definidora de riscos e de responsabilidades entre as partes e caracterizadora do equilíbrio econômico-financeiro inicial do contrato, em termos de ônus financeiro decorrente de eventos supervenientes à contratação.
- (C) Conjunto de documentos necessários para a contratação de bens e serviços, que deve conter os parâmetros e elementos descritivos detalhados na própria legislação licitatória.
- (D) Conjunto de procedimentos para realização, mediante contratação direta ou licitação nas modalidades pregão ou concorrência, de registro formal de preços relativos a prestação de serviços, a obras e a aquisição e locação de bens para contratações futuras.
- (E) Conjunto de elementos necessários e suficientes à execução completa da obra, com o detalhamento das soluções previstas no projeto básico, a identificação de serviços, de materiais e de equipamentos a serem incorporados à obra, bem como suas especificações técnicas, de acordo com as normas técnicas pertinentes.

### Questão 73

A fiscalização contábil, financeira, orçamentária, operacional e patrimonial da União e das entidades da administração direta e indireta, quanto à legalidade, legitimidade, economicidade, aplicação das subvenções e renúncia de receitas, será exercida pelo Congresso Nacional, mediante controle externo, e pelo sistema de controle interno de cada Poder. Prestará contas qualquer pessoa física ou jurídica, pública ou privada, que utilize, arrecade, guarde, gerencie ou administre dinheiros, bens e valores públicos ou pelos quais a União responda, ou que, em nome desta, assuma obrigações de natureza pecuniária. Sobre o TCU, identifique o item verdadeiro.

- (A) Os Ministros do Tribunal de Contas da União terão as mesmas garantias, prerrogativas, impedimentos, vencimentos e vantagens dos Ministros do Superior Tribunal de Justiça, aplicando-se-lhes, quanto à aposentadoria e pensão, as normas constantes do art. 40 da CF/88.
- (B) Os Ministros do Tribunal de Contas da União serão escolhidos na proporção de dois terços pelo Presidente da República, com aprovação do Senado Federal, sendo dois alternadamente dentre auditores e membros do Ministério Público junto ao Tribunal, indicados em lista tríplice pelo Tribunal, segundo os critérios de antiguidade e merecimento; e um terço pelo Congresso Nacional.
- (C) O Tribunal de Contas da União, integrado por onze Ministros, tem sede no Distrito Federal, quadro próprio de pessoal e jurisdição em todo o território nacional, exercendo, no que couber, as atribuições previstas no art. 96.
- (D) O Tribunal encaminhará ao Congresso Nacional, bimestral e anualmente, relatório de suas atividades.
- (E) Qualquer cidadão, partido político, associação ou sindicato é parte legítima para, na forma da lei, denunciar irregularidades ou ilegalidades perante o Ministério Público da União, que decidirá se o caso deve ou não ser apreciado pelo Tribunal de Contas da União.

### Questão 74

O poder constituinte é a capacidade de elaborar e modificar normas constitucionais, estabelecendo uma organização jurídica fundamental e dando forma ao Estado. Em outras palavras, é o poder de definir uma nova Constituição ou de alterar uma já existente. Assim, ele constitui poderes e cria normas de exercício de governo, bem como dos seus órgãos, os limites da sua ação e as bases do ordenamento econômico e social presentes. O titular do poder constituinte é o povo, representado por um órgão colegiado, como uma Assembleia Constituinte. A legitimação desse poder é a representação da democracia de um Estado soberano, por meio das eleições, recebendo a atribuição de elaborar a Constituição. Além disso, ele pode ser estabelecido de formas distintas, estando correto apenas o que se afirma em:

- (A) O poder constituinte originário tem a função de alterar a Constituição vigente, seguindo os protocolos estabelecidos pelo originário e, sem que para isso ocorra uma revolução. Esse tipo de poder possui natureza jurídica e é percebido pelas emendas constitucionais.
- (B) O poder constituinte originário é aquele que rompe com a ordem jurídica anterior e determina uma nova constituição, originando um novo Estado. Ele tem como características ter autonomia, pois será exercido de maneira soberana para a elaboração da nova Constituição, e ser ilimitado juridicamente, por não precisar se submeter aos princípios propostos na Constituição anterior.
- (C) O poder constituinte originário é incumbido de inspecionar a Constituição por processos simples, de acordo com o art. 3º dos ADCT, a revisão constitucional seria realizada após cinco anos, a partir da data da promulgação da Constituição, pelo voto da maioria absoluta dos membros do Congresso Nacional, em sessão unicameral.
- (D) O poder constituinte originário tem a finalidade de construir ou alterar a Constituição dos Estados-Membros, uma vez que a esses foi estabelecido pelo próprio poder originário a capacidade de auto-organização, autogoverno e autoadministração, desde que respeitem as determinações do poder constituinte originário.
- (E) O poder constituinte originário nasce com a obrigação de atender às exigências impostas por ele para a produção das normas constitucionais, tornando-se limitado. Suas características são relacionadas ao fato dele ser condicionado, secundário e limitado.

## Questão 75

As Emendas Constitucionais, dentre as sete espécies normativas do art. 59 da Constituição Federal, são as que têm maior peso social e político, pois alteram a Lei fundamental e suprema do país. Isso não significa que haja hierarquia entre as espécies normativas, que atuam cada qual dentro de sua parcela de competência. A Proposta de Emenda à Constituição (PEC) pode ser apresentada pelo presidente da República, por um terço dos deputados federais ou dos senadores ou por mais da metade das assembleias legislativas, desde que cada uma delas se manifeste pela maioria relativa de seus componentes. Sobre o assunto, assinale o item correto.

- (A) A Constituição poderá ser emendada na vigência de intervenção federal, de estado de defesa ou de estado de sítio.
- (B) A Constituição poderá ser emendada mediante proposta de mais da metade das Assembleias Legislativas das unidades da Federação, manifestando-se, cada uma delas, pela maioria absoluta de seus membros, dentre outros.
- (C) A matéria constante de proposta de emenda rejeitada ou havida por prejudicada não pode ser objeto de nova proposta pelas duas próximas sessões legislativas.
- (D) A proposta será discutida e votada em cada Casa do Congresso Nacional, em dois turnos, considerando-se aprovada se obtiver, em ambos, três quintos dos votos dos respectivos membros.
- (E) Poderá ser objeto de deliberação a proposta de emenda tendente a abolir o voto direto, secreto, universal e periódico.

## Questão 76

O estudioso José dos Santos define poderes administrativos como "O conjunto de prerrogativas de direito público que a ordem jurídica confere aos agentes administrativos para o fim de permitir que o Estado alcance seus fins". Ou seja, para que sejam realizados os objetivos dos Estados é necessário fornecer poderes aos agentes estatais. Lembra-se que muitas vezes a administração pública precisar agir com superioridade em detrimento ao individual, já que suas atitudes ocasionam um bem coletivo. Como já disse o Homem Aranha, "com grandes poderes, vêm grandes responsabilidades". Então, além desses direitos superiores, a administração possui muitos deveres, como o dever da eficiência, probidade, de prestar contas, entre outros. Diante disso, aquele definido como o poder-dever de punir as infrações funcionais dos servidores e demais pessoas sujeitas a disciplina de órgãos públicos, é corretamente chamado de

- (A) Poder Regulamentar.
- (B) Poder de Polícia.
- (C) Poder Disciplinar.
- (D) Poder Hierárquico.
- (E) Poder Regulatório.

## Questão 77

O Distrito Federal, vedada sua divisão em Municípios, reger-se-á por lei orgânica, votada em dois turnos, com interstício mínimo de dez dias, e aprovada por dois terços da Câmara Legislativa, que a promulgará, atendidos os princípios estabelecidos na Constituição. Diante disso, assinale a alternativa correta.

- (A) As contas do Governo do Distrito Federal deverão ser submetidas ao Congresso Nacional, com parecer prévio do Tribunal de Contas da União.
- (B) Ao Distrito Federal são atribuídas as competências legislativas reservadas apenas aos Estados.
- (C) Lei distrital disporá sobre a utilização, pelo Governo do Distrito Federal, da polícia civil, da polícia penal, da polícia militar e do corpo de bombeiros militar.
- (D) A eleição do Governador e do Vice-Governador, observadas as regras do art. 77 da CFRB, e dos Deputados Distritais coincidirá com a dos Governadores e Deputados Estaduais, para mandato de igual duração.
- (E) Compete ao Distrito Federal legislar privativamente sobre direito tributário, financeiro, penitenciário, econômico e urbanístico de seu território.

## Questão 78

Lei complementar, de iniciativa do Supremo Tribunal Federal, disporá sobre o Estatuto da Magistratura, observados princípios constitucionais enumerados em seção específica da Carta Magna, dentre os quais está correto apenas o que se afirma em:

- (A) Um quarto dos lugares dos Tribunais Regionais Federais, dos Tribunais dos Estados, e do Distrito Federal e Territórios será composto de membros, do Ministério Público, com mais de dez anos de carreira, e de advogados de notório saber jurídico e de reputação ilibada, com mais de dez anos de efetiva atividade profissional, indicados em lista sêxtupla pelos órgãos de representação das respectivas classes.
- (B) Somente pelo voto da maioria simples de seus membros ou dos membros do respectivo órgão especial poderão os tribunais declarar a inconstitucionalidade de lei ou ato normativo do Poder Público.
- (C) O subsídio dos Ministros dos Tribunais Superiores corresponderá a noventa e cinco por cento do subsídio mensal fixado para os Ministros do Supremo Tribunal Federal e os subsídios dos demais magistrados serão fixados em lei e escalonados, em nível federal e estadual, conforme as respectivas categorias da estrutura judiciária nacional, não podendo a diferença entre uma e outra ser superior a dez por cento ou inferior a cinco por cento, nem exceder a noventa e cinco por cento do subsídio mensal dos Ministros dos Tribunais Superiores, obedecido, em qualquer caso, o disposto nos arts. 37, XI, e 39, § 4º, da própria CRFB.
- (D) Todos os julgamentos dos órgãos do Poder Judiciário serão públicos, e fundamentadas todas as decisões, sob pena de nulidade, podendo a lei limitar a presença, em determinados atos, às próprias partes e a seus advogados, ou somente a estes, em casos nos quais a preservação do direito à intimidade do interessado no sigilo não prejudique o interesse público à informação, excetuando-se os decididos pela Justiça Militar, cujo julgamento será secreto.
- (E) Nos tribunais com número superior a vinte e um julgadores, poderá ser constituído órgão especial, com o mínimo de onze e o máximo de vinte e um membros, para o exercício das atribuições administrativas e jurisdicionais delegadas da competência do tribunal pleno, provendo-se metade das vagas por antiguidade e a outra metade por eleição pelo tribunal pleno.

## Questão 79

Durante o prazo de 5 (cinco) anos previsto na Lei Federal nº 9.784/99 (art. 54), a relação do indivíduo com a Administração Pública não está completamente estabilizada, de forma que o cidadão ainda fica submetido a eventual revisão ou anulação do ato que o beneficia. A isso chamamos corretamente de

- (A) Prescrição administrativa.
- (B) Decadência administrativa.
- (C) Caducidade administrativa.
- (D) Preclusão administrativa.
- (E) Decaimento administrativo.

## Questão 80

A forma de contrato entre a Administração Pública e uma empresa particular, pelo qual a Administração Pública transfere ao segundo a execução de um serviço público, para que este o exerça em seu próprio nome e por sua conta e risco, mediante tarifa paga pelo usuário, em regime de monopólio ou não, está corretamente apresentada em:

- (A) Concessão.
- (B) Permissão.
- (C) Disposição.
- (D) Licitação.
- (E) Autorização.

## Prova Discursiva

---

### Questão 01

Empregando obrigatoriamente entre vinte e trinta linhas, elabore um texto dissertativo-argumentativo discutindo o seguinte questionamento:

Com base na história e na geografia do Espírito Santo, além das políticas públicas já em andamento, como podem cidadãos e Governo, de forma aliada, colaborar para o desenvolvimento sustentável e a preservação do patrimônio indígena?

**RASCUNHO**

1	
5	
10	
15	
20	
25	
30	