



PREFEITURA MUNICIPAL DE MARÍLIA
ESTADO DE SÃO PAULO

CONCURSO PÚBLICO

007. PROVA OBJETIVA

ANALISTA CONTÁBIL

- ◆ Você recebeu sua folha de respostas e este caderno contendo 50 questões objetivas.
- ◆ Confira seus dados impressos na capa deste caderno e na folha de respostas.
- ◆ Quando for permitido abrir o caderno, verifique se está completo ou se apresenta imperfeições. Caso haja algum problema, informe ao fiscal da sala para a devida substituição desse caderno.
- ◆ Leia cuidadosamente todas as questões e escolha a resposta que você considera correta.
- ◆ Marque, na folha de respostas, com caneta de tinta preta, a letra correspondente à alternativa que você escolheu.
- ◆ A duração da prova é de 3 horas, já incluído o tempo para o preenchimento da folha de respostas.
- ◆ Só será permitida a saída definitiva da sala e do prédio após transcorridos 75% do tempo de duração da prova.
- ◆ Deverão permanecer em cada uma das salas de prova os 3 últimos candidatos, até que o último deles entregue sua prova, assinando termo respectivo.
- ◆ Ao sair, você entregará ao fiscal a folha de respostas e este caderno.
- ◆ Até que você saia do prédio, todas as proibições e orientações continuam válidas.

AGUARDE A ORDEM DO FISCAL PARA ABRIR ESTE CADERNO.

Nome do candidato

RG

Inscrição

Prédio

Sala

Carteira

CONHECIMENTOS GERAIS

LÍNGUA PORTUGUESA

Leia o texto para responder às questões de números **01** a **05**.

No final do século XIX, em Nova Iorque, as bananas eram vendidas a preços tão baixos que se tornaram um alimento popular. A *Fruit Company* inunda as cidades da América do Norte com excelentes bananas e todos, industriais, comerciantes e consumidores, ficam felizes. Para todo mundo, com exceção dos produtores, ou seja, os agricultores, cuja vergonhosa exploração nunca cessou desde que o fruto chegou à América trazido pelos espanhóis, a comercialização da banana passou a ser um ótimo negócio.

Porém, se, por um lado, o consumo crescente da banana melhorou a alimentação de uma população acostumada a outros alimentos de baixo custo, por outro, levantou o problema de como eliminar a quantidade de resíduos produzidos por esse consumo. Em menos de uma geração, as cascas de banana se tornaram um dos resíduos mais comuns nas ruas de Nova Iorque. Não que o problema fosse a banana, é claro. A Nova Iorque do final do século XIX não se destaca pela limpeza nem pela ordem de suas ruas. Longe disso. Na prática, as cascas eram simplesmente jogadas na rua. Não havia programa de saneamento urbano nem sistema de coleta de lixo. Este formava nas ruas pilhas tão grandes que chegavam a impedir a passagem. Os jornais da época falam de desvios contínuos no tráfego pela simples necessidade de contornar vias intransitáveis em decorrência da quantidade de lixo. Bairros inteiros, em virtude de suas condições higiênicas, foram considerados infrequêntáveis.

Mesmo fora desses bairros, a cidade era tomada pelo lixo. O que fazer então? Uma das soluções concebidas pela prefeitura de Nova Iorque demonstra, em sua simplicidade, toda a genialidade prática dos americanos. O que se faz com os resíduos nas fazendas? Simples: são dados aos porcos. Então, por que não fazer o mesmo na cidade? Dito e feito. Dezenas de milhares de porcos foram transportados do campo para a cidade e deixados livres para circular pelas ruas de Nova Iorque para se alimentar do lixo da cidade. Hoje pareceria uma solução desesperada, mas pensemos nos gritantes aspectos práticos da questão: a remoção da maior parte do lixo e sua transformação em carne suína de qualidade.

(Stefano Mancuso. *A planta do mundo*. Adaptado)

01. De acordo com o autor,

- (A) desde que a banana chegou à América, seus produtores não têm se beneficiado de sua comercialização tanto quanto outros grupos.
- (B) a comercialização da banana deu aos moradores de Nova Iorque a primeira oportunidade de consumir um alimento de baixo custo.
- (C) aqueles que simplesmente descartavam nas ruas as cascas das bananas que consumiam deveriam sofrer algum tipo de punição.
- (D) não é verossímil que em certos locais da cidade fosse necessário desviar o trânsito de veículos em razão do acúmulo de cascas de banana.
- (E) é impossível saber como eram, do ponto de vista sanitário, as ruas de Nova Iorque antes da popularização da banana.

02. Nos trechos – ... **com exceção dos** produtores... (1º parágrafo) – e – ... **gritantes** aspectos práticos da questão... (3º parágrafo) –, as expressões em destaque podem ser substituídas, sem alteração do sentido original, respectivamente, por:

- (A) exceto os – trágicos
- (B) mesmo os – manifestos
- (C) também os – flagrantes
- (D) afora os – indesejáveis
- (E) salvo os – evidentes

03. Assinale a alternativa cujo trecho apresenta expressão em sentido figurado.

- (A) No final do século XIX, em Nova Iorque, as bananas eram vendidas nas esquinas das principais ruas... (1º parágrafo)
- (B) A *Fruit Company* inunda as cidades da América do Norte com excelentes bananas... (1º parágrafo)
- (C) Bairros inteiros, em virtude de suas condições higiênicas, foram considerados infrequêntáveis. (2º parágrafo)
- (D) ... as cascas de banana se tornaram um dos resíduos mais comuns nas ruas de Nova Iorque. (2º parágrafo)
- (E) Dezenas de milhares de porcos foram transportados do campo para a cidade e deixados livres... (3º parágrafo)

04. Leia o trecho:

- Bairros inteiros, **em virtude de suas condições higiênicas**, foram considerados infrequêntáveis. (2º parágrafo)

A expressão em destaque apresenta sentido de

- (A) condição.
- (B) consequência.
- (C) concessão.
- (D) causa.
- (E) condição.

05. Assinale a alternativa em que o trecho – ... as bananas eram vendidas nas esquinas das principais ruas a preços tão baixos que se tornaram um alimento popular. – foi reescrito sem alteração do sentido original e de acordo com a norma-padrão de colocação pronominal.

- (A) Uma vez que as bananas eram vendidas nas esquinas das principais ruas a preços muito baixos, se tornaram um alimento popular.
- (B) Caso as bananas fossem vendidas nas esquinas das principais ruas a preços muito baixos, tornariam-se um alimento popular.
- (C) Como as bananas eram vendidas nas esquinas das principais ruas a preços muito baixos, tornaram-se um alimento popular.
- (D) Ainda que as bananas tenham sido vendidas nas esquinas das principais ruas a preços muito baixos, se tornaram um alimento popular.
- (E) A fim de as bananas serem vendidas nas esquinas das principais ruas a preços muito baixos, tornaram-se um alimento popular.

06. Assinale a alternativa em que a pontuação e a concordância verbal estão de acordo com a norma-padrão.

- (A) O consumo de bananas aumentaram a quantidade, de resíduos, que havia nas ruas da cidade.
- (B) Com a comercialização de bananas, as pessoas da cidade passou a terem acesso, a um alimento de baixo custo.
- (C) Ganhou com a venda da banana, industriais, comerciantes e consumidores.
- (D) Transportou-se porcos, do campo para a cidade, a fim de que eliminassem o lixo das ruas.
- (E) Depois de um tempo, buscou-se uma solução para os resíduos de lixo que existiam na cidade.

Leia o texto para responder às questões de números 07 a 09.

Não escreva poesias de amor. Evite de início as formas usuais e demasiado comuns: são essas as mais difíceis, pois precisa-se de uma força grande e amadurecida para se produzir algo de novo num domínio em que sobram tradições boas, algumas brilhantes. Eis por que deve fugir dos temas amorosos em geral para aqueles que a sua própria existência cotidiana lhe oferece; relate suas mágoas e seus desejos, seus pensamentos passageiros, sua fé em qualquer beleza – relate tudo isso com íntima e humilde sinceridade. Utilize, para se exprimir, as coisas de seu ambiente, as imagens de seus sonhos e os objetos de suas lembranças. Se a própria existência cotidiana lhe parecer pobre, não a acuse. Acuse a si mesmo, diga consigo que não é bastante poeta para extrair as suas riquezas.

(Rainer Maria Rilke. *Cartas a um jovem poeta*. Fragmento)

07. O autor aconselha que não se façam poesias de amor porque estas

- (A) dificilmente atingiriam um grau de originalidade compatível com a qualidade de outras já escritas.
- (B) teriam menor profundidade do que as poesias produzidas a partir de elementos do cotidiano dos poetas.
- (C) exigiriam do escritor um distanciamento indesejável de tudo aquilo que lhe é familiar e importante.
- (D) não costumam apresentar temas capazes de agradar aos leitores e aos críticos mais exigentes.
- (E) imporiam ao escritor dedicação e esforço incompatíveis com as demandas e afazeres cotidianos.

08. Nos trechos – ... são **essas** as mais difíceis... – e – ... não é bastante poeta para extrair as **suas** riquezas –, as expressões em destaque referem-se, respectivamente, a

- (A) poesias de amor / suas lembranças.
- (B) poesias de amor / a própria existência cotidiana.
- (C) força grande e amadurecida / as coisas de seu ambiente.
- (D) formas usuais e demasiado comuns / a própria existência cotidiana.
- (E) tradições boas, algumas brilhantes / as coisas de seu ambiente.

09. Assinale a alternativa correta a respeito dos trechos do texto.

- (A) Em – ... não é **bastante** poeta... –, a expressão destacada é sinônimo de “certamente”.
- (B) Em – ... formas usuais e **demasiado** comuns... –, a expressão destacada apresenta circunstância de intensidade.
- (C) Em – Não **escreva** poesias de amor. –, a expressão destacada é um verbo no modo imperativo, que indica possibilidade ou incerteza.
- (D) Em – ... **pois** precisa-se de uma força grande e amadurecida... –, a expressão destacada apresenta sentido de conclusão.
- (E) Em – ... **para** extrair as suas riquezas. –, a expressão destacada apresenta sentido de direção.

10. Cerca de um terço da população apresentará algum tipo de dor crônica durante ____ vida. ____ medida que vivemos mais, cresce o número de pessoas com dores na coluna, nas articulações, doenças reumáticas, câncer, degenerações ou inflamações nos órgãos internos e outros problemas que podem levar ____ dores crônicas.

(Drauzio Varella. *Borboletas da alma*. Adaptado)

Assinale a alternativa que preenche, correta e respectivamente, as lacunas do texto.

- (A) à ... À ... a
- (B) a ... A ... a
- (C) a ... À ... a
- (D) à ... A ... à
- (E) a ... À ... à

11. Uma empresa possui um certo número de filiais, e todos os funcionários dessas filiais fizeram um curso *online* oferecido pela empresa. O curso foi dividido em três encontros, sendo que cada funcionário participou de apenas um dos encontros. Para o primeiro encontro, foram selecionados 7 funcionários de cada filial, e para o segundo encontro foram selecionados 5 funcionários de cada filial. Depois desses dois primeiros encontros, em um terço das filiais ainda faltavam 4 funcionários por filial fazer o curso, e em dois terços das filiais ainda faltavam 6 funcionários por filial fazer o curso, portanto o terceiro encontro contou com a presença desses funcionários. Se a diferença entre os números de funcionários no primeiro e segundo encontro foi 48, o total de funcionários dessas filiais é
- (A) 388.
(B) 392.
(C) 416.
(D) 474.
(E) 528.
12. O transporte de 390 peças foi feito em caixas, cada caixa com o mesmo número de peças. Se o número de caixas utilizadas excedeu o número de peças por caixa em 11, o número de caixas utilizadas nesse transporte é um divisor de
- (A) 30.
(B) 39.
(C) 50.
(D) 65.
(E) 78.
13. A razão entre o número de alunos bolsistas e o número de alunos pagantes em uma escola é igual a $\frac{3}{20}$. Para o próximo ano, os gestores da escola pretendem que essa razão passe a ser de $\frac{1}{5}$, e para essa razão se concretizar, eles consideram que o número de alunos pagantes aumentará em 200 e o número de alunos bolsistas aumentará em 66. Se essas previsões se confirmarem, o total de alunos bolsistas no próximo ano será
- (A) 100.
(B) 121.
(C) 144.
(D) 169.
(E) 196.

14. Uma máquina X produz 120 peças em 35 minutos. A máquina X juntamente com uma máquina Y produzem 120 dessas peças em 21 minutos. A máquina Y produz 1 920 peças em
- (A) 24,5 horas.
 - (B) 21 horas.
 - (C) 17,5 horas.
 - (D) 14 horas.
 - (E) 10,5 horas.
15. Certo dia, do total de visitantes em um museu (crianças, mais adultos, mais idosos), a terça parte eram crianças e um quarto dos demais eram idosos. Se nesse dia, o número de adultos excedeu o número de idosos em 120, o total de visitantes nesse museu foi
- (A) 360.
 - (B) 420.
 - (C) 480.
 - (D) 540.
 - (E) 570.
16. Ana comprou uma blusa em uma loja por R\$ 80,00. No dia seguinte, Bia comprou a mesma blusa, mas pagou 15% a menos do que Ana pagou. Dois dias depois, o preço dessa blusa passou a ser 20% a mais do que o valor pago por Bia e passou a ser vendida por
- (A) R\$ 76,00.
 - (B) R\$ 81,60.
 - (C) R\$ 84,00.
 - (D) R\$ 85,50.
 - (E) R\$ 92,20.
17. O dono de um restaurante quer enfeitar as paredes do salão principal com um conjunto de pratos antigos. Se ele pendurar 12 pratos por parede, sobrarão 5 pratos sem serem pendurados. Se ele tentasse pendurar 14 pratos por parede, faltariam 9 pratos em uma parede. O número de pratos desse conjunto está compreendido entre
- (A) 67 e 72.
 - (B) 73 e 78.
 - (C) 79 e 84.
 - (D) 85 e 90.
 - (E) 91 e 96.

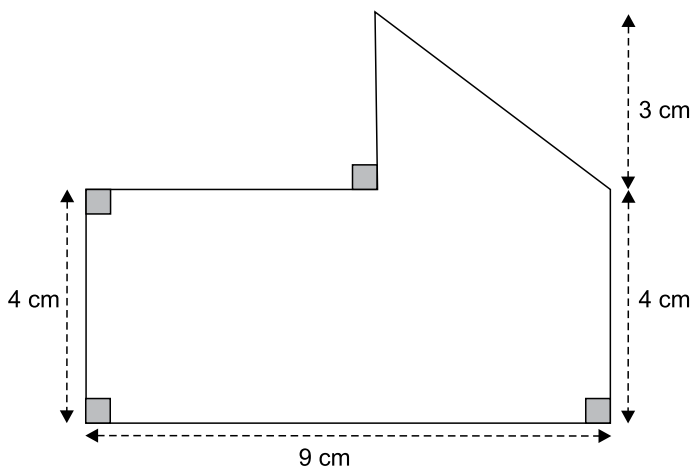
18. Em 31 de agosto, em uma turma de alunos de medicina, cinco alunos tinham 19 anos, cinco tinham 20 anos, cinco tinham 21 anos e cinco tinham 22 anos. Se no dia 30 de setembro a média aritmética das idades desses 20 alunos era 20,9 anos, o número de alunos que fazem aniversário em setembro é

- (A) 4.
- (B) 5.
- (C) 6.
- (D) 7.
- (E) 8.

19. O comprimento de um paralelepípedo reto-retângulo excede sua profundidade em 4 cm. Se a altura desse paralelepípedo é 7 cm, e sua área total é 344 cm^2 , seu volume, em cm^3 , é

- (A) 350.
- (B) 420.
- (C) 490.
- (D) 560.
- (E) 630.

20. Um polígono tem área 42 cm^2 , conforme mostra a figura.



O perímetro desse polígono, em cm, é

- (A) 30.
- (B) 32.
- (C) 34.
- (D) 36.
- (E) 38.

21. Ao organizar pastas e arquivos em seu computador local por meio do Explorador de Arquivos do MS-Windows 10, ambos em configuração padrão, um usuário selecionou uma pasta dentro da pasta Downloads e pressionou a tecla Delete (Del), mantendo a tecla Shift pressionada simultaneamente.

Considerando que a operação de exclusão, após quaisquer confirmações necessárias, ocorreu com sucesso, e a pasta a ser excluída não estava vazia, usar a tecla Shift excluiu

- (A) apenas os arquivos dentro da pasta.
- (B) apenas a pasta, mantendo os arquivos internos na pasta Downloads.
- (C) apenas os arquivos internos não salvos no dia atual.
- (D) a pasta e os arquivos internos, sem enviar para a Lixeira.
- (E) a pasta e os arquivos internos, enviando-os para a Lixeira.

22. Um usuário do MS-Word 2016, em sua configuração padrão, deseja inserir o número da página em um documento sendo preparado.

Assinale a alternativa que apresenta o grupo da guia Inserir onde se localiza o recurso Número de Página.

- (A) Página.
- (B) Símbolos.
- (C) Exibição.
- (D) Numeração.
- (E) Cabeçalho e Rodapé.

23. Observe a planilha a seguir, elaborada por meio do MS-Excel 2016, em sua configuração padrão.

	A	B	C	D
1	A	3	5	
2	4	A	A	
3	3	B	5	


Ao preencher a fórmula $=\text{SOMASE}(A1:C3;A2)$ na célula D1, o valor exibido por esta será:

- (A) 9
- (B) 3
- (C) 4
- (D) 10
- (E) 5


CONHECIMENTOS ESPECÍFICOS

24. Observe as duas imagens a seguir, que mostram um slide do MS-PowerPoint 2016, em sua configuração padrão, em momentos antes e depois, respectivamente, da aplicação de apenas uma opção de formatação na forma (círculo) inserida no slide, formatando o gradiente.

ANTES



DEPOIS



Assinale a alternativa que apresenta o ícone usado para aplicar a opção de formatação conforme o enunciado.

- (A) 
- (B) 
- (C) 
- (D) 
- (E) 

25. Assinale a alternativa que apresenta o recurso usado para salvar endereços dos sites mais frequentemente usados (fazendo uso do atalho por teclado Ctrl + D), de modo que um analista contábil possa agilizar o acesso a tais sites, visitados por meio do Google Chrome, versão 106, em sua configuração padrão.

- (A) Downloads.
- (B) Favoritos.
- (C) Histórico.
- (D) Extensões.
- (E) Zoom.

26. Considerando a Estrutura Conceitual para Elaboração da Informação Contábil, assinale a alternativa correta.

- (A) As características qualitativas fundamentais são competência e materialidade.
- (B) Comparabilidade, capacidade de verificação, tempestividade e compreensibilidade são características qualitativas de melhoria.
- (C) Fidedignidade é a característica qualitativa que permite aos usuários identificar e compreender similaridades e diferenças entre itens.
- (D) O custo é uma restrição única sobre as informações que podem ser fornecidas pelo relatório econômico contábil.
- (E) A entidade que reporta as demonstrações contábeis é a entidade que tem a prerrogativa de elaborá-las.

27. Segundo as normas contábeis brasileiras, aplicáveis à escrituração contábil, os documentos que constituem registros permanentes de uma entidade e que, quando escriturados em forma digital, são constituídos de um conjunto único de informações das quais eles se originam são:

- (A) livro diário e livro razão.
- (B) razão e balancete.
- (C) balanço patrimonial e demais demonstrativos.
- (D) livro diário e livros auxiliares.
- (E) balancete e balanço.

- 29.** Assinale a alternativa que apresenta o índice em percentual (%) da composição do endividamento da empresa.
- (A) 28%
 - (B) 32%
 - (C) 43%
 - (D) 58%
 - (E) 63%

30. Assinale a alternativa que apresenta o giro do ativo.

- (A) 1,24.
- (B) 1,47.
- (C) 1,48.
- (D) 1,51.
- (E) 1,58.

Com base nas informações a seguir, responda às questões de números **31** e **32**.

Uma determinada empresa de varejo necessita calcular os custos dos produtos vendidos, bem como o lucro bruto, ao final de um hipotético período. Para tanto, apresentou as seguintes informações:

- Estoque inicial em 31.12.2021: R\$ 4.500.000,00.
- Compras líquidas de mercadorias para revenda no exercício: R\$ 2.550.000,00.
- Estoque final apurado por intermédio de inventário físico, em 31.12.2022, foi de R\$ 2.925.000,00.
- As vendas líquidas no período foram de R\$ 5.355.000,00.
- Os impostos sobre vendas são de 15%.
- As despesas administrativas montam a R\$ 650.000,00.
- O imposto de renda e contribuição social sobre o lucro líquido têm uma taxa efetiva de 32%.

31. Os custos dos produtos vendidos ao final do período é de R\$:

- (A) 2.550.000,00.
- (B) 2.925.000,00.
- (C) 3.250.000,00.
- (D) 3.900.000,00.
- (E) 4.125.000,00.

32. O Lucro bruto ao final do período é de R\$:

- (A) 945.000,00.
- (B) 1.150.000,00.
- (C) 1.230.000,00.
- (D) 1.330.000,00.
- (E) 1.400.000,00.

33. Uma determinada indústria de máquinas adquiriu um equipamento para o imobilizado. As informações referentes à aquisição do equipamento são:

- Custo de aquisição: R\$ 650.000,00.
- Data da aquisição: 2 de janeiro de 2022.
- Os custos incorridos para colocar a máquina em funcionamento foi de R\$ 25.000,00.
- O bem entrou em funcionamento somente em 10 de janeiro de 2022.
- A vida útil calculada para o bem foi de 15 anos.
- O método de depreciação é linear.
- O valor residual (de realização) do bem foi calculado em 10% do valor bruto da aquisição.
- O valor do frete foi de 10% do valor do bem, pago pelo vendedor.
- O valor dos impostos recuperáveis é de 20% do valor do bem.

Com base nessas informações, assinale a alternativa que contém o valor da depreciação acumulada, hipoteticamente, em 31 de dezembro de 2022, em reais, desprezando os centavos:

- (A) 28.000.
- (B) 32.000.
- (C) 33.560.
- (D) 36.333.
- (E) 37.000.

34. Para um empregado CLT que recebe um salário de R\$ 5.000,00, assinale a alternativa que apresenta a retenção de valor em reais relativa ao desconto para recolhimento do INSS.

- (A) 375,00.
- (B) 450,00.
- (C) 550,00.
- (D) 700,00.
- (E) 725,00.

35. Uma empresa prestadora de serviços de limpeza, mediante cessão de obra, tributada pelo lucro presumido, emitiu uma nota fiscal no valor de R\$ 10.000,00 para sua contratante. Ambas as empresas possuem sede no mesmo município; portanto, não há incidência de ISS para esse caso hipotético.

Em conformidade com a legislação vigente, assinale a alternativa correta sobre retenções.

- (A) Cofins 3%, Pis 0,65% e CSLL 1%.
- (B) Cofins 3%, Pis 0,65%, CSLL 1% e IRRF 1,5%.
- (C) INSS 11%, somente.
- (D) Para o tipo de prestação de serviços e a forma de tributação da empresa contratada, não haverá retenções.
- (E) INSS 11%, Cofins 3%, Pis 0,65%, CSLL 1% e IRRF 1,5%.

A empresa Acerta Tudo Ltda, apresentou um balancete hipotético, na data de 30 de junho de 2022. Com base nesse balancete, responda às questões e números 36 e 37.

Balancete Contábil em 30.06.2022	
Descrição da Conta Contábil	Reais
Receitas de vendas	(990.200,00)
Empréstimos e financiamentos (PNC)	(83.400,00)
Demais contas a receber	6.500,00
Fornecedores	(45.000,00)
Empréstimos e financiamentos	(41.250,00)
Provisão para créditos de liquidação duvidosa	(20.000,00)
Impostos sobre vendas	145.000,00
Mútuos a receber com empresas ligadas de LP	18.350,00
Estoques	61.500,00
Impostos a recolher	(20.000,00)
Outras contas a pagar	(6.750,00)
Contas a pagar de LP – (PNC)	(1.700,00)
Despesas administrativas, tributárias e gerais	92.250,00
Ativos intangíveis	16.700,00
Contingências trabalhistas de LP – (PNC)	(25.000,00)
Devoluções de vendas	32.000,00
Caixa e equivalentes de caixa	68.000,00
CPV	583.000,00
Títulos a receber de LP	10.000,00
Despesas de vendas	40.000,00
Salários a pagar	(13.500,00)
Capital	(35.000,00)
Contas a receber de clientes	70.000,00
Imobilizado	133.500,00
Reservas de capital	(10.000,00)
Despesas financeiras	11.000,00
Despesa de Imposto de renda e contribuição social	34.000,00
Depreciação acumulada	(30.000,00)

Obs.: o resultado do exercício deverá ser apurado e transferido para o patrimônio líquido.

36. Assinale a alternativa que apresenta o valor do Patrimônio Líquido, em reais, em 30.06.2022.

- (A) 45.000,00.
- (B) 57.000,00.
- (C) 68.000,00.
- (D) 89.000,00.
- (E) 97.950,00.

37. O lucro antes do imposto de renda e da contribuição social sobre o lucro líquido, em reais, é:

- (A) 86.950,00.
- (B) 97.950,00.
- (C) 98.850,00.
- (D) 230.200,00.
- (E) 813.200,00.

38. Com relação à classificação de determinadas operações de uma entidade pública, na demonstração das variações patrimoniais, é correto afirmar que o uso de bens, serviços e consumo de capital fixo

- (A) não integram o referido demonstrativo, uma vez que não tem efeito patrimonial.
- (B) são variações patrimoniais substitutivas.
- (C) são despesas variáveis.
- (D) são variações patrimoniais diminutivas.
- (E) são variações patrimoniais aumentativas, sob a ótica de transferência do uso de bens próprios.

39. Segundo as Normas Brasileiras de Contabilidade Aplicadas ao Setor Público, no que tange à Apresentação de Informação Orçamentária nas Demonstrações Contábeis, a autorização concedida pelo Poder Legislativo ou autoridade com prerrogativa semelhante para alocar recursos para os fins por eles especificados, é definida como:
- (A) dotação orçamentária.
 - (B) orçamento aprovado.
 - (C) orçamento autorizado.
 - (D) regime orçamentário.
 - (E) orçamento plurianual.
40. Em relação à Norma Contábil que trata de Provisões, Passivos Contingentes e Ativos Contingentes, assinale a alternativa correta.
- (A) Ativo não contingente é um ativo possível que resulta de eventos passados, e cuja existência está confirmada inclusive pela ocorrência de um ou mais eventos futuros incertos completamente sob o controle da entidade.
 - (B) As provisões não podem ser diferenciadas de outros passivos como contas a pagar e passivos derivados de apropriações por competência (*accruals*) uma vez que é mensurável.
 - (C) O evento futuro que leva a uma obrigação presente é denominado evento que cria obrigação. Para o evento ser caracterizado como evento que cria obrigação, é necessário que a entidade não possua alternativa realista a liquidar a obrigação criada pelo evento.
 - (D) Para que o passivo se qualifique para reconhecimento, é necessário haver não apenas a obrigação presente, mas também a possibilidade de saída de recursos que incorporam benefícios econômicos ou potencial de serviços para liquidar essa obrigação.
 - (E) O passivo contingente deve ser evidenciado, conforme exigido pela norma, a menos que seja provável a possibilidade de entrada de recursos que incorporam benefícios econômicos ou potencial de serviços.
41. Quanto às receitas orçamentárias, o nível de classificação vinculado à Origem que permite qualificar com maior detalhe o fato gerador das receitas é denominado de:
- (A) Espécie.
 - (B) Categoria.
 - (C) Unidade.
 - (D) Base de Cálculo.
 - (E) Fonte.
42. Segundo o Manual de Contabilidade Aplicado ao Setor Público, suprimento de fundos é caracterizado por ser um adiantamento de valores a um servidor para futura prestação de contas. Esse adiantamento constitui despesa orçamentária, ou seja, para conceder o recurso ao suprido é necessário percorrer os três estágios da despesa orçamentária: empenho, liquidação e pagamento. Nesse sentido, assinale a alternativa que indica a contabilização no momento do empenho da despesa, conforme sugerido pelo Plano de Contas Aplicado ao Setor Público, considerando a natureza da informação orçamentária.
- (A) D: Disponibilidade por Destinação de Recursos (DDR) e C: DDR Comprometida por Empenho.
 - (B) D: Adiantamentos Concedidos a Pessoal e a Terceiros (P) e C: Outras Obrigações de Curto Prazo – Suprimento de Fundos.
 - (C) D: Crédito Empenhado a Liquidar e C: Crédito Empenhado Liquidado a Pagar.
 - (D) D: DDR Comprometida por Empenho e C: DDR Comprometida por Liquidação e Entradas Compensatórias.
 - (E) D: Crédito Disponível e C: Crédito Empenhado a Liquidar.
43. É(São) exigência(s) para a realização de transferência voluntária, além das estabelecidas na Lei de Diretrizes Orçamentárias:
- (A) empenho específico.
 - (B) existência de dotação específica.
 - (C) crédito adicional.
 - (D) comprovação do cumprimento dos limites constitucionais relativos à previdência e infraestrutura.
 - (E) doação de recursos e concessão de crédito extemporâneo.
44. Segundo o manual de contabilidade aplicável ao setor público, referente à dívida ativa, o registro das receitas orçamentárias oriundas do recebimento da dívida ativa deve ser discriminado em contas contábeis de acordo com a natureza do crédito original. Também devem ser classificados em classificações específicas os recebimentos referentes a multas, juros e outros encargos. No caso de uma baixa por recebimento do principal no órgão competente, a informação patrimonial será:
- (A) D: Caixa e Equivalentes de Caixa em Moeda Nacional e C: Créditos a Longo Prazo (P).
 - (B) D: Receita a Realizar e C: Receita Realizada.
 - (C) D: Controle da Disponibilidade de Recursos e C: Disponibilidade por Destinação de Recursos (DDR).
 - (D) D: Receita a Realizar e C: Disponibilidade por Destinação de Recursos (DDR).
 - (E) D: Caixa e Equivalentes de Caixa em Moeda Nacional e C: C: Receita Realizada.

45. De acordo com os princípios constitucionais, relativos ao sistema tributável nacional, as contribuições sociais e de intervenção no domínio econômico, instituídos constitucionalmente,
- (A) não incidirão sobre a importação de produtos estrangeiros ou serviços.
 - (B) incidirão exclusivamente sobre os produtos relacionados ao ramo alimentício e de transporte.
 - (C) não poderão ter alíquotas *ad valorem*, tendo em vista que são aplicadas uniformemente nos casos de importação em geral.
 - (D) incidirão sobre receitas de exportação.
 - (E) não incidirão sobre as receitas de exportação.
46. De acordo com a Lei nº 14.133/21, a modalidade de licitação para contratação de bens e serviços especiais e de obras e serviços comuns e especiais de engenharia, é definida por
- (A) concurso.
 - (B) leilão.
 - (C) pregão.
 - (D) diálogo competitivo.
 - (E) concorrência.
47. O departamento de obras da Prefeitura de Marília realizou um inventário físico dos bens do ativo operacional e identificou um montante de bens móveis inservíveis, com os quais se concluiu que o custo-benefício de sua manutenção é muito alto, portanto, decidiu-se pela alienação desses bens. O valor contábil desses bens monta a R\$ 1.234.678,00. Os bens não serão segregados e serão alienados em um único lote. Com isso, qual modalidade de licitação o departamento deverá realizar, seguindo a Lei de Licitações e Contratos Administrativos?
- (A) Convite.
 - (B) Pregão presencial.
 - (C) Leilão.
 - (D) Pregão eletrônico.
 - (E) Tomada de preço.
48. Assinale a alternativa que contém o período determinado na Lei Complementar nº 101/00, que caracteriza a despesa corrente derivada de lei, medida provisória ou ato administrativo normativo, que fixem para o ente a obrigação legal de sua execução como obrigatória de caráter continuado,
- (A) por um período de até 6 meses.
 - (B) por um período de até um ano.
 - (C) por um período superior a dois anos.
 - (D) para aquele que ultrapassar um ano.
 - (E) por doze meses contínuos.
49. De acordo com a Lei de Responsabilidade Fiscal, sabe-se que, para apuração da despesa total com pessoal, será considerada a remuneração bruta do servidor, sem qualquer desconto, ressalvada redução disposta em constituição, e que o valor total da despesa não poderá, em cada período de apuração, ultrapassar determinados percentuais da receita corrente líquida (RCL). Nesse pressuposto, considerando que uma determinada entidade pública municipal obteve uma RCL hipotética de R\$ 350.000.000,00, o valor, em reais, a ser repartido para o legislativo será de
- (A) 210.000.000,00.
 - (B) 189.000.000,00.
 - (C) 171.500.000,00.
 - (D) 21.000.000,00.
 - (E) 10.500.000,00.
50. No tocante à recondução da dívida da união, se a dívida consolidada de um ente da Federação ultrapassar o respectivo limite ao final de um _____, deverá ser a ele reconduzida até o término dos três subsequentes, reduzindo o excedente em, pelo menos, _____ no primeiro.
- Assinale a alternativa que completa, correta e respectivamente, o texto.
- (A) quadrimestre ... 15%
 - (B) quadrimestre ... 25%
 - (C) semestre ... 15%
 - (D) semestre ... 25%
 - (E) ano ... 25%

