



### **Uma das últimas condenadas por crimes na Alemanha nazi morre aos 99 anos**

A antiga secretária do campo de concentração de Stutthof, uma das últimas pessoas a ser condenada por crimes na Alemanha nazi, morreu aos 99 anos, anunciou hoje o tribunal onde foi julgada. Acusada de cumplicidade no assassinio de mais de 10.000 pessoas no campo de Stutthof, na atual Polónia perto de Gdansk (Danzig na altura), Irmgard Furchner foi condenada no final de dezembro de 2022 pelo tribunal de Itzehoe (norte da Alemanha) a uma pena de dois anos de prisão suspensa, sentença confirmada em recurso em agosto de 2024.

Uma porta-voz do tribunal de Itzehoe confirmou à AFP que Furchner tinha morrido, conforme noticiado inicialmente pelo Schleswig-Holsteinische Zeitungsverlag (SHZ), um grupo de jornais locais do norte da Alemanha.

Com 18 anos de idade no início dos acontecimentos (1943) e 19 anos no final (1945), Furchner era dactilógrafa e secretária de Paul Werner Hoppe, comandante do campo de Stutthof, onde pereceram cerca de 65.000 pessoas, na sua maioria judeus, guerrilheiros polacos e prisioneiros de guerra soviéticos.

Devido à sua idade na altura dos acontecimentos, foi julgada por um tribunal especial de menores. A pena suspensa de dois anos teve em conta “a posição subordinada da arguida e a sua eventual reduzida capacidade de resistência devido à doutrinação” da época. A sua defesa tinha apresentado um recurso, que foi rejeitado pelo Supremo Tribunal, com o fundamento de que não era claro nem estava provado que tivesse conhecimento do que se passava no campo, ou que o seu trabalho colaborasse num processo de assassinio sistemático.

Irmgard Furchner não falou durante o julgamento nem admitiu qualquer culpa, mas nas últimas audiências disse estar “arrependida de tudo o que aconteceu” e “lamentou ter estado em Stutthof nessa altura”. No primeiro dia do seu julgamento, não compareceu em tribunal, fugindo sozinha do lar de idosos onde residia, sendo encontrada algumas horas mais tarde.

O caso Furchner reavivou a questão de saber por que razão a justiça alemã demorou tanto tempo a levar ao tribunal os cúmplices dos crimes cometidos pelo nacional-socialismo. Um acórdão do Supremo Tribunal de 1969 - já antes tinham sido proferidas algumas condenações relacionadas com o Holocausto - dificultou a acusação dos autores dos crimes, exigindo que estes provassem a sua cumplicidade em casos específicos e demonstrassem a relação de causalidade entre as suas ações e os crimes.

Isto levou a que vários processos fossem arquivados, incluindo contra guardas que tinham participado na seleção na rampa de Auschwitz (local à chegada do campo de concentração onde as pessoas eram selecionadas). Uma nova reviravolta na doutrina jurídica surgiu em 2011, quando John Demjanjuk, um antigo guarda de Sobibor, foi condenado por cumplicidade em 28.000 casos de homicídio sem prova de um nexo de causalidade entre as suas ações e as mortes.

Mais tarde, numa revisão de outra condenação contra um guarda de Auschwitz Oskar Groning, o Supremo decidiu que era suficiente que o arguido tivesse feito parte da máquina da morte e que tivesse ajudado, com o seu trabalho, a perpetrar um grande número de assassinios num curto espaço de tempo. Desde então, houve mais de uma dúzia de julgamentos de pessoas idosas em que as antigas vítimas testemunharam sobre os crimes.

Em junho de 2024, o tribunal de Hanau, perto de Frankfurt, recusou a comparência de um antigo guarda do campo de Sachsenhausen, de 99 anos, que foi considerado incapaz de comparecer no julgamento por razões de saúde.

Fonte: [Uma das últimas condenadas por crimes na Alemanha nazi morre aos 99 anos - CNN Portugal](#)

**01) Com base nas informações do texto e nas relações existentes entre as partes que o compõem, assinale a alternativa INCORRETA:**

- (A) Uma antiga secretária de um campo de concentração nazista morreu aos 99 anos.
- (B) No campo de Stutthof, pereceram judeus, guerrilheiros polacos e prisioneiros de guerra soviéticos.
- (C) Irmgard Furchner foi condenada em 1969 por cumplicidade no assassinio de mais de 10.000 pessoas no campo de Stutthof.
- (D) Irmgard Furchner fugiu do lar de idosos onde residia no primeiro dia do seu julgamento.
- (E) Após 2011, a justiça alemã teve uma reviravolta nos julgamentos de crimes cometidos pelo nacional-socialismo.

**02) Assinale a alternativa cuja divisão silábica da palavra esteja INCORRETA:**

- (A) E-ven-tu-al.
- (B) Mo-rri-do.
- (C) Pro-ces-so.
- (D) Tra-ba-lho.
- (E) So-zi-nha.

**03) Assinale a alternativa cuja palavra NÃO seja proparoxítona:**

- (A) Últimos.
- (B) Época.
- (C) Cúmplices.
- (D) Homicídio.
- (E) Máquina.

**04) Assinale a alternativa que apresente termo que possa substituir o termo em destaque no período, mantendo as mesmas relações de sentido no texto: Irmgard Furchner não falou durante o julgamento nem admitiu qualquer culpa, mas nas últimas audiências disse estar “arrependida de tudo o que aconteceu” e “lamentou ter estado em Stutthof nessa altura”.**

- (A) Porém.
- (B) Para.
- (C) Logo.
- (D) Ademais.
- (E) Após.

**05) Assinale a alternativa que apresente a classe morfológica do termo em destaque no período: No primeiro dia do seu julgamento, não compareceu em tribunal, fugindo sozinha do lar de idosos onde residia, sendo encontrada algumas horas mais tarde.**

- (A) Substantivo.
- (B) Verbo.
- (C) Pronome.
- (D) Adjetivo.
- (E) Preposição.

**06) Assinale a alternativa que apresente a justificativa correta para o uso da crase no período: Uma porta-voz do tribunal de Itzehoe confirmou à AFP que Furchner tinha morrido, conforme noticiado inicialmente pelo Schleswig-Holsteinische Zeitungsverlag (SHZ), um grupo de jornais locais do norte da Alemanha.**

- (A) Locução Prepositiva.
- (B) Regência Verbal.
- (C) Locução Adverbial.
- (D) Locução Conjuntiva.
- (E) Regência Nominal.

**07) Assinale a alternativa cuja palavra possua prefixo:**

- (A) Arquivados.
- (B) Condenados.
- (C) Incapaz.
- (D) Inicialmente.
- (E) Julgada.

**MATEMÁTICA**

**08) A tabela seguinte descreve o salário dos colaboradores da Empresa X:**

Quantidade de Salários Mínimos	Número de Colaboradores
1 /--- 3	30
3 /--- 5	20
5 /--- 7	10
7 /--- 9	10
<b>Total</b>	<b>70</b>

**Com base nos dados da tabela, a média salarial em salários mínimos é igual a:**

- (A) 2.
- (B) 3.
- (C) 4.
- (D) 5.
- (E) 6.

**09) Os dados da tabela seguinte mostram a evolução de vendas de uma loja virtual entre os meses de abril e julho:**

abril	maio	junho	julho	agosto
R\$10.000,00	R\$12.000,00	R\$14.400,00	R\$17.280,00	?????

**Analisando a evolução das vendas, foi observado que ela segue um padrão de crescimento, supondo que este padrão permaneça para o próximo mês, em agosto as vendas devem chegar a:**

- (A) R\$ 19.688,00.
- (B) R\$ 19.926,00.
- (C) R\$ 20.238,00.
- (D) R\$ 20.736,00.
- (E) R\$ 21.202,00.

**10) Em um curso semestral, um aluno realiza três avaliações, sendo que a 1ª e a 3ª tem peso igual, a 4ª e a 2ª peso igual a 2. Este aluno já realizou a 1ª e a 2ª avaliação com notas respectivamente iguais a 60 e 70. Para ser aprovado no curso, sua média final deve ser igual ou superior a 65 pontos. Com base nestas informações, a nota mínima para ser aprovado neste curso na 3ª prova de ser de:**

- (A) 57,0.
- (B) 60,5.
- (C) 65,0.
- (D) 67,5.
- (E) 80,0.

**11) Dona Maria resolveu vender bolinhos de carne para obter um ganho extra e ajudá-la em suas despesas mensais, comprou os ingredientes e fez exatamente 64 bolinhos, cada um deles pesando exatas 80 gramas. Ela pretende vender cada um pelo valor de R\$ 4,00. Com base nos dados apresentados, a quantidade em quilos da receita preparada por Dona Maria é igual a:**

- (A) 4,160 Kg.
- (B) 4,840 Kg.
- (C) 5,120 Kg.
- (D) 5,320 Kg.
- (E) 5,760 Kg.

**12) Um associado do Clube Campos Verdes não pagou a parcela bimestral que dá direito a utilização da estrutura do clube por um período de três anos. Considerando este período, o total de parcelas atrasadas é igual a:**

- (A) 6.
- (B) 8.
- (C) 12.
- (D) 18.
- (E) 24.

**13) Um vendedor de baterias automotivas recebe um salário fixo de R\$ 2.500,00 mais R\$ 35,00 por cada bateria que vende ao longo do mês. Se seu salário em um determinado mês foi de R\$ 4.145,00, a quantidade de baterias vendidas neste mês corresponde a:**

- (A) 38.
- (B) 41.
- (C) 43.
- (D) 45.
- (E) 47.

**14) Um painel de um metro quadrado vai ser utilizado para colocar fotos. Todas as fotos tem a mesma dimensão de 10 x 10 centímetros. Considerando estes dados, a quantidade de fotos que cabem neste painel é igual a:**

- (A) 100.
- (B) 50.
- (C) 25.
- (D) 20.
- (E) 10.

<b>CONHECIMENTOS GERAIS</b>
-----------------------------

**15) Preencha as lacunas e assinale a alternativa com a sequência correta.**

O nome do município de Porto Barreiro, faz referência a dois distritos. O primeiro era \_\_\_\_\_, um porto fluvial utilizado principalmente para uma balsa que conectava o distrito com a região sudoeste. O segundo era \_\_\_\_\_, local lamacento que a fauna utilizava para acessar água.

- (A) Porto Alegre/Lagoa dos Patos.
- (B) Porto Dom Pedro II/mangue Valadares.
- (C) Porto Amazonas/Banhado.
- (D) Porto Santana/Barreirinho.
- (E) Porto Morretes/Barreado.

**16) Porto Barreiro está localizado no estado do Paraná, região Sul do Brasil. O município integra um bioma conhecido por sua biodiversidade e por ser um dos mais ameaçados do país, caracterizado por florestas densas e espécies endêmicas. Qual das alternativas abaixo se refere a este bioma?**

- (A) Cerrado.
- (B) Mata Atlântica.
- (C) Pantanal.
- (D) Caatinga.
- (E) Pampa.

**17) O município de Porto Barreiro já foi sede do evento denominado "Caminhada da Natureza", que promove o ecoturismo e o respeito ao meio ambiente. Qual das alternativas abaixo se refere a uma área de preservação localizada em Porto Barreiro?**

- (A) Parque Nacional do Iguaçu.
- (B) Reserva Biológica das Araucárias do Instituto Chico Mendes.
- (C) Parque Natural Professor Léo Wobeto.
- (D) Parque Estadual da Cabeça do Cachorro.
- (E) Estação Ecológica de Guaraqueçaba.

**18) O agronegócio brasileiro é vital para a balança comercial, sendo o país um dos maiores exportadores de grãos do mundo. Qual das alternativas abaixo se refere ao porto brasileiro responsável pelo maior volume de exportação de soja e milho no último ano?**

- (A) Porto de Santos.
- (B) Porto de Paranaguá.
- (C) Porto do Rio de Janeiro.
- (D) Porto de Itajaí.
- (E) Porto de São Francisco do Sul.

**19) Em 2025, o cacique \_\_\_\_\_, líder Kayapó conhecido pela sua luta pela preservação da Amazônia e dos povos indígenas, encontrou-se com o presidente Lula e o aconselhou para que não explorassem petróleo na Margem Equatorial, especialmente na região em frente à foz do \_\_\_\_\_. O diálogo demonstra a tensão entre o discurso ambiental de proteção às florestas e aos povos originários e o desenvolvimentismo econômico quem marca os governos petistas.**

- (A) Ângelo Kretã/rio Iguaçu.
- (B) Raoni Metuktire/rio Amazonas.
- (C) Davi Kopenawa/rio Tietê.
- (D) Jacir Macuxi/rio Paraguai.
- (E) Ailton Krenak/rio São Francisco.

**20) Pioneira do rock brasileiro, integrou o grupo Os Mutantes e destacou-se também como compositora na Jovem Guarda. Conhecida como "Rainha do Rock", é autora de hits como "Ovelha Negra". Qual das alternativas abaixo se refere a essa artista?**

- (A) Gal Costa.
- (B) Marisa Monte.
- (C) Elis Regina.
- (D) Cássia Eller.
- (E) Rita Lee.


**21) Qual função é impossibilitada de se realizar com a retro escavadeira?**

- (A) Abrir valas.
- (B) Carregar caminhões.
- (C) Compactar (de forma severa) terrenos.
- (D) Arrancar árvores pequenas.
- (E) Cortar barrancos.

**22) Enquanto se opera uma retro escavadeira, se pode transportar pessoas na cabine?**

- (A) Sim, dois no máximo.
- (B) Sim, três no máximo.
- (C) Não.
- (D) Depende do serviço.
- (E) Depende do chefe.

**23) Em retro escavadeira o que representa o seguinte símbolo (luz acesa no painel)?**

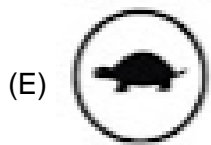
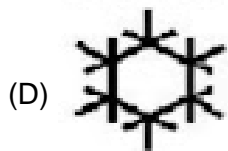
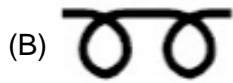
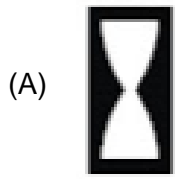


- (A) Temperatura do óleo hidráulico.
- (B) Pressão de óleo da transmissão.
- (C) Temperatura do líquido de arrefecimento do motor.
- (D) Filtro de ar do motor.
- (E) Filtro do óleo do motor.

**24) Em acidentes com maquinários. Hemorragia externa:**

- (A) É aquela que é visível, sendo, portanto, mais fácil de identificar. Se não for prestado atendimento, pode levar ao estado de choque. A hemorragia pode ser arterial ou venosa. Na arterial, a saída de sangue acompanha os batimentos cardíacos. Na venosa, o sangue sai contínuo.
- (B) A vítima geralmente apresenta, antes da perda de sangue, enjoo e náusea. Ao vomitar, vem sangue como se fosse borra de café.
- (C) Após um acesso de tosse, o sangue sai pela boca em golfadas e é vermelho vivo.
- (D) É a que ocorre internamente, ou seja, não se enxerga o sangue saindo, sendo mais difícil de ser identificada. Algumas vezes pode se exteriorizar, saindo sangue em golfadas pela boca da vítima. Podemos suspeitar de hemorragia interna a partir do estado de choque, no caso de um acidente.
- (E) É a ruptura total ou parcial de qualquer estrutura óssea do corpo, geralmente com separação de um osso em dois ou mais fragmentos após um traumatismo.

25) Sobre a simbologia maquinária, qual dos seguintes símbolos indica que há um possível problema no sistema de arrefecimento?



26) Qual a graduação mínima da CNH – Carteira Nacional de Habilitação, para se operar uma retroesvadeira?

- (A) A.
- (B) B.
- (C) C.
- (D) D.
- (E) E.

27) CTB – Código de Trânsito Brasileiro. Qual a definição de TRICICLO?

- (A) Veículo misto caracterizado pela versatilidade do seu uso, inclusive fora de estrada.
- (B) Veículo automotor de 3 (três) rodas, com ou sem cabine, dirigido por condutor em posição sentada ou montada, que não possui as características de ciclomotor.
- (C) Veículo a motor de propulsão a combustão, elétrica ou híbrida que circula por seus próprios meios e que serve normalmente para o transporte viário de pessoas e coisas ou para a tração viária de veículos utilizados para o transporte de pessoas e coisas, compreendidos na definição os veículos conectados a uma linha elétrica e que não circulam sobre trilhos (ônibus elétrico).
- (D) Veículo destinado ao transporte de carga, podendo transportar dois passageiros, exclusive o condutor.
- (E) Veículo fabricado há mais de 30 (trinta) anos, original ou modificado, que possui valor histórico próprio.

28) Qual dos seguintes símbolos indica o “peso máximo permitido por eixo”?

(A)



(B)



(C)



(D)



(E)



29) O que indica o seguinte símbolo?



- (A) Curva acentuada à esquerda.
- (B) Curva à esquerda.
- (C) Pista sinuosa à esquerda.
- (D) Curva acentuada em “S” à esquerda.
- (E) Curva em “S” à esquerda.

**30) São procedimentos em convulsões, exceto:**

- (A) Virar a cabeça para o lado, evitando que a vítima venha a se afogar com a saliva intensa.
- (B) Imobilizar braços e pernas.
- (C) Apertar-lhe as roupas.
- (D) Observar se a respiração está adequada, se não há obstrução das vias aéreas.
- (E) Não tracionar a língua ou colocar objetos na boca para segurar a língua (tipo colher, caneta, madeira, dedos, etc.).

**31) Nas vias rurais, quando não houver acostamento ou quando não for possível a utilização dele, a circulação de pedestres, na pista de rolamento, será feita com prioridade sobre os veículos, pelos bordos da pista, em fila única, em sentido \_\_\_\_\_ ao deslocamento de veículos, exceto em locais proibidos pela sinalização e nas situações em que a segurança ficar comprometida. Escolha a opção que preenche a lacuna:**

- (A) Contrário.
- (B) Perpendicular.
- (C) Idêntico
- (D) Similar.
- (E) Iqualitário.

**32) O fabricante fará constar em lugar visível da estrutura do veículo e no RENAVAM o limite técnico de peso por eixo, na forma definida pelo:**

- (A) DETRAN.
- (B) CONTRAN.
- (C) DENATRAN.
- (D) CETRAN.
- (E) CONTRANDIFE.

**33) Os veículos de propriedade da União, dos Estados e do Distrito Federal, devidamente registrados e licenciados, ou aqueles sob posse dos órgãos de segurança pública, somente quando estritamente usados em serviço reservado de caráter policial, poderão usar placas particulares, obedecidos os critérios e os limites estabelecidos pela legislação que regula o uso de veículo oficial. Esta é uma informação:**

- (A) Falsa.
- (B) Verídica.
- (C) Contrafeita.
- (D) Ilusória.
- (E) Enganosa.

**34) As motocicletas e motonetas destinadas ao transporte remunerado de mercadorias – moto-frete, somente poderão circular nas vias com autorização emitida pelo órgão ou entidade executiva de trânsito dos Estados e do Distrito Federal, exigindo-se, para tanto:**

- (A) Registro como veículo da categoria de carga.
- (B) Inspeção anual para verificação dos equipamentos obrigatórios e de segurança.
- (C) Instalação de protetor utricular sistematizado para o piloto.
- (D) Instalação de protetor de tanque mata-gato, fixado no guidão do veículo, destinado a proteger o motor e a perna do condutor em caso de tombamento, nos termos de regulamentação do Conselho Nacional de Trânsito.
- (E) Instalação de aparador de linha antena corta-pipas.

**35) No processo de habilitação e as normas relativas à aprendizagem para conduzir veículos automotores e à autorização para conduzir ciclomotores, a graduação na Categoria B corresponde:**

- (A) Condutor de veículo motorizado de duas ou três rodas, com ou sem carro lateral.
- (B) Condutor de veículo motorizado, cujo peso bruto total não exceda a três mil e quinhentos quilogramas e cuja lotação não exceda a oito lugares, excluído o do motorista.
- (C) Condutor de veículo motorizado utilizado em transporte de carga cujo peso bruto total exceda a 3.500 kg (três mil e quinhentos quilogramas).
- (D) Condutor de veículo motorizado utilizado no transporte de passageiros cuja lotação exceda a 8 (oito) lugares, excluído o do motorista.
- (E) Condutor de combinação de veículos cuja unidade acoplada, reboque, semi-reboques, trailer ou articulada tenha 6.000 kg (seis mil quilogramas) ou mais de peso bruto total, ou cuja lotação exceda a 8 (oito) lugares.

**36) Na renovação da CNH – Carteira Nacional de Habilitação. O exame de aptidão física e mental, a ser realizado no local de residência ou domicílio do examinado, será preliminar e renovável com a seguinte periodicidade:**

- I - A cada 3 (três) anos, para condutores com idade igual ou superior a 70 (setenta) anos.**
- II - A cada 5 (cinco) anos, para condutores com idade igual ou superior a 50 (cinquenta) anos e inferior a 70 (setenta) anos.**
- III - A cada 10 (dez) anos, para condutores com idade inferior a 50 (cinquenta) anos.**
- IV - A cada 3 (três) anos, para condutores com idade igual ou superior a 50 (cinquenta) anos e inferior a 70 (setenta) anos.**
- V - A cada 2 (dois) anos, para condutores com idade igual ou superior a 80 (oitenta) anos.**

**Analisando as assertivas acima, se conclui que:**

- (A) Somente I e II estão corretas.
- (B) Somente III e IV estão corretas.
- (C) Somente I, II e III estão corretas.
- (D) Somente I, II, III e V estão corretas.
- (E) Somente IV e V estão corretas.

**37) CTB: Código de Trânsito Brasileiro. O \_\_\_\_\_ fixará os requisitos mínimos e a forma de proteção das cargas de veículos, de acordo com a sua natureza. Escolha a opção que preenche a lacuna:**

- (A) DETRAN.
- (B) CONTRAN.
- (C) CONAMA.
- (D) IAT.
- (E) IAPAR.

**38) Dirigir veículo ameaçando os pedestres que estejam atravessando a via pública, ou os demais veículos, constitui infração de natureza:**

- (A) Média.
- (B) Grave.
- (C) Gravíssima.
- (D) Gravíssima com seu valor multiplicado por três vezes.
- (E) Gravíssima com seu valor multiplicado por cinco vezes.

**39) Dirigir veículo, com Carteira Nacional de Habilitação, Permissão para Dirigir ou Autorização para Conduzir Ciclomotor cassada ou com suspensão do direito de dirigir, constitui infração de natureza:**

- (A) Leve.
- (B) Média.
- (C) Grave.
- (D) Gravíssima.
- (E) Gravíssima com seu valor multiplicado por três vezes.

**40) O \_\_\_\_\_ deverá especificar os procedimentos e a periodicidade para que os fabricantes, os importadores, os montadores e os encarroçadores comprovem o atendimento aos requisitos de segurança veicular, devendo, para isso, manter disponíveis a qualquer tempo os resultados dos testes e ensaios dos sistemas e componentes abrangidos pela legislação de segurança veicular. Escolha a opção que preenche a lacuna:**

- (A) CONTRAN.
- (B) DETRAN.
- (C) DINIT.
- (D) CISAN.
- (E) CONSAN.