

Uma das últimas condenadas por crimes na Alemanha nazi morre aos 99 anos

A antiga secretária do campo de concentração de Stutthof, uma das últimas pessoas a ser condenada por crimes na Alemanha nazi, morreu aos 99 anos, anunciou hoje o tribunal onde foi julgada. Acusada de cumplicidade no assassinio de mais de 10.000 pessoas no campo de Stutthof, na atual Polónia perto de Gdansk (Danzig na altura), Irmgard Furchner foi condenada no final de dezembro de 2022 pelo tribunal de Itzehoe (norte da Alemanha) a uma pena de dois anos de prisão suspensa, sentença confirmada em recurso em agosto de 2024.

Uma porta-voz do tribunal de Itzehoe confirmou à AFP que Furchner tinha morrido, conforme noticiado inicialmente pelo Schleswig-Holsteinische Zeitungsverlag (SHZ), um grupo de jornais locais do norte da Alemanha.

Com 18 anos de idade no início dos acontecimentos (1943) e 19 anos no final (1945), Furchner era dactilógrafa e secretária de Paul Werner Hoppe, comandante do campo de Stutthof, onde pereceram cerca de 65.000 pessoas, na sua maioria judeus, guerrilheiros polacos e prisioneiros de guerra soviéticos.

Devido à sua idade na altura dos acontecimentos, foi julgada por um tribunal especial de menores. A pena suspensa de dois anos teve em conta “a posição subordinada da arguida e a sua eventual reduzida capacidade de resistência devido à doutrinação” da época. A sua defesa tinha apresentado um recurso, que foi rejeitado pelo Supremo Tribunal, com o fundamento de que não era claro nem estava provado que tivesse conhecimento do que se passava no campo, ou que o seu trabalho colaborasse num processo de assassinio sistemático.

Irmgard Furchner não falou durante o julgamento nem admitiu qualquer culpa, mas nas últimas audiências disse estar “arrependida de tudo o que aconteceu” e “lamentou ter estado em Stutthof nessa altura”. No primeiro dia do seu julgamento, não compareceu em tribunal, fugindo sozinha do lar de idosos onde residia, sendo encontrada algumas horas mais tarde.

O caso Furchner reavivou a questão de saber por que razão a justiça alemã demorou tanto tempo a levar ao tribunal os cúmplices dos crimes cometidos pelo nacional-socialismo. Um acórdão do Supremo Tribunal de 1969 - já antes tinham sido proferidas algumas condenações relacionadas com o Holocausto - dificultou a acusação dos autores dos crimes, exigindo que estes provassem a sua cumplicidade em casos específicos e demonstrassem a relação de causalidade entre as suas ações e os crimes.

Isto levou a que vários processos fossem arquivados, incluindo contra guardas que tinham participado na seleção na rampa de Auschwitz (local à chegada do campo de concentração onde as pessoas eram selecionadas). Uma nova reviravolta na doutrina jurídica surgiu em 2011, quando John Demjanjuk, um antigo guarda de Sobibor, foi condenado por cumplicidade em 28.000 casos de homicídio sem prova de um nexo de causalidade entre as suas ações e as mortes.

Mais tarde, numa revisão de outra condenação contra um guarda de Auschwitz Oskar Groning, o Supremo decidiu que era suficiente que o arguido tivesse feito parte da máquina da morte e que tivesse ajudado, com o seu trabalho, a perpetrar um grande número de assassinios num curto espaço de tempo. Desde então, houve mais de uma dúzia de julgamentos de pessoas idosas em que as antigas vítimas testemunharam sobre os crimes.

Em junho de 2024, o tribunal de Hanau, perto de Frankfurt, recusou a comparência de um antigo guarda do campo de Sachsenhausen, de 99 anos, que foi considerado incapaz de comparecer no julgamento por razões de saúde.

Fonte: [Uma das últimas condenadas por crimes na Alemanha nazi morre aos 99 anos - CNN Portugal](#)

01) Com base nas informações do texto e nas relações existentes entre as partes que o compõem, assinale a alternativa INCORRETA:

- (A) Uma antiga secretária de um campo de concentração nazista morreu aos 99 anos.
- (B) No campo de Stutthof, pereceram judeus, guerrilheiros polacos e prisioneiros de guerra soviéticos.
- (C) Irmgard Furchner foi condenada em 1969 por cumplicidade no assassinio de mais de 10.000 pessoas no campo de Stutthof.
- (D) Irmgard Furchner fugiu do lar de idosos onde residia no primeiro dia do seu julgamento.
- (E) Após 2011, a justiça alemã teve uma reviravolta nos julgamentos de crimes cometidos pelo nacional-socialismo.

02) Assinale a alternativa cuja divisão silábica da palavra esteja INCORRETA:

- (A) E-ven-tu-al.
- (B) Mo-rri-do.
- (C) Pro-ces-so.
- (D) Tra-ba-lho.
- (E) So-zi-nha.

03) Assinale a alternativa cuja palavra NÃO seja proparoxítona:

- (A) Últimos.
- (B) Época.
- (C) Cúmplices.
- (D) Homicídio.
- (E) Máquina.

04) Assinale a alternativa que apresente termo que possa substituir o termo em destaque no período, mantendo as mesmas relações de sentido no texto: Irmgard Furchner não falou durante o julgamento nem admitiu qualquer culpa, mas nas últimas audiências disse estar “arrependida de tudo o que aconteceu” e “lamentou ter estado em Stutthof nessa altura”.

- (A) Porém.
- (B) Para.
- (C) Logo.
- (D) Ademais.
- (E) Após.

05) Assinale a alternativa que apresente a classe morfológica do termo em destaque no período: No primeiro dia do seu julgamento, não compareceu em tribunal, fugindo sozinha do lar de idosos onde residia, sendo encontrada algumas horas mais tarde.

- (A) Substantivo.
- (B) Verbo.
- (C) Pronome.
- (D) Adjetivo.
- (E) Preposição.

06) Assinale a alternativa que apresente a justificativa correta para o uso da crase no período: Uma porta-voz do tribunal de Itzehoe confirmou à AFP que Furchner tinha morrido, conforme noticiado inicialmente pelo Schleswig-Holsteinische Zeitungsverlag (SHZ), um grupo de jornais locais do norte da Alemanha.

- (A) Locução Prepositiva.
- (B) Regência Verbal.
- (C) Locução Adverbial.
- (D) Locução Conjuntiva.
- (E) Regência Nominal.

07) Assinale a alternativa cuja palavra possua prefixo:

- (A) Arquivados.
- (B) Condenados.
- (C) Incapaz.
- (D) Inicialmente.
- (E) Julgada.

MATEMÁTICA

08) A tabela seguinte descreve o salário dos colaboradores da Empresa X:

Quantidade de Salários Mínimos	Número de Colaboradores
1 /--- 3	30
3 /--- 5	20
5 /--- 7	10
7 /--- 9	10
Total	70

Com base nos dados da tabela, a média salarial em salários mínimos é igual a:

- (A) 2.
- (B) 3.
- (C) 4.
- (D) 5.
- (E) 6.

09) Os dados da tabela seguinte mostram a evolução de vendas de uma loja virtual entre os meses de abril e julho:

abril	maio	junho	julho	agosto
R\$10.000,00	R\$12.000,00	R\$14.400,00	R\$17.280,00	?????

Analisando a evolução das vendas, foi observado que ela segue um padrão de crescimento, supondo que este padrão permaneça para o próximo mês, em agosto as vendas devem chegar a:

- (A) R\$ 19.688,00.
- (B) R\$ 19.926,00.
- (C) R\$ 20.238,00.
- (D) R\$ 20.736,00.
- (E) R\$ 21.202,00.

10) Em um curso semestral, um aluno realiza três avaliações, sendo que a 1ª e a 3ª tem peso igual, a 4ª e a 2ª peso igual a 2. Este aluno já realizou a 1ª e a 2ª avaliação com notas respectivamente iguais a 60 e 70. Para ser aprovado no curso, sua média final deve ser igual ou superior a 65 pontos. Com base nestas informações, a nota mínima para ser aprovado neste curso na 3ª prova de ser de:

- (A) 57,0.
- (B) 60,5.
- (C) 65,0.
- (D) 67,5.
- (E) 80,0.

11) Dona Maria resolveu vender bolinhos de carne para obter um ganho extra e ajudá-la em suas despesas mensais, comprou os ingredientes e fez exatamente 64 bolinhos, cada um deles pesando exatas 80 gramas. Ela pretende vender cada um pelo valor de R\$ 4,00. Com base nos dados apresentados, a quantidade em quilos da receita preparada por Dona Maria é igual a:

- (A) 4,160 Kg.
- (B) 4,840 Kg.
- (C) 5,120 Kg.
- (D) 5,320 Kg.
- (E) 5,760 Kg.

12) Um associado do Clube Campos Verdes não pagou a parcela bimestral que dá direito a utilização da estrutura do clube por um período de três anos. Considerando este período, o total de parcelas atrasadas é igual a:

- (A) 6.
- (B) 8.
- (C) 12.
- (D) 18.
- (E) 24.

13) Um vendedor de baterias automotivas recebe um salário fixo de R\$ 2.500,00 mais R\$ 35,00 por cada bateria que vende ao longo do mês. Se seu salário em um determinado mês foi de R\$ 4.145,00, a quantidade de baterias vendidas neste mês corresponde a:

- (A) 38.
- (B) 41.
- (C) 43.
- (D) 45.
- (E) 47.

14) Um painel de um metro quadrado vai ser utilizado para colocar fotos. Todas as fotos tem a mesma dimensão de 10 x 10 centímetros. Considerando estes dados, a quantidade de fotos que cabem neste painel é igual a:

- (A) 100.
- (B) 50.
- (C) 25.
- (D) 20.
- (E) 10.

CONHECIMENTOS GERAIS

15) Preencha as lacunas e assinale a alternativa com a sequência correta.

O nome do município de Porto Barreiro, faz referência a dois distritos. O primeiro era _____, um porto fluvial utilizado principalmente para uma balsa que conectava o distrito com a região sudoeste. O segundo era _____, local lamacento que a fauna utilizava para acessar água.

- (A) Porto Alegre/Lagoa dos Patos.
- (B) Porto Dom Pedro II/mangue Valadares.
- (C) Porto Amazonas/Banhado.
- (D) Porto Santana/Barreirinho.
- (E) Porto Morretes/Barreado.

16) Porto Barreiro está localizado no estado do Paraná, região Sul do Brasil. O município integra um bioma conhecido por sua biodiversidade e por ser um dos mais ameaçados do país, caracterizado por florestas densas e espécies endêmicas. Qual das alternativas abaixo se refere a este bioma?

- (A) Cerrado.
- (B) Mata Atlântica.
- (C) Pantanal.
- (D) Caatinga.
- (E) Pampa.

17) O município de Porto Barreiro já foi sede do evento denominado "Caminhada da Natureza", que promove o ecoturismo e o respeito ao meio ambiente. Qual das alternativas abaixo se refere a uma área de preservação localizada em Porto Barreiro?

- (A) Parque Nacional do Iguaçu.
- (B) Reserva Biológica das Araucárias do Instituto Chico Mendes.
- (C) Parque Natural Professor Léo Wobeto.
- (D) Parque Estadual da Cabeça do Cachorro.
- (E) Estação Ecológica de Guaraqueçaba.

18) O agronegócio brasileiro é vital para a balança comercial, sendo o país um dos maiores exportadores de grãos do mundo. Qual das alternativas abaixo se refere ao porto brasileiro responsável pelo maior volume de exportação de soja e milho no último ano?

- (A) Porto de Santos.
- (B) Porto de Paranaguá.
- (C) Porto do Rio de Janeiro.
- (D) Porto de Itajaí.
- (E) Porto de São Francisco do Sul.

19) Em 2025, o cacique _____, líder Kayapó conhecido pela sua luta pela preservação da Amazônia e dos povos indígenas, encontrou-se com o presidente Lula e o aconselhou para que não explorassem petróleo na Margem Equatorial, especialmente na região em frente à foz do _____. O diálogo demonstra a tensão entre o discurso ambiental de proteção às florestas e aos povos originários e o desenvolvimentismo econômico quem marca os governos petistas.

- (A) Ângelo Kretã/rio Iguaçu.
- (B) Raoni Metuktire/rio Amazonas.
- (C) Davi Kopenawa/rio Tietê.
- (D) Jacir Macuxi/rio Paraguai.
- (E) Ailton Krenak/rio São Francisco.

20) Pioneira do rock brasileiro, integrou o grupo Os Mutantes e destacou-se também como compositora na Jovem Guarda. Conhecida como "Rainha do Rock", é autora de hits como "Ovelha Negra". Qual das alternativas abaixo se refere a essa artista?


- (A) Gal Costa.
- (B) Marisa Monte.
- (C) Elis Regina.
- (D) Cássia Eller.
- (E) Rita Lee.

CONHECIMENTOS ESPECÍFICOS

21) No acabamento final de estradas rurais não pavimentadas, após o uso da motoniveladora, qual a opção mais adequada?

- (A) Rolo liso.
- (B) Rolo pé de carneiro.
- (C) Rolo pneumático.
- (D) Rolo sistemático.
- (E) Rolo síntese.

22) Em rolo compactador o que representa o seguinte símbolo (luz acesa no painel)?



- (A) Temperatura do óleo hidráulico.
- (B) Pressão de óleo da transmissão.
- (C) Temperatura do líquido de arrefecimento do motor.
- (D) Filtro de ar do motor.
- (E) Filtro do óleo do motor.

23) Há necessidade de um operador de rolo compactador utilizar o cinto de segurança enquanto opera uma máquina?

- (A) Não.
- (B) Sim.
- (C) Depende do local.
- (D) Somente à noite.
- (E) Somente de dia.

24) O que indica o seguinte símbolo?



- (A) Curva acentuada à esquerda.
- (B) Curva à esquerda.
- (C) Pista sinuosa à esquerda.
- (D) Curva acentuada em "S" à esquerda.
- (E) Curva em "S" à esquerda.

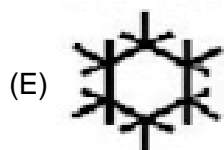
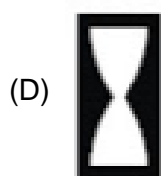
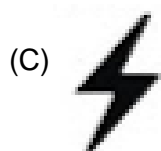
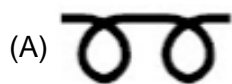
25) Qual dos seguintes símbolos indica o “peso bruto total máximo permitido”?



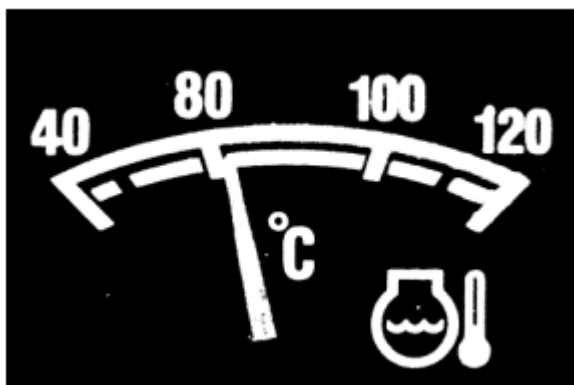
26) CTB – Código de Trânsito Brasileiro. Qual a definição de VEÍCULO ESPECIAL?

- (A) Veículo misto caracterizado pela versatilidade do seu uso, inclusive fora de estrada.
- (B) Combinação de veículos acoplados, sendo um deles automotor.
- (C) Veículo a motor de propulsão a combustão, elétrica ou híbrida que circula por seus próprios meios e que serve normalmente para o transporte viário de pessoas e coisas ou para a tração viária de veículos utilizados para o transporte de pessoas e coisas, compreendidos na definição os veículos conectados a uma linha elétrica e que não circulam sobre trilhos (ônibus elétrico).
- (D) Veículo destinado ao transporte de carga, podendo transportar dois passageiros, exclusive o condutor.
- (E) Veículo de passageiro, de carga, de tração, de coleção ou misto que possui características diferenciadas para realização de função especial para a qual são necessários arranjos específicos da carroceria e/ou equipamento.

27) Sobre a simbologia maquinária, qual dos seguintes símbolos indica velocidade baixa?



28) Em Rolos Compactador o seguinte símbolo indica?



- (A) As horas trabalhadas.
- (B) As rotações por minuto desenvolvida pelo motor.
- (C) O nível de combustível dentro do tanque.
- (D) A pressão do óleo do motor.
- (E) A temperatura do motor e seu líquido de arrefecimento.

29) São procedimentos em hemorragia interna:

- (A) Ajude a vítima a se deitar com a cabeça mais baixa que o resto do corpo, exceto quando houver suspeita de traumatismo craniano e fraturas nos membros inferiores.
- (B) Aperte a roupa da vítima.
- (C) Aplique compressas quentes no local da hemorragia.
- (D) Mantenha as vias respiratórias obstruídas e cheque a respiração e a pulsação a cada minuto.
- (E) Permita que a vítima se mova, coma, beba ou fume. O atendimento por profissional de saúde é indispensável.

30) Ao veículo ou à combinação de veículos utilizados no transporte de carga que não se enquadre nos limites de peso e dimensões estabelecidos pelo CONTRAN, poderá ser concedida, pela autoridade com circunscrição sobre a via, autorização especial de trânsito, com prazo certo, válida para cada viagem ou por período, atendidas as medidas de segurança consideradas necessárias, conforme regulamentação do:

- (A) DETRAN.
- (B) CONTRAN.
- (C) DENATRAN.
- (D) CETRAN.
- (E) CONTRANDIFE.

31) São equipamentos obrigatórios em veículos automotores:

I - Cinto de segurança, com exceção dos veículos destinados ao transporte de passageiros em percursos em que seja permitido viajar em pé.

II - Para os veículos de transporte e de condução escolar, os de transporte de passageiros com mais de dez lugares e os de carga com peso bruto total superior a quatro mil, quinhentos e trinta e seis quilogramas, equipamento registrador instantâneo inalterável de velocidade e tempo.

III - Encosto de cabeça, para todos os tipos de veículos automotores.

IV - Dispositivo destinado ao controle de emissão de gases poluentes e de ruído.

V - Equipamento suplementar de retenção - air bag frontal para o condutor e o passageiro do banco dianteiro.

Analisando as assertivas acima, se conclui que:

- (A) Somente I e II estão corretas.
- (B) Somente III e IV estão corretas.
- (C) Somente I, II e III estão corretas.
- (D) Somente II, III, IV e V estão corretas.
- (E) Todas estão corretas.

32) Os tratores e demais aparelhos automotores destinados a puxar ou a arrastar maquinaria agrícola ou a executar trabalhos agrícolas, desde que facultados a transitar em via pública, são sujeitos ao registro único, sem ônus, em cadastro específico do Ministério da Agricultura e Pecuária, acessível aos componentes do Sistema Nacional de Trânsito. Esta é uma informação:

- (A) Falsa.
- (B) Verdica.
- (C) Contrafeita.
- (D) Ilusória.
- (E) Enganosa.

33) O processo de habilitação e as normas relativas à aprendizagem para conduzir veículos automotores e à autorização para conduzir ciclomotores serão regulamentados pelo CONTRAN, a graduação na Categoria A corresponde:

- (A) Condutor de veículo motorizado de duas ou três rodas, com ou sem carro lateral.
- (B) Condutor de veículo motorizado, cujo peso bruto total não exceda a três mil e quinhentos quilogramas e cuja lotação não exceda a oito lugares, excluído o do motorista.
- (C) Condutor de veículo motorizado utilizado em transporte de carga cujo peso bruto total exceda a 3.500 kg (três mil e quinhentos quilogramas).
- (D) Condutor de veículo motorizado utilizado no transporte de passageiros cuja lotação exceda a 8 (oito) lugares, excluído o do motorista.
- (E) Condutor de combinação de veículos cuja unidade acoplada, reboque, semi-reboques, trailer ou articulada tenha 6.000 kg (seis mil quilogramas) ou mais de peso bruto total, ou cuja lotação exceda a 8 (oito) lugares.

34) O veículo será identificado obrigatoriamente por caracteres gravados no _____ ou no _____, reproduzidos em outras partes, conforme dispuser o CONTRAN. Escolha as opções que preenchem corretamente as lacunas deixadas no texto:

- (A) Chassi, monobloco.
- (B) Carter, virabrequim.
- (C) Monobloco, Carter.
- (D) Chassi, aerofólio.
- (E) Monobloco, aerofólio.

35) A habilitação para conduzir veículo automotor será apurada por meio de exames que deverão ser realizados no órgão ou entidade executivos do Estado ou do Distrito Federal, do domicílio ou residência do candidato, ou na sede estadual ou distrital do próprio órgão, e o condutor deverá preencher os seguintes requisitos:

- I - Ser penalmente inimputável.**
- II - Não saber ler e escrever.**
- III - Ser maior de dezesseis anos.**
- IV - Ser penalmente imputável.**
- V - Possuir Carteira de Identidade ou equivalente.**

Analisando as assertivas acima, se conclui que:

- (A) Somente I e II estão corretas.
- (B) Somente III e IV estão corretas.
- (C) Somente I, II e III estão corretas.
- (D) Somente I, II, III e V estão corretas.
- (E) Somente IV e V estão corretas.

36) O processo de habilitação e as normas relativas à aprendizagem para conduzir veículos automotores e à autorização para conduzir ciclomotores serão regulamentados pelo:

- (A) DETRAN.
- (B) CONTRAN.
- (C) DENATRAN.
- (D) CETRAN.
- (E) CONTRANDIFE.

37) Na renovação da CNH – Carteira Nacional de Habilitação, o exame de aptidão física e mental, a ser realizado no local de residência ou domicílio do examinado, será preliminar e renovável com a seguinte periodicidade:

- (A) A cada 8 (oito) anos, para condutores com idade inferior a 50 (cinquenta) anos.
- (B) A cada 6 (seis) anos, para condutores com idade igual ou superior a 50 (cinquenta) anos e inferior a 70 (setenta) anos.
- (C) A cada 3 (três) anos, para condutores com idade igual ou superior a 70 (setenta) anos.
- (D) A cada 3 (três) anos, para condutores com idade igual ou superior a 50 (cinquenta) anos e inferior a 70 (setenta) anos.
- (E) A cada 2 (dois) anos, para condutores com idade igual ou superior a 80 (oitenta) anos.

38) Dirigir veículo, sem possuir Carteira Nacional de Habilitação, Permissão para Dirigir ou Autorização para Conduzir Ciclomotor, constitui infração de natureza:

- (A) Leve.
- (B) Média.
- (C) Grave.
- (D) Gravíssima.
- (E) Gravíssima com seu valor multiplicado por três vezes.

39) Usar o veículo para arremessar, sobre os pedestres ou veículos, água ou detritos, constitui infração de natureza:

- (A) Média.
- (B) Grave.
- (C) Gravíssima.
- (D) Gravíssima com seu valor multiplicado por três vezes.
- (E) Gravíssima com seu valor multiplicado por cinco vezes.

40) Atirar do veículo ou abandonar na via objetos ou substâncias, constitui infração de natureza:

- (A) Média.
- (B) Grave.
- (C) Gravíssima.
- (D) Gravíssima com seu valor multiplicado por três vezes.
- (E) Gravíssima com seu valor multiplicado por cinco vezes.