

**INSTITUTO DE PREVIDÊNCIA DO
MUNICÍPIO DE SÃO BERNARDO DO CAMPO
SBCPREV**

CONCURSO PÚBLICO

002. PROVA OBJETIVA

ANALISTA PREVIDENCIÁRIO – CONTADOR

- ◆ Você recebeu sua folha de respostas e este caderno contendo 50 questões objetivas.
- ◆ Confira seus dados impressos na capa deste caderno e na folha de respostas.
- ◆ Quando for permitido abrir o caderno, verifique se está completo ou se apresenta imperfeições. Caso haja algum problema, informe ao fiscal da sala para a devida substituição deste caderno.
- ◆ Leia cuidadosamente todas as questões e escolha a resposta que você considera correta.
- ◆ Marque, na folha de respostas, com caneta de tinta preta, a letra correspondente à alternativa que você escolheu.
- ◆ A duração da prova é de 3 horas, já incluído o tempo para o preenchimento da folha de respostas.
- ◆ Só será permitida a saída definitiva da sala e do prédio após transcorridos 75% do tempo de duração da prova.
- ◆ Ao sair, você entregará ao fiscal a folha de respostas e este caderno.
- ◆ Deverão permanecer em cada uma das salas de prova os 3 últimos candidatos, até que o último deles entregue sua prova e assine o termo respectivo.
- ◆ Até que você saia do prédio, todas as proibições e orientações continuam válidas.

AGUARDE A ORDEM DO FISCAL PARA ABRIR ESTE CADERNO.

Nome do candidato _____

RG _____

Inscrição _____

Prédio _____

Sala _____

Carteira _____

CONHECIMENTOS GERAIS

LÍNGUA PORTUGUESA

Leia o texto para responder às questões de números **01** a **06**.

Por vezes assalta-me a sensação de que estou me esquecendo da realidade com a mesma rapidez com que me esqueço dos sonhos. Começa a ser difícil saber se estou me esquecendo de um sonho ou da realidade.

Acontece-me, por exemplo, assistir a um filme e, no meio, descobrir que já o vi antes. Com os livros de ficção, isso nunca me aconteceu, o que me leva a supor que a leitura implique uma mobilização mais profunda de certas áreas do cérebro. Faz sentido, na medida em que ao lermos um romance somos convidados a recriá-lo, imaginando o rosto dos personagens, e uma larga parte dos cenários e das situações. Cada leitor rescreve o romance que está lendo.

O problema é que aquilo que me acontece com os filmes também ocorre com as pessoas. Encontro com alguém num casamento, começamos a conversar, e só quando a festa se aproxima do fim é que o reconheço.

Pode ser que o problema não seja meu, e sim do cinema que se faz hoje – e da atual humanidade. Talvez eu julgue estar revendo um filme, e seja um outro; no entanto, os enredos, o estilo, os cenários, é tudo tão parecido que muito antes do final eu já conheço o desfecho.

Para funcionar, da forma mais eficiente possível, um exército começa por uniformizar os seus soldados; ou seja, por lhes retirar a individualidade. As nossas sociedades tecnológicas estão fazendo o mesmo a um nível mais íntimo e profundo. Acho isso assustador.

Fico feliz quando encontro um filme (ou uma pessoa) capaz de me surpreender, como “Dias perfeitos”, de Wim Wenders, que acompanha o cotidiano de um homem de meia-idade, Hirayama, responsável pela limpeza de banheiros públicos em Tóquio. Hirayama cumpre a sua tarefa com extraordinário zelo e dedicação.

Na sua aparente simplicidade, Hirayama distingue-se de quem o rodeia. Não é uniformizável. O faxineiro erudito de Wim Wenders é um colecionador de pequenos espantos, de fulgores e de momentos únicos. É um colecionador de vida. Pessoas e personagens assim são inconfundíveis e inesquecíveis. Precisamos deles para travar a uniformização do mundo e ressuscitar a alegria e o espanto.

(José Eduardo Agualusa. A vida ambiciona o espanto. <https://oglobo.globo.com>, 03.02.2024. Adaptado)

01. A partir da leitura do texto, é correto afirmar que seu autor considera que

- (A) a repetição de elementos de certas obras audiovisuais o aborrece por evidenciar suas próprias expectativas e níveis de cobrança.
- (B) a tendência a uma homogeneização observada na sociedade é algo a ser combatido ainda que pelo uso de narrativas ficcionais.
- (C) o filme do alemão Wim Wenders chamou-lhe atenção por retratar um faxineiro de banheiros japoneses que não trajava uma roupa padronizada.
- (D) a sua dificuldade em reconhecer pessoas é um reflexo da produção desenfreada e pouco inovadora da indústria cinematográfica.
- (E) a leitura de obras literárias supera o consumo de material audiovisual devido à possibilidade de manipular histórias segundo os próprios anseios.

02. Ao tratar do filme de Wim Wenders, é correto afirmar que o autor emprega

- (A) vocabulário simples de modo a reproduzir em seu próprio texto a frugalidade da vida de Hirayama.
- (B) adjetivação elogiosa para levar o leitor a crer que a apreciação do filme é isenta de marcas de subjetividade.
- (C) vocábulos em sentido figurado, garantindo que o seu leitor construirá uma imagem objetiva do faxineiro de Wim Wenders.
- (D) formas verbais no presente do indicativo para descrever fatos que se observam na obra e características de um personagem.
- (E) relações de oposição que permitem traçar um paralelo entre o faxineiro Hirayama e a população cosmopolita de Tóquio.

03. No trecho “Precisamos deles para **travar** a uniformização do mundo...” (7º parágrafo), o vocábulo destacado pode ser substituído, sem prejuízo do sentido, por:

- (A) empreender.
- (B) perfazer.
- (C) coibir.
- (D) perscrutar.
- (E) balizar.

04. As vírgulas em “... os enredos, o estilo, os cenários, é tudo tão parecido que muito antes do final eu já conheço o desfecho” (4º parágrafo) foram empregadas pelo mesmo motivo que no trecho:

- (A) Com os livros de ficção, isso nunca me aconteceu, o que me leva a supor que a leitura implique... (2º parágrafo)
- (B) Para funcionar, da forma mais eficiente possível, um exército começa por uniformizar os seus soldados... (5º parágrafo)
- (C) Fico feliz quando encontro um filme (ou uma pessoa) capaz de me surpreender, como “Dias perfeitos”, de Wim Wenders... (6º parágrafo)
- (D) ... que acompanha o cotidiano de um homem de meia-idade, Hirayama, responsável pela limpeza de banheiros públicos em Tóquio. (6º parágrafo)
- (E) O faxineiro erudito de Wim Wenders é um colecionador de pequenos espantos, de fulgores e de momentos únicos. (7º parágrafo)

05. No trecho “Faz sentido, **na medida em que** ao lermos um romance somos convidados a recriá-lo...” (2º parágrafo), a expressão destacada estabelece relação de sentido de

- (A) condição.
- (B) explicação.
- (C) concessão.
- (D) proporção.
- (E) conclusão.

06. Assinale a alternativa em que a expressão destacada substitui, sem prejuízo do sentido e da correção gramatical, o que está entre colchetes.

- (A) Por vezes **assalta-me a** sensação de que estou me esquecendo da realidade... [consome-me pela] – 1º parágrafo.
- (B) ... o que me leva a supor que a leitura **implique uma** mobilização mais profunda... [acarrete numa] – 2º parágrafo.
- (C) **Encontro com** alguém num casamento, começamos a conversar, e só quando a festa se aproxima do fim é que o reconheço. [Deparo a] – 3º parágrafo.
- (D) ... os enredos, o estilo, os cenários, é tudo tão parecido que muito antes do final eu já **conheço o** desfecho. [sei do] – 4º parágrafo.
- (E) ... um exército começa por uniformizar os seus soldados; ou seja, por lhes **retirar a** individualidade. [apartar da] – 5º parágrafo.

Leia o texto para responder às questões de números 07 a 09.

Feições geológicas no subsolo do centro de São Paulo indicam que houve um terremoto de grande magnitude há pelo menos 2,5 milhões de anos – bem pouco tempo do ponto de vista geológico. Um trabalho recente, publicado por pesquisadores da Universidade de São Paulo (USP) e da Universidade Federal do ABC (UFABC), é o primeiro a documentar registros de abalos sísmicos de magnitude tão alta na região.

O estudo revela que pelo menos um grande terremoto ocorreu na região, alcançando magnitude de no mínimo 6 graus na escala Richter – o que seria suficiente para destruir boa parte do centro da cidade se ocorresse nos dias de hoje.

Os pesquisadores não sabem exatamente o que pode ter causado terremoto tão intenso na capital paulista, mas uma das principais suspeitas é de que tenha sido provocado pela queda de um meteorito.

Os bairros de Colônia e Vargem Grande foram erguidos na região onde o meteorito teria caído. Apenas na década de 1960, imagens aéreas e de satélite revelaram a cratera. Pela análise das bordas e dos sedimentos do fundo do grande buraco, é possível dizer que ele foi causado pela queda de um meteorito.

A outra hipótese levantada pelos pesquisadores é de que o terremoto tenha sido causado por atividade tectônica. Contudo, os abalos sísmicos são raros por aqui, pois o Brasil está localizado bem no centro da placa Sul-Americana. Terremotos são muito mais frequentes em regiões onde placas diferentes se encontram justamente porque há o risco de choque entre elas. É o caso de países como o Chile ou o Japão.

Entretanto, os cientistas alertam para a possibilidade de tremores também em outras áreas pela simples movimentação das placas. Se foi essa movimentação que provocou os abalos sísmicos, existe um risco, ainda que remoto, de ela acontecer novamente na região.

(Roberta Jansen. *O que cientistas descobriram sobre grande terremoto que atingiu área da cidade de São Paulo?* www.estadao.com.br, 11.02.2024.

Adaptado)

07. Assinale a alternativa que contém afirmação correta quanto ao que foi tratado no texto.

- (A) O caráter de ineditismo do estudo permitiu aos pesquisadores determinar a ocorrência de movimentação de placa tectônica no Brasil.
- (B) A hipótese de novos tremores de alta magnitude em território brasileiro está afastada caso se determine que um meteorito caiu na região.
- (C) A ocorrência de abalo sísmico na capital paulista foi objeto de uma pesquisa, que não foi conclusiva acerca do fenômeno que o motivou.
- (D) A baixa ocorrência de sismos onde hoje é a cidade de São Paulo explica por que os pesquisadores demoraram tanto para estudar o fenômeno.
- (E) O vale criado pelo possível impacto de um meteorito propiciaram condições favoráveis para a ocupação da área que hoje corresponde a dois bairros.

08. No trecho “**Por meio da** análise das bordas e dos sedimentos do fundo do grande buraco, é possível dizer...”, a expressão destacada pode ser substituída, sem prejuízo do sentido e da correção gramatical, por:
- (A) Mediante a
 - (B) Perante à
 - (C) Pela a
 - (D) Consoante a
 - (E) Face à
09. No trecho “Terremotos são **muito** mais frequentes em regiões onde placas diferentes se encontram...” (6º parágrafo), o vocábulo **muito** pertence à mesma classe de palavras que o destacado em:
- (A) Certos cataclismos ocorreram na Terra **muito** antes de existir qualquer sinal de civilização.
 - (B) **Muito** do que se acreditava ser apenas um relevo atípico esconde uma história muito antiga.
 - (C) Requer-se **muito** estudo para conseguir determinar a idade geológica de certas formações.
 - (D) A intensa atividade das placas tectônicas moldou **muito** do relevo de lugares por onde passamos.
 - (E) Há descobertas que deixam pesquisadores com o sentimento de que eles já realizaram **muito** na vida.
10. Assinale a alternativa em que a frase está em conformidade com a norma-padrão de concordância e de emprego do acento indicativo de crase.
- (A) Duas milhares de pessoas foram vitimadas por um terremoto em Marrocos e muitas outras ficaram à espera de socorro.
 - (B) Uma pesquisa identificou distintos traços geológicos na cidade de São Paulo e os divulgaram à comunidade científica.
 - (C) Apresentaram-se à comunidade científica o grupo que descobriu a cratera e as hipóteses por ele desenvolvidas.
 - (D) Muitos se perguntam se há chances de um novo meteoro atingir à Terra e qual seriam suas consequências.
 - (E) A intensidade de certos eventos naturais moldou muito do relevo das cidades e deixou muito à ser desvendado.
11. No ano de 2023, Carlos e Luiz leram um mesmo livro, tendo começado essa leitura em dias diferentes, cada um lendo cada página do livro uma única vez. Carlos leu diariamente do dia 10 de janeiro em diante, de maneira que nos 23 primeiros dias ele leu 15 páginas por dia e nos demais dias leu 16 páginas por dia, terminando a leitura no dia 8 de abril. Enquanto Luiz leu diariamente do dia 20 de fevereiro em diante, e, com exceção do último dia de leitura, leu 25 páginas a cada dia. Sendo assim, Luiz leu 1 única página em seu último dia de leitura, que foi dia
- (A) 9 de abril.
 - (B) 17 de abril.
 - (C) 23 de abril.
 - (D) 3 de maio.
 - (E) 15 de maio.
12. Considere que 8 máquinas idênticas, trabalhando em conjunto por 12 horas, produzam 2688 peças de certo tipo. De acordo com essa produtividade, 15 máquinas como essas produzem 4935 peças do mesmo tipo em
- (A) 11 horas e 15 minutos.
 - (B) 11 horas e 45 minutos.
 - (C) 12 horas e 20 minutos.
 - (D) 12 horas e 40 minutos.
 - (E) 13 horas e 30 minutos.
13. Um grupo de 800 voluntários participou de uma pesquisa, ao longo de 3 anos, cujo objetivo era identificar a eficácia de certa vacina. Ao longo da pesquisa alguns voluntários contraíram gripe 1 única vez, alguns contraíram 2 vezes e os demais não adoeceram. Após um ano do início da pesquisa, parte desses voluntários havia contraído gripe uma única vez. No fim do segundo ano, 20% dos voluntários que não adoeceram após 1 ano contraíram gripe uma única vez e 20% dos que haviam contraído gripe contraíram mais uma vez. No fim do terceiro ano, 15% dos voluntários que não adoeceram nos dois primeiros anos contraíram gripe uma única vez. Se a soma do número de vezes que esses voluntários contraíram gripe foi 278, o número de voluntários que contraíram gripe ao menos uma vez foi
- (A) 193.
 - (B) 213.
 - (C) 233.
 - (D) 253.
 - (E) 273.

14. Em 2020, um hotel dispunha de 112 acomodações padrão e 40 acomodações de luxo. Após uma expansão, o hotel passou a contar com 65 novas acomodações, entre padrão e de luxo. Se após essa expansão a razão entre o número de acomodações de luxo e o número de acomodações padrão passou a ser $\frac{2}{5}$, o número de novas acomodações padrão oferecidas foi
- (A) 21.
(B) 29.
(C) 37.
(D) 43.
(E) 55.
15. Uma prova será aplicada para 1405 pessoas em dois prédios de uma faculdade. No prédio A serão utilizadas 20 salas de aula, cada sala recebendo um mesmo número de pessoas e, no prédio B, serão utilizadas 25 salas de aula, cada sala recebendo um mesmo número de pessoas. Se uma sala qualquer do prédio A receberá 5 pessoas a mais do que uma sala qualquer do prédio B, o número de pessoas que farão prova no prédio A está compreendido entre
- (A) 840 e 890.
(B) 790 e 840.
(C) 740 e 790.
(D) 690 e 740.
(E) 640 e 690.
16. Um grupo formado por 38 pessoas, entre brasileiros e estrangeiros, está hospedado em um mesmo hotel para um curso intensivo de idiomas. Durante o curso, cada brasileiro escreveu uma carta, em inglês, para cada outra pessoa do grupo e cada estrangeiro escreveu uma carta, em português, para cada brasileiro do grupo. Sabendo que o número de cartas escritas em inglês excedeu o número de cartas escritas em português em 650, o número de brasileiros excedeu o número de estrangeiros em
- (A) 10.
(B) 12.
(C) 14.
(D) 16.
(E) 18.

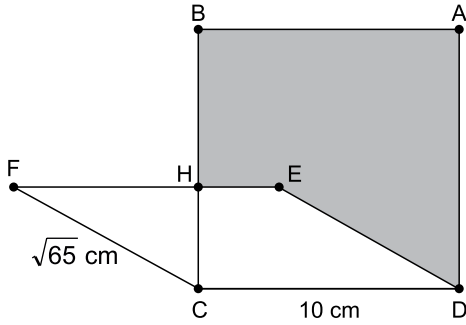
17. Um clube de certo jogo é formado por 55 integrantes, sendo que os integrantes que já participaram de mais de 40 missões no jogo são considerados experientes, caso contrário são chamados de iniciantes. No começo de 2023, antes de qualquer missão, 21 pessoas eram experientes e a média dos números de missões que cada uma tinha participado era 45 enquanto, entre os iniciantes, a média dos números de missões que cada um tinha participado era 23,5. Ao longo do ano cada jogador participou de exatamente 10 missões, de maneira que N iniciantes passaram a ser experientes. No fim do ano, a média dos números de missões por pessoa entre os experientes passou a ser 53 e a média dos números de missões por pessoa entre os iniciantes passou a ser 30. O valor de N é

- (A) 6.
- (B) 7.
- (C) 8.
- (D) 9.
- (E) 10.

18. Uma cooperativa de costureiras recebeu uniformes de futebol para personalizar. Os uniformes são de três times diferentes, sendo 252 do time X, 420 do time Y e 588 do time Z. Para essa tarefa, a cooperativa vai chamar o menor número possível de costureiras, de maneira que cada costureira personalize uniformes de um mesmo time e que o número de uniformes distribuídos para cada costureira seja o mesmo. Nessas condições, o número de costureiras que participarão dessa tarefa é

- (A) 15.
- (B) 18.
- (C) 21.
- (D) 35.
- (E) 42.

19. Um quadrado ABCD de lado 10 cm tem o lado CD em comum com o paralelogramo CDEF, de área 40 cm^2 . O lado EF do paralelogramo intersecta o lado BC do quadrado no ponto H, conforme mostra a figura a seguir.



Considerando o exposto, afirma-se com correção que a área do polígono ABHED é

- (A) 62 cm^2 .
 - (B) 66 cm^2 .
 - (C) 70 cm^2 .
 - (D) 74 cm^2 .
 - (E) 78 cm^2 .
20. A partir de um dos vértices de um paralelepípedo reto-retângulo oco foi feito um corte na forma de um cubo de 1 cm^3 de volume, de maneira que as reentrâncias no paralelepípedo medem, todas, 1 cm, conforme mostra a figura a seguir.

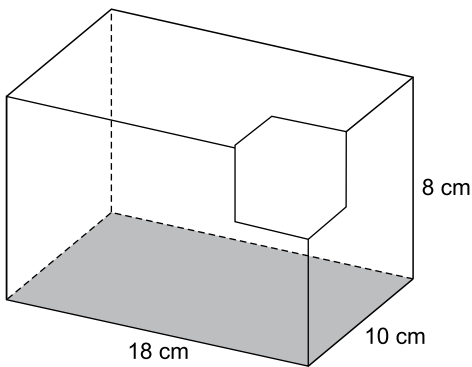









Figura fora de escala

Esse paralelepípedo pode ser apoiado em uma superfície plana e horizontal sobre qualquer uma de suas faces e, após o corte, a capacidade máxima de água possível de se armazenar em seu interior passou a ser de

- (A) 1260 cm^3 .
- (B) 1296 cm^3 .
- (C) 1360 cm^3 .
- (D) 1395 cm^3 .
- (E) 1439 cm^3 .

NOÇÕES DE INFORMÁTICA

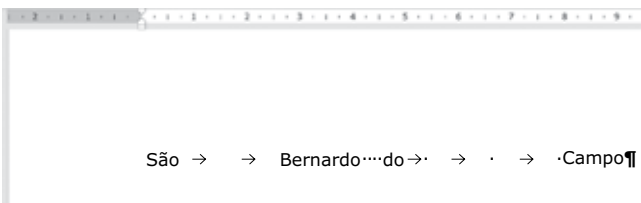
21. Considere a seguinte estrutura de pastas, exibida no Explorador de Arquivos do Microsoft Windows 10, em sua configuração padrão, com indicações de A até G em cada uma delas.

- ✓  Temp _____ A
- ✓  Casos concluídos _____ B
 -  2024_01 _____ C
- ✓  Casos em andamento _____ D
 -  2024_01 _____ E
 -  2024_02 _____ F
 -  2024_03 _____ G

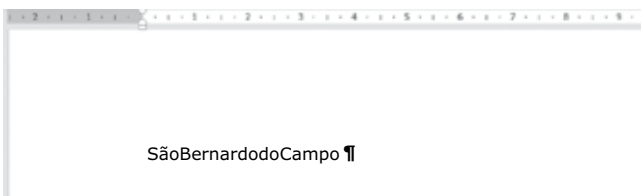
Assinale a alternativa que indica onde uma pasta chamada 2024_01 pode ser criada, dentro da estrutura de Temp.

- (A) B, D, apenas.
- (B) A, B, D, apenas.
- (C) A, B, C, D, E, apenas.
- (D) A, C, E, F, G, apenas.
- (E) B, C, D, E, apenas.

22. Considere o seguinte texto, editado no Microsoft Word 2016, em sua configuração original, com as marcas de parágrafo ativadas.



Assuma que o usuário posicionou o cursor no final da palavra “São” e pressionou a tecla DEL algumas vezes, depois realizou a mesma ação posicionando o cursor no final da palavra “Bernardo” e no final da palavra “do”, resultando na imagem a seguir.



Considerando o exposto, assinale a alternativa que contém a quantidade de vezes que a tecla DEL precisa ser pressionada, respectivamente, para juntar todas as palavras.

- (A) 2, 1, 3
- (B) 2, 4, 6
- (C) 4, 1, 6
- (D) 4, 4, 9
- (E) 8, 4, 12


23. Tem-se a seguinte planilha, criada no Microsoft Excel 2016, em sua configuração original:

	A	B	C	D	E	F	G	H
1	Cod	Nome	Idade			Nome	Departamento	
2	1	Rafael	27			Rafael	Finanças	
3	2	Isabela	38			Isabela	Comercial	
4	3	Thiago	42			Thiago	Informática	
5	4	Camila	38			Camila	Finanças	
6	5	Lucas	45			Lucas	Finanças	

Um usuário deseja adicionar uma função na célula D2 para buscar na coluna G o departamento de cada nome que está na coluna B e que seja possível copiar e colar o conteúdo até a célula D6. A função correta é

- (A) =PROCV(B2;\$G\$2:\$G\$6;1;0)
- (B) =ENCONTRAR(B2;\$F\$2:\$G\$6)
- (C) =PROCV(B2;\$F\$2:\$G\$6;2;0)
- (D) =LOCALIZAR(B2;\$G\$2:\$G\$6)
- (E) =ENCONTRAR(B2;\$F\$2:\$G\$6;"Nome"; "Departamento")

24. Tem-se a seguir uma apresentação com apenas 1 *slide* não oculto, criada no Microsoft PowerPoint 2016, em sua configuração padrão, com 2 AutoFormas e sem transição configurada.



Considere que a estrela, apenas, foi configurada com uma animação de saída, do tipo Esmaecer, e que foi iniciado o Modo de Apresentação, exibindo assim esse *slide*. Com base nessa informação, pode-se afirmar com correção que o resultado após a animação da estrela ser executada será:

- (A) a estrela desaparece.
- (B) a estrela é movida para ficar atrás do círculo.
- (C) a estrela desaparece e reaparece em seguida.
- (D) a estrela é movida para ficar fora da sobreposição com o círculo.
- (E) nada acontece no *slide*.

25. Usando o Microsoft Outlook 2016, em sua configuração padrão, Rafael enviou uma mensagem de correio eletrônico com as seguintes características:

De: Rafael
Para: Angelica
Cc: Maria
Cco: Renato

Considere que tal mensagem foi enviada e recebida por todos os destinatários com sucesso, que todos também utilizam o Microsoft Outlook 2016, em sua configuração original, e que todos os destinatários clicaram em Responder.

Com base no exposto, assinale a alternativa que indica qual(is) dele(s) terá(ão) sua mensagem criada automaticamente pelo Outlook e formatada da seguinte forma, considerando apenas os campos Para, Cc e Cco.

Para: Rafael
Cc:
Cco:

- (A) Angelica e Maria, apenas.
- (B) Angelica, apenas.
- (C) Maria e Renato, apenas.
- (D) Maria, apenas.
- (E) Angelica, Maria e Renato.

CONHECIMENTOS ESPECÍFICOS

26. Considerando a estrutura conceitual da contabilidade, que é tratada pelas normas contábeis como estrutura conceitual para relatório financeiro, assinale a alternativa correta.

- (A) Relatórios financeiros para fins gerais destinam-se a representar o valor da entidade que reporta, e fornecem informações para auxiliar a administração de uma entidade na gestão contábil, financeira e operacional.
- (B) Relatórios financeiros representam fenômenos econômicos em palavras e números. Para serem úteis, informações financeiras não devem apenas representar fenômenos relevantes, mas também representar de forma fidedigna a essência dos fenômenos que pretendem representar.
- (C) Compreensibilidade é a característica quantitativa que permite aos usuários identificar e compreender similaridades e diferenças entre itens. Diferentemente das outras características qualitativas, a comparabilidade não se refere a um único item. A comparação exige, no mínimo, dois itens.
- (D) O recurso é uma restrição generalizada sobre as informações que podem ser fornecidas pelo relatório financeiro.
- (E) As demonstrações contábeis são elaboradas para um período de tempo específico sempre em 31 de dezembro de cada ano, e fornecem informações sobre: ativos e passivos e receitas e despesas.

27. O plano de contas, com todas as suas contas sintéticas e analíticas, deve conter, no mínimo, _____ níveis e é parte integrante da escrituração contábil da entidade, devendo seguir a estrutura patrimonial prevista em Lei. Na transmissão para o Sistema Público de Escrituração Digital (SPED) do plano de contas, juntamente com os livros Diário e Auxiliares, e documentos da escrituração contábil digital da entidade, devem constar apenas as contas que tenham saldo ou que tiveram movimento no período.

Assinale a alternativa cuja palavra completa corretamente o texto.

- (A) quatro
- (B) cinco
- (C) seis
- (D) sete
- (E) oito

28. Uma determinada entidade, denominada empresa A, detém 85% do capital da empresa B, que em 31 de dezembro de 2023 apresentou as seguintes informações contábeis:

Capital	100.000,00
Reserva de Capital	150.000,00
Ações em tesouraria	35.000,00
Ajuste de avaliação patrimonial	80.000,00
Prejuízos acumulados	55.000,00

Adicionalmente, a empresa informou ter apurado no exercício de 2023 um resultado positivo de R\$ 75.000,00. Diante desse dado, assinale a alternativa que indica o valor da equivalência patrimonial em 31 de dezembro de 2023, em Reais, tendo em vista que em 31 de dezembro de 2022, a empresa A mantinha na conta contábil de investimentos um saldo de R\$ 204.000,00.

- (A) 63.750
- (B) 75.000
- (C) 123.450
- (D) 204.000
- (E) 267.750

29. Considere as informações fornecidas pela área contábil da empresa ABCDE Ltda., referente à aquisição de um equipamento industrial (prensa hidráulica) e, com base nessas informações, assinale a alternativa que apresenta o valor, em Reais, da depreciação acumulada dessa máquina ao final do exercício de 2023.

- Equipamento: Prensa Hidráulica de 14.000 ton.
- Data da compra do bem: 10/01/2023.
- Valor do equipamento: R\$ 4.200.000,00.
- Para colocar o equipamento em funcionamento a empresa incorreu em custo de alvenaria, no montante de: R\$ 600.000,00.
- Com isso, a data de entrada em funcionamento do bem foi em: 1º de abril de 2023.
- Valor do Frete: 2% do valor do bem, pago pelo comprador.
- ICMS de 17% a ser recuperado.
- Vida útil econômica do bem: 15 anos.
- Valor de realização (residual) do bem: 7% do valor do equipamento, com imposto.
- Método de depreciação: Linear.

- (A) 21.533
- (B) 67.750
- (C) 129.200
- (D) 193.800
- (E) 258.400

30. Considere as informações relativas à apuração do resultado da empresa WZim Ltda. referente ao exercício de 2023, a seguir apresentadas, para responder à questão.

- Receitas líquidas: R\$ 1.190.700
- Impostos sobre vendas equivalem a 26,5%
- Despesas com vendas: R\$ 174.000
- Despesas administrativas: R\$ 129.000
- Outras despesas operacionais: R\$ 15.000
- A margem bruta foi calculada aproximadamente em: 46,78%
- Para calcular o custo dos produtos vendidos, considerar a movimentação dos estoques, como segue:
 - o Estoques iniciais – R\$ 927.750
 - o Compras no período – R\$ 460.200
 - o Estoques finais – R\$ 754.250
- O imposto de renda (IR) e a contribuição social sobre o lucro líquido (CSLL) equivalem a uma taxa efetiva de 30% sobre o lucro antes dos impostos sobre a renda.

Assinale a alternativa que indica o valor, em Reais, do lucro líquido do exercício de 2023 da empresa WZim Ltda.

- (A) 128.300
- (B) 167.300
- (C) 239.000
- (D) 254.700
- (E) 290.650

31. De acordo com a Lei Complementar nº 101/00, artigos 19 e 20, os percentuais associados aos limites constitucionais de despesas dos poderes Estaduais, relacionados à distribuição e limites da despesa total com pessoal e suas repartições e que não podem ser excedidos sobre a receita corrente líquida são:

- (A) Estaduais 60% total, distribuídos 20% (Legislativo, incluído o Tribunal de Contas do Estado) e 15% (Judiciário), 5% (Executivo) e 20% (Ministério Público dos Estados).
- (B) Estaduais 60% total, distribuídos 50% (Legislativo, incluído o Tribunal de Contas do Estado) e 3% (Judiciário), 5% (Executivo) e 2% (Ministério Público dos Estados).
- (C) Estaduais 60% total, distribuídos 49% (Legislativo, incluído o Tribunal de Contas do Estado) e 3% (Judiciário), 6% (Executivo) e 2% (Ministério Público dos Estados).
- (D) Estaduais 60% total, distribuídos 3% (Legislativo, incluído o Tribunal de Contas do Estado) e 6% (Judiciário), 49% (Executivo) e 2% (Ministério Público dos Estados).
- (E) Estaduais 60% total, distribuídos 2% (Legislativo, incluído o Tribunal de Contas do Estado) e 49% (Judiciário), 6% (Executivo) e 3% (Ministério Público dos Estados).

Com base nas informações a seguir, responda às questões de números **32 a 34**.

Balancete apresentado pela empresa Topa Quase Tudo S.A., em 31/12/2023

Balancete contábil em 31/12/2023	
Descrição da conta contábil	Reais
Empréstimos e financiamentos (PNC)	(133.440,00)
Demais contas a receber	10.400,00
Fornecedores	(72.000,00)
Empréstimos e financiamentos	(66.000,00)
Provisão para Créditos de Liquidação Duvidosa	(32.000,00)
Reservas de lucros	(84.720,00)
Mútuos a receber com empresas ligadas de LP (ANC)	29.360,00
Estoques	98.400,00
Impostos a recolher	(32.000,00)
Outras contas a pagar	(10.800,00)
Contas a pagar de LP - (PNC)	(2.720,00)
Ativos intangíveis	26.720,00
Contingências trabalhistas de LP - (PNC)	(40.000,00)
Caixa e equivalentes de caixa	108.800,00
Títulos a receber de LP (ANC)	16.000,00
Salários a pagar	(21.600,00)
Capital	(56.000,00)
Contas a receber de clientes	112.000,00
Imobilizado	213.600,00
Reservas de capital	(16.000,00)
Depreciação acumulada	(48.000,00)

32. Assinale a alternativa que indica o valor, em Reais, do Patrimônio líquido da empresa.

- (A) 247.620
- (B) 237.600
- (C) 202.480
- (D) 176.160
- (E) 156.720

33. A alternativa que indica o valor, em Reais, do índice de liquidez corrente, com apenas dois dígitos e considerando critério de arredondamento é:

- (A) 1,27
- (B) 1,29
- (C) 1,38
- (D) 1,47
- (E) 1,49

34. Assinale a alternativa que indica o valor, em Reais, do índice de liquidez seca, com apenas dois dígitos e considerando critério de arredondamento.

- (A) 1,21
- (B) 1,18
- (C) 1,15
- (D) 1,00
- (E) 0,98

Uma entidade encontra-se enquadrada no Lucro Real e necessita calcular hipoteticamente o imposto de renda e a contribuição social numa base trimestral.

Para tanto, considere as seguintes informações extraídas da contabilidade dessa entidade para responder às questões de números **35 a 38**.

- Lucro antes do IR e CSL no trimestre: R\$2.480.000,00
- Adições temporárias: R\$ 201.000,00
- Adições permanentes: R\$ 52.500,00
- Exclusões permanentes: R\$ 90.000,00
- Exclusões temporárias: R\$ 42.000,00

35. Assinale a alternativa que contém o imposto de renda sem o adicional, em reais, no trimestre.

- (A) 372.000
- (B) 389.225
- (C) 390.225
- (D) 391.400
- (E) 392.100

36. Qual o valor, em Reais, do adicional do imposto de renda?

- (A) 248.000
- (B) 254.150
- (C) 260.150
- (D) 261.540
- (E) 262.100

37. A contribuição social sobre o lucro líquido, em Reais, é
- (A) 223.200
 - (B) 228.135
 - (C) 230.125
 - (D) 234.135
 - (E) 235.250
38. Tendo em vista que a empresa não adquiriu insumos, portanto não há crédito tributário a ser compensado, e estando no sistema da não cumulatividade, assinale o valor, em Reais, do PIS e COFINS no trimestre.
- (A) 90.520
 - (B) 223.200
 - (C) 229.400
 - (D) 240.639
 - (E) 241.300
39. É correto afirmar, conforme disposto no Manual de Contabilidade Aplicável ao Setor Público, que as receitas orçamentárias são classificadas considerando os seguintes critérios:
- (A) natureza, fonte/destinação de recursos e indicador de resultado primário.
 - (B) fonte e destinação financeira e econômica.
 - (C) contábil, dos recursos segmentados e segmento da receita.
 - (D) fonte, origem / aplicação dos recursos e destinação patrimonial dos restos a pagar.
 - (E) origem / aplicação dos desembolsos e destinação patrimonial dos restos a pagar.
40. De acordo com a Lei Complementar nº 101/2000, é correto afirmar, no que tange a transferências de recursos públicos para o setor privado, que
- (A) a destinação de recursos para, direta ou indiretamente, cobrir necessidades de pessoas físicas ou déficits de pessoas jurídicas deverá ser autorizada por lei específica, atender às condições estabelecidas na lei de diretrizes orçamentárias e estar prevista no orçamento ou em seus créditos adicionais.
 - (B) o disposto na legislação aplica-se a toda a administração direta e indireta, inclusive fundações públicas e privadas e empresas estatais mistas, incluindo o exercício de suas atribuições precípuas, as instituições financeiras e o Banco Central do Brasil.
 - (C) a concessão de crédito por ente da Federação a pessoa física ou jurídica que esteja sob seu controle indireto, sem os encargos financeiros, sem comissões e despesas congêneres, serão inferiores aos limites definidos ao custo de captação.
 - (D) as complementações e composições dependem de dívidas decorrentes exclusivamente de operações de crédito e financiamento, bem como da concessão de empréstimos ou financiamentos em paralelo ou em sintonia com a legislação, sendo o aporte correspondente consignado na lei orçamentária.
 - (E) poderão ser utilizados recursos públicos, inclusive de operações de crédito exclusivas e privadas, para socorrer instituições do Sistema Financeiro Nacional e empresas do 3º setor, ainda que mediante a concessão de empréstimos de recuperação ou financiamentos para mudança de controle acionário.
41. É correto afirmar, conforme disposto na Lei Complementar nº 101/2000, que as dívidas e endividamentos têm como definição e classificação:
- (A) Dívida flutuante, dívida imobiliária, operação de crédito e financiamento, concessão de garantia, refinanciamento da dívida mobiliária.
 - (B) Dívida pública consolidada ou fundada, dívida pública mobiliária, operação de crédito, concessão de garantia, refinanciamento da dívida mobiliária.
 - (C) Dívida pública fundada, dívida pública mobiliária, operação de crédito, concessão de garantia, financiamento da dívida flutuante.
 - (D) Dívida pública consolidada ou fundada, dívida pública mobiliária, operação de crédito, concessão de garantia, financiamento da dívida mobiliária, restos a pagar.
 - (E) Dívida pública consolidada ou fundada, dívida pública mobiliária, operação de crédito, financiamento da dívida mobiliária, restos a pagar.

- 42.** Conforme disposto na Lei Complementar nº 101/2000, é correto afirmar que os instrumentos de transparência são:
- (A) os orçamentos e leis de responsabilidade fiscal, as prestações de contas, o Relatório Resumido da Execução Orçamentária e o Relatório de Auditoria do Tribunal de Contas.
 - (B) os orçamentos e lei da contabilidade pública, as prestações de contas, o Relatório Resumido da Execução Orçamentária e o Relatório de Gestão Orçamentária.
 - (C) os planos, orçamentos e leis de diretrizes orçamentárias, as prestações de contas e o respectivo parecer prévio, o Relatório Resumido da Execução Orçamentária e o Relatório de Gestão Fiscal, e as versões simplificadas desses documentos.
 - (D) os planos, orçamentos, as prestações de contas, o Relatório Presumido da Execução Orçamentária e o Relatório da Auditoria do Controle Interno e Externo.
 - (E) os orçamentos, as prestações de contas e os respectivos pareceres prévios, da auditoria independente e dos tribunais de contas, o Relatório de Gestão Fiscal, e as versões simplificadas desses documentos.
- 43.** O Siafic corresponde à solução de tecnologia da informação e tem por finalidade registrar os atos e fatos relacionados com a administração orçamentária, financeira e patrimonial, controlar e permitir a evidenciação destas e é mantido e gerenciado pelo (a)
- (A) poder executivo.
 - (B) poder judiciário.
 - (C) poder legislativo.
 - (D) PGR procuradoria geral.
 - (E) por todos os poderes e controles externos.
- 44.** De acordo com MCASP – Manual de Contabilidade Aplicada ao Setor Público e as disposições legais, uma possível estrutura de unidade gestora administrativa do RPPS, em um ente da federação, pode ser representada por:
- (A) poder executivo/ gestor do RPPS/ fundo adicional/ fundo geral/ unidade gestora somente contábil.
 - (B) poder judiciário/ gestor complementar/ fundo complementar/ fundo unitário/ unidade gestora geral.
 - (C) poder executivo/ gestor do RPPS/ fundo em repartição/ fundo em capitalização/ unidade gestora administrativa.
 - (D) poder legislativo/ poder judiciário/gestor do RPPS/ fundo monetário ilimitado/ fundo geral.
 - (E) poder judiciário/ poder executivo/gestor do RPPS/ fundo mobiliário/ fundo em unidade contábil.
- 45.** De acordo com o IPC 14 – procedimentos contábeis relativos aos RPPS, é correto afirmar que os RPPS poderão adotar para apuração dos compromissos e determinação dos custos do plano de benefícios os seguintes regimes financeiros, como fundamento da observância do equilíbrio financeiro e atuarial:
- (A) de repartição de cobertura parcial de recursos e de capitalização de recursos.
 - (B) de capitalização e de repartição de capitais de cobertura.
 - (C) de benefícios e de repartição de estrutura.
 - (D) de capitalização e de repartição estrutural de recursos.
 - (E) de repartição de capitais sem cobertura e de repartição completa.
- 46.** Sabe-se que a Contribuição patronal corresponde à contribuição previdenciária devida pelo ente ao RPPS em decorrência da sua condição de empregador. Nesse sentido, tendo em vista a natureza da informação patrimonial, assinale a alternativa que contém a contabilização no reconhecimento da obrigação patrimonial referente à contribuição patronal pela ocorrência do fato gerador (mês de competência encerrado)
- (A) D 6.2.2.1.1.xx.xx Crédito Disponível
C 6.2.2.1.3.01.xx Crédito Empenhado a Liquidar
 - (B) D 8.2.1.1.1.xx.xx Disponibilidade por Destinação de Recursos (DDR)
C 8.2.1.1.2.xx.xx DDR Comprometida por Empenho
 - (C) D 6.2.2.1.3.01.xx Crédito Empenhado a Liquidar
C 6.2.2.1.3.02.xx Crédito Empenhado em Liquidação
 - (D) D 6.2.2.1.3.02.xx Crédito Empenhado em Liquidação
C 6.2.2.1.3.03.xx Crédito Empenhado Liquidado a Pagar
 - (E) D 3.1.2.1.2.xx.xx Encargos Patronais – RPPS – Intra OFSS
C 2.1.1.4.2.xx.xx Encargos Sociais a Pagar – Intra OFSS (P)
- 47.** É correto afirmar que as premissas atuariais, de acordo com o MCASP-Manual de Contabilidade Aplicada ao Setor Público, compreendem as
- (A) demográficas e financeiras.
 - (B) generalizadas e geográficas.
 - (C) individuais e financeiras.
 - (D) parciais e demográficas.
 - (E) abrangentes geográficas e financeiras.

- 48.** Conforme disposto nas normas de auditoria, é correto afirmar que um dos objetivos do auditor, na condução de uma auditoria, é:
- (A) obter segurança razoável de que as demonstrações contábeis de uma forma geral e com indícios tão somente de distorção relevante possibilitem assim que o auditor expresse sua opinião sobre estas, que foram elaboradas, parcialmente, pelos aspectos relevantes, em conformidade com a estrutura de relatório financeiro aplicável pela Lei nº 4.320/64, bem como se comunicar como exigido pelas NBCs TA e de acordo com suas constatações.
 - (B) obter segurança razoável de que as demonstrações contábeis, sem nenhuma distorção relevante, possibilitem, assim que o auditor expresse sua opinião sobre estas, que foram elaboradas em conformidade com a estrutura de relatório financeiro aplicável, pela Lei nº 4.320/64, bem como se comunicar como exigido pelas NBCs TA e de acordo com suas constatações.
 - (C) obter segurança de que as demonstrações contábeis apresentam-se sem nenhuma distorção relevante, verificar 100% das contas em menor tempo possível, fazer os apontamentos das fraudes, erros e distorções identificadas e emitir parecer em conformidade com as normas da profissão.
 - (D) obter segurança razoável de que as demonstrações contábeis em análise estão como um todo, livres de distorções relevantes, causadas exclusivamente por erros, bem como expressar sua opinião somente em alguns aspectos relevantes e com base em seu sentimento.
 - (E) obter segurança razoável de que as demonstrações contábeis, como um todo, estão livres de distorção relevante, independentemente se causadas por fraude ou erro, possibilitando, assim, que o auditor expresse sua opinião sobre estas que foram elaboradas, em todos os aspectos relevantes, em conformidade com a estrutura de relatório financeiro aplicável.
- 49.** Diante do processo completo de análise e avaliação de uma auditoria das demonstrações contábeis e com intuito de combater e até fiscalizar possíveis fraudes (desvio e manipulações) das demonstrações contábeis, tendo em vista as normas aplicáveis, é correto afirmar que segundo a natureza da opinião, o auditor pode emitir, de forma distinta, os seguintes pareceres:
- (A) sem ressalva, com ressalva, distinto, adversificado e com abstenção de opinião.
 - (B) sem ressalva, com ressalva, distinto e com parcialidade de opinião.
 - (C) sem ressalva, com ressalva parcial, com limitação de escopo, distinto e com abstenção de opinião.
 - (D) sem ressalva, com ressalva parcial, verificado e com abstenção de opinião.
 - (E) sem ressalva, com ressalva, adverso e com abstenção de opinião.
- 50.** De acordo com os termos dispostos na Lei Complementar nº 101/2000 (Lei de Responsabilidade Fiscal), o poder executivo deve submeter ao senado federal proposta de limites globais para o montante da dívida consolidada da União, Estados e Municípios e ao Congresso Nacional projeto de lei que estabeleça limites para o montante da dívida mobiliária federal. Estas propostas deverão ser submetidas pelo poder executivo no prazo de até _____ dias após a publicação da Lei Complementar que regulamenta os limites.
- Assinale a alternativa que completa corretamente o texto.
- (A) 30
 - (B) 60
 - (C) 90
 - (D) 120
 - (E) 180

