




PREFEITURA MUNICIPAL DE POMBAL - PB



NÍVEL FUNDAMENTAL COMPLETO

ARTESÃO - CONDUTOR DE TRANSPORTE DE EMERGÊNCIA
ELETRICISTA - GUARDA MUNICIPAL - MAQUEIRO
MONITOR DE SAÚDE MENTAL - MOTORISTA

EXAME GRAFOTÉCNICO:

(Transcreva a frase abaixo no local indicado na sua Folha de Respostas)

A honestidade deve ser a base de todas as relações humanas.

INSTRUÇÕES:

1. Verifique se este caderno de provas contém 40 (quarenta) questões de múltipla escolha, sendo Português de 01 a 20, Matemática de 21 a 30 e Conhecimentos Gerais de 31 a 40.
2. Observe se há falhas ou imperfeições gráficas que causem dúvidas. Caso existam, comunique imediatamente ao Fiscal de Sala.
3. Confira seus dados na Folha de Respostas com os dados do Cartão de Inscrição.
4. Esta Prova tem duração de 4 (quatro) horas. Não é permitida a saída do candidato antes de transcorridas 2 (duas) horas completas, sob pena de eliminação.
5. É vetado, durante a prova, o intercâmbio ou empréstimo de material de qualquer natureza entre os candidatos, bem como o uso de celulares, calculadoras e/ou qualquer outro tipo de equipamento eletrônico. A fraude, ou tentativa, a indisciplina e o desrespeito às autoridades encarregadas dos trabalhos são faltas que eliminam o candidato.
6. Certifique-se de que assinou a lista de presença e que preencheu adequadamente todos os espaços da Folha de Respostas.
7. Ao finalizar a prova, entregue ao fiscal o Caderno de Prova e a Folha de Respostas, sob pena de eliminação.

PORTUGUÊS

Leia o Texto I e responda às questões de 1 a 9.

Texto I

OS INVISÍVEIS DO BRASIL

A falta de registro civil continua a ser um obstáculo à cidadania e ao acesso a direitos fundamentais para quase três milhões de brasileiros que vivem à margem da sociedade

Em um País que se orgulha de sua democracia e diversidade, é alarmante saber que, em pleno século XXI, milhões de brasileiros permanecem invisíveis. Sem uma certidão de nascimento, uma pessoa não possui nome, sobrenome ou nacionalidade, tornando-se um espectro na sociedade. Esse documento, que deveria ser um direito básico, é a chave para a cidadania, permitindo o acesso à educação, saúde, casamento civil e programas sociais. No entanto, dados do Censo 2022 revelam que mais de 2,7 milhões de pessoas não possuem nenhum tipo de documento de identificação civil, evidenciando que a cidadania no Brasil é um privilégio reservado a poucos.

Esse cenário é especialmente preocupante entre as populações mais vulneráveis. De acordo com dados do Instituto Brasileiro de Geografia e Estatística (IBGE), em 2022 havia mais de 87 mil crianças de até cinco anos sem registro civil. Embora tenha havido uma queda em relação a 2010, a subnotificação ainda é alarmante, especialmente entre povos indígenas na Amazônia Legal. A região Norte tem a maior proporção de casos sem registro, com mais de 86% da população com até cinco anos sem registro. Em plena era globalizada, o Brasil ainda enfrenta uma questão que deveria ter sido superada: a inclusão de todos os cidadãos no sistema civil. As desigualdades regionais são alarmantes; enquanto no Sul apenas 0,28% da população geral está sem registro, no Norte esse número salta para 7,5%. A importância deste se torna ainda mais evidente em contextos críticos, como a pandemia de COVID-19, em que a ausência de identificação dificultou o acesso à vacinação, expondo essa população a riscos ainda maiores.

Fonte: OS INVISÍVEIS. Isto É, Comportamento/saúde, 22 ago. 2024. Disponível em: <<https://www.pressreader.com/brazil/isto-e/20240822/page/38/textview>>. Acesso em: 24 out. 2024. Adaptado.

1ª QUESTÃO

Considerando as ideias apresentadas no Texto I, analise as assertivas que seguem.

- I- O texto destaca que a falta de registro civil afeta o acesso a programas sociais, casamento civil e à educação.
- II- O texto indica que o número de pessoas sem registro civil no Brasil é insignificante e a situação está sob controle.
- III- O texto destaca que, mesmo havendo uma redução na subnotificação de crianças sem registro civil, o problema ainda persiste de forma alarmante entre populações indígenas.

É CORRETO o que se afirma em:

- a) I, II e III.
- b) I e III apenas.
- c) II e III apenas.
- d) I apenas.
- e) II apenas.

2ª QUESTÃO

Assinale a alternativa CORRETA de acordo com as ideias apresentadas no Texto I.

- a) A ausência de registro civil não dificulta o acesso a vacinas ou a quaisquer outros serviços fundamentais.
- b) A região Norte apresenta a menor taxa de crianças sem registro civil, com 86% da população de até cinco anos sem certidão de nascimento.
- c) A certidão de nascimento é considerada um direito básico que garante o acesso a serviços fundamentais, como saúde e educação.
- d) O Sul do Brasil é a região com a maior proporção de pessoas sem registro civil.
- e) A falta de registro civil impacta igualmente todas as regiões do Brasil, sem distinção quantitativa entre elas.

3ª QUESTÃO

No fragmento “Em um País que se orgulha de sua democracia e diversidade, é alarmante saber que, em pleno século XXI, milhões de brasileiros permanecem invisíveis”, o termo **invisíveis** remete ao sentido:

- a) figurado, ou seja, aponta que as pessoas perdem a aparência física.
- b) literal, ou seja, sugere que as pessoas perdem a aparência física.
- c) figurado, ou seja, sugere uma situação de invisibilidade social.
- d) literal, ou seja, sugere uma situação de visibilidade social.
- e) literal, ou seja, aponta que as pessoas são notadas socialmente.

4ª QUESTÃO

No fragmento “Embora tenha havido uma queda em relação a 2010, a subnotificação ainda é alarmante, especialmente entre povos indígenas na Amazônia Legal”, o termo **subnotificação**, indica:

- a) a divulgação de todas as ocorrências.
- b) a notificação excessiva.
- c) a baixa quantidade de registros.
- d) o aumento de registros.
- e) a notificação equilibrada dos registros.

5ª QUESTÃO

Considere o fragmento “**Esse documento**, que deveria ser um direito básico, é a chave para a cidadania, permitindo o acesso à educação, saúde, casamento civil e programas sociais” (1º§) para avaliar as assertivas que seguem.

- I- A expressão “esse documento” retoma “certidão de nascimento”.
- II- A expressão “esse documento” poderia ser substituída sem alteração de sentido pela expressão “aquele documento”.
- III- O termo “esse” é um pronome demonstrativo.

É CORRETO o que se afirma em:

- a) I, II e III.
- b) I e II apenas.
- c) III apenas.
- d) I e III apenas.
- e) II apenas.

6ª QUESTÃO

Leia o fragmento: “De acordo com dados do Instituto Brasileiro de Geografia e Estatística (IBGE), em 2022 havia mais de 87 mil crianças de até cinco anos sem registro civil”.

Marque a alternativa CORRETA que indica a classe gramatical do termo **civil** no fragmento:

- a) Verbo.
- b) Substantivo.
- c) Artigo.
- d) Pronome.
- e) Adjetivo.

7ª QUESTÃO

Leia o fragmento: “Em plena era globalizada, o Brasil ainda enfrenta uma questão que deveria ter sido superada”.

Assinale a alternativa CORRETA que indica o sujeito do fragmento:

- a) “o Brasil ainda enfrenta”.
- b) “o Brasil”.
- c) “Em plena era globalizada”.
- d) “ainda enfrenta”.
- e) “uma questão que deveria ter sido superada”.

8ª QUESTÃO

Considere o fragmento “o Brasil ainda **enfrenta** uma questão que deveria ter sido superada: a inclusão de todos os cidadãos no sistema civil” para avaliar as assertivas que seguem.

- I- O verbo “enfrenta” está no singular para concordar com “o Brasil”.
- II- O verbo “enfrenta” está no plural para concordar com “cidadãos”.
- III- A forma “enfrenta” não poderia ser substituída pela forma “enfrentam”.

É CORRETO o que se afirma em:

- a) III apenas.
- b) I apenas.
- c) I, II e III.
- d) I e II apenas.
- e) I e III apenas.

9ª QUESTÃO

Considere o fragmento “De acordo com dados do Instituto Brasileiro de Geografia e Estatística (IBGE), em 2022 havia mais de 87 mil crianças de até cinco anos sem registro civil”.

Analise as assertivas que seguem em relação à acentuação gráfica dos termos “**estatística**” e “**até**”, extraídos do excerto.

- I- O termo “estatística” é acentuado por ser paroxítona terminada em “a”.
- II- O termo “até” recebe acentuação gráfica” por ser uma palavra oxítona terminada em “e”.
- III- A palavra “estatística” recebe acento gráfico pela mesma regra que a palavra “até”.
- IV- As duas palavras receberam acento circunflexo.

É CORRETO o que se afirma apenas em:

- a) II.
- b) I e II.
- c) II, III e IV.
- d) I e III.
- e) II e IV.

Leia o Texto II e responda às questões de 10 a 14.

Texto II



Disponível em: <<https://www.instagram.com>>. Acesso em: 27 out. 2024.

10ª QUESTÃO

Considere os fragmentos “o que **eles** pensam que **nós** somos?” e “**os malditos** sabem que ainda não sabemos”, e analise as afirmações.

- I- O termo “eles” está sendo empregado para retomar um referente explicitado verbalmente na tirinha.
- II- A expressão “os malditos” retoma o referente “eles”.
- III- A repetição do termo “nós” compromete a clareza do texto.

É CORRETO o que se afirma apenas em:

- a) II.
- b) II e III.
- c) I e III.
- d) III.
- e) I.

11ª QUESTÃO

Com base no emprego dos verbos “use”, “compre”, “beba”, “coma” e “prove”, presentes no primeiro quadrinho, é CORRETO afirmar, em relação ao modo verbal correspondente, que eles estão no:

- a) subjuntivo.
- b) imperativo.
- c) infinitivo impessoal.
- d) futuro do presente.
- e) indicativo.

12ª QUESTÃO

Considere o fragmento do segundo quadrinho: “E o que nós somos?” e analise as assertivas que seguem.

- I- A forma “nós” corresponde à primeira pessoa do singular.
- II- A forma “nós” corresponde à primeira pessoa do plural.
- III- No contexto apresentado, a forma “nós” pode ser substituída pelo pronome de segunda pessoa, sem prejuízo gramatical.
- IV- No contexto apresentado, a forma “nós” não pode ser substituída pelo pronome de segunda pessoa, mas pode ser substituída por um pronome de terceira pessoa sem prejuízo gramatical.

É CORRETO o que se afirma apenas em:

- a) I.
- b) II.
- c) I, II e IV.
- d) I, III e IV.
- e) III.

13ª QUESTÃO

Assinale a alternativa que mantém a relação adequada entre o termo apresentado e a sua classificação quanto ao número de sílabas.

- a) “prove” – trissílabo.
- b) “malditos” – polissílabo.
- c) “sabemos” – polissílabo.
- d) “use” – dissílabo.
- e) “coma” – monossílabo.

14ª QUESTÃO

Considere o fragmento: “os malditos sabem que nós ainda não sabemos”. As formas verbais sabem e sabemos indicam o tempo:

- a) futuro distante.
- b) futuro próximo.
- c) passado longínquo.
- d) futuro habitual.
- e) presente.

Leia o Texto III e responda às questões de 15 a 20.

Texto III

Quanto tempo de atividade física você deve fazer?

Crianças de até 1 ano: pelo menos 30 minutos por dia de barriga para baixo (posição de bruços), podendo ser distribuídos ao longo do dia. As crianças com qualquer deficiência devem ser estimuladas dentro das suas potencialidades desde as primeiras fases de vida.

Crianças de 1 a 2 anos: pelo menos 3 horas por dia de atividades físicas de qualquer intensidade, podendo ser distribuídas ao longo do dia.

Crianças de 3 a 5 anos: pelo menos 3 horas por dia de atividades físicas de qualquer intensidade, sendo, no mínimo, 1 hora de intensidade moderada a vigorosa que pode ser acumulada ao longo do dia.

Para crianças e jovens de 6 a 17 anos: você deve praticar 60 minutos ou mais atividade física por dia. Dê preferência para aquelas de intensidade moderada. Como parte desses 60 minutos ou mais por dia, inclua em pelo menos 3 dias na semana atividades de fortalecimento dos músculos e ossos, como saltar, puxar, empurrar ou praticar esportes.

Adultos: você deve realizar pelo menos 150 minutos de atividade física moderada ao longo da semana ou pelo menos 75 minutos de atividade vigorosa, ou uma combinação equivalente. Atividades de fortalecimento muscular devem ser realizadas envolvendo os principais grupos musculares em dois ou mais dias da semana.

Idosos: a partir dessa idade, a recomendação é a mesma dos adultos. Adicionalmente, aqueles com mobilidade reduzida devem fazer atividade física para melhorar o equilíbrio e evitar quedas, três ou mais dias na semana.

Fonte: BRASIL. **Guia de atividade física para a população brasileira**. Brasília: Ministério da Saúde, 2021. p. 45. Disponível em: <https://bvsms.saude.gov.br/bvs/publicacoes/guia_atividade_fisica_populacao_brasileira.pdf>. Adaptado. Acesso em: 23 out. 2024.

15ª QUESTÃO

A respeito dos propósitos comunicativos, o Texto III visa a:

- a) alertar a população sobre os perigos do sedentarismo e os riscos à saúde sem mencionar alternativas de atividade física.
- b) incentivar a prática de exercícios físicos intensos para todas as idades, sem restrições.
- c) informar apenas adultos e idosos sobre a importância das atividades físicas regulares.
- d) divulgar recomendações sobre duração e frequência de atividades físicas para diferentes faixas etárias.
- e) criticar a falta de atividade física na população jovem e sugerir medidas restritivas.

16ª QUESTÃO

De acordo com as orientações do Texto III, as crianças de 1 a 2 anos:

- a) devem fazer pelo menos 3 horas de atividade física de qualquer intensidade.
- b) devem praticar pelo menos 3 horas de atividade física por semana.
- c) devem realizar 3 horas de atividade física por dia, de intensidade leve.
- d) devem realizar apenas atividades de fortalecimento muscular.
- e) não precisam de atividades físicas regulares.

17ª QUESTÃO

No fragmento “Crianças de 3 a 5 anos: pelo menos 3 horas por dia de atividades físicas de qualquer intensidade”, a expressão **pelo menos** cumpre a função semântica de:

- a) justificar um dado.
- b) estabelecer um limite máximo.
- c) definir a quantidade exata.
- d) indicar precisão.
- e) estabelecer um limite mínimo.

18ª QUESTÃO

Analise as assertivas que seguem a respeito da concordância nominal observada no fragmento: “Crianças de 3 a 5 anos: pelo menos 3 horas por dia de **atividades físicas** de qualquer intensidade, sendo, no mínimo, 1 hora de intensidade **moderada a vigorosa** que pode ser acumulada ao longo do dia”.

- I- A palavra “físicas” está no plural para concordar com “atividades”.
- II- A palavra “vigorosa” está no singular para concordar com “moderada”.
- III- O adjetivo “físicas” concorda em gênero (feminino) e número (plural) com o substantivo “atividades”.

É CORRETO o que se afirma em:

- a) I e III apenas.
- b) I apenas.
- c) I e II apenas.
- d) I, II e III.
- e) III apenas.

19ª QUESTÃO

Analise as assertivas que seguem a respeito da concordância verbal observada no fragmento: “**aqueles** com **mobilidade reduzida** **devem** fazer atividade física para melhorar o equilíbrio e evitar quedas”.

- I- A palavra “devem” está no plural para concordar com “mobilidade reduzida”.
- II- A palavra “devem” pode ser substituída por “deve”.
- III- A palavra “devem” está no plural para concordar com “aqueles”.

É CORRETO o que se afirma em:

- a) I, II e III.
- b) I apenas.
- c) I e III apenas.
- d) III apenas.
- e) II apenas.

20ª QUESTÃO

Acerca da linguagem empregada no Texto III, analise as assertivas que seguem.

- I- Observa-se o emprego de gírias e de linguagem figurada.
- II- Observa-se o emprego de uma linguagem clara e objetiva.
- III- Observa-se o emprego de uma linguagem rebuscada e de difícil compreensão.

É CORRETO o que se afirma em:

- a) III apenas.
- b) I apenas.
- c) II apenas.
- d) I, II e III.
- e) I e II apenas.

MATEMÁTICA

21ª QUESTÃO

Luiz é funcionário de uma empresa e recebe o benefício do vale-alimentação, que consiste em um auxílio de R\$ 22,00 por dia trabalhado, para ajudar nas despesas alimentares. Em um determinado mês, ele trabalhou 21 dias e recebeu o valor total do vale-alimentação correspondente a esse período.

Sabendo que ele utilizou $\frac{5}{7}$ desse total para fazer compras no supermercado, quanto ainda lhe restou?

- a) R\$ 124,00.
- b) R\$ 125,00.
- c) R\$ 118,00.
- d) R\$ 132,00.
- e) R\$ 135,00.

22ª QUESTÃO

Em um determinado dia, a cantina de uma escola vendeu 80 coxinhas e 50 pastéis. O custo de produção de cada coxinha é de R\$ 4,00 e o de cada pastel é de R\$ 5,00. O proprietário obtém um lucro de 75% sobre o custo de produção das coxinhas e de 80% sobre o custo dos pastéis.

Sendo assim, qual foi o lucro total obtido com a venda desses salgados nesse dia?

- a) R\$ 470,00.
- b) R\$ 500,00.
- c) R\$ 520,00.
- d) R\$ 450,00.
- e) R\$ 440,00.

23ª QUESTÃO

Um grupo de 12 torcedores decidiu fretar uma van para viajar até uma cidade próxima e assistir a uma partida de futebol, dividindo igualmente o custo total do frete. No dia do jogo, 3 torcedores adicionais se juntaram ao grupo, totalizando 15 passageiros. Como resultado, o valor que cada torcedor pagou foi de R\$ 7,00 a menos do que o valor que pagariam caso apenas os 12 torcedores originais dividissem o custo.

Com base nessas informações, qual foi o valor total do frete da van?

- a) R\$ 510,00.
- b) R\$ 480,00.
- c) R\$ 450,00.
- d) R\$ 420,00.
- e) R\$ 540,00.

24ª QUESTÃO

Durante uma aula de matemática, a professora organizou uma competição entre três grupos de alunos (A, B e C). O desafio consistia em responder questões sobre propriedades das potências e cada resposta correta contribuía para a pontuação do grupo. Ao final da competição, a professora revelou as pontuações finais de forma desafiadora, incentivando os discentes a descobri-las resolvendo as seguintes expressões:

- Grupo A: $5^2 \times 5^0$ pontos.
- Grupo B: $2^3 + 4^2$ pontos.
- Grupo C: $3^5 \div 3^2$ pontos.

Com base nos cálculos, qual é a ordem dos grupos do maior para o menor número de pontos?

- a) C, A e B.
- b) C, B e A.
- c) A, B e C.
- d) A, C e B.
- e) B, C e A.

RASCUNHO

25ª QUESTÃO

Uma empresa produz extrato de tomate em caixinhas com formato de bloco retangular. As dimensões internas de cada caixinha são 10cm de comprimento, 5cm de largura e 8cm de altura, sendo completamente preenchidas com o produto. Para aumentar a lucratividade, a empresa decidiu reduzir cada uma das três dimensões da caixinha em 10%.

Com essa alteração, a redução no volume de extrato de tomate em cada caixinha, em mililitros, foi de:

- a) 120,0 ml.
- b) 118,0 ml.
- c) 124,2 ml.
- d) 112,6 ml.
- e) 108,4 ml.

26ª QUESTÃO

Uma construtora está realizando uma obra e precisa de 420kg de barras de aço para reforço estrutural. As barras são vendidas em tamanhos padronizados de 12 metros cada.

Sabendo que cada metro de barra de aço pesa 250 gramas, quantas barras completas serão necessárias para atender à demanda?

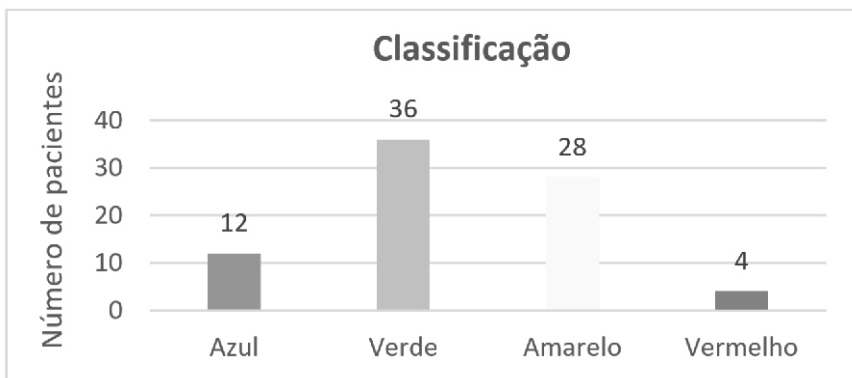
- a) 150.
- b) 120.
- c) 140.
- d) 180.
- e) 130.

27ª QUESTÃO

Em um pronto-socorro, os pacientes são classificados de acordo com a gravidade de suas condições de saúde, utilizando um sistema de cores. Cada paciente recebe uma pulseira que indica a prioridade de atendimento, conforme a seguinte classificação:

- Vermelho: Emergência (atendimento imediato)
- Amarelo: Urgente (atendimento em até 60 minutos)
- Verde: Pouco urgente (atendimento em até 120 minutos)
- Azul: Não urgente (atendimento em até 240 minutos)

O gráfico abaixo apresenta a distribuição dos pacientes em um determinado dia no pronto-socorro:



A interpretação CORRETA do gráfico permite concluir que:

- a) A quantidade de pacientes cuja espera permitida é superior a 60 minutos (verde e azul) representa 60% do total.
- b) 3/5 dos pacientes são classificados como emergência ou urgência (vermelho e amarelo).
- c) 10% dos pacientes devem receber atendimento imediato.
- d) O número total de pacientes foi 90.
- e) A porcentagem de pacientes considerados pouco urgentes (verde) é menor que 40%.

RASCUNHO

28ª QUESTÃO

Carlos é um pintor profissional que, em um determinado dia, começou a pintar a fachada de um prédio às 8h40. Ele trabalhou sem interrupções por 3 horas e 25 minutos e, em seguida, fez uma pausa para o almoço. Após esse intervalo, retomou o trabalho às 14h20.

Qual foi a duração do intervalo para o almoço de Carlos?

- a) 2 horas e 25 minutos.
- b) 2 horas e 15 minutos.
- c) 1 hora e 45 minutos.
- d) 1 hora e 50 minutos.
- e) 2 horas e 5 minutos.

29ª QUESTÃO

O espaço ocupado por um circo tem o formato circular com 40 metros de diâmetro. No centro desse espaço, há um palco circular cuja área corresponde a $\frac{1}{25}$ da área total do circo.

Qual é o diâmetro desse palco? (Considere $\pi = 3$).

- a) 12 metros.
- b) 10 metros.
- c) 8 metros.
- d) 7 metros.
- e) 9 metros.

30ª QUESTÃO

Em uma cafeteria, o café expresso é vendido em dois tamanhos: tradicional e duplo. A tabela abaixo apresenta o preço e o volume de café por xícara. Em um determinado dia, a cafeteria vendeu um total de 3,2 litros de café expresso e arrecadou R\$ 208,00.

Café expresso	Volume(ml)	Preço (R\$)
Tradicional	50	4,00
Duplo	100	6,00

Nessas condições, qual a quantidade total de xícaras de café expresso duplo vendidas nesse dia?

- a) 22.
- b) 24.
- c) 20.
- d) 18.
- e) 16.

RASCUNHO

CONHECIMENTOS GERAIS

31ª QUESTÃO

Para compreendermos as atuais organizações política, econômica e social do estado da Paraíba, assim como de outros estados e do Brasil, é necessário recordar um pouco de sua história.

Leia as alternativas que tratam de diferentes aspectos da história da Paraíba e assinale a que estiver CORRETA:

- a) A pecuária bovina teve um importante papel no processo de ocupação e na história do Sertão paraibano.
- b) A produção de açúcar, para abastecimento interno, concentrada no Agreste e Sertão, foi a primeira atividade econômica da Paraíba.
- c) Na época do descobrimento do Brasil, os indígenas ocupavam apenas regiões do interior do atual estado da Paraíba.
- d) Campina Grande e Areia são as cidades mais antigas da Paraíba, tendo sido as primeiras a serem fundadas pelos portugueses.
- e) Toda a história política e econômica da Paraíba, ocorreu sem vínculos e sem relações com a história da região Nordeste.

32ª QUESTÃO

“A Paraíba tem atualmente uma população estimada de 4,145 milhões de habitantes, mas 38,5% deles estão concentrados em apenas quatro municípios. Os dados são de um estudo divulgado nessa quinta-feira (29) pelo Instituto Brasileiro de Geografia e Estatística (IBGE), que tem como data de referência 1º de julho de 2024 e que analisou a realidade de todos os 5.570 municípios brasileiros. Com relação ao número total de pessoas que habitam a Paraíba, os números indicam que o estado está exatamente na metade do ranking populacional do Brasil, em 14º lugar, havendo 13 estados mais populosos e outros 13 menos populosos em comparação à Paraíba.”

Disponível em: <https://g1.globo.com/pb/paraiba/noticia>. Acesso em 04/12/2024

A partir da leitura e da análise do contexto sobre algumas particularidades da população do estado da Paraíba, é CORRETO afirmar que:

- a) as diferenças entre os números de habitantes de cada município do estado da Paraíba são bem pequenas.
- b) os municípios de João Pessoa, Campina Grande, Santa Rita e Patos, concentram mais da metade da população estadual.
- c) no ano de 2024 a Paraíba era um dos cinco estados menos populosos em toda a Federação Brasileira.
- d) a população paraibana encontra-se irregularmente distribuída entre os seus diferentes municípios.
- e) a Paraíba é o estado de menor população da região Nordeste.

33ª QUESTÃO

“Pobreza e extrema pobreza chegam ao menor nível desde 2012; queda foi puxada por ocupação e benefícios sociais, aponta IBGE. No entanto, mulheres e pessoas negras ainda são as mais afetadas pelas desigualdades. [...] Os pobres somam 47,2% da população do Nordeste e 38,5% do Norte. Nas outras regiões, os índices caem para 18,4% no Sudeste, 17,8% no Centro-Oeste e 14,8% no Sul. O cenário se repete para os extremamente pobres: 9,1% no Nordeste, 6% no Norte, 2,5% no Sudeste, 1,8% no Centro-Oeste e 1,7% no Sul.”

Disponível em: <https://www.brasildefato.com.br/2024/12/04/pobreza-e-extrema-pobreza-chegam-ao-menor-nivel-desde-2012>

Considerando as informações do contexto sobre a pobreza no Brasil, suas causas e suas consequências, leia e analise as proposições a seguir:

- I- Por ser a região mais populosa do Brasil o Nordeste tem mais da metade de sua população em situação de pobreza.
- II- As grandes desigualdades sociais e de distribuição de rendas, são as causas principais da existência dos milhões de pobres no Brasil.
- III- A inexistência de programas de benefícios sociais no Brasil, é uma das causas da permanência da extrema pobreza no país.
- IV- As desigualdades sociais no Brasil, afetam, de formas diferenciadas a população, entre homens e mulheres e brancos e negros.

É CORRETO o que se afirma apenas em:

- a) III e IV.
- b) I e II.
- c) II e IV.
- d) I, II e IV.
- e) II, III e IV.

34ª QUESTÃO

A imagem abaixo representa uma parte do projeto que é considerado a maior obra hídrica do estado da Paraíba executada pelo Governo do estado, com recursos oriundos do tesouro estadual e do Governo Federal. É uma obra importante para a segurança hídrica de 40 (quarenta) municípios do Agreste e do Litoral paraibano.



Disponível em: https://www.google.com/search?qA7agi&sca_esv=93cc6a6cdbc51fb9&hl=pt-BR. Acesso em 10/12/2024.

Assinale a alternativa que indica CORRETAMENTE, o nome da obra referenciada na imagem e no contexto, no estado da Paraíba:

- a) Canal Boqueirão-Campina Grande.
- b) Canal Acauã-Araçagi.
- c) Barragem Coremas- Mãe D'água.
- d) Canal da Redenção e do Trabalhador.
- e) Integração João Pessoa-Campina Grande.

35ª QUESTÃO

Uma das questões cada vez mais importantes para a população urbana, sobretudo nas grandes cidades, é a condição que permite o deslocamento das pessoas com o objetivo de desenvolver relações sociais e econômicas. Ônibus, metrô, outros transportes coletivos e automóveis fazem parte das soluções para esta questão.

Fonte: Ministério Público do Estado da Bahia. Adaptado.



Disponível em: https://www.google.com/search?q=charge+&sca_esv=076c6e27218f3cb7&hl=pt-BR. Acesso em 09/12/2024.

A charge e o contexto fazem referência a uma importante questão para a população de muitas cidades, do Brasil e do Mundo.

Esta questão é denominada de:

- a) Decadência do centro urbano.
- b) Desenvolvimento urbano.
- c) Mobilidade urbana.
- d) Violência no trânsito.
- e) Transporte coletivo.

36ª QUESTÃO

No dia 15 de novembro de 1889, ocorreu um importante evento que marcou a história e a organização política do Brasil, resultado da articulação entre militares e civis insatisfeitos com a Monarquia. Este evento modificou as formas de organização e de administração política do Estado Brasileiro, permanecendo até hoje.

Assinale a alternativa que indica CORRETAMENTE o nome do importante fato da história política do Brasil, descrito no contexto:

- a) Surgimento da nova República.
- b) Primeira Constituição Brasileira.
- c) Abolição da Escravatura.
- d) Proclamação da Monarquia.
- e) Proclamação da República.

37ª QUESTÃO

As imagens a seguir apresentam alguns elementos e técnicas, relacionadas a um processo que começou a desenvolver-se no mundo após a Segunda Guerra Mundial. Este processo é marcado por grandes inovações, mudanças e avanços nos campos da robótica, genética, informática, telecomunicações, eletrônica, entre outros. Estas inovações acabaram modificando as formas de trabalhar, as comunicações e os estudos, resultando em diversos benefícios para a economia e para as sociedades.



Disponível em: <https://beduka.com/blog/materias/historia/terceira-revolucao-industrial/>. Acesso em 10/12/2024.

A partir das imagens e as informações contidas no contexto sobre as inovações tecnológicas e alguns de seus efeitos, analise as afirmações a seguir:

- I- O texto e as imagens fazem referência a denominada revolução técnico científica e informacional que tem ocorrido em âmbito mundial.
- II- Os benefícios das inovações e dos avanços científicos atingem por igual as populações e as economias de todos os países do mundo.
- III- Os avanços nos campos da robótica e da informática criam mais empregos e exigem trabalhadores menos qualificados.
- IV- As mudanças e as inovações tecnológicas na economia e na vida, são cada vez mais rápidas e alteram o modo de produzir, de consumir e de se comunicar.

É CORRETO o que se afirma apenas em:

- a) I e IV.
- b) II e III.
- c) I e II.
- d) II, III e IV.
- e) I, II e III.

38ª QUESTÃO

“São alimentos produzidos com organismos geneticamente modificados – OGM, feitos a partir da transferência de genes de uma espécie para outro organismo. Esses procedimentos são realizados em laboratório, por meio de técnicas modernas de engenharia genética”.

Disponível em: <https://semil.sp.gov.br/educacaoambiental/prateleira-ambiental> Acesso em 15/12/2024.

A Lei de biossegurança no Brasil, de 2005, determina que alimentos para consumo humano, produzidos com esses organismos geneticamente modificados, devem conter em seus rótulos, a seguinte informação (símbolo):



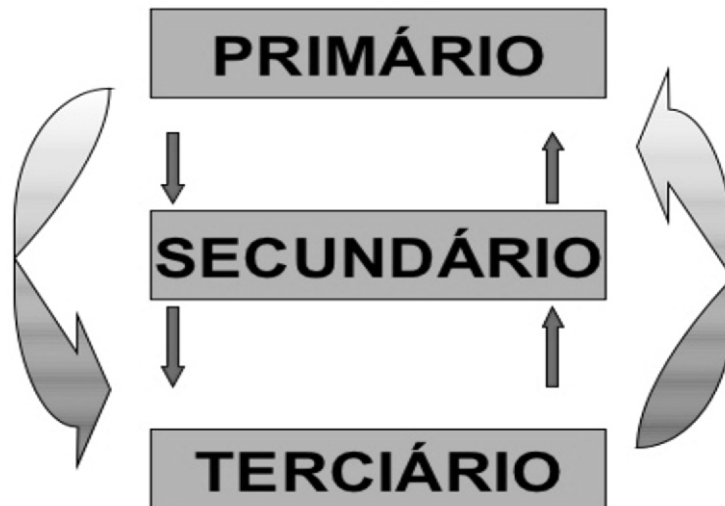
Os textos e o símbolo apresentados fazem referência a:

- a) Produção de alimentos com agrotóxicos.
- b) Produção de alimentos com transgênicos.
- c) Agricultura ecológica.
- d) Alimentos com defensivos agrícolas.
- e) Produção de alimentos com fertilizantes.

39ª QUESTÃO

Os setores de atividades econômicas são as áreas que compõem a economia de um país ou região, divididas de acordo com as características e funções das atividades que as compõem. A divisão dos setores econômicos é feita, normalmente, em três grandes categorias: primário, secundário e terciário. Cada setor é composto por empresas, negócios e postos de trabalho semelhantes. No Brasil o setor mais importante de sua economia e o que gera mais empregos é o setor terciário.

SETORES DA ECONOMIA



Disponível em: <https://www.google.com/search?=setores+da+economia+desenho>. Acesso em: 22/12/2024.

Assinale a alternativa CORRETA que contém apenas atividades do setor terciário:

- a) Comércio e Indústrias de bens de consumo.
- b) Turismo e Agropecuária.
- c) Agricultura e Pecuária.
- d) Atividades industriais e de mineração.
- e) Serviços públicos e Comércio.

40ª QUESTÃO

A atual Constituição Federal do Brasil, promulgada em 05 de outubro de 1988, assegura a organização partidária e a participação política da população por meio do voto, com eleições periódicas para a escolha de vários cargos políticos.

Sobre os processos políticos e eleitorais, assegurados pela atual Constituição Brasileira, leia e analise as proposições a seguir:

- I- Sistema presidencialista de governo, com eleição direta para Presidente, em dois turnos, se algum candidato não obtiver mais da metade dos votos válidos no primeiro turno.
- II- Direito ao voto para analfabetos e para pessoas entre 16 e 18 anos de idade, sendo facultativo para estas pessoas e para idosos com mais de 70 anos.
- III- Eleições indiretas para Deputados Federais e Senadores da República, com mandatos eletivos de duração de quatro anos para os dois cargos.
- IV- Liberdade de organização partidária com proibição de coligações de partidos políticos em eleições para Governadores e Prefeitos.

É CORRETO o que se afirma apenas em:

- a) II, III e IV.
- b) II e III.
- c) I e IV.
- d) I e II.
- e) I, III e IV.