



## PREFEITURA DO MUNICÍPIO DE ITATIBA

ESTADO DE SÃO PAULO

CONCURSO PÚBLICO

### 025. PROVA OBJETIVA

#### FISCAL DE OBRAS

- ◆ Você recebeu sua folha de respostas e este caderno contendo 40 questões objetivas.
- ◆ Confira seus dados impressos na capa deste caderno e na folha de respostas.
- ◆ Quando for permitido abrir o caderno, verifique se está completo ou se apresenta imperfeições. Caso haja algum problema, informe ao fiscal da sala para a devida substituição deste caderno.
- ◆ Leia cuidadosamente todas as questões e escolha a resposta que você considera correta.
- ◆ Marque, na folha de respostas, com caneta de tinta preta, a letra correspondente à alternativa que você escolheu.
- ◆ A duração da prova é de 3 horas, já incluído o tempo para o preenchimento da folha de respostas.
- ◆ Só será permitida a saída definitiva da sala e do prédio após transcorridas 2 horas do início da prova.
- ◆ Deverão permanecer em cada uma das salas de prova os 3 últimos candidatos, até que o último deles entregue sua prova e assine o termo respectivo.
- ◆ Ao sair, você entregará ao fiscal a folha de respostas e este caderno.
- ◆ Até que você saia do prédio, todas as proibições e orientações continuam válidas.

**AGUARDE A ORDEM DO FISCAL PARA ABRIR ESTE CADERNO.**

Nome do candidato

RG

Inscrição

Prédio

Sala

Carteira



## CONHECIMENTOS GERAIS

### LÍNGUA PORTUGUESA

Leia a tira a seguir para responder às questões de 01 a 03:



(Willian Leite,

Disponível em: <http://www.willtirando.com.br/category/anesia/page/16/>)

01. Na tira, a expressão popular “levar desaforo para casa” produz efeito de humor ao ser usada para indicar que a personagem

- (A) no 1º quadro soube se defender adequadamente de quem a ofendera.
- (B) no 1º quadro não guarda rancor pelas ofensas sofridas.
- (C) no 2º quadro sente raiva da amiga que não deseja recebê-la em casa.
- (D) no 2º quadro se dirige à casa da amiga para contar da situação ruim por que passara.
- (E) que fala no 3º quadro considera que a amiga merecia passar pela situação que viveu.

02. No 2º quadro, a palavra “mas” estabelece relação de sentido de

- (A) oposição.
- (B) consequência.
- (C) explicação.
- (D) causa.
- (E) proporção.

03. A palavra “desaforo” (3º quadro) pertence à mesma classe de palavras que

- (A) “minha”.
- (B) “vem”.
- (C) “pra”.
- (D) “desaforada”.
- (E) “casa”.

Leia o poema a seguir para responder às questões 04 e 05:

#### Vietnã

Mulher, como você se chama? – Não sei.  
Quando você nasceu, de onde você vem? – Não sei.  
Para que cavou uma toca na terra? – Não sei.  
Desde quando está aqui escondida? – Não sei.  
Por que mordeu o meu dedo anular? – Não sei.  
Não sabe que não vamos te fazer nenhum mal? – Não sei.  
De que lado você está? – Não sei.  
É a guerra, você tem que escolher. – Não sei.  
Tua aldeia ainda existe? – Não sei.  
Esses são teus filhos? – São.

(Wisława Szymborska, [poemas])

04. Com base na leitura do poema, é correto afirmar que a mulher que responde às perguntas

- (A) não sabe de onde vem e, por isso, inventa para si uma história sobre a própria vida.
- (B) deseja ter filhos, mesmo que digam para ela que seu país foi destruído pela guerra.
- (C) perde, na guerra, as suas referências, mas não se esquece de seus filhos.
- (D) se esconde, pois não deseja que seus filhos a encontrem no meio da guerra.
- (E) não confia em quem conversa com ela e, por isso, mente sobre os seus dados.

05. No poema, os travessões indicam

- (A) a introdução de explicações.
- (B) a mudança de interlocutor.
- (C) a ênfase em algumas palavras.
- (D) a alteração no ritmo de uma frase.
- (E) o início de uma enumeração.

Leia o texto a seguir para responder às questões de **06 a 10**:

*Cuidar de quem cuida de idosos dependentes:  
por uma política necessária e urgente*

Cuidar decorre das expectativas sociais sobre o conceito cultural de família e continua a ser parte das obrigações femininas. Costuma acontecer que, nas famílias, uma mulher é escolhida como cuidadora pela pessoa de quem cuida, ou é autoescolhida, ou, ainda, exerce sua função por falta de outra opção.

No Brasil, o espectro de idade delas vai de 26 a 86 anos. São mulheres que abrem mão da vida pessoal, profissional, social e afetiva. E, mesmo quando seu trabalho é banhado de amor e reconhecimento, ela se empobrece do ponto de vista econômico e social e passa a ter, desde então, uma existência restrita e confinada, unicamente dedicada ao familiar em situação de dependência. As que são apoiadas por algum tipo de renda consideram esse aporte insuficiente. E as que vivem com pouca renda reduzem as opções de suporte frente à carga das necessidades. A maioria afirma que não recebe ajuda de ninguém e nenhuma recompensa econômica por sua dedicação.

Cuidar sempre afeta a vida da cuidadora. Em estudos que as comparam com a população em geral, são representadas com pior saúde física, mais frequente uso de medicamentos, taxas elevadas de depressão e ansiedade, estresse, menor satisfação com a vida e sensação de sobrecarga. Existem evidências de que o comprometimento cognitivo e a doença mental do idoso são mais onerosos do que os problemas físicos para quem cuida deles. Os agravos da própria saúde mental da pessoa que acompanha o idoso frequentemente aumentam à medida do tempo gasto no cuidado.

(Maria Cecília de Souza Minayo, "Cuidar de quem cuida de idosos dependentes: por uma política necessária e urgente". Adaptado)

**06.** A partir da leitura do texto, é correto afirmar que o trabalho de cuidado de idosos dependentes

- (A) é feito, geralmente, tanto por homens quanto por mulheres, embora estas sofram mais por terem a renda mais baixa.
- (B) impõe mais dificuldades quando os idosos apresentam limitações físicas, já que as mulheres não têm força suficiente para realizar esse cuidado.
- (C) é realizado principalmente pelas mulheres, que são escolhidas pela família por serem mais amorosas com os idosos do que os homens.
- (D) tem um impacto negativo nas dimensões físicas, mentais, sociais e econômicas das mulheres que cuidam.
- (E) afeta principalmente as mulheres jovens, que deixam de trabalhar para cuidar de seus pais e avós.

**07.** Considere os trechos a seguir:

- "As que são apoiadas por algum tipo de renda consideram esse **aporte** insuficiente." (2º parágrafo)
- "... o comprometimento cognitivo e a doença mental do idoso são mais **onerosos** do que os problemas físicos..." (3º parágrafo)

As palavras destacadas têm como sinônimos, no contexto em que foram empregadas, correta e respectivamente,

- (A) "contribuição" e "custosos".
- (B) "suporte" e "temidos".
- (C) "fardo" e "dispendiosos".
- (D) "ênfase" e "raros".
- (E) "controle" e "econômicos".

**08.** Considere o trecho a seguir:

- "E, mesmo quando seu trabalho é banhado de amor e reconhecimento, ela se empobrece do ponto de vista econômico e social e passa a ter, desde então, uma existência restrita e confinada, unicamente dedicada ao familiar em situação de dependência." (2º parágrafo)

Foi empregada em sentido figurado a palavra

- (A) "trabalho".
- (B) "banhado".
- (C) "econômico".
- (D) "existência".
- (E) "dependência".

**09.** Assinale a alternativa em que a expressão destacada pode ser substituída pelo que está entre colchetes, preservando-se o sentido original e a norma-padrão de regência.

- (A) Cuidar **decorre das** [procede nas] expectativas sociais sobre o conceito cultural de família... (1º parágrafo)
- (B) ... e continua **a ser parte das** [constar com as] obrigações femininas. (1º parágrafo)
- (C) ... é escolhida como cuidadora pela pessoa **de quem cuida** [por quem assiste]... (1º parágrafo)
- (D) São mulheres que **abrem mão da** [renunciam para a] vida pessoal, profissional... (2º parágrafo)
- (E) Cuidar sempre **afeta a** [tem implicações na] vida da cuidadora. (3º parágrafo)

10. Em “E, **mesmo quando** seu trabalho é banhado de amor e reconhecimento...” (2º parágrafo), o trecho em destaque pode ser substituído, sem prejuízo do sentido original e da correção gramatical, por:
- (A) de fato assim que
  - (B) visto que
  - (C) desde que
  - (D) até no caso em que
  - (E) na medida em que

Leia o texto a seguir para responder às questões de 11 a 14:

#### *A cultura dos macacos-pregos*

Nos últimos anos, os arqueólogos que trabalham na Serra da Capivara, no Piauí (um dos complexos pré-históricos mais importantes do Brasil, famoso pelas belas pinturas nas rochas), passaram a enfrentar uma nova dor de cabeça. Tanto lá quanto em outros lugares do País e do mundo, lascas de pedra simples, que sobravam do processo de fabricação de ferramentas, costumam ser um bom indício da presença de antigos seres humanos. O problema é que outra espécie de inteligência sofisticada também anda produzindo lasquinhas muito parecidas há milênios na região. Como saber quem fez o quê?

O culpado por embolar o meio de campo arqueológico se chama *Sapajus libidinosus*: é o macaco-prego-amarelo. Os dados indicam que esses primatas andam produzindo lascas de pedra há pelo menos 3 mil anos, e é possível que isso esteja acontecendo há mais tempo ainda. Num trabalho de pesquisa constante, que vem ganhando força nos últimos vinte anos, cientistas do Brasil e de outros países estão documentando a grande versatilidade tecnológica e comportamental dos macacos-pregos.

Esses primatas usam diversos recursos da natureza – por exemplo, pedras, raízes e galhinhos – como ferramentas para explorar seu ambiente, descolar comida mais nutritiva e até paquerar, e acabam assim produzindo lascas de pedra de forma não intencional. Tudo indica que essas capacidades são transmitidas culturalmente de geração em geração, podem se transformar ao longo do tempo e variam dependendo das populações de cada espécie. Isso significa que, à sua maneira, esses bichos têm se mostrado exemplos valiosos para a compreensão de como a inteligência e a cultura evoluem.

(Reinaldo José Lopes, “A cultura dos macacos-pregos”,  
*Revista Superinteressante*. Adaptado)

11. De acordo com o texto, os arqueólogos
- (A) pensavam que os únicos seres racionais eram os humanos e, por esse motivo, não valorizavam a cultura de outros primatas.
  - (B) consideravam a presença de lascas de pedra num local para determinar que humanos viveram ali, até descobrirem as habilidades dos macacos-pregos.
  - (C) desconheciam a espécie dos macacos-pregos, que passaram agora a ser o foco da maioria dos estudos arqueológicos.
  - (D) acreditavam que os macacos-pregos eram capazes de produzir lascas de pedras, mas descobriram que estas são produzidas apenas pelos humanos.
  - (E) imaginavam que as lascas de pedras eram de uma época muito antiga, mas descobriram que elas começaram a ser produzidas recentemente.
12. Com base na leitura do texto, é correto afirmar que os macacos-pregos
- (A) planejam a produção de lascas de pedras, com as quais podem cortar os alimentos.
  - (B) disputam as lascas de pedras com os seres humanos para usá-las como instrumentos.
  - (C) utilizam pedras como ferramentas e acabam produzindo algumas lascas.
  - (D) transmitem sua cultura não apenas às novas gerações, mas a outras espécies.
  - (E) são conhecidos dos pesquisadores há vinte anos, período em que sua inteligência evoluiu.
13. Assinale a alternativa em que a palavra destacada pode ser substituída por “**os quais**”, em conformidade com a norma-padrão.
- (A) “Nos últimos anos, os arqueólogos **que** trabalham na Serra da Capivara, no Piauí...” (1º parágrafo)
  - (B) “Tanto lá quanto em outros lugares do País e do mundo, lascas de pedra simples, **que** sobravam do processo de fabricação de ferramenta...” (1º parágrafo)
  - (C) “Os dados indicam **que** esses primatas andam produzindo lascas de pedra há pelo menos 3 mil anos...” (2º parágrafo)
  - (D) “Num trabalho de pesquisa constante, **que** vem ganhando força nos últimos vinte anos...” (2º parágrafo)
  - (E) “Tudo indica **que** essas capacidades são transmitidas culturalmente de geração em geração...” (3º parágrafo)

14. Em "Tudo indica que essas capacidades são transmitidas **culturalmente** de geração em geração..." (3º parágrafo), a palavra destacada expressa circunstância de
- (A) tempo.
  - (B) causa.
  - (C) companhia.
  - (D) intensidade.
  - (E) modo.
15. Assinale a alternativa redigida em conformidade com a norma-padrão de emprego do acento indicativo de crase.
- (A) Os pesquisadores dedicam-se à estudar o comportamento dos macacos-pregos.
  - (B) Os estudos abordam à versatilidade das ferramentas dos macacos-pregos.
  - (C) Os arqueólogos dirigem-se à Serra da Capivara para estudar pinturas rupestres.
  - (D) O uso de ferramentas é um comportamento comum à todos os macacos-pregos.
  - (E) As lascas de pedras dos humanos são comparadas à ferramentas de outros animais.

16. Uma empresa possui uma frota com determinado número de veículos, dos quais  $\frac{1}{6}$  são caminhonetes. Entre os demais veículos,  $\frac{2}{5}$  são motos e os outros 24 são carros de passeio.

Qual é o número de motos dessa frota?

- (A) 8
  - (B) 12
  - (C) 16
  - (D) 20
  - (E) 24
17. No estoque de uma loja, há 400 lâmpadas azuis e 648 lâmpadas vermelhas. Todas essas lâmpadas serão colocadas em caixas, cada caixa com o mesmo número de lâmpadas de uma única cor, de modo que esse número seja o maior possível.
- O número de caixas com lâmpadas vermelhas supera o número de caixas com lâmpadas azuis em
- (A) 31.
  - (B) 44.
  - (C) 50.
  - (D) 58.
  - (E) 63.
18. Um fiscal visitou determinado número de estabelecimentos em 3 dias. No primeiro dia, ele visitou 40% do número total de estabelecimentos. No segundo dia, visitou 2 estabelecimentos a menos do que o número de estabelecimentos visitados no primeiro dia; no terceiro dia, visitou os últimos 5 estabelecimentos.
- Qual foi o número de estabelecimentos visitados no segundo dia?
- (A) 8
  - (B) 6
  - (C) 5
  - (D) 4
  - (E) 3

19. Todas as 360 salas de um prédio comercial, recém-construído, foram disponibilizadas para aluguel a partir do mês de março. Ao término de maio, a razão do número de salas não alugadas para o número de salas alugadas era igual a  $\frac{2}{7}$ .

Qual era o número de salas ainda não alugadas ao término de maio?

- (A) 90
- (B) 80
- (C) 70
- (D) 60
- (E) 50

20. Para pintar  $\frac{1}{3}$  da área total de um muro, foram gastos 5

litros de uma determinada tinta.

Mantida sempre essa proporção, o número de litros dessa tinta que serão necessários para pintar  $\frac{4}{5}$  da área que

ainda resta desse muro é igual a

- (A) 4.
- (B) 5.
- (C) 6.
- (D) 7.
- (E) 8.

21. Em um depósito, há 96 caixas formando pilhas, de modo que cada pilha tem o mesmo número de caixas.

Sabendo que o número de caixas de uma pilha é igual a  $\frac{2}{3}$  do número de pilhas, então qual é o número de caixas

de uma pilha?

- (A) 8
- (B) 9
- (C) 10
- (D) 11
- (E) 12

22. As enfermeiras Ana e Carol atenderam, em determinado dia, o total de 25 pacientes.

Sabendo que Ana atendeu 3 pacientes a mais do que Carol, é correto afirmar que o número de pacientes atendidos por Ana foi igual a

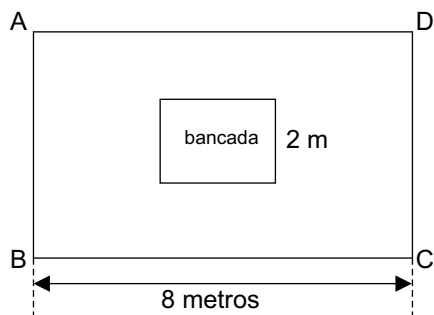
- (A) 10.
- (B) 11.
- (C) 12.
- (D) 13.
- (E) 14.

23. Uma pessoa fez 3 ligações com o celular, de modo que a média aritmética do tempo de duração das duas primeiras ligações foi de 48 minutos. Se a terceira ligação tivesse durado 5 minutos a menos do que realmente durou, a média aritmética do tempo de duração dessas 3 ligações teria sido de 45 minutos.

De quantos minutos foi o tempo de duração da terceira ligação?

- (A) 51
- (B) 47
- (C) 44
- (D) 42
- (E) 39

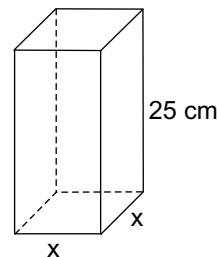
24. Em uma sala retangular ABCD, com 8 metros de comprimento, foi colocada uma bancada, de tampo retangular, com 2 metros de largura, conforme mostra a figura a seguir (fora de escala):



Sabendo que o perímetro desse tampo é de 10 metros e que a área da sala ABCD é 8 vezes a área do tampo, qual é o perímetro da sala ABCD, em metros?

- (A) 24
- (B) 28
- (C) 34
- (D) 42
- (E) 48

25. Um sólido de madeira tem o formato de um prisma reto de base quadrada, com arestas da base medindo  $x$  cm e com altura medindo 25 cm, conforme mostra a figura a seguir (fora de escala):



Sabendo que o volume desse sólido é de  $900 \text{ cm}^3$ , é correto afirmar que o perímetro de sua base, em centímetros, é igual a

- (A) 36.
- (B) 32.
- (C) 28.
- (D) 24.
- (E) 20.

**R A S C U N H O**

## CONHECIMENTOS ESPECÍFICOS

26. Nas edificações, os compartimentos podem ser classificados de acordo com a sua ocupação e uso. São classificados(as) como área de permanência eventual:

- (A) salas de aula.
- (B) escadas.
- (C) banheiros.
- (D) casas de máquinas.
- (E) escritórios.

27. A circulação em um mesmo nível é um conceito importante no projeto e na segurança das edificações para acessibilidade, evacuação e funcionalidade dos ambientes. Com relação aos espaços de passagem horizontal, é recomendável que:

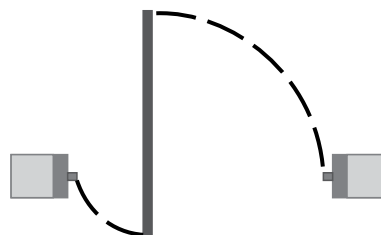
- (A) os corredores de uso comum tenham largura mínima de 1,80 m.
- (B) desníveis entre 20 mm e 30 mm tenham chanfro.
- (C) em rotas acessíveis para cadeirantes, a largura mínima seja 1,50 m para passagem.
- (D) corredores de uso público tenham largura mínima de 2,50 m.
- (E) desníveis de 5 a 20 mm possuam inclinação máxima de 50%.

28. O processo de licenciamento e aprovação de um projeto de construção civil envolve várias etapas essenciais para garantir que a obra esteja dentro das normas e dos regulamentos municipais. O conjunto de normas legais que regulamenta a construção, reforma, ampliação e manutenção de edificações é denominado

- (A) Memorial Descritivo.
- (B) Código de Obras e Edificações.
- (C) Alvará de Construção.
- (D) Lei de Zoneamento.
- (E) Plano de Gerenciamento.

29. Nos projetos de arquitetura das edificações, são representados, entre outros detalhes construtivos, o tipo de porta que será utilizada em cada ambiente.

Em face do exposto, considere a seguinte imagem:



(<https://www.pinterest.co.kr>. Adaptado)

Caso seja observada a representação da imagem, significa que, nesse ambiente, será colocada uma porta do tipo

- (A) articulada.
- (B) de correr.
- (C) de giro.
- (D) pivotante.
- (E) embutida.

30. A planta topográfica de um terreno onde será construído um edifício mostra curvas de nível abertas, de metro em metro, muito próximas umas das outras. Isso significa que esse terreno é

- (A) plano.
- (B) moderadamente inclinado.
- (C) o cume de um morro.
- (D) um vale.
- (E) íngreme.

31. Após a análise dos resultados da sondagem e das condições locais de uma área, o projeto da edificação que será construída nesse local especificou para fundação a estaca raiz. O fiscal de obras pode identificar essa estaca em razão da seguinte característica:

- (A) após a perfuração, é colocado o tubo de revestimento recuperável, simultaneamente ao lançamento do concreto. A concretagem é feita com apiloamento e retirada da tubulação.
- (B) são aplicadas injeções de ar comprimido imediatamente após a moldagem do fuste e no topo dele, concomitantemente à remoção do revestimento. Não utiliza concreto e, sim, argamassa.
- (C) sua execução consiste na simples queda de um soquete, com massa de 300 a 600 kg, abrindo um furo de 0,20 m a 0,50 m, que posteriormente é preenchido com concreto.
- (D) a escavação do solo é feita por meio de um trado contínuo, possuidor de hélices em torno de um tubo central vazado que, após sua introdução no solo até a cota especificada, é extraído concomitantemente à injeção do concreto.
- (E) sua execução consiste em cravar um tubo de revestimento com ponta fechada por meio de bucha e recuperado na fase de concretagem.

- 32.** A prefeitura especificou que, para pavimentar as ruas de um bairro em expansão, fosse aplicada uma associação, em consistência fluida, de agregados minerais, filler, emulsão asfáltica catiônica e água, uniformemente misturados e espalhados no local, à temperatura ambiente. Esse produto é conhecido como
- (A) lama asfáltica.
  - (B) capa selante por penetração.
  - (C) macadame betuminoso.
  - (D) imprimação.
  - (E) tratamento anti-pó.
- 33.** Parte da estrutura de um edifício é composta de 4 pilares de 0,5 m x 0,5 m e altura de 3,2 m, 4 vigas de comprimento 4,5 m, largura e altura de 0,5 m, engastadas nesses pilares, e uma laje, de espessura 0,15 m, cobrindo totalmente esse esqueleto. A quantidade de concreto necessária para construir essa estrutura, sem considerar as perdas e a armadura, será de, aproximadamente:
- (A) 8,6 m<sup>3</sup>
  - (B) 9,8 m<sup>3</sup>
  - (C) 10,7 m<sup>3</sup>
  - (D) 11,5 m<sup>3</sup>
  - (E) 12,2 m<sup>3</sup>
- 34.** Para que as instalações prediais de águas pluviais cumpram sua finalidade de modo eficiente, devem atender alguns requisitos, entre os quais:
- (A) nas junções das tubulações e, no máximo de 20 em 20 metros, deve haver uma caixa de inspeção.
  - (B) lajes impermeabilizadas devem ter declividade mínima de 1,5%.
  - (C) o sistema de esgotamento das águas pluviais pode ser em conjunto com a rede de água fria.
  - (D) calhas de beiral e platibanda devem ter declividade mínima de 1,5%.
  - (E) deve-se prever, no mínimo, dois extravasores de calha e duas saídas, que descarregam em locais adequados, em qualquer situação.
- 35.** A rede coletora de esgoto sanitário é uma parte fundamental do sistema de saneamento urbano, composta por diversos elementos, entre os quais os coletores-tronco, que são
- (A) tubulações instaladas geralmente ao longo de rios ou canais, que captam o esgoto que poderia ir para o corpo d'água e conduzem até a estação de tratamento de esgoto.
  - (B) estruturas verticais de inspeção feitas de concreto ou alvenaria, que permitem acesso à rede para limpeza e manutenção e instalam-se geralmente a cada 50 m ou em mudanças de direção ou declividade.
  - (C) usados em locais com topografia desfavorável, ou seja, terreno plano ou com desnível contrário ao escoamento, onde bombas elevam o esgoto para que ele possa continuar seu caminho por gravidade.
  - (D) canais principais que recebem o esgoto de diversos coletores secundários, transportando o esgoto por longas distâncias, que se conectam a redes maiores ou diretamente às estações elevatórias ou de tratamento.
  - (E) tubulações que conectam a instalação interna dos imóveis à rede pública, com diâmetro comum de 100 mm e que devem ter caixa de inspeção e dispositivo de limpeza.
- 36.** De acordo com a lei de uso e ocupação do solo, toda edificação, independentemente de seu uso, deverá destinar área para estacionamento, coberta ou descoberta, de fácil acesso. Dentre as determinações, está correto citar que
- (A) a área de estacionamento não poderá ser inferior a 8,0 m<sup>2</sup> para cada vaga.
  - (B) edifícios de apartamentos, compostos de unidades habitacionais com área útil de 60,00m<sup>2</sup> até 180,00m<sup>2</sup> devem ter três vagas para cada unidade.
  - (C) hospitais, casas de saúde, maternidades devem dispor de uma vaga para cada cinco leitos.
  - (D) teatros, cinemas e auditórios devem ter uma vaga para cada vinte lugares.
  - (E) clubes recreativos ou esportivos devem dispor de uma vaga para cada vinte frequentadores.

- 37.** O “Habite-se” é um documento oficial emitido pela prefeitura que autoriza a ocupação e o uso de uma edificação recém-construída ou reformada, mediante inspeção da fiscalização, que verifica as condições de compatibilidade com o projeto, infraestrutura e segurança.
- Com relação ao “Habite-se”, assinale a alternativa correta.
- (A) A Certidão de Conclusão de Obra substitui o “Habite-se” para fins de averbação da edificação junto ao Cartório de Registro de Imóveis.
  - (B) Qualquer diminuição de área em relação ao projeto aprovado implica em pagamento de taxas adicionais.
  - (C) As edificações só poderão ser utilizadas após a expedição da Certidão de Conclusão de Obra e do “Habite-se”.
  - (D) As diferenças em medidas lineares de até três por cento e de até cinco por cento de área construída serão toleradas para expedição do “Habite-se”.
  - (E) Em qualquer situação, a prefeitura emite o Auto de Regularização antes da emissão do “Habite-se”.
- 38.** Estabelecimentos como bares e restaurantes necessitam do alvará de funcionamento emitido pela Prefeitura para que possam atuar legalmente. No caso de restaurantes de área até 300 m<sup>2</sup>, para emissão desse alvará, sempre será necessário
- (A) o Auto de Vistoria do corpo de bombeiros.
  - (B) Licença Ambiental da CETESB.
  - (C) Laudo de Impacto de Vizinhança.
  - (D) Estudo de Tráfego.
  - (E) Registro no Escritório Central de Arrecadação e Distribuição.
- 39.** Considera-se infração a desobediência ou a inobservância das disposições do Código de Posturas do Município de Itatiba, sendo aplicadas penas aos infratores. O infrator terá direito a uma redução de noventa por cento do valor arbitrado, caso sejam corrigidas as irregularidades que lhe deram causa, no prazo, a partir da imposição do auto de multa, de até
- (A) 24 horas.
  - (B) 10 dias.
  - (C) 1 semana.
  - (D) 1 mês.
  - (E) 60 dias.
- 40.** De acordo com o Código de Obras e Edificações do Município de Itatiba, é livre a implantação e execução, ainda que em recuos, afastamentos ou espaços exigidos em áreas privadas de
- (A) floreiras com avanço máximo de sessenta centímetros.
  - (B) abrigo de gás com área máxima de três metros quadrados.
  - (C) beirais com avanço máximo de setenta centímetros.
  - (D) cobertura de policarbonato até 20% da área da construção.
  - (E) pérgolas cujas nervuras tenham altura máxima de oitenta centímetros.

