



**SEMAE PIRACICABA – SERVIÇO MUNICIPAL DE ÁGUA E ESGOTO**

CONCURSO PÚBLICO

## **007. PROVA OBJETIVA**

### **ESCRITURÁRIO**

- ◆ Você recebeu sua folha de respostas e este caderno contendo 40 questões objetivas.
- ◆ Confira seus dados impressos na capa deste caderno e na folha de respostas.
- ◆ Quando for permitido abrir o caderno, verifique se está completo ou se apresenta imperfeições. Caso haja algum problema, informe ao fiscal da sala para a devida substituição deste caderno.
- ◆ Leia cuidadosamente todas as questões e escolha a resposta que você considera correta.
- ◆ Marque, na folha de respostas, com caneta de tinta preta ou azul, a letra correspondente à alternativa que você escolheu.
- ◆ A duração da prova é de 3 horas, já incluído o tempo para o preenchimento da folha de respostas.
- ◆ Só será permitida a saída definitiva da sala e do prédio após transcorridos 75% do tempo de duração da prova.
- ◆ Deverão permanecer em cada uma das salas de prova os 3 últimos candidatos, até que o último deles entregue sua prova e assine o termo respectivo.
- ◆ Ao sair, você entregará ao fiscal a folha de respostas e este caderno.
- ◆ Até que você saia do prédio, todas as proibições e orientações continuam válidas.

**AGUARDE A ORDEM DO FISCAL PARA ABRIR ESTE CADERNO.**

Nome do candidato \_\_\_\_\_

RG \_\_\_\_\_ Inscrição \_\_\_\_\_ Prédio \_\_\_\_\_ Sala \_\_\_\_\_ Carteira \_\_\_\_\_



## CONHECIMENTOS GERAIS

### LÍNGUA PORTUGUESA

Leia a tira para responder às questões de números 01 e 02.



(Willian Leite. *Anésia* # 551. www.willtirando.com.br. 26.03.2021)

01. É correto afirmar que o efeito de humor da tira decorre

- (A) da constatação da personagem de que a pandemia levou a um número alto de divórcios.
- (B) do conceito de “amar”, que, no 1º e 3º quadros, não está relacionado a amor entre casais.
- (C) do emprego de “próximo”, no 3º quadro, com o sentido de “seguinte” e não de “semelhante”.
- (D) da referência a uma pandemia específica, a partir do emprego do pronome “essa” (1º quadro).
- (E) da discordância veemente de uma personagem em relação ao que a outra afirmou.

02. Assinale a alternativa em que se faz afirmação quanto a alterações na tira, preservando-se a norma-padrão.

- (A) O vocábulo “para” (3º quadro) pode ser substituído por “a fim de que”, indicando finalidade.
- (B) A expressão “nunca houve tanto divórcio” (2º quadro) pode ser substituída por “nunca houveram tantas separações”.
- (C) A expressão “amar o próximo” (3º quadro) pode ser substituída por “amar-lhe”, indicando sentimento sincero.
- (D) O vocábulo “as” (1º quadro) pode ser substituído por “às”, indicando quem recebe o ensino.
- (E) A expressão “tem que” (3º quadro) pode ser substituída por “tem de”, indicando necessidade.

Leia o texto para responder às questões de números **03 a 09**.

### *Histórias de médico em formação*

Os plantonistas conhecem esta situação. No meio da noite, alguém bate insistentemente à porta: depressa, doutor, é um caso urgente. E aí é preciso saltar da cama e vestir-se precipitadamente e lavar o rosto com a esperança de que a água fria restaure a capacidade de raciocínio embotada pelo sono, e então sair e encontrar na maca um baleado, um esfaqueado, uma mulher que se retorce em dores, uma criança que mal respira. A urgência é mais que uma forma de atendimento, é um modo de viver estressante, frenético, onde a rotina mencionada nos livros jamais existe.

É raro o médico que não tenha passado por um serviço de urgência. Quando eu era estudante de medicina, fazia-se, por meio de um concurso público, um estágio de dois anos. Fui designado para um posto na Grande Porto Alegre. Antes mesmo de entrar na escala de plantões, resolvi ir até lá para conhecer o lugar. Era uma casinha velha e acanhada, cheia de gente, que estava esperando desde a madrugada. Procurei o médico-chefe e perguntei quem estava de plantão. Tu, foi a pronta resposta, e este foi o meu batismo de fogo no serviço de urgência.

Além dos pacientes que vinham ao local, era preciso responder a dezenas de chamados em domicílio. A ambulância era velha e quebrada, de modo que estávamos sempre atrasados, para grande angústia e irritação das pessoas que chamavam. Uma tarde, depois de atender a numerosos desses chamados, regresssei ao posto, exausto. O funcionário me esperava na porta, alarmado: alguém tinha se afogado no rio, deveríamos ir lá imediatamente. Voltei para a ambulância e nos dirigimos para o local.

Uma multidão se concentrava ali, em torno a um corpo na margem. Bastou-me um olhar para verificar que o homem estava morto há horas, quem sabe há dias. A ressuscitação ali era apenas pró-forma, mas eu procederia como tinham me ensinado: massagem cardíaca e respiração boca a boca. Junto ao grupo estava um cabo, acompanhado de um soldado. Eu disse ao militar que faria a massagem e pedi o seu auxílio para a respiração boca a boca. O homem olhou-me, horrorizado, mas teve presença de espírito: mandou o soldado fazer o que eu havia lhe pedido. O soldado não tinha em quem mandar, de modo que não lhe restava outro remédio senão obedecer. Perguntou somente se podia usar o lenço para evitar um contato direto. Eu disse que sim. Quem se oporia, além do morto?

Fizemos a rápida encenação, depois partimos.

(Moacyr Scliar. *Território da emoção*. Companhia das Letras, 2013. Adaptado)

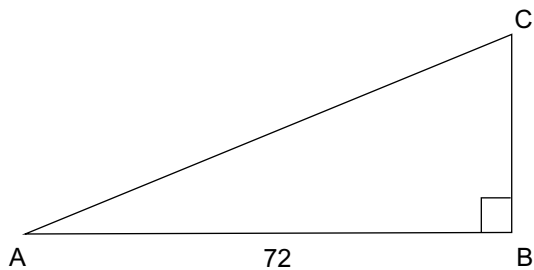
- 03.** Quanto às considerações do autor sobre a formação e a rotina do médico, é correto afirmar que
- (A) a teoria do que é ser um plantonista corresponde fi-dedignamente à prática diária da profissão.
  - (B) os casos graves com que se depara quem está de plantão acabam se tornando uma rotina banal.
  - (C) a sondagem dos locais para os quais o estudante fora designado para atuar é algo comum.
  - (D) o atendimento em urgências é parte do processo formativo para quase todos os que serão médicos.
  - (E) o estresse sob o qual se encontra o plantonista é rotineiro e pouco compreendido pelos colegas de trabalho.
- 04.** Assinale a alternativa em que se faz afirmação correta em relação ao acontecimento narrado pelo autor.
- (A) Os militares compareceram ao local para tentar conter os curiosos e acabaram ajudando o médico.
  - (B) O autor considerou a tentativa de reanimar o afogado uma encenação por não vislumbrar possibilidade de salvamento.
  - (C) O homem levado ao pronto atendimento não pôde ser salvo porque o médico estava atendendo em domicílio.
  - (D) O cabo desconhecia o procedimento de salvamento e, por essa razão, repassou ao soldado a ordem do médico.
  - (E) A inexperiência do médico, colocado para atender em seu primeiro dia, irritou os que precisavam ser atendidos.
- 05.** Assinale a alternativa em que a expressão destacada pode ser grafada entre aspas, segundo os empregos previstos desse sinal de pontuação.
- (A) No meio da noite, alguém bate insistentemente à porta: **depressa, doutor, é um caso urgente**. (1º parágrafo)
  - (B) ... lavar o rosto com a esperança de que a **água fria** restaure a capacidade de raciocínio embotada pelo sono... (1º parágrafo)
  - (C) O homem olhou-me, horrorizado, mas teve presença de espírito: **mandou o soldado fazer o que eu havia lhe pedido**. (4º parágrafo)
  - (D) **Junto ao grupo estava um cabo**, acompanhado de um soldado. (4º parágrafo)
  - (E) Eu disse que sim. Quem se oporia, **além do morto?** (4º parágrafo)

06. No trecho “O soldado não tinha em quem mandar, de modo que não lhe restava outro remédio **senão** obedecer” (4º parágrafo), o vocábulo destacado foi empregado com a função de
- (A) indicar a condição pela qual o soldado obedeceria a ordem que recebeu.
  - (B) restringir o ato de obedecer como única possibilidade que restava ao soldado.
  - (C) tratar a obediência do soldado como um problema da hierarquia militar.
  - (D) retificar o fato de que o soldado não tinha como contrariar seu superior.
  - (E) conferir à situação ideia de que a obediência era saída incômoda, mas inevitável.
07. No trecho “**Quando** eu era estudante de medicina, fazia-se, **por meio de** um concurso público, um estágio de dois anos” (2º parágrafo), o vocábulo e a expressão destacados podem ser substituídos, correta e respectivamente, por:
- (A) Na medida em que ... perante a
  - (B) Na ocasião de ... através de
  - (C) No tempo em que ... mediante
  - (D) Dado que ... por intermédio de
  - (E) Desde que ... atendendo a
08. Entre colchetes, apresenta-se forma verbal correspondente ao que está destacado em:
- (A) É raro o médico que não **tenha passado** [passaria] por um serviço de urgência. (2º parágrafo)
  - (B) Era uma casinha velha e acanhada, cheia de gente, que **estava esperando** [tinha esperado] desde a madrugada. (2º parágrafo)
  - (C) Além dos pacientes que **vinham** [vieram] ao local, era preciso responder a dezenas de chamados em domicílio. (3º parágrafo)
  - (D) O funcionário me esperava na porta, alarmado: alguém **tinha se afogado** [se afogara] no rio, deveríamos ir lá imediatamente. (3º parágrafo)
  - (E) ...mas teve presença de espírito: mandou o soldado fazer o que eu **havia lhe pedido** [lhe pedisse]. (4º parágrafo)
09. Assinale a alternativa em que a expressão destacada pode ser substituída pelo que está entre colchetes, mantendo-se a norma-padrão de colocação pronominal.
- (A) ... encontrar na maca um baleado, um esfaqueado, uma mulher que **se retorce** [retorce-se] em dores... (1º parágrafo)
  - (B) Voltei para a ambulância e **nos dirigimos** [dirigimo-nos] para o local. (3º parágrafo)
  - (C) **Bastou-me** [Me bastou] um olhar para verificar que o homem estava morto há horas, quem sabe há dias. (4º parágrafo)
  - (D) A ressuscitação ali era apenas pró-forma, mas eu procederia como tinham **me ensinado** [ensinado-me]... (4º parágrafo)
  - (E) Eu disse que sim. Quem **se oporia** [opor-se], além do morto? (4º parágrafo)
10. Está em conformidade com a norma-padrão de concordância e de regência verbal e nominal a frase:
- (A) Acentuou-se as dificuldades enfrentadas a profissionais da saúde durante o período pandêmico.
  - (B) A espera daqueles que estão em sofrimento costumam gerar de reclamação a grandes manifestações de revolta.
  - (C) O médico em pronto-socorro deve assistir de perto a casos mais graves, os quais lhes demandam mais exames.
  - (D) A resposta a um afogamento deve ser ágil e eficaz, o que exige do socorrista bom treinamento.
  - (E) Requer-se do estudante de medicina que sejam bastantes curiosos e de que não deixem de perguntar.

11. Do total de servidores de uma repartição estadual, 45% são homens, e das mulheres, quatro quintos possuem 30 anos ou mais de idade. Se o número de servidoras dessa repartição com menos de 30 anos é igual a 231, o número total de servidores dessa repartição é igual a
- (A) 2310  
(B) 2175  
(C) 2100  
(D) 1575  
(E) 1270
12. Um serviço municipal de águas possui certa quantidade de técnicos, que se encontram divididos em equipes, a saber, 3 equipes com  $X$  técnicos em cada e 4 equipes com  $X + 3$  técnicos em cada. Porém, essas equipes serão desfeitas, e todos os técnicos serão divididos em 8 equipes com  $X + 1$  técnicos em cada. Com base nessas informações, conclui-se que a quantidade de técnicos que esse serviço municipal de águas possui é tal que, se forem formadas duplas de técnicos, o número total de duplas será igual a
- (A) 22.  
(B) 20.  
(C) 18.  
(D) 16.  
(E) 14.
13. Kátia comprou dois relógios de pulso, para dar de presente para seu primo e para seu irmão, um para cada. Esses relógios tinham preços diferentes, sendo a média aritmética simples desses preços igual a R\$ 864,00. Sabendo que a diferença entre os preços desses relógios é igual a R\$ 28,00, é correto concluir que o relógio mais barato custou
- (A) R\$ 878,00  
(B) R\$ 862,00  
(C) R\$ 858,00  
(D) R\$ 854,00  
(E) R\$ 850,00

Para responder às questões de números **14 e 15**, considere a seguinte situação:

Caio e Paloma estavam passeando em uma praça que possui a forma de um triângulo retângulo, conforme representado, fora de escala, pela figura a seguir:








Eles iniciaram o passeio, juntos, no ponto A, e a partir de então Caio andou, em linha reta, até o ponto B, e do ponto B ao ponto C, sempre com a mesma velocidade – ou seja, sempre percorrendo 0,6 metro a cada segundo. Paloma partiu no mesmo momento que Caio, mas andou, em linha reta, diretamente até o ponto C. A distância de A até B é de 72 metros.

- 14.** A partir das informações do texto, e sabendo que Caio gastou 2 minutos e 35 segundos para completar seu trajeto de A até C, passando por B, é correto concluir que a área da praça, em metros quadrados, é igual a
- (A) 334
  - (B) 446
  - (C) 558
  - (D) 756
  - (E) 820
- 15.** Sabendo que Paloma caminhou sempre com a mesma velocidade – ou seja, percorrendo sempre 1,5 metro a cada segundo –, é correto afirmar que o tempo que Caio gastou a mais que Paloma para chegar ao ponto C corresponde a
- (A) 1 minuto e 45 segundos.
  - (B) 1 minuto e 40 segundos.
  - (C) 1 minuto e 35 segundos.
  - (D) 1 minuto e 30 segundos.
  - (E) 1 minuto e 25 segundos.

## NOÇÕES DE INFORMÁTICA

16. Um usuário acessou um diretório no Windows 10, em sua configuração-padrão, contendo os seguintes arquivos:

 \_Texto1  
 \_\_Texto2  
 A01\_Planilha-Gastos  
 000\_Arquivos-2024  
 \_Texto01

Em seguida, classificou os arquivos por nome em ordenação crescente.

O terceiro arquivo, de cima para baixo, após a ordenação realizada pelo usuário, será:

- (A) \_Texto1  
(B) \_\_Texto02  
(C) A01\_Planilha-Gastos  
(D) 000\_Arquivos-2024  
(E) \_Texto01
17. Um escritório, editando um documento no MS-Word 2016, em sua configuração-padrão, precisa inserir um texto no meio da página, de modo a enfatizá-lo ao leitor do documento e separá-lo do restante do conteúdo da página. Dentre as opções disponíveis no MS-Word, qual é o objeto mais indicado para ser inserido no documento pelo escritório?
- (A) Campo predefinido.  
(B) Referência cruzada.  
(C) Link.  
(D) Caixa de texto.  
(E) Legenda.

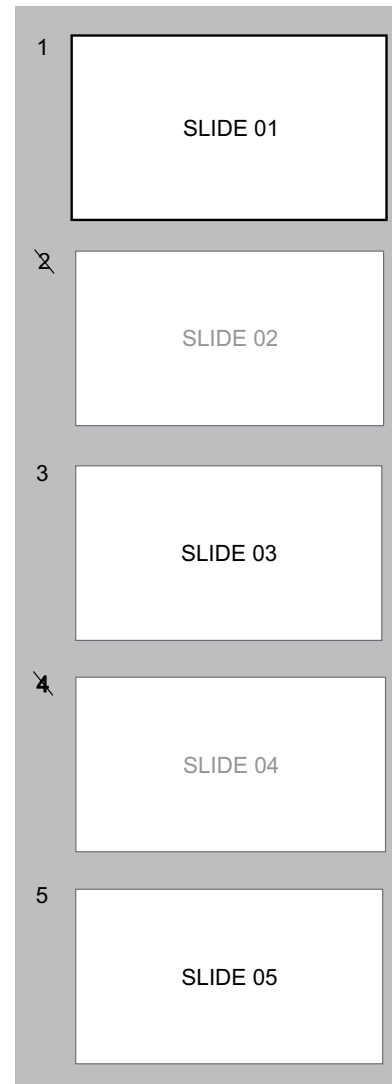
18. Considere o documento aberto no programa MS-Excel 2016, em sua configuração-padrão, contendo a seguinte planilha:

	A	B
1	Maçãs	Limões
2	Goiabas	Lichias
3	Bananas	Peras
4		

Se a fórmula =CONT.VALORES(A1:B3) for inserida na linha A4, o resultado apresentado será:

- (A) 2  
(B) 3  
(C) 0  
(D) 1  
(E) 6

19. Um usuário está editando a seguinte apresentação de slides utilizando o MS-PowerPoint 2016, em sua configuração-padrão:



Ao inserir o número de página a partir da opção Inserir / Cabeçalho e Rodapé / Número do slide, a numeração do slide cujo texto é "SLIDE 05" será:

- (A) 1  
(B) 2  
(C) 3  
(D) 0  
(E) 5
20. Um usuário recebeu a demanda de fazer uma videoconferência online com representantes de uma empresa utilizando um programa disponível no ambiente Google Workspace.

Assinale a alternativa que apresenta o programa dessa plataforma que poderá ser utilizado para tal fim.

- (A) Meet.  
(B) Agenda.  
(C) Drive.  
(D) Chat.  
(E) Gmail.

## CONHECIMENTOS ESPECÍFICOS

21. A promulgação da Constituição Federal brasileira, em 1988, trazia quatro princípios da Administração Pública. A partir de 1998, com a Emenda Constitucional nº 19, foi adicionado um quinto princípio, que é o da
- (A) eficiência.
  - (B) legalidade.
  - (C) publicidade.
  - (D) impessoalidade.
  - (E) moralidade.
22. Uma autarquia, a exemplo do Serviço Municipal de Água e Esgoto (Semae) de Piracicaba, tem como uma de suas características
- (A) integrar a Administração Pública direta.
  - (B) configurar-se como uma pessoa jurídica de direito privado.
  - (C) contratar servidores públicos por meio do regime estatutário.
  - (D) exercer atividade econômica.
  - (E) constituir-se com capital público e privado.
23. Uma das formas de a Administração Pública prestar serviços aos cidadãos é por meio das parcerias público-privadas (PPPs). A modalidade de parceria público-privada referente ao contrato de prestação de serviços de que a Administração Pública seja a usuária direta ou indireta, podendo ou não envolver execução de obra ou fornecimento e instalação de bens, a exemplo do contrato estabelecido pelo Serviço Municipal de Água e Esgoto (Semae) de Piracicaba para o serviço de esgotamento sanitário com ampliação e modernização do sistema, é denominada
- (A) autorização.
  - (B) permissão.
  - (C) concessão comum.
  - (D) concessão patrocinada.
  - (E) concessão administrativa.
24. Considerando-se os conceitos fundamentais de arquivologia, é correto afirmar que
- (A) a biblioteca é formada a partir da coleção de documentos orgânicos, e o arquivo é formado pela acumulação de documentos não orgânicos.
  - (B) os fundos de arquivo devem ser preservados sem dispersão, mutilação, alienação ou adição indevida, mas a destruição pode ocorrer desde que autorizada.
  - (C) o arquivo produzido por uma entidade coletiva, pessoa ou família deve ser misturado aos de outras entidades produtoras.
  - (D) uma vez empreendido o procedimento ou tratamento em arquivos, não há a possibilidade de revertê-lo.
  - (E) o arranjo dado pela entidade coletiva, pessoa ou família que produziu o arquivo não deve ser preservado em nenhuma hipótese, pois tal arranjo está baseado em classificação muito específica.
25. De acordo com a classificação dos documentos de arquivos em relação ao seu estágio de evolução, quando eles perdem seu valor administrativo, mas por possuírem valor histórico precisam ser mantidos, chega-se à
- (A) 2ª idade.
  - (B) 1ª idade.
  - (C) 4ª idade.
  - (D) 3ª idade.
  - (E) 5ª idade.
26. A gestão documental pode ser dividida em três fases, quais sejam: produção, utilização e destinação. Assim, corresponde a uma das atividades típicas da fase utilização dos documentos
- (A) garantia do uso de materiais apropriados na confecção de documentos.
  - (B) identificação e descrição de documentos por séries ou classes e listagem destas séries e classes para retenção ou destinação.
  - (C) avaliação para determinar quais documentos são de guarda permanente.
  - (D) eliminação periódica dos documentos destituídos de valor permanente.
  - (E) rapidez no ato de disponibilizar documentos e informações necessários ao desenrolar das funções da instituição.

27. Na gestão de documentos, ao passar a contar com programas de retenção e eliminação de documentos e definir procedimentos para recolher à instituição arquivística pública aqueles de valor permanente, um órgão ou entidade encontra-se no nível
- (A) mínimo de aplicação de programas.
  - (B) mínimo ampliado de aplicação de programas.
  - (C) intermediário de aplicação de programas.
  - (D) intermediário ampliado de aplicação de programas.
  - (E) máximo de aplicação de programas.
28. O protocolo possui diversas etapas a serem seguidas, podendo ser realizadas de forma eletrônica ou manual e física. Uma dessas atividades diz respeito à transformação de documentos avulsos em processo e é denominada
- (A) registro.
  - (B) classificação.
  - (C) autuação.
  - (D) recebimento.
  - (E) expedição.
29. O serviço de protocolo de determinada repartição pública recebeu um documento particular de um servidor público da entidade. Assim, caberá ao serviço de protocolo
- (A) registrar o documento em sistema para controle e, então, proceder com a entrega ao destinatário.
  - (B) proceder de maneira distinta do que se deve fazer com os documentos ostensivos.
  - (C) coletar apenas os metadados do documento, sem registrá-lo em sistema, e então entregá-lo ao destinatário.
  - (D) recusar o recebimento, pois, documentos de caráter pessoal devem ser entregues no endereço pessoal do destinatário.
  - (E) seguir com rotina diferente da realizada apenas para documentos de caráter sigiloso, sendo necessário abrir o envelope.
30. Na classificação dos tipos de arquivos, entre outras características definidoras, o conjunto de documentos que aguarda destinação encontra-se no arquivo
- (A) corrente.
  - (B) central.
  - (C) morto.
  - (D) intermediário.
  - (E) permanente.
31. Os equipamentos de uma entidade ou órgão público necessitam de manutenção para que funcionem adequadamente. Assim, diz respeito à manutenção preventiva
- (A) a recolocação de equipamentos, até então impossibilitados de funcionar, em condições de executarem adequadamente suas funções requeridas.
  - (B) o acionamento da equipe técnica logo após a ocorrência de panes em equipamentos.
  - (C) a aplicação sistemática de técnicas de análise dos equipamentos, utilizando-se de meios de supervisão centralizados ou de amostragem.
  - (D) a ocorrência em intervalos predeterminados com fins de reduzir a probabilidade de falha de equipamentos.
  - (E) a inspeção diária de equipamentos do parque tecnológico da entidade ou órgão público, testando todas as suas partes componentes, de modo a garantir a integridade deles.
32. No modelo que traz cinco estilos de resolução de conflitos (evitação, acomodação, competitivo, compromisso e colaboração) por meio de duas dimensões (assertiva e cooperativa), na hipótese de as partes conflituosas possuírem objetivos importantes, igual poder e vontade de minimizar as diferenças ou chegar a uma solução temporária sem a pressão do tempo, com moderada assertividade e cooperação, recomenda-se adotar o estilo de
- (A) evitação.
  - (B) compromisso.
  - (C) acomodação.
  - (D) competição.
  - (E) colaboração.
33. Os órgãos e as entidades da administração pública direta e indireta da União, dos Estados, do Distrito Federal e dos Municípios devem divulgar a Carta de Serviços ao Usuário, que tem por objetivo informar ao usuário sobre os serviços prestados pelo órgão ou entidade, as formas de acesso a esses serviços e os seus compromissos e padrões de qualidade de atendimento ao público, apresentando, no mínimo, informações relacionadas a
- (A) horário de saída e chegada dos funcionários.
  - (B) previsão de prazo mínimo para a execução do serviço.
  - (C) serviços já oferecidos e que passarão a ser oferecidos.
  - (D) locais para que o usuário possa apresentar-se como voluntário para a prestação do serviço.
  - (E) principais etapas para o processamento do serviço.

- 34.** Com base na Constituição Federal brasileira de 1988, é correto afirmar que
- (A) é garantido ao servidor público civil e militar o direito à livre associação sindical.
  - (B) o prazo de validade do concurso público é de até três anos, prorrogável uma vez, por igual período.
  - (C) a Administração Pública tem a possibilidade de realizar contratação por tempo determinado para atender a necessidade temporária de excepcional interesse público.
  - (D) os cargos, os empregos e as funções públicas são acessíveis apenas aos brasileiros natos e naturalizados.
  - (E) a investidura em cargo ou emprego público, inclusive as nomeações para cargo em comissão declarado em lei de livre nomeação e exoneração, dependem de aprovação prévia em concurso público de provas ou de provas e títulos.
- 35.** Conforme a Constituição Federal brasileira de 1988, sobre a acumulação remunerada de cargos públicos, é correto afirmar que
- (A) as regras de proibição de acúmulo abrangem, além dos cargos públicos, empregos e funções públicos.
  - (B) é permitida a acumulação remunerada de dois cargos técnicos ou científicos, desde que haja compatibilidade de horário.
  - (C) é permitida a acumulação remunerada de três cargos ou empregos privativos de profissionais de saúde, com profissões regulamentadas, desde que haja compatibilidade de horário.
  - (D) as regras de proibição de acúmulo abrangem autarquias e fundações, mas não empresas públicas e sociedades de economia mista.
  - (E) é proibida a acumulação remunerada de quaisquer cargos públicos com quaisquer cargos privados.
- 36.** Na Administração Pública brasileira, a entidade da administração indireta que pode ser criada somente por lei específica é a
- (A) autarquia.
  - (B) órgãos e secretarias de Estado.
  - (C) empresa pública.
  - (D) sociedade de economia mista.
  - (E) fundação de direito privado.
- 37.** Entre as cinco modalidades de licitação, aquela que é obrigatoriamente utilizada para a aquisição de bens e serviços comuns é denominada
- (A) diálogo competitivo.
  - (B) concurso.
  - (C) concorrência.
  - (D) leilão.
  - (E) pregão.
- 38.** Para a modalidade de licitação denominada concorrência, assinale a alternativa que compreende todos os critérios possíveis de julgamento das propostas.
- (A) Menor preço; melhor técnica ou conteúdo artístico; técnica e preço; maior desconto.
  - (B) Melhor técnica ou conteúdo artístico; maior retorno econômico.
  - (C) Menor preço; melhor técnica ou conteúdo artístico; técnica e preço; maior retorno econômico; maior desconto.
  - (D) Menor preço; melhor técnica ou conteúdo artístico; maior retorno econômico; maior desconto.
  - (E) Técnica e preço; maior retorno econômico; maior desconto.
- 39.** É um exemplo de dispensa de licitação a
- (A) aquisição de materiais que só possam ser fornecidos por produtor, empresa ou representante comercial exclusivos.
  - (B) contratação de profissional do setor artístico, desde que consagrado pela crítica especializada ou pela opinião pública.
  - (C) contratação do serviço técnico especializado, a exemplo de estudos técnicos, de natureza predominantemente intelectual com empresa de notória especialização.
  - (D) contratação que envolva valores inferiores a R\$ 50.000, corrigidos anualmente, no caso de outros serviços e compras.
  - (E) aquisição de objetos que devam ou possam ser contratados por meio de credenciamento.
- 40.** Na Administração Pública brasileira, possui(em) personalidade jurídica própria
- (A) a prefeitura.
  - (B) o município.
  - (C) as secretarias municipais e estaduais.
  - (D) a câmara municipal.
  - (E) o tribunal de justiça.

