

CONCURSO PÚBLICO

PREFEITURA MUNICIPAL DE PIÇARRA – PARÁ
EDITAL Nº 001/2025 - PMP

CARGOS: AUXILIAR DE LIMPEZA PÚBLICA; AUXILIAR DE OBRAS E INSTALAÇÕES; AUXILIAR DE SERVIÇOS GERAIS; AUXILIAR DE VIGILÂNCIA; PEDREIRO; PINTOR E TRATORISTA.

NÍVEL: FUNDAMENTAL INCOMPLETO

TURNOS: NOITE

ORIENTAÇÕES AO CANDIDATO

1- Este CADERNO DE QUESTÕES é composto de 30 (trinta) questões, cada uma com 04 (quatro) alternativas e somente uma correta. Caso exista algum problema de impressão, ou outro qualquer, comunique-o imediatamente aos fiscais de sala.

2- Leia, atentamente, cada questão da prova antes de responder.

3- Transcreva para o CARTÃO-RESPOSTA a resposta definitiva de cada questão. Marque somente uma alternativa, pois a marcação de mais de uma alternativa, ou a ausência de marcação, anulará a questão. Preencha corretamente o CARTÃO-RESPOSTA, porque ele não será substituído por erro do candidato. Preencha com caneta esferográfica, azul ou preta, conforme exemplo abaixo:

QUESTÃO	ALTERNATIVAS
01	<input type="radio"/> A <input type="radio"/> B <input type="radio"/> C <input type="radio"/> D

4- O CARTÃO-RESPOSTA DEVE SER obrigatoriamente assinado (item 9.32.d do Edital).

5- A prova terá a duração de 03 (três) horas, com o início previsto às 19:00 (dezenove horas) e término às 22:00 (vinte e duas horas) horário local.

6- Não será permitido ao candidato permanecer com armas, aparelhos eletrônicos (telefone celular, relógio de qualquer modelo, smartphone, notebook, receptor, gravador etc.), tampouco qualquer tipo de material para consulta ou quaisquer objetos mencionados no item 9.5. do Edital.

7- O candidato só poderá retirar-se da sala de provas após decorridos 60 minutos (1 hora) de seu início.

8- Após decorridos 120 minutos (2 horas) do início das provas, o candidato poderá levar o CADERNO DE QUESTÕES, entregando ao fiscal somente o CARTÃO-RESPOSTA.

9- Não será permitido ao candidato consultar o fiscal sobre quaisquer dúvidas relacionadas às interpretações dos enunciados das questões.

10- Os três últimos candidatos deverão permanecer na sala e somente poderão sair juntos do recinto após lerem, concordarem e assinarem a ata de sala (item 9.32.e do Edital).

BOA PROVA!

ELABORADO POR:

O texto abaixo, de Márcia Rebêlo, serve de base para as questões de 01 a 07. Portanto, leia-o, atentamente, antes de responder a elas.

A nossa vida é movida por altos e baixos, é por isso que precisamos, muitas vezes, buscar a ajuda de Deus, buscar forças Nele, pois há situações que somente Ele pode resolver. Portanto, por mais difíceis que as coisas estejam, confiemos em Deus e sigamos em frente. Acredite: vai dar certo e não permita que ninguém diga a você que sonhos não são possíveis.

Professora Especialista, Márcia Rebêlo.

QUESTÃO 01

No trecho: “A nossa vida é movida por altos e baixos,...”, o que a autora quis dizer com a expressão “altos e baixos”?

- A () Quis dizer que nossa vida é sempre linda.
- B () Ela se refere apenas às coisas desagradáveis da vida.
- C () Ela quis dizer que precisamos subir e descer escadas.
- D () Ela se refere às situações boas e ruins pelas quais o ser humano passa.

QUESTÃO 02

Qual é o antônimo da palavra “difíceis” encontrada no trecho seguinte: “Portanto, por mais difíceis que as coisas estejam...”?

- A () Desumanas.
- B () Honestas.
- C () Fáceis.
- D () Complicadas.

QUESTÃO 03

Em qual assertiva há uma palavra em que a sílaba tônica foi corretamente grifada?

- A () Buscar.
- B () Ajuda.
- C () Somente.
- D () Confiemos.

QUESTÃO 04

Em qual assertiva há uma informação correta acerca do texto lido?

- A () A autora incentiva os leitores a desistirem de seus sonhos.
- B () O texto foi elaborado em uma linguagem verbal.
- C () O vocábulo “baixos” foi grafado incorretamente, já que, de acordo com a Ortografia Oficial Vigente, deveria ser escrito da seguinte forma: “baichos”.
- D () O texto iniciou com letra maiúscula, porém, deveria ser com letra minúscula, já que é uma regra relacionada ao alfabeto.

QUESTÃO 05

A autora, em vários momentos, faz uso de verbos na 1ª pessoa, tais como: “precisamos”, “confiemos” e “sigamos”. Ao fazer isso, ela

- A () convida todas as pessoas a desconfiarem de Deus.
- B () mostra para os leitores que está cansada de lutar por seus sonhos.
- C () se exclui da mensagem, pois ela não passa por problemas.
- D () se coloca entre as pessoas que precisam ter forças para continuar lutando, confiando e seguindo em frente.

QUESTÃO 06

Marque a assertiva que contenha todos os vocábulos classificados como dissílabos.

- A () Altos - Baixos - Nossa.
- B () Diga - Você - Não.
- C () Buscar - Nele - Permita.
- D () Somente - Ninguém - Vida.

QUESTÃO 07

Os vocábulos “Isso” e “Resolver” foram separados silabicamente, de forma adequada, em qual assertiva?

- A () Is-so – Res-ol-ver.
- B () I-ss-o – Re-sol-ver.
- C () Is-so – Re-sol-ver.
- D () I-ss-o – Re-so-l-ver.

QUESTÃO 08

Julgue as informações abaixo sobre tipologia textual e logo após marque a assertiva correta.

I. Minha mãe se chamava Oscarina, tinha a pele morena, cabelos brancos e olhos pretos, usava óculos de grau e era extremamente carinhosa. Amava seus filhos e netos. (Texto dissertativo)


II. Marcela era uma menina muito tranquila, mas, certo dia, ela e seus irmãos resolveram que iriam aprontar com os colegas da escola. Então, no dia marcado por eles, disseram que a professora tinha dado nota máxima para todos os alunos. Eles pularam de alegria. E, quando a professora chegou, desmentiu tudo e eles ficaram tristes e chateados com os amigos. (Texto narrativo)

III. O estado do Pará se prepara para receber a 30ª Conferência da ONU sobre Mudanças Climáticas (COP30), a ser realizada em Belém (PA), em novembro de 2025. De acordo com estimativas da Fundação Getúlio Vargas (FGV), é esperado um fluxo de mais de 40 mil visitantes durante os principais dias da Conferência. Deste total, aproximadamente 7 mil compõem a chamada "Família COP", formada pelas equipes da ONU e delegações de países membros. (Texto informativo)

Conforme o julgamento das premissas, quais são verdadeiras?

- A () Todas.
- B () II e III, apenas.
- C () I e III, apenas.
- D () I, apenas.

A tirinha abaixo serve de base para as questões 09 e 10.



<https://br.pinterest.com/pin/mauricio-de-sousa-on-twitter-730427633327829363/> capturado em 25/05/2025)

QUESTÃO 09

Com base na tirinha em análise, julgue as premissas e, na sequência, assinale a opção correta.

I. O vocábulo "Não" é classificado como dissílabo.

II. O nome "Cebolinha" deveria ser grafado com letra minúscula, já que é um nome próprio, ficando, portanto, dessa forma: "cebolinha".

III. A tirinha é composta por linguagem verbal e não verbal, também chamada de linguagem mista.

IV. A separação silábica adequada do vocábulo "Ainda" é "A-in-da".

Conforme o julgamento das premissas, são verdadeiras

- A () I e II, apenas.
- B () II e III, apenas.
- C () I, III e IV, apenas.
- D () III e IV, apenas.


QUESTÃO 10

Marque a assertiva correta em relação à análise feita da tirinha.

- A () No primeiro quadrinho, Mônica expressava tristeza.
- B () "Cebolinha" é um vocábulo dissílabo.
- C () Cebolinha correu, porque não queria apanhar da Mônica, já que a desenhou com os dentes grandes.
- D () Um sinônimo adequado da palavra "Mexer" é "Gritar".

QUESTÃO 11

Marcos representou em um ábaco o total de pontos obtidos por ele em um jogo, conforme mostra a figura a seguir.

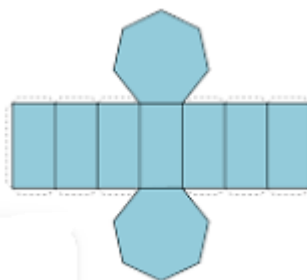


Marcos somou um total de

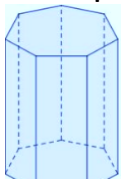
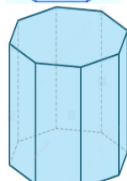
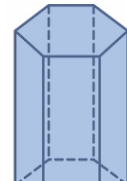
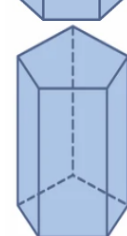
- A () 4276.
- B () 4627.
- C () 6472.
- D () 7264.

QUESTÃO 12

Juliana comprou uma caixa de presentes que está desmontada, como mostra a figura a seguir.




Como ficará a caixa após Juliana montá-la?

- A () 
- B () 
- C () 
- D () 

QUESTÃO 13

Utilizando algumas sobras de papel, Marcelo construiu a figura de um gato.

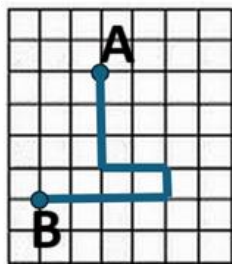


Quantas figuras de três lados ele usou?

- A 4
- B 5
- C 6
- D 7

QUESTÃO 14

A figura a seguir mostra a trajetória feita por uma formiga doceira, que parte do ponto A e vai até o ponto B, onde se encontra uma porção de mel.



Para ir de A para B, a formiga

- A avança 3, vira à direita, avança 2, vira para baixo, avança 1, vira à direita e avança 4.
- B avança 3, vira à direita, avança 3, vira à direita, avança 1, vira à esquerda e avança 4.
- C avança 3, vira à esquerda, avança 2, vira para baixo, avança 1, vira à esquerda e avança 4.
- D avança 3, vira à esquerda, avança 2, vira à direita, avança 1, vira à direita e avança 4.

QUESTÃO 15

A tabela mostra o total de cadernos vendidos por uma rede de papelarias durante os quatro primeiros meses do ano.

Meses	Cadernos vendidos
Janeiro	1148
Fevereiro	1026
Março	1234
Abril	1209

Quantos cadernos foram vendidos a mais em abril em relação a fevereiro?

- A 235
- B 203
- C 195
- D 183

QUESTÃO 16

Ana, Emília, Marcela e Telma combinaram de ir a um balneário no final de semana. O ingresso custa R\$ 25,00.

- Ana vai pagar o ingresso com duas cédulas de R\$ 20,00;
- Marcela vai pagar com duas cédulas de R\$ 10,00 e três cédulas de R\$ 2,00;
- Telma vai pagar com quatro cédulas de R\$ 5,00 e cinco moedas de R\$ 1,00;
- Emília vai pagar com uma cédula de R\$ 20,00 e três cédulas de R\$ 2,00.

Quem não receberá troco quando pagar?

- A Telma.
 B Marcela.
 C Emília.
 D Ana.

QUESTÃO 17


Joaquim possui 53 bolas de gude e pretende dividi-las igualmente para 8 crianças.

Se ele der 7 bolas de gude para cada criança, então

- A faltarão 5 bolas.
 B faltarão 3 bolas.
 C sobrarão 3 bolas.
 D sobrarão 5 bolas.

QUESTÃO 18

Um artesão pintou a letra P em uma parede revestida com azulejos quadrados, conforme mostra a figura a seguir.



Sabendo que cada peça possui 3 cm², o artesão precisou pintar um total de

- A 12 cm².
 B 24 cm².
 C 36 cm².
 D 42 cm².

QUESTÃO 19

Luísa escreveu uma sentença matemática no caderno. A tinta da caneta manchou um dos números e ela terminou não conseguindo mais ver que número era esse.

$$5634 - 1897 = 2035 + \text{[mancha]}$$

Que número foi coberto pela tinta e que torna a sentença verdadeira?

- A 1702
 B 2647
 C 3737
 D 5772

QUESTÃO 20

A sequência a seguir é formada por um certo número de bolinhas.



Mantendo-se o padrão da sequência, quantas bolinhas serão necessárias para formar a próxima figura?

- A 18
- B 21
- C 24
- D 27

CONHECIMENTOS ESPECÍFICOS

QUESTÃO 21

Observe a imagem abaixo:



Disponível em: <http://imgms.almanaque.abril.com.br>. Acesso em: 2 out. 2015.

Sobre a divisão regional do Brasil representada no mapa, conclui-se que:

- A Considera somente fatores sociais.
- B É baseada somente em aspectos naturais.
- C É considerada a divisão oficial do território brasileiro.
- D Representa o território brasileiro de acordo com a vegetação.

QUESTÃO 22

Marque a alternativa que apresenta o município que faz limite com o município de Piçarra.

- A Santarém.
- B Barcarena.
- C Bragança.
- D São Geraldo do Araguaia.

QUESTÃO 23

As conferências ambientais se tornaram eventos de importância global. Qual a conferência ambiental que será realizada em Belém do Pará em 2025?

- A COP 30.
- B Rio + 10.
- C Kyoto.
- D Estocolmo.

QUESTÃO 24

Qual o primeiro nome dado ao município de Piçarra?

- A Araguari.
- B São Francisco.
- C Agrópolis.
- D Cruzelândia.

QUESTÃO 25

Marque a alternativa que apresenta uma das consequências do desmatamento no Pará.

- A A perda de espécies animais e vegetais.
- B A diminuição da temperatura.
- C O aumento das espécies vegetais.
- D A diminuição da área de pastagem.

QUESTÃO 26

"A mineração é a principal atividade econômica do Pará. O estado é reconhecido como detentor da maior província mineral do planeta."

Fonte: www.brasilecola.uol.com.br/brasil/para.htm

Qual o nome da principal jazida mineral do estado do Pará?

- A Trombetas.
- B Carajás.
- C Belo Monte.
- D Tucuruí.

QUESTÃO 27

Qual a atividade que contribui para o aquecimento global?

- A A reciclagem do alumínio.
- B O reflorestamento.
- C A indústria madeireira.
- D A produção de energia solar.

QUESTÃO 28

Em qual rio está localizada a usina hidrelétrica de Tucuruí?

- A Tocantins.
- B São Francisco.
- C Xingu.
- D Amazonas.

QUESTÃO 29

Qual das atividades econômicas abaixo contribui para o desmatamento?

- A A criação de reservas extrativistas.
- B O turismo ecológico.
- C A pesca esportiva.
- D A agricultura de soja.

QUESTÃO 30

No final do século XIX e início do século XX, a Amazônia passou por um grande crescimento econômico, baseado na:

- A Produção de ouro.
- B Produção da borracha.
- C Construção de rodovias.
- D Produção de alumínio.