



EDITAL DE CONCURSO PARA EMPREGO
PÚBLICO N° 1/2025



M0446006N

SANESUL – EMPRESA DE SANEAMENTO DE MATO GROSSO DO SUL S.A.

TÉCNICO EM EDIFICAÇÕES

NOME DO CANDIDATO

INSCRIÇÃO

Nível

TÉCNICO

Turno

MANHÃ



**instituto
aacp**

Fraudar ou tentar fraudar
Concursos Públicos é Crime!
Previsto no art. 311 - A do
Código Penal

Sobre o material recebido pelo candidato

- ✓ Além deste Caderno de Questões com **sessenta questões objetivas**, você receberá do fiscal de sala a Folha de Respostas.
- ✓ Confira seu nome, o número do seu documento e o número de sua inscrição em todos os documentos entregues pelo fiscal. Além disso, não se esqueça de conferir seu Caderno de Questões quanto a falhas de impressão e de numeração e se o emprego público corresponde àquele para o qual você se inscreveu.
- ✓ O não cumprimento a qualquer uma das determinações constantes em Edital, no presente Caderno e na Folha de Respostas incorrerá na eliminação do candidato.

Sobre o material a ser devolvido pelo candidato

- ✓ O único documento válido para avaliação é a Folha de Respostas.
- ✓ Na Folha de Respostas, preencha o campo destinado à assinatura. As respostas das questões objetivas devem ser preenchidas da seguinte maneira: ●
- ✓ Na Folha de Respostas, só é permitido o uso de caneta esferográfica transparente de cor azul ou preta. Esse documento deve ser devolvido ao fiscal na saída, devidamente preenchido e assinado.

Sobre a duração da prova e a permanência na sala

- ✓ O prazo de realização da prova é de 04 (quatro) horas, incluindo a marcação da Folha de Respostas.
- ✓ Após 60 (sessenta) minutos do início da prova, o candidato estará liberado para utilizar o sanitário ou deixar definitivamente o local de aplicação, não podendo, no entanto, levar o Caderno de Questões e nenhum tipo de anotação de suas respostas.
- ✓ O candidato poderá levar consigo o Caderno de Questões somente se aguardar em sala até o término do prazo de realização da prova estabelecido em Edital.
- ✓ Os três últimos candidatos só poderão retirar-se da sala juntos, após assinatura do Termo de Fechamento do Envelope de Retorno.

Sobre a divulgação do Caderno de Questões e do Gabarito

- ✓ O Caderno de Questões e o Gabarito preliminar estarão disponíveis no site do **Instituto AACP** no endereço eletrônico **www.institutoaacp.org.br**, conforme previsto em Edital.

Língua Portuguesa

Atual cenário de chuvas intensas e fortes tempestades no país pode impactar sistema de saneamento básico

Estudo do Trata Brasil revela como as tempestades sobrecarregam os sistemas de água e esgotamento sanitário

Publicado em 16/01/2025

O Brasil enfrenta um cenário de chuvas intensas e fortes tempestades que estão afetando diversos estados. De acordo com o **Instituto Nacional de Meteorologia (INMET)**, a previsão para o período de **13 a 20 de janeiro** aponta chuvas em quase todo o país. Além disso, o boletim agroclimático divulgado pelo INMET destaca que a interação entre a superfície dos oceanos e a atmosfera exerce um impacto nas condições climáticas, com fenômenos como o El Niño influenciando diretamente o tempo e o clima no país.

A **intensificação das mudanças climáticas representa uma ameaça crescente para o setor de saneamento no Brasil**, criando desafios significativos para a operação de sistemas de água e esgoto. Esses riscos climáticos agravam as desigualdades no acesso aos serviços básicos, especialmente em comunidades urbanas periféricas e áreas rurais. De acordo com um estudo do Instituto Trata Brasil, eventos extremos como tempestades, ondas de calor e secas afetam diretamente a infraestrutura básica.

Para os serviços de saneamento, **as tempestades podem sobrecarregar os sistemas de água, drenagem e de tratamento de esgoto**. Entenda quais os principais impactos:

Mananciais e Sistemas de Água

- **Aumento do acúmulo de sedimentos:** tempestades intensas e prolongadas podem aumentar a quantidade de sedimentos carregados para mananciais e reservatórios, reduzindo a capacidade de armazenamento e dificultando o tratamento de água.
- **Estação de tratamento de água (ETAS's):**
 - **Danos físicos às estruturas e impedimento do transporte de água:** tempestades podem causar danos significativos em ETA's, estruturas de pressurização, e afetar o transporte de água.
 - **Redução da eficiência do tratamento:** as ETA's podem receber fluxos de água acima da capacidade projetada durante tempestades, comprometendo a eficiência do tratamento.
 - **Interrupções de energia:** tempestades podem gerar interrupções, afetando o funcionamento das ETA's.

Sistema de Esgoto

- **Contaminação de águas superficiais:** tempestades intensas podem causar transbordo de canais sem redes de coleta e tratamento de esgoto, e consequente liberação de efluentes não tratados diretamente nos corpos hídricos.
- **Estação de tratamento de esgoto (ETE's):**
 - **Danos físicos às estruturas e impedimento do transporte de esgoto:** tempestades podem causar danos significativos em ETE's, elevatórias e linhas de recalque, dificultando o transporte de esgoto.
 - **Redução da eficiência do tratamento:** as ETE's podem receber fluxos de água acima da capacidade projetada durante tempestades, comprometendo a eficiência do tratamento.
 - **Interrupções de energia:** tempestades podem gerar interrupções, afetando o funcionamento de bombas e outros equipamentos das ETE's.

Para enfrentar os desafios impostos pelos riscos climáticos, **é essencial que tanto o poder público quanto as empresas de saneamento adotem estratégias de adaptação climática**. Ações como o fortalecimento da infraestrutura de captação e tratamento de água e esgoto, a modernização dos sistemas de monitoramento e controle de qualidade da água, e os investimentos em tecnologia, como o reuso, contribuem para a diversificação das fontes de água. Essas medidas são fundamentais para mitigar os impactos das mudanças climáticas na vida da população, especialmente nas regiões mais vulneráveis.

Adaptado de: <https://tratabrasil.org.br/chuvas-tempestades-impactar-sistema-saneamento/>. Acesso em: 30 jan. 2025.

1

A partir da leitura e da compreensão do texto, é correto afirmar que um dos principais impactos das chuvas intensas e das tempestades no sistema de saneamento básico

- (A) é o aumento do acúmulo de sedimentos nos mananciais e reservatórios, que dificulta o tratamento de água.
- (B) é a melhoria na eficiência das estações de tratamento de água e esgoto, por causa da água em abundância.
- (C) é a interrupção de energia nas estações de tratamento de água e esgoto, que aumenta a eficiência do sistema.
- (D) é o aumento da qualidade do esgoto tratado, porque amplia os serviços de drenagem ao testar os equipamentos de ETE's.
- (E) é a redução das secas no país, porque a chuva acaba chegando às regiões mais afetadas pela falta de água.

2

No título “Atual cenário de chuvas intensas e fortes tempestades no país pode impactar sistema de saneamento básico”, o(s) termo(s)

- (A) “intensas” e “fortes” indicam características de “chuvas”.
- (B) “atual” e “intensas” modificam o substantivo “cenário”.
- (C) “intensas” e “fortes” indicam características de “tempestade”.
- (D) “básico” classifica “sistema” como um serviço essencial.
- (E) “atual” modifica “cenário” e indica contemporaneidade.

3

No título “Atual cenário de chuvas intensas e fortes tempestades no país pode impactar sistema de saneamento básico”, o verbo “pode” indica

- (A) certeza, ao afirmar categoricamente o impacto das chuvas no saneamento.
- (B) incerteza, pois expressa a possibilidade de que o impacto aconteça.
- (C) obrigação, pois determina que o impacto das chuvas deve ocorrer.
- (D) ação determinada, ao recomendar que medidas sejam tomadas para evitar o impacto.
- (E) dúvida, ao expressar hesitação quanto à ocorrência inevitável do impacto.

4

De acordo com a leitura e a interpretação do texto, é correto afirmar que uma medida recomendada para enfrentar os desafios impostos pelos riscos climáticos no sistema de saneamento é a

- (A) modernização dos sistemas de tratamento de água e esgoto.
- (B) redução do investimento em infraestrutura de captação de água.
- (C) melhoria da eficiência do tratamento de esgoto nas áreas rurais.
- (D) construção de novos mananciais para garantir o abastecimento de água potável.
- (E) eliminação dos sistemas de drenagem para evitar acúmulo de água.

5

No subtítulo do texto, em “Estudo do Trata Brasil revela como as tempestades sobrecarregam os sistemas de água e esgotamento sanitário”, o termo em destaque está no plural porque concorda com

- (A) o sujeito “Estudo do Trata Brasil”.
- (B) o sujeito “Trata Brasil”.
- (C) o sujeito “as tempestades”.
- (D) o sujeito “os sistemas de água”.
- (E) o verbo anterior “revela”.

6

Assinale a alternativa que apresenta uma frase com sentido semelhante ao expresso em “Aumento do acúmulo de sedimentos [...]”.

- (A) Redução da concentração de partículas.
- (B) Crescimento da quantidade de resíduos.
- (C) Eliminação de impurezas nos reservatórios.
- (D) Diminuição do depósito de detritos.
- (E) Controle eficiente do material acumulado.

7

Uma das características de um texto informativo é a preocupação com a exatidão dos dados. Assinale a alternativa cujo trecho adaptado do texto melhor demonstra essa característica.

- (A) Para os serviços de saneamento, as tempestades podem sobrecarregar os sistemas de água, de drenagem e de tratamento de esgoto.
- (B) Algumas regiões enfrentam dificuldades no abastecimento de água durante as chuvas intensas em quase todo o país.
- (C) Em muitos locais, a infraestrutura de saneamento básico não é suficiente para atender à demanda.
- (D) Segundo o Instituto Nacional de Meteorologia, a previsão para o período de 13 a 20 de janeiro aponta chuvas intensas no Sudeste do país.
- (E) As fortes tempestades costumam comprometer o funcionamento de estações de tratamento.

8

No trecho “[...] tempestades podem causar danos significativos em ETA’s, estruturas de pressurização, e afetar o transporte de água.”, o termo destacado pode ser substituído, sem alteração de sentido, por

- (A) porém.
- (B) bem como.
- (C) embora.
- (D) logo.
- (E) ainda que.

9

No trecho “Essas medidas são fundamentais para mitigar os impactos das mudanças climáticas na vida da população, especialmente nas regiões mais vulneráveis.”, a palavra em destaque expressa intensificação do termo “vulneráveis”. Assinale a alternativa que apresenta uma frase na qual o sentido do “mais” NÃO seja de intensificação.

- (A) Ele ficou mais preocupado depois da conversa com o perito.
- (B) A situação se agravou mais do que esperávamos, causando grandes prejuízos.
- (C) Coube-nos, na divisão da herança, a casa mais o carro.
- (D) O evento ficou mais interessante com a presença de convidados internacionais.
- (E) As crianças estão mais felizes com a nova brinquedoteca.

10

Em relação aos elementos de coesão e aos termos/expressões que eles retomam nos seguintes trechos adaptados do texto, assinale a alternativa correta.

- (A) Em “O Brasil enfrenta um cenário de chuvas intensas que estão afetando diversos estados”, o termo destacado retoma “chuvas intensas”.
- (B) Em “A intensificação das mudanças climáticas representa uma ameaça crescente para o setor de saneamento, pois crescem os seus desafios”, o termo em destaque refere-se a “mudanças climáticas”.
- (C) Em “As estações de tratamento estão recebendo fluxos de água acima da sua capacidade, o que compromete a eficiência”, a expressão em destaque retoma “a eficiência”.
- (D) Em “Os eventos extremos afetam diretamente a infraestrutura básica, tornando-a mais vulnerável”, o termo em destaque refere-se a “eventos extremos”.
- (E) Em “As tempestades podem sobrecarregar os sistemas de tratamento de esgoto, e elas têm sido frequentes”, o termo em destaque retoma “tratamento de esgoto”.

11

No trecho “[...] é essencial que tanto o poder público quanto as empresas de saneamento adotem estratégias de adaptação climática.”, o uso de “tanto... quanto” destaca uma relação de

- (A) simultaneidade de ações.
- (B) sobreposição de setores.
- (C) comparação de espaços.
- (D) contradição de objetivos.
- (E) alternância de responsabilidade.

12

Em “[...] os investimentos em tecnologia, como o reuso, contribuem para a diversificação das fontes de água.”, o trecho destacado

- (A) apresenta uma redundância e pode ser apagado, já que expressa o mesmo pensamento do restante da frase.
- (B) expressa uma comparação entre os investimentos em tecnologia e a diversificação das fontes de água.
- (C) explica a causa de os investimentos em tecnologia contribuírem para a diversificação das fontes de água.
- (D) inclui um recurso expressivo em linguagem figurada, diferenciando-se do tom objetivo predominante na frase.
- (E) exemplifica um tipo de investimento em tecnologia associado à diversificação das fontes de água.

13

Assinale a alternativa que apresenta uma frase com sentido injuntivo.

- (A) “[...] a previsão para o período de 13 a 20 de janeiro aponta chuvas em quase todo o país.”
- (B) “Danos físicos às estruturas e impedimento do transporte de água: [...].”
- (C) “[...] tempestades podem gerar interrupções, afetando o funcionamento das ETA’s.”
- (D) “Entenda quais os principais impactos: Mananciais e Sistemas de Água [...].”
- (E) “[...] fenômenos como o El Niño influenciando diretamente o tempo e o clima no país.”

14

Assinale a alternativa na qual o “que” presente na frase pertence à mesma classe gramatical que o destacado em “Além disso, o boletim agroclimático divulgado pelo INMET destaca que a interação [...]”.

- (A) O boletim do INMET indica que a previsão é de chuvas fortes.
- (B) A cidade precisa de medidas que melhorem a infraestrutura de saneamento.
- (C) O impacto das tempestades é maior do que o esperado.
- (D) As mudanças climáticas podem afetar a qualidade da água, que já é preocupante.
- (E) Não entendi por que a situação piorou tão rapidamente.

15

No trecho “Esses riscos climáticos agravam as desigualdades no acesso aos serviços básicos, especialmente em comunidades urbanas periféricas e áreas rurais.”, a vírgula é

- (A) dispensável, pois há risco de ambiguidade sem ela.
- (B) facultativa e foi usada para dar ênfase à expressão posposta.
- (C) obrigatória, tendo em vista que separa o complemento do verbo.
- (D) necessária, pois estabelece uma pausa após o sujeito.
- (E) essencial, porque sem ela a sentença fica incompreensível.

Informática

16

Em um documento do LibreOffice Writer 7, em português, para alterar o espaçamento entre linhas de um parágrafo para o valor duplo (2,0), o usuário deve realizar qual das seguintes operações?

(Obs.: o caractere “+” foi utilizado apenas para interpretação.)

- (A) Acessar o menu Formatar, selecionar Parágrafo, ir até a aba Recuos e Espaçamento e, no campo Espaçamento entre linhas, escolher a opção Duplo.
- (B) Selecionar o parágrafo, clicar com o botão direito do mouse e, no menu de contexto, escolher a opção Estilo de Linha, definindo o espaçamento para 2,0.
- (C) Utilizar o atalho Alt+3, que converte automaticamente o espaçamento do parágrafo selecionado para duplo.
- (D) No menu Exibir, ativar a régua e arrastar o marcador de espaçamento até que a visualização indique um espaçamento equivalente a 2,0.
- (E) Acessar o menu Inserir e selecionar a ferramenta Quebra de Linha, aplicando-a sobre o parágrafo para aumentar o espaçamento.

17

Sobre os procedimentos recomendados para a pesquisa na web, assinale a alternativa INCORRETA.

- (A) Os motores de busca utilizam algoritmos para indexar e recuperar informações com base em palavras-chave.
- (B) A avaliação da autoridade da fonte, considerando o autor e a data de publicação, contribui para a confiabilidade dos resultados.
- (C) A verificação da atualização do conteúdo é irrelevante para determinar a confiabilidade das informações encontradas.
- (D) Utilizar operadores lógicos e variar os termos de busca podem refinar os resultados e melhorar a precisão da pesquisa.
- (E) Comparar informações entre diferentes fontes ajuda a identificar dados mais consistentes e confiáveis.

18

Um usuário que deseja proteger seus dados pessoais e evitar riscos de ataques virtuais ao navegar na internet deve adotar boas práticas de segurança digital para manter seus dados seguros. Nesse contexto, assinale a alternativa que apresenta uma prática de segurança adequada.

- (A) Compartilhar senhas com pessoas de confiança para facilitar o acesso em caso de esquecimento.
- (B) Utilizar senhas simples e repetidas em diversas contas para memorizá-las facilmente.
- (C) Manter o sistema operacional e os softwares atualizados para corrigir vulnerabilidades.
- (D) Desativar as funções de antivírus e firewall para aumentar a velocidade do computador.
- (E) Ignorar notificações de atualização de segurança, pois geralmente causam instabilidade no sistema.

19

A respeito das funcionalidades dos visualizadores de imagem, informe se é verdadeiro (V) ou falso (F) o que se afirma a seguir e assinale a alternativa com a sequência correta.

- () Os visualizadores de imagem permitem ampliar e reduzir o tamanho das imagens para facilitar a visualização de detalhes.
- () A função de rotação da imagem não está disponível na maioria dos visualizadores de imagem.
- () A visualização em tela cheia é uma funcionalidade encontrada na maioria dos visualizadores de imagem.
- () Todos os visualizadores de imagem oferecem ferramentas para editar imagens, como ajuste de cores e aplicação de efeitos.

- (A) V – F – V – F.
- (B) V – V – V – F.
- (C) F – F – V – F.
- (D) V – F – F – F.
- (E) V – F – V – V.

20

Um usuário do Windows 11 precisa acessar as configurações do sistema para ajustar as preferências do dispositivo. Qual das seguintes alternativas apresenta o procedimento correto para realizar essa ação?

(Obs.: o caractere “+” foi utilizado apenas para interpretação.)

- (A) Abrir o Explorador de Arquivos e navegar até a pasta Configurações.
- (B) Pressionar a combinação de teclas Ctrl + I.
- (C) Clicar com o botão direito na barra de tarefas e selecionar Configurações.
- (D) Pressionar a combinação de teclas Windows + I.
- (E) Clicar com o botão direito no ícone do navegador e selecionar Configurações.

21

Sobre as funcionalidades básicas do Excel 365, informe se é verdadeiro (V) ou falso (F) o que se afirma a seguir e assinale a alternativa com a sequência correta.

- () No Excel 365, é possível utilizar fórmulas para realizar cálculos automaticamente nas células.
- () O recurso de preenchimento automático permite estender uma sequência de dados para células adjacentes.
- () Uma planilha no Excel 365 não pode conter mais de uma aba de trabalho.
- () O Excel 365 possibilita a formatação de células para modificar a exibição de números, datas e textos.

- (A) V – V – F – V.
- (B) V – F – V – V.
- (C) F – V – F – V.
- (D) V – V – V – F.
- (E) V – F – F – V.

22

A respeito da utilização básica do sistema operacional Windows 10, em português, assinale a alternativa INCORRETA.

- (A) O Menu Iniciar do Windows 10 permite acessar programas instalados, pastas recentes e desligar o computador.
- (B) A Área de Trabalho é onde são exibidos os ícones de atalho para programas, arquivos e pastas.
- (C) O Painel de Controle foi completamente substituído pelo aplicativo Configurações no Windows 10.
- (D) A Barra de Tarefas permite fixar programas para acesso rápido e exibe os aplicativos em execução.
- (E) O Explorador de Arquivos é utilizado para gerenciar pastas, arquivos e unidades de armazenamento.

23

Em relação ao navegador Google Chrome, informe se é verdadeiro (V) ou falso (F) o que se afirma a seguir e assinale a alternativa com a sequência correta.

- () O Google Chrome permite a sincronização de favoritos, histórico e senhas com uma conta Google, possibilitando o acesso a esses dados em diferentes dispositivos.
- () O Google Chrome não suporta a instalação de extensões.
- () O Google Chrome utiliza o mecanismo de renderização Blink, que é derivado do WebKit.
- () O Google Chrome oferece uma ferramenta integrada de tradução automática de páginas web.

- (A) V – F – F – V.
- (B) V – V – V – F.
- (C) F – F – V – V.
- (D) V – F – V – V.
- (E) V – V – F – V.

24

Em um computador, a memória principal (Random Access Memory – RAM) é responsável pelo armazenamento temporário dos dados e das instruções durante a execução dos programas. Considerando suas características técnicas, assinale a alternativa que descreve corretamente uma propriedade da memória RAM.

- (A) É uma memória não volátil, que retém as informações mesmo após a energia ser desligada.
- (B) Oferece acesso aleatório aos dados com velocidade superior à das memórias secundárias, porém é volátil, perdendo as informações quando o computador é desligado.
- (C) Opera exclusivamente em modo sequencial, o que a torna inadequada para acesso rápido a dados dispersos.
- (D) Possui capacidade de armazenamento superior à dos dispositivos de armazenamento secundário, como discos rígidos, mas com velocidade de acesso inferior.
- (E) Funciona como armazenamento permanente para o sistema operacional e os aplicativos, dispensando o uso de memória secundária.

25

Quanto ao uso do Calc versão 7 (em português), informe se é verdadeiro (V) ou falso (F) o que se afirma a seguir e assinale a alternativa com a sequência correta.

- () O recurso Tabela Dinâmica no Calc 7 permite resumir e organizar grandes quantidades de dados.
- () As fórmulas só podem ser criadas manualmente, pois o Calc 7 não dispõe de um assistente de funções.
- () É possível criar mais de uma planilha em um mesmo arquivo, ajudando a estruturar os dados.
- () O Calc 7 não permite combinar referências absolutas e relativas em uma mesma fórmula.

- (A) V – F – V – V.
- (B) V – V – F – F.
- (C) F – F – V – F.
- (D) V – F – V – F.
- (E) F – V – F – V.

Conhecimentos Gerais

26

É formado por fatores bióticos e abióticos, que estão inter-relacionados em um sistema aberto, caracterizado pelo fluxo de entrada e saída de matéria e energia.

Essa é a definição de

- (A) comensalismo.
- (B) ecossistema.
- (C) eutrofização.
- (D) comunidade.
- (E) nicho ecológico.

27

Um funcionário da Empresa de Saneamento de Mato Grosso do Sul (Sanesul) foi designado para avaliar a eficiência dos processos aplicados em uma estação de tratamento. Durante sua rotina, ele monitora etapas como decantação, ozonização, oxidação e eletrocoagulação, que são fundamentais para garantir a qualidade do tratamento realizado.

Com base na atividade desempenhada por esse funcionário, em qual tipo de tratamento são utilizados esses processos?

- (A) Tratamento de águas pluviais contaminadas por resíduos hospitalares.
- (B) Tratamento de efluentes.
- (C) Tratamento de pacientes contaminados por doenças de transmissão hídrica.
- (D) Tratamento de resíduos sólidos para aterro sanitário.
- (E) Tratamento de lixo hospitalar.

28

Em um sistema de abastecimento de água, a principal função do Sistema de Tratamento de Água (ETA) é

- (A) reutilizar água para irrigação.
- (B) armazenar água para uso futuro.
- (C) filtrar e purificar a água para torná-la potável.
- (D) distribuir água para as residências.
- (E) monitorar os patógenos presentes nas tubulações.

29

O acesso à água potável é um componente fundamental do saneamento básico. Qual das seguintes alternativas apresenta uma consequência direta da falta de acesso à água potável?

- (A) Aumento da necessidade de importação de alimentos devido à escassez de água para irrigação.
- (B) Melhora na qualidade do sono da população.
- (C) Redução da incidência de doenças respiratórias.
- (D) Equilíbrio das taxas de natalidade e mortalidade.
- (E) Aumento da mortalidade infantil devido a doenças diarreicas.

30

A respeito da relação entre saneamento básico e meio ambiente, relacione as colunas e assinale a alternativa com a sequência correta.

1. Tratamento de esgoto.
2. Coleta de lixo.
3. Abastecimento de água potável.
4. Sistema de drenagem de águas pluviais.
5. Destinação correta de resíduos sólidos.

- () Previne enchentes e alagamentos, controlando o fluxo de águas da chuva.
- () Impede a contaminação dos corpos d'água, removendo impurezas antes do descarte.
- () Garante o fornecimento de água limpa e segura para consumo humano.
- () Reduz impactos ambientais e evita a proliferação de vetores de doenças ao descartar resíduos de forma adequada.
- () Minimiza os impactos ambientais e a proliferação de doenças, tratando e descartando de maneira adequada o lixo produzido pela sociedade.

- (A) 4 – 1 – 3 – 5 – 2.
- (B) 1 – 4 – 2 – 3 – 5.
- (C) 5 – 3 – 4 – 2 – 1.
- (D) 3 – 2 – 1 – 5 – 4.
- (E) 2 – 5 – 3 – 1 – 4.

31

A cólera é uma doença infecciosa causada pela bactéria *Vibrio cholerae*, transmitida principalmente pelo consumo de água ou alimentos contaminados. A incidência da doença está diretamente relacionada às condições de saneamento básico e à qualidade da água disponível para a população. Considerando medidas eficazes para a prevenção da cólera no contexto do saneamento e do meio ambiente, assinale a alternativa que apresenta uma ação correta para reduzir o risco de contaminação e disseminação da doença.

- (A) Adotar medidas que foquem a higiene pessoal, garantindo que a população tenha acesso a sabonetes e desinfetantes.
- (B) Incentivar o uso de fontes naturais de água, desde que apresentem aparência limpa e estejam localizadas longe de áreas urbanas.
- (C) Adotar estratégias que melhorem a infraestrutura sanitária e o acesso a serviços de tratamento e distribuição de água potável.
- (D) Implementar medidas emergenciais, como a distribuição de antibióticos em massa, para reduzir rapidamente os casos da doença.
- (E) Ações educativas em unidades de saúde e escolas, que dispensam investimentos em saneamento e tratamento de água, sendo suficientes para a prevenção da doença.

32

O texto do artigo terceiro da Lei nº 9.984/2000 refere a criação da ANA, sigla que significa

- (A) Agência Nacional de Administração de Águas Continentais e Urbanas.
- (B) Agência Nacional de Águas e Saneamento Básico.
- (C) Agência Nacional de Águas Continentais e Costeiras.
- (D) Agência Nacional de Saneamento e Esgoto Urbano.
- (E) Agência de Normatização de Águas Costeiras.

33

Considerando o conceito de Saneamento Básico de acordo com a ANA, assinale a alternativa que apresenta o conjunto de serviços públicos presente nesse conceito.

- (A) Abastecimento de água potável, esgoto sanitário, limpeza urbana, manejo de resíduos sólidos, drenagem e manejo de águas pluviais urbanas.
- (B) Distribuição de água potável e esgoto sanitário, controle de fauna urbana, manejo de resíduos sólidos, reciclagem, manejo de águas urbanas, continentais e costeiras.
- (C) Manejo de fauna urbana, abastecimento de água potável, manejo de resíduos sólidos, reciclagem e tratamento de águas continentais e costeiras.
- (D) Coleta e tratamento de esgoto sanitário, distribuição de água, controle de doenças infecciosas, manejo de resíduos sólidos e hospitalares, controle de fauna urbana.
- (E) Manejo de resíduos sólidos, limpeza urbana, drenagem de águas costeiras, controle de fauna urbana e doenças infecciosas.

34

Tendo em vista o ciclo da água, assinale a alternativa que apresenta corretamente os estados físicos da água no ambiente natural.

- (A) Líquido, gasoso e plasma.
- (B) Condensado, líquido, vapor e plasma.
- (C) Sublimado, fundido e sólido.
- (D) Sublimado, plasma e líquido.
- (E) Líquido, sólido e gasoso.

35

Um funcionário que apresenta sintomas como diarreia intensa, febre e mal-estar é recebido na enfermaria da Sanesul. O colaborador relata que, nos últimos dias, consumiu água de uma nascente de rio de origem desconhecida, sem tratamento adequado. Após uma avaliação inicial, suspeita-se que ele possa ter contraído uma doença de transmissão hídrica e esse colaborador é encaminhado para atendimento médico especializado.

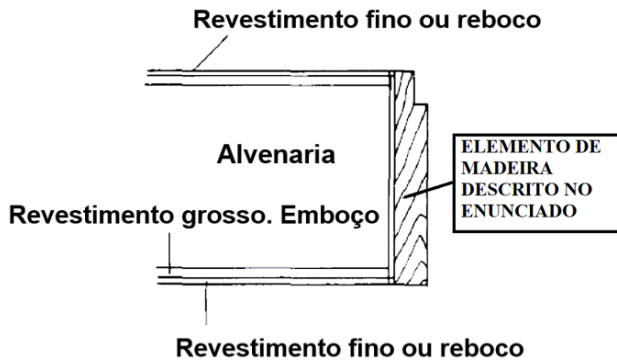
Com base nos conhecimentos sobre doenças de transmissão hídrica, assinale a alternativa que apresenta apenas doenças que podem ser transmitidas pelo consumo de água contaminada.

- (A) Gastroenterite, hanseníase e fibromialgia.
- (B) Amebíase, dengue e fibrose cística.
- (C) Leptospirose, malária e sífilis.
- (D) Giardíase, febre tifoide e hepatite A.
- (E) Cisticercose, H1N1 e cólera.

Conhecimentos Específicos

36

Em uma edificação, foi requerida a substituição do elemento de madeira ilustrado na figura a seguir:

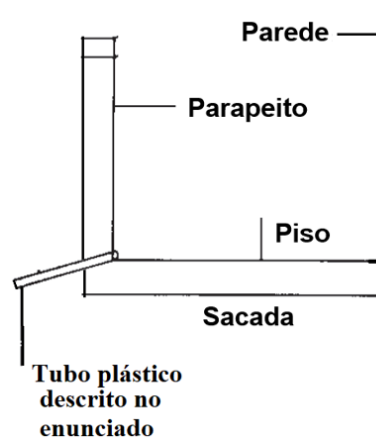


Sabendo-se que esse elemento reveste totalmente a parede de $\frac{1}{2}$ tijolo, é correto afirmar que se trata de um

- (A) contrabatente tipo caixão.
- (B) esquadro tipo marco.
- (C) cunha tipo caixão.
- (D) batente tipo caixão.
- (E) batente tipo marco.

37

Junto às lajes de sacadas de uma edificação, há tubos de plástico, para escoamento das águas, instalados com declividade adequada para que não permitam o retorno de águas nem que estas escorram pelas paredes, conforme ilustração a seguir:



Os referidos tubos denominam-se

- (A) guias.
- (B) buzinetes.
- (C) mestres.
- (D) fugas.
- (E) gravatas.

38

Há diferentes tipos de argamassas aplicados para finalidades diversas. A argamassa de aderência é também chamada de

- (A) chapisco.
- (B) liga.
- (C) emboço.
- (D) reboco.
- (E) arremate.

39

No processo de britagem de rochas compactas, para a produção de britas, como é denominado o material britado no estado em que se encontra à saída do britador, antes de qualquer peneiramento por graduação?

- (A) Fíler.
- (B) Pedra 01.
- (C) Pedrisco.
- (D) Bica-corrida.
- (E) Rachão.

40

Em uma obra, foi solicitada a aquisição de cimento CP II-Z 25 para a produção de concreto. O referido material é o cimento Portland

- (A) comum com adição de cal.
- (B) comum sem adição.
- (C) composto com escória granulada de alto forno.
- (D) composto com material pozzolânico.
- (E) composto com material carbonático.

41

Na execução de uma viga em concreto de cimento Portland, observou-se que a água da mistura se elevou à superfície do concreto recentemente lançado. Assinale a alternativa que apresenta o nome desse processo.

- (A) Lixiviação.
- (B) Exsudação.
- (C) Calefação.
- (D) Permeabilização.
- (E) Sublimação.

42

Para o controle tecnológico diário do teor de umidade do solo em uma obra, que necessitava de resultados rápidos, empregava-se o método expedito através do umidímetro. Na ausência deste equipamento, outro método expedito para determinar o teor de umidade do solo é o

- (A) método da frigideira.
- (B) método de Proctor.
- (C) método de Aoki.
- (D) método de Terzaghi.
- (E) método de CPT.

43

Dentre os diversos tipos de fundações profundas, há aquele em que as cargas são resistidas preponderantemente pela ponta por meio de uma base alargada. Assinale a alternativa que apresenta uma fundação com essa característica.

- (A) Estaca mega.
- (B) Estaca strauss.
- (C) Tubulão.
- (D) Sapata corrida.
- (E) Radier.

44

Na execução de uma estaca escavada com trado mecânico, sem fluido estabilizante e não sujeita à tração e/ou flexão, imediatamente após a concretagem, foram posicionadas no concreto armaduras de espera como previsto em projeto. A referida armadura de espera é também denominada

- (A) arranque.
- (B) estribo.
- (C) grampo.
- (D) feixe.
- (E) suspensão.

45

Na execução de terraplanagem para a execução de um arruamento, após compensações de cortes e aterros, as sobras de massas de terra foram colocadas em depósitos definitivos. Como são denominados esses depósitos?

- (A) Bota-dentro.
- (B) Bota-foras.
- (C) Jazidas.
- (D) Taludes.
- (E) Empréstimos.

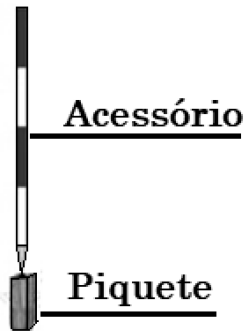
46

Em obras de pavimentação, é usual o emprego de uma mistura asfáltica composta por agregados de vários tamanhos e cimento asfáltico, ambos aquecidos em temperaturas previamente escolhidas, em função da característica viscosidade-temperatura do ligante. Como é denominada essa mistura?

- (A) Concreto asfáltico usinado a frio.
- (B) Cimento asfáltico de pavimento.
- (C) Concreto betuminoso usinado a frio.
- (D) Concreto betuminoso usinado a quente (CBUQ).
- (E) Argamassa betuminosa usinada a quente (ABUQ).

47

No estudo da topografia de um terreno, é comum o emprego de um acessório em duas cores, contrastando com a vegetação e o céu claro, para facilitar a visualização dos pontos topográficos, materializados por piquetes, auxiliando, por exemplo, na medição de ângulos horizontais e de distâncias, conforme ilustração a seguir:



O referido acessório é o(a)

- (A) haste.
- (B) baliza.
- (C) eixo.
- (D) linha.
- (E) seta.

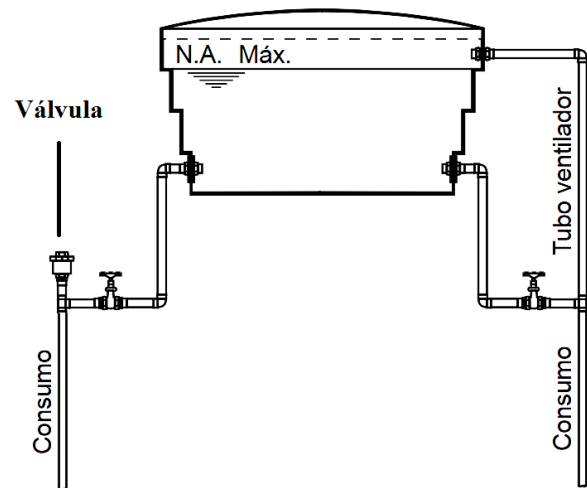
48

Anexo ao mapa do levantamento topográfico de uma propriedade constava um documento que indicava os principais marcos, coordenadas, estradas que limitam a propriedade, entre outros detalhes. O documento anexo trata-se do(a)

- (A) memorial descritivo.
- (B) manual topográfico.
- (C) texto referencial.
- (D) memória de cálculo.
- (E) bula topográfica.

49

No caso de edificações de múltiplos pavimentos com abastecimento indireto, deve ser empregada uma proteção contra o refluxo de água de cada ramal para a respectiva coluna. Para tanto, pode-se empregar uma válvula específica ou o tubo ventilador, como na ilustração a seguir:

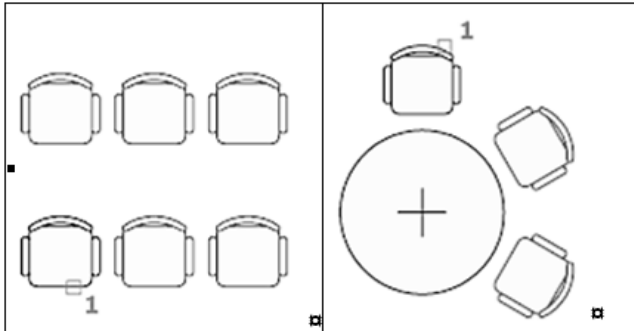


A referida válvula é uma

- (A) válvula cinética.
- (B) válvula globo.
- (C) válvula ventosa.
- (D) válvula borboleta.
- (E) válvula de gaveta.

50

No programa AutoCad, versão atual em língua portuguesa (Brasil), há um comando que cria cópias de objetos organizados em um padrão, como nos exemplos a seguir, em que o objeto copiado é aquele identificado com o número 1.



Assinale a alternativa que apresenta esse comando.

- (A) MATRIZ
- (B) ORGANIZAR
- (C) LINKAR
- (D) ESPELHAR
- (E) REPLICAR

51

Os solos são materiais que resultam do intemperismo ou meteorização das rochas por desintegração mecânica ou decomposição química. O último produto do processo de decomposição na formação de um solo é composto por

- (A) pedregulhos.
- (B) areias.
- (C) britas.
- (D) siltes.
- (E) argilas.

52

O aparelho de Casagrande é utilizado em ensaios de solos para a determinação do(a)

- (A) resistência ao cisalhamento.
- (B) índice de penetração.
- (C) limite de liquidez.
- (D) porosidade.
- (E) massa específica.

53

Em uma obra, foi instruído que a declividade mínima a ser utilizada para a rede coletora de esgoto deveria ser de 0,0045 m/m. Nesse contexto, na verificação *in loco* do atendimento dessa instrução em um trecho de 40 m de comprimento de uma rede coletora de esgoto, a diferença de cotas entre o ponto inicial e o ponto final deverá ser de, no mínimo,

- (A) 1,8 cm.
- (B) 10,0 cm.
- (C) 12,0 cm.
- (D) 18,0 cm.
- (E) 1,8 m.

54

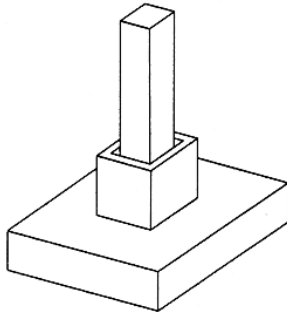
A respeito do revestimento tipo vinílico, informe se é verdadeiro (V) ou falso (F) o que se afirma a seguir e assinale a alternativa com a sequência correta.

- () Apresenta bom grau de dureza.
- () Não mancha em contato com a água.
- () Tem a superfície permeável.
- () Possui grande variedade de cores.

- (A) V – V – F – V.
- (B) F – V – F – V.
- (C) V – V – F – F.
- (D) V – F – F – V.
- (E) V – V – V – V.

55

Os pilares e painéis de paredes pré-moldados podem ser engastados nas fundações. Na ilustração a seguir, a solidarização entre o pilar e a fundação é obtida por meio de preenchimento com graute ou concreto nos vazios entre o pilar e as faces internas do elemento que recebe o pilar.

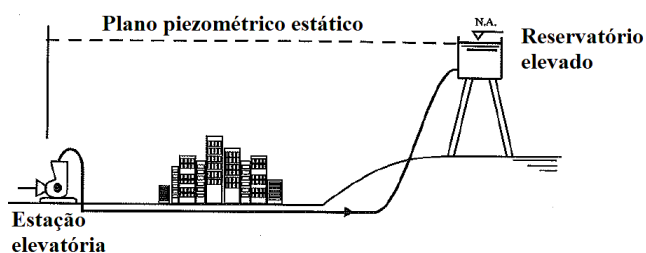


Como é denominado esse tipo de ligação?

- (A) Ligação em cinta.
- (B) Ligação em cúpula.
- (C) Ligação em cálice.
- (D) Ligação em caixote.
- (E) Ligação em pétala.

56

Na ilustração a seguir, vê-se uma cidade que recebe água de uma estação elevatória e de um reservatório elevado após a rede de distribuição, que tem a função de reservar sobras durante as horas de menor consumo e auxiliar no abastecimento durante as horas de maior consumo.



O reservatório elevado apresentado trata-se de um reservatório

- (A) de jusante.
- (B) de montante.
- (C) cíclico.
- (D) ordinário.
- (E) terciário.

57

Em casos de captação em cursos de água, quando a vazão a ser retirada é menor que a vazão mínima do manancial, não havendo a necessidade da construção de um reservatório de regularização, a captação é feita na forma denominada

- (A) linha direta.
- (B) fio d'água.
- (C) linha d'água.
- (D) fio direto.
- (E) fio indireto.

58

Conforme a Resolução Conama nº 307, de 5 de julho de 2002, que trata da gestão dos resíduos da construção civil, a Classe A corresponde aos resíduos reutilizáveis ou recicláveis como agregados. Pertencem à Classe A os

- (A) gessos.
- (B) tijolos cerâmicos.
- (C) solventes.
- (D) vidros.
- (E) óleos.

59

A seguir é apresentado um cronograma de uma obra com as durações previstas para as atividades de A a G:

ATIVIDADE	SEMANA								
	1	2	3	4	5	6	7	8	9
A	█	█	█						
B		█	█	█					
C			█	█	█	█	█		
D			█	█	█	█	█	█	
E		█	█	█	█	█	█		
F			█	█	█	█	█	█	
G							█	█	█

Ao final da 3ª semana, aferiu-se que o percentual realizado de cada atividade representava:

ATIVIDADES	A	B	C	D	E	F	G
% REALIZADO	100%	95%	25%	22%	10%	20%	0%

É correto afirmar que estão atrasadas as atividades

- (A) B, C, D, E, F e G, apenas.
- (B) B, D, E e F, apenas.
- (C) B, D e E, apenas.
- (D) B e E, apenas.
- (E) B e F, apenas.

60

Em relação ao emprego de escadas portáteis em canteiros de obras, informe se é verdadeiro (V) ou falso (F) o que se afirma a seguir e assinale a alternativa com a sequência correta.

- () Escadas de madeira com farpas e/ou saliências podem ser utilizadas desde que o operador utilize luvas adequadas de proteção.
- () É permitido o uso de escadas de madeira portáteis com emendas.
- () No caso do uso de escadas portáteis nas proximidades de portas ou áreas de circulação, a área no entorno dos serviços deve ser isolada e sinalizada.
- () As escadas portáteis devem possuir sapatas antiderrapantes ou dispositivo que impeça o seu escorregamento.

- (A) V – V – F – V.
- (B) F – F – V – F.
- (C) F – F – V – V.
- (D) F – V – V – V.
- (E) V – V – V – V.

