

### **INSTRUÇÕES**

1. Não abra este caderno antes de autorizado pelo fiscal de prova.
2. Depois de autorizado pelo fiscal, verifique se faltam folhas neste caderno, se a sequência de QUARENTA (40) questões está correta e se há imperfeições gráficas que possam causar dúvidas. Comunique imediatamente ao fiscal de prova qualquer irregularidade.
3. A prova é composta de 40 (QUARENTA) questões objetivas.
4. Nesta prova, as questões objetivas são de múltipla escolha, com 5 (CINCO) alternativas cada uma, sempre na sequência **A, B, C, D, E** das quais somente uma deve ser assinalada.
5. A interpretação das questões é parte integrante da prova, não sendo permitidas perguntas aos fiscais de provas. Utilize os espaços e/ou páginas em branco para rascunho.
6. Ao receber a folha de respostas (gabarito), examine-o e verifique se o seu nome está impresso nele. Caso haja qualquer irregularidade, comunique-a imediatamente ao fiscal de prova.
7. Transcreva as respostas para a folha de respostas (gabarito) com caneta esferográfica transparente de **tinta preta ou azul**. A folha de respostas (gabarito) será o único documento válido para efeito de correção. **Em hipótese alguma ocorrerá a substituição da folha de respostas (gabarito) por erro de preenchimento ou qualquer dano pelo candidato.**
8. Não serão permitidas consultas, empréstimos e comunicação entre candidato, tampouco o uso de livros, apontamentos e equipamentos, eletrônicos ou não, inclusive relógio. O não cumprimento dessas exigências implicará a eliminação do candidato.
9. Os aparelhos celulares deverão ser desligados e, juntamente com outros objetos, deverão ser colocados sob a carteira ou mesmo no assoalho da sala, dentro do saco plástico.
10. O tempo de resolução das questões, incluindo o tempo para preenchimento da folha de respostas, é de **4 (quatro) horas** a partir do início da prova.
11. Ao terminar a prova, permaneça em seu lugar e comunique ao fiscal de prova. Aguarde a autorização para entregar a folha de respostas (gabarito).
12. O tempo mínimo de permanência na sala de provas será de 30 (trinta) minutos, podendo o candidato sair a partir das 15h00, porém não poderá levar o caderno de prova. Caso queira anotar suas respostas, poderá fazer na folha em branco e destacá-la. O caderno de provas poderá ser levado pelo candidato somente se este sair após 1 (uma) hora do início da prova, 15h30.
13. O último candidato após entregar o material e deverá assinar a ata juntamente com os fiscais de provas.
14. Não esquecer de levar seus pertences pessoais.

## Português

Considere o recorte de um texto da organização Greenpeace, a seguir, para responder às perguntas 1 e 2.

### O que está acontecendo com a Amazônia?

A maior floresta tropical do mundo, dona da maior biodiversidade do planeta, está em risco. Sem a Amazônia, não conseguiremos vencer a luta para combater as mudanças climáticas. Somente nos últimos meses, mais de 1 bilhão de árvores tombaram na Amazônia. A atividade agropecuária avança a cada dia sobre a floresta. Os rios estão sendo ameaçados pela construção de hidrelétricas. Garimpo, invasões e roubo de madeira continuam assolando terras indígenas e unidades de conservação. Áreas da floresta estão sendo vendidas via leilão para empresas explorarem petróleo e gás natural.

No período de agosto de 2018 a julho de 2019, o desmatamento da Amazônia cresceu 30%, o equivalente a 1,4 milhões de campos de futebol, segundo dados do PRODES, medido pelo Instituto Nacional de Pesquisas Espaciais (INPE). As unidades de conservação e terras indígenas registraram um aumento de 55% e 62%, respectivamente, comparado com o período anterior. E esta é uma triste realidade que não podemos mais permitir.

[...]

A Amazônia tem importância fundamental no controle do clima do planeta e na disponibilidade de água doce. Ou seja, sem floresta, não temos água e produção de alimentos. [...] Sem a Floresta Amazônica, não conseguiremos ganhar a batalha pelo clima. Somente com a conservação da floresta, garantiremos o equilíbrio climático global, evitando que a temperatura do planeta aumente. Estamos vivendo uma emergência climática! Enchentes, secas, verões muito quentes e temperaturas extremas já estão impactando a vida de milhares de pessoas, principalmente as mais vulneráveis.

Ainda há tempo de parar essa destruição. Junte-se a nós nessa luta!

Fonte: [https://doc.greenpeace.org.br/salve-a-amazonia/p?utm\\_source=adwords&utm\\_term=floresta-incendio&utm\\_campaign=\[LM\]%20Principal%203.0&utm\\_medium=ppc](https://doc.greenpeace.org.br/salve-a-amazonia/p?utm_source=adwords&utm_term=floresta-incendio&utm_campaign=[LM]%20Principal%203.0&utm_medium=ppc)

01. Assinale a alternativa **correta** com relação ao texto.

A.	O texto aponta as queimadas como um dos fatores da destruição da Floresta Amazônica e consequente aumento da temperatura global.
B.	O texto apenas apresenta informações sobre a destruição da Floresta Amazônica, sem emitir juízo de valor e sem solicitar qualquer ação por parte do leitor.
C.	O texto sugere que a Floresta Amazônica tem pouca influência no comportamento climático do planeta, mas é importante para prevenir problemas que afetam a população vulnerável local, tais como as enchentes e as secas.
D.	O texto informa sobre as ações que comprometem a conservação da Floresta Amazônica, alerta sobre os problemas ambientais que podem advir do desmatamento e apela para o engajamento do leitor.
E.	O texto tem caráter panfletário e não apresenta nenhuma fonte dos dados apresentados.

02. Assinale a alternativa <b>correta</b> com relação à explicação proposta, considerando a gramática normativa do português.	
A.	Em “As unidades de <b>conservação</b> e terras <b>indígenas</b> registraram um <b>aumento</b> de 55% e 62%, <b>respectivamente</b> , comparado com o período anterior”, as palavras em destaque são, respectivamente, adjetivo, substantivo, advérbio de intensidade e advérbio de modo.
B.	Em “A maior floresta tropical do mundo, dona da maior biodiversidade do planeta, está em risco”, as vírgulas separam o aposto (termo que especifica ou explica o sentido de um referente) dos demais termos da oração.
C.	Em “ <b>Ou seja</b> , sem floresta, não temos água e produção de alimentos”, a expressão em destaque indica oposição de ideias com relação ao que foi dito anteriormente no texto.
D.	Em “Garimpo, invasões e roubo de madeira continuam assolando terras indígenas e unidades de conservação”, a vírgula separa o sujeito do predicado.
E.	Em “ <b>Somente</b> com a conservação da floresta, garantiremos o equilíbrio climático global, evitando que a temperatura do planeta aumente”, o termo em destaque é uma conjunção que introduz uma exemplificação.

03. Assinale a alternativa que apresenta uma explicação <b>incorreta</b> para o uso do acento nas palavras em destaque.	
A.	Acentuam-se todas as proparoxítonas, como em <b>célula</b> , <b>polêmica</b> e <b>estômago</b> .
B.	Acentuam-se as paroxítonas terminadas em ditongo crescente, como em <b>ciência</b> , <b>substância</b> e <b>laboratório</b> .
C.	Acentuam-se as paroxítonas terminadas em “r”, como em <b>caráter</b> , <b>revólver</b> e <b>câncer</b> .
D.	Acentuam-se os verbos “ter” e “vir” quando conjugados na 3ª pessoa do plural, como em “Eles <b>têm</b> boas intenções” e “Elas <b>vêm</b> à festa”.
E.	Acentuam-se as oxítonas terminadas em vogal, seguidas ou não de “s”, como em <b>órfã</b> , <b>júri</b> e <b>bônus</b> .

04. Assinale a alternativa que está em desacordo com a norma-padrão do português com relação à concordância verbal e nominal.	
A.	A maioria dos cientistas está empenhada em descobrir a vacina para o vírus.
B.	É necessária a preservação das harmonias da biosfera, dado relevante papel das inter-relações entre as espécies de seres vivos para o equilíbrio ecológico.
C.	Diretamente vinculado às atividades econômicas praticadas no planeta está a degradação do meio ambiente.
D.	Houve várias manifestações contra a degradação do meio ambiente no país inteiro.
E.	Os Estados Unidos não assumiram o compromisso com os países da América Latina sobre questões do meio ambiente.

05. Assinale a alternativa <b>correta</b> com relação ao uso do pronome relativo, considerando a gramática normativa do português.	
A.	Os momentos mais felizes são aqueles <b>em que</b> tive o apoio de minha família.
B.	Este é o remédio <b>que</b> necessito para tentar combater a insônia.
C.	Os fatores <b>os quais</b> tenho conhecimento não têm grande influência na sua decisão.
D.	O garoto <b>cujo</b> a mãe é minha vizinha não me suporta.
E.	Disseram-me que meu ex-professor de História, <b>o qual</b> não tenho mais contato, aposentou-se.

## MATEMÁTICA

06. Foi realizada uma pesquisa com os alunos do 1º ano do Ensino Médio da Escola Bem Estar para saber de qual disciplina eles gostam mais. Numa classe que tinha 35 alunos, os resultados foram os seguintes: 12 alunos gostam mais de Matemática, 21 alunos gostam mais de Português e 15 alunos gostam de Português e não gostam de Matemática. A partir desses dados, podemos concluir que o número de alunos que não gosta nem de Português e nem de Matemática é:	
A.	5.
B.	6.
C.	7.
D.	8.
E.	9.

07. O Hotel Estrela serve aos seus hóspedes gratuitamente diversas opções de bebida no hall do hotel durante todo o dia. Sabendo-se que o Hotel tem disponível chá, café, leite e suco, de quantas formas as bebidas podem ser combinadas para que seja ofertada pelo menos duas bebidas distintas ao longo do dia?	
A.	16.
B.	11.
C.	10.
D.	5.
E.	32.

08. Na preliminar de uma partida de futebol, os jogadores resolveram disputar quem dava o chute mais alto. O chute do jogador Branco, visualmente, foi o mais alto. Sabendo-se que o chute, a partir do solo, descreve uma parábola de equação: $y = 120x - 4x^2$ ("x" e "y" em metros), qual foi a altura atingida?	
A.	612 m.
B.	856 m.
C.	900 m.
D.	100 m.
E.	718 m.

09. Na cidade Luz Brilhante, no interior de São Paulo, sabe-se que vivem aproximadamente 253.950 pessoas, das quais 14% são idosos e 38% são crianças. Nessas condições, o total de idosos e crianças dessa cidade é:

A.	12.000.
B.	192.000.
C.	186.000.
D.	132.054.
E.	118.992.

10. José Henrique recebe de mesada dos seus pais uma certa quantia em dinheiro. Durante o mês de fevereiro, ele gastou R\$ 18,50 tomando sorvete com os amigos e R\$ 22,50 com créditos para seu celular e acabou se esquecendo de que era aniversário de sua amiga Mariana. José decidiu enviar um arranjo de flores para ela, no entanto, o arranjo custava R\$ 61,00 e, para comprá-lo, teve que pedir emprestado R\$ 36,00 para sua irmã. Considerando tudo isso, a mesada do José é de:

A.	R\$ 76,00.
B.	R\$ 66,00.
C.	R\$ 88,90.
D.	R\$ 132,54.
E.	R\$ 25,77.

## LEGISLAÇÃO, CONHECIMENTOS GERAIS E INFORMÁTICA

11. Quanto aos cargos, empregos e funções públicas, assinale a <b>correta</b> :	
A.	Os cargos, empregos e funções públicas são acessíveis apenas aos brasileiros natos que preencham os requisitos estabelecidos em lei.
B.	A investidura em cargo em comissão exige seleção prévia para a nomeação.
C.	Não é vedada a vinculação ou equiparação de quaisquer espécies remuneratórias para o efeito de remuneração de pessoal do serviço público.
D.	Estrangeiros não poderão ser nomeados a cargos, empregos e funções públicas.
E.	A remuneração dos servidores públicos e o subsídio somente poderão ser fixados ou alterados se houver autorização específica na lei de diretrizes orçamentárias, ressalvadas as empresas públicas e as sociedades de economia mista.

12. Sobre as assertivas a seguir, assinale o que for <b>correto</b> .	
A.	A contribuição de melhoria não pode ser estabelecida em decorrência de valorização devido a obras públicas da administração indireta.
B.	Um tributo pode ser estabelecido mediante ato administrativo de autoridade competente.
C.	O município pode exigir ou aumentar tributo sem que a lei o estabeleça.
D.	A prestação tributária é cobrada mediante atividade administrativa discricionária.
E.	Os impostos municipais não incidem sobre o patrimônio.

13. Segundo o Art. 61 da Lei Orgânica do Município de Toledo, com relação à formalização dos atos administrativos da competência do prefeito, assinale a alternativa <b>correta</b> :	
A.	A declaração de utilidade pública ou de interesse social para efeito de desapropriação ou servidão administrativa será efetivada via decreto.
B.	Realizar-se-á por portaria o ato de criação, alteração e extinção de órgãos da prefeitura.
C.	Portaria administrativa é o ato que aprova os regulamentos e regimentos dos órgãos da administração direta.
D.	Mediante decreto municipal se dará a autorização para abertura de sindicância e processos administrativos e aplicação de penalidades aos servidores públicos municipais.
E.	Os decretos são atos que poderão ser delegados para outras autoridades municipais, conforme disposto na Lei Orgânica do Município de Toledo.

14. O Coronavírus (Covid-19) foi detectado pela primeira vez em qual cidade chinesa?	
A.	Xangai.
B.	Pequim.
C.	Wuhan.
D.	Tianjin.
E.	Chengdu.

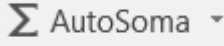
15. Segundo o site do município de Toledo-PR (Toledo em Números), publicado em 10 de dezembro de 2019, Toledo-PR estava ranqueado em:	
A.	7º lugar em Produto Interno Bruto (PIB) total do Paraná.
B.	3º lugar em Produto Interno Bruto (PIB) total do Paraná.
C.	1º lugar em Produto Interno Bruto (PIB) total do Paraná.
D.	9º lugar em Produto Interno Bruto (PIB) total do Paraná.
E.	5º lugar em Produto Interno Bruto (PIB) total do Paraná.

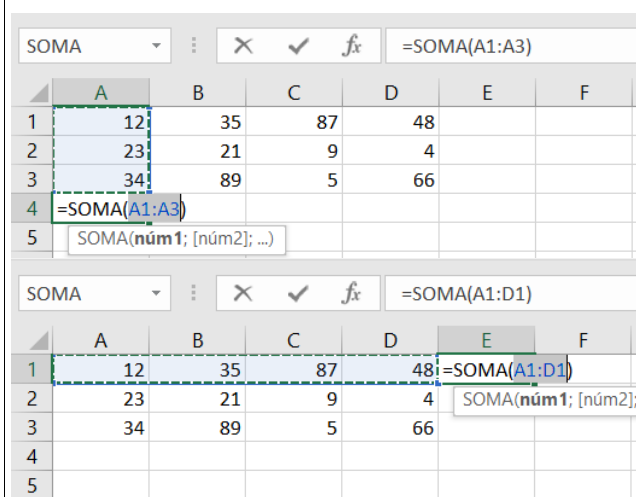
16. Quando se fala em infraestrutura rural, o chamado asfalto rural é um dos mais desejados pelos municípios, e, nesse quesito, Toledo-PR é destaque nacional. Quantos km de estradas rurais Toledo-PR possuía no final de 2019?	
A.	Mais de 800 km de estradas rurais asfaltadas.
B.	Entre 100 e 200 km de estradas rurais asfaltadas.
C.	Menos de 100 km de estradas rurais asfaltadas.
D.	Entre 300 e 450 km de estradas rurais asfaltadas.
E.	Entre 500 e 750 km de estradas rurais asfaltadas.

17. Complete a frase a seguir utilizando uma das alternativas abaixo. Um endereço de \_\_\_\_\_ é composto por 3 partes essenciais: pelo \_\_\_\_\_, pelo \_\_\_\_\_ e pelo \_\_\_\_\_, onde está disponibilizado o serviço.

- A. e-mail, nome do usuário, símbolo @, nome do servidor.
- B. URL, protocolo, HTTP, .br.
- C. URL, nome do servidor, protocolo, pa
- D. IP, classe, protocolo, cabeçalho.
- E. URL, nome do usuário, nome do servidor, protocolo.

18. A operação de soma é uma das mais utilizadas nas planilhas eletrônicas, tanto que existe um botão de atalho na barra de ferramentas, que possibilita selecionar a função a ser mais utilizada. Por padrão, no Microsoft Excel, é apresentada a função de AutoSoma, representada pela letra grega

sigma, seguida de sua descrição, conforme o ícone . Sabemos que, para realizar essa função, a célula que conterá a função e receberá o resultado deverá estar localizada logo abaixo ou logo ao lado da coluna ou linha, respectivamente, que desejamos obter o resultado, assim como demonstrado nas figuras a seguir:



Tal operação é tão utilizada que, além de se apresentar como primeira opção no botão de atalho, na barra de ferramentas de acesso rápido do Microsoft Excel, possui também uma combinação de teclas de atalho. Qual das opções a seguir representa os botões que, apertados simultaneamente, resultam nessa combinação?

- A. Ctrl+“+” (mais)
- B. Ctrl+enter
- C. Alt+“+” (mais)
- D. Ctrl+“=” (igual)
- E. Alt+“=” (igual)

19. O LibreOffice possui, assim como o Microsoft Office, diversas teclas de atalho. As mais conhecidas são as funções de copiar, colar e recortar. Com relação ao LibreOffice, qual das alternativas a seguir apresenta combinações para as funções de: negrito, itálico e sublinhado?

A.	Ctrl+N, Ctrl+I e Ctrl+S.
B.	Ctrl+C, Ctrl+V e Ctrl+X.
C.	Ctrl+G, Ctrl+T e Ctrl+L.
D.	Ctrl+P, Ctrl+I e Ctrl+B.
E.	Ctrl+B, Ctrl+I e Ctrl+U.

20. Considerando que ambas as suítes de aplicativos Microsoft Office e LibreOffice possuem aplicativos para elaboração de apresentações, quais são as teclas de atalho que correspondem respectivamente aos comandos: novo slide, iniciar apresentação e iniciar apresentação a partir do slide atual, em ambos os aplicativos.

A.	Ctrl+M, F5 e Shift+F5.
B.	Ctrl+N, F5 e Shift+F5.
C.	Ctrl+O, F5 e Shift+F5.
D.	Ctrl+N, Shift+F5 e F5.
E.	Ctrl+O, Shift+F5 e Shift+F5.

## CONHECIMENTO ESPECÍFICO DO CARGO

21. Com relação à Seção II da Lei Orgânica do Município de Toledo, as obras públicas serão executadas de acordo com as diretrizes definidas no plano de desenvolvimento integrado, diretamente pela Municipalidade, suas autarquias e demais entidades da administração indireta, ou por terceiros, mediante licitação, desde que cumpridas as seguintes exigências, **exceto**:

A.	Viabilidade, conveniência e oportunidade do empreendimento diante das exigências do interesse público.
B.	Recursos financeiros para atendimento das respectivas despesas.
C.	Equipe técnica para o funcionalismo do empreendimento.
D.	Projeto da obra e orçamento de seu custo.
E.	Cronograma físico-financeiro, indicando início e término do empreendimento.

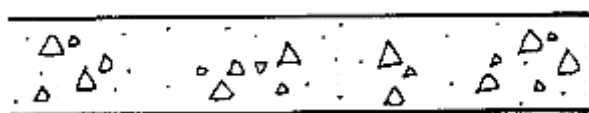
22. O projeto de um empreendimento apresenta a implantação geral em escala 1:750. Isso quer dizer que uma cisterna circular desenhada com diâmetro de 4 (quatro) centímetros deverá ser executada com raio de:

A.	6,00 metros.
B.	3,00 metros.
C.	2,00 metros.
D.	1,75 metros.
E.	1,50 metros.

23. Com relação à Taxa de Licença para Execução de Obras, Arruamentos e Loteamentos, decorrentes das atividades do poder de polícia do Município de Toledo, é **correto** afirmar que:

A.	Tem como fato gerador o exame de projetos de construção, reconstrução, reforma ou demolição de prédios, bem como de arruamento e de parcelamento do solo, para a aprovação e licenciamento.
B.	Nenhuma das obras indicadas na referida taxa poderá ser iniciada sem prévio pedido de licença à Municipalidade, exceto as obras de arruamento.
C.	A taxa de Licença para Execução de Obras, Arruamentos e Loteamentos incidirá, também, sobre a limpeza e pintura externa ou interna de prédios.
D.	Os projetos de arruamento, loteamento e parcelamento de terreno poderão ser executados sem aprovação, desde que sejam elaborados em conformidade com o zoneamento em vigor e mediante o pagamento prévio da respectiva taxa.
E.	A execução de obras de construção, em geral até 100,00 metros quadrados de área estão isentas do pagamento desta taxa.

24. Na representação gráfica de projetos de arquitetura, os materiais mais comumente utilizados devem ter sua convenção representada conforme exemplos da NBR 6492/94. Nesse sentido, a figura a seguir tem por finalidade representar o elemento de:



A.	Concreto em vista.
B.	Concreto em corte.
C.	Mármore/granito em corte.
D.	Mármore/granito em vista.
E.	Madeira em corte.

25. A NBR 9050/2015 estabelece critérios e parâmetros quanto ao projeto, construção e adaptação de edificações às condições de acessibilidade. Tratando-se de pessoas em cadeira de rodas, o módulo de referência em projeção no piso, ocupado por uma pessoa utilizando cadeira de rodas, motorizadas ou não, possui as seguintes dimensões:

A.	0,80 metros x 1,20 metros.
B.	0,80 metros x 1,00 metros.
C.	0,90 metros x 1,20 metros.
D.	0,90 metros x 1,00 metros.
E.	1,00 metros x 1,20 metros.

26. Com relação à legislação de parcelamento do solo urbano no Município de Toledo, assinale a alternativa <b>incorreta</b> :	
A.	O parcelamento do solo urbano poderá ser feito mediante loteamento ou desmembramento.
B.	Não será permitido o parcelamento do solo em áreas de preservação ecológica ou terrenos onde as condições geológicas não aconselhem a edificação.
C.	Define-se como infraestrutura básica todos os equipamentos urbanos de escoamento de águas pluviais, iluminação pública, redes de esgoto sanitário, de abastecimento de água potável e de energia elétrica pública e domiciliar e as vias de circulação.
D.	Os loteamentos deverão contemplar áreas destinadas à implantação de equipamento urbano e comunitário, espaços livres de uso público e vias de circulação, correspondendo no mínimo a doze por cento da gleba.
E.	Fica sujeito à penalidade de multa o loteador que der início ou efetuar o loteamento ou desmembramento do solo para fins urbanos, sem autorização do Município ou em desacordo com a Lei de parcelamento do solo urbano.

27. O formato básico para desenhos técnicos é o retângulo de área igual a 1,00 metro quadrado com lados medindo 84,10 centímetros por 118,90 centímetros, guardando entre si a mesma relação que existe entre o lado de um quadrado e a sua diagonal. A nomenclatura desse formato básico é designada como:	
A.	A0.
B.	A1.
C.	A2.
D.	A3.
E.	A4.

28. O levantamento exploratório do terreno com finalidade específica de seu reconhecimento, sem prevalecerem os critérios de exatidão, pode ser definido como:	
A.	Levantamento topográfico planialtimétrico.
B.	Levantamento topográfico planimétrico.
C.	Levantamento topográfico expedito.
D.	Levantamento topográfico altimétrico.
E.	Levantamento topográfico cadastral.

29. Com relação à Licença de “Habite-se”, prevista no Código Tributário do Município de Toledo, é <b>incorreto</b> afirmar:	
A.	A taxa de Licença de “Habite-se” incide sobre todas as obras regularmente licenciadas, para poderem ser ocupadas.
B.	Poderão ser isentos do recolhimento da taxa de Licença de “Habite-se” os indivíduos enquadrados na Lei 13.146/2015 de Inclusão da Pessoa com Deficiência.
C.	O requerimento para concessão de “Habite-se” deverá conter a identificação da empresa construtora ou do construtor.
D.	O fator gerador da taxa de Licença de “Habite-se” é a efetiva vistoria pelo setor competente do Município a toda obra regularmente licenciada e concluída.
E.	Quando da solicitação, deverá ser apresentado comprovante de pagamento do ISS incidente sobre a execução ou reforma da obra.

30. Com relação à necessidade e disponibilidade de vagas de estacionamento exclusivas, discriminadas na NBR 9050/15, é <b>incorreto</b> afirmar que:	
A.	As vagas reservadas de estacionamento para idosos devem ser posicionadas próximas às entradas, garantindo o menor percurso.
B.	As vagas reservadas para veículo no estacionamento devem ser sinalizadas e demarcadas com símbolo internacional de acesso ou descrição de idoso, aplicado somente na vertical.
C.	As vagas reservadas de estacionamento para pessoas com deficiência devem contar com espaço adicional de circulação de no mínimo 1,20 metros de largura.
D.	As vagas reservadas para veículos estipuladas pela norma são divididas em dois tipos, para veículos que conduzam ou sejam conduzidos por idosos e veículos que conduzam ou sejam conduzidos por pessoas com deficiência.
E.	As vagas de veículos reservadas para pessoas com deficiência podem possuir o percurso máximo de 50 metros entre a vaga e o acesso à edificação.

31. Com relação ao Código de Posturas do Município de Toledo, é <b>correto</b> afirmar que:	
A.	É facultativo aos proprietários de imóveis que tenham frente para logradouros pavimentados a construção de seus respectivos muros e a pavimentação de passeios.
B.	Os terrenos situados em zonas urbanas poderão ser fechados com muros, grades de ferro, madeira ou cerca de arame farpado ou liso.
C.	É permitido o encaminhamento de águas servidas ou pluviais para o leito de estradas, desde que respeitada a distância mínima de dez metros do eixo principal.
D.	Serão comuns os muros e cercas divisórias entre propriedades urbanas, devendo os proprietários dos imóveis confinantes concorrer em partes iguais para as despesas de sua construção e conservação, na forma prevista no Código Civil.
E.	A arborização de faixas laterais de domínio em estradas é permitida sem prévia autorização do Município, desde que não obstruam a visibilidade.

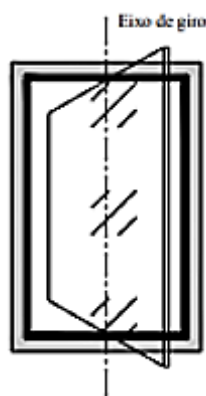
32. Dentre os elementos fundamentais que devem estar presentes nos projetos arquitetônicos e demais complementares, estão as cotas. Com relação a este elemento e suas generalidades contidas na NBR 6492/94 Representação de projetos de arquitetura, assinale a alternativa **incorreta**:

A.	As cotas devem ser indicadas em metro (m) para as dimensões iguais ou superiores a 1,00 metro e em centímetro (cm) para as dimensões inferiores a 1,00 metro.
B.	A cota de dimensões de vãos de portas e janelas deve indicar o vão acabado e pronto para receber as esquadrias.
C.	Deve-se evitar a duplicação de cotas.
D.	Nos cortes, deve-se somente marcar cotas verticais.
E.	As cotas de nível são sempre representadas em centímetros.

33. O produto final que apresenta, de forma clara e organizada, todas as informações necessárias à perfeita execução da obra e todos os serviços inerentes, com alto nível de detalhamento e informações, é denominado de:

A.	Projeto arquitetônico.
B.	Projeto básico.
C.	Projeto executivo.
D.	Projeto complementar.
E.	Projeto construtivo.

34. No que tange às esquadrias para edificações de uso geral, um projeto arquitetônico apresenta o detalhamento de uma janela de alumínio conforme figura a seguir. Indique a nomenclatura desta esquadria.

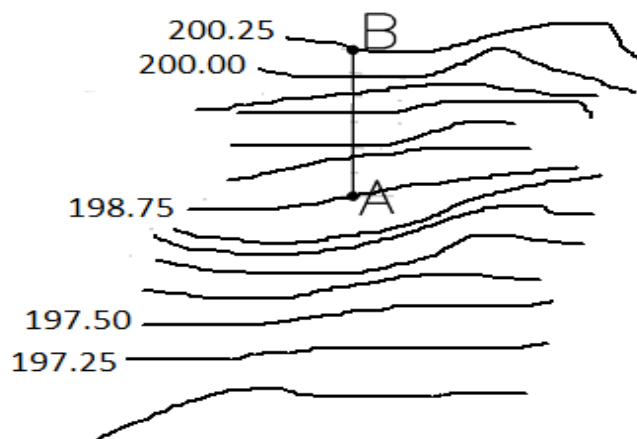


A.	Pivotante.
B.	Basculante.
C.	Projetante.
D.	Maxim-ar.
E.	Guilhotina.

35. Acerca das abreviaturas e seus significados, trazidos pela NBR 9050/15 Acessibilidade a edificações, mobiliário, espaços e equipamentos urbanos, assinale a alternativa **incorreta**:

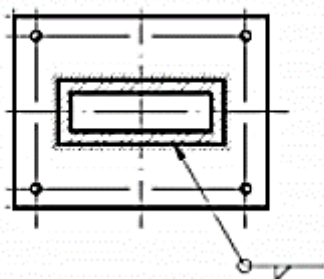
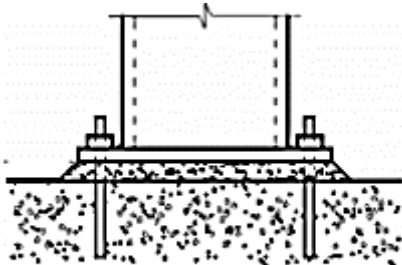
A.	M.R. – módulo de referência.
B.	P.C.R. – pessoa em cadeira de rodas.
C.	P.M.R. – pessoa com mobilidade reduzida.
D.	L.H. – largura horizontal.
E.	P.O. – pessoa obesa.

36. Considere a imagem abaixo, retirada de um projeto de levantamento topográfico planialtimétrico. Caso uma pessoa precise se deslocar do ponto A para o ponto B, ela estará:



A.	Subindo 1,75 metros.
B.	Descendo 1,75 metros.
C.	Subindo 1,25 metros.
D.	Descendo 1,50 metros.
E.	Subindo 1,50 metros.

37. O detalhe em sequência apresenta a ligação de um pilar metálico de seção retangular com sua fundação. Uma chapa metálica é utilizada para auxiliar esta ligação. Sobre esta figura, é **correto** afirmar.



A.	A chapa é ligada à fundação por meio de dois parafusos.
B.	A fundação executada é uma sapata corrida.
C.	A ligação entre o pilar e a chapa é permanente.
D.	O pilar está descentralizado em relação à chapa metálica.
E.	Os parafusos estão desalinhados.

38. Quanto aos requisitos de higiene indispensáveis para a proteção e saúde dos indivíduos, dispostos no Código de Posturas do Município de Toledo, é **correto** afirmar:

A.	Os proprietários, inquilinos ou outros ocupantes de imóveis estão desobrigados da conservação de seus quintais, pátios, terrenos e edificações.
B.	Qualquer edifício situado em via pública, dotada de rede de água e esgoto sanitário poderá ser habitado sem que se disponha dessas utilidades.
C.	Toda e qualquer edificação, no território do Município, deverá ser construída e mantida, observando-se a redução dos fatores de estresse psicológico e social.
D.	As edificações condenadas por insalubridade, somente poderão ser utilizadas como depósitos.
E.	Somente as edificações públicas, comerciais e industriais deverão obedecer aos requisitos de higiene indispensáveis para a proteção da saúde dos usuários e trabalhadores.

39. O elemento gráfico que compreende o projeto como um todo, contendo, além do projeto de arquitetura, as informações necessárias dos projetos complementares, a indicação de vias de acesso, áreas cobertas, perímetro do terreno, amarrações, é denominado de:	
A.	Planta de situação.
B.	Planta de locação.
C.	Planta de edificação.
D.	Planta de topografia.
E.	Planta de detalhamento.

40. Ao infrator da legislação tributária, caberá a aplicação de penalidades previstas no Código Tributário Municipal. Assinale a alternativa <b><u>incorreta</u></b> com relação às penalidades passíveis de multa.	
A.	Início das atividades ou prática de atos sujeitos a taxas, antes da concessão destas.
B.	Emissão de documento fiscal com prazo de validade vencido.
C.	Falsificação ou alteração de nota fiscal ou de qualquer outro documento relativo à operação tributável.
D.	Falta de número de inscrição no Cadastro de Prestadores de Serviços de Qualquer Natureza em documentos fiscais.
E.	Em caso de reincidência, aplicação de multa correspondente a trinta por cento da Unidade de Referência de Toledo (URT).



ESTA FOLHA O CANDIDATO PODERÁ USAR PARA RASCUNHO OU DESTACAR PARA ANOTAR SUAS RESPOSTAS