

CARGO: MÉDICO DA FAMÍLIA

PERÍODO MANHÃ

CONCURSO PÚBLICO Nº 002/2023 PREFEITURA MUNICIPAL DE FAZENDA RIO GRANDE

Atenção: Confira seu cargo e leia todas as instruções constantes no seu Caderno de Questões e Folha de Respostas.

1. Seu caderno deve conter 60 (sessenta) questões, com 04 (quatro) alternativas, assim dispostas:

Disciplina	Composição
Língua Portuguesa	1 a 10
Matemática/Raciocínio Lógico	11 a 20
Informática Básica	21 a 30
Conhecimentos Gerais e Atualidades	31 a 40
Conhecimentos Específicos	41 a 60

2. A Prova terá duração de 3h e 30min (três horas e trinta minutos), incluindo preenchimento da Folha de Respostas.
3. Após sua identificação, você deverá permanecer dentro da sala, sendo permitida a saída somente acompanhado de um fiscal e após 30min (trinta minutos) do início da prova.
4. Para uso do sanitário e/ou beber água, você deverá solicitar ao Fiscal de Sala e somente levantar após autorização.
5. O candidato só poderá sair da sala em definitivo após 1h (uma hora) do início da prova.
6. Ao deixar a sala definitivamente, não poderá utilizar o sanitário dos candidatos que ainda estão realizando prova, e só poderá levar o Caderno de Questões restando 1h (uma hora) para o final da prova.
7. Enquanto estiver realizando a Prova é proibido utilizar materiais de consulta, livros, apostilas, calculadoras, régua, quaisquer equipamentos eletrônicos, chapéus, bonés, e/ou similares, conforme constante no edital de abertura. Caso o fiscal constate alguma irregularidade irá anotar em Ata da Sala, para devidas providências da Comissão Organizadora.
8. Sobre sua carteira deverá permanecer somente documento oficial original com foto, caneta de tinta azul ou preta de corpo transparente, Caderno de Questões e Folha de Respostas.
9. Você poderá utilizar seu Caderno de Questões para rascunho.
10. Você receberá do Fiscal de Sala a Folha de Respostas definitiva. Confira seus dados e em caso de erro, chame o fiscal. Após conferir, **assine no campo destinado à assinatura do candidato**. Em hipótese alguma ela será substituída caso o candidato dobre, amasse, rasgue ou molhe. Cuidado, pois esse será o único documento válido para correção.
11. Caso algum equipamento eletrônico emita som, mesmo que desligado e lacrado no plástico de pertences, o candidato portador do equipamento será automaticamente eliminado do concurso.
12. Transcreva suas respostas para Folha de Respostas com caneta de tinta azul ou preta de corpo transparente. **Atenção:** verifique na Folha de Respostas a forma correta de preenchimento.
13. Questões com mais de uma alternativa assinalada, rasurada, em branco ou preenchidas de forma diferente das instruções serão anuladas.
14. Após terminar sua Prova avise o Fiscal, pois ele autorizará a entrega da sua Folha de Respostas e Caderno de Questões, se for o caso.
15. Caso algum candidato seja flagrado na tentativa de fraude, esse será automaticamente eliminado do Concurso, ainda sujeito a processo civil ou criminal.
16. Qualquer questionamento ou dúvidas devem ser feitos em voz alta ao fiscal.
17. Os 03 (três) últimos candidatos deverão sair juntos da sala, após a conferência e lacre do material da sala.
18. Aguarde a autorização do Fiscal para iniciar sua Prova.

-----DESTAQUE AQUI-----

01	02	03	04	05	06	07	08	09	10	11	12	13	14	15	16	17	18	19	20
21	22	23	24	25	26	27	28	29	30	31	32	33	34	35	36	37	38	39	40
41	42	43	44	45	46	47	48	49	50	51	52	53	54	55	56	57	58	59	60

Língua Portuguesa

Leia o texto para responder as questões.

Por que a moeda brasileira se chama real?

“Real”, no sentido de realeza, era a moeda adotada por Portugal e suas colônias desde a época das Grandes Navegações – o plural era “réis”, de onde vem a expressão “conto de réis”, que equivale a um milhão de réis. No Brasil, o Real português vigorou dos tempos coloniais até 1942, no auge do Estado Novo de Getúlio Vargas.

Àquela altura, a inflação já tinha comido tanto o valor do velho real que a unidade básica da economia era o “mil reais” – “miréis” na fonética daqueles tempos. Getúlio, então, instituiu uma nova unidade monetária, o cruzeiro – este um nome 100% nacional, referindo-se ao Cruzeiro do Sul, a constelação mais distinta do nosso hemisfério. E cada cruzeiro valia mil reais.

A partir dali, porém, a inflação só fez acelerar. Nos 25 anos entre 1942 e 1967, tivemos inflação de pelo menos 2 dígitos em 23. O “mil cruzeiros” já era a nova unidade monetária. A Ditadura Militar, então, mandou cortar três zeros. Surgiu o Cruzeiro novo.

Mas faltou combinar com as nossas equipes econômicas. A Ditadura seguiu imprimindo dinheiro para encher o país de obras. O Banco do Brasil, para você ter uma ideia, tinha o poder de fabricar moeda. Se o governo precisasse de dinheiro para fazer uma hidrelétrica, ou para pagar o espumante das festas, pedia para o Banco do Brasil imprimir notas, pagava tudo, e beleza. O que podia dar errado?

Tudo, claro. Quando você enche a praça de dinheiro, o próprio dinheiro vira carne de vaca. Perde valor. A essa perda de valor, você sabe, damos o nome de “inflação”.

E a inflação saiu dos dois dígitos. Foi para três – mais de 100% ao ano. Hora de mudar a moeda de novo.

Em 1986, o governo Sarney aposentava o cruzeiro e inaugurava o “cruzado”. Como estamos falando de nome de moeda aqui, vale um adendo. “Cruzado” era a moeda de prata que Portugal usava na época das Grandes Navegações. Nisso, a equipe de Sarney encarregada de dar nome à nova moeda matava dois coelhos. Usava um nome com estofamento histórico e que, ao mesmo tempo, não soava alienígena, já que lembrava a denominação da moeda anterior.

E aí... Bom, os desmandos financeiros do Estado seguiam de vento em popa. Em 1987 a inflação chegou perto de 500%. Em 1988, passou de 1.000%. Em 1989, roçou os 2.000%.

Hora de trocar de moeda de novo. Chegava o cruzado novo. Em 1990, Fernando Collor assumiu e determinou que o cruzado novo voltasse a se chamar “cruzeiro” – por questões estéticas e para deixar seu glorioso confisco à poupança mais didático. Os cruzeiros circulariam livremente; os “cruzados novos” ficariam retidos. Só uma baboseira linguística para fazer com que o pior plano econômico da história do país parecesse menos patético do que era de fato.

Por essas e outras, Collor acabou saindo. Deixou no lugar o vice Itamar Franco e uma inflação que, em 1993, chegaria ao seu maior valor histórico: 2.477%.

Itamar, que entendia tanto de economia quanto de penteado, propôs a seu ministro da Fazenda, Fernando Henrique Cardoso, “prender o Abílio Diniz e congelar os preços” – Abílio, então dono da rede de supermercados Pão de Açúcar deveria ser preso, na cabeça do então presidente, para deixar de aumentar preços – como se quem criasse inflação fosse quem comercializa produtos, e não quem imprime moeda.

Em 1994, enfim, a equipe de FHC lançou o Plano Real. Não foi um simples corte de zeros. Houve um trabalho que envolveu saneamento das contas públicas, com cortes violentos de gastos (de modo a controlar a própria emissão de moeda), e, mais tarde – a partir de 1999 –, com a adoção do regime de “metas de inflação”. Grosso modo, esse regime diz que, se a inflação subir além de um patamar aceitável, deve-se aumentar os juros básicos da economia. Juros altos freiam o consumo e os financiamentos bancários. Isso esfria a economia. Passa a circular menos moeda, e o valor do dinheiro se mantém. É por isso que, desde a década de 1990, o risco de hiperinflação caiu a zero.

Por que o “real” ganhou esse nome? Por que ele matava dois coelhos também. Tem fundo histórico, já que é o nome da moeda anterior ao cruzeiro, e remete à ideia de uma moeda com “valor real”.

Disponível em https://www.instagram.com/p/CopyL_dgIj/

- De acordo com o texto, é possível afirmar que**
 - imprimir moeda pouco influencia na economia e na inflação.
 - inflação é um bom fator para a economia, já que refaz a moeda.
 - o plano econômico do país precisa ser pensado e estudado com cautela e responsabilidade.
 - Itamar Franco criou o plano real e Fernando Henrique Cardoso deu continuidade.
- Análise: “Em 1987 a inflação chegou perto de 500%.” E assinale a alternativa correta.**
 - Após “1987”, poderia inserir uma vírgula.
 - A vírgula é proibida após “1987”.
 - O ponto final, após “%” é incorreto.
 - Inflação é sinônimo de infração.
- Pela visão do texto, o que é possível inferir sobre Itamar?**
 - Ele era um grande entendedor de economia.
 - Fernando Henrique era um grande amigo seu.
 - Ele se equivocou ao pedir para prender Abílio Diniz.
 - Abílio Diniz era seu aliado político.
- “Matar dois coelhos” é uma expressão**
 - denotativa.
 - conotativa.
 - real.
 - literal.
- “A inflação só fez acelerar” é uma expressão que utiliza qual figura de linguagem?**
 - Hipérbole.
 - Personificação.
 - Ironia.
 - Metáfora.
- Assinale a alternativa cujo trecho a seguir foi reescrito de maneira que não altere seu sentido. “Mas faltou combinar com as nossas equipes econômicas.”**
 - “Dessa forma, faltou combinar com as nossas equipes econômicas.”
 - “Dito isso, faltou combinar com as nossas equipes econômicas.”
 - “Sendo assim faltou combinar com as nossas equipes econômicas.”
 - “No entanto faltou combinar com as nossas equipes econômicas.”

7. **Análise: “A Ditadura seguiu imprimindo dinheiro para encher o país de obras.” E assinale o tipo de sujeito presente nesta oração.**
- Sujeito simples.
 - Sujeito composto.
 - Sujeito oculto.
 - Sujeito indeterminado.
8. **Assinale a alternativa cujo trecho a seguir foi reescrito de maneira que não altere seu sentido. “Houve um trabalho que envolveu saneamento das contas públicas, com cortes violentos de gastos (de modo a controlar a própria emissão de moeda), e, mais tarde – a partir de 1999 –, com a adoção do regime de ‘metas de inflação’”.**
- “Ouve um trabalho que envolveu saneamento das contas públicas, com cortes violentos de gastos (de modo a controlar a própria emissão de moeda), e, mais tarde – a partir de 1999 –, com a adoção do regime de ‘metas de inflação’”.
 - “Obteve-se um trabalho que envolveu saneamento das contas públicas, com cortes violentos de gastos (de modo a controlar a própria emissão de moeda), e, mais tarde – a partir de 1999 –, com a adoção do regime de ‘metas de inflação’”.
 - “Teve um trabalho que envolveu saneamento das contas públicas, com cortes violentos de gastos (de modo a controlar a própria emissão de moeda), e, mais tarde – a partir de 1999 –, com a adoção do regime de ‘metas de inflação’”.
 - “Tomou-se um trabalho que envolveu saneamento das contas públicas, com cortes violentos de gastos (de modo a controlar a própria emissão de moeda), e, mais tarde – a partir de 1999 –, com a adoção do regime de ‘metas de inflação’”.
9. **Análise: “Por essas e outras, Collor acabou saindo.” E assinale a alternativa correta.**
- “Essas e outras” retoma o quão importante foi a reestruturação econômica de Collor.
 - “Essas e outras” retoma como Collor entendia bem de economia.
 - “Essas e outras” retoma momentos patéticos da presidência de Collor.
 - “Essas e outras” retoma as mudanças benéficas que Collor trouxe para a economia.
10. **Assinale a alternativa que apresenta um verbo conjugado no Pretérito Imperfeito do Indicativo.**
- “Deixou no lugar o vice Itamar Franco e uma inflação que, em 1993, chegaria ao seu maior valor histórico: 2.477%.”
 - “Tem fundo histórico, já que é o nome da moeda anterior ao cruzeiro, e remete à ideia de uma moeda com ‘valor real’.”
 - “Em 1990, Fernando Collor assumiu e determinou que o cruzado novo voltasse a se chamar ‘cruzeiro’”
 - “Chegava o cruzado novo.”

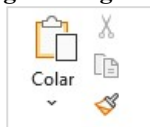
Matemática/Raciocínio Lógico

11. **Considere a matriz $A = \begin{bmatrix} 2 & 1 \\ 3 & 1 \end{bmatrix}$. Sobre a matriz A é possível afirmar que**
- A é uma matriz invertível.
 - A é uma matriz linha.
 - A é uma matriz de ordem 3.
 - O determinante de A é positivo.
12. **Considere os pontos A (-3,2); B (3,6); C (1,3) e D (0,4) e assinale a alternativa correta.**
- Os pontos A, B e C são colineares.
 - Os pontos A, B, C e D formam um quadrilátero.
 - Os pontos A, B e D formam um triângulo.
 - Os pontos A, B e D são colineares.
13. **Considere a proposição “Se João estuda muito então ficará aprovado em um concurso”. Assinale a alternativa que contém a negação dessa proposição.**
- João estuda muito e não ficará aprovado em um concurso.
 - João estuda muito ou não ficará aprovado em um concurso.
 - João não estuda muito e não ficará aprovado em um concurso.
 - João não estuda muito ou não ficará aprovado em um concurso.
14. **Considere a função $f(x) = \text{sen}(2x - 1)$. Assinale a alternativa que apresenta o conjunto Imagem da função $f(x)$.**
- $[-1,2]$
 - $[-1,1]$
 - $(-1,1)$
 - $(-1,2)$
15. **De quantos modos diferentes é possível formar uma equipe de 3 pessoas em um grupo de 20 pessoas?**
- 6840.
 - 3420.
 - 2280.
 - 1140.
16. **Uma pessoa iniciou um projeto para realizar caminhadas todos os dias. No primeiro dia, ela caminhou por 20 min e nos demais dias aumentou o tempo de caminhada em 2 min a mais que no dia anterior. Sabendo que a meta inicial foi de chegar ao tempo de 2 horas de caminhada por dia, em quantos dias após iniciar seu projeto ela alcançará a meta estabelecida?**
- 15 dias.
 - 21 dias.
 - 24 dias.
 - 27 dias.
17. **Um capital de R\$ 5000,00 foi aplicado a uma taxa de juros composto. Sabe-se que o montante acumulado ao final do 1º ano foi de R\$ 5150,00. Qual a taxa de juros da aplicação?**
- 2%
 - 3%
 - 4%
 - 5%

18. Considere a função $f(x) = -x^2 + 4x + 5$, e assinale a alternativa correta.
- O gráfico da função é uma parábola concava para cima.
 - A função admite apenas uma raiz real.
 - A função atinge seu valor máximo quando $x=2$.
 - A função não está definida no ponto $x=0$.
19. Considere uma caixa d'água de formato cilíndrico, com altura igual a 5 metros cuja base tem raio de 2 metros. O volume da caixa d'água é igual a
- $40\pi \text{ m}^3$
 - $30\pi \text{ m}^3$
 - $20\pi \text{ m}^3$
 - $18\pi \text{ m}^3$
20. Dada a função $f(x) = 2^{x+1}$, para qual valor de x , temos $f(x) = 1024$.
- 11.
 - 10.
 - 9.
 - 8.

Informática Básica

21. Considere a imagem a seguir:

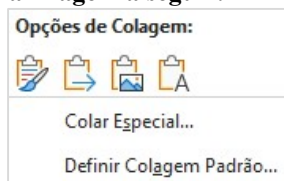


Fonte: Microsoft Word 365.

A imagem apresenta os elementos disponíveis no grupo "Área de Transferência" do Microsoft Word 365. Sendo assim, assinale a alternativa correta com os nome dos elementos disponíveis na imagem.

- Colar – Recortar – Duplicar - Formatar.
- Colar – Cortar – Copiar – Pincel de Formatação.
- Colar – Recortar – Copiar – Pincel de Formatação.
- Colar – Recortar – Copiar – Realce do Texto.

22. Considere a imagem a seguir:



Fonte: Microsoft Word 365.

Podemos notar a partir da imagem acima, que o Microsoft Word 365 dispõe de algumas opções de colagem. Sendo assim, assinale a alternativa incorreta.

- Ao clicar na opção Colar Especial, será aberta uma nova janela, onde se pode escolher formatos de colagem. Entre esses formatos temos Formato HTML.
- Entre as opções de colagem temos: Manter Formatação Original, Mesclar Formatação e Manter Somente Texto.
- Uma regra do Word 365 é manter a formatação original quando se cola imagens em um documento usando CTRL+Shift+V.
- A opção Manter Somente Texto cola o texto sem nenhuma formatação.

23. A Google fornece vários serviços e aplicativos, alguns deles gratuitos. Os serviços mais conhecidos incluem o Gmail, Google Plus e o YouTube. Pautando-se nessas informações assinale a alternativa correta que apresenta apenas aplicativos da Google.
- Chrome – Maps – Meet – Hangouts.
 - Facebook – Youtube – Writer – Gmail.
 - Maps – Agenda – Edge – Meet.
 - Hangouts – Chrome – Canva – WhatsApp.

24. Na maioria das vezes, os atalhos são criados automaticamente e isso pode fazer com que a área de trabalho fique poluída. No entanto, o Windows possibilita a exclusão desses atalhos. A respeito de atalhos no Microsoft Windows, analise as assertivas e assinale a alternativa correta.

- Um método que pode ser usado para remover um atalho da área de trabalho é arrastá-lo para a Lixeira. Outro método é clicar com botão direito do mouse e clicar em excluir.
- Alguns atalhos estão disponíveis apenas para usuários do Windows, pois geralmente são executados em combinação com a tecla Windows. Por exemplo Windows + E abre o Explorador de Arquivos do Windows 10.
- Existem atalhos para a maioria das ações inclusive para a inserção de caracteres especiais como Alt+0146 para inserir apóstrofo.
- As teclas de função na parte superior do teclado fornecem ajuda rápida com a execução de comandos.
 - Apenas I está correta.
 - Apenas I e II estão corretas.
 - Apenas III e IV estão corretas.
 - Todas estão corretas.

25. Considere a imagem a seguir:

	A	B
1	10	
2	18	
3	3	
4	#NOME?	
5		

Fonte: Microsoft Excel 365.

Ao analisar a imagem apresentada, nota-se um erro na célula A4. Que erro é esse e porque ele ocorre?

- Erro nada consta. Ocorre quando a célula que precisa ser identificada está vazia.
- Erro de nome inválido. Ocorre quando há um erro de digitação no nome da fórmula.
- Erro de sintaxe. Ocorre quando todas as funções são arquivadas.
- Erro de fórmula. Ocorre quando o usuário seleciona os campos incorretos.

26. Suponha que as seguintes células devem ser somadas:

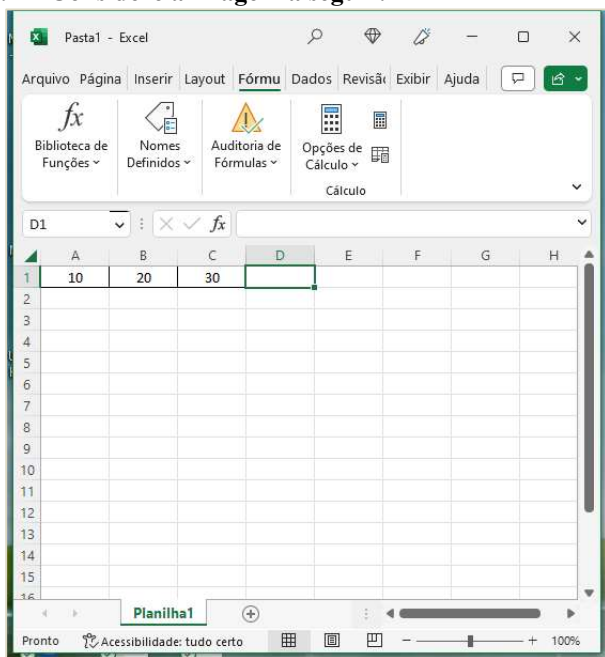
	A	B	C
1	10	20	30
2			

Fonte: Microsoft Excel 365.

Considerando essas informações, assinale a alternativa que aponta qual(is) fórmula(s) pode(m) ser utilizada(s) para exibir o resultado correto da soma.

- I. =10+20+30
 - II. = SOMA(10+20+30)
 - III. =SOMA(A1:C1)
 - IV. =SOMA 10+20+30
- a) Apenas III está correta.
 - b) Apenas II e III estão corretas.
 - c) Apenas I, II e III estão corretas.
 - d) Apenas II, III e IV estão corretas.

27. Considere a imagem a seguir:



Fonte: Microsoft Excel 365.

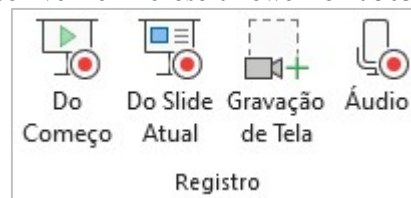
Para maximizar a janela selecionada na imagem, deve-se pressionar qual combinação de teclas?

- a) Ctrl + F10.
- b) Ctrl + F9.
- c) Ctrl + F8.
- d) Ctrl + F7.

28. Embora o PowerPoint seja usado principalmente como uma ferramenta de apresentação, ele também oferece uma variedade de opções de impressão. Isso não se limita aos slides em si. De posse dessas informações e considerando as opções de impressão disponíveis no PowerPoint 365, informe se é verdadeiro (V) ou falso (F) para o que se afirma e assinale a alternativa com a sequência correta.

- () É possível imprimir folhetos com ou sem anotações, miniaturas e trechos.
 - () Pode-se determinar a forma em que os slides selecionados são impressos através do submenu Slide em página inteira. É possível imprimir até 9 slides em uma única página.
 - () No layout de impressão, existem 4 configurações para impressão: slide em página inteira, anotações, estrutura de tópicos e agrupado.
 - () Acessando Arquivo – Imprimir – Configurações, é possível alterar a escala de cor do slide para: Preto e branco puro ou Escala de cinza.
- a) V – V – V – V.
 - b) V – V – F – V.
 - c) V – F – F – V.
 - d) F – V – F – V.

29. Considere a imagem a seguir do grupo “Registro” disponível no Microsoft PowerPoint 365.



Fonte: Microsoft PowerPoint 365.

Sobre os elementos disponíveis nesse grupo, assinale a alternativa correta.

- a) A diferença entre os elementos Do Começo e Do Slide Atual é a posição em que o mouse está na hora da apresentação.
 - b) A opção Gravação de Tela permite selecionar uma área específica da tela para gravar.
 - c) A opção Áudio permite extrair o som de algum vídeo gravado.
 - d) O grupo Registro está localizado na guia Exibir.
30. O explorador de arquivos do Windows foi disponibilizado a partir da versão 10 do sistema operacional. No entanto, ele já existia nas versões anteriores, mas com um nome diferente. Nesse sentido, assinale a alternativa correta com a antiga nomenclatura do Explorador de Arquivos do Windows.
- a) Acesso rápido.
 - b) Diretórios do Windows.
 - c) Windows Explorer.
 - d) Gerenciador de arquivos.

Conhecimentos Gerais e Atualidades

31. De acordo com o capítulo VII da Lei Orgânica de Fazenda Rio Grande, analise as assertivas e assinale a alternativa correta.

I. Aos maiores de sessenta e cinco anos é garantido o desconto de 80% no transporte coletivo urbano, assim como às pessoas portadoras de necessidades especiais, comprovadamente carentes de recursos financeiros.

II. Fica o Município com o encargo de custear as despesas de água e energia elétrica, das escolas especiais e entidades, reconhecidas de utilidade pública pelo Município e que se dediquem exclusivamente às pessoas portadoras de necessidades especiais e com o menor abandonado, conforme dispuser a lei.

III. O Município promoverá programas de assistência à criança, ao idoso e aos portadores de necessidades especiais.

IV. É vedado ao município conceder auxílio funeral em qualquer hipótese.

- a) Apenas uma está correta.
- b) Apenas duas estão corretas.
- c) Apenas três estão corretas.
- d) Todas estão corretas.

32. De acordo com o artigo 166 da Lei Orgânica de Fazenda Rio Grande, assinale a alternativa correta.

a) Todos têm direito ao meio ambiente ecologicamente equilibrado, bem de uso comum do povo e essencial à sadia qualidade de vida, impondo-se ao Poder Público e à comunidade o dever de defendê-lo e preservá-lo para as presentes e futuras gerações.

b) Todos têm direito ao meio ambiente ecologicamente equilibrado, bem de uso comum do povo e essencial à sadia qualidade de vida, impondo-se às empresas poluidoras e à comunidade o dever de defendê-lo e preservá-lo para as presentes e futuras gerações.

c) Todos têm direito ao meio ambiente degradado, bem como podem fazer uso da maneira necessária ao desenvolvimento e manutenção da vida. Ao Poder Público, cabe a preservação das áreas públicas para as presentes e futuras gerações.

d) Todos têm direito a exploração de recursos minerais, inclusive extrações de areias, cascalhos ou pedreiras, ou ainda de corte da flora silvestre, nesse caso, o interessado deverá apresentar relatório de impacto ambiental, com solução para a recuperação do ambiente explorado, a longo prazo.

33. De acordo com a Lei Orgânica de Fazenda Rio Grande, informe se é verdadeiro (V) ou falso (F) para o que se afirma e assinale a alternativa com a sequência correta.

() É vedado ao Município patrocinar entidades particulares de desporto, equipes ou atletas profissionais, bem como eventos de caráter esportivo nos quais hajam participação de profissionais do desporto em geral.

() O Município fomentará as práticas desportivas formais ou não formais, dando prioridade aos alunos de sua rede de ensino e às promoções desportivas dos clubes locais.

() O Município incentivará a prática do esporte amador, principalmente na rede escolar do município e fomentará o lazer como forma de promoção social.

() Compete exclusivamente ao Município, dentro da sua capacidade financeira e de imóveis. Desenvolver programas de construção de espaços destinados à prática esportiva e de lazer, objetivando o incentivo destas atividades aos cidadãos fazendenses.

- a) F – F – V – F.
- b) F – F – V – V.
- c) V – V – F – V.
- d) V – V – V – F.

34. Com base na Lei Orgânica de Fazenda Rio Grande, analise as assertivas e assinale a alternativa correta.

I. O Município dispensará especial atenção ao atendimento educacional especializado aos portadores de necessidades especiais físicas e mentais, com recursos pré-definidos para sua manutenção e desenvolvimento.

II. Integra o atendimento ao educando os programas suplementares de material didático escolar, transporte, alimentação e assistência à saúde.

III. O Município promoverá a realização de cursos, palestras e outras atividades afins para a orientação programática e pedagógica, especialmente em campanhas antitóxicos, aids e deficiência imunológica.

IV. O Município manterá seu sistema de ensino em colaboração com o Estado, atuando, prioritariamente, no ensino médio, superior e de jovens e adultos (EJA).

- a) Apenas uma está correta.
- b) Apenas duas estão corretas.
- c) Apenas três estão corretas.
- d) Todas estão corretas.

35. De acordo com o artigo 118 de Lei Orgânica de Fazenda Rio Grande, analise as assertivas e assinale a alternativa que aponta a(s) correta(s).

Pertencem ao Município:

I. o produto de arrecadação do imposto da União sobre rendas e proventos de qualquer natureza, incidente na fonte, sobre rendimentos pagos a qualquer título, pela administração direta, autárquica e fundações públicas do Município.

II. sessenta por cento do produto da arrecadação do imposto da União sobre a propriedade territorial rural relativamente aos imóveis situados no Município.

III. cinquenta por cento do produto da arrecadação do imposto do Estado sobre a propriedade de veículos automotores licenciados no território do município.

IV. trinta por cento do produto da arrecadação do imposto do Estado sobre operações relativas à circulação de mercadorias e sobre prestações de serviços de transporte interestadual e intermunicipal de comunicação.

- a) Apenas duas estão corretas.
- b) Apenas três estão corretas.
- c) Todas estão corretas.
- d) Apenas uma está correta.

36. De acordo com o artigo 105 da Lei Orgânica de Fazenda Rio Grande, nenhum empreendimento de obras e serviços do Município, poderá ter início sem prévia elaboração do plano respectivo, no qual, obrigatoriamente conste:
- a autorização do Tribunal de Contas do Estado (TCE/PR) após a aprovação nas contas e projetos apresentados.
 - a viabilidade do empreendimento, sua conveniência e oportunidade para o interesse comum.
 - os pormenores para sua execução.
 - os recursos para o atendimento das respectivas despesas.
 - os prazos para o seu início e conclusão, acompanhados da respectiva justificação.
 - a previsão com estimativa de valores de possíveis aditivos, na forma da Lei.
- Apenas uma está correta.
 - Apenas duas estão corretas.
 - Apenas três estão corretas.
 - Apenas quatro estão corretas.
37. Quais os principais países envolvidos na história de um balão misterioso que apareceu nos céus de um dos países no início de fevereiro de 2023? Desde então, os dois países passaram por uma crise diplomática para entender quais as causas e os motivos do balão ter invadido o espaço aéreo de um deles. Os dois países já apresentaram suas versões sobre o ocorrido. Enquanto um acreditou se tratar de um balão de espionagem, o outro alegou ser um instrumento meteorológico que desviou da sua rota e viajou até o local.
- Rússia e China.
 - Ucrânia a Rússia.
 - Estados Unidos e China.
 - Israel e Palestina.
38. Com base em seus conhecimentos sobre o tema, assinale a alternativa que apresenta somente vantagens da Globalização.
- Avanços científicos / favorecimento crescente dos países mais desenvolvidos, que exploram e detêm o desenvolvimento científico e tecnológico.
 - Aumento dos problemas ambientais em escala global / facilidade nas transações financeiras.
 - Redução gradativa dos direitos trabalhistas, a fim de garantir maior vantagem às empresas transnacionais, que buscam locais com mão de obra mais barata para instalar suas estruturas de produção / dificuldades dos países mais pobres no mercado concorrencial global.
 - Melhoramentos técnicos e tecnológicos nos processos que envolvem a produção e circulação de mercadorias / maior difusão de informações entre pessoas.
39. Divulgado no mês de Setembro, o Brasil ficou em 54º lugar em Índice Global de Inovação de 2022, dentre 132 países. Apesar de ainda estar aquém das expectativas do setor industrial, o Brasil avançou três posições em relação a 2021 e aparece em 54º no ranking do Índice Global de Inovação (IGI), pela Organização Mundial de Propriedade Intelectual (WIPO, na sigla em inglês) em parceria com a Confederação Nacional da Indústria (CNI). Dentre os países da América Latina, qual o melhor colocado nesse ranking?
- Brasil.
 - Chile.
 - Uruguai.
 - Argentina.
40. De acordo com boletim semanal das arboviroses divulgado pela Secretaria de Estado da Saúde (Sesa) em 22 de fevereiro, o Paraná atingiu 4.110 casos de dengue, distribuídos por 238 municípios. Somente em 2023, foram 1.400 casos da doença. Os números referem-se ao atual período sazonal, iniciado em 1º de agosto de 2022. Em relação à chikungunya, também transmitida pelo mosquito *Aedes aegypti*, são mais quatro casos em relação à semana anterior. No atual período sazonal, são sete casos importados, três autóctones e quatro ainda permanecem em investigação quanto ao local provável de infecção. Os casos autóctones ocorreram nos municípios de Pato Branco, Foz do Iguaçu e São Miguel do Iguaçu. Com base em seus conhecimentos, o que são os casos autóctones?
- É quando a doença se desenvolve em sua forma mais agressiva.
 - É quando a doença é contraída fora do estado do paciente.
 - É quando a pessoa infectada falece por conta da doença.
 - É quando a doença é contraída no município de residência.

Conhecimentos Específicos

41. Sobre os marcadores sorológicos utilizados para a pesquisa da infecção pelo vírus da hepatite B (HBV), assinale a alternativa correta.
- A persistência do HBsAg (antígeno de superfície do HBV) além de 3 meses caracteriza a infecção crônica.
 - O Anti-HBc IgM é um marcador de infecção recente, que surge até 30 dias antes do aparecimento do HBsAg e é encontrado por até 1 ano após a infecção.
 - O surgimento do Anti-HBs, normalmente, está associado ao desaparecimento do HBsAg, funcionando como um indicador de cura e imunidade.
 - O HBeAg é o anticorpo específico contra o antígeno “e” do vírus da hepatite B.

42. Sobre o eletrocardiograma apresentado a seguir, assinale a alternativa com o diagnóstico correto.



- a) Bradicardia sinusal.
- b) Bloqueio atrioventricular de primeiro grau.
- c) Bloqueio atrioventricular de segundo grau tipo I.
- d) Bloqueio atrioventricular de segundo grau tipo II.

43. Paciente de 27 anos, admitida em Unidade Básica de Saúde para coleta de seu primeiro exame de colpocitologia oncótica, apresenta resultado de células escamosas atípicas de significado indeterminado (ASCUS). Assinale a alternativa que apresenta a recomendação frente a esse resultado alterado.

- a) Repetir a citologia em 12 meses.
- b) Repetir a citologia em 6 meses.
- c) Repetir a citologia em 3 anos.
- d) Encaminha para colposcopia.

44. Assinale a alternativa que apresenta o principal fator de risco para o acidente vascular encefálico, principalmente o hemorrágico.

- a) Enxaqueca com aura.
- b) História familiar de acidente vascular encefálico.
- c) Hipertensão arterial sistêmica.
- d) Malformação arteriovenosa cerebral.

45. Analise as assertivas e assinale a alternativa que apresenta condições em que a urinocultura deve ser solicitada em pacientes assintomáticos.

I. Gestantes.

II. Antes de procedimentos urológicos invasivos.

III. Pacientes com alteração da coloração urinária.

IV. Pacientes com alteração do odor urinário.

- a) Apenas I e II estão corretas.
- b) Apenas II e IV estão corretas.
- c) Apenas I, III e IV estão corretas.
- d) Todas estão corretas.

46. A Sociedade Brasileira de Diabetes estabelece uma meta de hemoglobina glicada para indivíduos com qualquer tipo de diabetes para prevenção de complicações microvasculares e macrovasculares em longo prazo, desde que não incorra em hipoglicemias graves e frequentes. Assinale a alternativa que apresenta essa meta.

- a) < 6%
- b) < 6,5%
- c) < 7%
- d) < 8%

47. Paciente refere cefaleia em pressão, holocraniana, de leve intensidade, há cerca de 1 semana. Refere que a dor geralmente aparece ao fim do dia e melhora durante a atividade física. Nega náuseas e vômitos. O exame neurológico é normal, mas há hipertonía e hiperestesia da musculatura pericraniana. Assinale a alternativa que apresenta o diagnóstico correto.

- a) Enxaqueca com aura.
- b) Cefaleia do tipo tensional.
- c) Cefaleia em salvas.
- d) Enxaqueca sem aura.

48. A imunogenicidade e a eficácia da vacina contra hepatite B são inferiores em pacientes imunodeprimidos em relação aos imunocompetentes. Assinale a alternativa que apresenta o esquema vacinal recomendado para a indução de anticorpos em níveis protetores em pacientes maiores de 13 anos infectados pelo vírus da imunodeficiência humana.

- a) 3 doses de vacina contra hepatite B.
- b) 3 doses de vacina contra hepatite B, com o dobro da dose habitual.
- c) 4 doses de vacina contra hepatite B, com o dobro da dose habitual.
- d) 5 doses de vacina contra hepatite B.

49. Os antivirais apresentam de 70 a 90% de eficácia na prevenção de influenza e constituem ferramenta adjuvante da vacinação. Para ampliar a efetividade da quimioprofilaxia, o antiviral deve ser administrado durante a potencial exposição à pessoa com influenza. Assinale a alternativa que apresenta o esquema terapêutico para quimioprofilaxia de influenza em adultos.

- a) Oseltamivir 75mg, via oral, 12/12h, por 5 dias.
- b) Oseltamivir 30mg, via oral, 8/8h, por 14 dias.
- c) Oseltamivir 45mg/dia, via oral, por 7 dias.
- d) Oseltamivir 75mg/dia, via oral, por 10 dias.

50. O meningococo é a principal causa de meningite bacteriana no país. No Brasil, a doença meningocócica é endêmica, com ocorrência de surtos esporádicos. Sobre essa doença, assinale a alternativa incorreta.

- a) A cultura do líquido cefalorraquidiano apresenta alto grau de especificidade.
- b) A meningococcemia é a forma mais grave da doença meningocócica.
- c) É doença de notificação compulsória, sendo os surtos e os aglomerados de casos ou óbitos de notificação imediata.
- d) A antibioticoterapia para casos de doença meningocócica no adulto se dá com o uso de Ceftriaxone na dose de 1g/dia, por 7 dias.

51. Desde o período pré-natal a deficiência de ferro tem repercussões importantes e deletérias de longo prazo no desenvolvimento de habilidades cognitivas, comportamentais, linguagem e capacidades psicoemocionais e motoras das crianças. A preocupação com esta carência mineral no início da vida existe mesmo nos recém-nascidos a termo e com peso adequado ao nascer. Assinale a alternativa que apresenta a dose de suplementação profilática de ferro recomendada para recém-nascidos a termo, com peso adequado para a idade gestacional, em aleitamento materno exclusivo, sem fatores de risco.
- 1 mg de ferro elementar/kg/dia, iniciando aos 90 dias de vida até o 12º mês de vida
 - 1 mg de ferro elementar/kg/dia, iniciando aos 180 dias de vida até o 24º mês de vida.
 - 2 mg de ferro elementar/kg/dia, iniciando aos 90 dias de vida até o 24º mês de vida.
 - 2 mg de ferro elementar/kg/dia, iniciando aos 180 dias de vida até o 12º mês de vida.
52. Quando uma pessoa saudável é exposta ao bacilo da tuberculose (TB), tem 30% de chance de infectar-se, dependendo do grau de exposição, da infectividade do caso índice e de fatores imunológicos individuais. As pessoas infectadas, em geral, permanecem saudáveis por muitos anos, com imunidade parcial ao bacilo. Essa condição é conhecida como infecção latente pelo *Mycobacterium tuberculosis* (ILTB). Sobre essa condição, analise as assertivas e assinale a alternativa correta.
- Antes de se afirmar que um indivíduo tem ILTB, é fundamental excluir a TB ativa, por meio da anamnese, exame clínico e radiografia de tórax.
 - Esses indivíduos não apresentam nenhum sintoma, mas transmitem a doença e são reconhecidos por testes que detectam a imunidade contra o bacilo.
 - Apesar de grande parte da população mundial estar infectada com *M. tuberculosis*, não há indicação de investigação indiscriminada de ILTB na população em geral.
 - A prova tuberculínica reativa, isoladamente, indica apenas a presença de infecção e não é suficiente para o diagnóstico da tuberculose doença.
- Apenas II e IV estão corretas.
 - Apenas I, III e IV estão corretas.
 - Apenas I, II e III estão corretas.
 - Apenas II, III e IV estão corretas.
53. A poliomielite é uma doença contagiosa aguda causada por vírus que pode infectar crianças e adultos e em casos graves pode acarretar paralisia nos membros inferiores. A vacinação é a única forma de prevenção, podendo ser realizada via oral (VOP) ou intramuscular (VIP). Sobre o esquema vacinal de poliomielite recomendado pela Sociedade Brasileira de Imunização, assinale a alternativa correta.
- 3 doses com a VIP aos 2, 4 e 6 meses e 2 doses de reforço com VOP aos 15 meses e 4 anos.
 - 3 doses com a VOP aos 2, 4 e 6 meses e 2 doses de reforço com VIP aos 15 meses e 4 anos.
 - 2 doses com a VOP aos 2 e 4 meses e 3 doses de reforço com VIP aos 12 e 15 meses e 4 anos.
 - 2 doses com a VIP aos 2 e 4 meses e 3 doses de reforço com VOP aos 12 e 15 meses e 4 anos.
54. A onicomicose é uma das dermatoses mais frequentes, sendo responsável por 15 a 40% das alterações ungueais. A terapia sistêmica está indicada nos casos em que a matriz ungueal está envolvida, porém apresenta riscos de interações medicamentosas e efeitos colaterais. Assinale a alternativa que não apresenta uma posologia adequada nas opções de tratamento sistêmico das onicomicoses dos pés.
- Terbinafina 250mg/dia, por 12 a 24 semanas.
 - Fluconazol 150mg/dia, por, no mínimo, 6 meses.
 - Itraconazol 200mg/dia, por 12 a 24 semanas.
 - Griseofulvina 500 a 1000mg/dia, por, no mínimo, 6 meses.
55. Um terço das parcerias sexuais de pessoas com sífilis recente desenvolverão a infecção dentro de 30 dias da exposição. Portanto, além da avaliação clínica e do seguimento laboratorial, se houve exposição à pessoa com sífilis (até os 90 dias anteriores), recomenda-se oferta de tratamento presuntivo a esses parceiros sexuais (independentemente do estágio clínico ou de sinais e sintomas). Assinale a alternativa que apresenta a dose recomendada para o tratamento dos parceiros assintomáticos.
- Dose única de benzilpenicilina benzatina 2,4 milhões, UI, IM (1,2 milhão de UI em cada glúteo).
 - Duas doses de benzilpenicilina benzatina 2,4 milhões, UI, IM (1,2 milhão de UI em cada glúteo), 1x/semana, por 2 semanas.
 - Três doses de benzilpenicilina benzatina 2,4 milhões, UI, IM (1,2 milhão de UI em cada glúteo), 1x/semana, por 3 semanas.
 - Doxiciclina 100mg, 12/12h, VO, por 5 dias.
56. A pneumonia adquirida na comunidade (PAC) constitui a principal causa de morte no mundo, com significativo impacto nas taxas de morbidade. Sobre o diagnóstico e tratamento dessa condição, analise as assertivas e assinale a alternativa correta.
- A ultrassonografia de tórax apresenta maior sensibilidade e maior acurácia do que a radiografia de tórax na identificação de alterações parenquimatosas.
 - A tomografia computadorizada de tórax é o método mais sensível na identificação de acometimento infeccioso do parênquima pulmonar.
 - O ciprofloxacino, embora seja uma fluoroquinolona de segunda geração, não está recomendado para o tratamento da PAC por germes comunitários por carecer de ação contra o pneumococo e outros organismos Gram positivos.
 - O tratamento de pneumococo resistente à penicilina é realizado com cefalosporinas, podendo ser utilizadas ceftriaxona, cefotaxima e cefepima.
- Apenas II e III estão corretas.
 - Apenas I e IV estão corretas.
 - Apenas II, III e IV estão corretas.
 - Todas estão corretas.
57. Assinale a alternativa que apresenta a faixa etária e a periodicidade recomendadas pelo Ministério da Saúde para rastreamento com mamografia do câncer de mama em mulheres.
- 40 a 69 anos, anual.
 - 45 a 64 anos, a cada 2 anos.
 - 50 a 69 anos, a cada 2 anos.
 - 50 a 79 anos, anual.

58. A combinação de fármacos é a estratégia terapêutica preferencial para a maioria dos hipertensos, independentemente do estágio da hipertensão arterial e do risco cardiovascular associado. Caso a meta pressórica não seja alcançada, ajustes de doses e/ou a combinação tripla de fármacos estarão indicados. Na sequência, mais fármacos deverão ser acrescentados até ser alcançado o controle da pressão arterial. Sobre a combinação de medicamentos no tratamento anti-hipertensivo, assinale a alternativa incorreta.
- a) A combinação de fármacos pode reduzir potencialmente a ocorrência de efeitos colaterais, pelo uso de menor dose de cada um dos fármacos envolvidos na combinação ou pela capacidade que um dos fármacos pode ter de antagonizar os efeitos adversos do outro.
 - b) O uso dos alfa-agonistas de ação central apresenta efeitos metabólicos e pode interferir na resistência periférica à insulina e no perfil lipídico.
 - c) A espirolactona tem sido habitualmente utilizada como o quarto medicamento a ser associado aos pacientes com hipertensão arterial resistente e refratária.
 - d) As combinações em doses fixas e em comprimido único são preferenciais por se associarem a maior adesão ao tratamento e, por consequência, melhores resultados clínicos.
59. As geo-helmintíases são infecções causadas por parasitos que se desenvolvem no trato intestinal humano e completam seu ciclo evolutivo no solo e podem se disseminar na água e nos alimentos com ovos ou larvas desses agentes. Considerando a fisiopatologia, diagnóstico e tratamento dessas patologias, analise as assertivas e assinale a alternativa correta.
- I. O ser humano adquire a ascaridíase e a tricuriase mediante a ingestão de ovos embrionados presentes em alimentos crus mal lavados ou pela ingestão de água contaminada, não tratada ou não filtrada.
 - II. Na maioria das vezes, as pessoas com geo-helmintíases são sintomáticas.
 - III. A imunidade adquirida dos adultos é observada mediante redução da prevalência e da carga parasitária, quando comparada às faixas etárias mais jovens, principalmente nas áreas endêmicas.
 - IV. As geo-helmintíases são doenças de notificação compulsória nacional.
- a) Apenas I e III estão corretas.
 - b) Apenas I está correta.
 - c) Apenas II, III e IV estão corretas.
 - d) Apenas III e IV estão corretas.
60. As vulvovaginites e vaginoses são processos nos quais o meio ambiente vaginal fisiológico, composto primordialmente por *Lactobacillus*, encontra-se alterado, possibilitando a proliferação de outros microrganismos e podendo estar associado a processo inflamatório (vaginites) ou sem evidências de inflamação (vaginoses). Sobre essas condições, assinale a alternativa correta.
- a) É importante referenciar o(s) parceiro(s) sexuais de pacientes com candidíase vulvovaginal para tratamento conjunto. Recomenda-se a pesquisa de outras infecções de transmissão sexual.
 - b) A vaginose bacteriana é causada pela excessiva proliferação de *Lactobacillus*, pela redução do pH vaginal e pela citólise, levando ao aparecimento de sintomas.
 - c) Denomina-se candidíase vaginal recorrente o aparecimento de dois ou mais episódios confirmados clínica e laboratorialmente em um período de 12 meses. No tratamento da tricomoníase, os esquemas recomendados são metronidazol 2g por via oral em dose única ou tinidazol 2g por via oral em dose única.
 - d) É importante referenciar o(s) parceiro(s) sexuais de pacientes com candidíase vulvovaginal para tratamento conjunto. Recomenda-se a pesquisa de outras infecções de transmissão sexual.