

CARGO: NUTRICIONISTA

PERÍODO MANHÃ

CONCURSO PÚBLICO Nº 002/2023 PREFEITURA MUNICIPAL DE FAZENDA RIO GRANDE

Atenção: Confira seu cargo e leia todas as instruções constantes no seu Caderno de Questões e Folha de Respostas.

1. Seu caderno deve conter 60 (sessenta) questões, com 04 (quatro) alternativas, assim dispostas:

Disciplina	Composição
Língua Portuguesa	1 a 10
Matemática/Raciocínio Lógico	11 a 20
Informática Básica	21 a 30
Conhecimentos Gerais e Atualidades	31 a 40
Conhecimentos Específicos	41 a 60

2. A Prova terá duração de 3h e 30min (três horas e trinta minutos), incluindo preenchimento da Folha de Respostas.
3. Após sua identificação, você deverá permanecer dentro da sala, sendo permitida a saída somente acompanhado de um fiscal e após 30min (trinta minutos) do início da prova.
4. Para uso do sanitário e/ou beber água, você deverá solicitar ao Fiscal de Sala e somente levantar após autorização.
5. O candidato só poderá sair da sala em definitivo após 1h (uma hora) do início da prova.
6. Ao deixar a sala definitivamente, não poderá utilizar o sanitário dos candidatos que ainda estão realizando prova, e só poderá levar o Caderno de Questões restando 1h (uma hora) para o final da prova.
7. Enquanto estiver realizando a Prova é proibido utilizar materiais de consulta, livros, apostilas, calculadoras, régua, quaisquer equipamentos eletrônicos, chapéus, bonés, e/ou similares, conforme constante no edital de abertura. Caso o fiscal constate alguma irregularidade irá anotar em Ata da Sala, para devidas providências da Comissão Organizadora.
8. Sobre sua carteira deverá permanecer somente documento oficial original com foto, caneta de tinta azul ou preta de corpo transparente, Caderno de Questões e Folha de Respostas.
9. Você poderá utilizar seu Caderno de Questões para rascunho.
10. Você receberá do Fiscal de Sala a Folha de Respostas definitiva. Confira seus dados e em caso de erro, chame o fiscal. Após conferir, **assine no campo destinado à assinatura do candidato**. Em hipótese alguma ela será substituída caso o candidato dobre, amasse, rasgue ou molhe. Cuidado, pois esse será o único documento válido para correção.
11. Caso algum equipamento eletrônico emita som, mesmo que desligado e lacrado no plástico de pertences, o candidato portador do equipamento será automaticamente eliminado do concurso.
12. Transcreva suas respostas para Folha de Respostas com caneta de tinta azul ou preta de corpo transparente. **Atenção:** verifique na Folha de Respostas a forma correta de preenchimento.
13. Questões com mais de uma alternativa assinalada, rasurada, em branco ou preenchidas de forma diferente das instruções serão anuladas.
14. Após terminar sua Prova avise o Fiscal, pois ele autorizará a entrega da sua Folha de Respostas e Caderno de Questões, se for o caso.
15. Caso algum candidato seja flagrado na tentativa de fraude, esse será automaticamente eliminado do Concurso, ainda sujeito a processo civil ou criminal.
16. Qualquer questionamento ou dúvidas devem ser feitos em voz alta ao fiscal.
17. Os 03 (três) últimos candidatos deverão sair juntos da sala, após a conferência e lacre do material da sala.
18. Aguarde a autorização do Fiscal para iniciar sua Prova.

-----DESTAQUE AQUI-----

01	02	03	04	05	06	07	08	09	10	11	12	13	14	15	16	17	18	19	20
21	22	23	24	25	26	27	28	29	30	31	32	33	34	35	36	37	38	39	40
41	42	43	44	45	46	47	48	49	50	51	52	53	54	55	56	57	58	59	60

Língua Portuguesa

Leia o texto para responder as questões.

Por que a moeda brasileira se chama real?

“Real”, no sentido de realeza, era a moeda adotada por Portugal e suas colônias desde a época das Grandes Navegações – o plural era “réis”, de onde vem a expressão “conto de réis”, que equivale a um milhão de réis. No Brasil, o Real português vigorou dos tempos coloniais até 1942, no auge do Estado Novo de Getúlio Vargas.

Àquela altura, a inflação já tinha comido tanto o valor do velho real que a unidade básica da economia era o “mil reais” – “miréis” na fonética daqueles tempos. Getúlio, então, instituiu uma nova unidade monetária, o cruzeiro – este um nome 100% nacional, referindo-se ao Cruzeiro do Sul, a constelação mais distinta do nosso hemisfério. E cada cruzeiro valia mil reais.

A partir dali, porém, a inflação só fez acelerar. Nos 25 anos entre 1942 e 1967, tivemos inflação de pelo menos 2 dígitos em 23. O “mil cruzeiros” já era a nova unidade monetária. A Ditadura Militar, então, mandou cortar três zeros. Surgiu o Cruzeiro novo.

Mas faltou combinar com as nossas equipes econômicas. A Ditadura seguiu imprimindo dinheiro para encher o país de obras. O Banco do Brasil, para você ter uma ideia, tinha o poder de fabricar moeda. Se o governo precisasse de dinheiro para fazer uma hidrelétrica, ou para pagar o espumante das festas, pedia para o Banco do Brasil imprimir notas, pagava tudo, e beleza. O que podia dar errado?

Tudo, claro. Quando você enche a praça de dinheiro, o próprio dinheiro vira carne de vaca. Perde valor. A essa perda de valor, você sabe, damos o nome de “inflação”.

E a inflação saiu dos dois dígitos. Foi para três – mais de 100% ao ano. Hora de mudar a moeda de novo.

Em 1986, o governo Sarney aposentava o cruzeiro e inaugurava o “cruzado”. Como estamos falando de nome de moeda aqui, vale um adendo. “Cruzado” era a moeda de prata que Portugal usava na época das Grandes Navegações. Nisso, a equipe de Sarney encarregada de dar nome à nova moeda matava dois coelhos. Usava um nome com estofamento histórico e que, ao mesmo tempo, não soava alienígena, já que lembrava a denominação da moeda anterior.

E aí... Bom, os desmandos financeiros do Estado seguiam de vento em popa. Em 1987 a inflação chegou perto de 500%. Em 1988, passou de 1.000%. Em 1989, roçou os 2.000%.

Hora de trocar de moeda de novo. Chegava o cruzado novo. Em 1990, Fernando Collor assumiu e determinou que o cruzado novo voltasse a se chamar “cruzeiro” – por questões estéticas e para deixar seu glorioso confisco à poupança mais didático. Os cruzeiros circulariam livremente; os “cruzados novos” ficariam retidos. Só uma baboseira linguística para fazer com que o pior plano econômico da história do país parecesse menos patético do que era de fato.

Por essas e outras, Collor acabou saindo. Deixou no lugar o vice Itamar Franco e uma inflação que, em 1993, chegaria ao seu maior valor histórico: 2.477%.

Itamar, que entendia tanto de economia quanto de penteado, propôs a seu ministro da Fazenda, Fernando Henrique Cardoso, “prender o Abílio Diniz e congelar os preços” – Abílio, então dono da rede de supermercados Pão de Açúcar deveria ser preso, na cabeça do então presidente, para deixar de aumentar preços – como se quem criasse inflação fosse quem comercializa produtos, e não quem imprime moeda.

Em 1994, enfim, a equipe de FHC lançou o Plano Real. Não foi um simples corte de zeros. Houve um trabalho que envolveu saneamento das contas públicas, com cortes violentos de gastos (de modo a controlar a própria emissão de moeda), e, mais tarde – a partir de 1999 –, com a adoção do regime de “metas de inflação”. Grosso modo, esse regime diz que, se a inflação subir além de um patamar aceitável, deve-se aumentar os juros básicos da economia. Juros altos freiam o consumo e os financiamentos bancários. Isso esfria a economia. Passa a circular menos moeda, e o valor do dinheiro se mantém. É por isso que, desde a década de 1990, o risco de hiperinflação caiu a zero.

Por que o “real” ganhou esse nome? Por que ele matava dois coelhos também. Tem fundo histórico, já que é o nome da moeda anterior ao cruzeiro, e remete à ideia de uma moeda com “valor real”.

Disponível em https://www.instagram.com/p/CopyL_dgIj/

- De acordo com o texto, é possível afirmar que**
 - imprimir moeda pouco influencia na economia e na inflação.
 - inflação é um bom fator para a economia, já que refaz a moeda.
 - o plano econômico do país precisa ser pensado e estudado com cautela e responsabilidade.
 - Itamar Franco criou o plano real e Fernando Henrique Cardoso deu continuidade.
- Análise: “Em 1987 a inflação chegou perto de 500%.” E assinale a alternativa correta.**
 - Após “1987”, poderia inserir uma vírgula.
 - A vírgula é proibida após “1987”.
 - O ponto final, após “%” é incorreto.
 - Inflação é sinônimo de infração.
- Pela visão do texto, o que é possível inferir sobre Itamar?**
 - Ele era um grande entendedor de economia.
 - Fernando Henrique era um grande amigo seu.
 - Ele se equivocou ao pedir para prender Abílio Diniz.
 - Abílio Diniz era seu aliado político.
- “Matar dois coelhos” é uma expressão**
 - denotativa.
 - conotativa.
 - real.
 - literal.
- “A inflação só fez acelerar” é uma expressão que utiliza qual figura de linguagem?**
 - Hipérbole.
 - Personificação.
 - Ironia.
 - Metáfora.
- Assinale a alternativa cujo trecho a seguir foi reescrito de maneira que não altere seu sentido. “Mas faltou combinar com as nossas equipes econômicas.”**
 - “Dessa forma, faltou combinar com as nossas equipes econômicas.”
 - “Dito isso, faltou combinar com as nossas equipes econômicas.”
 - “Sendo assim faltou combinar com as nossas equipes econômicas.”
 - “No entanto faltou combinar com as nossas equipes econômicas.”

Matemática/Raciocínio Lógico

7. **Análise: “A Ditadura seguiu imprimindo dinheiro para encher o país de obras.” E assinale o tipo de sujeito presente nesta oração.**
- Sujeito simples.
 - Sujeito composto.
 - Sujeito oculto.
 - Sujeito indeterminado.
8. **Assinale a alternativa cujo trecho a seguir foi reescrito de maneira que não altere seu sentido. “Houve um trabalho que envolveu saneamento das contas públicas, com cortes violentos de gastos (de modo a controlar a própria emissão de moeda), e, mais tarde – a partir de 1999 –, com a adoção do regime de ‘metas de inflação’”.**
- “Ouve um trabalho que envolveu saneamento das contas públicas, com cortes violentos de gastos (de modo a controlar a própria emissão de moeda), e, mais tarde – a partir de 1999 –, com a adoção do regime de ‘metas de inflação’”.
 - “Obteve-se um trabalho que envolveu saneamento das contas públicas, com cortes violentos de gastos (de modo a controlar a própria emissão de moeda), e, mais tarde – a partir de 1999 –, com a adoção do regime de ‘metas de inflação’”.
 - “Teve um trabalho que envolveu saneamento das contas públicas, com cortes violentos de gastos (de modo a controlar a própria emissão de moeda), e, mais tarde – a partir de 1999 –, com a adoção do regime de ‘metas de inflação’”.
 - “Tomou-se um trabalho que envolveu saneamento das contas públicas, com cortes violentos de gastos (de modo a controlar a própria emissão de moeda), e, mais tarde – a partir de 1999 –, com a adoção do regime de ‘metas de inflação’”.
9. **Análise: “Por essas e outras, Collor acabou saindo.” E assinale a alternativa correta.**
- “Essas e outras” retoma o quão importante foi a reestruturação econômica de Collor.
 - “Essas e outras” retoma como Collor entendia bem de economia.
 - “Essas e outras” retoma momentos patéticos da presidência de Collor.
 - “Essas e outras” retoma as mudanças benéficas que Collor trouxe para a economia.
10. **Assinale a alternativa que apresenta um verbo conjugado no Pretérito Imperfeito do Indicativo.**
- “Deixou no lugar o vice Itamar Franco e uma inflação que, em 1993, chegaria ao seu maior valor histórico: 2.477%.”
 - “Tem fundo histórico, já que é o nome da moeda anterior ao cruzeiro, e remete à ideia de uma moeda com ‘valor real’.”
 - “Em 1990, Fernando Collor assumiu e determinou que o cruzado novo voltasse a se chamar ‘cruzeiro’”
 - “Chegava o cruzado novo.”

11. **Considere a matriz $A = \begin{bmatrix} 2 & 1 \\ 3 & 1 \end{bmatrix}$. Sobre a matriz A é possível afirmar que**
- A é uma matriz invertível.
 - A é uma matriz linha.
 - A é uma matriz de ordem 3.
 - O determinante de A é positivo.
12. **Considere os pontos A (-3,2); B (3,6); C (1,3) e D (0,4) e assinale a alternativa correta.**
- Os pontos A, B e C são colineares.
 - Os pontos A, B, C e D formam um quadrilátero.
 - Os pontos A, B e D formam um triângulo.
 - Os pontos A, B e D são colineares.
13. **Considere a proposição “Se João estuda muito então ficará aprovado em um concurso”. Assinale a alternativa que contém a negação dessa proposição.**
- João estuda muito e não ficará aprovado em um concurso.
 - João estuda muito ou não ficará aprovado em um concurso.
 - João não estuda muito e não ficará aprovado em um concurso.
 - João não estuda muito ou não ficará aprovado em um concurso.
14. **Considere a função $f(x) = \text{sen}(2x - 1)$. Assinale a alternativa que apresenta o conjunto Imagem da função $f(x)$.**
- $[-1,2]$
 - $[-1,1]$
 - $(-1,1)$
 - $(-1,2)$
15. **De quantos modos diferentes é possível formar uma equipe de 3 pessoas em um grupo de 20 pessoas?**
- 6840.
 - 3420.
 - 2280.
 - 1140.
16. **Uma pessoa iniciou um projeto para realizar caminhadas todos os dias. No primeiro dia, ela caminhou por 20 min e nos demais dias aumentou o tempo de caminhada em 2 min a mais que no dia anterior. Sabendo que a meta inicial foi de chegar ao tempo de 2 horas de caminhada por dia, em quantos dias após iniciar seu projeto ela alcançará a meta estabelecida?**
- 15 dias.
 - 21 dias.
 - 24 dias.
 - 27 dias.
17. **Um capital de R\$ 5000,00 foi aplicado a uma taxa de juros composto. Sabe-se que o montante acumulado ao final do 1º ano foi de R\$ 5150,00. Qual a taxa de juros da aplicação?**
- 2%
 - 3%
 - 4%
 - 5%

18. Considere a função $f(x) = -x^2 + 4x + 5$, e assinale a alternativa correta.
- O gráfico da função é uma parábola concava para cima.
 - A função admite apenas uma raiz real.
 - A função atinge seu valor máximo quando $x=2$.
 - A função não está definida no ponto $x=0$.
19. Considere uma caixa d'água de formato cilíndrico, com altura igual a 5 metros cuja base tem raio de 2 metros. O volume da caixa d'água é igual a
- $40\pi \text{ m}^3$
 - $30\pi \text{ m}^3$
 - $20\pi \text{ m}^3$
 - $18\pi \text{ m}^3$
20. Dada a função $f(x) = 2^{x+1}$, para qual valor de x , temos $f(x) = 1024$.
- 11.
 - 10.
 - 9.
 - 8.

Informática Básica

21. Considere a imagem a seguir:

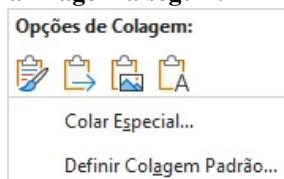


Fonte: Microsoft Word 365.

A imagem apresenta os elementos disponíveis no grupo "Área de Transferência" do Microsoft Word 365. Sendo assim, assinale a alternativa correta com os nome dos elementos disponíveis na imagem.

- Colar – Recortar – Duplicar - Formatar.
- Colar – Cortar – Copiar – Pincel de Formatação.
- Colar – Recortar – Copiar – Pincel de Formatação.
- Colar – Recortar – Copiar – Realce do Texto.

22. Considere a imagem a seguir:



Fonte: Microsoft Word 365.

Podemos notar a partir da imagem acima, que o Microsoft Word 365 dispõe de algumas opções de colagem. Sendo assim, assinale a alternativa incorreta.

- Ao clicar na opção Colar Especial, será aberta uma nova janela, onde se pode escolher formatos de colagem. Entre esses formatos temos Formato HTML.
- Entre as opções de colagem temos: Manter Formatação Original, Mesclar Formatação e Manter Somente Texto.
- Uma regra do Word 365 é manter a formatação original quando se cola imagens em um documento usando CTRL+Shift+V.
- A opção Manter Somente Texto cola o texto sem nenhuma formatação.

23. A Google fornece vários serviços e aplicativos, alguns deles gratuitos. Os serviços mais conhecidos incluem o Gmail, Google Plus e o YouTube. Pautando-se nessas informações assinale a alternativa correta que apresenta apenas aplicativos da Google.
- Chrome – Maps – Meet – Hangouts.
 - Facebook – Youtube – Writer – Gmail.
 - Maps – Agenda – Edge – Meet.
 - Hangouts – Chrome – Canva – WhatsApp.

24. Na maioria das vezes, os atalhos são criados automaticamente e isso pode fazer com que a área de trabalho fique poluída. No entanto, o Windows possibilita a exclusão desses atalhos. A respeito de atalhos no Microsoft Windows, analise as assertivas e assinale a alternativa correta.

- Um método que pode ser usado para remover um atalho da área de trabalho é arrastá-lo para a Lixeira. Outro método é clicar com botão direito do mouse e clicar em excluir.
 - Alguns atalhos estão disponíveis apenas para usuários do Windows, pois geralmente são executados em combinação com a tecla Windows. Por exemplo Windows + E abre o Explorador de Arquivos do Windows 10.
 - Existem atalhos para a maioria das ações inclusive para a inserção de caracteres especiais como Alt+0146 para inserir apóstrofo.
 - As teclas de função na parte superior do teclado fornecem ajuda rápida com a execução de comandos.
- Apenas I está correta.
 - Apenas I e II estão corretas.
 - Apenas III e IV estão corretas.
 - Todas estão corretas.

25. Considere a imagem a seguir:

	A	B
1	10	
2	18	
3	3	
4	#NOME?	
5		

Fonte: Microsoft Excel 365.

Ao analisar a imagem apresentada, nota-se um erro na célula A4. Que erro é esse e porque ele ocorre?

- Erro nada consta. Ocorre quando a célula que precisa ser identificada está vazia.
- Erro de nome inválido. Ocorre quando há um erro de digitação no nome da fórmula.
- Erro de sintaxe. Ocorre quando todas as funções são arquivadas.
- Erro de fórmula. Ocorre quando o usuário seleciona os campos incorretos.

26. Suponha que as seguintes células devem ser somadas:

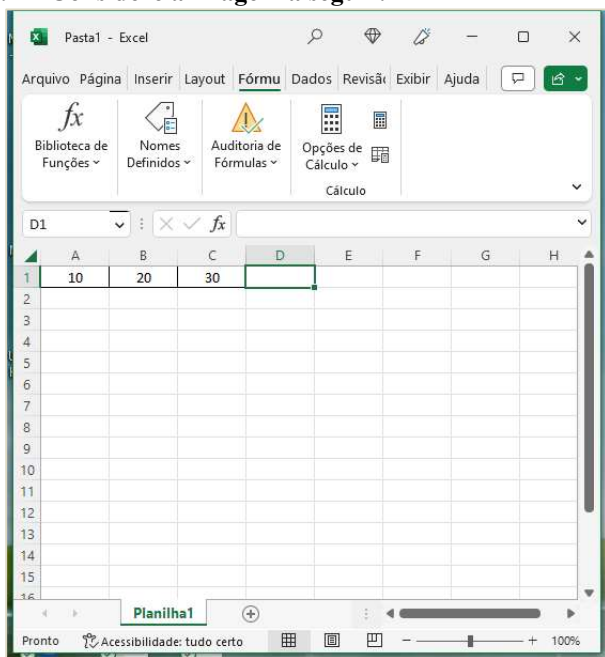
	A	B	C
1	10	20	30
2			

Fonte: Microsoft Excel 365.

Considerando essas informações, assinale a alternativa que aponta qual(is) fórmula(s) pode(m) ser utilizada(s) para exibir o resultado correto da soma.

- I. =10+20+30
 - II. = SOMA(10+20+30)
 - III. =SOMA(A1:C1)
 - IV. =SOMA 10+20+30
- a) Apenas III está correta.
 - b) Apenas II e III estão corretas.
 - c) Apenas I, II e III estão corretas.
 - d) Apenas II, III e IV estão corretas.

27. Considere a imagem a seguir:



Fonte: Microsoft Excel 365.

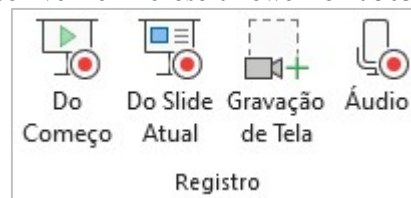
Para maximizar a janela selecionada na imagem, deve-se pressionar qual combinação de teclas?

- a) Ctrl + F10.
- b) Ctrl + F9.
- c) Ctrl + F8.
- d) Ctrl + F7.

28. Embora o PowerPoint seja usado principalmente como uma ferramenta de apresentação, ele também oferece uma variedade de opções de impressão. Isso não se limita aos slides em si. De posse dessas informações e considerando as opções de impressão disponíveis no PowerPoint 365, informe se é verdadeiro (V) ou falso (F) para o que se afirma e assinale a alternativa com a sequência correta.

- () É possível imprimir folhetos com ou sem anotações, miniaturas e trechos.
 - () Pode-se determinar a forma em que os slides selecionados são impressos através do submenu Slide em página inteira. É possível imprimir até 9 slides em uma única página.
 - () No layout de impressão, existem 4 configurações para impressão: slide em página inteira, anotações, estrutura de tópicos e agrupado.
 - () Acessando Arquivo – Imprimir – Configurações, é possível alterar a escala de cor do slide para: Preto e branco puro ou Escala de cinza.
- a) V – V – V – V.
 - b) V – V – F – V.
 - c) V – F – F – V.
 - d) F – V – F – V.

29. Considere a imagem a seguir do grupo “Registro” disponível no Microsoft PowerPoint 365.



Fonte: Microsoft PowerPoint 365.

Sobre os elementos disponíveis nesse grupo, assinale a alternativa correta.

- a) A diferença entre os elementos Do Começo e Do Slide Atual é a posição em que o mouse está na hora da apresentação.
 - b) A opção Gravação de Tela permite selecionar uma área específica da tela para gravar.
 - c) A opção Áudio permite extrair o som de algum vídeo gravado.
 - d) O grupo Registro está localizado na guia Exibir.
30. O explorador de arquivos do Windows foi disponibilizado a partir da versão 10 do sistema operacional. No entanto, ele já existia nas versões anteriores, mas com um nome diferente. Nesse sentido, assinale a alternativa correta com a antiga nomenclatura do Explorador de Arquivos do Windows.
- a) Acesso rápido.
 - b) Diretórios do Windows.
 - c) Windows Explorer.
 - d) Gerenciador de arquivos.

Conhecimentos Gerais e Atualidades

31. De acordo com o capítulo VII da Lei Orgânica de Fazenda Rio Grande, analise as assertivas e assinale a alternativa correta.

I. Aos maiores de sessenta e cinco anos é garantido o desconto de 80% no transporte coletivo urbano, assim como às pessoas portadoras de necessidades especiais, comprovadamente carentes de recursos financeiros.

II. Fica o Município com o encargo de custear as despesas de água e energia elétrica, das escolas especiais e entidades, reconhecidas de utilidade pública pelo Município e que se dediquem exclusivamente às pessoas portadoras de necessidades especiais e com o menor abandonado, conforme dispuser a lei.

III. O Município promoverá programas de assistência à criança, ao idoso e aos portadores de necessidades especiais.

IV. É vedado ao município conceder auxílio funeral em qualquer hipótese.

- a) Apenas uma está correta.
- b) Apenas duas estão corretas.
- c) Apenas três estão corretas.
- d) Todas estão corretas.

32. De acordo com o artigo 166 da Lei Orgânica de Fazenda Rio Grande, assinale a alternativa correta.

a) Todos têm direito ao meio ambiente ecologicamente equilibrado, bem de uso comum do povo e essencial à sadia qualidade de vida, impondo-se ao Poder Público e à comunidade o dever de defendê-lo e preservá-lo para as presentes e futuras gerações.

b) Todos têm direito ao meio ambiente ecologicamente equilibrado, bem de uso comum do povo e essencial à sadia qualidade de vida, impondo-se às empresas poluidoras e à comunidade o dever de defendê-lo e preservá-lo para as presentes e futuras gerações.

c) Todos têm direito ao meio ambiente degradado, bem como podem fazer uso da maneira necessária ao desenvolvimento e manutenção da vida. Ao Poder Público, cabe a preservação das áreas públicas para as presentes e futuras gerações.

d) Todos têm direito a exploração de recursos minerais, inclusive extrações de areias, cascalhos ou pedreiras, ou ainda de corte da flora silvestre, nesse caso, o interessado deverá apresentar relatório de impacto ambiental, com solução para a recuperação do ambiente explorado, a longo prazo.

33. De acordo com a Lei Orgânica de Fazenda Rio Grande, informe se é verdadeiro (V) ou falso (F) para o que se afirma e assinale a alternativa com a sequência correta.

() É vedado ao Município patrocinar entidades particulares de desporto, equipes ou atletas profissionais, bem como eventos de caráter esportivo nos quais hajam participação de profissionais do desporto em geral.

() O Município fomentará as práticas desportivas formais ou não formais, dando prioridade aos alunos de sua rede de ensino e às promoções desportivas dos clubes locais.

() O Município incentivará a prática do esporte amador, principalmente na rede escolar do município e fomentará o lazer como forma de promoção social.

() Compete exclusivamente ao Município, dentro da sua capacidade financeira e de imóveis. Desenvolver programas de construção de espaços destinados à prática esportiva e de lazer, objetivando o incentivo destas atividades aos cidadãos fazendenses.

a) F – F – V – F.

b) F – F – V – V.

c) V – V – F – V.

d) V – V – V – F.

34. Com base na Lei Orgânica de Fazenda Rio Grande, analise as assertivas e assinale a alternativa correta.

I. O Município dispensará especial atenção ao atendimento educacional especializado aos portadores de necessidades especiais físicas e mentais, com recursos pré-definidos para sua manutenção e desenvolvimento.

II. Integra o atendimento ao educando os programas suplementares de material didático escolar, transporte, alimentação e assistência à saúde.

III. O Município promoverá a realização de cursos, palestras e outras atividades afins para a orientação programática e pedagógica, especialmente em campanhas antitóxicos, aids e deficiência imunológica.

IV. O Município manterá seu sistema de ensino em colaboração com o Estado, atuando, prioritariamente, no ensino médio, superior e de jovens e adultos (EJA).

a) Apenas uma está correta.

b) Apenas duas estão corretas.

c) Apenas três estão corretas.

d) Todas estão corretas.

35. De acordo com o artigo 118 de Lei Orgânica de Fazenda Rio Grande, analise as assertivas e assinale a alternativa que aponta a(s) correta(s).

Pertencem ao Município:

I. o produto de arrecadação do imposto da União sobre rendas e proventos de qualquer natureza, incidente na fonte, sobre rendimentos pagos a qualquer título, pela administração direta, autárquica e fundações públicas do Município.

II. sessenta por cento do produto da arrecadação do imposto da União sobre a propriedade territorial rural relativamente aos imóveis situados no Município.

III. cinquenta por cento do produto da arrecadação do imposto do Estado sobre a propriedade de veículos automotores licenciados no território do município.

IV. trinta por cento do produto da arrecadação do imposto do Estado sobre operações relativas à circulação de mercadorias e sobre prestações de serviços de transporte interestadual e intermunicipal de comunicação.

a) Apenas duas estão corretas.

b) Apenas três estão corretas.

c) Todas estão corretas.

d) Apenas uma está correta.

36. De acordo com o artigo 105 da Lei Orgânica de Fazenda Rio Grande, nenhum empreendimento de obras e serviços do Município, poderá ter início sem prévia elaboração do plano respectivo, no qual, obrigatoriamente conste:
- I. a autorização do Tribunal de Contas do Estado (TCE/PR) após a aprovação nas contas e projetos apresentados.
 - II. a viabilidade do empreendimento, sua conveniência e oportunidade para o interesse comum.
 - III. os pormenores para sua execução.
 - IV. os recursos para o atendimento das respectivas despesas.
 - V. os prazos para o seu início e conclusão, acompanhados da respectiva justificação.
 - VI. a previsão com estimativa de valores de possíveis aditivos, na forma da Lei.
- a) Apenas uma está correta.
 - b) Apenas duas estão corretas.
 - c) Apenas três estão corretas.
 - d) Apenas quatro estão corretas.
37. Quais os principais países envolvidos na história de um balão misterioso que apareceu nos céus de um dos países no início de fevereiro de 2023? Desde então, os dois países passaram por uma crise diplomática para entender quais as causas e os motivos do balão ter invadido o espaço aéreo de um deles. Os dois países já apresentaram suas versões sobre o ocorrido. Enquanto um acreditou se tratar de um balão de espionagem, o outro alegou ser um instrumento meteorológico que desviou da sua rota e viajou até o local.
- a) Rússia e China.
 - b) Ucrânia a Rússia.
 - c) Estados Unidos e China.
 - d) Israel e Palestina.
38. Com base em seus conhecimentos sobre o tema, assinale a alternativa que apresenta somente vantagens da Globalização.
- a) Avanços científicos / favorecimento crescente dos países mais desenvolvidos, que exploram e detêm o desenvolvimento científico e tecnológico.
 - b) Aumento dos problemas ambientais em escala global / facilidade nas transações financeiras.
 - c) Redução gradativa dos direitos trabalhistas, a fim de garantir maior vantagem às empresas transnacionais, que buscam locais com mão de obra mais barata para instalar suas estruturas de produção / dificuldades dos países mais pobres no mercado concorrencial global.
 - d) Melhoramentos técnicos e tecnológicos nos processos que envolvem a produção e circulação de mercadorias / maior difusão de informações entre pessoas.
39. Divulgado no mês de Setembro, o Brasil ficou em 54º lugar em Índice Global de Inovação de 2022, dentre 132 países. Apesar de ainda estar aquém das expectativas do setor industrial, o Brasil avançou três posições em relação a 2021 e aparece em 54º no ranking do Índice Global de Inovação (IGI), pela Organização Mundial de Propriedade Intelectual (WIPO, na sigla em inglês) em parceria com a Confederação Nacional da Indústria (CNI). Dentre os países da América Latina, qual o melhor colocado nesse ranking?
- a) Brasil.
 - b) Chile.
 - c) Uruguai.
 - d) Argentina.
40. De acordo com boletim semanal das arboviroses divulgado pela Secretaria de Estado da Saúde (Sesa) em 22 de fevereiro, o Paraná atingiu 4.110 casos de dengue, distribuídos por 238 municípios. Somente em 2023, foram 1.400 casos da doença. Os números referem-se ao atual período sazonal, iniciado em 1º de agosto de 2022. Em relação à chikungunya, também transmitida pelo mosquito *Aedes aegypti*, são mais quatro casos em relação à semana anterior. No atual período sazonal, são sete casos importados, três autóctones e quatro ainda permanecem em investigação quanto ao local provável de infecção. Os casos autóctones ocorreram nos municípios de Pato Branco, Foz do Iguaçu e São Miguel do Iguaçu. Com base em seus conhecimentos, o que são os casos autóctones?
- a) É quando a doença se desenvolve em sua forma mais agressiva.
 - b) É quando a doença é contraída fora do estado do paciente.
 - c) É quando a pessoa infectada falece por conta da doença.
 - d) É quando a doença é contraída no município de residência.

Conhecimentos Específicos

41. A teoria das Relações Humanas salienta o papel fundamental da comunicação, da participação e da liderança como forma de maior produtividade de mão de obra (MEZOMO, 2002). Com isso, assinale a alternativa correta.
- a) A teoria das Relações Humanas nasceu de uma reação à abordagem formal clássica, com Elton Mayo, considerado o “pai” dessa teoria.
 - b) As recompensas “não remuneradas” têm papel principal na motivação do trabalho.
 - c) A produção de um trabalhador não é determinada por sua capacidade física, mas por sua “capacidade” social.
 - d) Todas alternativas estão corretas.

42. Conforme Helena Maria Pinheiros Sant'ana "O Planejamento Físico-Funcional de Unidades de Alimentação e Nutrição é um trabalho de natureza abrangente e complexa, pois inclui o dimensionamento e planejamento dos diferentes setores." Sendo assim, analise as assertivas e assinale a alternativa correta.
- Planejamento da ambiência e das instalações hidráulicas e de energia.
 - Seleção, dimensionamento e aquisição de equipamentos, móveis e utensílios.
 - Elaboração do projeto arquitetônico.
 - Deve ser realizado por uma equipe multiprofissional, incluindo o Nutricionista, visto que possui vivência nos processos de trabalho conhecendo as necessidades e características desse tipo de estabelecimento, podendo orientar a equipe de forma a realizar um planejamento dentro dos padrões legais de qualidade.
- Apenas I, II e III estão corretas.
 - Apenas I e II estão corretas.
 - Apenas III e IV estão corretas.
 - Todas estão corretas.
43. De acordo com a Cartilha sobre Boas Práticas para Serviços de Alimentação Resolução-RDC nº 216/2004, o que são Doenças Transmitidas por Alimentos (DTA)?
- São doenças provocadas pelo consumo de alimentos que ocorrem quando micróbios prejudiciais à saúde, parasitas ou substâncias tóxicas estão presentes no alimento.
 - Os sintomas mais comuns de DTA são vômitos e diarreias, podendo também apresentar dores abdominais, dor de cabeça, febre, alteração da visão, olhos inchados, dentre outros.
 - Para as crianças, as grávidas, os idosos e as pessoas doentes, as consequências podem ser mais graves, mas nunca levando à morte.
 - Para adultos saudáveis, a maioria das DTA dura poucos dias e não deixa sequelas.
44. Conforme a Cartilha sobre Boas Práticas para Serviços de Alimentação Resolução-RDC nº 216/2004, os micróbios multiplicam-se nos alimentos quando encontram condições ideais de nutrientes, umidade e temperatura. Qual a temperatura considerada zona de perigo para a contaminação dos alimentos?
- Temperaturas entre 5°C a 60°C.
 - Temperaturas entre 0°C a 65°C.
 - Temperaturas entre 5°C a 80°C.
 - Temperaturas entre 5°C a 90°C.
45. Conforme a Cartilha sobre Boas Práticas para Serviços de Alimentação Resolução-RDC nº 216/2004, o manipulador de alimentos é a pessoa que lava, descasca, corta, rala, cozinha, ou seja, prepara os alimentos. Com relação aos cuidados dos manipuladores, analise as assertivas e assinale a alternativa correta.
- Usar cabelos presos e cobertos com redes ou toucas.
 - O uniforme deve ser usado somente na área de preparo dos alimentos. Trocar o uniforme diariamente, pois ele deve estar sempre limpo e conservado.
 - Retirar brincos, pulseiras, anéis, aliança, colares, relógio e maquiagem.
- Apenas I e II estão corretas.
 - Apenas II e III estão corretas.
 - Apenas I está correta.
 - Todas estão corretas.
46. De acordo com a Cartilha sobre Boas Práticas para Serviços de Alimentação Resolução-RDC nº 216/2004, assinale a alternativa que preencha corretamente as lacunas.
- O _____ é um documento que descreve o trabalho executado no estabelecimento e a forma correta de fazê-lo. Nele, pode-se ter informações gerais sobre como é feita a limpeza, o controle de pragas, da água utilizada, os procedimentos de higiene e controle de saúde dos funcionários, o treinamento de funcionários, o que fazer com o lixo e como garantir a produção de alimentos seguros e saudáveis.
- O _____ é um documento que descreve passo a passo como executar as tarefas no estabelecimento. Destaca as etapas da tarefa, os responsáveis por fazê-la, os materiais necessários e a frequência em que deve ser feita.
- Manual de Boas Práticas / Manual de Boas Práticas
 - Manual de Boas Práticas / Procedimento Operacional Padronizado (POP)
 - Procedimento Operacional (POP) / Manual de Boas Práticas
 - Procedimento Operacional (POP) / Procedimento Operacional (POP)

47. Conforme o Guia de Medicina Ambulatorial Hospitalar (UNESP), as modificações com relação à consistência englobam não apenas a apresentação da dieta, com alimentos ou preparações na forma líquida, pastosa ou de consistência mais sólida, mas também fatores nutricionais que interferem no trabalho digestivo associado ao tipo de dieta, com teor de fibra, resíduos, gordura e tempo de cocção. Relacione o tipo de dieta com a sua descrição e assinale a alternativa com a sequência correta.
1. Dieta Líquida Restrita.
 2. Dieta Líquida Completa.
 3. Dieta Branda.
 4. Dieta Pastosa.
- () Embora apresente alimentos em sua consistência sólida e pareça bastante semelhante à dieta normal, possui características que conferem uma melhor digestibilidade como restrição em teor de fibra, lipídeos da dieta.
- () Geralmente é a primeira após jejum de pós operatório de cirurgias do aparelho digestivo. Por conter apenas chás frescos, refrescos e caldos de legumes, esta dieta é bastante restrita quanto a seu conteúdo de resíduos e requer o mínimo de trabalho digestivo.
- () É a etapa seguinte da evolução dietética após a dieta líquida restrita. Os pacientes capazes de tolerá-la bem, poderão suportar também alimentos de consistência sólida atendendo à evolução dietética prevista, a menos que possuam limitações importantes de deglutição e refluxo.
- () Requer o mínimo de mastigação. A digestibilidade ainda está facilitada, porém a variedade de alimentos incluídos, composição e volume das refeições ela passa a requerer maior integridade funcional do processo digestivo e absorptivo.
- a) 3 – 1 – 2 – 4.
 - b) 1 – 2 – 3 – 4.
 - c) 4 – 3 – 2 – 1.
 - d) 2 – 1 – 3 – 4.
48. Conforme a Sociedade Brasileira de Alimentação e Nutrição (SBAN), sobre as Necessidades Nutricionais, assinale a alternativa correta.
- a) Necessidades Nutricionais são as quantidades de energia e de micronutrientes que devem conter nos alimentos consumidos.
 - b) Necessidades Nutricionais são definidas como a quantidade de energia e de nutrientes biodisponíveis nos alimentos que um indivíduo sadio deve ingerir para satisfazer todas as suas necessidades fisiológicas.
 - c) Necessidades Nutricionais são adquiridas apenas com suplementação alimentar.
 - d) Necessidades Nutricionais não adquiridas através da alimentação, e muitas vezes, a suplementação também não contribui para repor o necessário.
49. Conforme Marcia Regina Vitolo entre as possíveis definições de nutrição enteral, uma das mais abrangentes e gerais foi proposta pelo regulamento técnico para a terapia nutricional enteral – a Resolução RCD nº 63, da Agência Nacional de Vigilância Sanitária do Ministério da saúde, de 6/7/00. Sendo assim, analise as assertivas e assinale a alternativa correta.
- I. Alimento para fins especiais, com ingestão controlada de nutrientes, na forma isolada ou combinada, de composição definida ou estimada, especialmente formulada e elaborada para uso por sondas ou via oral, industrializada ou não, utilizada exclusiva ou parcialmente para substituir ou completar a alimentação oral em pacientes desnutridos ou não, conforme suas necessidades nutricionais, em regime hospitalar, ambulatorial ou domiciliar, visando a síntese ou manutenção dos tecidos, órgãos ou sistemas.
- II. É muito importante a preservação da integridade da mucosa intestinal pela infusão de nutrientes, como também a manutenção da homeostase e da competência imunológica. Em adição, a utilização do trato gastrointestinal, tem se associado a um decréscimo na taxa metabólica e melhora do balanço nitrogenado.
- III. Para a melhora da resposta imune, a prevenção de atrofia intestinal, evitando a translocação bacteriana e a diminuição da resposta inflamatória, tem se recomendado o uso de nutrição enteral preferentemente a nutrição parenteral total, uma vez que o uso da via enteral produz menor incidência de complicações, atenua a resposta inflamatória, previne a atrofia intestinal, e consequentemente a translocação de bactéria do lúmen intestinal.
- IV. Basicamente uma dieta enteral deve ser um composto balanceado de proteínas, carboidratos, lipídeos, fibras, eletrólitos, vitaminas e minerais.
- a) Apenas I, II e III estão corretas.
 - b) Apenas I e II estão corretas.
 - c) Todas estão corretas.
 - d) Todas estão incorretas.
50. Conforme Marcia Regina Vitolo, em nutrição parenteral, uma solução estéril de nutrientes é infundida por via intravenosa por meio de um acesso venoso periférico ou central, de forma que o trato digestivo é completamente excluído no processo. Com relação as indicações de Terapia Nutricional Parenteral, informe se é verdadeiro (V) ou falso (F) para o que se afirma e assinale a alternativa com a sequência correta.
- () NP é indicada em geral, quando o trato digestivo não funciona, está obstruído, ou inacessível e antecipa-se que esta condição continue pelo menos por sete dias.
- () Durante a avaliação nutricional e médica, alguns fatores precisam ser considerados na decisão de utilizar NP, incluindo antecipar a duração da terapia, necessidade energética e proteica, limitação de infusão hídrica e acesso venoso disponível.
- () A NP é contra indicada em pacientes hemodinamicamente instáveis incluindo aqueles com hipovolemia, choque cardiogênico ou séptico, com edema agudo de pulmão, anúria sem diálise ou que apresentem graves distúrbios metabólicos e elétricos.
- () NP deve ser indicada especificamente quando ocorrer vômitos intratáveis, pancreatite aguda, hiperemese gravídica, quimioterapia, diarreia grave (doença inflamatória intestinal), síndrome de má absorção, entre outras.
- a) V – F – V – F.
 - b) F – F – F – F.
 - c) V – V – V – F.
 - d) V – V – V – V.

51. De acordo com Marcia Regina Vitolo, os métodos de avaliação dietética podem ser divididos em dois grupos: retrospectivos e prospectivos. Assinale a alternativa que preencha corretamente as lacunas. Os primeiros incluem o _____, _____, Frequência Alimentar Semiquantitativa e _____. Já os métodos prospectivos são o _____ e o _____.
- Recordatório 24 hs / Frequência Alimentar / História dietética / Registro Alimentar Estimado / Registro Alimentar Pesado
 - Recordatório 24 hs / Registro Alimentar Estimado / História dietética / Registro Alimentar Pesado / Frequência Alimentar
 - Recordatório 24 hs / Registro Alimentar Pesado / História dietética / Registro Alimentar Estimado / Frequência Alimentar
 - Registro Alimentar Estimado / Frequência Alimentar / História dietética / Recordatório 24 hs / Registro Alimentar Pesado
52. De acordo com Elisabeth Bianqui Wosjaw – Tecnologia dos Alimentos. A área de tecnologia de alimentos é de extrema importância, pois atua em diversos segmentos determinantes da avaliação dos produtos e dos processos: controle, qualidade, fabricação e estocagem de produtos, caracterização dos alimentos. Compreende uma série de etapas operacionais que antecedem a obtenção do resultado final. Sobre as etapas de uma análise quantitativa, assinale a alternativa que aponta as corretas.
- Amostragem
 - Reações químicas e/ou mudanças físicas
 - Separações e medidas
- Apenas I e II estão corretas.
 - Apenas II e III estão corretas.
 - Apenas I e III estão corretas.
 - Todas estão corretas.
53. De acordo com a Resolução CD/FNDE nº 6/2020, assinale a alternativa correta quanto ao Programa que tem como objetivo contribuir para o crescimento e o desenvolvimento biopsicossocial, a aprendizagem, o rendimento escolar e a formação de hábitos alimentares dos estudantes, por meio de ações de educação alimentar e nutricionais e da oferta de refeições que cubram as suas necessidades nutricionais durante o período letivo.
- FNDE.
 - PNAE.
 - PROTEJA.
 - CAE.
54. Conforme a Resolução CD/FNDE nº 6/2020, quanto aos cardápios do Programa Nacional da Alimentação Escolar, analise as assertivas e assinale a alternativa correta.
- Os cardápios planejados e executados pelo PNAE devem refletir o compromisso da gestão local e dos nutricionistas na garantia ao direito dos estudantes à alimentação adequada, saudável, atendendo às necessidades nutricionais no período em que ele permanecer na escola, contribuindo com a construção de hábitos alimentares saudáveis.
 - No contexto, o nutricionista que é o Responsável Técnico pela alimentação escolar nos Municípios deverá respeitar as diretrizes previstas na legislação vigente visando à garantia do direito.
- III. O cardápio da alimentação escolar deverá ser elaborado de acordo com a faixa etária, cultura e o hábito alimentar, as especificidades e o período em que o estudante permanecer na escola.
- Apenas I e II estão corretas.
 - Apenas II e III estão corretas.
 - Todas estão corretas.
 - Todas estão incorretas.
55. De acordo com Marcia Regina Vitolo, a utilização deste indicador da condição nutricional de crianças e adolescentes é considerado o melhor indicador nutricional na adolescência, por ter sido validado como indicador de gordura corporal nos percentis superiores e porque oferece continuidade de análise na fase adulta (Rolland-Cachera e Cols, 1991; Rolland-Cachera, 1993, Himes & Bouchard, 1989). O enunciado refere-se a(o)
- Índice de Massa Corporal (IMC).
 - Anamnese alimentar.
 - Investigação laboratorial.
 - Dieta com restrição calórica.
56. Conforme a Resolução FNDE nº 6 de 2020, informe se é verdadeiro (V) ou falso (F) para o que se afirma sobre as diretrizes da Alimentação Escolar no âmbito do Programa Nacional de Alimentação Escolar e assinale a alternativa com a sequência correta.
- O emprego da alimentação saudável e adequada, compreendendo o uso dos alimentos variados, seguros que respeitam a cultura, as tradições e os hábitos alimentares saudáveis, contribuindo para o crescimento e o desenvolvimento dos alunos e para a melhoria do rendimento escolar, em conformidade com a sua faixa etária e seu estado de saúde, inclusive dos que necessitam de atenção específica.
 - A inclusão da educação alimentar e nutricional no processo de ensino e aprendizagem, que perpassa pelo currículo escolar, abordando o tema alimentação e nutrição e o desenvolvimento de práticas saudáveis de vida na perspectiva da segurança alimentar e nutricional.
 - A universalidade do atendimento aos alunos matriculados na rede pública de educação básica.
 - O apoio ao desenvolvimento sustentável, com incentivos para a aquisição de gêneros alimentícios diversificados, produzidos em âmbito local e preferencialmente pela agricultura familiar e pelos empreendedores familiares rurais, priorizando as comunidades tradicionais indígenas e de remanescentes quilombolas.
 - O direito à alimentação escolar, visando garantir a segurança alimentar e nutricional dos alunos, com acesso de forma igualitária, respeitando as diferenças biológicas entre idades e condições de saúde dos alunos que necessitem de atenção específica e aqueles que se encontrem em vulnerabilidade social.
- V – F – V – F – V.
 - F – F – F – F – F.
 - V – V – V – F – F.
 - V – V – V – V – V.

57. Conforme a Resolução FNDE nº 6 de 2020, os cardápios devem ser planejados a atender, em média, as necessidades nutricionais estabelecidas nesta Resolução. Sendo assim, analise as assertivas e assinale a alternativa correta.
- I. Em unidades escolares que ofertam alimentação escolar em período parcial, os cardápios devem ofertar, obrigatoriamente, no mínimo 280g/estudante/semana de frutas in natura, legumes e verduras.
 - II. Em unidades escolares que ofertam alimentação escolar em período integral, os cardápios devem ofertar, obrigatoriamente, no mínimo 520g/estudantes/semana de frutas in natura, legumes e verduras.
 - III. É obrigatória a inclusão de alimentos fonte de ferro heme no mínimo 4 (quatro) dias por semana.
 - IV. É obrigatória a inclusão de alimentos fonte de vitamina A pelo menos 3 (três) dias da semana.
 - a) Apenas I e II estão corretas.
 - b) Apenas II e III estão corretas.
 - c) Apenas I, II e III estão corretas.
 - d) Todas estão corretas.
58. Conforme a Resolução FNDE nº 6 de 2020, os cardápios devem ser planejados a atender, em média, as necessidades nutricionais estabelecidas nesta Resolução e Limitar obrigatoriamente a oferta de alguns alimentos. Sendo assim, informe se é verdadeiro (V) ou falso (F) para o que se afirma e assinale a alternativa com a sequência correta.
- () Produtos cárneos a no máximo duas vezes por mês.
 - () Alimentos em conserva, no máximo, uma vez por mês.
 - () Líquidos lácteos com aditivos ou adoçados a, no máximo, uma vez por mês em unidades escolares que ofertam alimentação escolar em período parcial e, no máximo, duas vezes por mês em unidades escolares que ofertam alimentação escolar em período integral.
 - () Doce, no máximo uma vez por mês.
 - () Margarina ou creme vegetal, no máximo, cinco vezes por mês em unidades escolares que ofertam alimentação escolar em período parcial.
 - a) V – F – V – F – V.
 - b) F – F – F – F – F.
 - c) V – V – V – V – F.
 - d) V – V – V – V – V.
59. De acordo com a Resolução nº 600. De 25 de fevereiro de 2018, com relação a Gestão em Unidades de Alimentação e Nutrição (UAN), para realizar as atribuições de Nutrição em Alimentação Coletiva, em UAN, o nutricionista deverá desenvolver algumas atividades obrigatórias, analise as assertivas e assinale a alternativa que aponta as corretas.
- I. Elaborar informação nutricional do cardápio e/ou preparações, contendo valor energético, ingredientes, nutrientes e aditivos que possam causar alergia ou intolerância alimentar.
 - II. Coordenar as atividades de recebimento e armazenamento de alimentos, material de higiene, descartáveis e outros.
 - III. Elaborar e implantar fichas técnicas das preparações, mantendo-as atualizadas.
 - IV. Elaborar e implantar Manual de Boas Práticas específico da UAN, mantendo-o atualizado.
 - V. Implantar e supervisionar as atividades de pré-preparo e preparo. Já a distribuição e/ou transporte de refeições e/ou preparações não é da responsabilidade do Nutricionista.
 - a) Apenas I, II, III e IV estão corretas.
 - b) Apenas II e III estão corretas.
 - c) Apenas I, II e III estão corretas.
 - d) Todas estão corretas.
60. De acordo com a Resolução nº 600. De 25 de fevereiro de 2018, com relação a Gestão em Unidades de Alimentação e Nutrição (UAN), para realizar as atribuições de Nutrição em Alimentação Coletiva, em UAN, o nutricionista deverá desenvolver algumas atividades complementares. Sendo assim, informe se é verdadeiro (V) ou falso (F) para o que se afirma e assinale a alternativa com a sequência correta.
- () Participar das atividades de gestão de custos de produção.
 - () Realizar e divulgar estudos e pesquisas relacionados às áreas relacionadas à produção de refeições.
 - () Organizar a visita de clientes/usuários às áreas relacionadas à produção de refeições.
 - () Promover a sensibilização de gestores e representantes de instituições da área quanto a responsabilidade destes pela saúde da população, bem como a importância do nutricionista neste processo.
 - () Promover ações de incentivo ao desenvolvimento sustentável.
 - a) V – F – V – F – V.
 - b) V – V – V – V – V.
 - c) V – V – V – V – F.
 - d) F – F – F – F – F.

