

CARGO: ASSISTENTE SOCIAL

PERÍODO TARDE

CONCURSO PÚBLICO Nº 002/2023 PREFEITURA MUNICIPAL DE FAZENDA RIO GRANDE

Atenção: Confira seu cargo e leia todas as instruções constantes no seu Caderno de Questões e Folha de Respostas.

1. Seu caderno deve conter 60 (sessenta) questões, com 04 (quatro) alternativas, assim dispostas:

Disciplina	Composição
Língua Portuguesa	1 a 10
Matemática/Raciocínio Lógico	11 a 20
Informática Básica	21 a 30
Conhecimentos Gerais e Atualidades	31 a 40
Conhecimentos Específicos	41 a 60

2. A Prova terá duração de 3h e 30min (três horas e trinta minutos), incluindo preenchimento da Folha de Respostas.
3. Após sua identificação, você deverá permanecer dentro da sala, sendo permitida a saída somente acompanhado de um fiscal e após 30min (trinta minutos) do início da prova.
4. Para uso do sanitário e/ou beber água, você deverá solicitar ao Fiscal de Sala e somente levantar após autorização.
5. O candidato só poderá sair da sala em definitivo após 1h (uma hora) do início da prova.
6. Ao deixar a sala definitivamente, não poderá utilizar o sanitário dos candidatos que ainda estão realizando prova, e só poderá levar o Caderno de Questões restando 1h (uma hora) para o final da prova.
7. Enquanto estiver realizando a Prova é proibido utilizar materiais de consulta, livros, apostilas, calculadoras, régua, quaisquer equipamentos eletrônicos, chapéus, bonés, e/ou similares, conforme constante no edital de abertura. Caso o fiscal constate alguma irregularidade irá anotar em Ata da Sala, para devidas providências da Comissão Organizadora.
8. Sobre sua carteira deverá permanecer somente documento oficial original com foto, caneta de tinta azul ou preta de corpo transparente, Caderno de Questões e Folha de Respostas.
9. Você poderá utilizar seu Caderno de Questões para rascunho.
10. Você receberá do Fiscal de Sala a Folha de Respostas definitiva. Confira seus dados e em caso de erro, chame o fiscal. Após conferir, **assine no campo destinado à assinatura do candidato**. Em hipótese alguma ela será substituída caso o candidato dobre, amasse, rasgue ou molhe. Cuidado, pois esse será o único documento válido para correção.
11. Caso algum equipamento eletrônico emita som, mesmo que desligado e lacrado no plástico de pertences, o candidato portador do equipamento será automaticamente eliminado do concurso.
12. Transcreva suas respostas para Folha de Respostas com caneta de tinta azul ou preta de corpo transparente. **Atenção:** verifique na Folha de Respostas a forma correta de preenchimento.
13. Questões com mais de uma alternativa assinalada, rasurada, em branco ou preenchidas de forma diferente das instruções serão anuladas.
14. Após terminar sua Prova avise o Fiscal, pois ele autorizará a entrega da sua Folha de Respostas e Caderno de Questões, se for o caso.
15. Caso algum candidato seja flagrado na tentativa de fraude, esse será automaticamente eliminado do Concurso, ainda sujeito a processo civil ou criminal.
16. Qualquer questionamento ou dúvidas devem ser feitos em voz alta ao fiscal.
17. Os 03 (três) últimos candidatos deverão sair juntos da sala, após a conferência e lacre do material da sala.
18. Aguarde a autorização do Fiscal para iniciar sua Prova.

-----DESTAQUE AQUI-----

01	02	03	04	05	06	07	08	09	10	11	12	13	14	15	16	17	18	19	20
21	22	23	24	25	26	27	28	29	30	31	32	33	34	35	36	37	38	39	40
41	42	43	44	45	46	47	48	49	50	51	52	53	54	55	56	57	58	59	60

Língua Portuguesa

Leia o texto para responder as questões.

É possível uma moeda só?

Sonho dos viajantes compulsivos, a moeda única pode diminuir cada vez mais as barreiras geográficas, só que questões culturais e econômicas podem jogar a ideia no ralo
Por Augusto Decker e Pedro Borg

Sim: Com a integração crescente dos sistemas financeiros, é possível imaginar uma moeda única ou regional, como é o euro hoje.

Por que sim?

A ideia de uma moeda única vem sendo defendida como uma maneira de transformar a tendência de integração financeira internacional em realidade, uma vez que hoje a economia trabalha quase sem fronteiras. Seria um cenário dos sonhos para viajantes compulsivos, já que as tediosas idas às casas de câmbio seriam extintas.

Além da questão da praticidade, existe a vantagem de que acabariam os problemas de especulação cambial – como os chamados ataques especulativos que ocorreram ao longo da história. Não faria sentido tentar desvalorizar uma moeda única.

“Um mundo com uma única moeda evitaria especulação. A diferença seria na oferta de preços. Em países mais ricos, haveria mais dinheiro. Logo, as coisas seriam mais caras. O oposto aconteceria em países mais pobres”, defende a futuróloga brasileira Lala Deheinzelin.

Não: Como atingir um consenso global de uma política monetária única? Muitos interesses e barreiras teriam de ser amplamente debatidos.

Por que não?

Os futurologistas acreditam na hipótese da moeda única. Mas nenhum dos economistas entrevistados pensa que esse seja o caminho para melhorar a situação financeira mundial. “O controle do dinheiro será de quem controla sua emissão”, alerta o mestre em economia Rubens Sawaya. “Independente se for uma instituição, um país ou a ONU, quem controlar essa moeda controlará a liquidez do dinheiro no mundo.”

É como se, dessa maneira, todo o dinheiro no mundo tivesse o mesmo valor, o que configura um problema para países da periferia mundial, diz o economista. É a taxa de câmbio, ou a moeda mais barata, que faz os países mais pobres conseguirem manter seu produto competitivo ante os produzidos em países com economias maiores. “A vantagem de não ter uma moeda única é controlar a liquidez dos seus ativos em relação aos ativos de outros países”, explica Sawaya.

A noção de que seria quase impossível chegar a uma moeda global também é corroborada pelo economista Gerson Caner. Para ele, o caminho passa por moedas regionais, como o euro. “Uma moeda global tem uma série de obstáculos geopolíticos e culturais. Ela mexeria com conceitos macroeconômicos arraigados, além do funcionamento de bancos centrais”, explica. “Imagine as nações mais poderosas tendo de negociar uma paridade única de uma moeda global?”

Disponível em <https://infograficos.estadao.com.br/focas/por-minha-conta/materia/e-possivel-uma-moeda-so/>

1. **Análise: “Imagine as nações mais poderosas tendo de negociar uma paridade única de uma moeda global?” E assinale a alternativa correta.**

- a) Não há preposições nesse trecho.
- b) “Poderosas” está grafado incorretamente.
- c) Há um verbo no Modo Imperativo.
- d) Não há numeral, apenas artigos.

2. **Análise: “A ideia de uma moeda única vem sendo defendida como uma maneira de transformar a tendência de integração financeira internacional em realidade” e assinale a alternativa que apresenta o núcleo do sujeito desse trecho.**

- a) Moeda.
- b) Financeira.
- c) Tendência.
- d) Ideia.

3. **Análise: “A ideia de uma moeda única vem sendo defendida como uma maneira de transformar a tendência de integração financeira internacional em realidade, uma vez que hoje a economia trabalha quase sem fronteiras. Seria um cenário dos sonhos para viajantes compulsivos, já que as tediosas idas às casas de câmbio seriam extintas.” E assinale a alternativa incorreta.**

- a) Após “hoje”, poderia utilizar uma vírgula.
- b) A crase deste trecho está incorreta.
- c) A vírgula antes de “já que” está correta.
- d) “Vem sendo defendida” é uma locução verbal.

4. **O uso de verbos no Futuro do Pretérito do Modo Indicativo indica que**

- a) algo poderia acontecer após uma situação do passado; no entanto, é uma incerteza.
- b) é uma certeza do que acontecerá caso tenhamos uma moeda global.
- c) uma moeda global seria um desastre.
- d) é uma ordem e deve ser cumprida.

5. **Para que o trecho a seguir, tenha um sujeito oculto, qual adaptação seria necessária?**

“Os futurologistas acreditam na hipótese da moeda única.”

- a) Isso não é possível fazer.
- b) Acrescentar ao trecho “alguns” antes de “futurologistas”.
- c) Retirar do trecho “os futurologistas”.
- d) Substituir “os futurologistas” por “eles”.

6. **Análise: “quem controlar essa moeda controlará a liquidez do dinheiro no mundo” e assinale a alternativa que apresenta a classificação correta desta oração.**

- a) Oração Subordinada Adverbial Causal.
- b) Oração Subordinada Adverbial Conformativa.
- c) Oração Subordinada Adverbial Consecutiva.
- d) Oração Subordinada Adverbial Final.

7. **Assinale a alternativa cujo trecho a seguir foi reescrito de maneira que não altere seu sentido.**

“Além da questão da praticidade, existe a vantagem de que acabariam os problemas de especulação cambial”

- a) “Portanto, da questão da praticidade, existe a vantagem de que acabariam os problemas de especulação cambial”
- b) “Em conformidade com a questão da praticidade, existe a vantagem de que acabariam os problemas de especulação cambial”
- c) “Sendo a questão da praticidade, existe a vantagem de que acabariam os problemas de especulação cambial”
- d) “Ademais da questão da praticidade, existe a vantagem de que acabariam os problemas de especulação cambial”

8. Analise: “É a taxa de câmbio, ou a moeda mais barata, que faz os países mais pobres conseguirem manter seu produto competitivo ante os produzidos em países com economias maiores.” E assinale a alternativa que apresenta a conjugação correta do verbo “fazer”, caso a conjunção “ou” fosse substituída por “e”.

- a) Fazem.
- b) Faz.
- c) Fazemos.
- d) Fazeis.

9. Assinale a alternativa que apresenta a figura de linguagem correta para a expressão “jogar a ideia no ralo”.

- a) Metáfora.
- b) Eufemismo.
- c) Ironia.
- d) Gradação.

10. De acordo com o texto, é possível afirmar que

- a) a comercialização global já é sem fronteiras.
- b) a economia global ainda enfrenta fronteiras.
- c) a escolha de uma moeda global ficará na mão de um único país.
- d) em países ricos, os produtos serão mais baratos.

Matemática/Raciocínio Lógico

11. Considere verdadeira a declaração: “Todos os cachorros caramelos são vira-latas.” Com base nessa declaração, assinale a alternativa que corresponde a uma argumentação correta.

- a) Bob é um cachorro vira-lata, portanto é caramelo.
- b) Bob é um cachorro vira-lata, portanto não é caramelo.
- c) Rex é um cachorro caramelo, portanto é vira-lata.
- d) Rex é um cachorro caramelo, portanto não é vira-lata.

12. Em uma pesquisa de mercado, foram entrevistadas 300 pessoas sobre a preferência delas pelas marcas de café A e B. Do total de entrevistados, 10% consomem as duas marcas; 15% consomem apenas a marca A e 30% consomem apenas a marca B. O restante dos entrevistados não consome nenhuma das duas marcas. Quantas pessoas não consomem as marcas de café A e B?

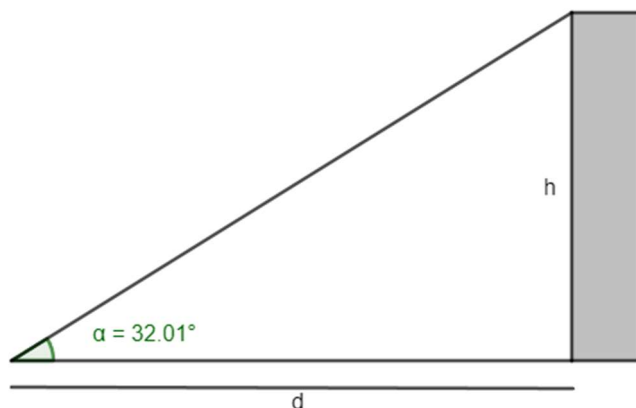
- a) 165.
- b) 155.
- c) 145.
- d) 135.

13. O volume de um tronco de pirâmide de 6 cm de altura e cujas áreas das bases são iguais a 25 cm^2 e 16 cm^2 corresponde a

- a) 122 cm^3
- b) 128 cm^3
- c) 132 cm^3
- d) 136 cm^3

14. A uma distância de $d = 60 \text{ m}$ uma torre é vista sob um ângulo α , como mostra a figura.

Calcule a altura h da torre em metros. Considere $\text{tg } 32,01^\circ = 0,625$.



- a) 37,5 m
- b) 36,6 m
- c) 35,4 m
- d) 34,3 m

15. Em determinado estacionamento cobra-se R\$ 5,00 por hora que o veículo permanece estacionado, somado a uma taxa fixa de R\$ 3,50. Seja t o número de horas que um veículo permanece estacionado e P o preço a ser pago, assinale a seguir a equação que descreve, em reais, o valor de P .

- a) $P = 5 \cdot t$
- b) $P = 5 \cdot t + 3,50$
- c) $P = 3,5 \cdot t + 5$
- d) $P = 3,5 \cdot t + 3,5$

16. Considere a função $f(x) = \log_2(x + 5)$, é possível afirmar que

- a) a função pode ser definida somente para x maior ou igual a 5.
- b) a função pode ser definida somente para x maior ou igual a -5.
- c) a função pode ser definida somente para valores de x maiores que -5.
- d) a função pode ser definida somente para valores de x menores que -5.

17. Considere um prisma de base hexagonal com a medida do lado igual a 4 cm, e altura igual a 10 cm. O volume do prisma é de

- a) $40\sqrt{3} \text{ cm}^3$
- b) $100\sqrt{3} \text{ cm}^3$
- c) $180\sqrt{3} \text{ cm}^3$
- d) $240\sqrt{3} \text{ cm}^3$

18. Considere as matrizes $A = \begin{bmatrix} 2 & 1 & 4 \\ 3 & 1 & -2 \end{bmatrix}$ e $B = \begin{bmatrix} 1 & 0 \\ 2 & -1 \\ -1 & -3 \end{bmatrix}$. Assinale a alternativa que apresenta a matriz transposta de $A \times B$.

- a) $\begin{bmatrix} 0 & -13 \\ 7 & 5 \end{bmatrix}$
 b) $\begin{bmatrix} 5 & -13 \\ 7 & 0 \end{bmatrix}$
 c) $\begin{bmatrix} 0 & 7 \\ -13 & 5 \end{bmatrix}$
 d) $\begin{bmatrix} -13 & 0 \\ 5 & 7 \end{bmatrix}$

19. O ponto $A(m + 1; 2m - 3)$ pertence à bissetriz dos quadrantes pares. Então, o valor de m é

- a) 2.
 b) 3.
 c) 4.
 d) 5.

20. Considere a função $f(x) = \sqrt{\frac{x+3}{x-1}}$, assinale a alternativa que apresenta corretamente o domínio da função $f(x)$.

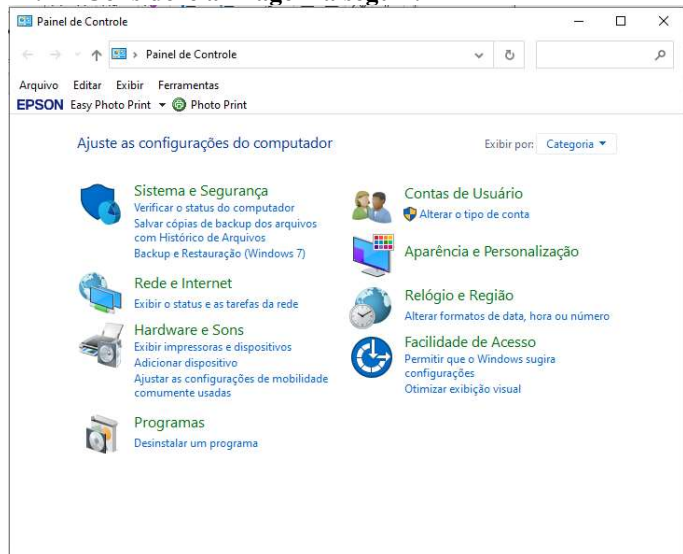
- a) $D(f) = (-\infty, -3] \cup (1, +\infty)$
 b) $D(f) = (-\infty, -3] \cup (1, +\infty)$
 c) $D(f) = (-\infty, -1] \cup (3, +\infty)$
 d) $D(f) = (-\infty, -3) \cup (1, +\infty)$

Informática Básica

21. Navegador é um software que facilita a navegação na internet. Existem diferentes navegadores que podem ser usados dependendo do dispositivo e do sistema operacional. Pautando-se nessas informações, assinale a alternativa que apresenta somente nomes de navegadores.

- a) Opera – Mozilla Firefox – Safari – Edge.
 b) Google Chrome – Edge – Internet Explorer – Google.
 c) Safari – Edge – Bing – Opera.
 d) Google – Mozilla Firefox – Edge – Opera.

22. Considere a imagem a seguir:



Fonte: Painel de Controle – Windows 10.

A respeito do Painel de Controle do Windows 10, informe se é verdadeiro (V) ou falso (F) e assinale a alternativa com a sequência correta.

- () Uma forma fácil de abrir o Painel de Controle no Windows 10 é abrir o menu Iniciar e simplesmente digitar "Painel de Controle".
 () Ao clicar em "Exibir por", o usuário pode alterar o modo de exibição do painel de controle para: ícones grandes, ícones médios e ícones pequenos.
 () O painel de controle só pode ser acessado no modo de segurança do Windows.
 () Programas e recursos podem ser removidos através do painel de controle.
 a) V – V – F – V.
 b) V – F – F – F.
 c) V – F – F – V.
 d) F – F – F – V.

23. Dados e valores podem ser exibidos graficamente usando o Excel 365. O Excel dispõe de uma variedade de tipos de gráficos que podem ser utilizados de acordo com a necessidade do usuário. Sendo assim, analise os gráficos a seguir:

Gráfico 1

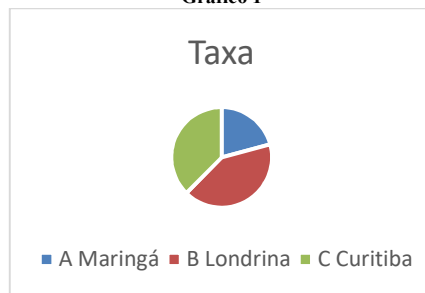


Gráfico 2

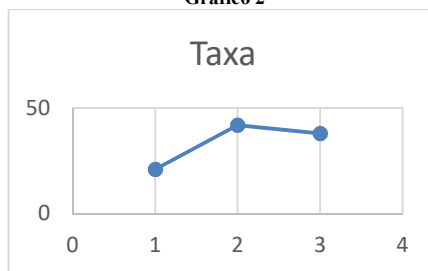



Gráfico 3



Fontes: Exemplos de gráficos. Microsoft Excel 365.

Pautando-se nas informações disponíveis nas imagens, assinale a alternativa com a sequência correta com os tipos de gráficos apresentados.

- a) (I) Gráfico de Pizza – (II) Gráfico de Linha – (III) Gráfico de Radar.
 b) (I) Gráfico de Pizza – (II) Gráfico de Dispersão – (III) Gráfico de Área.
 c) (I) Gráfico de Pizza – (II) Gráfico Histograma – (III) Gráfico de Radar.
 d) (I) Gráfico de Pizza – (II) Gráfico de Dispersão – (III) Gráfico Mapa de Árvore.

24. O Microsoft Excel 365 contém 9 guias, entre elas temos: Página Inicial, Fórmulas e Dados. Em qual guia do Excel 365 estão localizados os grupos Gráficos e Tabelas?

- a) Guia Dados.
- b) Guia Exibir.
- c) Guia Arquivo.
- d) Guia Inserir.

25. Considere a imagem a seguir:

O Microsoft Word oferece aos usuários muitas possibilidades e opções para a formatação de textos.

Fonte: Microsoft Word 365.

A partir das informações apresentadas na imagem, analise as assertivas e assinale a alternativa correta:

- I. A frase acima contém palavras destacadas em: **negrito, itálico, sublinhado e taxado.**
 - II. A parte “aos usuários muitas” está em **itálico e sublinhado.**
 - III. A parte “para a formatação de textos” está com **taxado duplo.**
 - IV. A parte “para a formatação de textos” está **sobrescrita.**
- a) Apenas I está correta.
 - b) Apenas I e II estão corretas.
 - c) Apenas II e III estão corretas.
 - d) Apenas I, II e III estão corretas.

26. Considere a imagem a seguir:

Microsoft Word é um software que é usado principalmente para escrever textos no computador. Você pode escrever, salvar, recordar e imprimir textos em diferentes idiomas ou reutilizá-los em outros aplicativos.

Fonte: Microsoft Word 365.

Qual recurso foi utilizado na letra M em destaque no texto?

- a) Negrito.
- b) Capítular.
- c) Word Art.
- d) Aumentar tamanho da fonte.

27. Quando se alterna de um slide para o próximo em uma apresentação do PowerPoint, não costuma ser uma experiência muito emocionante. O recurso transição de slides pode tornar as apresentações mais emocionantes e interessantes. Sendo assim, assinale a alternativa que melhor define o que é transição de slides.

- a) É o efeito visual que ocorre quando se passa de um slide para outro durante uma apresentação.
- b) É um efeito especial que se aplica a um único elemento do slide e pode ser replicado para os outros slides.
- c) Pode ser definido como a lista de animações disponíveis no PowerPoint que colocam em movimento os objetos.
- d) É a ação a ser realizada quando o usuário clica ou passa o mouse sobre um objeto do slide. Por exemplo, ao clicar o texto ou objeto aparece.

28. O primeiro vírus para computadores comemora em 2023 seu aniversário de 52 anos. Ele foi criado por Bob Thomas em 1971 no PDP-10, um computador de grande porte. No início da era da informática, não havia a pretensão de infectar ou roubar informações de usuários com esses aplicativos, mas apenas irritá-los com mensagens ou pequenas alterações no sistema.

De posse dessas informações, assinale a alternativa correta com o nome do primeiro vírus de computador.

- a) Bots.
- b) Brain.
- c) Creeper.
- d) Reaper.

29. Um vírus pode ser definido como um programa de computador malicioso cujo objetivo é interromper o funcionamento normal de um sistema de computador sem o conhecimento de seu proprietário. Existem diferentes tipos de vírus como Ransomware, Spyware, Keylogger etc. Considerando os tipos de vírus e características a seguir, correlacione as colunas e assinale a alternativa correta.

- 1. Worms.
 - 2. Backdoor.
 - 3. Adware.
 - 4. Phishing.
- () Cria uma cópia de si mesmo e envia aos outros usuários.
 - () Engana o usuário para conseguir informações confidenciais como: senhas e o número de cartões de crédito.
 - () Exibe uma grande quantidade de anúncios indesejados sem a permissão do usuário.
 - () Permite que usuários acessem um sistema, rede ou software, ignorando as medidas de segurança convencionais.
- a) 1 – 4 – 3 – 2.
 - b) 2 – 4 – 1 – 3.
 - c) 3 – 1 – 2 – 4.
 - d) 4 – 1 – 3 – 2.

30. _____ é uma área de armazenamento temporário onde arquivos ou pastas são armazenados antes de serem copiados para o novo local. Desde a atualização do Windows 10 em 2018, o sistema tem uma nova opção para gerenciar _____. Um recurso muito útil que permite aos usuários acessar _____ de cópias, sejam textos ou mesmo imagens. Assinale a alternativa que preencha corretamente as lacunas.

- a) Pastas / os diretórios / o histórico
- b) A lixeira / a área de transferência / memória
- c) A área de trabalho / o histórico / o histórico.
- d) A área de transferência / a área de transferência / o histórico

Conhecimentos Gerais e Atualidades

31. Os direitos humanos buscam estabelecer condições mínimas de vida e dignidade para qualquer ser humano, em qualquer país. No Brasil, a Constituição de 1988 tratou de estabelecer direitos e deveres para todos os brasileiros e estrangeiros que vivem no país, em busca de uma sociedade mais igualitária e justa. Qual documento inspirou a criação dos direitos e deveres elencados na CF 88?

- a) Constituição Cidadã de 1967.
- b) Declaração Universal dos Direitos Humanos de 1948.
- c) Guia de orientação das Nações Unidas no Brasil para denúncias de discriminação étnico-racial.
- d) Constituição dos Estados Unidos da América.

32. Sobre a Constituição de 1988, assinale a alternativa que preencha corretamente as lacunas.
A Constituição de 1988 foi resultado da _____ empossada em 1987. É considerada o marco que inaugurou o período democrático do Brasil conhecido como _____ e foi formulada atendendo a diversos interesses e demandas da população brasileira. Seu texto final foi promulgado por _____, o presidente da Constituinte, e é considerado bastante _____ em relação às questões sociais e garantias das liberdades individuais. Apesar disso, a Constituição sofre _____ de juristas e intelectuais.
- a) Assembleia Legislativa / Ditadura / Ulysses Guimarães / avançado / críticas
b) Assembleia Constituinte / Nova República / Ulysses Guimarães / avançado / críticas
c) Comitativa da ONU / Velha República / José Sarney / conservador / elogios
d) Ditadura / República Federativa / José Sarney / conservador / elogios
33. Em fevereiro de 2023, o presidente dos EUA, Joe Biden, recebeu o presidente Luiz Inácio Lula da Silva (PT) na Casa Branca. Os dois conversaram brevemente e posaram para fotos, antes de entrarem na sede do governo americano para uma reunião. Após essa reunião, que foi a principal medida anunciada divulgada?
<https://noticias.uol.com.br/internacional/>
- a) Aporte de US\$50 milhões, ou R\$ 270 milhões, para o Fundo Amazônia.
b) Aporte de US\$50 milhões, ou R\$ 270 milhões, para a erradicação da pobreza no Brasil.
c) União de forças entre os países para incentivar o fim da guerra na Ucrânia.
d) Colaboração entre os países para realização de intercâmbio de tecnologia para o combate ao tráfico de drogas.
34. Moradores de centenas de aldeias na Floresta Amazônica se tornaram vítimas da maior crise humanitária do país neste século. Segundo vários relatos, esse povo indígena foi vítima do garimpo ilegal, violência sexual, doenças e morte para adultos e crianças, estes fatos vieram à tona em 2023. Qual o povo indígena descrito no texto acima?
- a) Caingangues.
b) Xavantes.
c) Yanomami.
d) Pataxós.
35. Após os deslizamentos de terra nas BR-376 e BR-277 causados pelas chuvas que prejudicaram o Paraná, outra região do país foi castigada pelas chuvas intensas, deslizamentos de terra e várias mortes foram registradas. A cidade mais atingida foi São Sebastião. Qual a região descrita no trecho acima?
- a) Litoral norte de Santa Catarina.
b) Litoral sul do Rio Grande do Sul.
c) Região dos lagos no Rio de Janeiro.
d) Litoral norte de São Paulo.
36. Sobre a Lei Orgânica de Fazenda Rio Grande, informe se é verdadeiro (V) ou falso (F) para o que se afirma e assinale a alternativa com a sequência correta.
- () É vedado ao município exigir ou aumentar tributos sem lei que o estabeleça.
() A Lei Orgânica Municipal poderá ser emendada mediante propostas de um terço, no mínimo, dos membros da Câmara Municipal; do Prefeito Municipal; de iniciativa popular.
() O servidor público estável só perderá o cargo em virtude de sentença judicial transitada em julgado e/ou mediante processo administrativo em que não lhe seja assegurada ampla defesa.
() A pessoa jurídica em débito com o sistema de seguridade social, como estabelecido em lei federal, ou ainda, em débito com a Fazenda Municipal ou Estadual, não poderá contratar com o Poder Público Municipal, contudo, poderá dele receber benefícios ou incentivos fiscais ou creditícios, a fim de quitação de dívida.
- a) F – V – F – F.
b) V – V – V – F.
c) F – F – V – F.
d) V – V – F – F.
37. Ao Município de Fazenda Rio Grande compete prover a tudo quanto diga respeito ao seu peculiar interesse e ao bem-estar de sua população, cabendo-lhe, privativamente, dentre outras, as seguintes atribuições:
- I. legislar sobre assuntos de interesse difuso.
II. suplementar a legislação federal e a estadual, no que couber.
III. elaborar Plano Diretor de Desenvolvimento Integrado e mantê-lo sempre atualizado em face do seu desenvolvimento, observado, para tanto, para entrada em vigor de suas alterações, o prazo de 12 (doze) meses contados de sua elaboração.
IV. criar, organizar e suprimir Distritos, observada a legislação estadual e a Lei Orgânica.
V. manter, com a cooperação técnica e financeira da União e do Estado, programas de educação em todos os níveis, observadas as prescrições das Constituições Federal e Estadual.
VI. elaborar o orçamento anual e plurianual de investimentos.
VII. instituir e arrecadar tributos, bem como aplicar as suas receitas.
VIII. fixar, fiscalizar e cobrar tarifas ou preços públicos.
IX. dispor sobre organização, administração e execução dos serviços locais.
X. dispor sobre administração e utilização dos bens públicos.
- a) Somente cinco estão corretas.
b) Somente seis estão corretas.
c) Somente sete estão corretas.
d) Somente oito estão corretas.

38. De acordo com o artigo 42 da Lei Orgânica de Fazenda Rio Grande, o processo legislativo municipal compreende a elaboração de:
- I. emendas à Lei Orgânica Municipal.
 - II. ações diretas de inconstitucionalidade.
 - III. leis complementares.
 - IV. leis ordinárias.
 - V. leis delegadas.
 - VI. resoluções.
 - VII. decretos legislativos.
- a) Somente seis estão corretas.
 - b) Somente cinco estão corretas.
 - c) Somente quatro estão corretas.
 - d) Somente três estão corretas.
39. Sobre a seção IV da Lei Orgânica de Fazenda Rio Grande - Dos Auxiliares Diretos do Prefeito, assinale a alternativa correta. São condições essenciais para a investidura no cargo de Gerente, Diretor ou equivalente:
- I. ser brasileiro.
 - II. estar no exercício dos direitos políticos.
 - III. ser maior de 21 (vinte e um) anos.
 - IV. ser funcionário concursado do município.
 - V. ter conduta social ilibada.
- a) Todas estão corretas.
 - b) Somente uma está correta.
 - c) Somente duas estão corretas.
 - d) Somente três estão corretas.
40. De acordo com o artigo 91 da Lei Orgânica de Fazenda Rio Grande, assinale a alternativa que preencha corretamente a lacuna. O Prefeito, o Vice-Prefeito, os Vereadores Municipais e seus respectivos cônjuges, não poderão contratar, direta ou indiretamente com o Município, persistindo essa proibição até _____ após findar as funções exercidas no âmbito da administração pública.
- a) 3 (três) meses
 - b) 6 (seis) meses
 - c) 12 (doze) meses
 - d) 24 (vinte e quatro) meses

Conhecimentos Específicos

41. Iamamoto (2009) afirma que “os (as) assistentes sociais atuam nas manifestações mais contundentes da questão social, tal como se expressam na vida dos indivíduos sociais de distintos segmentos das classes subalternas em sua relação com o bloco do poder e nas iniciativas coletivas pela conquista, efetivação e ampliação dos direitos de cidadania e das correspondentes políticas públicas.” Sobre os diversos espaços sociocupacionais em que atua o(a) assistente social na resposta a essas manifestações, analise as assertivas e assinale a alternativa correta.
- I. Os espaços ocupacionais do assistente social têm lugar no Estado – nas esferas do poder executivo, legislativo e judiciário –, em empresas privadas capitalistas, em organizações da sociedade civil sem fins lucrativos e na assessoria a organizações e movimentos sociais.
 - II. As incidências do trabalho profissional na sociedade não dependem apenas da atuação isolada do assistente social, mas do conjunto das relações e

- condições sociais por meio das quais ele se realiza.
- III. Nesses espaços ocupacionais, esses profissionais realizam assessorias, consultorias e supervisão técnica; contribuem na formulação, gestão e avaliação de políticas, programas e projetos sociais; atuam na instrução de processos sociais, sentenças e decisões, especialmente no campo sociojurídico; realizam estudos socioeconômicos e orientação social a indivíduos, grupos e famílias, predominantemente das classes subalternas; impulsionam a mobilização social desses segmentos e realizam práticas educativas; formulam e desenvolvem projetos de pesquisa e de atuação técnica, além de exercerem funções de magistério, direção e supervisão acadêmica.

- a) Apenas I e II estão corretas.
- b) Apenas II e III estão corretas.
- c) Todas estão corretas.
- d) Todas estão incorretas.

42. Segundo Yasbek (2009), para uma abordagem do Serviço Social no processo de reprodução das relações sociais, partimos da posição de que o significado social da profissão só pode ser desvendado em sua inserção na sociedade, ou seja, a análise da profissão, de suas demandas, tarefas e atribuições em si mesmas não permitem desvendar a lógica no interior da qual essas demandas, tarefas e atribuições ganham sentido. Assim sendo, é preciso ultrapassar a análise do Serviço Social em si mesmo para situá-lo no contexto de relações mais amplas que constituem a sociedade capitalista, particularmente, no âmbito das respostas que esta sociedade e o Estado constroem, frente à questão social e às suas manifestações, em múltiplas dimensões. Essas dimensões constituem a sociabilidade humana e estão presentes no cotidiano da prática profissional, condicionando-a e atribuindo-lhe características particulares. Nesse sentido, um conceito fundamental para a compreensão da profissão na sociedade capitalista é o conceito de reprodução social. Sobre o conceito de reprodução social, analise as assertivas e assinale a alternativa correta.

- I. A reprodução das relações sociais é entendida como a reprodução da totalidade da vida social, o que engloba não apenas a reprodução da vida material e do modo de produção, mas também a reprodução espiritual da sociedade e das formas de consciência social através das quais o homem se posiciona na vida social.
 - II. A reprodução das relações sociais é a reprodução de determinado modo de vida, do cotidiano, de valores, de práticas culturais e políticas e do modo como se produzem as ideias nessa sociedade.
 - III. Segundo a tradição marxista, o conceito de reprodução social se refere ao modo como são produzidas e reproduzidas as relações sociais na sociedade capitalista.
- a) Todas estão corretas.
 - b) Apenas I está correta.
 - c) Apenas II e III estão corretas.
 - d) Apenas III está correta.

43. Yasbek (2009) destaca a importância da Igreja Católica na estruturação do perfil do emergente Serviço Social no Brasil, sendo responsável pelo ideário, pelos conteúdos e pelo processo de formação dos primeiros assistentes sociais brasileiros. Sobre esse contexto, analise as assertivas e assinale a alternativa correta.
- I. Em 1932, é criado o Centro de Estudos e Ação Social (CEAS), entidade que seria fundadora e mantenedora da primeira Escola de Serviço Social do país. O Centro surge após um curso intensivo de “formação social para moças”, organizado pelas Cônegas de Santo Agostinho de 1º de abril a 15 de maio de 1932.
- II. Nesse momento, a "questão social" é vista a partir do pensamento social da Igreja, como questão econômica e cultural, como um conjunto de problemas sob a responsabilidade coletiva do Estado, embora situados dentro de relações capitalistas.
- III. Os referenciais orientadores do pensamento e da ação do emergente Serviço Social brasileiro têm sua fonte na Doutrina Social da Igreja, no ideário francobelga de ação social e no pensamento de São Tomás de Aquino.
- a) Todas estão corretas.
b) Todas estão incorretas.
c) Apenas I está correta.
d) Apenas I e III estão corretas.
44. Sobre o processo de constituição das principais matrizes do conhecimento e da ação do Serviço Social, Yasbek (2009) afirma que o questionamento ao referencial positivista tem início no contexto de mudanças econômicas, políticas, sociais e culturais que expressam, nos anos 1960, as novas configurações que caracterizam a expansão do capitalismo mundial, que impõem à América Latina um estilo de desenvolvimento excludente e subordinado. Sobre esse movimento de mudança, analise as assertivas e assinale a alternativa correta.
- I. A profissão assume as inquietações e insatisfações deste momento histórico e direciona seus questionamentos ao Serviço Social crítico através de um amplo movimento, de um processo de revisão global, em diferentes níveis: teórico, metodológico, operativo e político.
- II. Este movimento de renovação que surge no Serviço Social na sociedade latino-americana impõe aos assistentes sociais a necessidade de construção de um novo projeto comprometido com as demandas das classes subalternas, particularmente expressas em suas mobilizações.
- III. É no bojo deste movimento, de questionamentos à profissão, não homogêneos e em conformidade com as realidades de cada país, que a interlocução com o marxismo vai configurar para o Serviço Social latino-americano a apropriação de outra matriz teórica: a teoria social de Marx, embora essa apropriação se efetive em tortuoso processo.
- a) Apenas I e III estão corretas.
b) Apenas II e III estão corretas.
c) Todas estão corretas.
d) Todas estão incorretas.
45. Segundo Yasbek (2009), é no âmbito da adoção do marxismo como referência analítica, que se torna hegemônica no Serviço Social no Brasil, a abordagem da profissão como componente da organização da sociedade inserida na dinâmica das relações sociais participando do processo de reprodução dessas relações. Esse referencial, a partir dos anos 1980 e avançando nos anos 1990, vai imprimir direção ao pensamento e à ação do Serviço Social no país. Com relação aos desdobramentos da adoção do marxismo, analise as assertivas e assinale a alternativa correta.
- I. Esse referencial vai permear as ações voltadas à formação de assistentes sociais na sociedade brasileira (o currículo de 1982 e as atuais diretrizes curriculares); os eventos acadêmicos e aqueles resultantes da experiência associativa dos profissionais, como suas Convenções, Congressos, Encontros e Seminários; está presente na regulamentação legal do exercício profissional e em seu Código de Ética.
- II. Sob sua influência ganha visibilidade um novo momento e uma nova qualidade no processo de recriação da profissão na busca de sua ruptura com seu histórico conservadorismo e no avanço da produção de conhecimentos, nos quais a tradição marxista aparece hegemonicamente como uma das referências básicas.
- III. Obviamente, este processo de construção da hegemonia de novos referenciais teórico-metodológicos e interventivos, a partir da tradição marxista, para a profissão ocorre em um amplo debate em diferentes fóruns de natureza acadêmica e/ou organizativa, além de permear a produção intelectual da área. Trata-se de um debate plural, que implica na convivência e no diálogo de diferentes tendências, mas que supõe uma direção hegemônica.
- a) Todas estão corretas.
b) Todas estão incorretas.
c) Apenas II e III estão corretas.
d) Apenas I está correta.

46. Teixeira e Braz (2009) destacam que, num exercício de sistematização, podemos identificar os elementos constitutivos do projeto ético-político do Serviço Social e os componentes que o materializam no processo sócio histórico da profissão. São eles:
- I. o primeiro se relaciona com a explicitação de princípios e valores ético-políticos.
 - II. o segundo se refere à matriz teórico-metodológica em que se ancora.
 - III. o terceiro emana da crítica radical à ordem social vigente – a da sociedade do capital – que produz e reproduz a miséria ao mesmo tempo em que exibe uma produção monumental de riquezas.
 - IV. o quarto se manifesta nas lutas e posicionamentos políticos acumulados pela categoria através de suas formas coletivas de organização política em aliança com os setores mais progressistas da sociedade brasileira.
- Todos esses elementos constitutivos têm em sua base os componentes que lhe dão materialidade. Ou seja, aqueles elementos se objetivam e se expressam na realidade – podemos dizer: ganham visibilidade social – por meio de determinados componentes construídos pelos(as) próprios(as) assistentes sociais. Sobre tais componentes, informe se é verdadeiro (V) ou falso (F) para o que se afirma e assinale a alternativa com a sequência correta.
- () A produção de conhecimentos no interior do Serviço Social.
- () As instâncias político-organizativas da profissão.
- () A efetivação integral do projeto ético-político.
- () A dimensão jurídico-política da profissão.
- a) V – F – V – V.
 - b) V – V – F – V.
 - c) F – V – F – V.
 - d) V – F – F – V.
47. Sarmiento (2017) afirma que o trabalho e as formas de pensar sobre ele seguem as condições sócio-históricas em que os indivíduos vivem, implicando algumas dimensões que se compõem no campo das relações entre trabalho e sociedade de maneira geral, mas também, na particularidade do exercício profissional, quando o assistente social leva em conta a maneira como pensa e a forma como executa. Sobre tais dimensões, relacione as colunas e assinale a alternativa com a sequência correta.
1. Dimensão concreta.
 2. Dimensão gerencial.
 3. Dimensão socioeconômica.
 4. Dimensão ideológica.
 5. Dimensão simbólica.
- () Abrange os aspectos subjetivos da relação de cada indivíduo com o trabalho, seus valores e sua cultura.
- () Abrange a articulação entre o modo de realizar o trabalho e as estruturas sociais, econômicas e políticas no plano macro da sociedade.
- () Refere-se à tecnologia com a qual se pode contar para realizar o trabalho e às condições materiais e/ou ambientais em que se realiza.
- () Refere-se ao modo como o trabalho é gerido segundo e exercício das funções de planejar, organizar, dirigir e controlar.
- () Consiste no discurso elaborado e articulado sobre o trabalho, no nível coletivo e societal, justificando o entrelaçamento das demais dimensões, especialmente as relações de poder.
- a) 1 – 2 – 3 – 4 – 5.
- b) 5 – 4 – 3 – 2 – 1.
- c) 5 – 3 – 1 – 2 – 4.
- d) 3 – 5 – 2 – 4 – 1.
48. Sobre os Princípios Fundamentais do Código de Ética do/a Assistente Social, analise as assertivas e assinale a alternativa correta.
- I. O assistente social precisa se contrapor a condutas autoritárias e arbitrárias impostas por autoridades superiores que violam o Código de Ética, uma vez que negam os princípios afirmados e reafirmados em toda a atuação profissional.
 - II. O Serviço Social se encontra totalmente comprometido no processo de ampliação e consolidação da cidadania, mediado pelo conflito capital e trabalho e pelos reflexos da reprodução da desigualdade, presentes nos espaços sociocupacionais.
 - III. O princípio de defesa do aprofundamento da democracia destaca um elemento fundamental da democracia real ao indicar que tal defesa também tem sua expressão na socialização da riqueza socialmente produzida. Ou seja, para que haja democracia é imprescindível que a riqueza produzida seja socializada, seja distribuída entre aqueles que participam do processo de trabalho e de produção de qualquer bem.
- a) Todas estão corretas.
 - b) Todas estão incorretas.
 - c) Apenas I está correta.
 - d) Apenas II está correta.
49. São competências do Conselho Federal de Serviço Social, exceto:
- a) zelar pela observância dos princípios e diretrizes do Código de Ética, fiscalizando as ações dos Conselhos Regionais e a prática exercida pelos profissionais, instituições e organizações na área do Serviço Social.
 - b) introduzir alteração no Código de Ética, através de uma ampla participação da categoria, num processo desenvolvido em ação conjunta com os Conselhos Regionais.
 - c) como Tribunal Superior de Ética Profissional, firmar jurisprudência na observância do Código de Ética e nos casos omissos.
 - d) zelar pela observância dos princípios e diretrizes do Código de Ética e funcionar como órgão julgador de primeira instância.

50. Em relação aos direitos do(a) assistente social em sua relação com Entidades da Categoria e demais organizações da Sociedade Civil, analise as assertivas e assinale a alternativa correta.
- I. Participar em sociedades científicas e entidades representativas e de organização da categoria que tenham por finalidade, respectivamente, a defesa e a fiscalização do exercício profissional.
- II. Denunciar ao Conselho Regional as instituições públicas ou privadas, onde as condições de trabalho não sejam dignas ou possam prejudicar os/as usuários/as ou profissionais.
- III. Apoiar e/ou participar dos movimentos sociais e organizações populares vinculados à luta pela consolidação e ampliação da democracia e dos direitos de cidadania.
- a) Todas estão corretas.
b) Todas estão incorretas.
c) Apenas I e III estão corretas.
d) Apenas II e III estão corretas.
51. Sobre as relações do(a) assistente social com a Justiça, analise as assertivas e assinale a alternativa correta.
- I. É dever do(a) assistente social apresentar à justiça, quando convocado na qualidade de perito ou testemunha, as conclusões do seu laudo ou depoimento, sem extrapolar o âmbito da competência profissional e violar os princípios éticos contidos no Código de Ética.
- II. É vedado ao assistente social depor como testemunha sobre situação sigilosa do(a) usuário(a) de que tenha conhecimento no exercício profissional, mesmo quando autorizado.
- III. É dever do(a) assistente social comparecer perante a autoridade competente, quando intimado(a) a prestar depoimento, para declarar que está obrigado(a) a guardar sigilo profissional nos termos do Código de Ética e da Legislação em vigor.
- a) Todas estão corretas.
b) Todas estão incorretas.
c) Apenas I está correta.
d) Apenas II está correta.
52. De acordo com a Lei de Regulamentação da Profissão (Lei 8.662/1993), são atribuições privativas do Serviço Social, exceto:
- a) coordenar, elaborar, executar, supervisionar e avaliar estudos, pesquisas, planos, programas e projetos na área de Serviço Social.
b) encaminhar providências, e prestar orientação social a indivíduos, grupos e à população.
c) assessoria e consultoria e órgãos da Administração Pública direta e indireta, empresas privadas e outras entidades, em matéria de Serviço Social.
d) fiscalizar o exercício profissional através dos Conselhos Federal e Regionais.
53. Em relação aos princípios que devem nortear as ações e serviços públicos de saúde e os serviços privados contratados ou conveniados que integram o Sistema Único de Saúde (SUS), informe se é verdadeiro (V) ou falso (F) para o que se afirma e assinale a alternativa com a sequência correta.
- () Universalidade de acesso aos serviços de saúde em todos os níveis de assistência.
() Igualdade da assistência à saúde, sem preconceitos ou privilégios de qualquer espécie.
- () Direito à informação, às pessoas assistidas, sobre sua saúde.
() Participação da comunidade.
a) V – V – V – F.
b) V – F – V – F.
c) V – V – V – V.
d) F – F – F – V.
54. Sobre as disposições da Lei 8.080/1990, em relação ao funcionamento dos serviços privados de assistência à saúde, analise as assertivas e assinale a alternativa correta.
- I. Os serviços privados de assistência à saúde caracterizam-se pela atuação, por iniciativa própria, de profissionais liberais, legalmente habilitados, e de pessoas jurídicas de direito privado na promoção, proteção e recuperação da saúde.
- II. A assistência à saúde é livre à iniciativa privada.
- III. Na prestação de serviços privados de assistência à saúde, serão observados os princípios éticos e as normas expedidas pelo órgão de direção do Sistema Único de Saúde (SUS) quanto às condições para seu funcionamento.
- a) Apenas I está correta.
b) Apenas II e III estão corretas.
c) Todas estão corretas.
d) Todas estão incorretas.
55. Assinale a alternativa que apresenta, incorretamente, um dos Direitos Fundamentais de crianças e adolescentes previstos no Estatuto da Criança e do Adolescente (Lei 8.069/1990).
- a) Direito à vida e à saúde.
b) Direito à liberdade, ao respeito e à dignidade.
c) Direito à convivência familiar e comunitária.
d) Direito à educação protegida.
56. Sobre o que dispõe o Estatuto da Criança e do Adolescente (Lei 8.069/1990) em relação à adoção, analise as assertivas e assinale a alternativa correta.
- I. A adoção é medida excepcional e irrevogável, à qual se deve recorrer apenas quando esgotados os recursos de manutenção da criança ou adolescente na família natural ou extensa.
- II. Em caso de conflito entre direitos e interesses do adotando e de outras pessoas, inclusive seus pais biológicos, devem prevalecer os direitos e os interesses dos pais biológicos.
- III. O adotando deve contar com, no máximo, dezessete anos à data do pedido, salvo se já estiver sob a guarda ou tutela dos adotantes.
- a) Apenas I está correta.
b) Apenas I e III estão corretas.
c) Todas estão corretas.
d) Todas estão incorretas.
57. Sobre as linhas de ação da Política de Atendimento à Pessoa Idosa, assinale a alternativa correta.
- a) Oferecer instalações físicas em condições adequadas de habitabilidade, higiene, salubridade e segurança.
b) Serviços especiais de prevenção e atendimento às vítimas de negligência, maus-tratos, exploração, abuso, crueldade e opressão.
c) Apresentar objetivos estatutários e plano de trabalho compatíveis com os princípios da Lei.
d) Preservação dos vínculos familiares.

- 58. Em relação às obrigações das entidades de atendimento à pessoa idosa, analise as assertivas e assinale a alternativa correta.**
- I. Observar os direitos e as garantias de que são titulares as pessoas idosas.**
 - II. Oferecer instalações físicas em condições adequadas de habitabilidade.**
 - III. Fornecer vestuário adequado, se for pública, e alimentação suficiente.**
- a) Todas estão corretas.
 - b) Todas estão incorretas.
 - c) Apenas I está correta.
 - d) Apenas I e III estão corretas.
- 59. Assinale a alternativa que completa corretamente as lacunas.**
A gestão das ações na área de assistência social fica organizada sob a forma de sistema _____ e _____, denominado Sistema Único de Assistência Social (SUAS).
- a) centralizado / participativo
 - b) participativo / regionalizado
 - c) descentralizado / participativo
 - d) regionalizado / descentralizado
- 60. Assinale a alternativa que apresenta, corretamente, unidades públicas previstas na Lei Orgânica da Assistência Social (Lei 8.742/1993).**
- a) Unidade Básica de Assistência e CREAS.
 - b) CRAS e Centro de Atendimento Social.
 - c) Unidade Básica de Assistência e Centro de Atendimento Social.
 - d) CRAS e CREAS.

