

CARGO: TERAPEUTA OCUPACIONAL

PERÍODO TARDE

CONCURSO PÚBLICO Nº 002/2023 PREFEITURA MUNICIPAL DE FAZENDA RIO GRANDE

Atenção: Confira seu cargo e leia todas as instruções constantes no seu Caderno de Questões e Folha de Respostas.

1. Seu caderno deve conter 60 (sessenta) questões, com 04 (quatro) alternativas, assim dispostas:

Disciplina	Composição
Língua Portuguesa	1 a 10
Matemática/Raciocínio Lógico	11 a 20
Informática Básica	21 a 30
Conhecimentos Gerais e Atualidades	31 a 40
Conhecimentos Específicos	41 a 60

2. A Prova terá duração de 3h e 30min (três horas e trinta minutos), incluindo preenchimento da Folha de Respostas.
3. Após sua identificação, você deverá permanecer dentro da sala, sendo permitida a saída somente acompanhado de um fiscal e após 30min (trinta minutos) do início da prova.
4. Para uso do sanitário e/ou beber água, você deverá solicitar ao Fiscal de Sala e somente levantar após autorização.
5. O candidato só poderá sair da sala em definitivo após 1h (uma hora) do início da prova.
6. Ao deixar a sala definitivamente, não poderá utilizar o sanitário dos candidatos que ainda estão realizando prova, e só poderá levar o Caderno de Questões restando 1h (uma hora) para o final da prova.
7. Enquanto estiver realizando a Prova é proibido utilizar materiais de consulta, livros, apostilas, calculadoras, régua, quaisquer equipamentos eletrônicos, chapéus, bonés, e/ou similares, conforme constante no edital de abertura. Caso o fiscal constate alguma irregularidade irá anotar em Ata da Sala, para devidas providências da Comissão Organizadora.
8. Sobre sua carteira deverá permanecer somente documento oficial original com foto, caneta de tinta azul ou preta de corpo transparente, Caderno de Questões e Folha de Respostas.
9. Você poderá utilizar seu Caderno de Questões para rascunho.
10. Você receberá do Fiscal de Sala a Folha de Respostas definitiva. Confira seus dados e em caso de erro, chame o fiscal. Após conferir, **assine no campo destinado à assinatura do candidato**. Em hipótese alguma ela será substituída caso o candidato dobre, amasse, rasgue ou molhe. Cuidado, pois esse será o único documento válido para correção.
11. Caso algum equipamento eletrônico emita som, mesmo que desligado e lacrado no plástico de pertences, o candidato portador do equipamento será automaticamente eliminado do concurso.
12. Transcreva suas respostas para Folha de Respostas com caneta de tinta azul ou preta de corpo transparente. **Atenção:** verifique na Folha de Respostas a forma correta de preenchimento.
13. Questões com mais de uma alternativa assinalada, rasurada, em branco ou preenchidas de forma diferente das instruções serão anuladas.
14. Após terminar sua Prova avise o Fiscal, pois ele autorizará a entrega da sua Folha de Respostas e Caderno de Questões, se for o caso.
15. Caso algum candidato seja flagrado na tentativa de fraude, esse será automaticamente eliminado do Concurso, ainda sujeito a processo civil ou criminal.
16. Qualquer questionamento ou dúvidas devem ser feitos em voz alta ao fiscal.
17. Os 03 (três) últimos candidatos deverão sair juntos da sala, após a conferência e lacre do material da sala.
18. Aguarde a autorização do Fiscal para iniciar sua Prova.

-----DESTAQUE AQUI-----

01	02	03	04	05	06	07	08	09	10	11	12	13	14	15	16	17	18	19	20
21	22	23	24	25	26	27	28	29	30	31	32	33	34	35	36	37	38	39	40
41	42	43	44	45	46	47	48	49	50	51	52	53	54	55	56	57	58	59	60

Língua Portuguesa

Leia o texto para responder as questões.

É possível uma moeda só?

Sonho dos viajantes compulsivos, a moeda única pode diminuir cada vez mais as barreiras geográficas, só que questões culturais e econômicas podem jogar a ideia no ralo
Por Augusto Decker e Pedro Borg

Sim: Com a integração crescente dos sistemas financeiros, é possível imaginar uma moeda única ou regional, como é o euro hoje.

Por que sim?

A ideia de uma moeda única vem sendo defendida como uma maneira de transformar a tendência de integração financeira internacional em realidade, uma vez que hoje a economia trabalha quase sem fronteiras. Seria um cenário dos sonhos para viajantes compulsivos, já que as tediosas idas às casas de câmbio seriam extintas.

Além da questão da praticidade, existe a vantagem de que acabariam os problemas de especulação cambial – como os chamados ataques especulativos que ocorreram ao longo da história. Não faria sentido tentar desvalorizar uma moeda única.

“Um mundo com uma única moeda evitaria especulação. A diferença seria na oferta de preços. Em países mais ricos, haveria mais dinheiro. Logo, as coisas seriam mais caras. O oposto aconteceria em países mais pobres”, defende a futuróloga brasileira Lala Deheinzelin.

Não: Como atingir um consenso global de uma política monetária única? Muitos interesses e barreiras teriam de ser amplamente debatidos.

Por que não?

Os futurologistas acreditam na hipótese da moeda única. Mas nenhum dos economistas entrevistados pensa que esse seja o caminho para melhorar a situação financeira mundial. “O controle do dinheiro será de quem controla sua emissão”, alerta o mestre em economia Rubens Sawaya. “Independente se for uma instituição, um país ou a ONU, quem controlar essa moeda controlará a liquidez do dinheiro no mundo.”

É como se, dessa maneira, todo o dinheiro no mundo tivesse o mesmo valor, o que configura um problema para países da periferia mundial, diz o economista. É a taxa de câmbio, ou a moeda mais barata, que faz os países mais pobres conseguirem manter seu produto competitivo ante os produzidos em países com economias maiores. “A vantagem de não ter uma moeda única é controlar a liquidez dos seus ativos em relação aos ativos de outros países”, explica Sawaya.

A noção de que seria quase impossível chegar a uma moeda global também é corroborada pelo economista Gerson Caner. Para ele, o caminho passa por moedas regionais, como o euro. “Uma moeda global tem uma série de obstáculos geopolíticos e culturais. Ela mexeria com conceitos macroeconômicos arraigados, além do funcionamento de bancos centrais”, explica. “Imagine as nações mais poderosas tendo de negociar uma paridade única de uma moeda global?”

Disponível em <https://infograficos.estadao.com.br/focas/por-minha-conta/materia/e-possivel-uma-moeda-so/>

1. **Análise: “Imagine as nações mais poderosas tendo de negociar uma paridade única de uma moeda global?” E assinale a alternativa correta.**

- a) Não há preposições nesse trecho.
- b) “Poderosas” está grafado incorretamente.
- c) Há um verbo no Modo Imperativo.
- d) Não há numeral, apenas artigos.

2. **Análise: “A ideia de uma moeda única vem sendo defendida como uma maneira de transformar a tendência de integração financeira internacional em realidade” e assinale a alternativa que apresenta o núcleo do sujeito desse trecho.**

- a) Moeda.
- b) Financeira.
- c) Tendência.
- d) Ideia.

3. **Análise: “A ideia de uma moeda única vem sendo defendida como uma maneira de transformar a tendência de integração financeira internacional em realidade, uma vez que hoje a economia trabalha quase sem fronteiras. Seria um cenário dos sonhos para viajantes compulsivos, já que as tediosas idas às casas de câmbio seriam extintas.” E assinale a alternativa incorreta.**

- a) Após “hoje”, poderia utilizar uma vírgula.
- b) A crase deste trecho está incorreta.
- c) A vírgula antes de “já que” está correta.
- d) “Vem sendo defendida” é uma locução verbal.

4. **O uso de verbos no Futuro do Pretérito do Modo Indicativo indica que**

- a) algo poderia acontecer após uma situação do passado; no entanto, é uma incerteza.
- b) é uma certeza do que acontecerá caso tenhamos uma moeda global.
- c) uma moeda global seria um desastre.
- d) é uma ordem e deve ser cumprida.

5. **Para que o trecho a seguir, tenha um sujeito oculto, qual adaptação seria necessária?**

“Os futurologistas acreditam na hipótese da moeda única.”

- a) Isso não é possível fazer.
- b) Acrescentar ao trecho “alguns” antes de “futurologistas”.
- c) Retirar do trecho “os futurologistas”.
- d) Substituir “os futurologistas” por “eles”.

6. **Análise: “quem controlar essa moeda controlará a liquidez do dinheiro no mundo” e assinale a alternativa que apresenta a classificação correta desta oração.**

- a) Oração Subordinada Adverbial Causal.
- b) Oração Subordinada Adverbial Conformativa.
- c) Oração Subordinada Adverbial Consecutiva.
- d) Oração Subordinada Adverbial Final.

7. **Assinale a alternativa cujo trecho a seguir foi reescrito de maneira que não altere seu sentido.**

“Além da questão da praticidade, existe a vantagem de que acabariam os problemas de especulação cambial”

- a) “Portanto, da questão da praticidade, existe a vantagem de que acabariam os problemas de especulação cambial”
- b) “Em conformidade com a questão da praticidade, existe a vantagem de que acabariam os problemas de especulação cambial”
- c) “Sendo a questão da praticidade, existe a vantagem de que acabariam os problemas de especulação cambial”
- d) “Ademais da questão da praticidade, existe a vantagem de que acabariam os problemas de especulação cambial”

8. Analise: “É a taxa de câmbio, ou a moeda mais barata, que faz os países mais pobres conseguirem manter seu produto competitivo ante os produzidos em países com economias maiores.” E assinale a alternativa que apresenta a conjugação correta do verbo “fazer”, caso a conjunção “ou” fosse substituída por “e”.

- a) Fazem.
- b) Faz.
- c) Fazemos.
- d) Fazeis.

9. Assinale a alternativa que apresenta a figura de linguagem correta para a expressão “jogar a ideia no ralo”.

- a) Metáfora.
- b) Eufemismo.
- c) Ironia.
- d) Gradação.

10. De acordo com o texto, é possível afirmar que

- a) a comercialização global já é sem fronteiras.
- b) a economia global ainda enfrenta fronteiras.
- c) a escolha de uma moeda global ficará na mão de um único país.
- d) em países ricos, os produtos serão mais baratos.

Matemática/Raciocínio Lógico

11. Considere verdadeira a declaração: “Todos os cachorros caramelos são vira-latas.” Com base nessa declaração, assinale a alternativa que corresponde a uma argumentação correta.

- a) Bob é um cachorro vira-lata, portanto é caramelo.
- b) Bob é um cachorro vira-lata, portanto não é caramelo.
- c) Rex é um cachorro caramelo, portanto é vira-lata.
- d) Rex é um cachorro caramelo, portanto não é vira-lata.

12. Em uma pesquisa de mercado, foram entrevistadas 300 pessoas sobre a preferência delas pelas marcas de café A e B. Do total de entrevistados, 10% consomem as duas marcas; 15% consomem apenas a marca A e 30% consomem apenas a marca B. O restante dos entrevistados não consome nenhuma das duas marcas. Quantas pessoas não consomem as marcas de café A e B?

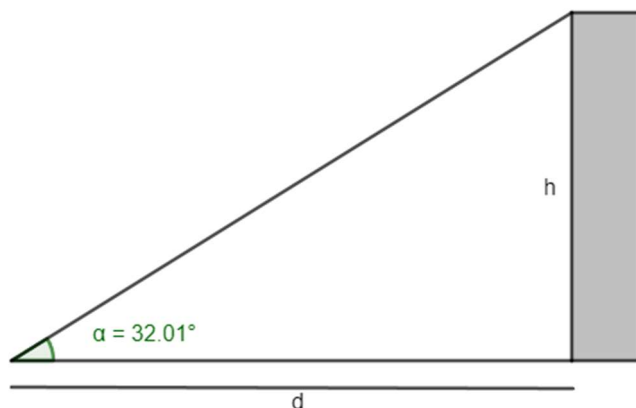
- a) 165.
- b) 155.
- c) 145.
- d) 135.

13. O volume de um tronco de pirâmide de 6 cm de altura e cujas áreas das bases são iguais a 25 cm^2 e 16 cm^2 corresponde a

- a) 122 cm^3
- b) 128 cm^3
- c) 132 cm^3
- d) 136 cm^3

14. A uma distância de $d = 60 \text{ m}$ uma torre é vista sob um ângulo α , como mostra a figura.

Calcule a altura h da torre em metros. Considere $\text{tg } 32,01^\circ = 0,625$.



- a) 37,5 m
- b) 36,6 m
- c) 35,4 m
- d) 34,3 m

15. Em determinado estacionamento cobra-se R\$ 5,00 por hora que o veículo permanece estacionado, somado a uma taxa fixa de R\$ 3,50. Seja t o número de horas que um veículo permanece estacionado e P o preço a ser pago, assinale a seguir a equação que descreve, em reais, o valor de P .

- a) $P = 5 \cdot t$
- b) $P = 5 \cdot t + 3,50$
- c) $P = 3,5 \cdot t + 5$
- d) $P = 3,5 \cdot t + 3,5$

16. Considere a função $f(x) = \log_2(x + 5)$, é possível afirmar que

- a) a função pode ser definida somente para x maior ou igual a 5.
- b) a função pode ser definida somente para x maior ou igual a -5.
- c) a função pode ser definida somente para valores de x maiores que -5.
- d) a função pode ser definida somente para valores de x menores que -5.

17. Considere um prisma de base hexagonal com a medida do lado igual a 4 cm, e altura igual a 10 cm. O volume do prisma é de

- a) $40\sqrt{3} \text{ cm}^3$
- b) $100\sqrt{3} \text{ cm}^3$
- c) $180\sqrt{3} \text{ cm}^3$
- d) $240\sqrt{3} \text{ cm}^3$

18. Considere as matrizes $A = \begin{bmatrix} 2 & 1 & 4 \\ 3 & 1 & -2 \end{bmatrix}$ e $B = \begin{bmatrix} 1 & 0 \\ 2 & -1 \\ -1 & -3 \end{bmatrix}$. Assinale a alternativa que apresenta a matriz transposta de $A \times B$.

- a) $\begin{bmatrix} 0 & -13 \\ 7 & 5 \end{bmatrix}$
 b) $\begin{bmatrix} 5 & -13 \\ 7 & 0 \end{bmatrix}$
 c) $\begin{bmatrix} 0 & 7 \\ -13 & 5 \end{bmatrix}$
 d) $\begin{bmatrix} -13 & 0 \\ 5 & 7 \end{bmatrix}$

19. O ponto $A(m + 1; 2m - 3)$ pertence à bissetriz dos quadrantes pares. Então, o valor de m é

- a) 2.
 b) 3.
 c) 4.
 d) 5.

20. Considere a função $f(x) = \sqrt{\frac{x+3}{x-1}}$, assinale a alternativa que apresenta corretamente o domínio da função $f(x)$.

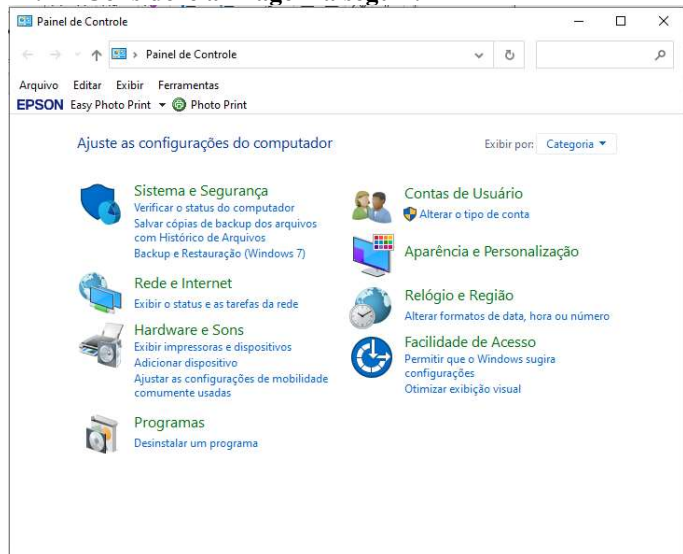
- a) $D(f) = (-\infty, -3] \cup (1, +\infty)$
 b) $D(f) = (-\infty, -3] \cup (1, +\infty)$
 c) $D(f) = (-\infty, -1] \cup (3, +\infty)$
 d) $D(f) = (-\infty, -3) \cup (1, +\infty)$

Informática Básica

21. Navegador é um software que facilita a navegação na internet. Existem diferentes navegadores que podem ser usados dependendo do dispositivo e do sistema operacional. Pautando-se nessas informações, assinale a alternativa que apresenta somente nomes de navegadores.

- a) Opera – Mozilla Firefox – Safari – Edge.
 b) Google Chrome – Edge – Internet Explorer – Google.
 c) Safari – Edge – Bing – Opera.
 d) Google – Mozilla Firefox – Edge – Opera.

22. Considere a imagem a seguir:



Fonte: Painel de Controle – Windows 10.

A respeito do Painel de Controle do Windows 10, informe se é verdadeiro (V) ou falso (F) e assinale a alternativa com a sequência correta.

- () Uma forma fácil de abrir o Painel de Controle no Windows 10 é abrir o menu Iniciar e simplesmente digitar "Painel de Controle".
 () Ao clicar em "Exibir por", o usuário pode alterar o modo de exibição do painel de controle para: ícones grandes, ícones médios e ícones pequenos.
 () O painel de controle só pode ser acessado no modo de segurança do Windows.
 () Programas e recursos podem ser removidos através do painel de controle.
 a) V – V – F – V.
 b) V – F – F – F.
 c) V – F – F – V.
 d) F – F – F – V.

23. Dados e valores podem ser exibidos graficamente usando o Excel 365. O Excel dispõe de uma variedade de tipos de gráficos que podem ser utilizados de acordo com a necessidade do usuário. Sendo assim, analise os gráficos a seguir:

Gráfico 1

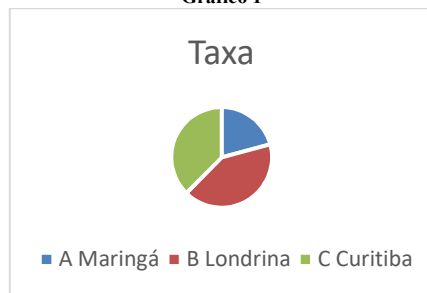


Gráfico 2

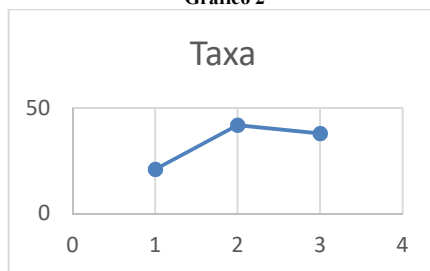



Gráfico 3



Fontes: Exemplos de gráficos. Microsoft Excel 365.

Pautando-se nas informações disponíveis nas imagens, assinale a alternativa com a sequência correta com os tipos de gráficos apresentados.

- a) (I) Gráfico de Pizza – (II) Gráfico de Linha – (III) Gráfico de Radar.
 b) (I) Gráfico de Pizza – (II) Gráfico de Dispersão – (III) Gráfico de Área.
 c) (I) Gráfico de Pizza – (II) Gráfico Histograma – (III) Gráfico de Radar.
 d) (I) Gráfico de Pizza – (II) Gráfico de Dispersão – (III) Gráfico Mapa de Árvore.

24. O Microsoft Excel 365 contém 9 guias, entre elas temos: Página Inicial, Fórmulas e Dados. Em qual guia do Excel 365 estão localizados os grupos Gráficos e Tabelas?

- a) Guia Dados.
- b) Guia Exibir.
- c) Guia Arquivo.
- d) Guia Inserir.

25. Considere a imagem a seguir:

O Microsoft Word oferece aos usuários muitas possibilidades e opções para a formatação de textos.

Fonte: Microsoft Word 365.

A partir das informações apresentadas na imagem, analise as assertivas e assinale a alternativa correta:

- I. A frase acima contém palavras destacadas em: **negrito, itálico, sublinhado e taxado.**
 - II. A parte “aos usuários muitas” está em **itálico e sublinhado.**
 - III. A parte “para a formatação de textos” está com **taxado duplo.**
 - IV. A parte “para a formatação de textos” está **sobrescrita.**
- a) Apenas I está correta.
 - b) Apenas I e II estão corretas.
 - c) Apenas II e III estão corretas.
 - d) Apenas I, II e III estão corretas.

26. Considere a imagem a seguir:

Microsoft Word é um software que é usado principalmente para escrever textos no computador. Você pode escrever, salvar, recordar e imprimir textos em diferentes idiomas ou reutilizá-los em outros aplicativos.

Fonte: Microsoft Word 365.

Qual recurso foi utilizado na letra M em destaque no texto?

- a) Negrito.
- b) Capítular.
- c) Word Art.
- d) Aumentar tamanho da fonte.

27. Quando se alterna de um slide para o próximo em uma apresentação do PowerPoint, não costuma ser uma experiência muito emocionante. O recurso transição de slides pode tornar as apresentações mais emocionantes e interessantes. Sendo assim, assinale a alternativa que melhor define o que é transição de slides.

- a) É o efeito visual que ocorre quando se passa de um slide para outro durante uma apresentação.
- b) É um efeito especial que se aplica a um único elemento do slide e pode ser replicado para os outros slides.
- c) Pode ser definido como a lista de animações disponíveis no PowerPoint que colocam em movimento os objetos.
- d) É a ação a ser realizada quando o usuário clica ou passa o mouse sobre um objeto do slide. Por exemplo, ao clicar o texto ou objeto aparece.

28. O primeiro vírus para computadores comemora em 2023 seu aniversário de 52 anos. Ele foi criado por Bob Thomas em 1971 no PDP-10, um computador de grande porte. No início da era da informática, não havia a pretensão de infectar ou roubar informações de usuários com esses aplicativos, mas apenas irritá-los com mensagens ou pequenas alterações no sistema.

De posse dessas informações, assinale a alternativa correta com o nome do primeiro vírus de computador.

- a) Bots.
- b) Brain.
- c) Creeper.
- d) Reaper.

29. Um vírus pode ser definido como um programa de computador malicioso cujo objetivo é interromper o funcionamento normal de um sistema de computador sem o conhecimento de seu proprietário. Existem diferentes tipos de vírus como Ransomware, Spyware, Keylogger etc. Considerando os tipos de vírus e características a seguir, correlacione as colunas e assinale a alternativa correta.

- 1. Worms.
 - 2. Backdoor.
 - 3. Adware.
 - 4. Phishing.
- () Cria uma cópia de si mesmo e envia aos outros usuários.
 - () Engana o usuário para conseguir informações confidenciais como: senhas e o número de cartões de crédito.
 - () Exibe uma grande quantidade de anúncios indesejados sem a permissão do usuário.
 - () Permite que usuários acessem um sistema, rede ou software, ignorando as medidas de segurança convencionais.
- a) 1 – 4 – 3 – 2.
 - b) 2 – 4 – 1 – 3.
 - c) 3 – 1 – 2 – 4.
 - d) 4 – 1 – 3 – 2.

30. _____ é uma área de armazenamento temporário onde arquivos ou pastas são armazenados antes de serem copiados para o novo local. Desde a atualização do Windows 10 em 2018, o sistema tem uma nova opção para gerenciar _____. Um recurso muito útil que permite aos usuários acessar _____ de cópias, sejam textos ou mesmo imagens. Assinale a alternativa que preencha corretamente as lacunas.

- a) Pastas / os diretórios / o histórico
- b) A lixeira / a área de transferência / memória
- c) A área de trabalho / o histórico / o histórico.
- d) A área de transferência / a área de transferência / o histórico

Conhecimentos Gerais e Atualidades

31. Os direitos humanos buscam estabelecer condições mínimas de vida e dignidade para qualquer ser humano, em qualquer país. No Brasil, a Constituição de 1988 tratou de estabelecer direitos e deveres para todos os brasileiros e estrangeiros que vivem no país, em busca de uma sociedade mais igualitária e justa. Qual documento inspirou a criação dos direitos e deveres elencados na CF 88?

- a) Constituição Cidadã de 1967.
- b) Declaração Universal dos Direitos Humanos de 1948.
- c) Guia de orientação das Nações Unidas no Brasil para denúncias de discriminação étnico-racial.
- d) Constituição dos Estados Unidos da América.

32. Sobre a Constituição de 1988, assinale a alternativa que preencha corretamente as lacunas.
A Constituição de 1988 foi resultado da _____ empossada em 1987. É considerada o marco que inaugurou o período democrático do Brasil conhecido como _____ e foi formulada atendendo a diversos interesses e demandas da população brasileira. Seu texto final foi promulgado por _____, o presidente da Constituinte, e é considerado bastante _____ em relação às questões sociais e garantias das liberdades individuais. Apesar disso, a Constituição sofre _____ de juristas e intelectuais.
- a) Assembleia Legislativa / Ditadura / Ulysses Guimarães / avançado / críticas
b) Assembleia Constituinte / Nova República / Ulysses Guimarães / avançado / críticas
c) Comitativa da ONU / Velha República / José Sarney / conservador / elogios
d) Ditadura / República Federativa / José Sarney / conservador / elogios
33. Em fevereiro de 2023, o presidente dos EUA, Joe Biden, recebeu o presidente Luiz Inácio Lula da Silva (PT) na Casa Branca. Os dois conversaram brevemente e posaram para fotos, antes de entrarem na sede do governo americano para uma reunião. Após essa reunião, que foi a principal medida anunciada divulgada?
<https://noticias.uol.com.br/internacional/>
- a) Aporte de US\$50 milhões, ou R\$ 270 milhões, para o Fundo Amazônia.
b) Aporte de US\$50 milhões, ou R\$ 270 milhões, para a erradicação da pobreza no Brasil.
c) União de forças entre os países para incentivar o fim da guerra na Ucrânia.
d) Colaboração entre os países para realização de intercâmbio de tecnologia para o combate ao tráfico de drogas.
34. Moradores de centenas de aldeias na Floresta Amazônica se tornaram vítimas da maior crise humanitária do país neste século. Segundo vários relatos, esse povo indígena foi vítima do garimpo ilegal, violência sexual, doenças e morte para adultos e crianças, estes fatos vieram à tona em 2023. Qual o povo indígena descrito no texto acima?
- a) Caingangues.
b) Xavantes.
c) Yanomami.
d) Pataxós.
35. Após os deslizamentos de terra nas BR-376 e BR-277 causados pelas chuvas que prejudicaram o Paraná, outra região do país foi castigada pelas chuvas intensas, deslizamentos de terra e várias mortes foram registradas. A cidade mais atingida foi São Sebastião. Qual a região descrita no trecho acima?
- a) Litoral norte de Santa Catarina.
b) Litoral sul do Rio Grande do Sul.
c) Região dos lagos no Rio de Janeiro.
d) Litoral norte de São Paulo.
36. Sobre a Lei Orgânica de Fazenda Rio Grande, informe se é verdadeiro (V) ou falso (F) para o que se afirma e assinale a alternativa com a sequência correta.
- () É vedado ao município exigir ou aumentar tributos sem lei que o estabeleça.
() A Lei Orgânica Municipal poderá ser emendada mediante propostas de um terço, no mínimo, dos membros da Câmara Municipal; do Prefeito Municipal; de iniciativa popular.
() O servidor público estável só perderá o cargo em virtude de sentença judicial transitada em julgado e/ou mediante processo administrativo em que não lhe seja assegurada ampla defesa.
() A pessoa jurídica em débito com o sistema de seguridade social, como estabelecido em lei federal, ou ainda, em débito com a Fazenda Municipal ou Estadual, não poderá contratar com o Poder Público Municipal, contudo, poderá dele receber benefícios ou incentivos fiscais ou creditícios, a fim de quitação de dívida.
- a) F – V – F – F.
b) V – V – V – F.
c) F – F – V – F.
d) V – V – F – F.
37. Ao Município de Fazenda Rio Grande compete prover a tudo quanto diga respeito ao seu peculiar interesse e ao bem-estar de sua população, cabendo-lhe, privativamente, dentre outras, as seguintes atribuições:
- I. legislar sobre assuntos de interesse difuso.
II. suplementar a legislação federal e a estadual, no que couber.
III. elaborar Plano Diretor de Desenvolvimento Integrado e mantê-lo sempre atualizado em face do seu desenvolvimento, observado, para tanto, para entrada em vigor de suas alterações, o prazo de 12 (doze) meses contados de sua elaboração.
IV. criar, organizar e suprimir Distritos, observada a legislação estadual e a Lei Orgânica.
V. manter, com a cooperação técnica e financeira da União e do Estado, programas de educação em todos os níveis, observadas as prescrições das Constituições Federal e Estadual.
VI. elaborar o orçamento anual e plurianual de investimentos.
VII. instituir e arrecadar tributos, bem como aplicar as suas receitas.
VIII. fixar, fiscalizar e cobrar tarifas ou preços públicos.
IX. dispor sobre organização, administração e execução dos serviços locais.
X. dispor sobre administração e utilização dos bens públicos.
- a) Somente cinco estão corretas.
b) Somente seis estão corretas.
c) Somente sete estão corretas.
d) Somente oito estão corretas.

38. De acordo com o artigo 42 da Lei Orgânica de Fazenda Rio Grande, o processo legislativo municipal compreende a elaboração de:
- I. emendas à Lei Orgânica Municipal.
 - II. ações diretas de inconstitucionalidade.
 - III. leis complementares.
 - IV. leis ordinárias.
 - V. leis delegadas.
 - VI. resoluções.
 - VII. decretos legislativos.
- a) Somente seis estão corretas.
 - b) Somente cinco estão corretas.
 - c) Somente quatro estão corretas.
 - d) Somente três estão corretas.

39. Sobre a seção IV da Lei Orgânica de Fazenda Rio Grande - Dos Auxiliares Diretos do Prefeito, assinale a alternativa correta. São condições essenciais para a investidura no cargo de Gerente, Diretor ou equivalente:
- I. ser brasileiro.
 - II. estar no exercício dos direitos políticos.
 - III. ser maior de 21 (vinte e um) anos.
 - IV. ser funcionário concursado do município.
 - V. ter conduta social ilibada.
- a) Todas estão corretas.
 - b) Somente uma está correta.
 - c) Somente duas estão corretas.
 - d) Somente três estão corretas.

40. De acordo com o artigo 91 da Lei Orgânica de Fazenda Rio Grande, assinale a alternativa que preencha corretamente a lacuna. O Prefeito, o Vice-Prefeito, os Vereadores Municipais e seus respectivos cônjuges, não poderão contratar, direta ou indiretamente com o Município, persistindo essa proibição até _____ após findar as funções exercidas no âmbito da administração pública.
- a) 3 (três) meses
 - b) 6 (seis) meses
 - c) 12 (doze) meses
 - d) 24 (vinte e quatro) meses

Conhecimentos Específicos

41. Baseado no Código de Ética e Deontologia da Terapia Ocupacional, assinale a alternativa que descreve o artigo 12.
- a) O terapeuta ocupacional deve se responsabilizar pela elaboração do diagnóstico terapêutico ocupacional, elaborar e aplicar o plano de tratamento, conceder alta para o cliente/paciente/usuário e quando julgar necessário encaminhar para outro profissional.
 - b) O terapeuta ocupacional deve zelar para que o prontuário do cliente/paciente/usuário/família/grupo/comunidade permaneça fora do alcance de estranhos à equipe da instituição/programa, salvo quando outra conduta seja expressamente recomendada pela direção da instituição/programa e que tenha amparo legal.
 - c) O terapeuta ocupacional deve zelar pela provisão e manutenção de adequada assistência ao seu cliente/paciente/usuário/família/grupo/comunidade amparados em métodos e técnicas reconhecidas e/ou regulamentadas pelo Conselho Federal de Fisioterapia e

- Terapia Ocupacional.
- d) O terapeuta ocupacional deve comunicar à chefia imediata da instituição em que trabalha ou à autoridade competente, fato que tenha conhecimento que seja tipificado como crime, contravenção legal ou infração ética.

42. Assinale a alternativa correta para o significado do CID 10 Z57.
- a) Transtorno global do desenvolvimento.
 - b) Tendinite.
 - c) Doença ocupacional.
 - d) Autismo atípico.

43. Em que ano foi criado o PSF (Programa de saúde da família)?
- a) 1995.
 - b) 1984.
 - c) 1994.
 - d) 1985.

44. Em que ano ocorreu a primeira análise de atividade em Terapia Ocupacional?
- a) Em 1918, na Segunda Guerra Mundial.
 - b) Em 1918, no Walter Reed General Hospital em Washington.
 - c) Em 1944, na Segunda Guerra Mundial.
 - d) Em 1908, no Walter Reed General Hospital em Washington.

45. O modelo da Ocupação Humana foi elaborado por
- a) Gary Kielhofner, em 1980.
 - b) Gary Kielhofner, em 1995.
 - c) Mary Reilly, 1975.
 - d) Gary Kielhofner, em 1975.

46. A análise dos papéis exercidos pelos indivíduos nas atividades de vida diária, no trabalho/atividades produtivas, no brincar e no lazer passou a ser um dos focos principais na história da Terapia Ocupacional no
- a) Brasil.
 - b) Estados Unidos.
 - c) Alemanha.
 - d) Inglaterra.

47. De acordo com a autora Berenice Rosa Francisco, qual é o recurso de trabalho em terapia ocupacional?
- a) Atividade.
 - b) Práticas sociais.
 - c) Ocupação.
 - d) Transformação social.

48. Em que ano foi definida a terapia ocupacional como a arte e a ciência de dirigir a participação do homem em tarefas selecionadas a fim de restaurar, reforçar e engrandecer a sua atuação, facilitando a aprendizagem de habilidades e funções essenciais, para sua adaptação e produtividade, diminuindo ou corrigindo patologias e promovendo a manutenção da saúde?
- a) 1974.
 - b) 1973.
 - c) 1982.
 - d) 1972.

49. **“Terapia Ocupacional é a aplicação da ocupação (única atuação) de qualquer atividade que se emprega para avaliação diagnóstica e tratamento de problemas que interfiram na atuação funcional de pessoas debilitadas por doenças físicas ou mentais, desordens emocionais, desabilidades congênitas ou de desenvolvimento ou no processo de envelhecimento, com objetivo de alcançar um funcionamento ótimo e de prevenir e manter a saúde”. Essa definição foi aprovada em**
- 1977, pela Associação Americana de Terapia Ocupacional (A.O.T.A)
 - 1971, pela Associação Americana de Terapia Ocupacional (A.O.T.A)
 - 1977, por Jô Benetton.
 - 1975, por Jô Benetton.
50. **O que a lei 10.216/2001 significou para a saúde mental?**
- Foi um projeto do então deputado federal pelo estado de Minas Gerais em 2010, onde garantiu vários direitos aos pacientes com transtorno mentais.
 - Foi a reforma psiquiátrica, que teve como marca registrada o fechamento total de manicômios e hospícios que proliferavam país afora.
 - Foi a reforma psiquiátrica, que teve como marca registrada o fechamento gradual de manicômios e hospícios que proliferavam país afora. A Lei Antimanicomial, que promoveu a reforma, tem como diretriz principal a internação do paciente somente se o tratamento fora do hospital se mostrar ineficaz.
 - Garantiu vários direitos aos pacientes com transtornos mentais, porém sem a participação de sua família no tratamento.
51. **“Dispõe sobre a participação da comunidade na gestão do Sistema Único de Saúde (SUS) e sobre as transferências intergovernamentais de recursos financeiros na área da saúde e dá outras providências”. Essa definição é da lei**
- Lei n. ° 8.412/90
 - Lei n. ° 8.124/90
 - Lei n. ° 8.142/91
 - Lei n. ° 8.142/90
52. **O que é atenção primária?**
- É desenvolvida com o baixo grau de descentralização e capilaridade, ocorrendo no local mais próximo da vida das pessoas.
 - É uma estratégia de organização da atenção à saúde voltada para responder de forma mundial, contínua e sistematizada à maior parte das necessidades de saúde de uma população, integrando ações preventivas e curativas, bem como a atenção a indivíduos e comunidades.
 - É o primeiro nível de atenção em saúde e se caracteriza por um conjunto de ações de saúde, no âmbito individual e coletivo, que abrange a promoção e a proteção da saúde, a prevenção de agravos, o diagnóstico, o tratamento, a reabilitação, a redução de danos e a manutenção da saúde com o objetivo de desenvolver uma atenção integral que impacte positivamente na situação de saúde das coletividades.
 - É o conjunto de ações de saúde individuais, familiares e coletivas que envolvem promoção, prevenção, proteção, diagnóstico, tratamento, reabilitação, redução de danos, cuidados paliativos e vigilância em saúde de forma mundial.
53. **Baseado na visão marxista do homem e da natureza, descrita no livro Terapia Ocupacional de Berenice Rosa, assinale a alternativa correta.**
- Através da produção, o homem projeta-se no mundo dos objetos produzidos por sua família.
 - O homem se define essencialmente pela produção, e desde que começa a produzir, o que só pode fazer socialmente, já está na esfera do humano.
 - O processo de criação do homem acontece pela relação com o outro.
 - O homem produz, cria e transforma a natureza e a si mesmo através do lazer.
54. **Para que a criança possa brincar, certas condições devem ser preenchidas, entre outras, é preciso que suas necessidades fundamentais sejam satisfeitas. Referindo-nos à hierarquia das necessidades de Maslow em 1979, quais devem ser primeiramente satisfeitas na criança?**
- Necessidades fisiológicas, segurança e de amor.
 - Necessidades cognitivas.
 - Necessidades de amor.
 - Necessidades fisiológicas e de segurança
55. **Baseado na evolução histórica do conceito do brincar na Terapia Ocupacional junto à clientela infantil, assinale a alternativa incorreta.**
- O brincar na terapia ocupacional objetiva distrair a criança doente e assegurar seu bem estar psicológico.
 - O brincar tem por função atenuar na criança hospitalizada o traumatismo associado à separação do meio familiar.
 - Durante um atendimento no qual a criança brinca livremente, é observado a relação que ela tem com os outros, habilidades e certos traços da personalidade.
 - Segundo as primeiras publicações referente ao assunto, o brincar na terapia ocupacional objetiva somente distrair a criança doente.
56. **Baseado no modelo lúdico, quais são os dois elementos fundamentais na prática do brincar na Terapia Ocupacional?**
- Quadro conceitual que define a concepção específica do brincar a ser desenvolvida e construída pela criança e o modelo de prática que seja um conjunto de meios concretos permitindo o brincar no meio clínico.
 - Quadro conceitual que define a concepção específica do brincar a ser desenvolvida e o modelo de prática que seja um meio concreto permitindo o brincar no meio clínico.
 - Quadro conceitual que define a concepção específica do brincar a ser desenvolvida servindo de base a condução pela criança e o modelo de prática que seja um conjunto de meios concretos permitindo o brincar no meio clínico.
 - Quadro conceitual que define a concepção específica do brincar a ser desenvolvida servindo de base a condução terapêutica e o modelo de prática que seja um conjunto de meios concretos permitindo o brincar no meio clínico.

- 57. Qual o principal papel da Terapia Ocupacional da saúde mental?**
- a) Possibilitar o autoconhecimento, a solução de conflitos e a melhora da saúde mental.
 - b) Auxiliar o paciente a ter somente consciência das suas limitações.
 - c) Colaborar para que o indivíduo com transtorno mental possa retomar suas atividades cotidianas.
 - d) Auxiliar na reabilitação das habilidades cognitivas importantes, adotando exercícios que estimulam o processamento de informações.
- 58. O programa treinamento de hábitos na história da Terapia Ocupacional foi desenvolvida por**
- a) Edward Barton.
 - b) Slagle.
 - c) Jô Benetton.
 - d) Scullin.
- 59. A Terapia Ativa de Simon propõe**
- a) o uso da ocupação escalonada em graus de dificuldades de realização.
 - b) o uso substituto da psicoterapia.
 - c) a busca de tecnologia e a medicina.
 - d) a adaptação social.
- 60. Baseado na existência de dois tipos de dinâmica ligadas diretamente ao uso de atividades, assinale a alternativa correta.**
- a) 1 – Grupo de atividades onde os pacientes resolvem fazer uma única atividade em conjunto e o terapeuta pode manter o grupo nessa relação conjunto; 2 – Atividade grupal no qual cada paciente faz sua atividade e mantém uma relação individual com o terapeuta.
 - b) 1- Grupo de atividades no qual cada paciente faz sua atividade e mantém uma relação individual com o terapeuta; 2- Atividade grupal onde os pacientes resolvem fazer uma única atividade em conjunto e o terapeuta pode manter o grupo nessa relação de trabalho conjunto.
 - c) 1 – Grupo de atividades onde cada paciente faz sua atividade e a relação com o terapeuta acontece em grupo; 2 – Atividade grupal no qual os pacientes fazem uma única atividade em conjunto e o terapeuta pode manter o grupo, porém com relação individual com cada paciente.
 - d) 1- atividade estruturada; 2 - atividade direcionada.

