

# CARGO: CUIDADOR SOCIAL

## PERÍODO TARDE

CONCURSO PÚBLICO Nº 002/2023 PREFEITURA MUNICIPAL DE FAZENDA RIO GRANDE

**Atenção: Confira seu cargo e leia todas as instruções constantes no seu Caderno de Questões e Folha de Respostas.**

1. Seu caderno deve conter 40 (quarenta) questões, com 04 (quatro) alternativas, assim dispostas:

Disciplina	Composição
Língua Portuguesa	1 a 10
Matemática/Raciocínio Lógico	11 a 20
Informática Básica	21 a 25
Conhecimentos Gerais e Atualidades	26 a 30
Conhecimentos Específicos	31 a 40

2. A Prova terá duração de 3h e 30min (três horas e trinta minutos), incluindo preenchimento da Folha de Respostas.
3. Após sua identificação, você deverá permanecer dentro da sala, sendo permitida a saída somente acompanhado de um fiscal e após 30min (trinta minutos) do início da prova.
4. Para uso do sanitário e/ou beber água, você deverá solicitar ao Fiscal de Sala e somente levantar após autorização.
5. O candidato só poderá sair da sala em definitivo após 1h (uma hora) do início da prova.
6. Ao deixar a sala definitivamente, não poderá utilizar o sanitário dos candidatos que ainda estão realizando prova, e só poderá levar o Caderno de Questões restando 1h (uma hora) para o final da prova.
7. Enquanto estiver realizando a Prova é proibido utilizar materiais de consulta, livros, apostilas, calculadoras, régua, quaisquer equipamentos eletrônicos, chapéus, bonés, e/ou similares, conforme constante no edital de abertura. Caso o fiscal constate alguma irregularidade irá anotar em Ata da Sala, para devidas providências da Comissão Organizadora.
8. Sobre sua carteira deverá permanecer somente documento oficial original com foto, caneta de tinta azul ou preta de corpo transparente, Caderno de Questões e Folha de Respostas.
9. Você poderá utilizar seu Caderno de Questões para rascunho.
10. Você receberá do Fiscal de Sala a Folha de Respostas definitiva. Confira seus dados e em caso de erro, chame o fiscal. Após conferir, **assine no campo destinado à assinatura do candidato**. Em hipótese alguma ela será substituída caso o candidato dobre, amasse, rasgue ou molhe. Cuidado, pois esse será o único documento válido para correção.
11. Caso algum equipamento eletrônico emita som, mesmo que desligado e lacrado no plástico de pertences, o candidato portador do equipamento será automaticamente eliminado do concurso.
12. Transcreva suas respostas para Folha de Respostas com caneta de tinta azul ou preta de corpo transparente. **Atenção:** verifique na Folha de Respostas a forma correta de preenchimento.
13. Questões com mais de uma alternativa assinalada, rasurada, em branco ou preenchidas de forma diferente das instruções serão anuladas.
14. Após terminar sua Prova avise o Fiscal, pois ele autorizará a entrega da sua Folha de Respostas e Caderno de Questões, se for o caso.
15. Caso algum candidato seja flagrado na tentativa de fraude, esse será automaticamente eliminado do Concurso, ainda sujeito a processo civil ou criminal.
16. Qualquer questionamento ou dúvidas devem ser feitos em voz alta ao fiscal.
17. Os 03 (três) últimos candidatos deverão sair juntos da sala, após a conferência e lacre do material da sala.
18. Aguarde a autorização do Fiscal para iniciar sua Prova.

-----DESTAQUE AQUI-----

<b>01</b>	<b>02</b>	<b>03</b>	<b>04</b>	<b>05</b>	<b>06</b>	<b>07</b>	<b>08</b>	<b>09</b>	<b>10</b>	<b>11</b>	<b>12</b>	<b>13</b>	<b>14</b>	<b>15</b>	<b>16</b>	<b>17</b>	<b>18</b>	<b>19</b>	<b>20</b>	
<b>21</b>	<b>22</b>	<b>23</b>	<b>24</b>	<b>25</b>	<b>26</b>	<b>27</b>	<b>28</b>	<b>29</b>	<b>30</b>	<b>31</b>	<b>32</b>	<b>33</b>	<b>34</b>	<b>35</b>	<b>36</b>	<b>37</b>	<b>38</b>	<b>39</b>	<b>40</b>	

# Língua Portuguesa

Leia o texto para responder as questões.

É possível uma moeda só?

Sonho dos viajantes compulsivos, a moeda única pode diminuir cada vez mais as barreiras geográficas, só que questões culturais e econômicas podem jogar a ideia no ralo  
Por Augusto Decker e Pedro Borg

**Sim:** Com a integração crescente dos sistemas financeiros, é possível imaginar uma moeda única ou regional, como é o euro hoje.

Por que sim?

A ideia de uma moeda única vem sendo defendida como uma maneira de transformar a tendência de integração financeira internacional em realidade, uma vez que hoje a economia trabalha quase sem fronteiras. Seria um cenário dos sonhos para viajantes compulsivos, já que as tediosas idas às casas de câmbio seriam extintas.

Além da questão da praticidade, existe a vantagem de que acabariam os problemas de especulação cambial – como os chamados ataques especulativos que ocorreram ao longo da história. Não faria sentido tentar desvalorizar uma moeda única.

“Um mundo com uma única moeda evitaria especulação. A diferença seria na oferta de preços. Em países mais ricos, haveria mais dinheiro. Logo, as coisas seriam mais caras. O oposto aconteceria em países mais pobres”, defende a futuróloga brasileira Lala Deheinzelin.

**Não:** Como atingir um consenso global de uma política monetária única? Muitos interesses e barreiras teriam de ser amplamente debatidos.

Por que não?

Os futurologistas acreditam na hipótese da moeda única. Mas nenhum dos economistas entrevistados pensa que esse seja o caminho para melhorar a situação financeira mundial. “O controle do dinheiro será de quem controla sua emissão”, alerta o mestre em economia Rubens Sawaya. “Independente se for uma instituição, um país ou a ONU, quem controlar essa moeda controlará a liquidez do dinheiro no mundo.”

É como se, dessa maneira, todo o dinheiro no mundo tivesse o mesmo valor, o que configura um problema para países da periferia mundial, diz o economista. É a taxa de câmbio, ou a moeda mais barata, que faz os países mais pobres conseguirem manter seu produto competitivo ante os produzidos em países com economias maiores. “A vantagem de não ter uma moeda única é controlar a liquidez dos seus ativos em relação aos ativos de outros países”, explica Sawaya.

A noção de que seria quase impossível chegar a uma moeda global também é corroborada pelo economista Gerson Caner. Para ele, o caminho passa por moedas regionais, como o euro. “Uma moeda global tem uma série de obstáculos geopolíticos e culturais. Ela mexeria com conceitos macroeconômicos arraigados, além do funcionamento de bancos centrais”, explica. “Imagine as nações mais poderosas tendo de negociar uma paridade única de uma moeda global?”

Disponível em <https://infograficos.estadao.com.br/focas/por-minha-conta/materia/e-possivel-uma-moeda-so/>

1. **Análise: “Imagine as nações mais poderosas tendo de negociar uma paridade única de uma moeda global?” E assinale a alternativa correta.**

- a) Não há preposições nesse trecho.
- b) “Poderosas” está grafado incorretamente.
- c) Há um verbo no Modo Imperativo.
- d) Não há numeral, apenas artigos.

2. **Análise: “A ideia de uma moeda única vem sendo defendida como uma maneira de transformar a tendência de integração financeira internacional em realidade” e assinale a alternativa que apresenta o núcleo do sujeito desse trecho.**

- a) Moeda.
- b) Financeira.
- c) Tendência.
- d) Ideia.

3. **Análise: “A ideia de uma moeda única vem sendo defendida como uma maneira de transformar a tendência de integração financeira internacional em realidade, uma vez que hoje a economia trabalha quase sem fronteiras. Seria um cenário dos sonhos para viajantes compulsivos, já que as tediosas idas às casas de câmbio seriam extintas.” E assinale a alternativa incorreta.**

- a) Após “hoje”, poderia utilizar uma vírgula.
- b) A crase deste trecho está incorreta.
- c) A vírgula antes de “já que” está correta.
- d) “Vem sendo defendida” é uma locução verbal.

4. **O uso de verbos no Futuro do Pretérito do Modo Indicativo indica que**

- a) algo poderia acontecer após uma situação do passado; no entanto, é uma incerteza.
- b) é uma certeza do que acontecerá caso tenhamos uma moeda global.
- c) uma moeda global seria um desastre.
- d) é uma ordem e deve ser cumprida.

5. **Para que o trecho a seguir, tenha um sujeito oculto, qual adaptação seria necessária?**

“Os futurologistas acreditam na hipótese da moeda única.”

- a) Isso não é possível fazer.
- b) Acrescentar ao trecho “alguns” antes de “futurologistas”.
- c) Retirar do trecho “os futurologistas”.
- d) Substituir “os futurologistas” por “eles”.

6. **Análise: “quem controlar essa moeda controlará a liquidez do dinheiro no mundo” e assinale a alternativa que apresenta a classificação correta desta oração.**

- a) Oração Subordinada Adverbial Causal.
- b) Oração Subordinada Adverbial Conformativa.
- c) Oração Subordinada Adverbial Consecutiva.
- d) Oração Subordinada Adverbial Final.

7. **Assinale a alternativa cujo trecho a seguir foi reescrito de maneira que não altere seu sentido.**

“Além da questão da praticidade, existe a vantagem de que acabariam os problemas de especulação cambial”

- a) “Portanto, da questão da praticidade, existe a vantagem de que acabariam os problemas de especulação cambial”
- b) “Em conformidade com a questão da praticidade, existe a vantagem de que acabariam os problemas de especulação cambial”
- c) “Sendo a questão da praticidade, existe a vantagem de que acabariam os problemas de especulação cambial”
- d) “Ademais da questão da praticidade, existe a vantagem de que acabariam os problemas de especulação cambial”

8. Analise: “É a taxa de câmbio, ou a moeda mais barata, que faz os países mais pobres conseguirem manter seu produto competitivo ante os produzidos em países com economias maiores.” E assinale a alternativa que apresenta a conjugação correta do verbo “fazer”, caso a conjunção “ou” fosse substituída por “e”.

- a) Fazem.
- b) Faz.
- c) Fazemos.
- d) Fazeis.

9. Assinale a alternativa que apresenta a figura de linguagem correta para a expressão “jogar a ideia no ralo”.

- a) Metáfora.
- b) Eufemismo.
- c) Ironia.
- d) Gradação.

10. De acordo com o texto, é possível afirmar que

- a) a comercialização global já é sem fronteiras.
- b) a economia global ainda enfrenta fronteiras.
- c) a escolha de uma moeda global ficará na mão de um único país.
- d) em países ricos, os produtos serão mais baratos.

## Matemática/Raciocínio Lógico

11. Considere verdadeira a declaração: “Todos os cachorros caramelos são vira-latas.” Com base nessa declaração, assinale a alternativa que corresponde a uma argumentação correta.

- a) Bob é um cachorro vira-lata, portanto é caramelo.
- b) Bob é um cachorro vira-lata, portanto não é caramelo.
- c) Rex é um cachorro caramelo, portanto é vira-lata.
- d) Rex é um cachorro caramelo, portanto não é vira-lata.

12. Em uma pesquisa de mercado, foram entrevistadas 300 pessoas sobre a preferência delas pelas marcas de café A e B. Do total de entrevistados, 10% consomem as duas marcas; 15% consomem apenas a marca A e 30% consomem apenas a marca B. O restante dos entrevistados não consome nenhuma das duas marcas. Quantas pessoas não consomem as marcas de café A e B?

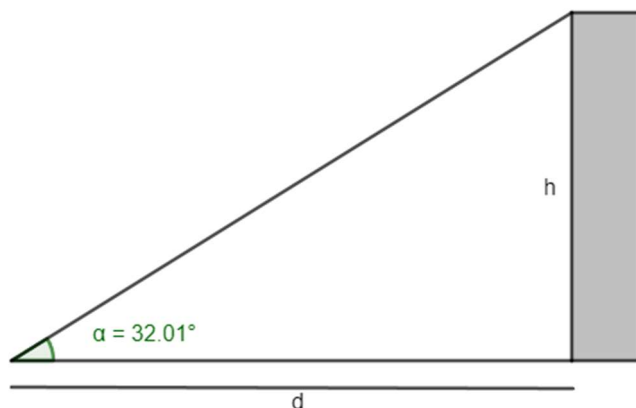
- a) 165.
- b) 155.
- c) 145.
- d) 135.

13. O volume de um tronco de pirâmide de 6 cm de altura e cujas áreas das bases são iguais a  $25 \text{ cm}^2$  e  $16 \text{ cm}^2$  corresponde a

- a)  $122 \text{ cm}^3$
- b)  $128 \text{ cm}^3$
- c)  $132 \text{ cm}^3$
- d)  $136 \text{ cm}^3$

14. A uma distância de  $d = 60 \text{ m}$  uma torre é vista sob um ângulo  $\alpha$ , como mostra a figura.

Calcule a altura  $h$  da torre em metros. Considere  $\text{tg } 32,01^\circ = 0,625$ .



- a) 37,5 m
- b) 36,6 m
- c) 35,4 m
- d) 34,3 m

15. Em determinado estacionamento cobra-se R\$ 5,00 por hora que o veículo permanece estacionado, somado a uma taxa fixa de R\$ 3,50. Seja  $t$  o número de horas que um veículo permanece estacionado e  $P$  o preço a ser pago, assinale a seguir a equação que descreve, em reais, o valor de  $P$ .

- a)  $P = 5 \cdot t$
- b)  $P = 5 \cdot t + 3,50$
- c)  $P = 3,5 \cdot t + 5$
- d)  $P = 3,5 \cdot t + 3,5$

16. Considere a função  $f(x) = \log_2(x + 5)$ , é possível afirmar que

- a) a função pode ser definida somente para  $x$  maior ou igual a 5.
- b) a função pode ser definida somente para  $x$  maior ou igual a -5.
- c) a função pode ser definida somente para valores de  $x$  maiores que -5.
- d) a função pode ser definida somente para valores de  $x$  menores que -5.

17. Considere um prisma de base hexagonal com a medida do lado igual a 4 cm, e altura igual a 10 cm. O volume do prisma é de

- a)  $40\sqrt{3} \text{ cm}^3$
- b)  $100\sqrt{3} \text{ cm}^3$
- c)  $180\sqrt{3} \text{ cm}^3$
- d)  $240\sqrt{3} \text{ cm}^3$

18. Considere as matrizes  $A = \begin{bmatrix} 2 & 1 & 4 \\ 3 & 1 & -2 \end{bmatrix}$  e  $B = \begin{bmatrix} 1 & 0 \\ 2 & -1 \\ -1 & -3 \end{bmatrix}$ . Assinale a alternativa que apresenta a matriz transposta de  $A \times B$ .

- a)  $\begin{bmatrix} 0 & -13 \\ 7 & 5 \end{bmatrix}$   
 b)  $\begin{bmatrix} 5 & -13 \\ 7 & 0 \end{bmatrix}$   
 c)  $\begin{bmatrix} 0 & 7 \\ -13 & 5 \end{bmatrix}$   
 d)  $\begin{bmatrix} -13 & 0 \\ 5 & 7 \end{bmatrix}$

19. O ponto  $A(m + 1; 2m - 3)$  pertence à bissetriz dos quadrantes pares. Então, o valor de  $m$  é

- a) 2.  
 b) 3.  
 c) 4.  
 d) 5.

20. Considere a função  $f(x) = \sqrt{\frac{x+3}{x-1}}$ , assinale a alternativa que apresenta corretamente o domínio da função  $f(x)$ .

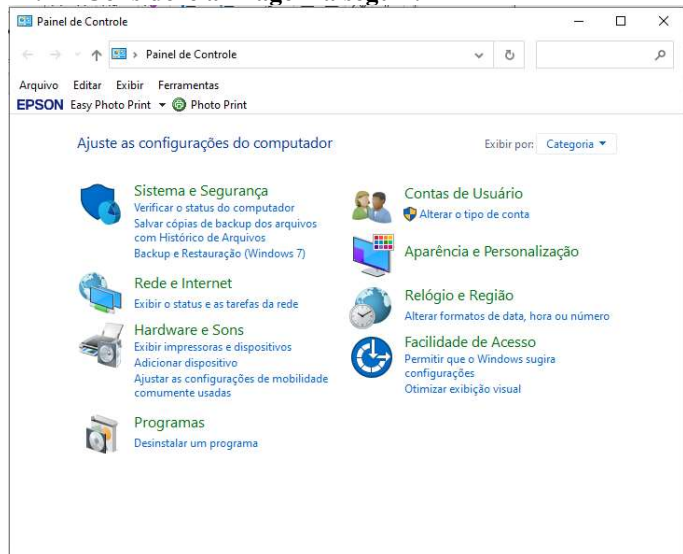
- a)  $D(f) = (-\infty, -3] \cup (1, +\infty)$   
 b)  $D(f) = (-\infty, -3] \cup (1, +\infty)$   
 c)  $D(f) = (-\infty, -1] \cup (3, +\infty)$   
 d)  $D(f) = (-\infty, -3) \cup (1, +\infty)$

## Informática Básica

21. Navegador é um software que facilita a navegação na internet. Existem diferentes navegadores que podem ser usados dependendo do dispositivo e do sistema operacional. Pautando-se nessas informações, assinale a alternativa que apresenta somente nomes de navegadores.

- a) Opera – Mozilla Firefox – Safari – Edge.  
 b) Google Chrome – Edge – Internet Explorer – Google.  
 c) Safari – Edge – Bing – Opera.  
 d) Google – Mozilla Firefox – Edge – Opera.

22. Considere a imagem a seguir:



Fonte: Painel de Controle – Windows 10.

A respeito do Painel de Controle do Windows 10, informe se é verdadeiro (V) ou falso (F) e assinale a alternativa com a sequência correta.

- ( ) Uma forma fácil de abrir o Painel de Controle no Windows 10 é abrir o menu Iniciar e simplesmente digitar "Painel de Controle".  
 ( ) Ao clicar em "Exibir por", o usuário pode alterar o modo de exibição do painel de controle para: ícones grandes, ícones médios e ícones pequenos.  
 ( ) O painel de controle só pode ser acessado no modo de segurança do Windows.  
 ( ) Programas e recursos podem ser removidos através do painel de controle.  
 a) V – V – F – V.  
 b) V – F – F – F.  
 c) V – F – F – V.  
 d) F – F – F – V.

23. Dados e valores podem ser exibidos graficamente usando o Excel 365. O Excel dispõe de uma variedade de tipos de gráficos que podem ser utilizados de acordo com a necessidade do usuário. Sendo assim, analise os gráficos a seguir:

Gráfico 1

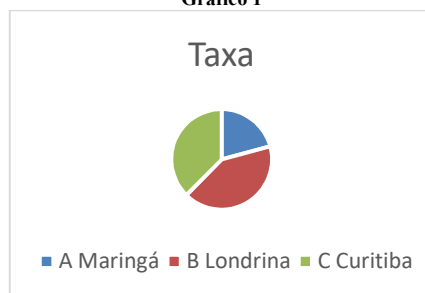


Gráfico 2

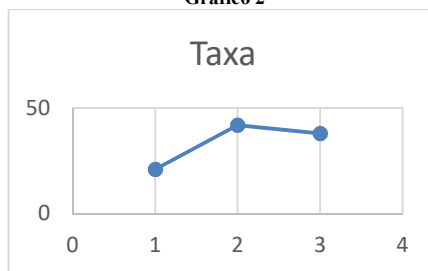



Gráfico 3



Fontes: Exemplos de gráficos. Microsoft Excel 365.

Pautando-se nas informações disponíveis nas imagens, assinale a alternativa com a sequência correta com os tipos de gráficos apresentados.

- a) (I) Gráfico de Pizza – (II) Gráfico de Linha – (III) Gráfico de Radar.  
 b) (I) Gráfico de Pizza – (II) Gráfico de Dispersão – (III) Gráfico de Área.  
 c) (I) Gráfico de Pizza – (II) Gráfico Histograma – (III) Gráfico de Radar.  
 d) (I) Gráfico de Pizza – (II) Gráfico de Dispersão – (III) Gráfico Mapa de Árvore.

24. O Microsoft Excel 365 contém 9 guias, entre elas temos: Página Inicial, Fórmulas e Dados. Em qual guia do Excel 365 estão localizados os grupos Gráficos e Tabelas?

- a) Guia Dados.
- b) Guia Exibir.
- c) Guia Arquivo.
- d) Guia Inserir.

25. Considere a imagem a seguir:

O Microsoft Word oferece aos usuários muitas possibilidades e opções para a formatação de textos.

Fonte: Microsoft Word 365.

A partir das informações apresentadas na imagem, analise as assertivas e assinale a alternativa correta:

- I. A frase acima contém palavras destacadas em: negrito, itálico, sublinhado e taxado.
  - II. A parte “aos usuários muitas” está em itálico e sublinhado.
  - III. A parte “para a formatação de textos” está com taxado duplo.
  - IV. A parte “para a formatação de textos” está sobrescrita.
- a) Apenas I está correta.
  - b) Apenas I e II estão corretas.
  - c) Apenas II e III estão corretas.
  - d) Apenas I, II e III estão corretas.

## Conhecimentos Gerais e Atualidades

26. Os direitos humanos buscam estabelecer condições mínimas de vida e dignidade para qualquer ser humano, em qualquer país. No Brasil, a Constituição de 1988 tratou de estabelecer direitos e deveres para todos os brasileiros e estrangeiros que vivem no país, em busca de uma sociedade mais igualitária e justa. Qual documento inspirou a criação dos direitos e deveres elencados na CF 88?

- a) Constituição Cidadã de 1967.
- b) Declaração Universal dos Direitos Humanos de 1948.
- c) Guia de orientação das Nações Unidas no Brasil para denúncias de discriminação étnico-racial.
- d) Constituição dos Estados Unidos da América.

27. Sobre a Constituição de 1988, assinale a alternativa que preencha corretamente as lacunas.

A Constituição de 1988 foi resultado da \_\_\_\_\_ empossada em 1987. É considerada o marco que inaugurou o período democrático do Brasil conhecido como \_\_\_\_\_ e foi formulada atendendo a diversos interesses e demandas da população brasileira. Seu texto final foi promulgado por \_\_\_\_\_, o presidente da Constituinte, e é considerado bastante \_\_\_\_\_ em relação às questões sociais e garantias das liberdades individuais. Apesar disso, a Constituição sofre \_\_\_\_\_ de juristas e intelectuais.

- a) Assembleia Legislativa / Ditadura / Ulysses Guimarães / avançado / críticas
- b) Assembleia Constituinte / Nova República / Ulysses Guimarães / avançado / críticas
- c) Comitativa da ONU / Velha República / José Sarney / conservador / elogios
- d) Ditadura / República Federativa / José Sarney / conservador / elogios

28. Em fevereiro de 2023, o presidente dos EUA, Joe Biden, recebeu o presidente Luiz Inácio Lula da Silva (PT) na Casa Branca. Os dois conversaram brevemente e posaram para fotos, antes de entrarem na sede do governo americano para uma reunião. Após essa reunião, que foi a principal medida anunciada divulgada?

<https://noticias.uol.com.br/internacional/>

- a) Aporte de US\$50 milhões, ou R\$ 270 milhões, para o Fundo Amazônia.
- b) Aporte de US\$50 milhões, ou R\$ 270 milhões, para a erradicação da pobreza no Brasil.
- c) União de forças entre os países para incentivar o fim da guerra na Ucrânia.
- d) Colaboração entre os países para realização de intercâmbio de tecnologia para o combate ao tráfico de drogas.

29. Moradores de centenas de aldeias na Floresta Amazônica se tornaram vítimas da maior crise humanitária do país neste século. Segundo vários relatos, esse povo indígena foi vítima do garimpo ilegal, violência sexual, doenças e morte para adultos e crianças, estes fatos vieram à tona em 2023. Qual o povo indígena descrito no texto acima?

- a) Caingangues.
- b) Xavantes.
- c) Yanomami.
- d) Pataxós.

30. Após os deslizamentos de terra nas BR-376 e BR-277 causados pelas chuvas que prejudicaram o Paraná, outra região do país foi castigada pelas chuvas intensas, deslizamentos de terra e várias mortes foram registradas. A cidade mais atingida foi São Sebastião. Qual a região descrita no trecho acima?

- a) Litoral norte de Santa Catarina.
- b) Litoral sul do Rio Grande do Sul.
- c) Região dos lagos no Rio de Janeiro.
- d) Litoral norte de São Paulo.

## Conhecimentos Específicos

31. O cuidado com a higiene proporciona conforto e bem-estar, além de contribuir com a recuperação da saúde. Com relação ao papel do cuidador no banho, analise as assertivas e assinale a alternativa correta.
- I. Em caso de recusas a tomar banho, o cuidador deve identificar as causas, que pode ser medo de cair, de sentir ou passar mal, tonturas, estar deprimida ou sentir-se envergonhada, por exemplo.
- II. Para o banho de aspersão ou no chuveiro é necessário: separar antecipadamente as roupas e outros objetos pessoais que serão utilizados; preparar o local para o banho, cadeira de banho ou apoio, quando necessário; reservar os objetos de higiene que serão utilizados; regular a temperatura da água; limitar a circulação de ar no ambiente.
- III. Estimule, oriente, supervisione e auxilie a pessoa cuidada a fazer sua higiene. Só faça aquilo que ela não é capaz de fazer.
- IV. Para o banho no leito, deve ser realizado quando a pessoa não possui condições para se locomover até o chuveiro/banheiro e nos casos em que o colchão não é recoberto com material impermeável importante proteger com algum material plástico
- V. A higiene deve ser iniciada pela cabeça, especialmente no banho de leito.
- VI. Importante estar atento as mudanças na cor e na temperatura da pele, inchaço, manchas, feridas, principalmente das regiões mais quentes e úmidas e daquelas expostas a fezes e urina.
- a) Todas estão corretas.  
b) Apenas V está incorreta.  
c) Apenas I e III estão corretas.  
d) Apenas IV e VI estão incorretas.
32. A higiene bucal reduz a prevalência de diversas afecções bucais, dentre elas cáries, odontalgia e gengivite, com relação ao cuidado da higiene oral, assinale a alternativa correta.
- a) O uso de prótese inviabiliza a higiene a cada refeição, sendo indicada uma vez ao dia.  
b) Em caso de afecções bucais, deve ser utilizado escova com cerdas firmes que propicie a retirada de toda sujidade da cavidade bucal.  
c) Em especial com idosos ou pessoas com perda da funcionalidade, deve ser utilizado pequena porção de pasta de dente para evitar que a pessoa engasgue.  
d) Todas as próteses devem ser retiradas e limpas com auxílio de gaze ou escova de dentes em movimento único e recolocado após a higiene da boca com Glucanato de Clorexidina 0,06%
33. Revisado em 2014, através de consulta pública e amplo debate social, publicado pelo Ministério da Saúde, o Guia Alimentar para a População Brasileira aborda os princípios e as recomendações de uma alimentação adequada e saudável para a população brasileira, configurando-se como instrumento de apoio às ações de educação alimentar e nutricional no SUS. Analise as assertivas e assinale a alternativa correta.
- I. Devido ao perfil de carência nutricional no Brasil, existem locais onde a oferta desequilibrada de nutrientes na alimentação, em contraste outro problema alimentar com alta prevalência é a obesidade.
- II. Os alimentos classificados como minimamente processados são aqueles obtidos diretamente de plantas ou de animais (como folhas e frutos ou ovos e leite) e adquiridos para consumo sem que tenham sofrido qualquer alteração após deixarem a natureza.
- III. Os alimentos in natura devem ser consumidos em grande quantidade e variedade como estratégia para redução da obesidade.
- IV. O consumo de alimentos classificados como ultraprocessados deve ser reduzido, pois são alimentos considerados nutricionalmente desbalanceados.
- a) Todas estão incorretas.  
b) Todas estão corretas.  
c) Apenas II e III estão corretas.  
d) Apenas I e IV estão corretas.
34. Com relação aos 10 passos para uma alimentação adequada e saudável, analise as assertivas e assinale a alternativa correta.
- I. A base da alimentação deve ser de alimentos in natura ou minimamente processados, no país a grande variedade de alimentos dessa categoria.
- II. É indicado limitar o consumo de alimentos processados e evitar o consumo de alimentos ultraprocessados.
- III. Outro ponto importante sobre a alimentação é planejar as compras de alimentos, organize a despensa doméstica e defina com antecedência o cardápio da semana.
- IV. Ao realizar refeições fora de casa é importante que procure locais que servem alimentos feitos na hora, evitar redes de fast-food.
- a) Todas estão incorretas.  
b) Todas estão corretas.  
c) Apenas II e III estão corretas.  
d) Apenas I e IV estão corretas.
35. Ao longo dos anos de sua criação, o Estatuto da Criança e do Adolescente trouxe evoluções para a efetivação da proteção integral sendo um documento construído de forma coletiva com diversas organizações cívicas, governamentais e instituições de ensino. Uma das leis publicadas foi a Lei nº 13.010, de 26 de junho de 2014, conhecida como Lei Menino Bernardo, e refere-se a(o):
- a) dever do Estado de estabelecer políticas, planos, programas e serviços para a primeira infância que atendam às especificidades dessa faixa etária, visando a garantir seu desenvolvimento integral.  
b) direito da criança e do adolescente de serem educados sem o uso de castigos físicos.  
c) execução das medidas socioeducativas destinadas a adolescente que pratique ato infracional.  
d) sistema de garantia de direitos da criança e do adolescente vítima ou testemunha de violência.

36. **Com relação ao direito da criança e do adolescente sobre a convivência familiar e comunitária, assinale a alternativa incorreta.**
- a) Será garantida a convivência integral da criança com a mãe adolescente que estiver em acolhimento institucional.
  - b) Serão cadastrados para adoção recém-nascidos e crianças acolhidas não procuradas por suas famílias no prazo de 30 (trinta) dias, contado a partir do dia do acolhimento.
  - c) Será garantida a convivência da criança e do adolescente com a mãe ou o pai privado de liberdade, por meio de visitas periódicas promovidas pelo responsável ou, nas hipóteses de acolhimento institucional, pela entidade responsável, independentemente de autorização judicial.
  - d) A criança e o adolescente em programa de acolhimento institucional ou familiar poderão participar de programa de apadrinhamento, os padrinhos ou madrinhas são pessoas maiores de 18 anos que estejam inscritas nos cadastros de adoção.
37. **Com relação a autorização para viajar, de acordo com o Estatuto da Criança e do Adolescente, assinale a alternativa correta.**
- a) Sem autorização de ambos os responsáveis nenhuma criança ou adolescente com menos de 18 anos poderá viajar para o exterior.
  - b) A autorização é obrigatório quando tratar-se de comarca contígua à da residência da criança ou do adolescente menor de 16 (dezesesseis) anos, se na mesma unidade da Federação, ou incluída na mesma região metropolitana.
  - c) A autoridade judiciária poderá, a pedido dos pais ou responsável, conceder autorização válida por dois anos.
  - d) A viagem ao exterior deve ser exclusivamente realizada por crianças acompanhada de ambos os pais ou responsáveis e com emissão de documento com firma reconhecida.
38. **Em 2022, é publicada a Lei nº 14.423 de 22 de julho de 2022 que altera as expressões contidas na Lei nº 10.741 de 1º de outubro de 2003, a qual dispõe sobre o Estatuto da Pessoa Idosa, com relação ao Estatuto, analise as assertivas e assinale a alternativa correta.**
- I. **Com a mudança no perfil demográfico brasileiro, uma das expressões e conceitos alterados do estatuto refere-se a faixa etária, considera-se pessoa idosa no intuito dessa Lei às pessoas com idade igual ou superior a 65 (sessenta e cinco) anos.**
  - II. **É priorizado o atendimento da pessoa idosa através do sistema asilar ou semelhantes, em casos em que há perda da funcionalidade do sujeito.**
  - III. **Entre as pessoas idosas, é assegurada prioridade especial aos maiores de 80 (oitenta) anos, atendendo-se suas necessidades sempre preferencialmente em relação às demais pessoas idosas.**
  - IV. **Incumbe ao poder público fornecer às pessoas idosas, gratuitamente, medicamentos, especialmente os de uso continuado, assim como próteses, órteses e outros recursos relativos ao tratamento, habilitação ou reabilitação.**
  - V. **Para os efeitos desta Lei, considera-se violência contra a pessoa idosa qualquer ação que lhe cause morte, dano ou sofrimento físico, praticada em ambiente público ou privado.**
- a) Apenas III e IV estão corretas.
  - b) Apenas I está incorreta.
  - c) Apenas II e V estão corretas.
  - d) Todas estão corretas.
39. **Com relação aos benefícios de aposentadoria e pensão do Regime Geral da Previdência Social, assinale a alternativa correta.**
- a) Os valores dos benefícios são fixados e imutáveis com base em percentual definido em regulamento.
  - b) Em caso de concessão de aposentaria por idade, é passível de perda da condição pelo assegurado.
  - c) O pagamento de parcelas relativas a benefícios, efetuado com atraso por responsabilidade da Previdência Social, será atualizado pelo mesmo índice utilizado para os reajustamentos dos benefícios do Regime Geral de Previdência Social, verificado no período compreendido entre o mês que deveria ter sido pago e o mês do efetivo pagamento.
  - d) Os critérios para o cálculo deve ser realizado com base no salário recebido pelo beneficiário nos últimos 5 anos relativo a sua atividade laboral de maior valor, nos quais incidiram contribuição, nos termos da legislação vigente.
40. **As queimaduras são lesões causadas por agentes químicos, físicos ou elétrica, capazes de produzir dano e morte para as células. Com relação aos cuidados imediatos a uma vítima de queimadura, assinale a alternativa incorreta.**
- a) Em caso de vestes pegando fogo não permita que pessoa corra, pois pode aumentar as chamas, apague o fogo, abafando com um cobertor ou simplesmente rolando o acidentado no chão.
  - b) Não retirar as roupas queimadas que estiverem aderidas à pele.
  - c) Em lesões superficiais, deve-se lavar a área queimada com bastante água corrente, aplicar pomadas, líquidos, cremes, manteiga, pó de café, creme dental ou outras substâncias, exceto em queimaduras provocadas por pó químico.
  - d) Não aplicar gelo sobre a queimadura. O gelo poderá agravar mais a queimadura.

