

CARGO: ESTOQUISTA REPOSITOR

PERÍODO TARDE

CONCURSO PÚBLICO Nº 002/2023 PREFEITURA MUNICIPAL DE FAZENDA RIO GRANDE

Atenção: Confira seu cargo e leia todas as instruções constantes no seu Caderno de Questões e Folha de Respostas.

1. Seu caderno deve conter 40 (quarenta) questões, com 04 (quatro) alternativas, assim dispostas:

Disciplina	Composição
Língua Portuguesa	1 a 10
Matemática/Raciocínio Lógico	11 a 20
Informática Básica	21 a 25
Conhecimentos Gerais e Atualidades	26 a 30
Conhecimentos Específicos	31 a 40

2. A Prova terá duração de 3h e 30min (três horas e trinta minutos), incluindo preenchimento da Folha de Respostas.
3. Após sua identificação, você deverá permanecer dentro da sala, sendo permitida a saída somente acompanhado de um fiscal e após 30min (trinta minutos) do início da prova.
4. Para uso do sanitário e/ou beber água, você deverá solicitar ao Fiscal de Sala e somente levantar após autorização.
5. O candidato só poderá sair da sala em definitivo após 1h (uma hora) do início da prova.
6. Ao deixar a sala definitivamente, não poderá utilizar o sanitário dos candidatos que ainda estão realizando prova, e só poderá levar o Caderno de Questões restando 1h (uma hora) para o final da prova.
7. Enquanto estiver realizando a Prova é proibido utilizar materiais de consulta, livros, apostilas, calculadoras, régua, quaisquer equipamentos eletrônicos, chapéus, bonés, e/ou similares, conforme constante no edital de abertura. Caso o fiscal constate alguma irregularidade irá anotar em Ata da Sala, para devidas providências da Comissão Organizadora.
8. Sobre sua carteira deverá permanecer somente documento oficial original com foto, caneta de tinta azul ou preta de corpo transparente, Caderno de Questões e Folha de Respostas.
9. Você poderá utilizar seu Caderno de Questões para rascunho.
10. Você receberá do Fiscal de Sala a Folha de Respostas definitiva. Confira seus dados e em caso de erro, chame o fiscal. Após conferir, **assine no campo destinado à assinatura do candidato**. Em hipótese alguma ela será substituída caso o candidato dobre, amasse, rasgue ou molhe. Cuidado, pois esse será o único documento válido para correção.
11. Caso algum equipamento eletrônico emita som, mesmo que desligado e lacrado no plástico de pertences, o candidato portador do equipamento será automaticamente eliminado do concurso.
12. Transcreva suas respostas para Folha de Respostas com caneta de tinta azul ou preta de corpo transparente. **Atenção:** verifique na Folha de Respostas a forma correta de preenchimento.
13. Questões com mais de uma alternativa assinalada, rasurada, em branco ou preenchidas de forma diferente das instruções serão anuladas.
14. Após terminar sua Prova avise o Fiscal, pois ele autorizará a entrega da sua Folha de Respostas e Caderno de Questões, se for o caso.
15. Caso algum candidato seja flagrado na tentativa de fraude, esse será automaticamente eliminado do Concurso, ainda sujeito a processo civil ou criminal.
16. Qualquer questionamento ou dúvidas devem ser feitos em voz alta ao fiscal.
17. Os 03 (três) últimos candidatos deverão sair juntos da sala, após a conferência e lacre do material da sala.
18. Aguarde a autorização do Fiscal para iniciar sua Prova.

-----DESTAQUE AQUI-----

01	02	03	04	05	06	07	08	09	10	11	12	13	14	15	16	17	18	19	20	
21	22	23	24	25	26	27	28	29	30	31	32	33	34	35	36	37	38	39	40	

Língua Portuguesa

Leia o texto para responder as questões.

É possível uma moeda só?

Sonho dos viajantes compulsivos, a moeda única pode diminuir cada vez mais as barreiras geográficas, só que questões culturais e econômicas podem jogar a ideia no ralo
Por Augusto Decker e Pedro Borg

Sim: Com a integração crescente dos sistemas financeiros, é possível imaginar uma moeda única ou regional, como é o euro hoje.

Por que sim?

A ideia de uma moeda única vem sendo defendida como uma maneira de transformar a tendência de integração financeira internacional em realidade, uma vez que hoje a economia trabalha quase sem fronteiras. Seria um cenário dos sonhos para viajantes compulsivos, já que as tediosas idas às casas de câmbio seriam extintas.

Além da questão da praticidade, existe a vantagem de que acabariam os problemas de especulação cambial – como os chamados ataques especulativos que ocorreram ao longo da história. Não faria sentido tentar desvalorizar uma moeda única.

“Um mundo com uma única moeda evitaria especulação. A diferença seria na oferta de preços. Em países mais ricos, haveria mais dinheiro. Logo, as coisas seriam mais caras. O oposto aconteceria em países mais pobres”, defende a futuróloga brasileira Lala Deheinzelin.

Não: Como atingir um consenso global de uma política monetária única? Muitos interesses e barreiras teriam de ser amplamente debatidos.

Por que não?

Os futurologistas acreditam na hipótese da moeda única. Mas nenhum dos economistas entrevistados pensa que esse seja o caminho para melhorar a situação financeira mundial. “O controle do dinheiro será de quem controla sua emissão”, alerta o mestre em economia Rubens Sawaya. “Independente se for uma instituição, um país ou a ONU, quem controlar essa moeda controlará a liquidez do dinheiro no mundo.”

É como se, dessa maneira, todo o dinheiro no mundo tivesse o mesmo valor, o que configura um problema para países da periferia mundial, diz o economista. É a taxa de câmbio, ou a moeda mais barata, que faz os países mais pobres conseguirem manter seu produto competitivo ante os produzidos em países com economias maiores. “A vantagem de não ter uma moeda única é controlar a liquidez dos seus ativos em relação aos ativos de outros países”, explica Sawaya.

A noção de que seria quase impossível chegar a uma moeda global também é corroborada pelo economista Gerson Caner. Para ele, o caminho passa por moedas regionais, como o euro. “Uma moeda global tem uma série de obstáculos geopolíticos e culturais. Ela mexeria com conceitos macroeconômicos arraigados, além do funcionamento de bancos centrais”, explica. “Imagine as nações mais poderosas tendo de negociar uma paridade única de uma moeda global?”

Disponível em <https://infograficos.estadao.com.br/focas/por-minha-conta/materia/e-possivel-uma-moeda-so/>

1. **Análise: “Imagine as nações mais poderosas tendo de negociar uma paridade única de uma moeda global?” E assinale a alternativa correta.**

- a) Não há preposições nesse trecho.
- b) “Poderosas” está grafado incorretamente.
- c) Há um verbo no Modo Imperativo.
- d) Não há numeral, apenas artigos.

2. **Análise: “A ideia de uma moeda única vem sendo defendida como uma maneira de transformar a tendência de integração financeira internacional em realidade” e assinale a alternativa que apresenta o núcleo do sujeito desse trecho.**

- a) Moeda.
- b) Financeira.
- c) Tendência.
- d) Ideia.

3. **Análise: “A ideia de uma moeda única vem sendo defendida como uma maneira de transformar a tendência de integração financeira internacional em realidade, uma vez que hoje a economia trabalha quase sem fronteiras. Seria um cenário dos sonhos para viajantes compulsivos, já que as tediosas idas às casas de câmbio seriam extintas.” E assinale a alternativa incorreta.**

- a) Após “hoje”, poderia utilizar uma vírgula.
- b) A crase deste trecho está incorreta.
- c) A vírgula antes de “já que” está correta.
- d) “Vem sendo defendida” é uma locução verbal.

4. **O uso de verbos no Futuro do Pretérito do Modo Indicativo indica que**

- a) algo poderia acontecer após uma situação do passado; no entanto, é uma incerteza.
- b) é uma certeza do que acontecerá caso tenhamos uma moeda global.
- c) uma moeda global seria um desastre.
- d) é uma ordem e deve ser cumprida.

5. **Para que o trecho a seguir, tenha um sujeito oculto, qual adaptação seria necessária?**

“Os futurologistas acreditam na hipótese da moeda única.”

- a) Isso não é possível fazer.
- b) Acrescentar ao trecho “alguns” antes de “futurologistas”.
- c) Retirar do trecho “os futurologistas”.
- d) Substituir “os futurologistas” por “eles”.

6. **Análise: “quem controlar essa moeda controlará a liquidez do dinheiro no mundo” e assinale a alternativa que apresenta a classificação correta desta oração.**

- a) Oração Subordinada Adverbial Causal.
- b) Oração Subordinada Adverbial Conformativa.
- c) Oração Subordinada Adverbial Consecutiva.
- d) Oração Subordinada Adverbial Final.

7. **Assinale a alternativa cujo trecho a seguir foi reescrito de maneira que não altere seu sentido.**

“Além da questão da praticidade, existe a vantagem de que acabariam os problemas de especulação cambial”

- a) “Portanto, da questão da praticidade, existe a vantagem de que acabariam os problemas de especulação cambial”
- b) “Em conformidade com a questão da praticidade, existe a vantagem de que acabariam os problemas de especulação cambial”
- c) “Sendo a questão da praticidade, existe a vantagem de que acabariam os problemas de especulação cambial”
- d) “Ademais da questão da praticidade, existe a vantagem de que acabariam os problemas de especulação cambial”

8. Analise: “É a taxa de câmbio, ou a moeda mais barata, que faz os países mais pobres conseguirem manter seu produto competitivo ante os produzidos em países com economias maiores.” E assinale a alternativa que apresenta a conjugação correta do verbo “fazer”, caso a conjunção “ou” fosse substituída por “e”.

- a) Fazem.
- b) Faz.
- c) Fazemos.
- d) Fazeis.

9. Assinale a alternativa que apresenta a figura de linguagem correta para a expressão “jogar a ideia no ralo”.

- a) Metáfora.
- b) Eufemismo.
- c) Ironia.
- d) Gradação.

10. De acordo com o texto, é possível afirmar que

- a) a comercialização global já é sem fronteiras.
- b) a economia global ainda enfrenta fronteiras.
- c) a escolha de uma moeda global ficará na mão de um único país.
- d) em países ricos, os produtos serão mais baratos.

Matemática/Raciocínio Lógico

11. Considere verdadeira a declaração: “Todos os cachorros caramelos são vira-latas.” Com base nessa declaração, assinale a alternativa que corresponde a uma argumentação correta.

- a) Bob é um cachorro vira-lata, portanto é caramelo.
- b) Bob é um cachorro vira-lata, portanto não é caramelo.
- c) Rex é um cachorro caramelo, portanto é vira-lata.
- d) Rex é um cachorro caramelo, portanto não é vira-lata.

12. Em uma pesquisa de mercado, foram entrevistadas 300 pessoas sobre a preferência delas pelas marcas de café A e B. Do total de entrevistados, 10% consomem as duas marcas; 15% consomem apenas a marca A e 30% consomem apenas a marca B. O restante dos entrevistados não consome nenhuma das duas marcas. Quantas pessoas não consomem as marcas de café A e B?

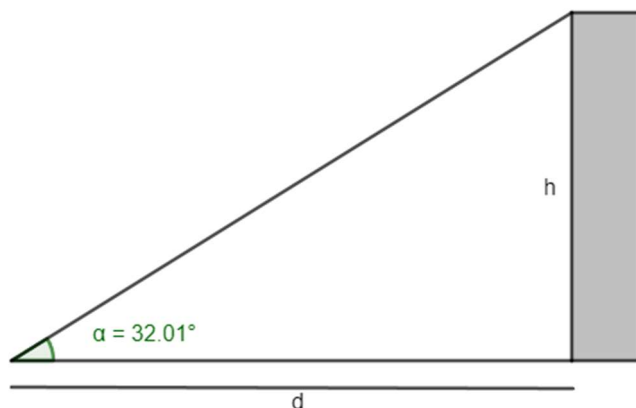
- a) 165.
- b) 155.
- c) 145.
- d) 135.

13. O volume de um tronco de pirâmide de 6 cm de altura e cujas áreas das bases são iguais a 25 cm^2 e 16 cm^2 corresponde a

- a) 122 cm^3
- b) 128 cm^3
- c) 132 cm^3
- d) 136 cm^3

14. A uma distância de $d = 60 \text{ m}$ uma torre é vista sob um ângulo α , como mostra a figura.

Calcule a altura h da torre em metros. Considere $\text{tg } 32,01^\circ = 0,625$.



- a) 37,5 m
- b) 36,6 m
- c) 35,4 m
- d) 34,3 m

15. Em determinado estacionamento cobra-se R\$ 5,00 por hora que o veículo permanece estacionado, somado a uma taxa fixa de R\$ 3,50. Seja t o número de horas que um veículo permanece estacionado e P o preço a ser pago, assinale a seguir a equação que descreve, em reais, o valor de P .

- a) $P = 5 \cdot t$
- b) $P = 5 \cdot t + 3,50$
- c) $P = 3,5 \cdot t + 5$
- d) $P = 3,5 \cdot t + 3,5$

16. Considere a função $f(x) = \log_2(x + 5)$, é possível afirmar que

- a) a função pode ser definida somente para x maior ou igual a 5.
- b) a função pode ser definida somente para x maior ou igual a -5.
- c) a função pode ser definida somente para valores de x maiores que -5.
- d) a função pode ser definida somente para valores de x menores que -5.

17. Considere um prisma de base hexagonal com a medida do lado igual a 4 cm, e altura igual a 10 cm. O volume do prisma é de

- a) $40\sqrt{3} \text{ cm}^3$
- b) $100\sqrt{3} \text{ cm}^3$
- c) $180\sqrt{3} \text{ cm}^3$
- d) $240\sqrt{3} \text{ cm}^3$

18. Considere as matrizes $A = \begin{bmatrix} 2 & 1 & 4 \\ 3 & 1 & -2 \end{bmatrix}$ e $B = \begin{bmatrix} 1 & 0 \\ 2 & -1 \\ -1 & -3 \end{bmatrix}$. Assinale a alternativa que apresenta a matriz transposta de $A \times B$.

- a) $\begin{bmatrix} 0 & -13 \\ 7 & 5 \end{bmatrix}$
 b) $\begin{bmatrix} 5 & -13 \\ 7 & 0 \end{bmatrix}$
 c) $\begin{bmatrix} 0 & 7 \\ -13 & 5 \end{bmatrix}$
 d) $\begin{bmatrix} -13 & 0 \\ 5 & 7 \end{bmatrix}$

19. O ponto $A(m + 1; 2m - 3)$ pertence à bissetriz dos quadrantes pares. Então, o valor de m é

- a) 2.
 b) 3.
 c) 4.
 d) 5.

20. Considere a função $f(x) = \sqrt{\frac{x+3}{x-1}}$, assinale a alternativa que apresenta corretamente o domínio da função $f(x)$.

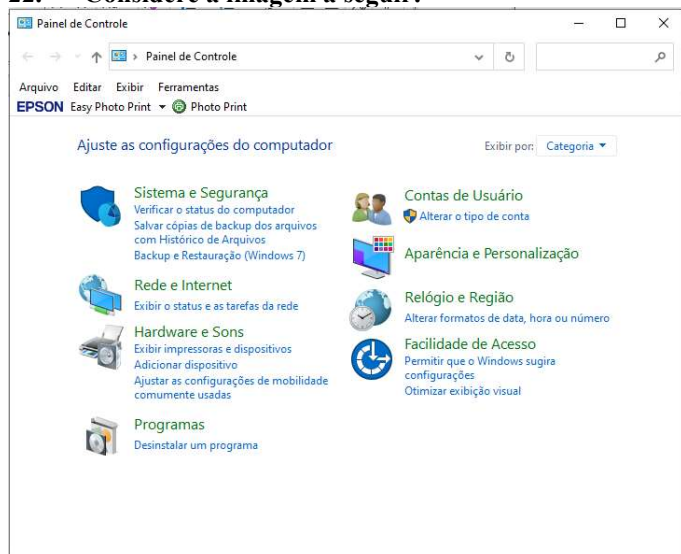
- a) $D(f) = (-\infty, -3] \cup (1, +\infty)$
 b) $D(f) = (-\infty, -3] \cup (1, +\infty)$
 c) $D(f) = (-\infty, -1] \cup (3, +\infty)$
 d) $D(f) = (-\infty, -3) \cup (1, +\infty)$

Informática Básica

21. Navegador é um software que facilita a navegação na internet. Existem diferentes navegadores que podem ser usados dependendo do dispositivo e do sistema operacional. Pautando-se nessas informações, assinale a alternativa que apresenta somente nomes de navegadores.

- a) Opera – Mozilla Firefox – Safari – Edge.
 b) Google Chrome – Edge – Internet Explorer – Google.
 c) Safari – Edge – Bing – Opera.
 d) Google – Mozilla Firefox – Edge – Opera.

22. Considere a imagem a seguir:



Fonte: Painel de Controle – Windows 10.

A respeito do Painel de Controle do Windows 10, informe se é verdadeiro (V) ou falso (F) e assinale a alternativa com a sequência correta.

- () Uma forma fácil de abrir o Painel de Controle no Windows 10 é abrir o menu Iniciar e simplesmente digitar "Painel de Controle".
 () Ao clicar em "Exibir por", o usuário pode alterar o modo de exibição do painel de controle para: ícones grandes, ícones médios e ícones pequenos.
 () O painel de controle só pode ser acessado no modo de segurança do Windows.
 () Programas e recursos podem ser removidos através do painel de controle.
 a) V – V – F – V.
 b) V – F – F – F.
 c) V – F – F – V.
 d) F – F – F – V.

23. Dados e valores podem ser exibidos graficamente usando o Excel 365. O Excel dispõe de uma variedade de tipos de gráficos que podem ser utilizados de acordo com a necessidade do usuário. Sendo assim, analise os gráficos a seguir:

Gráfico 1

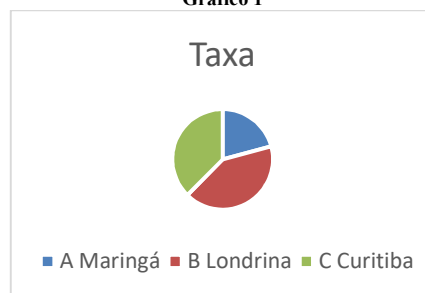


Gráfico 2

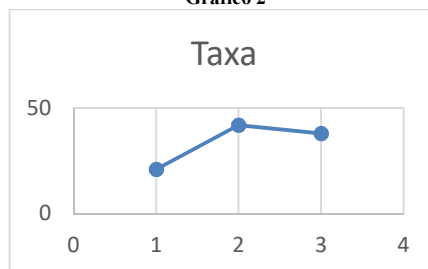



Gráfico 3



Fontes: Exemplos de gráficos. Microsoft Excel 365.

Pautando-se nas informações disponíveis nas imagens, assinale a alternativa com a sequência correta com os tipos de gráficos apresentados.

- a) (I) Gráfico de Pizza – (II) Gráfico de Linha – (III) Gráfico de Radar.
 b) (I) Gráfico de Pizza – (II) Gráfico de Dispersão – (III) Gráfico de Área.
 c) (I) Gráfico de Pizza – (II) Gráfico Histograma – (III) Gráfico de Radar.
 d) (I) Gráfico de Pizza – (II) Gráfico de Dispersão – (III) Gráfico Mapa de Árvore.

24. O Microsoft Excel 365 contém 9 guias, entre elas temos: Página Inicial, Fórmulas e Dados. Em qual guia do Excel 365 estão localizados os grupos Gráficos e Tabelas?

- a) Guia Dados.
- b) Guia Exibir.
- c) Guia Arquivo.
- d) Guia Inserir.

25. Considere a imagem a seguir:

O Microsoft Word oferece aos usuários muitas possibilidades e opções para a formatação de textos.

Fonte: Microsoft Word 365.

A partir das informações apresentadas na imagem, analise as assertivas e assinale a alternativa correta:

- I. A frase acima contém palavras destacadas em: negrito, itálico, sublinhado e taxado.
 - II. A parte “aos usuários muitas” está em itálico e sublinhado.
 - III. A parte “para a formatação de textos” está com taxado duplo.
 - IV. A parte “para a formatação de textos” está sobrescrita.
- a) Apenas I está correta.
 - b) Apenas I e II estão corretas.
 - c) Apenas II e III estão corretas.
 - d) Apenas I, II e III estão corretas.

Conhecimentos Gerais e Atualidades

26. Os direitos humanos buscam estabelecer condições mínimas de vida e dignidade para qualquer ser humano, em qualquer país. No Brasil, a Constituição de 1988 tratou de estabelecer direitos e deveres para todos os brasileiros e estrangeiros que vivem no país, em busca de uma sociedade mais igualitária e justa. Qual documento inspirou a criação dos direitos e deveres elencados na CF 88?

- a) Constituição Cidadã de 1967.
- b) Declaração Universal dos Direitos Humanos de 1948.
- c) Guia de orientação das Nações Unidas no Brasil para denúncias de discriminação étnico-racial.
- d) Constituição dos Estados Unidos da América.

27. Sobre a Constituição de 1988, assinale a alternativa que preencha corretamente as lacunas.

A Constituição de 1988 foi resultado da _____ empossada em 1987. É considerada o marco que inaugurou o período democrático do Brasil conhecido como _____ e foi formulada atendendo a diversos interesses e demandas da população brasileira. Seu texto final foi promulgado por _____, o presidente da Constituinte, e é considerado bastante _____ em relação às questões sociais e garantias das liberdades individuais. Apesar disso, a Constituição sofre _____ de juristas e intelectuais.

- a) Assembleia Legislativa / Ditadura / Ulysses Guimarães / avançado / críticas
- b) Assembleia Constituinte / Nova República / Ulysses Guimarães / avançado / críticas
- c) Comitativa da ONU / Velha República / José Sarney / conservador / elogios
- d) Ditadura / República Federativa / José Sarney / conservador / elogios

28. Em fevereiro de 2023, o presidente dos EUA, Joe Biden, recebeu o presidente Luiz Inácio Lula da Silva (PT) na Casa Branca. Os dois conversaram brevemente e posaram para fotos, antes de entrarem na sede do governo americano para uma reunião. Após essa reunião, que foi a principal medida anunciada divulgada?

- a) Aporte de US\$50 milhões, ou R\$ 270 milhões, para o Fundo Amazônia.
- b) Aporte de US\$50 milhões, ou R\$ 270 milhões, para a erradicação da pobreza no Brasil.
- c) União de forças entre os países para incentivar o fim da guerra na Ucrânia.
- d) Colaboração entre os países para realização de intercâmbio de tecnologia para o combate ao tráfico de drogas.

29. Moradores de centenas de aldeias na Floresta Amazônica se tornaram vítimas da maior crise humanitária do país neste século. Segundo vários relatos, esse povo indígena foi vítima do garimpo ilegal, violência sexual, doenças e morte para adultos e crianças, estes fatos vieram à tona em 2023. Qual o povo indígena descrito no texto acima?

- a) Caingangues.
- b) Xavantes.
- c) Yanomami.
- d) Pataxós.

30. Após os deslizamentos de terra nas BR-376 e BR-277 causados pelas chuvas que prejudicaram o Paraná, outra região do país foi castigada pelas chuvas intensas, deslizamentos de terra e várias mortes foram registradas. A cidade mais atingida foi São Sebastião. Qual a região descrita no trecho acima?

- a) Litoral norte de Santa Catarina.
- b) Litoral sul do Rio Grande do Sul.
- c) Região dos lagos no Rio de Janeiro.
- d) Litoral norte de São Paulo.

Conhecimentos Específicos

31. Assinale a alternativa que corresponde à definição: o processo de planejamento, implementação e controle do fluxo e armazenamento econômico de matérias-primas, materiais semiacabados e produtos acabados, bem como as informações a eles relativas, desde o ponto-de-origem até o ponto-de-consumo, com o propósito de atender às exigências dos clientes. (LAMBERT; STOCK; VANTINE, 1998)
- Logística.
 - Cadeia de suprimentos.
 - Gestão de estoque.
 - Gestão da produção.
32. A atividade logística deve ser vista por meio de duas grandes ações que são denominadas de primárias e de apoio. Analise as assertivas e assinale a alternativa que apresenta apenas atividades primárias.
- Sistema de informação.
 - Armazenagem.
 - Transportes.
 - Manutenção de estoques.
 - Suprimentos.
 - Embalagem.
 - Processamento de pedidos.
- Apenas I, III, IV, V e VII.
 - Apenas II, III, V e VI.
 - Apenas III, IV e VII.
 - Apenas IV, V e VII.
33. De acordo com a Lei nº 14.133, de 1º de abril de 2021, o planejamento de compras deverá considerar a expectativa de consumo anual e atender aos princípios, exceto:
- da padronização, considerada a compatibilidade de especificações estéticas, técnicas ou de desempenho.
 - de contratações com sobrepreço ou com preços manifestamente inexequíveis e superfaturamento na execução dos contratos.
 - do parcelamento, quando for tecnicamente viável e economicamente vantajoso.
 - da responsabilidade fiscal, mediante a comparação da despesa estimada com a prevista no orçamento.
34. Licitação sustentável é aquela que integra considerações socioambientais em todas as suas fases, com o objetivo de reduzir impactos negativos sobre o meio ambiente e, via de consequência, aos direitos humanos. Trata-se de uma expressão abrangente, uma vez que não está delimitada pelo procedimento licitatório em si, mas perpassa todas as fases da contratação pública, desde o planejamento até a fiscalização da execução dos contratos e a gestão dos resíduos. São práticas sustentáveis:
- baixo impacto sobre recursos naturais como flora, fauna, ar, solo e água.
 - preferência para materiais, tecnologias e matérias-primas de origem local.
 - maior eficiência na utilização de recursos naturais como água e energia.
 - maior geração de empregos, preferencialmente com mão de obra local.
 - menor vida útil e maior custo de manutenção do bem e da obra.
- VI. uso de inovações que aumentem a pressão sobre recursos naturais.
- VII. origem sustentável dos recursos naturais utilizados nos bens, nos serviços e nas obras.
- Apenas duas estão incorretas.
 - Apenas três estão incorretas.
 - Apenas quatro estão incorretas.
 - Apenas cinco estão incorretas.
35. É uma quantidade mínima de peças que tem que existir no estoque com a função de cobrir as possíveis variações do sistema. Trata-se do
- lote de compra.
 - estoque de segurança.
 - ponto de pedido.
 - estoque máximo.
36. A curva ABC é um instrumento que permite ao administrador identificar aqueles itens que justificam atenção e tratamento adequados. Essa curva é obtida através da ordenação dos itens de estoque, de acordo com a sua importância relativa. Com relação às classes da curva ABC, relacione as colunas e assinale a alternativa com a sequência correta.
- Classe A.
 - Classe B.
 - Classe C.
- () Uma parcela intermediária dos itens é responsável por parte considerável do custo do estoque
- () Uma pequena porcentagem dos itens é responsável por grande parte do custo do estoque.
- () Uma grande porcentagem dos itens é responsável por pequena parte do custo do estoque.
- 1 – 3 – 2.
 - 1 – 2 – 3.
 - 2 – 3 – 1.
 - 2 – 1 – 3.
37. Assinale a alternativa que preencha corretamente as lacunas sobre o método de avaliação de estoque a seguir. O método _____ é baseado na cronologia de entradas e saídas. O procedimento de baixa dos itens de estoque é feito para ordem de entrada do material na empresa, o _____.
- PEPS / primeiro que entra será o primeiro que sairá
 - Custo Médio / primeiro a sair deve ser o último que entrou
 - UEPS / processo tem por metodologia a fixação de preço médio entre todas as entradas e saídas
 - UEPS / primeiro que entra será o primeiro que sairá
38. O estoque onde estão as peças que servem de apoio à manutenção dos equipamentos e edifícios, tais como peças, ferramentas etc., e o estoque composto pelo material que ajuda e participa na execução e transformação do produto, porém não se agrega a ele, mas é imprescindível no processo de fabricação, são, respectivamente:
- o almoxarifado de manutenção e o almoxarifado intermediário.
 - o almoxarifado de materiais auxiliares e o almoxarifado de manutenção.
 - o almoxarifado de manutenção e o almoxarifado de materiais auxiliares.
 - o almoxarifado de materiais auxiliares e o almoxarifado intermediário.

39. Assinale a alternativa que preencha corretamente as lacunas.

O inventário físico é a ferramenta de controle dos estoques dos almoxarifados e do ativo imobilizado (bens patrimoniais). Há dois modos de se efetua-lo: o inventário _____ consiste no levantamento rotativo, contínuo e seletivo dos materiais existentes em estoque ou daqueles permanentes distribuídos para uso; já no inventário _____, efetua-se a contagem de todos os itens em determinados períodos. Quando essa rotina é realizada no encerramento do exercício fiscal (o que é comum), o inventário é também chamado de _____.

- a) rotativo / inicial / periódico
- b) geral / periódico / geral
- c) geral / inicial / periódico
- d) rotativo / periódico / geral

40. Sobre a embalagem para transporte, analise as assertivas e assinale a alternativa correta.

I. A embalagem deve seguir regras específicas de acordo com cada tipo de transporte e com o ambiente onde o produto será manuseado e movimentado, não havendo exigências legais para cada tipo ou especificação do produto.

II. Há de se buscar sempre a melhor maneira possível de manusear e movimentar a embalagem com a máxima proteção ao produto e ao meio ambiente, e com o menor custo possível.

III. A embalagem de movimentação não influencia na redução de perdas, extravios, armazenagem incorreta e danos durante o manuseio dos produtos.

IV. As embalagens para transportes podem ser de madeira, tambores, fardos, recipientes plásticos e sistemas blister.

- a) Todas as assertivas estão corretas.
- b) Apenas três assertivas estão corretas.
- c) Apenas duas assertivas estão corretas.
- d) Apenas uma assertiva está correta.

