



CÂMARA MUNICIPAL DE TATUÍ

ESTADO DE SÃO PAULO

CONCURSO PÚBLICO

004. PROVA OBJETIVA

AGENTE LEGISLATIVO DE SERVIÇOS OPERACIONAIS – MOTORISTA

- ◆ Você recebeu sua folha de respostas e este caderno contendo 50 questões objetivas.
- ◆ Confira seus dados impressos na capa deste caderno e na folha de respostas.
- ◆ Quando for permitido abrir o caderno, verifique se está completo ou se apresenta imperfeições. Caso haja algum problema, informe ao fiscal da sala para a devida substituição desse caderno.
- ◆ Leia cuidadosamente todas as questões e escolha a resposta que você considera correta.
- ◆ Marque, na folha de respostas, com caneta de tinta preta, a letra correspondente à alternativa que você escolheu.
- ◆ A duração da prova é de 4 horas, já incluído o tempo para o preenchimento da folha de respostas.
- ◆ Só será permitida a saída definitiva da sala e do prédio após transcorrida 1 hora do início da prova.
- ◆ Deverão permanecer em cada uma das salas de prova os 3 últimos candidatos, até que o último deles entregue sua prova, assinando termo respectivo.
- ◆ Ao sair, você entregará ao fiscal a folha de respostas e este caderno.
- ◆ Até que você saia do prédio, todas as proibições e orientações continuam válidas.

AGUARDE A ORDEM DO FISCAL PARA ABRIR ESTE CADERNO.

Nome do candidato _____

RG _____

Inscrição _____

Prédio _____

Sala _____

Carteira _____

CONHECIMENTOS GERAIS

LÍNGUA PORTUGUESA

Leia o texto a seguir para responder às questões de **01** a **09**:

O céu pode esperar

Certa manhã acordei com uma rádio de Belo Horizonte noticiando que Humberto Werneck havia morrido. Para quem, como eu, chama-se Humberto Werneck, não há pior maneira de começar o dia.

Nem um minuto se passou e em nossa casa começaram a desabar dezenas de telefonemas, de amigos e parentes consternados com o meu falecimento. Não me ocorreu saborear aquelas manifestações póstumas de estima e consideração. Estava ressabiadíssimo.

Pelo meio-dia, já mais à vontade, veio-me a ideia macabra de comparecer a meu próprio velório. Só não fui porque minha mãe me alertou para as imprevisíveis consequências de encontrar, à beira do caixão, alguém que ali chegasse para me velar.

Durante anos, de fato, volta e meia topei com pessoas que me julgavam morto – um conhecido deixou cair uma garrafa de cerveja ao me ver entrar, vivinho, na Lanchonete Nacional. Mas não foi desse susto, felizmente, que meu amigo veio a morrer, pouco tempo mais tarde.

Quanto a mim, acabei tropeçando um dia com o que poderia ser o meu túmulo, enquanto procurava o de meus avós no cemitério Bonfim. Não há como descrever a sensação de ler, numa lápide negra, o nosso nome e as datas de nascimento e morte.

Fui à Administração e exumei a ficha: o inquilino da sepultura era um segundo-sargento da Polícia Militar mineira.

Fosse apenas o sargento – mas não: tempos depois, me morre outro Humberto Werneck, no Rio de Janeiro. Nunca mais me livre da impressão de que, já tendo morrido dois, a bola da vez, agora, sou eu.

(Humberto Werneck, "O céu pode esperar", *O espalhador de passarinhos*, 2010. Adaptado)

01. O cronista desistiu da ideia de ir ao velório porque

- (A) respeitou o fato de sua mãe julgar a ideia macabra.
- (B) desconfiou que a notícia veiculada pela rádio fosse falsa.
- (C) precisou atender familiares e amigos que lhe telefonavam.
- (D) receou encontrar alguém que lá estivesse a fim de velá-lo.
- (E) temeu estar à beira do que poderia ser o próprio caixão.

02. No trecho "... um conhecido deixou cair uma garrafa de cerveja ao me ver entrar, **vivinho**, na Lanchonete Nacional." (4º parágrafo), a palavra destacada

- (A) ironiza o fato de o cronista não ter morrido.
- (B) demonstra a afeição do conhecido pelo cronista.
- (C) atenua o desconforto do cronista com a ideia da morte.
- (D) minimiza a surpresa do conhecido ao ver o cronista.
- (E) enfatiza a ideia de o cronista estar vivo.

03. Assinale a alternativa em que a palavra em destaque foi empregada em sentido figurado.

- (A) "Para quem, como eu, chama-se Humberto Werneck, não há pior maneira de **começar** o dia." (1º parágrafo)
- (B) "Nem um minuto se passou e em nossa casa começaram a **desabar** dezenas de telefonemas..." (2º parágrafo)
- (C) "Só não fui porque minha mãe me alertou para as imprevisíveis **consequências**..." (3º parágrafo)
- (D) "Não há como descrever a sensação de ler, numa **lápide** negra, o nosso nome..." (5º parágrafo)
- (E) "Nunca mais me livre da impressão de que, já tendo **morrido** dois..." (7º parágrafo)

04. No trecho "Fui à Administração e exumei a ficha: o inquilino da sepultura era um segundo-sargento da Polícia Militar mineira." (6º parágrafo), o cronista emprega dois-pontos a fim de

- (A) anunciar que, no túmulo que deveria pertencer a sua família, fora enterrada por engano uma pessoa de nome idêntico ao seu.
- (B) revelar seu espanto diante do fato de pessoa de nome idêntico ao seu ter sido pessoa de importância pública e relevância social.
- (C) introduzir informação encontrada no arquivo do cemitério sobre a identidade de pessoa de nome idêntico ao seu ali enterrada.
- (D) organizar cronologicamente as ações de ir à Administração do cemitério e de verificar a identidade de pessoa de nome idêntico ao seu.
- (E) enfatizar que os dados presentes na lápide não correspondiam às informações do arquivo do cemitério.

05. No trecho "... Humberto Werneck **havia morrido**." (1º parágrafo), a expressão destacada pode ser substituída, sem prejuízo do sentido original, por:

- (A) morrera
- (B) morreu
- (C) morria
- (D) morreria
- (E) morrerá

06. Considere as passagens do 4º parágrafo a seguir:

- "... **volta e meia** topei com pessoas que me julgavam morto..."
- "... não foi **desse susto**, felizmente, que meu amigo veio a morrer..."

As expressões destacadas apresentam, correta e respectivamente, circunstâncias de

- (A) tempo e causa.
- (B) tempo e intensidade.
- (C) modo e intensidade.
- (D) meio e causa.
- (E) modo e modo.

07. No trecho "... alguém que ali chegasse **para** me velar" (3º parágrafo), o termo "para" apresenta o mesmo sentido da palavra destacada em:

- (A) Todos foram **para** o lado de fora da casa quando ouviram o estrondo.
- (B) As crianças chegaram ao teatro quando o espetáculo estava **para** começar.
- (C) **Para** os alunos, as questões da prova de português não estavam difíceis.
- (D) Por causa da chuva, as pessoas resolveram deixar a corrida **para** outro dia.
- (E) O jovem economizou dinheiro **para** a compra de uma bicicleta nova.

08. Considere as passagens a seguir:

- "... um conhecido deixou cair uma garrafa de cerveja **ao me ver** entrar..." (4º parágrafo)
- "... **já tendo morrido** dois, a bola da vez, agora, sou eu." (7º parágrafo)

Preservando-se o sentido original, os trechos destacados podem ser, correta e respectivamente, substituídos por:

- (A) enquanto me via ... como já morreram
- (B) quando me viu ... como já morreram
- (C) na medida em que me viu ... como já morreram
- (D) quando me viu ... de modo que já morreram
- (E) na medida em que me viu ... de modo que já morreram

09. Assinale a alternativa que apresenta corretamente uma frase, elaborada a partir do texto, em que a norma-padrão de colocação pronominal foi plenamente respeitada.

- (A) Sempre pode-se encontrar pessoas com nomes idênticos ou parecidos.
- (B) O cronista cogitou ir ao velório, mas não pareceu-lhe boa ideia.
- (C) Se espera que os cemitérios mantenham seus arquivos em ordem.
- (D) O autor impressionou-se com o fato de haver dois mortos com seu nome.
- (E) O autor fez menção a um amigo que assustou-se ao encontrá-lo.

Leia o texto a seguir para responder às questões de 10 a 12:

Sobre a barulheira e a verdade dos fatos

Para que serve a imprensa, afinal? Por que o cidadão não deveria simplesmente substituir os jornais pelos aplicativos de mensagem da vida? A resposta é: a imprensa é o único método social capaz de ajudar o público a examinar, com base nos fatos, o exercício do poder. Não há, em qualquer modelo de democracia conhecido, outra instituição que entregue esse serviço para a sociedade. As redes sociais não fazem isso. Não apuram os fatos e não fornecem relatos confiáveis para abastecer o debate político mais consequente.

A imprensa nos entrega ainda outro benefício. Ela expande na prática a liberdade de expressão e o direito à informação. Com isso, dá mais vigor à política democrática.

Portanto, se trocassem as redações profissionais por redes sociais, os cidadãos renunciariam a tudo aquilo que faz deles cidadãos e se reduziriam a meros espectadores do entretenimento generalizado. Estariam trocando uma assembleia por um programa de auditório. Em outras palavras, estariam deixando de lado o diálogo amparado em balizas racionais e abandonando o debate entre argumentos para embarcar no fanatismo. O barulho das redes, em lugar de contribuir para identificar os fatos, só faz soterrá-los e condená-los ao esquecimento.

(Eugênio Bucci, "Sobre a barulheira e a verdade dos fatos". Disponível em: <https://www.estadao.com.br/opiniaao/eugenio-bucci/sobre-a-barulheira-e-a-verdade-dos-fatos/>. 29.06.2025. Adaptado)

10. Na opinião do autor, em uma sociedade democrática, a imprensa é a única instituição capaz de

- (A) propiciar o engajamento político da população mais jovem.
- (B) oferecer um método que afaste as pessoas das redes sociais.
- (C) auxiliar as pessoas na análise de ações governamentais.
- (D) despertar a confiança irrestrita dos cidadãos.
- (E) impedir que as pessoas renunciem à liberdade de expressão.

11. Para o autor, a substituição da imprensa pelas redes sociais

- (A) proporcionaria maior democratização do acesso à informação.
- (B) afastaria as pessoas das discussões baseadas em argumentos.
- (C) levaria a um tipo de participação política mais racional e consistente.
- (D) diminuiria a exposição das pessoas a notícias e informações falsas.
- (E) facilitaria o acesso do público a opiniões bem fundamentadas.

12. No trecho "... e se reduziram a **meros** espectadores do entretenimento generalizado." (3º parágrafo), a palavra destacada pode ser substituída, sem prejuízo do sentido original, por:
- (A) únicos
(B) atentos
(C) inquestionáveis
(D) simples
(E) especiais
13. Assinale a alternativa redigida em conformidade com a norma-padrão de concordância verbal.
- (A) Existe muitas pessoas que buscam informações e notícias exclusivamente nas redes sociais.
(B) Sempre houveram notícias falsas, mas, com a internet, sua disseminação tornou-se mais fácil.
(C) É imprescindível que se ensinem às pessoas maneiras de identificar notícias falsas na internet.
(D) Um dos maiores desafios atuais são o combate aos discursos de ódio que se proliferam nas redes sociais.
(E) Fazem alguns anos que muitas pessoas deixaram de ler jornais e revistas impressos.
14. Assinale a alternativa redigida em conformidade com a norma-padrão de regência verbal.
- (A) Há pessoas que preferem às mensagens de aplicativos do que os textos publicados em jornais.
(B) A imprensa propicia em condições para que as pessoas adquiram informações sobre os fatos.
(C) A imprensa é fundamental para que se fomente de um debate público de qualidade.
(D) As trocas de mensagens em redes sociais muitas vezes acarretam em disputas acaloradas.
(E) Por meio de postagens em redes sociais, influenciadores digitais costumam aspirar à fama.
15. Leia a passagem a seguir:
- Todo filósofo está aberto _____ dúvida, está sempre em marcha; o porto _____ que chega é apenas etapa de uma viagem sem fim. É preciso estar sempre disposto _____ zarpar de novo.
- (Norberto Bobbio, *Elogio da serenidade e outros escritos morais*, 2000. Adaptado)
- As lacunas devem ser, correta e respectivamente, preenchidas por:
- (A) à ... a ... a
(B) à ... a ... à
(C) à ... à ... a
(D) a ... à ... a
(E) a ... a ... à

16. Uma loja comprou um lote de lâmpadas, das quais $\frac{1}{8}$ apresentou defeito e, portanto, não foi comercializado. As demais lâmpadas foram todas comercializadas, de modo que $\frac{5}{7}$ delas foram vendidas a R\$ 23,00 a unidade, e as últimas 100 lâmpadas foram colocadas na promoção, sendo todas vendidas por R\$ 18,00 cada uma.
- Qual foi o valor total obtido com a venda das lâmpadas desse lote, em reais?
- (A) 7.550,00
(B) 7.100,00
(C) 6.650,00
(D) 6.200,00
(E) 5.750,00
17. Em um depósito, há 210 peças do tipo A e 126 peças do tipo B. Todas essas peças serão colocadas em caixas, cada caixa com o mesmo número de peças, sendo esse número o maior possível.
- Nessas condições, e sabendo que cada caixa só pode conter peças de um mesmo tipo, é correto afirmar que o número total de caixas necessárias é
- (A) 4.
(B) 5.
(C) 6.
(D) 7.
(E) 8.
18. No mês de abril, uma empresa contratou 2 funcionários para o setor administrativo e dispensou 3 funcionários do setor de vendas, o que fez os dois setores passarem a ter o mesmo número de funcionários.
- Sabendo que o número de funcionários dispensados corresponde a 25% da soma do número de funcionários que trabalham agora nesses dois setores, é correto afirmar que o número de funcionários do setor de vendas, antes das dispensas, era
- (A) 6.
(B) 8.
(C) 9.
(D) 12.
(E) 15.

19. Um funcionário de uma empresa precisava fazer 18 relatórios. Após 1 dia de trabalho, a razão do número de relatórios finalizados para o número de relatórios ainda não finalizados era $\frac{2}{7}$.

Mantendo sempre o mesmo número de relatórios finalizados por dia, o menor número de dias inteiros necessários para terminar os relatórios que faltam é

- (A) 1.
- (B) 2.
- (C) 3.
- (D) 4.
- (E) 5.

20. Em uma indústria, determinada máquina, trabalhando sem interrupções, fabrica 5 peças em 4 minutos. Essa indústria comercializa essas peças em pacotes com 3 unidades, a R\$ 160,00 o pacote.

Para que essa indústria obtenha R\$ 28.800,00 com a venda dessas peças, o tempo que essa máquina teria que trabalhar, sem interrupções, para fabricar o número de peças necessárias seria

- (A) 6 horas e 58 minutos.
- (B) 7 horas e 12 minutos.
- (C) 7 horas e 20 minutos.
- (D) 7 horas e 36 minutos.
- (E) 7 horas e 44 minutos.

21. No arquivo de um escritório, todas as gavetas têm o mesmo número de processos, de modo que o número de processos de cada gaveta é igual a 7 vezes o número de gavetas. De $\frac{2}{3}$ do número de gavetas, foram retirados

3 processos de cada uma, e das demais gavetas foram retirados 9 processos de cada uma, no total de 30 processos retirados.

Após a retirada desses 30 processos, os processos restantes foram redistribuídos entre todas as gavetas, de modo que cada gaveta passou a ter o mesmo número de processos, que agora é

- (A) 40.
- (B) 41.
- (C) 39.
- (D) 37.
- (E) 34.

22. Em determinado setor de uma empresa, o valor gasto no pagamento do salário de um funcionário contratado e de um estagiário totaliza R\$ 6.075,00.

Qual é a diferença, em reais, entre o salário do funcionário contratado e o do estagiário, sabendo que o salário do estagiário corresponde a 35% do salário do funcionário contratado?

- (A) 2.126,00
- (B) 2.523,00
- (C) 2.925,00
- (D) 3.321,00
- (E) 3.724,00

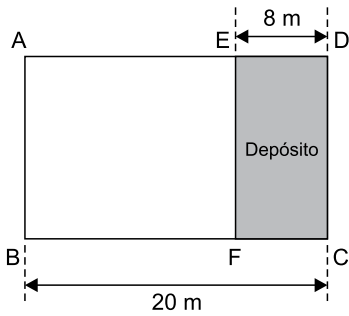
23. Uma empresa enviou orçamentos para diversos clientes. A tabela a seguir apresenta algumas informações sobre o número de orçamentos enviados em 5 dias de uma semana:

Dia	Número de orçamentos enviados
Segunda-Feira	?
Terça-Feira	12
Quarta-Feira	7
Quinta-Feira	6
Sexta-Feira	10

Sabendo que a média aritmética do número de orçamentos enviados nesses 5 dias foi 3 unidades a mais do que o número de orçamentos enviados na segunda-feira, é correto afirmar que a média aritmética do número de orçamentos enviados nesses 5 dias foi

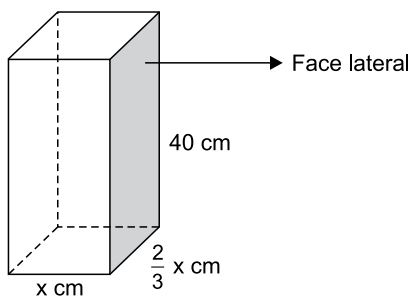
- (A) 4.
- (B) 5.
- (C) 6.
- (D) 7.
- (E) 8.

24. Em um salão retangular ABCD, com 20 m de comprimento, foi construído um depósito CDEF, também retangular, com DE = 8 m, conforme mostra a figura a seguir (fora de escala):



Quantos metros quadrados mede a área do salão, considerando que o perímetro do depósito é igual a $\frac{5}{8}$ do perímetro do salão?

- (A) 288
 (B) 240
 (C) 190
 (D) 144
 (E) 96
25. Um sólido de madeira, no formato de um prisma reto de base retangular, tem 40 cm de altura, e a medida da menor aresta da sua base é igual a $\frac{2}{3}$ da medida da maior aresta, conforme mostra a figura a seguir (fora de escala):



Sabendo que a área da face lateral destacada na figura é 320 cm^2 , é correto afirmar que o volume desse sólido é

- (A) 3.840 cm^3 .
 (B) 4.320 cm^3 .
 (C) 4.800 cm^3 .
 (D) 5.280 cm^3 .
 (E) 5.760 cm^3 .

LEGISLAÇÃO

26. Hipoteticamente, a Câmara Municipal de Tatuí instaurará uma Comissão Parlamentar de Inquérito (CPI) com o objetivo de investigar supostas sonegações fiscais cometidas por grupos empresariais em seus domínios, bem como as eventuais medidas que podem ser adotadas pelos órgãos de fiscalização para aprimorar o cumprimento da legislação tributária. A ideia da assessoria de imprensa da Câmara é noticiar o fato na página principal do site da Câmara Municipal, informando à população as características desse tipo de comissão, de acordo com a Lei Orgânica Municipal (LOM).

Com base na situação hipotética e no disposto na Lei Orgânica do Município de Tatuí, a notícia poderá informar, corretamente, que

- (A) a CPI deve ter por objeto fato determinado que se inclua na competência municipal e a sua instauração não depende da sanção do prefeito municipal.
- (B) a instauração da CPI pode ser proposta pelo presidente da Câmara Municipal ou por provocação da população, com a assinatura de 5% (cinco por cento) da população local.
- (C) o requerimento para a constituição da CPI precisa ser subscrito por todos os membros da Câmara Municipal e o seu funcionamento pode se dar por prazo indeterminado.
- (D) os membros da CPI poderão proceder a vistorias e levantamentos nas repartições públicas e em empresas privadas, bem como autorizar a quebra de sigilo bancário e fiscal dos investigados.
- (E) a CPI deve ser instaurada mediante requerimento subscrito pelo prefeito ou por 2/3 (dois terços) dos membros da Câmara Municipal, mas não pode ter por objeto a investigação de empresas privadas.

27. A respeito dos servidores públicos municipais, com base na Lei Orgânica do Município de Tatuí, assinale a alternativa correta.

- (A) A lei assegurará, aos servidores da administração direta, isonomia de vencimentos para cargos de atribuições iguais ou semelhantes do mesmo Poder ou entre servidores dos Poderes Executivo e Legislativo, ressalvadas as vantagens de caráter individual e as relativas à natureza ou ao local de trabalho.
- (B) É válida a estipulação de limite de idade para ingresso por concurso público na administração direta, em empresa pública, sociedade de economia mista, autarquias e fundações instituídas ou mantidas pelo Poder Público, respeitando-se a natureza das atribuições e o limite constitucional para aposentadoria compulsória.
- (C) A criação, a modificação e a extinção dos cargos da Câmara, bem como a fixação e a alteração de seus vencimentos, dependerão de lei de iniciativa da presidência da Câmara Municipal.
- (D) O servidor público municipal e seus parentes de até o segundo grau, natural, civil e por afinidade, em linha reta ou colateral, serão inamovíveis durante o mandato do vereador e na legislatura seguinte.
- (E) Ao servidor público que tiver a sua capacidade de trabalho reduzida em decorrência de acidente de trabalho ou doença do trabalho, será garantida a aposentadoria por invalidez e dispensada a submissão a avaliações periódicas.

28. De acordo com o regimento interno da Câmara Municipal de Tatuí, é correto afirmar que

- (A) as sessões não podem ser realizadas fora da sede da Câmara.
- (B) o presidente da Câmara não possui atribuições próprias, pois todas as funções de direção da Casa são exercidas pela Mesa.
- (C) é vedada a realização de sessões secretas.
- (D) os projetos de lei, em regra, devem ser aprovados com a concordância de dois terços dos membros da Câmara.
- (E) a Mesa da Câmara Municipal compõe-se do presidente, do vice-presidente, do primeiro-secretário e do segundo-secretário.

CONHECIMENTOS ESPECÍFICOS

29. Helena, com histórico de atuação no movimento estudantil, foi eleita vereadora da Câmara Municipal de Tatuí e está bastante empolgada com a missão de representar a população da cidade. Sua eleição para o cargo não era apontada como provável pelas pesquisas eleitorais realizadas antes da eleição, e ela mesma confessa que não tinha muita confiança na possibilidade real de se tornar vereadora. Por esse motivo, havia agendado uma série de compromissos profissionais e pessoais para o ano seguinte ao pleito. Agora, com esses compromissos previamente assumidos e com a nova função, ela procura o setor de pessoal da Câmara Municipal para saber exatamente quais licenças ou ausências são permitidas no exercício do mandato.

Com base na situação hipotética e no disposto no regimento interno da Câmara Municipal de Tatuí, é correto afirmar que

- (A) se considera motivo justo, a justificar faltas a sessões plenárias, o afastamento para participar de palestra técnica, fora do território brasileiro.
- (B) Helena poderá tirar, por exemplo, licença para tratar de interesses particulares, que nunca será inferior a 30 (trinta) dias nem superior a 90 (noventa) dias por sessão legislativa.
- (C) Helena, na condição de vereadora, poderá se ausentar de até 10 (dez) sessões plenárias por ano, sem motivo justificado, desde que renuncie à remuneração correspondente aos dias de falta.
- (D) Helena, sempre que se ausentar por motivo justificado, será substituída pelo respectivo suplente, a ser convocado pelo presidente da Câmara Municipal.
- (E) a legislação autoriza a ausência da vereadora para participar de reuniões ordinárias das Comissões Permanentes, sem prejuízo da remuneração, desde que aconteçam no primeiro ano do mandato e estejam relacionadas a compromissos profissionais assumidos antes da eleição.

30. De acordo com o regimento interno da Câmara Municipal de Tatuí, a respeito das sessões extraordinárias, é correto afirmar que

- (A) serão convocadas pelo presidente da Câmara.
- (B) serão preferencialmente diurnas e não poderão ser realizadas em domingos ou feriados.
- (C) só poderão ser instauradas com a presença de, no mínimo, metade dos membros da Câmara.
- (D) o presidente da Câmara poderá inserir, na Ordem do Dia, temas estranhos à convocação para deliberação da Casa, sempre que a medida atenda ao interesse público.
- (E) não poderão ser convocadas para o mesmo dia das sessões ordinárias e precisam ter por objeto temas que demandem deliberação célere do Poder Legislativo.

31. A troca de luz baixa e alta, de forma intermitente e por curto período de tempo, de acordo com o art. 40 do Código de Trânsito Brasileiro (CTB), tem como objetivo advertir outros motoristas que circulam no sentido contrário, com intenção de alertar a existência de risco à segurança, e também

- (A) informar a presença de comando.
- (B) indicar intenção de ultrapassagem.
- (C) indicar o término de pista dupla.
- (D) informar o início de pista dupla.
- (E) informar o início de faixa dupla.

32. Analise a figura a seguir:



(Arquivo pessoal; imagem usada com autorização)

Ela mostra uma via coletora não sinalizada com placa de velocidade máxima permitida. Nesse caso, de acordo com o Código de Trânsito Brasileiro (CTB), um condutor não poderá ultrapassar a velocidade máxima de

- (A) 10 km/h.
- (B) 15 km/h.
- (C) 20 km/h.
- (D) 30 km/h.
- (E) 40 km/h.

33. O estacionamento dos veículos motorizados de duas rodas será feito, de acordo com o art. 48 do CTB, junto à guia da calçada (meio-fio), salvo quando houver sinalização que determine outra condição, em posição

- (A) perpendicular.
- (B) diagonal.
- (C) longitudinal.
- (D) paralela.
- (E) angular.

34. De acordo com o artigo 46 do CTB, sempre que for necessária a imobilização temporária de um veículo no leito viário, em situação de emergência, deverá ser providenciada a imediata sinalização de advertência, na forma estabelecida
- (A) pelo DETRAN.
 - (B) pelo CONTRAN.
 - (C) pela Engenharia de Tráfego.
 - (D) pela Prefeitura.
 - (E) pela Polícia Militar.

35. Analise a figura a seguir:



(Arquivo pessoal; imagem usada com autorização)

Ela mostra uma via rural de pista simples que não está sinalizada com placa de velocidade máxima permitida. Nesse caso, a velocidade máxima permitida para uma caminhonete será de

- (A) 70 km/h.
 - (B) 80 km/h.
 - (C) 90 km/h.
 - (D) 100 km/h.
 - (E) 110 km/h.
36. Um condutor trafegando por uma rodovia onde a velocidade máxima era de 100 km/h, de acordo com a sinalização, foi flagrado por um radar existente no local a 148 km/h. Nesse caso, esse condutor poderá ser autuado com uma infração de trânsito que poderá gerar em seu prontuário da CNH
- (A) dois pontos.
 - (B) três pontos.
 - (C) quatro pontos.
 - (D) cinco pontos.
 - (E) sete pontos.

37. É considerada uma infração de trânsito parar o veículo onde houver sinalização horizontal delimitadora de ponto de embarque ou desembarque de passageiros de transporte coletivo ou, na inexistência desta sinalização, antes e depois do marco do ponto, com intervalo de
- (A) dez metros.
 - (B) oito metros.
 - (C) seis metros.
 - (D) quatro metros.
 - (E) dois metros.

38. Transitar com o veículo na faixa ou pista da direita, regulamentada como de circulação exclusiva para determinado tipo de veículo, de acordo com o art. 184, inciso I, exceto para acesso a imóveis limítrofes ou conversões à direita, é considerada uma infração
- (A) levíssima.
 - (B) gravíssima.
 - (C) grave.
 - (D) média.
 - (E) leve.

39. Seguir veículo em serviço de urgência, estando este com prioridade de passagem devidamente identificada por dispositivos regulamentares de alarme sonoro e iluminação intermitente, é considerada uma infração que poderá gerar no prontuário do infrator
- (A) três pontos.
 - (B) quatro pontos.
 - (C) cinco pontos.
 - (D) sete pontos.
 - (E) dez pontos.

40. A responsabilidade pela infração referente à prévia regularização e preenchimento das formalidades e condições exigidas para o trânsito do veículo na via terrestre, conservação e inalterabilidade de suas características, componentes, agregados, habilitação legal e compatível de seus condutores, quando esta for exigida, e outras disposições que deva observar, caberá sempre ao
- (A) embarcador.
 - (B) expedidor.
 - (C) contratante.
 - (D) proprietário.
 - (E) condutor.

41. De acordo com o art. 261, parágrafo § 5º, do CTB, no caso do condutor que exerce atividade remunerada ao veículo (EAR), a penalidade de suspensão do direito de dirigir será imposta quando o infrator atingir o limite de
- (A) 14 pontos.
 - (B) 20 pontos.
 - (C) 30 pontos.
 - (D) 40 pontos.
 - (E) 50 pontos.
42. Quando não for possível sanar a irregularidade no local da infração, o veículo, desde que ofereça condições de segurança para circulação, será liberado e entregue a condutor regularmente habilitado, mediante recolhimento do Certificado de Licenciamento Anual, contra a apresentação de recibo, e prazo razoável, de acordo com o art. 271 § 9º-A, não superior a
- (A) 5 (cinco) dias.
 - (B) 7 (sete) dias.
 - (C) 10 (dez) dias.
 - (D) 12 (doze) dias.
 - (E) 15 (quinze) dias.

43. Analise a figura a seguir:



Assinale a alternativa que apresenta corretamente o significado da placa de sinalização, de acordo com a resolução 973/2022 do CONTRAN.

- (A) Curva sinuosa à esquerda.
 - (B) Curva acentuada em "S" à direita.
 - (C) Pista sinuosa à direita.
 - (D) Curva acentuada em "S" à esquerda.
 - (E) Pista acentuada à direita.
44. A via caracterizada por interseções em nível, geralmente controlada por semáforo, com acessibilidade aos lotes lindeiros e às vias secundárias e locais, possibilitando o trânsito entre as regiões da cidade, de acordo com o anexo I do CTB, é denominada via
- (A) coletora.
 - (B) arterial.
 - (C) prioritária.
 - (D) rural.
 - (E) perimetral.

45. Analise a figura a seguir:



Assinale a alternativa que apresenta o significado correto da placa de sinalização, de acordo com a Resolução 973/22 do CONTRAN.


- (A) Início de pista dupla.
 - (B) Pista dividida.
 - (C) Passagem de nível.
 - (D) Término de pista dupla.
 - (E) Término de pista dividida.
46. Analise a figura a seguir:



Assinale a alternativa que apresenta o nome correto do equipamento.

- (A) Alternador.
 - (B) Distribuidor.
 - (C) Eixo homocinética.
 - (D) Bomba d'água.
 - (E) Eixo piloto.
47. Um condutor, ao engatar a primeira marcha ou efetuar trocas de marchas em um veículo com câmbio manual, percebe que tem dificuldade, pois a marcha engata com dificuldade e com muitos arranhões (barulho de ferro com ferro). Nesse caso, a possível causa desse defeito pode ser
- (A) correia dentada trincada.
 - (B) platô sem pressão.
 - (C) anel de compressão gasto.
 - (D) comando de válvula sem lubrificação.
 - (E) biela fora de curso.

48. Analise a figura a seguir:

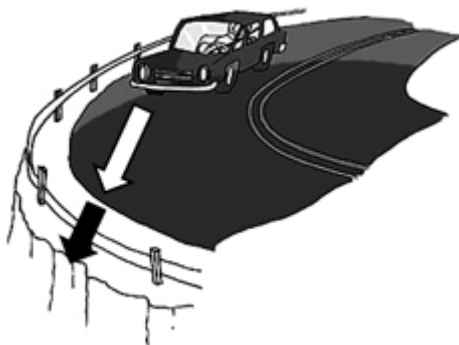


Arquivo pessoal; imagem usada com autorização

Assinale a alternativa que apresenta corretamente o tipo de serviço que está sendo executado no motor do veículo.

- (A) Aperto da bronzina.
- (B) Regulagem do distribuidor.
- (C) Aperto do cabeçote.
- (D) Troca do bico injetor.
- (E) Regulagem da válvula.

49. Analise a figura a seguir:



Fonte: manual DENATRAN/2005

A figura mostra uma situação de trânsito na qual o veículo está efetuando uma curva para esquerda. Caso faça essa manobra com velocidade excessiva, poderá ser arremessado para sua direita, sentido da seta, em função da força

- (A) centrípeta.
- (B) centrífuga.
- (C) perpendicular.
- (D) linear.
- (E) paralela.

50. Para evitar colisão com o veículo da frente, caso ele pare repentinamente, é preciso manter uma distância segura. A distância percorrida pelo veículo, que dependa somente do condutor é a distância de

- (A) frenagem.
- (B) parada.
- (C) reação.
- (D) velocidade.
- (E) travamento.

