



PREFEITURA MUNICIPAL DE SOMBRIO - SC

PROCESSO SELETIVO 001/2021

PREZADO CANDIDATO:

- 1- Verifique as condições da prova antes de iniciar a escrita;
- 2- Resolva apenas as questões correspondentes a(s) sua(s) área(s), conforme sua grade de respostas e edital.
- 3- Mantenha sobre a mesa (classe) apenas material necessário para execução da avaliação e documento pessoal com foto.
- 4- Equipamentos eletrônicos devem permanecer desligados ou casos de urgência, ser entregues para os fiscais de corredor.
- 5- O tempo de execução da avaliação será marcado no quadro pelos fiscais de sala.
- 6- Saídas para qualquer fim deverão ser informadas, levante a mão e aguarde o atendimento do fiscal.
- 7- Os últimos três (03) candidatos deverão sair juntos, portanto deverão aguardar até que todos tenham executado a avaliação.
- 8- Durante a avaliação a comunicação é restrita apenas aos fiscais presentes e identificados.
- 9- O caderno de avaliação NÃO poderá ser levado junto do candidato por garantia de lisura ao processo.
- 10- Desejamos a todos uma ótima prova.

CADERNO DE AVALIAÇÕES (NÍVEL FUNDAMENTAL)

SUMÁRIO:

- 1 - **CONHECIMENTOS GERAIS DE LÍNGUA PORTUGUESA:** Questões de 01 a 05 – *Página 1*
- 2 - **CONHECIMENTOS GERAIS DE ATUALIDADES E DADOS HISTÓRICOS:** Questões de 06 a 10 – *Páginas 1 e 2*
- 3 - **CONHECIMENTOS GERAIS DE MATEMÁTICA:** *Página 2*
- 4 - **CONHECIMENTOS ESPECÍFICOS:** Questões de 16 a 20.
 - **MOTORISTA:** *Páginas 2, 3 e 4*
 - **OPERADOR DE EQUIPAMENTOS:** *Páginas 4 e 5*

CONHECIMENTOS GERAIS LÍNGUA PORTUGUESA

01 – Assinale a alternativa onde a separação silábica esteja INCORRETA:

- A) au-to-a-va-li-a-ção
- B) e-le-va-ção
- C) es-cár-nio
- D) con-ten-ci-o-so
- E) me-dí-o-cre

02 – Com relação à acentuação gráfica, classifique os itens abaixo como Verdadeiros (V) ou Falsos (F):

- () Não é usado o acento circunflexo nas palavras paroxítonas que contêm um tônico oral fechado em hiato com terminação -em, da terceira pessoa do plural do presente do indicativo. (Exemplos: creem, deem)
- () Não são usados os acentos circunflexo e agudo para distinguir as palavras paroxítonas quando têm a vogal tônica aberta ou fechada em palavras homógrafas de palavras proclíticas no singular e plural. (Exemplos: para – flexão de parar)
- () É obrigatório o uso do acento circunflexo com objetivo de assinalar a vogal tônica fechada na grafia das palavras paroxítonas. (Exemplos: enjôo – substantivo e flexão de enjoar)
- () O trema só é utilizado nas palavras derivadas de nomes próprios.
- () No caso de palavras oxítonas derivadas do francês e terminadas com a vogal -e, são admitidos tanto o acento agudo quanto o circunflexo. (Exemplos: croché ou chôché)

Assinale a alternativa com a sequência CORRETA:

- A) V, V, V, V, V
- B) V, V, F, V, V
- C) V, V, F, V, F
- D) F, F, V, F, F
- E) V, V, V, V, F

03 – Assinale a alternativa onde a concordância nominal esteja INCORRETA:

- A) Segue anexo o documento solicitado.
- B) O macaco e a onça enfurecida foram para a parte de trás da jaula.
- C) Mariana disse obrigado a todos os convidados.
- D) Ela é menos teimosa do que ele.
- E) Adicione meia colher de azeite.

04 – Assinale a alternativa onde a palavra grifada esteja de acordo com a classe gramatical indicada nos parênteses:

- A) A Ana é muito **bonita**. (advérbio)
- B) O Brasil **é** um país muito rico em belezas naturais. (preposição)
- C) **Aquela** música não me sai da cabeça. (pronome)
- D) **Uns** constroem, outros destroem. (numeral)
- E) Contigo **you** até a Lua. (substantivo)

05 – Os gêneros textuais reúnem diversos tipos de textos, sendo classificados conforme suas características em relação à linguagem e ao conteúdo. O Texto Narrativo é um tipo de texto que apresenta um enredo com tempo, espaço, personagens e um narrador. Sua estrutura é dividida em apresentação, desenvolvimento, clímax e desfecho.

São gêneros dessa tipologia, EXCETO:

- A) Romance
- B) Novela
- C) Crônica
- D) Reportagem
- E) Lendas

CONHECIMENTOS GERAIS ATUALIDADES E DADOS HISTÓRICOS

06 – O site do Ministério da Saúde, o aplicativo e a página do ConecteSUS – plataforma que mostra comprovantes de vacinação contra a Covid-19 – foram invadidos por hackers na madrugada do dia 10 de dezembro de 2021. O problema também afetou o sistema de notificação de casos da doença. A queda dos sistemas do SUS teve reflexos pelo país.

Qual grupo assumiu a autoria do ataque cibernético?

- A) Lulzsec
- B) Anonymous
- C) Team Poison
- D) Lapsus\$ Group
- E) CyberTeam

07 – O mundo vem sofrendo uma nova onda de casos de covid-19. A Ômicron tem se revelado forte. O tsunami de infecções provocado pela nova variante registra, dia após dia, recorde no número de casos: no mundo, foram mais de 3,2 milhões em 24 horas; no Brasil, a média móvel subiu mais de 600%. Porém, essa não é a primeira vez que o mundo sofre por uma pandemia. O cenário de covid-19 é semelhante ao que já aconteceu em outros momentos da história da humanidade, em que doenças se espalharam pelo mundo e causaram estragos.

Sendo assim, assinale a alternativa que NÃO é considerada uma pandemia:

- A) Peste Negra
- B) Gripe Espanhola
- C) H1N1
- D) Febre Amarela
- E) Tifo

08 – A Câmara aprovou em dois turnos a proposta de emenda à Constituição (PEC) que permitirá o parcelamento no pagamento de precatórios a partir de 2022. A proposta também muda a regra do teto de gastos. Precatórios são dívidas da União com pessoas físicas, jurídicas, estados e municípios reconhecidas em decisões judiciais definitivas, ou seja, que não são mais passíveis de recursos e que devem ser pagas pelo governo. A estimativa do governo é que a PEC abra um espaço no Orçamento de 2022 de R\$ 91,6 bilhões.

Segundo o Ministério da Economia, o dinheiro será usado para, EXCETO:

- A) Auxílio Brasil, que deve tomar cerca de R\$ 50 bilhões dessa folga orçamentária;
 B) Ajuste dos benefícios vinculados ao salário-mínimo;
 C) Elevação de outras despesas obrigatórias;
 D) Despesas de vacinação contra a Covid;
 E) Andamento do programa Minha Casa Verde e Amarela.

09 – De acordo com o site oficial do município de Sombrio, no dia 30 de dezembro de 1953 a Mesa da Assembleia Legislativa de Santa Catarina promulgou a Lei nº___ que criou o município de Sombrio, desmembrando-se de Araranguá.

Assinale a alternativa que complete a lacuna de forma CORRETA:

- A) 133 B) 1.342 C) 892
 D) 939 E) 311

10 – Ainda de acordo com o site oficial do município de Sombrio, a cidade é conhecida por ser banhada pela Lagoa de Sombrio, maior lagoa de água doce de Santa Catarina com 51,17Km². Essa beleza natural banha também outras cidades, sendo elas, EXCETO:

- A) Santa Rosa do Sul B) São João do Sul
 C) Jacinto Machado D) Balneário Gaivota
 E) Passo de Torres

CONHECIMENTOS GERAIS MATEMÁTICA

11 – Uma loja vende botões em embalagens com 20 unidades e lacinhos em embalagens com 15 unidades cada uma. Maria comprou 240 botões. Para que ela compre a mesma quantidade em lacinhos, quantas embalagens de lacinhos Maria deverá comprar?

- A) 22 B) 11 C) 13
 D) 15 E) 16

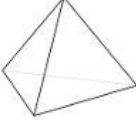
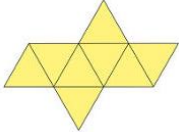
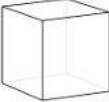
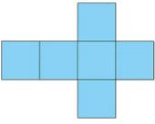
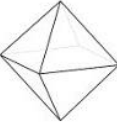
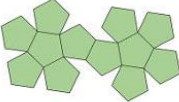
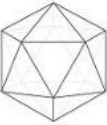



12 – José vendeu em seu mercado no último mês R\$ 2.300,00. Fazendo as contas ele concluiu que seu lucro foi de 18% desse valor. Qual será o seu lucro?

- A) R\$ 400,00 B) R\$ 414,00
 C) R\$ 380,00 D) R\$ 454,00
 E) R\$ 300,00

13 – Qual dos seguintes conjuntos numéricos abaixo é composto exclusivamente por números primos?

- A) A= {1, 3, 5, 7, 11,}
 B) B= {11, 13, 17, 19, 21}
 C) C= {43, 47, 53, 57}
 D) D= {61, 67, 71, 73, 79}
 E) E= {81, 83, 89, 97}

14 – Com relação à planificação dos sólidos geométricos, relacione abaixo a imagem da figura geométrica correspondente a sua planificação:

Coluna 1:	Coluna 2:
1. 	() 
2. 	() 
3. 	() 
4. 	() 
5. 	() 

Assinale a alternativa com a sequência CORRETA:

- A) 1, 2, 3, 4, 5 B) 3, 2, 5, 1, 4
 C) 3, 2, 4, 1, 5 D) 2, 3, 5, 1, 4
 E) 5, 4, 3, 2, 1

15 – Calcule o valor da expressão numérica abaixo e assinale a resposta CORRETA:

$$64 \div 8 + 5 \times 5 - 3$$

Alternativas:

- A) -30 B) 62 C) 30
 D) 32 E) 44

CONHECIMENTOS ESPECÍFICOS MOTORISTA

16 – De acordo com o Código de Trânsito Brasileiro, assinale a alternativa INCORRETA:

- A) Os órgãos e entidades de trânsito pertencentes ao Sistema Nacional de Trânsito darão prioridade em suas ações à defesa da vida, nela incluída a preservação da saúde e do meio-ambiente.

() Recolhe o caminhão após a jornada de trabalho, conduzindo-o a garagem, para possibilitar a manutenção e abastecimento do mesmo.

Assinale a alternativa com a sequência CORRETA:

- A) V, V, V, F, V, V B) V, V, V, V, F, V
 C) V, F, V, V, F, V D) V, V, F, V, F, V
 E) V, V, V, V, V, V

CONHECIMENTOS ESPECÍFICOS OPERADOR DE EQUIPAMENTOS

16 – O operador de equipamentos, durante sua jornada de trabalho, opera máquinas pesadas que transportam materiais e produtos de todos os tipos. Sua principal prioridade é a segurança nas operações. Uma operação segura evita danos e exige do operador conhecimento da máquina que opera, dos acessórios de movimentação, do produto a ser transportado e do ambiente de trabalho, assim como, habilidade no controle do equipamento no deslocamento e no armazenamento das cargas. Todos os instrumentos indicadores no painel de uma empilhadeira estão localizados dentro do campo de visão do operador. Eles somente são acionados quando ligada à chave de partida do motor. Servem para dar informações importantes. Os principais componentes do painel de instrumentos de uma empilhadeira são:

- I. Afogador – é um dispositivo usado nos motores a gasolina e a gás que regula a entrada de ar no carburador, deve ser usado apenas enquanto o motor estiver frio.
- II. Chave de contato e partida – deve ser conservada sempre limpa, não deve ser forçada e o operador deve sempre lembrar que nela está uma das primeiras providências a ser tomada em caso de emergência, pois desliga toda a parte elétrica da máquina.
- III. Amperímetro – é um aparelho que informa se o alternador está produzindo energia ou se a bateria está descarregada. No painel, acende uma luz vermelha. Ao ligar a chave de contato, ela devesse acender e, ao acelerar o motor, devesse apagar. Se a lâmpada permanecer acesa e o operador não estiver atento, poderá haver descarga da bateria, queima do gerador ou do regulador de voltagem. A providência a ser tomada é levar a empilhadeira à manutenção. Se durante os deslocamentos o amperímetro indicar que a bateria não está carregando o operador deve parar a empilhadeira imediatamente.
- IV. Marcador de temperatura – é um instrumento que indica a temperatura do motor. O operador deve estar atento ao seu funcionamento, pois se o motor trabalhar com temperatura muito alta o motor poderá fundir. Quando o marcador indicar uma temperatura próxima ao limite máximo da normal, verifique o volume de água do radiador e, se necessário, acrescente água. Se o radiador estiver com nível normal de água, verifique se a correia está solta ou mangueiras rompidas. Caso se apresente um destes defeitos ou você não consiga identificar a causa do aquecimento, avise a manutenção.

Assinale a alternativa CORRETA:

- A) Apenas o item I está incorreto.
 B) Apenas o item II está incorreto.
 C) Apenas o item III está incorreto.
 D) Apenas o item IV está incorreto.
 E) Todos os itens estão corretos.

17 – De acordo com a NR-12 - segurança no trabalho em máquinas e equipamentos, cabe aos trabalhadores:

- I. Cumprir todas as orientações relativas aos procedimentos seguros de operação, alimentação, abastecimento, limpeza, manutenção, inspeção, transporte, desativação, desmonte e descarte das máquinas e equipamentos;
- II. Realizar, sempre que houver necessidade, qualquer tipo de alteração nas proteções mecânicas ou dispositivos de segurança de máquinas e equipamentos, para que não coloque em risco a sua saúde e integridade física ou de terceiros;
- III. Comunicar seu superior imediato se uma proteção ou dispositivo de segurança foi removido, danificado ou se perdeu sua função;
- IV. Participar dos treinamentos fornecidos pelo empregador para atender às exigências/requisitos descritos nesta Norma;
- V. Colaborar com o empregador na implementação das disposições contidas nesta Norma.

Assinale a alternativa CORRETA:

- A) Apenas o item I está incorreto.
 B) Apenas o item II está incorreto.
 C) Os itens II e IV estão incorretos.
 D) Todos os itens estão corretos.
 E) Nenhum item está correto.

18 – Ainda de acordo com a NR 12, assinale a alternativa INCORRETA:

- A) Nas máquinas e equipamentos cuja operação requeira a participação de mais de uma pessoa, o número de dispositivos de acionamento simultâneos deve corresponder ao número de operadores expostos aos perigos decorrentes de seu acionamento, de modo que o nível de proteção seja o mesmo para cada trabalhador.
- B) As máquinas e equipamentos, cujo acionamento por pessoas não autorizadas possam oferecer risco à saúde ou integridade física de qualquer pessoa, devem possuir sistema que possibilite o bloqueio de seus dispositivos de acionamento.
- C) Os componentes relacionados aos sistemas de segurança e comandos de acionamento e parada das máquinas, inclusive de emergência, devem garantir a manutenção do estado seguro da máquina ou equipamento quando ocorrerem flutuações no nível de energia além dos limites considerados no projeto, incluindo o corte e restabelecimento do fornecimento de energia.
- D) As máquinas e equipamentos que ofereçam risco de ruptura de suas partes, projeção de materiais, partículas ou substâncias, devem possuir proteções que garantam a saúde e a segurança dos trabalhadores.
- E) As máquinas devem ser equipadas com um ou mais dispositivos de parada de emergência, por meio dos quais possam ser evitadas situações de perigo latentes e existentes. Os dispositivos de parada de emergência devem ser utilizados como dispositivos de partida ou de acionamento.

19 – O Equipamento de Proteção Individual - EPI é todo dispositivo ou produto, de uso individual utilizado pelo trabalhador, destinado a proteção contra riscos capazes de ameaçar a sua segurança e a sua saúde.

Conforme dispõe a Norma Regulamentadora 6, a empresa é obrigada a fornecer aos empregados, gratuitamente, EPI adequado ao risco, em perfeito estado de conservação e funcionamento, nas seguintes circunstâncias:

- I. Sempre que as medidas de ordem geral não ofereçam completa proteção contra os riscos de acidentes do trabalho ou de doenças profissionais e do trabalho;
- II. Enquanto as medidas de proteção coletiva estiverem sendo implantadas;
- III. Para atender a situações de emergência.

Assinale a alternativa CORRETA:

- A) Apenas o item I está incorreto.
- B) Os itens II e III estão incorretos.
- C) Apenas o item II está incorreto.
- D) Apenas o item III está incorreto.
- E) Todos os itens estão corretos.

20 – O rolo compactador (ou compressor) é um equipamento para adensar terra, areia e outros tipos de solo, criando um melhor substrato para obra, seja prédio, rodovia ou represa. Podem ser tracionados, autopropelidos, de motor elétrico ou combustão interna. Além disso, cada tipo de solo exige um modelo distinto.

Com relação a esse assunto, leia a descrição abaixo:

“Atuam na etapa final de acabamento da camada asfáltica. Os pneus do eixo dianteiro ficam entre os espaços dos pneus do eixo traseiro, garantindo largura total de rolagem compactadora. Além disso, como não possui movimento vibratório, esse rolo compactador é utilizado em pontes, viadutos e demais locais onde são proibidas as ações vibratórias pelo risco de dano às estruturas. Também são muito eficientes para materiais granulares, selamento de superfícies e compactação de solos finos. A pressão de compactação vem da pressão dos pneus, de cima para baixo, variando conforme pressão ou peso do lastro.”

A descrição acima refere-se a que tipo de rolo compactador?

- A) Rolo Compactador Liso
- B) Rolo Compactador Pé de Carneiro
- C) Rolo Compactador Tander
- D) Rolo Compactador Combinado
- E) Rolo Compactador Pneumático