



PREFEITURA MUNICIPAL DE NOVA PALMEIRA - PB



NÍVEL SUPERIOR ENFERMEIRO

EXAME GRAFOTÉCNICO:

(Transcreva a frase abaixo no local indicado na sua Folha de Respostas)

**És amor, és tradição
Avante Nova Palmeira!**

INSTRUÇÕES:

1. Verifique se este caderno de provas contém 40 (quarenta) questões de múltipla escolha, sendo Língua Portuguesa de 01 a 15, Raciocínio Lógico de 16 a 25 e Conhecimentos Específicos de 26 a 40.
2. Observe se há falhas ou imperfeições gráficas que causem dúvidas. Caso existam, comunique imediatamente ao Fiscal de Sala.
3. Confira seus dados na Folha de Respostas com os dados do Cartão de Inscrição.
4. Esta Prova tem duração de 4 (quatro) horas. Não é permitida a saída do candidato antes de transcorridas 2 (duas) horas completas, sob pena de eliminação.
5. É vetado, durante a prova, o intercâmbio ou empréstimo de material de qualquer natureza entre os candidatos, bem como o uso de celulares, calculadoras e/ou qualquer outro tipo de equipamento eletrônico. A fraude, ou tentativa, a indisciplina e o desrespeito às autoridades encarregadas dos trabalhos são faltas que eliminam o candidato.
6. Certifique-se de que assinou a lista de presença e que preencheu adequadamente todos os espaços da Folha de Respostas.
7. Ao finalizar a prova, entregue ao fiscal o Caderno de Prova e a Folha de Respostas, sob pena de eliminação.

PORTUGUÊS

Leia o Texto I para responder às questões de 01 a 05.

Texto I - Vício de adolescentes em redes sociais pode virar, oficialmente, um transtorno mental; entenda

Jornal o Globo

Um grupo de cientistas está propondo que a relação nociva de alguns adolescentes com as redes sociais e a internet seja considerada, oficialmente, um novo tipo de transtorno mental.

Se a proposta ganhar impulso e for aceita, ela poderia entrar no manual de estatísticas e diagnósticos da psiquiatria, o DSM, que influencia políticas públicas no mundo todo. Segundo os proponentes, a ideia é que a condição possa também integrar a Classificação Internacional de Doenças (CID), da Organização Mundial da Saúde (OMS).

A proposta ganhou visibilidade nesta semana com a revista científica JAMA, da Associação Médica Americana, que publicou um artigo sugerindo critérios para determinar o que é o consumo exagerado de mídias sociais e a partir de que ponto ele se torna um distúrbio médico.

O trabalho foi baseado em um estudo feito com adolescentes pela Universidade de Stony Brook, em Nova York, liderado pela sanitária Lauren Hale, que buscou avaliar o quanto o tempo excessivo de tela estava afetando a vida dos voluntários.

Inspirado em um critério gradual para avaliar gradações de alcoolismo, o pediatra Dimitri Christakis, da Universidade de Washington, propôs uma escala para avaliar a relação patológica de adolescentes com as redes de acordo com o tempo gasto nesse tipo de mídia.

Os dois cientistas afirmam que a situação é urgente. Nos Estados Unidos, onde mais de 95% dos adolescentes possuem *smartphones*, os profissionais de saúde precisam de um sistema de classificação para trabalhar com o problema. É relativamente consensual entre psicólogos e psiquiatras que os indivíduos afetados que enfrentam problemas na escola, no trabalho ou nas relações pessoais precisam de ajuda.

“Introduzir essa classificação não poderia ser mais urgente”, escrevem Hale e Christakis. “Enquanto acadêmicos se alongam em discussões abstratas sobre o assunto, mais de 6 milhões de adolescentes americanos já estão exibindo o que nós chamamos provisoriamente de consumo pesado de mídia, e uma parcela considerável deles provavelmente já sofre de transtorno de uso de mídia”.

A proposta inicial da dupla é que se definam inicialmente os limites de tempo gasto com redes sociais e internet para identificar indivíduos com problemas. Os pesquisadores reconhecem, porém, que será preciso discutir o conteúdo consumido, porque o problema está ligado a fenômenos como o bullying e a propagação de conteúdos preconceituosos e ofensivos. “Embora o debate sobre a existência de algo como transtorno de games, vício em internet ou uso problemático de mídias sociais continue entre acadêmicos e a indústria, o tempo gasto em dispositivos envolvidos em diversas atividades está substituindo as interações do mundo real de maneira tanto sutil quanto dramática”, dizem os pesquisadores.

A OMS, por exemplo, já publicou um documento com diretrizes. A organização recomenda que o uso desses dispositivos seja evitado por crianças abaixo de 2 anos, e que para crianças de 2 a 4 anos não ultrapasse uma hora supervisionada por dia. A ideia é maximizar o tempo de interação com pessoas reais e desestimular o sedentarismo, seja pelo consumo games, desenhos animados ou qualquer atividade em tela.

Grupos de psicólogos e pediatras estão produzindo também diretrizes mais voltadas a crianças maiores e adolescentes, que têm usado também redes sociais. Para essa faixa etária acima dos 11 anos, a Academia Americana de Pediatria não estabelece um limite de tempo, por exemplo, mas pede atenção para que atividades em telas não prejudiquem sono, esportes e relações pessoais.

A Sociedade Brasileira de Pediatria segue princípios semelhantes, e recomenda que crianças menores de 13 anos não tenham seus próprios perfis em plataformas. (Esse limite já é lei nos EUA e outros países). É recomendado que entre 13 e 17 anos o uso de redes sociais seja supervisionado.

Uma recomendação mais específica é a de não deixar dispositivos dentro dos quartos das crianças e adolescentes durante a noite, e retirá-los uma a duas horas antes de dormir. Outro ponto importante é evitar acesso a telas na hora de fazer lição de casa. No mais, os pediatras pedem a pais ou responsáveis atenção para sinais problemáticos, como irritabilidade excessiva diante da restrição a *tablets* ou *smartphones*.

Em suma, o ideal é que os pais os ajudem a avaliar a qualidade do conteúdo a ser consumido na internet e evitem fontes propensas a desinformação e hostilidade. Há casos especiais que requerem mais atenção, como adolescentes com histórico de traumas ou problema de autoimagem corporal.

Fonte: VÍCIO DE ADOLESCENTES EM REDES SOCIAIS PODE VIRAR, OFICIALMENTE, UM TRANSTORNO MENTAL; ENTENDA. *Jornal O Globo*, 5 jun. 2025. Disponível em: <https://oglobo.globo.com/saude/noticia/2025/05/06/vicio-de-adolescentes-em-redes-sociais-pode- virar-oficialmente-um-transtorno-mental-entenda.ghtml>. Acesso em: 12 maio 2025. Adaptado.

1ª QUESTÃO

Considerando o que se afirma no último parágrafo do Texto I, conclui-se que:

- a) os pais devem estar atentos ao conteúdo consumido na internet pelos seus filhos, ajudando a avaliar a qualidade daquilo a que eles têm acesso.
- b) os pais devem avaliar apenas os conteúdos que trazem desinformação e hostilidade.
- c) os pais devem assumir a responsabilidade exclusiva sobre o que os seus filhos veem, sem participação do adolescente no processo de avaliação do conteúdo.
- d) há uma recomendação dos pediatras para que os pais fiquem atentos aos sinais problemáticos de seus filhos.
- e) o acesso a telas deve ser liberado sob supervisão exclusivamente para responderem às lições de casa.

2ª QUESTÃO

Observe o trecho do Texto I: “Outro ponto importante é evitar acesso a telas na hora de fazer lição de casa”. Sobre ele, é CORRETO afirmar que:

- a) a ausência do artigo “o” em “evitar acesso a telas” prejudica o sentido do período.
- b) o trecho “acesso a telas” está em desacordo com a norma-padrão. A escrita deveria ser “acesso à telas”.
- c) o trecho “acesso a telas” está em desacordo com a norma-padrão. A escrita adequada à norma-padrão seria “acesso as telas”.
- d) em “acesso a telas” e “lição de casa”, temos exemplos de complemento nominal e adjunto adnominal.
- e) as expressões “importante” e “de casa” desempenham papéis sintáticos distintos.

3ª QUESTÃO

No último parágrafo do Texto I: “**Em suma**, o ideal é que os pais os ajudem a avaliar a qualidade do conteúdo a ser consumido na internet e evitem fontes propensas à desinformação e hostilidade.”, a expressão em destaque funciona como:

- a) um elemento de coesão lexical interparágrafo.
- b) um elemento de coesão sequencial interparágrafo.
- c) um elemento de coesão referencial intraparágrafo.
- d) um elemento de coesão sequencial intraparágrafo.
- e) um elemento de coesão por elipse interparágrafo.

4ª QUESTÃO

Todo texto apresenta características relativas ao seu gênero e ao seu tipo textual predominante. Sobre o Texto I, analise as assertivas a seguir.

- I- É predominantemente injuntivo, dispondo de instruções sobre como o uso de telas deve ser regulado pelos pais.
- II- É extremamente subjetivo, pois se desenvolve a partir de impressões pessoais do veículo de informação.
- III- Utiliza-se de fatos científicos para subsidiar as informações sobre o assunto.
- IV- Possui informações de especialistas que tornam o texto subjetivo e inoperante.
- V- Possui informações de especialistas e dados científicos, o que dá mais credibilidade ao texto.

É CORRETO o que se afirma apenas em:

- a) II, III e IV.
- b) III e V.
- c) I e III.
- d) II e IV.
- e) I e V.

5ª QUESTÃO

Analisando a natureza do gênero textual apresentado no Texto I e assinale a alternativa CORRETA.

- a) Sua finalidade textual consiste em influenciar o comportamento apenas do leitor adolescente na redução do acesso a telas.
- b) É um texto com natureza multissemiótica e multimodal.
- c) É um texto do campo jornalístico, cuja principal função é a informação.
- d) Considera-se como um texto sincrético, multimodal e pertencente ao campo artístico-literário.
- e) É da esfera de circulação científica, com linguagem subjetiva, informal e inacessível ao público.

Leia os Textos II e III para responder às questões de 06 a 08.

Texto II -



Texto III -



Fonte: Disponível em: <https://www.instagram.com/p/DJMRsMnRDux/?igsh=ZnVqbGtyYWQ0ems0>. Acesso em: 12 maio 2025.

6ª QUESTÃO

Os Textos II e III são multissemióticos. Sobre esta característica, é CORRETO afirmar que:

- a) pela pouca presença da escrita, os textos multissemióticos geram pouco interesse e engajamento por parte do público, que se sente pouco motivado a participar da construção do significado.
- b) os textos são compostos de elementos verbais e não-verbais que, separadamente, possuem sentidos diferentes.
- c) há sempre uma sobreposição nítida do texto verbal ao não-verbal para a produção de sentidos, visto que a comunicação humana tem por essência a escrita.
- d) os diferentes recursos usados em um texto multissemiótico são simplesmente adicionados, sem interação entre si, contribuindo, isoladamente, para a construção do sentido da mensagem.
- e) os textos são compostos de elementos verbais e não-verbais que, juntos, colaboram para a produção de sentidos.

7ª QUESTÃO

Observe no Texto II os títulos “Segunda da carne” e “Carne de segunda”. Sobre o Texto II, é CORRETO afirmar que:

- a) não há mudança de sentido no uso dos títulos distintos “Segunda da carne” e “Carne de segunda”. Apenas há mudança na classificação morfológica das palavras.
- b) a palavra “segunda” é classificada no primeiro quadrinho como substantivo. Já no segundo quadrinho, como numeral, mas não provoca mudança de sentido, pois se trata da mesma carne.
- c) o fato de os quadrinhos possuírem como cenário um frigorífico não contribui para a construção de sentidos sobre o texto.
- d) no título “Carne de segunda”, há uma tentativa de propaganda positiva de um dia específico para a comercialização da carne, já que é o melhor tipo de carne que existe.
- e) a palavra “segunda” é utilizada no primeiro quadrinho como substantivo, remetendo à “segunda-feira”. Já no segundo quadrinho, como adjetivo, o que provoca mudança de sentido e o humor sobre a versatilidade da língua.

8ª QUESTÃO

Sobre o Texto III, analise as assertivas.

- I- O uso das aspas em “cheia de gás” foi usado para destacar uma expressão popular no texto.
- II- As aspas sinalizam que a expressão usada não é padrão e pode ser interpretada de forma diferente do significado literal.
- III- Ao usar aspas, indica-se ao leitor que o sentido da expressão é literal.
- IV- O texto não verbal não colabora com o entendimento do uso das expressões Pessoa “cheia de gás” e Pessoa cheia de gases.

É CORRETO o que se afirma apenas em:

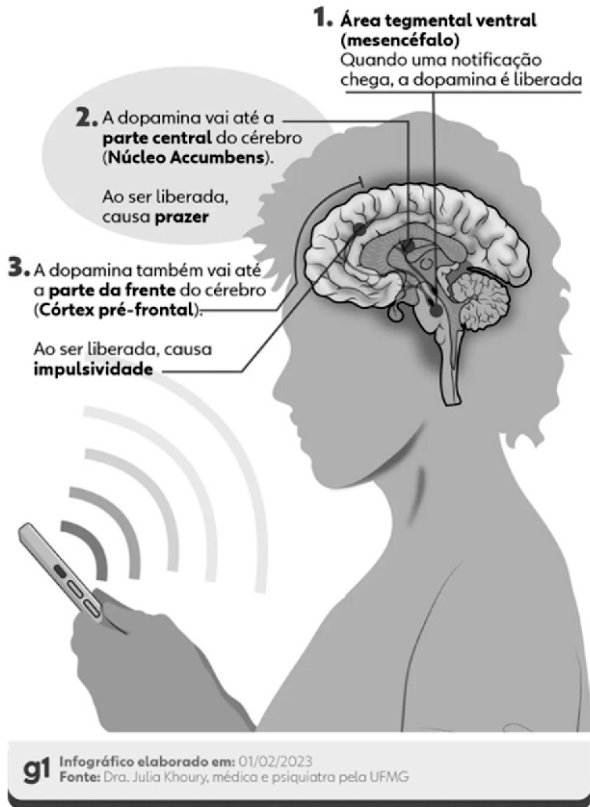
- a) I e III.
- b) I e II.
- c) II e IV.
- d) III e IV.
- e) II e III.

Leia o Texto IV para responder às questões de 09 a 12.

Texto IV – Infográfico

Como o cérebro reage ao contato com o celular

Liberação de dopamina causa sensação de recompensa, mas afeta nosso comportamento



Fonte: Disponível em: <https://iclnoticias.com.br/atg/dependencia-digital/>. Acesso em: 12 maio 2025.

9ª QUESTÃO

Analise as palavras "recompensa", "reage" e "liberada" presentes no Texto IV e indique a alternativa que apresenta, CORRETA e respectivamente, os processos de formação de palavras.

- a) derivação regressiva, parassintética e parassintética.
- b) derivação sufixal, derivação sufixal e derivação prefixal.
- c) derivação prefixal, derivação regressiva e composição por justaposição.
- d) derivação regressiva, composição por aglutinação e composição por justaposição.
- e) derivação prefixal, derivação regressiva e derivação sufixal.

10ª QUESTÃO

Em um infográfico, os elementos visuais (recursos verbais e não verbais) formam o seu conteúdo. Considerando os elementos gráficos na composição visual do Texto IV, marque a alternativa CORRETA.

- a) As conexões são elementos gráficos relevantes no infográfico e contribuem para organizar seu conteúdo.
- b) No que se refere ao texto escrito, devem-se considerar a subjetividade, a hierarquia e a clareza de sua organização. A quantidade de texto escrito utilizada foi extremamente maior que os demais elementos gráficos.
- c) Embora relevantes, não se recomenda o uso de elementos visuais conectores das informações para fazer destaque e relação entre títulos e subtítulos.
- d) Os elementos não verbais nem sempre são complementares ao texto. Nesse caso, funcionou apenas como conteúdo divergente da publicação.
- e) A presença do celular no infográfico não tem relação com o tema tratado.

11ª QUESTÃO

No Texto IV, quanto à sílaba tônica das palavras “núcleo”, “córtex” e “liberada”, marque a alternativa CORRETA.

- a) Todas as palavras são paroxítonas.
- b) As palavras são, respectivamente: paroxítona, paroxítona e oxítona.
- c) Todas as palavras são proparoxítonas.
- d) As palavras são, respectivamente: oxítona, oxítona e paroxítona.
- e) As palavras são, respectivamente: proparoxítona, paroxítona e oxítona.

12ª QUESTÃO

Observe o trecho “Ao ser liberada, causa impulsividade”. Quanto ao recurso de coesão utilizado, marque a alternativa CORRETA.

- a) Há coesão lexical no trecho analisado.
- b) Pela ausência de elementos de coesão, o trecho ficou incoerente no texto lido.
- c) Há coesão por elipse no trecho analisado.
- d) A intencionalidade e a aceitabilidade do trecho ficaram comprometidas.
- e) A presença de conjunções e advérbios garantiu a coesão no trecho.

Para as questões de 13 a 15, leia os Textos V e VI.

Texto V



Fonte: Disponível em: https://valoresreais.com/2021/02/15/se-eu-nao-comprar-nada-o-desconto-e-maior/#google_vignette. Acesso em: 12 maio 2025.

Texto VI



Fonte: Disponível em: <https://www.facebook.com/photo.php?fbid=1957522730959690&id=488356901209621&set=a.488361671209144>. Acesso em: 12 maio 2025.

13ª QUESTÃO

Quanto aos gêneros, os textos V e VI são, respectivamente, considerados como:

- a) tirinha e meme.
- b) charge e tirinha.
- c) meme e charge.
- d) meme e tirinha.
- e) charge e anúncio.

14ª QUESTÃO

No Texto VI, em relação aos termos da oração, o trecho “Está em promoção” possui:

- a) um sujeito composto.
- b) um sujeito inexistente.
- c) um sujeito oculto.
- d) um sujeito simples.
- e) um sujeito paciente.

15ª QUESTÃO

Considerando os Textos V e VI, analise as assertivas a seguir.

- I- Os textos V e VI possuem ponto de vista semelhante sobre economia em compras.
- II- Os textos V e VI são considerados multissemióticos, pois possuem texto verbal e não verbal que, juntos, produzem sentido.
- III- O texto V é considerado multissemiótico. Já o texto VI não é considerado multissemiótico.
- IV- No texto V, o conhecimento prévio do personagem pode contribuir para uma produção de sentidos ainda mais significativa.
- V- O uso do “Se” nos textos V e VI introduzem a ideia de condicionalidade.

É CORRETO o que se afirma apenas em:

- a) III, IV e V.
- b) III, e IV.
- c) I, II e V.
- d) I, II, IV e V.
- e) II, IV e V.

RACIOCÍNIO LÓGICO

16ª QUESTÃO

Considere as seguintes proposições:

P: Todo candidato é bom em raciocínio lógico;

Q: Algum candidato é matemático.

Com base em **P** e **Q**, é CORRETO afirmar que:

- a) Todo matemático é bom em raciocínio lógico.
- b) Nenhum matemático é bom em raciocínio lógico.
- c) Todos os matemáticos são candidatos.
- d) Algum candidato é bom em matemática.
- e) Algum matemático é bom em raciocínio lógico.

17ª QUESTÃO

Considere a matriz de ordem 3×3 , composta por números inteiros:

$$\begin{pmatrix} -2 & 6 & 6 \\ 7 & x & 7 \\ 5 & 8 & -3 \end{pmatrix}$$

Sabendo que a lógica de construção da matriz é mantida nas linhas e colunas, determine o valor de x que satisfaz essa lógica.

- a) -4.
- b) -2.
- c) 4.
- d) 2.
- e) 0.

18ª QUESTÃO

Considere o conjunto de nove números inteiros ordenados da seguinte forma:

$$\{a, a, b, b, b, c, d, e, f\} \text{ com } a < b < c < d < e < f.$$

Com base nesse conjunto, qual das alternativas é CORRETA?

- a) A média aritmética, a mediana e a moda são iguais.
- b) A média aritmética é menor que a moda e a mediana.
- c) A moda é menor que a mediana, que é menor que a média aritmética.
- d) A moda é igual à mediana, mas menor que a média aritmética.
- e) A média aritmética é igual à moda, e ambas são menores que a mediana.

19ª QUESTÃO

Considere a fórmula proposicional composta abaixo por:

$$\left[(p \rightarrow q) \wedge \sim r \right] \vee (s \leftrightarrow t)$$

Sobre a tabela verdade completa desta fórmula, qual das alternativas indica CORRETAMENTE $1/4$ do número de linhas que ela possui?

- a) 16.
- b) 6.
- c) 8.
- d) 32.
- e) 4.

20ª QUESTÃO

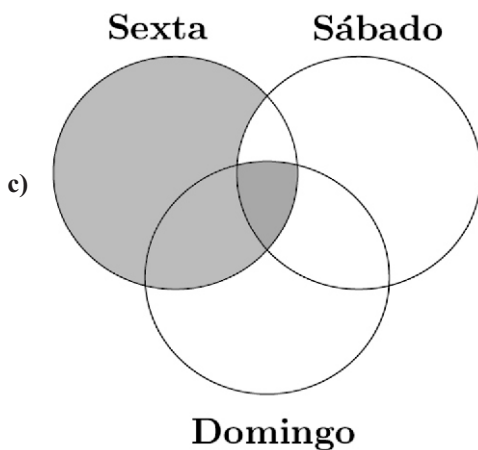
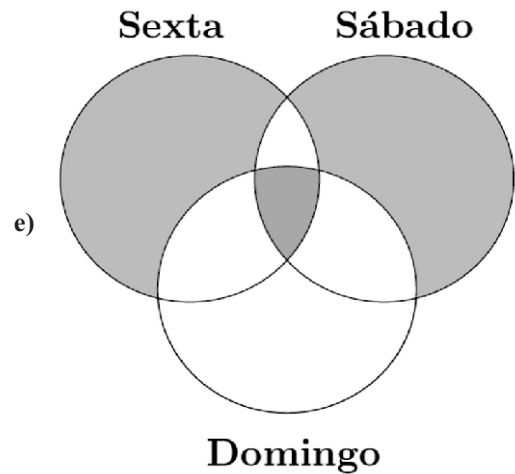
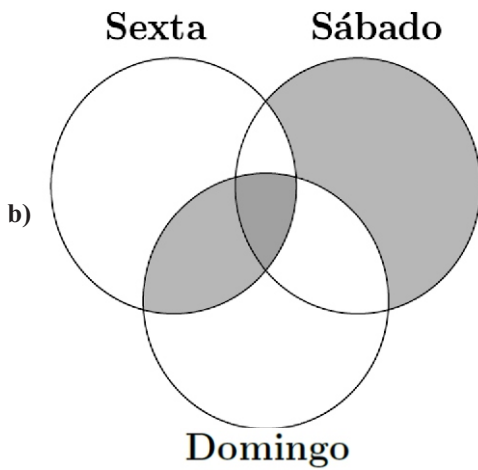
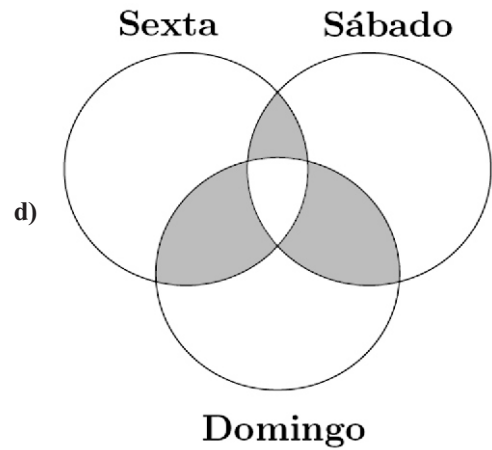
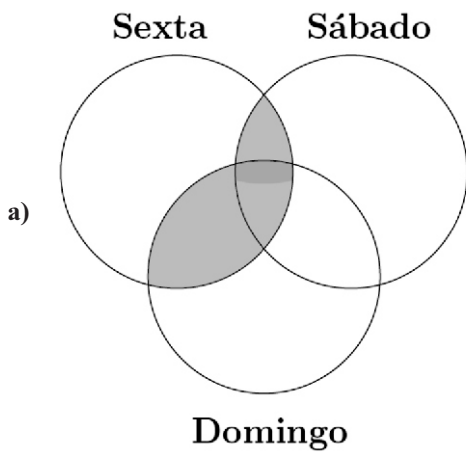
Um conjunto de candidatos participará de um concurso público cujas provas serão realizadas em três dias distintos:

- sexta-feira: prova para o ensino básico;
- sábado: prova para o ensino médio;
- domingo: prova para o ensino superior.

Três candidatos, Pedro, Paulo e Maria, farão provas em diferentes combinações de dias. Sabe-se que:

- Pedro fará prova na sexta-feira e no domingo;
- Paulo fará apenas uma prova, no mesmo dia que Pedro não fará;
- Maria fará prova em todos os dias.

Com base nessas informações, o diagrama cuja parte sombreada indica CORRETAMENTE o conjunto ao qual Pedro, Paulo e Maria pertencem é:



21ª QUESTÃO

A sequência

1, 1, 2, 3, 5, 8, 13, ...

é chamada de sequência de Fibonacci. Essa sequência tem a particularidade de que cada termo, a partir do terceiro é a soma dos dois anteriores.

Com base nos primeiros sete termos da sequência, é CORRETO afirmar:

- a) A moda da sequência é indefinida, pois todos os elementos são distintos.
- b) A média aritmética do primeiro e último termo da sequência é igual a soma da mediana e seu sucessor na sequência.
- c) A mediana equivale a quatro vezes a moda.
- d) A média aritmética da moda e mediana é igual a 2.
- e) A metade da média aritmética dos termos equivale a 2,5.

22ª QUESTÃO

As **Leis de Morgan** permitem transformar negações de conjunções e disjunções. Com base nesse conhecimento e nas seguintes proposições simples:

- p : João é pontual.
- q : Maria é responsável.
- r : Anna não falta às reuniões.

Considere a proposição composta:

$$\sim [(p \wedge \sim q) \vee \sim r]$$

Qual das alternativas apresenta uma proposição logicamente equivalente à expressão acima?

- a) $(\sim p \vee q) \wedge r$
- b) $\sim p \wedge q \wedge r$
- c) $(p \rightarrow q) \wedge r$
- d) $(p \wedge q) \vee r$
- e) $\sim p \vee \sim q \vee \sim r$

23ª QUESTÃO

Modus Ponens e *Modus Tollens* são dois principais tipos de inferência lógica válida dentro da lógica proposicional. Ambos se baseiam em proposições condicionais. O *Modus Ponens* afirma o antecedente, enquanto o *Modus Tollens* nega o conseqüente. Com base nesse conhecimento, considere os seguintes argumentos:

- I- Se o candidato fizer a prova, então ele assumirá o cargo público.
O candidato fez a prova.
Logo, ele assumirá o cargo público.
- II- Se a CPCON aplicar a prova, então todos os candidatos receberão o cartão de confirmação.
Um candidato não recebeu o cartão de confirmação.
Logo, a CPCON não aplicará a prova.

Com base na lógica proposicional, assinale a alternativa CORRETA.

- a) Ambos os argumentos são exemplos de *Modus Ponens*.
- b) O argumento I é um exemplo de *Modus Ponens*, e o argumento II é um exemplo de *Modus Tollens*.
- c) Ambos os argumentos são exemplos de *Modus Tollens*.
- d) O argumento I é inválido, e apenas o II é válido.
- e) Nenhum dos dois argumentos é logicamente válido.

24ª QUESTÃO

Considere as seguintes proposições simples:

- p : O servidor foi nomeado.
- q : O servidor tomou posse.
- r : O servidor entrou em exercício.

Com base nessas proposições, avalie a seguinte sentença composta:

$$(p \rightarrow q) \wedge (q \rightarrow r)$$

Sabendo-se que o servidor **foi nomeado e entrou em exercício**, mas **não tomou posse**, assinale a alternativa CORRETA quanto ao valor lógico da proposição composta dada.

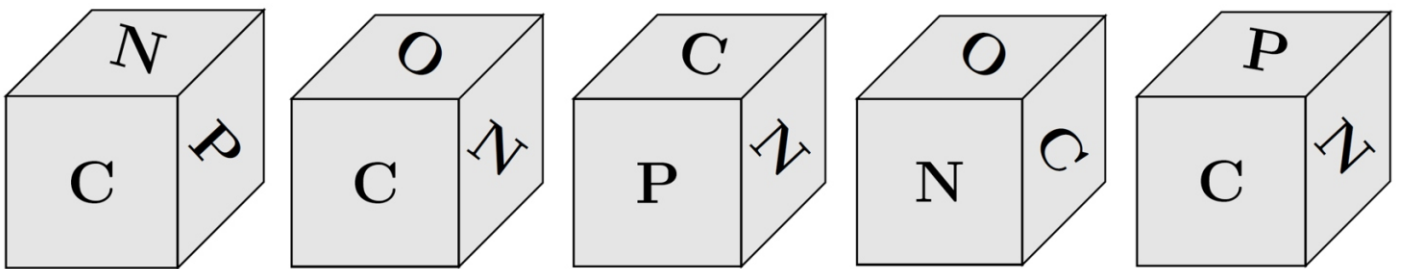
- a) A sentença composta é **falsa**, pois q é falso, o que invalida ambas as implicações.
- b) A sentença composta é **verdadeira**, pois o valor lógico de r garante a veracidade do segundo condicional.
- c) A sentença composta é **falsa**, pois a **primeira condicional** possui antecedente verdadeiro e consequente falso.
- d) A sentença composta é **verdadeira**, pois $p \wedge r$ é verdadeiro.
- e) A sentença composta é **verdadeira**, pois $(p \rightarrow q)$ é falsa, e isso não compromete a veracidade da conjunção.

25ª QUESTÃO

As faces de um dado foram rotuladas com as letras da palavra **CPCON**, da seguinte maneira:

- As letras **N** foram colocadas nas faces **superior** e **inferior**;
- As letras **C**, **P**, **C** e **O** foram distribuídas nas faces **frontal**, **direita**, **traseira** e **esquerda**, respectivamente.

Um candidato lançou esse dado **cinco vezes**, e as figuras abaixo mostram as posições visíveis em cada jogada.



Com base nas imagens e na construção do dado, qual foi a sequência CORRETA das letras que ficaram na **face traseira** do dado em cada jogada?

- a) CCPNP.
- b) CCPNC.
- c) CCONP.
- d) CCONN.
- e) CCONC.

CONHECIMENTOS ESPECÍFICOS

26ª QUESTÃO

A triagem neonatal é uma importante estratégia de saúde pública, pois possibilita o diagnóstico precoce de doenças graves na infância, permitindo o tratamento adequado e evitando complicações. De acordo com a Lei nº 15.094, de 8 de janeiro de 2025, as redes pública e privada de saúde, com cobertura do Sistema Único de Saúde (SUS), serão obrigadas a incorporar um novo exame clínico na triagem neonatal.

A partir deste contexto, é CORRETO afirmar que este novo exame corresponde ao:

- a) teste do Pezinho Ampliado.
- b) teste da Bochechinha.
- c) teste para Fibrodysplasia Ossificante Progressiva (FOP).
- d) teste de Bristol.
- e) teste de Triagem Auditiva Neonatal (TAN).

27ª QUESTÃO

Durante o acompanhamento de um trabalho de parto gemelar, em que os recém-nascidos eram de sexos diferentes, um do sexo masculino e outro do sexo feminino, a equipe assistencial observou que, após o nascimento dos bebês, ocorreu a dequitação de apenas uma placenta. Diante disso, surgiu dúvida na equipe sobre a possibilidade de existir uma segunda placenta não dequitada.

A partir deste contexto, avalie as asserções a seguir e a relação proposta entre elas.

- I- Analisando a situação-problema, pode-se fazer duas conclusões: 1) O fato de os gêmeos serem de sexos diferentes descarta a possibilidade de serem monócôricos; 2) A ocorrência de uma única placenta visualizada se explica por um fenômeno chamado fusão placentária.

PORQUE

- II- Quando os dois blastocistos se implantam próximos no endométrio, suas placentas podem crescer adjacentes e se fundirem, formando uma única massa placentária macroscópica, mas que, funcionalmente, ainda possui duas circulações independentes.

A respeito dessas asserções, é CORRETO afirmar que:

- a) as asserções I e II são proposições verdadeiras, e a II é uma justificativa correta da I.
- b) as asserções I e II são proposições verdadeiras, mas a II não é uma justificativa correta da I.
- c) a asserção I é uma proposição verdadeira, e a II é uma proposição falsa.
- d) a asserção I é uma proposição falsa, e a II é uma proposição verdadeira.
- e) as asserções I e II são proposições falsas.

28ª QUESTÃO

A.C.R.C., 12 anos de idade, recebeu prescrição médica de Alektos® 20 mg, na posologia de 1 comprimido ao dia, por 30 dias. Ao chegar à farmácia, a mãe da paciente foi informada de que o comprimido prescrito estava em falta no estoque, estando disponível apenas a apresentação pediátrica, em solução oral de 2,5 mg/ml, em frascos de 120 ml.

A partir deste contexto, qual a dose diária, em mililitros (ml), da solução oral que corresponde à prescrição do comprimido de 20 mg, e qual a quantidade de frascos que a mãe precisará adquirir para suprir os 30 dias de tratamento?

- a) 4 ml por dia; 1 frasco é suficiente.
- b) 6 ml por dia; 1 frasco é suficiente.
- c) 10 ml por dia; 3 frascos são necessários.
- d) 8 ml por dia; 2 frascos são necessários.
- e) 12 ml por dia; 2 frascos são necessários.

29ª QUESTÃO

Uma gestante com diabetes, em acompanhamento de pré-natal, foi orientada pela enfermeira a realizar a automonitorização da glicemia capilar, utilizando glicosímetro, fita reagente e punção na ponta do dedo. Foi garantida a distribuição gratuita do material necessário para esta técnica e orientado que realizasse o perfil glicêmico diariamente, com quatro aferições: jejum, pós-café, pós-almoço e pós-jantar. As medições das glicemias pós-prandiais deveriam ser feitas uma hora após o início de cada refeição. Durante oito dias consecutivos, a paciente aferiu os valores de glicemia, conforme a tabela a seguir. A meta estabelecida era manter níveis de normoglicemia em, pelo menos, 75% do tempo avaliado (oito dias).

Tabela 1 – Níveis de normoglicemia em oito dias de tempo avaliado.

Data	Jejum	Pós-café	Pós-almoço	Pós-janta
01/08	91	123	130	110
02/08	102	154	119	118
03/08	98	167	132	128
04/08	75	130	125	139
05/08	66	120	112	138
06/08	99	134	110	130
07/08	112	111	150	160
08/08	91	130	170	155

Fonte: Elaboração própria.

Com base nos dados apresentados, analise as afirmativas a seguir.

- I- Há registros de valores de glicemia alterados tanto em jejum quanto nas aferições pós-prandiais.
- II- Valores de glicemia acima de 120 mg/dL no pós-prandial indicam descontrole glicêmico.
- III- A paciente alcançou a meta de manter níveis de normoglicemia em, pelo menos, 75% do tempo avaliado (oito dias).

De acordo com o Manual de Gestação de Alto Risco (2022), é CORRETO o que se afirma em:

Fonte: BRASIL. Ministério da Saúde. Secretaria de Atenção Primária à Saúde. Departamento de Ações Programáticas. Manual de gestação de alto risco. Brasília: Ministério da Saúde, 2022.

- a) I e III apenas.
- b) I apenas.
- c) II e III apenas.
- d) I, II e III.
- e) I e II apenas.

30ª QUESTÃO

João Gabriel, 27 anos de idade, procura um serviço de saúde com queixa de dor abdominal baixa, irregularidade menstrual (sangramento intermitente, apesar de estar em uso de testosterona há 2 anos), além de episódios de desconforto urinário. Na ficha de acolhimento, João Gabriel apresenta um documento que ainda está registrado com seu nome de nascimento, que é um nome tradicionalmente feminino, mas solicita que seja utilizado seu nome social durante todo o atendimento, bem como os pronomes ele/dele. Durante o atendimento, o profissional de enfermagem demonstra desconforto e, ao invés de utilizar o nome social, chama o paciente insistentemente pelo nome registrado no documento. Na triagem, pergunta, de forma invasiva e constrangedora, se João “ainda é mulher biologicamente” e se “sabe que o serviço é feminino” porque no prontuário consta que é do sexo feminino. Por fim, pergunta se João é travesti, transexual, transgênero, intersexual, não binário. João, visivelmente constrangido e nervoso, evade do serviço de saúde, sentindo-se confuso entre seu gênero designado ao nascimento e a forma como ele se reconhece.

A partir deste contexto, é CORRETO afirmar que:

- a) A exposição de João a perguntas invasivas e classificações identitárias inadequadas faz com que ele manifeste sinais de transtorno transvéstico.
- b) É importante que o enfermeiro conheça e respeite as terminologias relacionadas à população LGBTQIAPN+ e saiba que, quanto à identidade de gênero, João possui gênero fluido ou não binário.
- c) A orientação sexual de João refere-se à forma como ele se relaciona com as representações de masculinidade e feminilidade e como isso se traduz em sua prática social, sem guardar relação necessária com o sexo atribuído no nascimento.
- d) João sente atração sexual por pessoas do mesmo gênero. Logo, ele é considerado homossexual, ou gay.
- e) João é um homem trans, pois ele é um homem a quem foi atribuído o sexo e gênero feminino ao nascimento a partir do reconhecimento genital.

31ª QUESTÃO

Gestante foi encaminhada da sala de parto ao centro cirúrgico para a realização de cesariana, fazendo uso de máscara cirúrgica. Ao chegar ao setor, a equipe foi comunicada sobre o diagnóstico de febre do Oropouche materna e anomalia congênita fetal. Diante da situação, uma acadêmica de Enfermagem questionou quais seriam os cuidados e condutas necessários. Foi esclarecido pela equipe que, para esse caso, era preciso realizar a notificação compulsória da doença, indicar o uso de máscara N95 e realizar a coleta de amostras da placenta e do cordão umbilical, com envio do material para análise laboratorial.

Considerando as informações fornecidas e as atualizações das orientações para a vigilância do Oropouche, conforme disposto na Nota Técnica nº 117/2024, analise as afirmativas a seguir:

Fonte: BRASIL. Nota Técnica nº 117/2024-CGAR/DEDT/SVSA/MS. Atualização das orientações para a vigilância do Oropouche. Brasília: Ministério da Saúde, Secretaria de Vigilância em Saúde e Ambiente, Departamento de Doenças Transmissíveis, Coordenação-Geral de Vigilância de Arboviroses, 2024.

- I- A febre do Oropouche é uma doença de transmissão aérea clássica. Portanto, o uso de máscara N95 é indicado por esse motivo. A equipe acertou ao realizar essa orientação.
- II- Devido à possibilidade de transmissão vertical, é correto coletar material, de placenta e anexos fetais, para análise laboratorial. A equipe acertou ao realizar essa orientação.
- III- A febre do Oropouche não compõe a lista de doenças de notificação compulsória. A equipe errou ao realizar essa orientação.

É CORRETO o que se afirma apenas em:

- a) II e III.
- b) I e III.
- c) II.
- d) I e II.
- e) III.

Utilize o caso clínico abaixo para responder às questões 32 e 33.

Paciente do sexo feminino, 56 anos de idade, fisicamente ativa (realiza caminhadas cinco vezes por semana), com IMC de 23,5 kg/m², sem histórico de tabagismo, hipertensão ou sedentarismo. Relata antecedente familiar de infarto agudo do miocárdio em seu pai aos 52 anos. Encontra-se em acompanhamento psicológico por transtorno de ansiedade generalizada, com episódios recorrentes de senso inadequado de controle e percepção de falta de tranquilidade, contentamento e bem-estar mental. Apresenta insônia e tensão persistente, reconhecendo o estresse crônico como fator de risco para eventos cardiovasculares. Apresenta, ainda, histórico de insuficiência venosa crônica, com queixas de varizes e episódio prévio sugestivo de trombose venosa profunda, atualmente em investigação e acompanhamento com angiologista.

32ª QUESTÃO

Durante consulta de enfermagem, na etapa de coleta de informações sobre fatores de risco prévios para estratificação de risco cardiovascular (RCV), considerando os componentes diretos do escore de Framingham, e de acordo com o *Caderno de Atenção Básica nº 37*, sobre Hipertensão Arterial Sistêmica (Brasil, 2013), é CORRETO o que se afirma em:

Fonte: BRASIL. Ministério da Saúde. Secretaria de Atenção à Saúde. Departamento de Atenção Básica. Estratégias para o cuidado da pessoa com doença crônica: hipertensão arterial sistêmica. Brasília: Ministério da Saúde, 2013.

- a) A paciente precisa ter calculado o escore de Framingham, pois apresenta três fatores de RCV baixo/intermediário.
- b) A paciente apresenta um fator de RCV alto. Logo, não há necessidade de calcular o escore de Framingham, pois essa paciente já é considerada como alto RCV.
- c) A paciente apresenta apenas um fator de RCV baixo/intermediário. Logo, essa paciente é considerada como baixo RCV.
- d) A paciente apresenta estresse crônico e história familiar de evento cardiovascular prematuro, dois fatores de RCV baixo/intermediário.
- e) A paciente apresenta dois fatores de RCV alto. Logo, não há necessidade de calcular o escore de Framingham, pois essa paciente já é considerada como alto RCV.

33ª QUESTÃO

Com base nos dados apresentados, um diagnóstico de Enfermagem, da classificação da NANDA-I (2024-2026), o CORRETO para a paciente é:

Fonte: HERDMAN, T. Heather; KAMITSURU, Shigemi; LOPES, Camila Takáo (Orgs.). Diagnósticos de enfermagem da NANDA-I: definições e classificação 2024-2026 [recurso eletrônico]. 13. ed. Tradução de Camila Takáo Lopes. Revisão técnica de Alba Lucia Bottura Leite de Barros *et al.* Porto Alegre: Artmed, 2024.

- a) Risco de trombose relacionado à autogestão ineficaz do sobrepeso.
- b) Conforto psicológico prejudicado relacionado ao senso inadequado de controle.
- c) Sobrecarga de estresse relacionada ao sofrimento psicológico.
- d) Insônia relacionada à ansiedade.
- e) Autogestão ineficaz da saúde relacionado ao letramento em saúde inadequado.

34ª QUESTÃO

De acordo com a Lei nº 7.498/1986 e a Resolução do COFEN nº 627/2020, sobre as atividades permitidas ao enfermeiro obstétrico no âmbito de sua atuação legal e ética, avalie as proposições a seguir:

- I- Realização de ultrassonografia obstétrica, com a emissão de laudo referente à imagem observada, e compartilhamento de informações coletadas com a equipe médica.
- II- Identificação das distocias obstétricas e tomada de providências até a chegada do médico.
- III- Realização de episiotomia e episiorrafia e aplicação de anestesia local, quando necessária.
- IV- Condução de forma autônoma de parto vaginal em gestante com apresentação pélvica e trabalho de parto avançado, sem a presença do médico.

É CORRETO o que se afirma apenas em:

- a) II e III.
- b) I e II.
- c) I e III.
- d) III e IV.
- e) II, III e IV.

35ª QUESTÃO

A enfermeira Mariana retornou de licença-maternidade para reassumir suas atividades em uma Unidade Básica de Saúde do interior da Paraíba. Ao chegar ao serviço, ela constatou que o consultório de enfermagem e a sala de vacina estavam sem energia elétrica e com fios desencapados expostos, oferecendo risco de choque elétrico. Não havia iluminação adequada nem condições seguras para o uso de equipamentos básicos. Diante do ambiente fisicamente inseguro para a assistência, Mariana suspendeu temporariamente os atendimentos eletivos, comunicando a decisão por escrito à instituição e ao Conselho Regional de Enfermagem.

Nesse caso, de acordo com a Resolução do COFEN de nº 564/2017, que aprova o novo Código de Ética da Enfermagem, acerca da conduta de Mariana, é CORRETO afirmar que ela foi:

- a) incorreta, pois a suspensão de atividades por problemas estruturais, apesar de estar prevista na referida Resolução, é de responsabilidade exclusivamente da vigilância sanitária, e não do profissional de enfermagem.
- b) incorreta, pois, apesar de a suspensão de atividades estar prevista na referida Resolução quando o local de trabalho não oferecer condições seguras para o exercício profissional, a decisão de suspensão das atividades cabe exclusivamente à direção da unidade de saúde.
- c) correta, pois a suspensão de atividades está prevista na referida Resolução quando o local de trabalho não oferecer condições seguras para o exercício profissional, e o caso enquadra-se nos deveres do profissional.
- d) incorreta, pois a suspensão de atividades, apesar de estar prevista na referida Resolução, necessita de aprovação prévia do Conselho Regional de Enfermagem antes da interrupção.
- e) correta, pois a suspensão de atividades está prevista na referida Resolução quando o local de trabalho não oferecer condições seguras para o exercício profissional, devendo formalizar imediatamente sua decisão por escrito e/ou por meio de correio eletrônico à instituição e ao Conselho Regional de Enfermagem.

36ª QUESTÃO

Uma criança com esquema vacinal em dia foi levada à Unidade de Saúde, no dia 15 de julho de 2025, ao completar 12 meses de vida, com o objetivo de receber as vacinas correspondentes à sua faixa etária. A enfermeira informou à mãe que, naquele dia, a criança receberia apenas uma dose da vacina tríplice viral, pois era a única vacina necessária no momento.

Diante dessa situação, de acordo com a Instrução Normativa do Calendário Nacional de Vacinação 2025 e com a Nota Técnica nº 77/2025-CGICI/DPNI/SVSA/MS, é CORRETO afirmar que a conduta da enfermeira foi errada, pois:

- a) aos 12 meses, a criança deve receber tríplice viral, hepatite A e a primeira dose de varicela isolada.
- b) aos 12 meses, a criança não deve receber a tríplice viral, se o calendário anterior estiver atualizado.
- c) além da tríplice viral, aos 12 meses, a criança deve receber vacina contra hepatite A.
- d) além da tríplice viral, aos 12 meses, a criança deve receber Reforço Pneumocócica 10-valente e Reforço meningocócica ACWY.
- e) aos 12 meses, a criança deve receber apenas da tríplice bacteriana, se o calendário anterior estiver atualizado.

37ª QUESTÃO

S.R.R., sexo masculino, 40 anos de idade, 70 kg, foi levado ao pronto-socorro após um acidente doméstico envolvendo a explosão de um botijão de gás. Ao exame físico, foram identificadas queimaduras de 2º grau atingindo: tronco anterior, região anterior do membro superior direito e região anterior do membro superior esquerdo. Diante do quadro, a equipe de enfermagem foi acionada para iniciar os cuidados de emergência.

Fonte: BRASIL. Ministério da Saúde. Secretaria de Atenção à Saúde. Departamento de Atenção Especializada. Cartilha para tratamento de emergência das queimaduras. Brasília: Editora do Ministério da Saúde, 2012.

Com base no exposto, um cuidado CORRETO da equipe de enfermagem é:

- a) evitar, na fase de hidratação, o uso de soluções cristaloides, diurético e drogas vasoativas.
- b) considerar a Regra de Wallace (Regra dos 9) e calcular o percentual estimado de superfície corporal queimada (SCQ), que no caso de S.R.R. é de 36%.
- c) administrar 40% do volume total de fluidos nas primeiras 8 horas após a queimadura e 60% nas 16 horas seguintes.
- d) realizar o cálculo da hidratação, por meio da fórmula de Parkland, e utilizando 4mL para o cálculo, estimar que S.R.R. deve receber um volume para reposição de líquidos de 5040 mL.
- e) estabelecer o acesso intravenoso e ajustar a taxa de fluidos para manter o débito urinário de S.R.R. entre 0,5 e 1 mL/kg/h.

38ª QUESTÃO

Lucas, 35 anos de idade, procurou atendimento psiquiátrico em ambulatório de saúde mental com histórico de relacionamentos instáveis, episódios frequentes de impulsividade, automutilação e sentimento constante de vazio, desde o início da vida adulta. Relata mudanças bruscas de humor, várias vezes no mesmo dia, reagindo a eventos interpessoais, e alternando entre idealizar e desvalorizar pessoas próximas. Queixa-se de medo intenso de abandono, mesmo em situações sem ameaça real. Nega comorbidades prévias conhecidas.

Ao realizar o acolhimento do referido usuário, é CORRETO afirmar que o enfermeiro suspeite de um quadro de:

- a) Transtorno Depressivo Maior com traços de desregulação emocional.
- b) Transtorno Bipolar tipo II.
- c) Transtorno de Estresse Pós-Traumático (TEPT).
- d) Transtorno de Personalidade Borderline.
- e) Transtorno Ciclotímico.

39ª QUESTÃO

J.G.C., sexo masculino, 38 anos de idade, diagnosticado com esquizofrenia paranoide e em uso de Haldol há mais de 10 anos, está em acompanhamento no CAPS III do seu município. Durante uma visita domiciliar, a enfermeira, técnica de referência de J.G.C., encontrou-o apresentando rigidez muscular grave, febre alta, disautonomia, sudorese e deterioração do estado mental.

De acordo com a Portaria nº 3.088/2011 e com a Lei nº 10.216/2001, é CORRETO afirmar que a abordagem desta situação de crise em saúde mental apresentada por J.G.C. deve ocorrer como primeira opção:

- a) em internação em leito psiquiátrico de hospital geral.
- b) em hospital psiquiátrico.
- c) nos leitos de retaguarda do próprio CAPS III.
- d) na sala de estabilização de uma UPA 24 horas.
- e) em consulta com psiquiatra em Ambulatório de Saúde Mental.

40ª QUESTÃO

Paciente masculino, 56 anos de idade, etilista, chega ao pronto-socorro com dor abdominal intensa em região de mesoepigástrico irradiando para as costas, associada a náuseas, vômitos, distensão abdominal, febre e hipotensão. Ao exame, apresenta abdome distendido, doloroso, sem ruídos hidroaéreos e equimose periumbilical.

A partir deste contexto, avalie as asserções a seguir e a relação proposta entre elas.

I- O quadro é sugestivo de pancreatite aguda, provavelmente de etiologia alcoólica, com possível complicação hemorrágica.

PORQUE

II- O achado de equimose periumbilical, denominado sinal de Cullen, é um indicativo clássico de hemorragia retroperitoneal.

A respeito dessas asserções, é CORRETO afirmar que:

- a) as asserções I e II são proposições verdadeiras, mas a II não é uma justificativa correta da I.
- b) as asserções I e II são proposições verdadeiras, e a II é uma justificativa correta da I.
- c) a asserção I é uma proposição verdadeira, e a II é uma proposição falsa.
- d) a asserção I é uma proposição falsa, e a II é uma proposição verdadeira.
- e) as asserções I e II são proposições falsas.